

사회탐구 영역 [국사]

제 4 교시

성명

수험번호

3

1

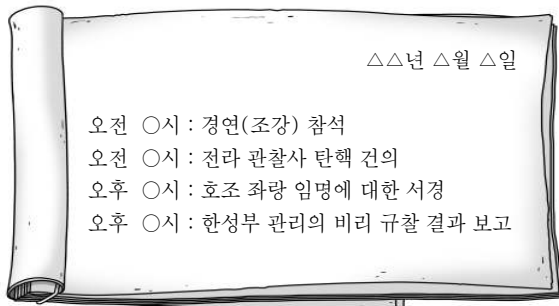
- 자신이 선택한 과목의 문제지인지 확인하시오.
- 문제지의 해당란에 성명과 수험번호를 정확히 기입하시오.
- 답안지의 해당란에 성명과 수험번호를 쓰고, 또 수험번호와 답을 정확히 표기하시오.
- 선택한 과목 순서대로 문제를 풀고, 답은 답안지의 '제1선택'란부터 차례대로 표기하시오.
- 문항에 따라 배점이 다르니, 각 물음의 끝에 표시된 배점을 참고하시오.
3점 문항에만 점수가 표시되어 있습니다. 점수 표시가 없는 문항은 모두 2점씩입니다.

1. 다음은 여러 나라에서 행해졌던 제천 행사에 대한 자료이다. (가)~(다) 국가의 생활 모습으로 옳은 것은?

- (가) 해마다 10월이면 하늘에 제사를 지내는데, 밤낮으로 노래 부르고 춤을 추니 이를 무천이라 한다. 또 호랑이를 신으로 여겨 제사를 지냈다.
- (나) 은력(殷曆) 정월에 지내는 제천 행사를 영고라 하는데, 이때에는 하늘에 제사를 지내고 노래와 춤을 즐겼으며, 죄수를 풀어 주기도 하였다.
- (다) 건국 시조와 그 어머니 유화 부인을 조상신으로 섬겨 제사를 지내고, 아울러 왕과 신하들이 국동대혈에 모여 함께 제사를 지냈다.


- ① (가) - 책화를 통해 각 부족의 생활권을 보호하였다.
- ② (나) - 철을 화폐처럼 사용하고 낙랑, 왜 등에 수출하였다.
- ③ (다) - 가족이 죽으면 가족 공동 무덤인 목곽에 안치하였다.
- ④ (가), (나) - 단궁, 과하마, 반어피 등의 특산물이 유명하였다.
- ⑤ (나), (다) - 혼인 풍습으로 민며느리제가 있었다.

2. 다음은 어느 관리의 가상 업무 일지이다. 이 관리가 소속된 기구에 대한 설명으로 옳은 것은?



- ① 성종 때 학문 연구를 위해 설치되었다.
- ② 홍문관, 사간원과 함께 삼사로 불렸다.
- ③ 역대 국왕의 글과 책을 수집·보관하였다.
- ④ 왜란 이후 기능이 강화되어 국정을 총괄하였다.
- ⑤ 신진 관리를 재교육하는 초계문신제를 주관하였다.

3. 다음 수업 장면에서 교사의 질문에 대한 학생의 대답으로 옳지 않은 것은? [3점]



- ① 고구려에서는 사신도를 그렸습니다.
- ② 백제에서는 용봉 장식이 있는 금동 대향로를 제작했습니다.
- ③ 신라에서는 업설과 아미타 신앙이 널리 퍼졌습니다.
- ④ 고려에서는 국가적 종교 의식으로 팔관회를 행했습니다.
- ⑤ 조선에서는 소격서라는 관청을 설치하고 초제를 시행했습니다.

4. 밑줄 친 '이 법'의 시행 결과로 옳은 것을 <보기>에서 고른 것은?

광해군 때 이원익의 건의로 이 법을 처음 시행하였다. ... (중략) ... 매년 봄 가을에 민전 1결당 각각 8두씩 도합 16두를 거두고, 이를 사주인(私主人)*에게 주어 필요한 물품을 마련하게 하였다. 제사와 사신 접대의 물품으로부터 꿀과 벗짚, 땔나무에 이르기까지 모두 이를 통해 마련하니, 관청은 농간을 부리지 못하고 아전은 감히 술수를 쓰지 못하였다. 그리하여 각 지역에서 올라오는 토산물도 중간에 막혀 가격이 몇 배나 가던 폐단이 하루 아침에 확 줄어들게 되었다.

* 사주인 : 중앙의 각 관청에 소속되어 관수품을 증개하던 어용 상인

< 보 기 >

- ㄱ. 일부 상류층에게 선무군판포가 부과되었다.
- ㄴ. 공인의 등장으로 상품 화폐 경제가 발달하였다.
- ㄷ. 재정 감소를 보충하기 위해 결각미를 징수하였다.
- ㄹ. 관수품의 수요 증가로 민영 수공업이 발달하였다.

- ① ㄱ, ㄴ
- ② ㄱ, ㄷ
- ③ ㄴ, ㄷ
- ④ ㄴ, ㄹ
- ⑤ ㄷ, ㄹ

5. 다음은 어떤 지역을 방문하고 쓴 기행문의 일부이다. 이 지역에 대한 조사 내용으로 가장 적절한 것은? [3점]

낮 12시경 북서풍이 불었으므로 돛을 올리고 나아갔다. 오후 2시경 적산촌의 동쪽 언저리에 도착해 배를 정박시켰다. 적산촌의 산에는 절이 하나 있어, 그 이름을 법화원이라 하는데 본래 장보고가 처음으로 세운 것이다. 넓은 장원(莊園)을 갖고 있어, 그것으로 절의 식량을 충당하였다. ...(중략)... 장보고가 보낸 대당매물사 최병마사가 법화원에 와서 위문하였다.

—『입당구법순례행기』—

- ① 신라방의 형성 배경과 분포
- ② 신라도의 개설과 이용 현황
- ③ '한인의 연못'이라는 명칭의 유래
- ④ 상업의 발달과 동시전의 설치 목적
- ⑤ 신라 최대 국제 무역항의 입지 조건

6. 다음 정책을 실시한 왕에 대한 설명으로 옳은 것은?

- 경전, 의서(醫書)에 통달한 학자와 공부에 열성이 있는 자들을 선발하여 지방에 각각 경학 박사 1명, 의학 박사 1명씩을 파견하였다.
- 주·부·군·현의 아전들의 직제를 개정하여 ...(중략)... 당대등을 호장으로, 대등을 부호장으로, 낭중을 호정으로, 원외랑을 부호정으로 고치도록 하였다.

- ① 성균관을 순수한 유교 교육 기관으로 개편하였다.
- ② 주요 지역에 12목을 설치하고 목사를 파견하였다.
- ③ 신진 인사를 등용하기 위해 과거 제도를 도입하였다.
- ④ 관리에게 전지와 시지를 지급하는 전시과를 제정하였다.
- ⑤ 국가의 수입 기반 확대를 위해 노비안검법을 실시하였다.

7. 다음은 남북국의 중앙 정치 기구에 대한 자료이다. (가), (나)기구에 대한 옳은 설명을 <보기>에서 고른 것은? [3점]

- (가)에는 대내상 1인이 있다. 대내상 아래에는 좌사정과 우사정 각 1인을 두어 6부를 나누어 관장하게 하였다.
- (나)은(는) 처음에는 기밀에 관한 사무를 맡아 보았다. 중시(中侍) 1인을 두었는데, 후에 중시를 시중(侍中)으로 고쳤다.

< 보 기 >

- ㄱ. (가)는 위화부, 병부 등을 관장하였다.
- ㄴ. (가)는 국정을 총괄하는 최고 관부였다.
- ㄷ. (나)는 중대성, 선조성과 함께 3성을 이루었다.
- ㄹ. (나)의 장관은 삼국 통일 직후 역할이 강화되었다.

- ① ㄱ, ㄴ ② ㄱ, ㄷ ③ ㄴ, ㄷ
- ④ ㄴ, ㄹ ⑤ ㄷ, ㄹ

8. 그림은 어떤 두 왕의 가상 대화 장면이다. (가), (나)왕에 대한 설명으로 옳은 것은? [3점]



- ① (가) - 율령을 반포하고 태학을 설립하였다.
- ② (가) - 건원이라는 독자적 연호를 사용하였다.
- ③ (나) - 우산국을 정복하는 등 영토를 확장하였다.
- ④ (나) - 중국과 직접 교역할 수 있는 통로를 확보하였다.
- ⑤ (가), (나) - 도읍을 옮기고 통치 체제를 정비하였다.

9. 다음 사건이 일어났던 시기의 사회 상황으로 옳은 것은?

남쪽 지방에서 도적이 일어났는데, 그 중에 김사미와 효심의 세력이 컸다. 이들은 각각 운문과 초전을 근거로 사람을 모아 주·현을 약탈하였다. ...(중략)... 이 때 이의민은 '용의 자손이 12대 만에 끊어지고, 다시 십팔자(十八子)가 나온다'는 옛 비기(秘記)를 믿고, 이(李)씨인 자신이 왕이 될 생각으로 반란을 꾀하였다. 그리고 신라 부흥을 내세우며 경상도에서 일어난 김사미, 효심 등과 내통하였다.

- ① 홍건적과 왜구의 침략으로 사회가 불안하였다.
- ② 정감록, 미륵 신앙 등 예언 사상이 유행하였다.
- ③ 만적 등 천민들의 신분 해방 운동이 활발하였다.
- ④ 원종, 애노 등 농민들의 봉기가 전국적으로 일어났다.
- ⑤ 지방에서 호족이라 불리는 새로운 세력이 성장하였다.

10. 다음 정책이 시행될 당시의 경제 상황으로 옳은 것은?

왕이 명하기를, “백성을 부유하게 하고 나라를 이롭게 하는 데는 돈보다 더 중요한 것이 없다. ...(중략)... 이제 비로소 금속을 녹여 돈을 만드니, 그중 이미 주조한 돈 1만 5천 관(貫)은 재추와 문무 양반, 군인에게 나누어 주어 시작을 삼고 돈에 새기는 글은 해동통보라 할 것이다. ...(중략)... 그리고 도성의 좌우에 주점(酒店)을 설치하고, 또 길거리 양편에는 신분의 고하를 막론하고 각 점포를 설치하여 돈을 사용하는 이로움을 일으키게 할 것이다”라고 하였다.

- ① 벽란도가 교통과 상업의 중심지로 크게 번성하였다.
- ② 시전 상인들이 종로의 상점가를 중심으로 활동하였다.
- ③ 중강 개시와 후시를 통한 중국과의 교역이 활발하였다.
- ④ 동전에 대한 수요가 증가하여 동전 부족 현상이 나타났다.
- ⑤ 자금과 원료를 미리 받아 제품을 생산하는 선대제가 성행하였다.

11. 다음을 발표한 독립 운동 기관의 활동으로 옳지 않은 것은?

- 임시 헌장 -

- 대한민국은 민주 공화제로 한다.
- 대한민국의 인민은 종교·언론·저작·출판·결사·집회·통신·주소 이전·신체 및 소유의 자유를 향유한다.
- 대한민국은 신(神)의 의사에 의하여 건국한 정신을 세계에 발휘하며, 나아가 인류의 문화 및 평화에 공헌하기 위해 국제 연맹에 가입한다.

- ① 독립 자금 조달을 위해 애국 공채를 발행하였다.
- ② 연통제와 교통국을 통해 국내와 연락을 취하였다.
- ③ 조선 혁명군을 창설하고 독립 전쟁을 수행하였다.
- ④ 미국에 구미 위원부를 두고 외교 활동을 전개하였다.
- ⑤ 사료 편찬소를 두고 한·일 관계 사료집을 간행하였다.

12. 다음 논쟁이 전개될 당시의 정세를 알아보기 위한 탐구 활동으로 가장 적절한 것은? [3점]

예조에서 아뢰기를, “자의 왕대비께서 대행 대왕의 상에 입어야 할 복제를 마련해야 하는데, 어떤 이는 삼년복을 입어야 한다고 하고 어떤 이는 일년복을 입어야 한다고 하니, 대신들에게 의논하게 하소서” 하니, 임금이 신하들에게 문의하였다. 이에 송시열 등이 답하기를 “일년복제가 마땅할 듯합니다. 신들로서도 감히 다른 설은 용납하지 못하겠습니다” 하였다. ... (중략) ... 그러나 허목 등은 일년복제가 잘못이라고 논하면서, 삼년복을 입어야 한다고 주장하였다.

- ① 복인이 정국을 주도할 수 있었던 이유를 살펴본다.
- ② 탕평책의 추진이 각 붕당에게 미친 영향을 파악한다.
- ③ 훈구와 사림 사이에 사화가 일어난 배경을 알아본다.
- ④ 김종직과 그의 제자들이 중앙에 진출한 계기를 찾아본다.
- ⑤ 왕위 계승의 정통성을 둘러싼 서인과 남인의 갈등을 조사한다.

13. 다음은 어떤 두 나라의 유물이다. (가), (나) 유물을 제작한 나라의 문화에 대한 설명으로 옳은 것은? [3점]



(가)

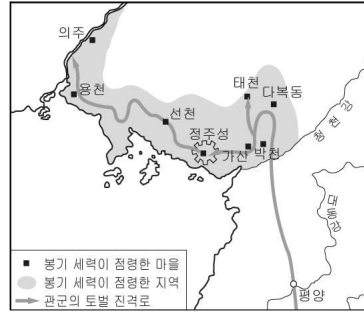


(나)

- ① (가) - 선종의 유행으로 9산 선문이 성립되었다.
- ② (가) - 주자학을 설립하여 유교 경전을 가르쳤다.
- ③ (나) - 유기, 신집 등의 역사서를 편찬하였다.
- ④ (나) - 목탑 양식의 미륵사지 석탑을 건축하였다.
- ⑤ (가), (나) - 모줄임 천장 구조의 무덤을 축조하였다.

14. 다음 사건의 발생 배경으로 옳은 것을 <보기>에서 고른 것은?

지도로 보는 조선 역사: ○○ 사건



몰락 양반의 지휘 하에 광산 노동자, 영세 농민 등이 가담하여 봉기한 사건이다. 한때 청천강 이북의 8개 군을 장악하였으나, 관군에 의해 5개월 만에 진압되었다.

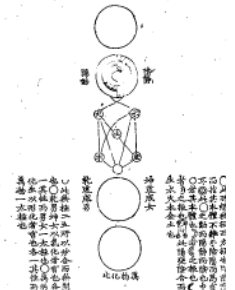
< 보 기 >

- ㄱ. 전정, 군정, 환곡 등 수취 체제가 문란하였다.
- ㄴ. 중앙 정부의 지역 차별에 대한 불만이 누적되었다.
- ㄷ. 시천주, 인내전을 강조하는 사상이 널리 유포되었다.
- ㄹ. 진주를 중심으로 농민 봉기가 전국적으로 확산되었다.

- ① ㄱ, ㄴ
- ② ㄱ, ㄷ
- ③ ㄴ, ㄷ
- ④ ㄴ, ㄹ
- ⑤ ㄷ, ㄹ

15. 다음 서적의 저자에 대한 설명으로 옳은 것은? [3점]

선현이 성학(聖學)의 중요한 것을 그림과 해설로 만든 것 중에서 일부를 고르고, 또 신이 새로 그려 책을 만들었습니다. 전하께서 이것을 반복하여 보시고 성학을 따르시면 나라와 백성 모두에게 다행한 일이겠습니다.



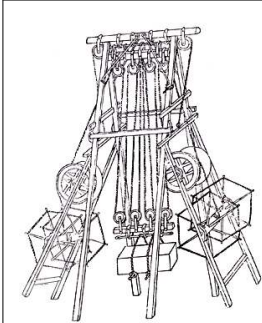
- ① 서인의 중심 인물로 의리 명분론을 강조하였다.
- ② 수미법을 비롯한 다양한 개혁 방안을 제시하였다.
- ③ 주자서철요를 통해 주자학의 체계를 세우려 하였다.
- ④ 6경과 제자백가에서 사상적 기반을 찾으려 하였다.
- ⑤ 인간과 사물의 본성을 둘러싼 호락 논쟁을 주도하였다.

16. 다음을 통해 알 수 있는 사건의 결과로 옳은 것은? [3점]

왕이 지정(旨正) 연호의 사용을 정지하는 교서를 내렸다. 그리고 옛 땅을 수복하고자 동북면 병마사 유인우 등으로 하여금 화주의 쌍성(雙城)을 공격하도록 하였다. ... (중략) ... 유인우 등이 군사를 이끌고 성을 공격하니 총관 조소생과 천호(千戶) 탁도경이 처자를 버리고 도망하였다.

- ① 고구려의 옛 땅인 강동 6주를 획득하였다.
- ② 압록강과 두만강 유역에 4군 6진을 설치하였다.
- ③ 철령 이북의 땅을 차지하고 영토를 확장하였다.
- ④ 청천강에서 영흥에 이르는 국경선을 확보하였다.
- ⑤ 압록강에서 도련포를 잇는 천리장성을 축조하였다.

17. 다음 기구가 제작된 시기의 과학 기술에 대한 설명으로 옳은 것은?



8개의 도르래를 사용해 적은 힘으로 무거운 물건을 쉽게 들어 올릴 수 있게 했던 기구로 서양 선교사가 지은 기기도설을 참고하여 제작하였다. 한강에 배다리를 가설할 때 사용된 바 있으며, 당시 진행되던 축성 공사에 도입되어 공사 기간 단축과 공사비 절감에 크게 기여하였다.

- ① 수시력과 회회력을 참고하여 칠정산을 편찬하였다.
- ② 전통적 우주관의 전환을 가져온 지전설이 제기되었다.
- ③ 세계 최초로 측우기를 제작하여 강우량을 측정하였다.
- ④ 최무선이 화약 제조법을 터득하여 화포를 제조하였다.
- ⑤ 우리 풍토에 맞는 치료법을 정리한 향약집성방을 편찬하였다.

18. 다음의 '이 조직'의 활동으로 옳은 것은?

누가 모르리오. 전 조선에 흩어져 있는 우리 40만 형제는 백정이라는 이유로 우리 사회에서 천대와 차별을 받아왔다. 세상이 변하여 노동 운동이니 사회 혁명이니 하는 외침이 들렸다. 그 중에도 가장 힘있게 형제들의 귀를 울리고 가슴 뛰게 한 것은 직업에는 귀천이 없고 인권은 평등하다는 것이었다. 형제들의 눈치를 먼저 알아 채 강상호 등은 많은 사람들의 성원에 힘입어 진주에서 이 조직을 결성하기에 이르렀다.

-『개벽』-

- ① 헌의 6조를 결의하였다.
- ② 형평 운동을 전개하였다.
- ③ 신분제 폐지를 주장하였다.
- ④ 만민 공동회를 개최하였다.
- ⑤ 민립 대학 설립을 추진하였다.

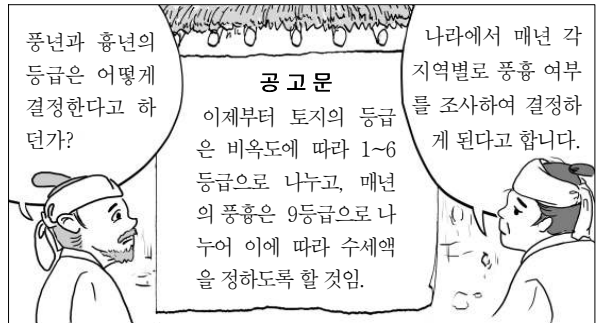
19. 다음은 어느 사찰에 대한 답사 계획서이다. (가)에 들어갈 내용으로 가장 적절한 것은? [3점]

답사 계획서

- 일시 : 2011년 4월 ○○일
- 장소 : 경상북도 영주시 △△△
- 모듬별 탐구 주제
 - 1모듬 : 의상의 활동과 화엄 사상의 확산
 - 2모듬 : 조사당 벽화의 사천왕상과 보살상의 특징
 - 3모듬 : 소조 아미타 여래 좌상에 나타난 불교 사상
 - 4모듬 : (가)

- ① 수선사 결사의 제창과 그 영향
- ② 불교 통합 운동과 천태종 창시
- ③ 9층 목탑의 축조 배경과 그 의미
- ④ 주심포식 건물의 특징과 구조
- ⑤ 금속 활자의 발명과 직지심체요절의 간행

20. 다음 제도가 처음 시행되었던 시기의 농촌 상황으로 적절한 것은? [3점]



- ① 농민들은 각종 세금을 동전으로 납부하였다.
- ② 목화, 담배, 약초 등의 상품 작물이 재배되었다.
- ③ 일정액을 소작료로 내는 도조법이 일반화되었다.
- ④ 잡채가 성행하여 광산으로 모여드는 농민이 많았다.
- ⑤ 밭농사에서는 조, 보리, 콩의 2년 3작이 널리 행해졌다.

※ 확인사항

문제지와 답안지의 해당란을 정확히 기입(표기)했는지 확인하십시오.