

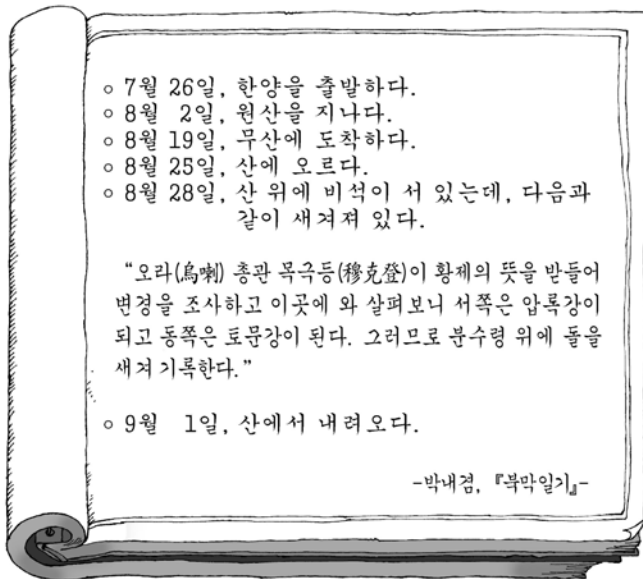
제 4 교시

사회탐구 영역(국사)

성명		수험 번호							
----	--	-------	--	--	--	--	--	--	--

- 자신이 선택한 과목의 문제지인지 확인하시오.
- 문제지에 성명과 수험 번호를 정확히 써 넣으시오.
- 답안지에 성명과 수험 번호를 써 넣고, 또 수험 번호와 답을 정확히 표시하시오.
- 과목을 선택한 순서대로 풀고, 답은 답안지의 '제1선택'란에서부터 차례대로 표시하시오.
- 문항에 따라 배점이 다르니, 각 물음의 끝에 표시된 배점을 참고하시오.  
3점 문항에만 점수가 표시되어 있습니다. 점수 표시가 없는 문항은 모두 2점입니다.

1. 다음은 19세기 초 함경도의 지방관이 쓴 일기의 일부이다. 이를 이용한 탐구 학습의 주제로 가장 적절한 것은?



- ① 세종대 4군 6진 개척
- ② 신라의 북방 영토 확장
- ③ 백두산 영유권과 간도 문제
- ④ 서희의 담판과 강동 6주 확보
- ⑤ 고려 시대 여진 정벌과 9성 축조

2. ㉠~㉣에 대한 설명으로 옳지 않은 것은?

- 문무왕 8년(668) 김유신에게 태대각간의 관등을 내리고 ㉠ 식읍 500호를 주었다.
  - 신문왕 7년(687) 문무 관리들에게 ㉡ 관료전을 차등 있게 주었다.
  - 신문왕 9년(689) 내외 관료의 ㉢ 녹읍을 혁파하고 매년 조(租)를 차등 있게 주었다.
  - 경덕왕 16년(757) 내외 관료의 월봉을 없애고 ㉣ 다시 녹읍을 주었다.
- 『삼국사기』-

- ① ㉠ - 나라에 큰 공을 세운 사람에게 주었다.
- ② ㉡ - 관리들에게 토지의 소유권을 준 것이었다.
- ③ ㉢ - 이것의 혁파는 왕권 강화 정책의 일환이었다.
- ④ ㉣ - 이를 계기로 국가의 토지 지배력이 약화되었다.
- ⑤ ㉠, ㉢ - 이를 받으면 조세를 걷고 노동력을 징발할 수 있었다.

3. 다음은 어느 시기의 역사적 사실을 가상 대화로 꾸며본 것이다. (가)에 들어갈 대답으로 가장 적절한 것은?

신하 : 몇해 전 경국대전을 반포하여 나라의 기틀을 바로잡았으니, 이제는 풍속을 바로잡을 때입니다.  
왕 : 무슨 뜻인가?  
신하 : 요즘 형제 간에 서로 화목하지 못하고 부모에게 불효한 자들이 많다고 합니다. 또 세금을 걷는 향리의 농간이 심해 백성들의 원성이 나날이 커져가고 있습니다.  
왕 : 임금의 잘못은 대간(臺諫)이 단속하기 때문에 허물을 들으면 곧 고치는데, 이와 같은 아랫사람의 잘못은 어떻게 바로잡을 수 있겠는가?  
신하 : 풍속을 바로잡는 일은 고을에서부터 시작되어야 합니다.  
(가)

- ① 기인 제도를 실시하십시오.
- ② 3도에 관찰사를 파견하십시오.
- ③ 군현에 유향소를 설치하십시오.
- ④ 수령이 향약을 직접 주관하게 하십시오.
- ⑤ 서원에 대한 국가의 지원을 늘려 주십시오.

4. 다음은 조선 후기 향촌 사회의 모습을 만화로 그려본 것이다. (갑), (을)과 같은 사람들에 대한 설명으로 옳지 않은 것은? [3점]



- ① (갑)은 전호나 임노동자가 되는 경우도 있었다.
- ② (갑)은 권위를 유지하려고 청금록에 의지하였다.
- ③ (을)은 향안에 이름을 올리고 향회를 장악하려 하였다.
- ④ (을)은 산림이라는 이름으로 재야의 여론을 주도하였다.
- ⑤ (갑)과 (을) 모두 군역을 지지 않았다.

5. 지도는 가야의 세력 범위를 나타낸 것이다. A, B 두 나라에 대한 설명으로 옳은 것은? [3점]



- ① A는 낙랑군과 왜를 연결하는 국제 교역을 주도하였다.  
 ② A를 중심으로 한 연맹 왕국은 중앙 집권 국가로 발전하였다.  
 ③ B는 6세기 초 국제적 고립에서 벗어나려고 신라와 결혼 동맹을 맺었다.  
 ④ 고구려군의 공격을 받은 후 연맹의 중심이 B에서 A로 바뀌었다.  
 ⑤ A는 백제에게, B는 신라에게 각각 멸망당하였다.

6. 다음과 같은 조치가 이루어진 시기의 경제 상황을 <보기>에서 모두 고른 것은?

호조판서 서영보가 아뢰길, “전국 각 도에 금을 몰래 채취하는 무리가 없는 곳이 없으니, 지금 비록 엄히 막고 있으나 영원히 막을 수는 없습니다. 여러 도의 금이 생산되는 곳에는 금점(金店) 설치를 허락하고 은점(銀店)의 예에 따라 호조에서 관리하여 세금을 거두면 편리할 것입니다.”라고 하니, 왕이 대신의 의견을 들은 후 허락하였다.

<보 기>

- ㄱ 덕대가 물주의 자본으로 노동자를 고용하여 광물을 채굴하고 제련하였다.  
 ㄴ 각 지방의 상업 중심지를 연결하면서 물품을 교역하는 사상(私商)의 활동이 두드러졌다.  
 ㄷ 정부는 경제 활동을 장악하기 위해 삼한통보, 해동통보 등의 동전을 유통시키려 하였다.  
 ㄹ 왕실과 관청에 물품을 공급하는 시전의 종류가 늘어나고 이들의 독점 판매권이 강화되었다.

- ① ㄱ ㄴ    ② ㄱ ㄷ    ③ ㄴ ㄷ    ④ ㄴ ㄹ    ⑤ ㄷ ㄹ

7. 표는 윤관의 관직 경력을 정리한 것이다. ㉠~㉥ 시기의 그에 대한 설명으로 옳은 것은? [3점]

	연 대	관 직	품 계
㉠	문종대	중서문하성 습유	종6품
㉡	숙종 6년 6월	중추원 지주사	정3품
㉢	숙종 7년 12월	어사대부	정3품
㉣	숙종 8년 2월	이부상서	정3품
㉤	예종 3년 4월	문하시중	종1품

- ① ㉠ - 간쟁과 봉박, 서경을 행하였다.  
 ② ㉡ - 곡식의 출납에 대한 회계를 맡았다.  
 ③ ㉢ - 왕명의 출납을 관장하였다.  
 ④ ㉣ - 관리들의 비리를 감찰하였다.  
 ⑤ ㉤ - 상서성의 최고 관직에 올랐다.

8. 다음 자료와 관련된 설명으로 옳지 않은 것은?

(가) 산과 하천을 경계로 구역을 정하여 함부로 들어갈 수 없다. ㉠ 읍락이 서로 침범하면 노비와 소, 말을 내도록 하였다. ... 중략 ... 대군장이 없고 옛부터 후, 읍군, 삼로가 ㉡ 하호를 다스렸다.  
 (나) 사람이 죽으면 가매장한 후 뼈를 추려 가족 공동 무덤을 만들었다. ... 중략 ... 큰 나라 사이에서 시달리다가 마침내 고구려에게 복속되었다. 고구려는 ㉢ 이 나라 사람 가운데 세력이 큰 사람을 사자(使者)로 삼아 다스리게 하고, 고구려의 ㉣ 대가(大加)로 하여금 조세 수취를 책임지도록 하였다.  
 - 『삼국지』 -

- ① ㉠ - 각 읍락의 독자성이 강했음을 보여준다.  
 ② ㉡ - 중소 군장의 지배를 받는 최하층 천민이었다.  
 ③ ㉢ - 고구려는 정복지 통치에 그곳의 토착 지배층을 이용하였다.  
 ④ ㉣ - 제가 회의의 구성원으로서 자기 휘하의 관리를 거느렸다.  
 ⑤ (가)는 동예, (나)는 옥저에 관한 자료이다.

9. 밑줄 친 부분과 관련 있는 사상의 영향으로 있었던 일을 <보기>에서 모두 고른 것은?

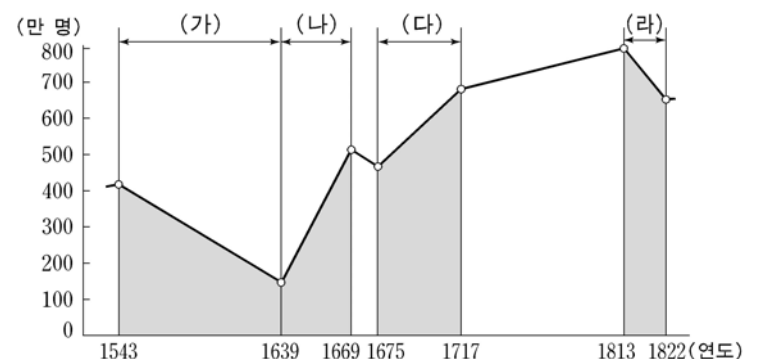
태조 13년에 천안부를 설치하였다. 전해지는 이야기로는 예방이라는 술사(術師)가 “이곳은 삼국의 중심으로 다섯 용이 구슬을 다투는 지세이므로 큰 관청을 설치하면 후백제가 스스로 항복할 것입니다.”라고 태조에게 아뢰니 태조가 산에 올라 주위를 살펴보고는 부(府)를 두었다고 한다.  
 - 『고려사』 -

<보 기>

- ㄱ 성종대의 12목 설치    ㄴ 문종대의 남경 설치  
 ㄷ 묘청의 서경 천도 운동    ㄹ 서경유수 조위충의 봉기

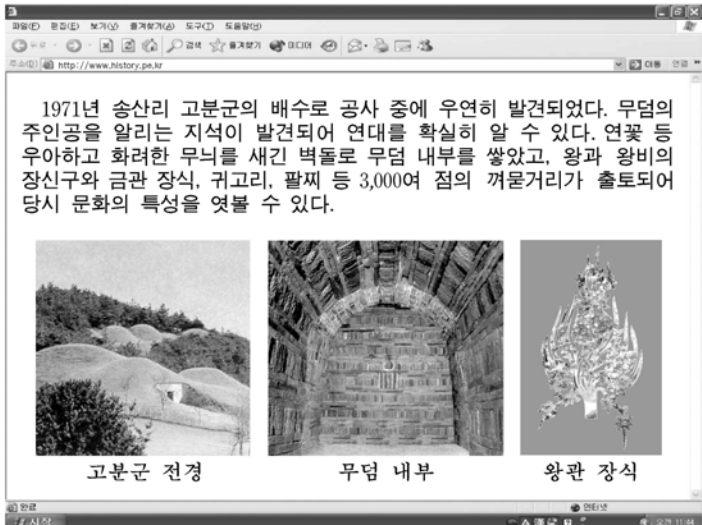
- ① ㄱ ㄴ    ② ㄱ ㄷ    ③ ㄴ ㄷ    ④ ㄴ ㄹ    ⑤ ㄷ ㄹ

10. 그래프는 조선왕조실록에 기록된 인구수의 변화를 나타낸 것이다. 이와 관련된 추론으로 적절하지 않은 것은? [3점]



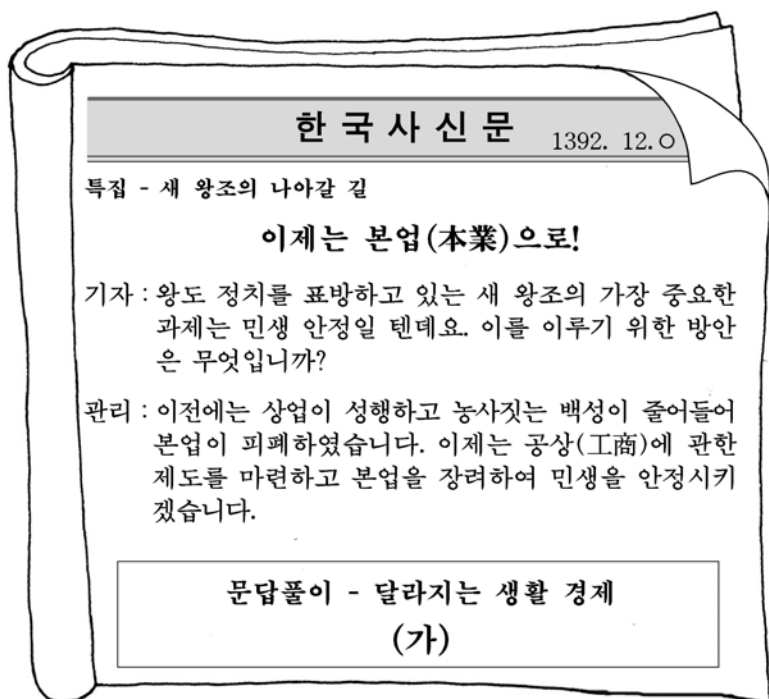
- ① (가) - 전란의 영향으로 통계 인구가 감소하였을 것이다.  
 ② (나) - 국가 재정 수입의 확대를 위해 공노비를 대규모로 해방시켰을 것이다.  
 ③ (다) - 호패법과 오가작통법을 실시하여 파악된 인구가 늘었을 것이다.  
 ④ (라) - 자연 재해와 수령의 수탈로 유망하는 인구가 많았을 것이다.  
 ⑤ 국가의 인구 파악은 군역 부과와 밀접한 관련이 있었을 것이다.

11. 다음은 어느 유적에 관한 인터넷 역사 정보 사이트의 설명이다. 이를 읽고 추론한 내용으로 가장 적절한 것은? [3점]



- ① 갑 : 부여에 가면 이런 벽돌 무덤을 많이 볼 수 있을 거야.
- ② 을 : 무덤이 온전하게 보존된 것은 도굴이 어려운 구조 때문일 거야.
- ③ 병 : 껍묻거리를 많이 묻은 것을 보니 불교 수용 이전에 만들었을 거야.
- ④ 정 : 이 무덤이 만들어진 문화적 배경은 양나라에 파견된 사신 그림을 통해 짐작해 볼 수 있어.
- ⑤ 무 : 화려한 왕관 장식을 보니 수도를 옮기고 나라를 중흥시킨 이 무덤 주인공의 위세가 느껴져.

12. (가)에 들어갈 질문과 답변으로 가장 적절한 것은?



- ① 문 : 인삼을 재배하고 있소. 중국에 인삼을 팔고 싶은데 ...  
답 : 중강에서 열리는 후시를 이용하면 됩니다.
- ② 문 : 용기를 파는 장사꾼이요. 한양에서 장사를 하고 싶소.  
답 : 칠패나 이현 쪽에서 점포를 열면 됩니다.
- ③ 문 : 우리같이 땅 없는 백성들에게 달라지는 것이 무엇이요?  
답 : 앞으로는 매년 정해진 액수의 소작료를 내면 됩니다.
- ④ 문 : 경기 지역에 사는 농부요. 내 땅에 과전이 설정되었는데 ...  
답 : 생산량의 1/10을 수조권자에게 내면 됩니다.
- ⑤ 문 : 관청에 속해 기와를 만드는 장인이요. 이제 어찌하면 되요?  
답 : 장인세만 내면 자유로이 물건을 만들 수 있습니다.

13. 다음은 어느 지역에 관한 기록이다. 각 시대에 이 지역에서 볼 수 있었을 광경으로 적절하지 않은 것은? [3점]

【연혁】 본래 고구려의 국원성이다. 신라 진흥왕이 빼앗아 국원소경을 설치하였고, 경덕왕이 중원경으로 이름을 바꾸었다. 고려 태조 23년에 지금 이름으로 고쳤다.  
【산천】 이송인의 시에, “저 월악(月岳)을 보니 중원(中原)에 비껴 있는데, 한강의 물이 처음 발원했네.”라고 하였다.  
【궁실】 실록각 : 객관 동남쪽에 있다. 3년마다 사관을 보낸다. 성주와 전주도 이와 같다.  
【고적】 익안 폐현(廢縣) : 원래 다인철소였는데, 고려 때 이 지방 사람들이 외적을 막아낸 공이 있어 현으로 승격시켰다.  
【창고】 가흥창 : 가흥역 동쪽 2리에 있다. 여러 고을의 전세를 거두어 여기에서 배로 실어날랐다.  
—『신증동국여지승람』—

- ① 삼국 — 한강 유역에 진출하고 비석을 세우는 고구려 군사
- ② 통일 신라 — 새로 부임한 도독을 찾아와 업무를 보고하는 촌주
- ③ 고려 — 몽고군에 대항하는 특수 행정 구역의 주민
- ④ 조선 전기 — 사고에 보관된 책을 꺼내 말리는 춘추관 관리
- ⑤ 조선 후기 — 경상도 북부 고을의 세곡을 배에 싣는 일꾼

14. 다음 자료를 통해 알 수 있는 당시의 사회상으로 옳지 않은 것은?

충렬왕 24년 정월에 다음과 같은 교서를 내렸다. “근래에 양민을 강압하여 천인으로 만드는 예가 많으니 해당 관리는 문건이 없거나 위조한 자를 조사하여 처벌하라. ... 중략 ... 양반의 노비는 주인 집 부역이 따로 있다 하여 예로부터 공역(公役)이나 다른 세금을 부과하지 않았다. 지금 양민이 세력 있는 집으로 들어가서 그 공역을 피하고 있으니 이제부터는 이런 일이 일절 없도록 하라.”  
—『고려사』—

- ① 권세가의 사노비가 증가하고 있었다.
- ② 농민들은 스스로 노비가 되기도 하였다.
- ③ 이러한 현상은 전민변정도감 설치의 배경이 되었다.
- ④ 양민의 수가 감소하여 조세 수입이 줄어들고 있었다.
- ⑤ 양전의 구분이 엄격해지면서 신분제가 강화되고 있었다.

15. 밑줄 친 ‘왕’이 실시한 정책으로 옳은 것은? [3점]

왕은 행차 때면 길에 나온 백성들을 불러 직접 의견을 들었다. 또한 척신 세력을 제거하여 정치의 기강을 바로잡았고, 당색을 가리지 않고 어진 이들을 모아 학문을 장려하였다. 침전에는 ‘탕탕평평실(蕩蕩平平室)이라는 편액을 달았으며, “하나의 달빛이 땅 위의 모든 강물에 비치니 강물은 세상 사람들이요, 달은 태극이며 그 태극은 바로 나다.”라고 하였다.

- ① 병권 장악을 위해 금위영을 설치하였다.
- ② 왕권 강화를 위해 여러 봉당을 번갈아 등용하였다.
- ③ 능력 있는 신하들을 뽑아 스승의 입장에서 재교육시켰다.
- ④ 의정부의 권한을 강화하고 현명한 재상에게 정치를 맡겼다.
- ⑤ 백성이 억울한 사정을 호소할 수 있도록 신문고를 설치하였다.

16. ㉠~㉣에서 언급된 토지에 관한 설명으로 옳은 것은? [3점]

문무백관으로부터 군인, 한인에 이르기까지 일정한 등급에 따라 모두 토지를 주고 또 뿔나무를 베어낼 땅을 주었는데, 이를 ㉠ 전시과(田柴科)라고 하였다. 한편 ㉡ 부병(府兵)은 나이가 20세가 되면 토지를 받고 60세가 되면 다시 바쳤다. 또 ㉢ 공음전시와 ㉣ 공해전시도 있었다. ㉤ 고려 후기에는 관리들의 녹봉이 적다고 하여 경기 각 고을의 토지를 나누어 주었다. —『고려사』—

- ① ㉠ — 매매, 상속, 증여가 가능하였다.
- ② ㉡ — 역이 세습되면 그 자손에게 지급하였다.
- ③ ㉢ — 현직에서 물러나면 국가에 반납하였다.
- ④ ㉣ — 왕실의 경비를 충당하기 위한 것이었다.
- ⑤ ㉤ — 5품 이상의 관리를 대상으로 지급하였다.

17. 다음과 같이 말한 사람의 주장으로 적절한 것을 <보기>에서 모두 고른 것은?

- 천체가 운행하는 것이나 지구가 자전하는 것은 그 형세가 동일하니, 분리해서 설명할 필요가 없다. ... 중략 ... 천체들이 서로 의존하고 상호 작용하면서 이루고 있는 우주 공간의 세계 밖에도 또 다른 별들이 있다.
- 순임금은 동이(東夷) 사람이고 문왕은 서이(西夷) 사람이니, 왕후와 장상이 태어나는 곳이 따로 정해져 있었는가? 진실로 하늘의 명을 받들어 이 백성을 편안하게 한다면 이는 천하의 참 임금이라 일컬을 것이다.

<보 기>

- ㄱ 청의 문물을 적극 수용해야 한다.
- ㄴ 주자의 가르침을 굳게 지켜야 한다.
- ㄷ 문벌 제도를 철폐하고 부국강병을 이루어야 한다.
- ㄹ 오랑캐에 당한 수치를 씻고 대의명분을 바로 세워야 한다.

- ① ㄱ ㄴ    ② ㄱ ㄷ    ③ ㄴ ㄷ    ④ ㄴ ㄹ    ⑤ ㄷ ㄹ

18. 다음과 같은 문화 의식을 가진 세력이 집권하던 시기에 있었던 일로 옳은 것은? [3점]

- 오방(五方)의 풍토가 서로 달라 심고 가꾸는 법도 각기 차이가 있으니, 전해진 책에 모두 의존할 수는 없다. ... (중략) ... 이에 여러 고을의 나이든 농부를 찾아 농사 경험을 듣고, 그 중 필요한 것만 뽑아 책으로 엮는다.
- 우리나라의 글은 송·원의 글도 아니고, 또한 한·당의 글도 아니며, 바로 우리나라의 글인 것입니다. 마땅히 중국 역대의 글과 나란히 천지 사이에 행하게 하여야 할 것입니다.

- ① 참성단에서 일월성신에 대한 제사가 거행되었다.
- ② 동의보감이 간행되어 의학 발전의 토대가 마련되었다.
- ③ 우리의 자연을 사실적으로 그리는 화풍이 발전하였다.
- ④ 백리척을 사용한 정밀하고 과학적인 지도가 제작되었다.
- ⑤ 우리 언어에 대한 연구가 심화되어 언문지가 편찬되었다.

19. 다음 두 자료를 모두 활용한 탐구 학습의 주제로 가장 적절한 것은?

- 시조 추모곡 [주몽]은 천제(天帝)의 아들이며 하백의 외손이었다. ... 중략 ... 광개토 대왕의 치세가 되니 연호를 영락이라 했으며, 은택이 하늘에 미치고 군센 위엄이 사방에 떨쳤다. ... 중략 ... 백제와 신라는 예전부터 우리의 속민으로서 조공을 바쳐왔다. —『광개토 대왕릉비』—
- 당 고조가 말하기를, “모름지기 이름과 실체는 부합해야 한다. 고구려는 중국의 신하라 일컬으면서도 끝내 우리와 맞서려 했으니 어찌 신하라고 할 수 있겠는가? 나는 천하가 평안한 것에 만족할 뿐, 군이 저들을 복속시켜 스스로를 높일 생각이 없다.”고 하였다. —『구당서』—

- ① 삼국의 항쟁과 복속민 지배 방식
- ② 동아시아 대외 교역망의 성립과 변화
- ③ 고구려와 수·당 간 전쟁의 전개 과정
- ④ 건국 설화를 통해 본 삼국의 성립 과정
- ⑤ 고구려인의 천하 인식과 조공 관계의 실상

20. 지도는 고려 시대의 지방 행정 구역을 나타낸 것이다. (가), (나) 지역에 대한 설명으로 옳지 않은 것은? [3점]



- ① (가)에는 중앙에서 병마사가 파견되었다.
- ② (가)의 확보는 고구려 계승 의식과 관련이 있다.
- ③ (나)에는 외적 방어를 위해 진이 설치되어 있었다.
- ④ (나)에는 안찰사가 파견되어 도내의 지방을 순찰하였다.
- ⑤ (나)에는 후삼국 통일 이전에 왕건이 점령했던 지역이 있었다.

\* 확인 사항

- 답안지의 해당란에 필요한 내용을 정확히 기입(표기)했는지 확인 하시오.