

사회탐구 영역(국사)

제 4 교시

성명



수험번호

3

1

- 먼저 수험생이 선택한 과목의 문제지인지 확인하시오.
- 자신이 선택한 과목의 순서대로 문제를 풀어야 합니다.
- 문제지에 성명과 수험 번호를 정확히 기입하시오.
- 답안지에 성명, 수험 번호, 선택 과목, 답을 표기할 때에는 반드시 ‘수험생이 지켜야 할 일’에 따라 표기하시오.
- 문항에 따라 배점이 다르니, 각 물음의 끝에 표시된 배점을 참고하시오. 3점 문항에만 점수가 표시되어 있습니다. 점수 표시가 없는 문항은 모두 2점씩입니다.

1. 다음 전시실의 (가)에 들어갈 그림으로 가장 적절한 것은?



2. (가)에 들어갈 내용으로 적절하지 않은 것은?

△△ 역사학회 학술 강연회

주제 : ○○ 세력의 성장

무열왕계의 몰락 이후 정치·사회적으로 혼란한 상황에서 등장한 지방 세력의 성장을 알아봄으로써 새로운 시대를 여는 전환기의 역사적 의미를 재조명한다.

- 강연 일정 -

- 개회사
- 강연
 - 제 1 강연 : 진골 귀족들의 왕위 쟁탈전과 지방의 동향
 - 제 2 강연 : (가)
- 폐회사

- ① 풍수지리설의 확산과 그 영향
- ② 9산 선문의 성립 배경과 후원 세력
- ③ 최언위, 최승우 등 도당 유학생의 동향
- ④ 각 지방별 성주·장군의 분포와 그 영향력
- ⑤ 공주 명학소에서 일어난 신분 해방 운동의 의미

3. 다음의 ‘이들’에 대한 설명으로 옳은 것은? [3점]

- 세조 13년(1467), 이천부 관아에 소속된 이들이 뇌물을 받고 역을 함부로 부과하여, 장(杖) 1백 대를 친 후 역졸로 보내 버렸다. 그리고 그 책임을 물어 부사 이세보를 파직하였다.
- 중종 26년(1531), 광주 백성 나근내가 왕명을 사칭하여 관리를 욕보였다. 이에 의금부에서 광주 관아 소속의 이방, 형방, 공방인 이들도 나근내와 더불어 조사하였다.

- ① 공장안에 등록되어 물건을 만들었다.
- ② 토착 세력으로 그 직역을 세습하였다.
- ③ 향회를 중심으로 지방민을 통제하였다.
- ④ 재산으로 취급되어 매매의 대상이 되었다.
- ⑤ 지방의 행정·사법·군사권을 가지고 있었다.

4. 자료를 통해 알 수 있는 시기의 경제 상황으로 옳지 않은 것은?

- 요즘은 오로지 광작을 능사로 여기는 풍조가 성행한다. 그리하여 가족이 몇 명 되지 않는 집에서도 모두 수 석락지*의 논을 경작한다. - 천일록 -
- 사신이 돌아올 때 단련사*를 보내 수행하도록 하였다. 그런데 단련사가 상인과 결탁하여 책문 후시와 중강 후시 등에서 무역으로 이득을 취하였다. - 만기요람 -

* 석락지 : 한 섬의 종자를 뿌릴 수 있는 토지
* 단련사 : 사신을 맞이하고 호송하는 임무를 맡은 관직

- ① 선대제가 성행하였다.
- ② 쌀의 상품화가 활발하였다.
- ③ 세금과 소작료를 동전으로 납부하기도 하였다.
- ④ 삼한통보, 해동통보 등의 화폐가 유통되었다.
- ⑤ 덕대가 물주로부터 자금을 조달받아 광산을 운영하였다.

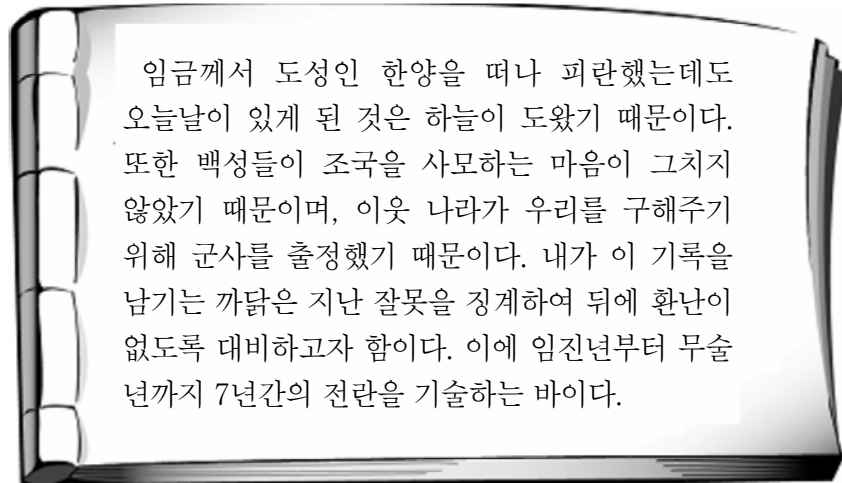
5. 자료는 어느 인물의 일대기이다. 이 인물의 활동으로 옳은 것은?

[3점]

- 의종 12년 : 황해도 서흥에서 출생
- 의종 19년 : 선종 사굴산파로 출가
- 명종 12년 : 승과 합격. 10여 명의 승려들과 신앙 결사를 약속함
- 명종 21년 : 결사문 완성. 무신 정권의 지원을 받고 깨달음에 대한 꾸준한 실천을 주장하며 신앙 결사 운동 전개
- 신종 4년 : 조계산 수선사 개창
- 희종 6년 : 수선사에서 입적

- ① 실생활의 윤리로 세속 5계를 제시하였다.
- ② 유불일치설을 주장하며 심성 도야를 강조하였다.
- ③ 이론의 연마와 실천을 강조한 교관점수를 주장하였다.
- ④ 선을 중심으로 교학을 포용하려는 정혜쌍수를 주장하였다.
- ⑤ 우주가 상호 의존적으로 조화를 이룬다는 화엄 사상을 정립하였다.

6. 다음은 어느 전란을 기록한 책의 서문이다. 이 책에 들어갈 수 있는 내용으로 가장 적절한 것은? [3점]



- ① 야인을 몰아내고 6진을 설치하였다.
- ② 수군이 남해의 제해권을 장악하였다.
- ③ 전란이 끝난 후 천리장성을 쌓았다.
- ④ 왕이 적에게 쫓기어 남한산성으로 피신하였다.
- ⑤ 정부는 수도를 강화도로 옮기고 항전을 독려하였다.

7. 자료의 (가), (나)에 해당하는 두 국가 간의 정치적 관계를 보여주는 문화재로 적절한 것은?

- 영락 9년, [가]의 사신이 말하기를, “왜인이 국경을 침범하니, 노객은 백성된 자로서 왕에게 귀의하여 분부를 청합니다.”고 하였다. …(중략)… 왕은 보병과 기병 5만을 보내 [가]를 구원하게 하고 순라병을 두어 지키게 하였다.
- 실성왕은 내물왕 37년에 [나]에 볼모로 잡혀갔다가, 9년 만에 돌아와 왕이 되었다. …(중략)… 실성왕은 자신을 볼모로 보낸 것에 보복하려고 [나]의 군사를 빌려 내물왕의 아들 놀지를 죽이려 하였으나, 도리어 죽임을 당하였다.

①



②



③



④



⑤



8. 그림은 어느 제도의 시행을 둘러싼 논쟁을 나타낸 것이다. 이 제도에 대한 탐구 활동으로 가장 적절한 것은? [3점]



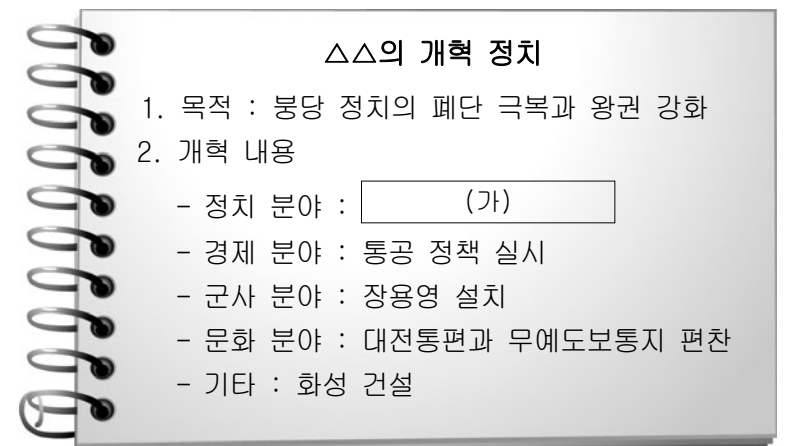
- ① 납속책의 실시 배경을 찾아본다.
- ② 결작이 부과된 원인을 알아본다.
- ③ 수신전, 홀양전이 폐지된 이유를 살펴본다.
- ④ 선무군관의 칭호가 사용된 배경을 알아본다.
- ⑤ 방납으로 인한 농민의 피해 사례를 찾아본다.

9. 다음은 어느 시기의 재산 상속과 관련된 자료이다. 이 시기의 사회 모습으로 적절하지 않은 것은?

- 부모의 유산을 불균등하게 나눈 금액의 차이가 10필이면 태 90대, 20필이면 태 100대 …(중략)… 50필이면 징역 2년에 처한다.
- 중추원 부사 이지저는 아버지가 죽은 후 형제자매와 재산을 나누지 않아서 사람들의 비난을 받았다.
- 첨의부 평리를 지낸 윤선좌는 늙어 병을 얻자, 자녀를 불러 놓고 재산을 고르게 나누어 주었다.

- ① 처가살이를 하는 경우가 많았다.
- ② 여성의 재가가 비교적 자유로웠다.
- ③ 상복 제도에서 친가와 외가의 차이가 크지 않았다.
- ④ 성별에 관계없이 태어난 차례대로 호적에 기재하였다.
- ⑤ 아들이 없는 경우 양자를 들이는 것이 일반화되었다.

10. 다음은 어느 국왕의 정책에 대하여 정리한 것이다. (가)에 들어갈 옳은 내용을 <보기>에서 고른 것은?



— < 보 기 > —

- | | |
|-------------|---------------|
| ㄱ. 현량과 실시 | ㄴ. 홍문관 설치 |
| ㄷ. 초계문신제 실시 | ㄹ. 규장각의 기능 강화 |

- ① ㄱ, ㄴ
- ② ㄱ, ㄷ
- ③ ㄴ, ㄷ
- ④ ㄴ, ㄹ
- ⑤ ㄷ, ㄹ

11. 다음 대화를 통해 알 수 있는 시기의 사회 상황으로 옳지 않은 것은?



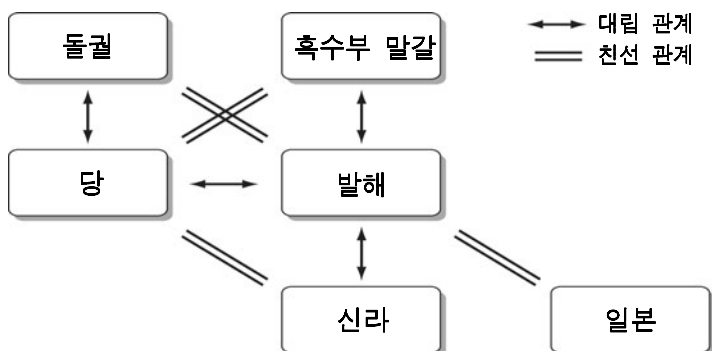
- ① 부농층이 향임직에 진출하기도 하였다.
- ② 문중을 중심으로 서원, 사우가 많이 세워졌다.
- ③ 유향소를 통제하기 위하여 경재소가 운영되었다.
- ④ 농민들은 목화, 채소, 담배 등의 상품 작물을 재배하였다.
- ⑤ 중인은 신분 상승을 위해 대규모 소청 운동을 전개하였다.

12. 다음에서 설명하는 기구가 운영된 시기의 정치 상황으로 옳은 것은? [3점]

일본 원정을 준비하기 위해 설치되어 군대와 물자를 징발하였다. 두 차례의 원정을 실시하였으나 태풍으로 인하여 모두 실패하였다. 일반 행정을 담당한 좌우사(左右司)와 사법 사무를 담당한 이문소(理問所), 군무를 담당한 도진무사(都鎭撫司) 등 여러 부속 기구를 두었다. 원정이 실패한 이후에도 계속 남아 정치에 간섭하였는데, 특히 이문소의 횡포가 극심하였다.

- ① 국정을 총괄하는 교정도감이 설치되었다.
- ② 위화도 회군으로 지배 세력이 교체되었다.
- ③ 부마국이 되어 왕실의 호칭과 격이 낮아졌다.
- ④ 금국 정벌을 주장하며 서경 천도 운동이 일어났다.
- ⑤ 호족 세력을 약화시키기 위하여 노비안검법을 실시하였다.

13. 다음은 발해 어느 국왕 때의 대외 관계를 나타낸 것이다. 이 국왕이 실시한 정책에 대한 설명으로 옳은 것은? [3점]



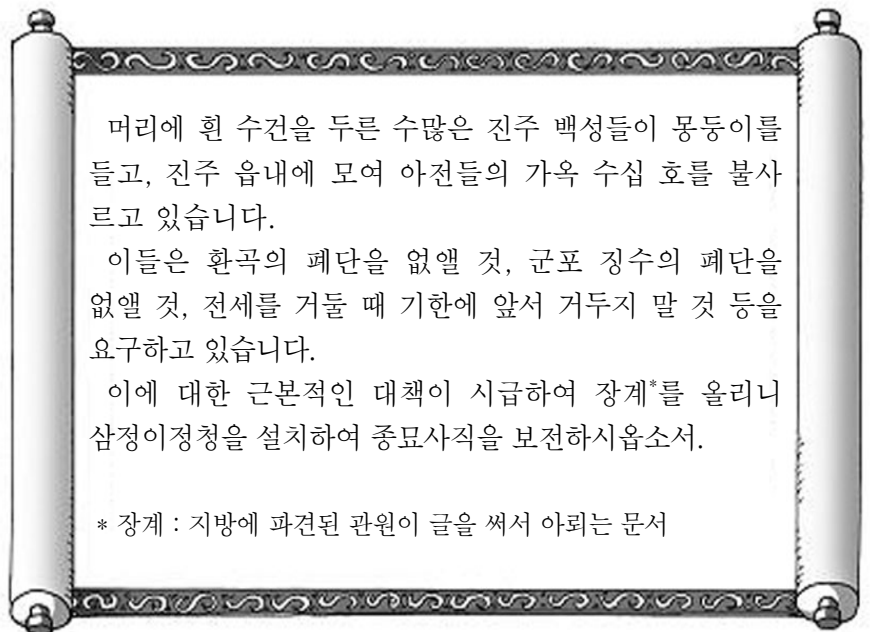
- ① 장문휴로 하여금 당의 산둥 지방을 공격하게 하였다.
- ② 수도를 중경에서 상경으로 옮겨 체제를 정비하였다.
- ③ 5경 15부 62주를 설치하여 지방 통치 체도를 정비하였다.
- ④ 신라와의 대립 관계를 해소하기 위하여 신라도를 개설하였다.
- ⑤ 당과 대등함을 나타내기 위하여 대흥이라는 연호를 사용하였다.

14. (가) ~ (다)는 어느 시대의 수취 제도를 설명한 것이다. 이를 시기 순으로 바르게 배열한 것은? [3점]

- (가) 전국의 토지를 비옥도에 따라 6등급으로 나누고, 그 해의 풍흉에 따라 9등급으로 나누어 조세를 거두었다.
 (나) 면세의 혜택을 누리던 농장을 혁파한 후, 사전(私田)은 수조권자가, 공전(公田)은 관아에서 각각 그 해의 작황을 결정하여 수확량의 1/10을 조세로 거두었다.
 (다) 국가 재정을 확보하기 위하여 양전을 실시하고, 농민의 부담을 줄이기 위하여 모든 토지에 1결당 4두의 조세를 거두었다.

- ① (가) - (나) - (다)
- ② (가) - (다) - (나)
- ③ (나) - (가) - (다)
- ④ (나) - (다) - (가)
- ⑤ (다) - (나) - (가)

15. 다음은 어떤 사건에 대한 가상의 장계이다. 이 사건이 일어난 배경을 <보기>에서 고른 것은?



< 보 기 >

- ㄱ. 양난으로 경작지가 황폐화되었다.
 ㄴ. 삼정의 문란으로 농촌 사회가 피폐해졌다.
 ㄷ. 왕의 정통성을 둘러싸고 남인과 서인이 대립하였다.
 ㄹ. 소수의 외척 가문이 정권을 독점하고 매관매직이 성행하였다.

- ① ㄱ, ㄴ
- ② ㄱ, ㄷ
- ③ ㄴ, ㄷ
- ④ ㄴ, ㄹ
- ⑤ ㄷ, ㄹ

16. 다음 주장을 한 인물에 대한 설명으로 옳은 것은? [3점]

- 수레는 하늘에서 나와 땅을 굴러다니는데 온갖 물건을 운반하니, 그 이익이 매우 크다. ...(중략)... 큰 수레에 소 다섯 마리를 매어 열다섯 섬을 운반하니, 소 한 마리나 말 한 마리로 각각 두 섬씩 운반하는 것보다는 3분의 1의 이익을 더 얻게 된다.
- 중국이 사치로 망한다면 우리나라는 검소함으로 인해 쇠퇴할 것이다. 왜 그러한가? 물건이 있지만 쓰지 않는 것을 검소함이라고 하지, 자기에게 없는 물건을 스스로 끊어버리는 것을 일컫지는 않는다. ...(중략)... 재물이란 우물과 같아서 퍼내면 늘 물이 가득하지만, 길어내기를 그만두면 말라버린다.

- ① 북학의를 저술하여 상공업의 진흥을 주장하였다.
- ② 양명학을 연구하여 강화학파의 선구자가 되었다.
- ③ 신분제에 따라 차등 있게 토지를 재분배할 것을 주장하였다.
- ④ 금석과안록을 지어 북한산비가 진흥왕 순수비임을 밝혔다.
- ⑤ 성호사설에서 나라를 쪼먹는 여섯 가지의 폐단을 지적하였다.

17. (가), (나) 석탑에 대한 설명으로 옳지 않은 것은? [3점]

(가)



(4)



- ① (가) - 목판 인쇄물인 무구정광대다라니경이 발견되었다.
- ② (나) - 기단과 탑신에 불상이 도드라지게 조각되어 있다.
- ③ (가), (나) - 선종의 영향을 받아 건립되었다.
- ④ (가), (나) - 이중 기단 위에 3층을 쌓은 양식이다.
- ⑤ (가)는 (나)보다 먼저 제작되었다.

18. 다음은 어느 나라의 건국 이야기이다. 이 나라에 대한 설명으로 옳은 것은?

비류가 온조에게 말하기를 “차라리 어머니를 모시고 남쪽으로 가서 땅을 택하여 따로 나라를 세워야겠다.”하고는 함께 무리를 거느리고 내려왔다. 온조는 위례성에 도움을 정하고 신하 열 명의 보필을 받았고, 비류는 미추홀에 가서 살았다. 그런데 미추홀은 토지가 습하고 물맛이 짜서 백성들이 편안하게 살 수 없었다. 이후 비류가 죽자 그 백성들은 온조가 있는 위례성으로 들어왔다.

- ① 철이 많이 생산되어 낙랑, 왜 등에 수출하였다.
- ② 목지국을 몰아내면서 마한 지역을 통합하였다.
- ③ 마가, 우가, 저가, 구가 등이 각각 사출도를 다스렸다.
- ④ 중대한 범죄자는 제가 회의를 통하여 사형에 처하였다.
- ⑤ 석탈해 세력의 등장으로 3성이 교대로 왕위를 차지하였다.

19. 다음은 어느 시대의 토지 제도를 설명한 것이다. ㉠ ~ ㉣에 대한 옳은 설명을 <보기>에서 고른 것은? [3점]

국가에 봉사하는 대가로 관료에게 관품을 기준으로 18등급으로 나누어 토지를 지급하였다. ㉠관료에게 지급된 토지는 곡물을 얻을 수 있는 전지와 땃감을 얻을 수 있는 시지로 구분되었다. 그런데 지급할 토지가 부족해지자 점차 그 지급 액수를 줄여나갔고, 특히 하급 관료에게는 시지를 지급하지 않게 되었다.

이와는 별도로 ㉠구역의 대가로 지급된 토지와 ㉡5품 이상의 관료에게만 지급된 토지도 있었다.

—〈보기〉—

- ㄱ. ㉠은 자손에게 세습할 수 있었다.
 ㄴ. ㉡은 아들이 군인이 되면 세습되었다.
 ㄷ. ㉢은 관직에서 물러나면 반납하였다.
 ㄹ. ㉠, ㉡은 수조권이 지급되었다.

- ① \neg, \perp ② \neg, \sqsubset ③ \perp, \sqsubset
④ \perp, \sqsupset ⑤ \sqsubset, \sqsupset

20. 다음 담화문이 발표된 시기를 연표에서 고른 것은?

우리 사랑하는 청소년 학도들을 비롯하여 우리 애국 애족하는 동포들이 내게 몇 가지 결심을 요구하고 있다 하니 내가 아래 말하는 바대로 할 것이다.

- 국민이 원한다면 대통령직을 사임하겠다.
- 3·15 정·부통령 선거에 많은 부정이 있었다 하니 선거를 다시 하도록 지시하였다.
- 내가 이미 합의를 해 준 것이지만 만일 국민이 원한다면 개헌을 하겠다.

1945	1948	1954	1960	1972	1987
(가)	(나)	(다)	(라)	(마)	
광복	제헌 국회 구성	사사오입 개헌	장면 내각 성립	10월 유신 선포	대통령 직선제 개헌

- ① (가) ② (나) ③ (다) ④ (라) ⑤ (마)

※ 확인사항

○ 문제지와 답안지의 해당란을 정확히 기입(표기)했는지 확인
하십시오.