

## 제 4 교시

## 사회탐구 영역 (국사)

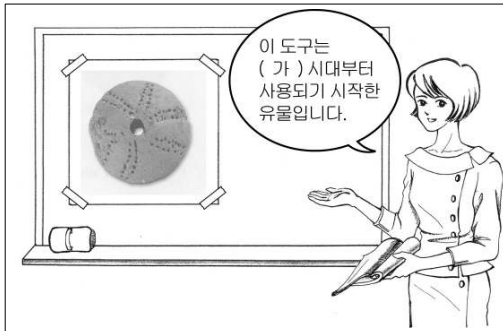
성명

수험번호

3

- 자신이 선택한 과목의 문제지인지 확인하시오.
- 문제지에 성명과 수험번호를 정확히 써 넣으시오.
- 답안지에 성명과 수험번호를 써 넣고, 또 수험번호와 답을 정확히 표시하시오.
- 과목을 선택한 순서대로 풀고, 답은 답안지의 '제1선택'란에서부터 차례대로 표시하시오.
- 문항에 따라 배점이 다르니, 각 물음의 끝에 표시된 배점을 참고하시오. 3점 문항에만 점수가 표시되어 있습니다. 점수 표시가 없는 문항은 모두 2점입니다.

1. (가) 시대 사람들의 생활 모습으로 옳은 것은?



- ① 빗살무늬 토기를 만들어 식량을 저장하였다.
- ② 직사각형 형태의 지상 가옥을 만들어 거주하였다.
- ③ 반달 돌칼을 이용하여 벼 이삭을 거두어 들였다.
- ④ 선민 사상을 통해 자기 부족의 우월성을 내세웠다.
- ⑤ 고인돌과 돌무지무덤을 만들어 시체를 매장하였다.

2. 다음 인물의 행적을 통해 알 수 있는 당시 상황으로 옳지 않은 것은? [3점]

- 1206년 경상도 장산군(경북 경산) 태생, 속명은 김견명
- 1219년 승려로 출가
- 1227년 승과 시험 합격
- 1249년 남해 정림사에서 수행  
(남해의 분사 대장도감에서 조판 사업에 참여)
- 1259년 대선사에 임명
- 1281년경 삼국유사 저술
- 1283년 충렬왕에 의해 국존(국사)으로 추대
- 1289년 인각사에서 입적

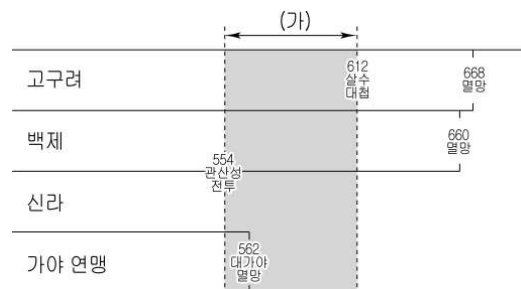
- ① 재조대장경이 간행되었다.
- ② 불교계의 통합을 위해 천태종이 창시되었다.
- ③ 원나라의 간섭으로 관제가 격하되기도 하였다.
- ④ 승려가 국정 운영의 자문 역할을 맡기도 하였다.
- ⑤ 단군을 민족의 시조로 내세우는 역사서가 저술되었다.

3. 다음 제도에 대한 설명으로 옳지 않은 것은?

끓주린 백성 구제를 목적으로 하는 진휼 제도이며, 빈민에게 양곡 및 종자를 나라의 곡식으로 꾸어주도록 하였다. 종전에는 창고의 곡식을 꾸어줄 때 이자를 수납하지 않고 가을에 원곡만을 환수하였으나 세종 6년에 이르러 원곡 손실을 보충하기 위해 이자를 징수하도록 하였다.

- ① 민본주의를 바탕으로 설치되었다.
- ② 백성을 수탈하는 수단으로 변질되기도 하였다.
- ③ 고구려의 진대법과 유사한 기능을 담당하였다.
- ④ 농민의 토지 이탈을 방지하기 위해 운영되었다.
- ⑤ 이자 수입으로 제위보를 만들어 빈민을 구제하였다.

4. (가) 시기에 있었던 사실로 옳은 것은? [3점]



- ① 백제는 중흥을 위해 사비(부여)로 도읍을 옮겼다.
- ② 신라와 백제는 동맹을 맺어 고구려의 남하에 대항하였다.
- ③ 가야 연맹은 고구려 군대의 공격으로 세력이 약화되었다.
- ④ 고구려는 천리 장성을 축조하여 중국의 침입에 대비하였다.
- ⑤ 신라는 함경도 지역으로 세력을 확장하고 기념비를 세웠다.

5. 다음 왕의 통치 시기에 있었던 사실로 옳은 것은? [3점]

드디어 왕은 인간으로 연호를 고쳤고 나라를 개칭했다. ... (중략)... 왕이 신하들을 모두 다 불렀을 때 어떤 사람이 말했다. “혹수가 처음에는 우리에게 길을 빌려서 당과 통했습니다. ... (중략)... 지금 당나라한테 관직을 청하면서 우리에게 알리지 않았으니 이것은 반드시 당과 더불어 꾀를 내서 우리를 배반하여 우리 나라를 공격하려는 것입니다.” 이러하므로 왕은 그의 아우 대문예와 외숙 아아상을 시켜서 군대를 내어 혹수를 공격하게 했다.  
— 『발해고』 —

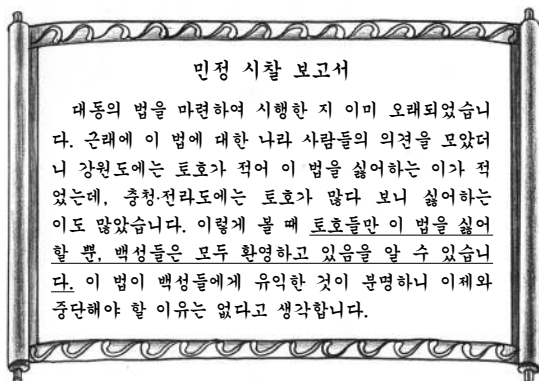
- ① 국호를 발해로 정하고 영역을 확대하였다.
- ② 수도를 상경 용천부로 옮겨 체제를 정비하였다.
- ③ 당에 대항하기 위해 신라와 친선 관계를 맺었다.
- ④ 장문휴가 수군을 이끌고 산둥 지방을 공격하였다.
- ⑤ 전성기를 맞이하여 해동성국이라는 명칭을 얻었다.

6. (가) ~ (마) 사료와 관련된 설명으로 옳지 않은 것은? [3점]

- (가) 왕이 보병과 기병 도합 5만 명을 보내어 신라를 구원하게 하였다. 남거성을 쳐서 신라성에 이르니, 그곳에 왜군이 가득하였다. 관군이 막 도착하니 왜적이 퇴각하였다.
- (나) 운봉을 넘어온 이성계는 적장 가운데 나이가 어리고 용맹한 이지발도를 사살하는 등 선두에 나서서 전투를 독려하여 아군보다 10배나 많은 왜구를 섬멸하였다.
- (다) 삼군도체찰사 이종무에게 이르니, …(중략)… 대마도 왜적이 은혜를 배반하고 의를 저버리고 몰래 우리의 땅 경계로 들어와 군사를 노략한 자이면, 잡는 대로 베어서 큰 벌을 바르게 하라.
- (라) 통신사 윤순지와 부사 조경이 대마도에서 돌아와 보고하기를 “신들이 사명을 받들고 일본에 당도하니 관백이 예로써 접대하고 극도로 두터운 마음씨를 보였습니다.”하였다.
- (마) 중이 조각에 강제로 도장을 찍게 하여 오백 년 종사가 마침내 망하고 말았으니 …(중략)… 남의 임금을 범한 이토 히로부미라는 놈은 마땅히 천하 열국(列國)이 함께 토벌해야 한다.

- ① (가) - 신라에 대한 고구려의 영향력이 강화되었다.
- ② (나) - 고려 말 신흥 무인 세력이 성장하는 배경이 되었다.
- ③ (다) - 대마도주로부터 왜구의 약탈 근절을 약속받았다.
- ④ (라) - 부산포, 염포, 제포를 일본에 개방하는 계기가 되었다.
- ⑤ (마) - 최익현, 신돌석 등이 의병을 일으켜 일제의 침략에 맞섰다.

7. 밑줄 친 내용과 같은 반응이 나타나게 된 이유로 옳은 것은? [3점]



- ① 양반의 면세 특권이 사라졌기 때문이다.
- ② 현물 납부를 화폐 납부로 전환하였기 때문이다.
- ③ 공인이 활동하면서 매점 매석이 증가하였기 때문이다.
- ④ 운영 과정에서 지주들에게 결산을 부과했기 때문이다.
- ⑤ 세금 부과 기준이 호(戶)에서 토지로 바뀌었기 때문이다.

8. 다음 유물이 발명되었던 시기의 문화 활동으로 옳은 것은?



이것은 바퀴가 달린 화차(火車)로, 총구가 뚫린 네모난 나무 상자를 수레에 얹고 거기에 화살을 장착하여 화살 100개를 잇따라 발사할 수 있었다.

- ① 한글로 용비어천가, 월인천강지곡을 간행하였다.
- ② 10리마다 거리를 표시한 대동여지도를 제작하였다.
- ③ 금속 활자를 발명하여 직지심체요절을 인쇄하였다.
- ④ 태음력과 태양력의 원리를 부합시킨 시헌력을 채용하였다.
- ⑤ 180여 종의 국산 약재를 소개하는 향약구급방을 편찬하였다.

9. ㉠ ~ ㉣에 대한 설명으로 옳은 것은?

㉠경기는 사방의 근본이니 마땅히 과전을 설치한다. 무릇 경성에 거주하여 왕실을 시위하는 자는 ㉠전직, 현직을 막론하고 과전을 받는다. 무릇 ㉡수전자가 죽은 후, 그의 아내가 자식이 있고 수절하는 경우는 남편의 과전 모두를 전수 받는다. 자식이 없이 수절하는 자의 경우는 반을 감하여 전해 받으며, 수절하지 않는 경우는 이에 해당하지 않는다. ㉢부모가 모두 사망하고 그 자손이 유약한 자는 마땅히 부양하여야 하니 그 아버지의 과전 전부를 전해 받는다. 그리고 20세가 되는 해에 본인의 과에 따라 받는데, 여자는 그의 남편의 정해진 과에 따라 받고, 나머지는 다른 사람이 나누어 받는다.

- ① ㉠ - 권문세족의 경제적 기반을 확보하기 위함이었다.
- ② ㉡ - 원칙적으로 세습이 가능하였다.
- ③ ㉢ - 점차 과전 부족 문제를 유발하였다.
- ④ ㉣ - 공해전 지급과 유사한 목적을 지니고 있었다.
- ⑤ ㉢, ㉣은 경정 전시과가 시행되면서 폐지되었다.

10. (가) 지역과 관련된 설명으로 옳은 것은?

명종 4년에 조위충이 병사를 일으켜 중부 등을 토벌하기를 모의하여 드디어 동북 양계 여러 성의 군대에 격문을 보내어 호소하기를, “듣건대 상경의 중방이 의논하기를, 북계의 여러 성에는 대개 사납고 교만한 자가 많으므로 토벌하려고 하여 이미 대병력을 출동시켰다고 한다. 어찌 가만히 앉아서 스스로 죽음에 나아가리오. 마땅히 각자의 병마를 규합하여 빨리 (가)에 집결하도록 하라.”라고 하였다.

- ① 대청 무역의 중심지로 개시·후시가 열렸다.
- ② 남경 길지설에 따라 새로운 수도로 각광받았다.
- ③ 서북 지역 차별에 반발하여 홍경래가 봉기를 일으켰다.
- ④ 모술임 천장 구조를 가진 정해 공주 무덤이 발견되었다.
- ⑤ 고려 초기 북진 정책을 추진하기 위한 전진 기지로 중시되었다.

11. ㉠ ~ ㉣에 대한 설명으로 옳지 않은 것은? [3점]

- ㉠엽수안은 영월군의 리(吏)였는데 키가 크고 담력이 있었다. 나라의 제도에 리(吏)에게 세 아들이 있으면 한 아들이 벼슬길에 나아가는 것을 허락하였다.
- ㉡이자겸이 셋째 딸을 왕에게 바쳤으니, 이는 다른 성이 왕비가 되면 권세와 은총이 나뉘게 될까 두려워하여 강청한 것이다.
- ㉢만적 등 6명이 복산에서 나무하다가, 공사의 노예를 불러 모아 모의하기를, “국가에서 경인년·계사년 이후로 높은 벼슬이 천한 노예에게서 많이 나왔으니, 장수와 정승이 어찌 종자가 있으랴.”라고 하였다.
- 공주 명학소 사람 ㉣망이, 망소이 등이 무리를 불러 모아 산행병마사라고 스스로 칭하고 공주를 공격하여 함락시켰다.

- ① ㉠ - 과거에 응시하여 관리가 될 수 있었다.
- ② ㉡ - 무신 정권이 붕괴되면서 집권 세력으로 성장하였다.
- ③ ㉢ - 매매, 상속, 증여의 대상으로 간주되었다.
- ④ ㉣ - 일반 군현민에 비해 차별 대우를 받았다.
- ⑤ ㉣, ㉢은 무신 집권기에 하층민의 저항 운동을 이끌었다.

12. (가)에 들어갈 내용으로 옳은 것은?

**◎ 새로운 불교 사상의 수용**

- 특징 : 실천 수행을 통해 마음 속에 내재된 깨달음을 추구
- 전래 : 신라 통일 전후
- 확산 : 신라 말
- 대표 승려 : 도의, 혜철, 도선 등
- 종파 : 수미산파, 가지산파, 동리산파 등
- 영향 :  (가)

- ① 불교식 왕명의 사용
- ② 3층 석탑 양식의 등장
- ③ 지방 문화 역량의 증대
- ④ 일본 아스카 문화의 형성
- ⑤ 화랑도와 미륵 신앙의 결합

13. 다음 사건이 일어난 지역과 관련된 설명으로 옳은 것은?

1920년 일제는 관동군에 조선 주둔 일본군 병력을 합류시킨 대규모 정규군을 보내, 독립군을 토벌한다는 명목으로 그 지방에 살고 있던 무고한 한국인을 학살하였다. 이 사건으로 우리 동포 1만여 명이 학살당하고, 민가 2500여 채와 학교 30여 개소가 불탔다.

- ① 고려가 거란과의 외교 담판을 통해 확보한 곳이다.
- ② 조선 초에 정도전 등이 정벌하자고 주장하였던 곳이다.
- ③ 조선 전기에 여진을 정벌하여 4군 6진을 설치한 곳이다.
- ④ 조선 후기에 청과 겪은 국경 분쟁의 대상이 되었던 곳이다.
- ⑤ 일제가 러일 전쟁 중 자국 영토로 불법 편입시켰던 곳이다.

14. (가), (나)에 나타난 대외 인식에 대한 설명으로 옳은 것을 <보기>에서 고른 것은?

(가) 우리나라가 중국 조정을 섬겨온 것이 2백여 년이다. 의리로는 군신이며 은혜로는 부자와 같다. 임진년에 입은 은혜는 만세토록 잊을 수 없는 것이다. - 『인조실록』 -

(나) 천하를 차지한 지 1백 년이 지났다. 그들을 모조리 오랑캐라 하고 중국의 법마저 폐기해 버린다면 옳지 못하다. 진실로 백성에게 이롭기만 한다면, 성인은 그 법이 비록 오랑캐에게서 나왔다 하더라도 취할 것이다.

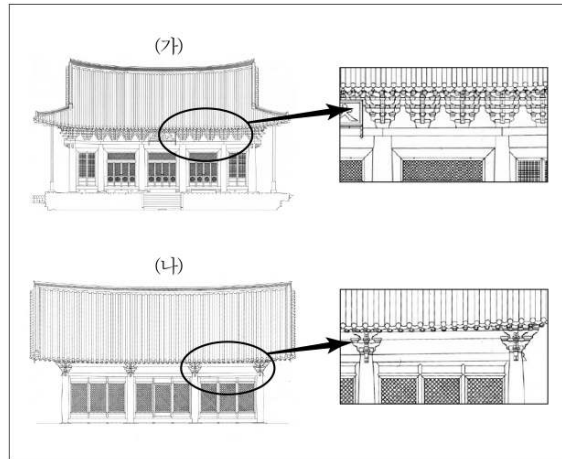
- 『북학의』 -

<보 기>

- ㄱ. (가) - 광해군의 대외 정책에 영향을 주었다.  
 ㄴ. (가) - 호란 이후 추진된 북벌 운동에 영향을 주었다.  
 ㄷ. (나) - 화이론적 세계관을 강조하였다.  
 ㄹ. (나) - 19세기 중엽 통상 개화론으로 이어졌다.

- ① ㄱ, ㄴ
- ② ㄱ, ㄷ
- ③ ㄴ, ㄷ
- ④ ㄴ, ㄹ
- ⑤ ㄷ, ㄹ

15. (가), (나)의 공포 양식에 대한 설명으로 옳은 것을 <보기>에서 고른 것은?

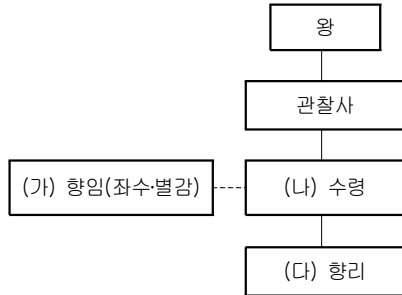


<보 기>

- ㄱ. (가) - 공포가 기둥 위에만 짜여져 있다.  
 ㄴ. (가) - 웅장한 지붕이나 건물을 화려하게 꾸밀 때 이용되었다.  
 ㄷ. (나) - 대표적인 건축물로 봉정사 극락전, 부석사 무량수전이 남아 있다.  
 ㄹ. (나) - 검소한 양반의 취향을 반영하여 조선 초에 등장하였다.

- ① ㄱ, ㄴ
- ② ㄱ, ㄷ
- ③ ㄴ, ㄷ
- ④ ㄴ, ㄹ
- ⑤ ㄷ, ㄹ

16. 다음은 어느 시대의 지방 행정 운영을 도식화한 것이다.  
(가) ~ (다)와 관련된 설명으로 옳은 것은? [3점]



- ① (가)는 향리직의 우두머리로 향촌 행정 사무를 총괄하였다.  
 ② (나)는 원칙적으로 자신의 출신 지역에 임명될 수 없었다.  
 ③ (다)는 향회를 장악하여 향촌 사회에서 영향력을 확대하였다.  
 ④ (가)와 (다)는 지방관을 보좌하는 세습적 아전이었다.  
 ⑤ (나)와 (다)는 직역 수행의 대가로 과전을 지급받았다.

17. 자료와 관련된 제도의 시행에 대한 당시의 반응으로 적절하지 않은 것은? [3점]

전쟁이 일어난 이후 군량 조달에 급급하여 구차스럽게 만든 법을 이루 다 기록할 수 없습니다. 그 가운데 참하무관이 쌀, 콩 각 3석을 경창에 납입하면 즉시 6품으로 올라갈 수 있는데, 이 길이 한번 열리자 자못 혼잡하다는 비난이 많았습니다. 더구나 (나라에서) 6품의 벼슬을 팔아서 곡식을 구하는 것은, 얻는 것은 작고 잃는 것은 큰 것이어서 온당하고 편리하지 못하게 여기고 있습니다.  
- 『선조실록』 -

- ① 평민 출신으로 관직을 받는 자가 늘어나겠군.  
 ② 중인 가운데 양반층에 합류하는 자가 많아지겠군.  
 ③ 정부에서는 재정 공핍을 어느 정도 면할 수 있겠구만.  
 ④ 가난한 농민들의 군역 부담이 더 무거워질 수 있겠어.  
 ⑤ 천민들은 재산이 많아도 혜택을 받지 못하니 불만이 많겠어.

18. 다음과 같은 주장을 한 학자에 대한 설명으로 옳은 것은? [3점]

◦ 하늘은 짐승에게 발톱과 뿔과 이빨 등을 주었는데 사람에게만은 벌거숭이로 제 생명도 구하지 못하게 하였다. 어찌하여 하늘은 천한 짐승에게는 후하게 하고 귀한 인간에게는 박하게 하였는가. 그것은 인간에게는 지혜로운 생각이 있으므로 기예(技藝)를 익혀서 제 힘으로 살게 한 것이다.  
 ◦ 백성을 위해서 목민관이 존재하는가, 백성이 목민관을 위해서 태어나는가. ... (중략) ... 목민관이 백성을 위해서 존재하는 것이다. 옛적에는 백성만이 있었을 뿐이니, 어찌 목이 존재하였을 것인가.

- ① 기기도설을 참고하여 거중기를 만들었다.  
 ② 양명학을 연구하여 강화 학파를 형성하였다.  
 ③ 생산을 자극하기 위해 절약보다 소비를 권장하였다.  
 ④ 우서에서 사농공상의 직업적 평등과 전문화를 주장하였다.  
 ⑤ 신분제 따라 토지를 차등 지급자는 균전론을 주장하였다.

19. 자료와 관련된 정치 세력에 대한 설명으로 옳은 것을 <보기>에서 고른 것은?

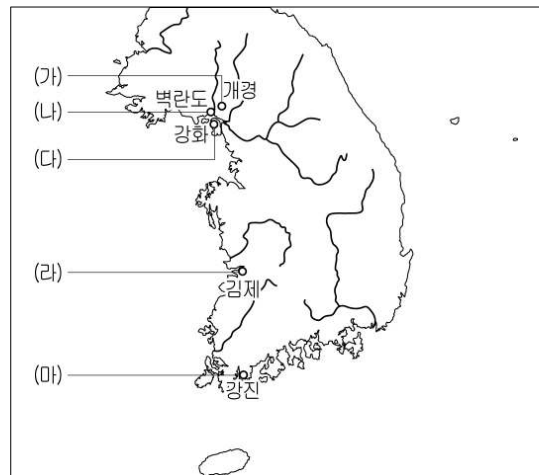
동방의 학문이 서로 전해온 순서로 말한다면 정몽주가 이학(理學)의 조종(祖宗)이라 할 것입니다. 길재는 정몽주에게서 배웠고, 김굉필은 김종직에게서 배웠으며, 조광조는 또 김굉필에게서 배웠습니다. 조광조는 연원의 올바른을 잇고, 이치를 탐구하고 자신을 수양하여 더욱 더 훌륭하게 되었습니다. 근래에 성현의 학문에 종사하는 자들이 매우 많습니다.

<보 기>

ㄱ. 고려국사 등을 편찬하여 조선 건국을 정당화하였다.  
 ㄴ. 소학의 보급과 실천에 힘쓰고, 동몽수지를 간행하였다.  
 ㄷ. 향약을 보급하여 향촌 자치 기반을 확대하고자 하였다.  
 ㄹ. 성리학에만 국한하지 않고 불교, 도교 등도 포용하였다.

- ① ㄱ, ㄴ                      ② ㄱ, ㄷ                      ③ ㄴ, ㄷ  
 ④ ㄴ, ㄹ                      ⑤ ㄷ, ㄹ

20. 고려 시대 (가) ~ (마) 지역의 경제 상황에 대한 설명으로 옳지 않은 것은? [3점]



- ① (가) - 시전 상인을 감독하기 위해 동시전을 설치하였다.  
 ② (나) - 대식국인들이 들어와 수은, 향료 등을 거래하였다.  
 ③ (다) - 대규모 간척 사업을 통해 경작지가 확대되었다.  
 ④ (라) - 벽골제를 개축하는 등 수리 시설을 정비하였다.  
 ⑤ (마) - 최고급 청자를 만들어 중앙에 공급하였다.

\* 확인 사항

◦ 답안지의 해당란에 필요한 내용을 정확히 기입(표기)했는지 확인하시오.