

제 4 교시

사회탐구 영역 (한국 근·현대사)

성명		수험 번호					—			
----	--	-------	--	--	--	--	---	--	--	--

- 자신이 선택한 과목의 문제지인지 확인하십시오.
- 문제지에 성명과 수험 번호를 정확히 써 넣으시오.
- 답안지에 성명과 수험 번호를 써 넣고, 또 수험 번호와 답을 정확히 표시하십시오.
- 과목을 선택한 순서대로 풀고, 답은 답안지의 '제1선택'란에서부터 차례대로 표시하십시오.
- 문항에 따라 배점이 다르니, 각 물음의 끝에 표시된 배점을 참고하십시오.
3점 문항에만 점수가 표시되어 있습니다. 점수 표시가 없는 문항은 모두 2점입니다.

1. 다음과 같은 대외 인식을 지닌 정치 세력의 주장을 <보기>에서 모두 고른 것은?

러시아·미국·일본은 모두 오랑캐이므로 그 차이를 두기 어렵습니다. …(중략)… 세계에는 미국과 일본 같은 나라가 헤아릴 수 없이 많습니다. 만일 그들이 일본이 하는 것과 같이 각자 이익을 추구하고 토지와 재화를 요구한다면, 이를 어떻게 막겠습니까.

-〈보기〉

- ㄱ. 조선은 중국과 친교하고, 일본과 결속하고, 미국과 연합해야 한다.
- ㄴ. 우리의 농산품과 저들의 공산품을 교역하면, 결국 우리의 땅과 집을 보존할 수 없다.
- ㄷ. 서양의 학문은 천리(天理)를 어지럽히고 강상(綱常)을 소멸시킬 것이니 막아야 한다.
- ㄹ. 수레 · 배 · 기계 · 농업은 나라와 백성에게 이로운 기(器)이며, 바꾸려는 것은 기(器)이지 도(道)가 아니다.

- ① \neg, \perp ② \neg, \sqsubset ③ \perp, \sqsubset ④ \perp, \sqsupset ⑤ \sqsubset, \sqsupset

2. 다음 자료의 조항이 최초로 포함된 조약의 상대국에 대하여 옳게 설명한 것은? [3점]

조선 정부가 외국과 수호 통상 조약을 맺을 때, 외국 상인의 활동 범위는 개항장 10리 이내로 한정되었다. 그런데 조·청 상민 수륙 무역 장정에 의거해서 청국 상인에게 서울 등지에서도 상행위를 할 수 있도록 하자, 이미 수교한 나라들도 자신들과 맺은 조약의 조항을 들어 자국 상인에게도 내지 통상을 허용할 것을 요구하였다.

- ① 절영도 조차를 요구하였다.
- ② 거문도를 불법적으로 점령하였다.
- ③ 운산 금광의 채굴권을 침탈하였다.
- ④ 관세를 부과하지 않는다는 조항을 조약에 포함시켰다.
- ⑤ 천주교 선교의 승인 문제로 조선 정부와 갈등을 빚었다.

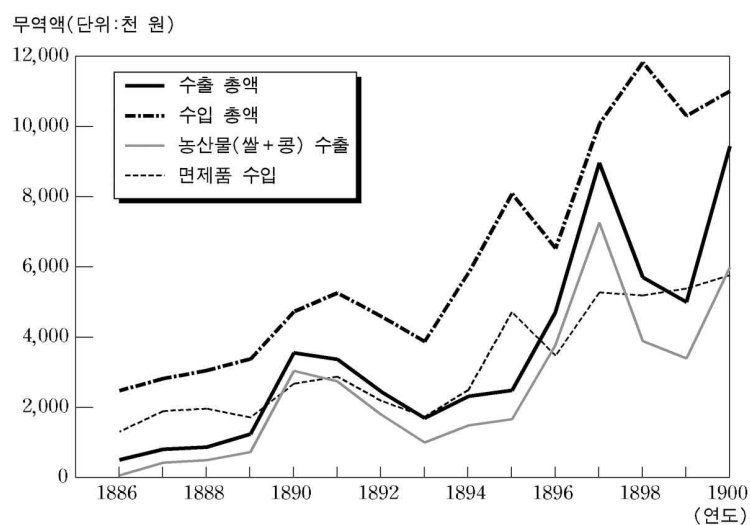
3. 다음 (가), (나) 저술에 대한 설명으로 옳지 않은 것은?

(가) 국가의 역사는 민족의 흥망 성쇠를 서술하는 것이다. 민족을 버리면 역사가 없어지며, 역사를 버리면 민족의 애국심이 사라질 것이니, 역사가의 책임이 심히 무겁도다.

(나) 옛 사람이 말하기를 나라는 멸할 수 있으나, 역사는 멸할 수 없다고 하였으니, 대개 나라는 형체이고 역사는 정신이기 때문이다. 지금 한국의 형체는 허물어졌으나 정신은 홀로 존재할 수 없는 것인가. …(중략)… 정신이 보존되어 불멸하면 형체는 부활할 때가 있을 것이다.

- ① (가)는 근대 민족주의 역사학의 방향을 제시하였다.
- ② (가)의 저자는 국난 극복의 영웅을 소개하여 애국심을 고취하였다.
- ③ (나)는 식민 사학에 맞섰기 때문에 일제에 의해 사용이 금지되었다.
- ④ (나)의 저자는 양명학에 토대를 두고 유교 구신론을 주장하였다.
- ⑤ (가), (나)는 단군 때부터 일제 침략기까지를 서술의 범위로 삼았다.

4. 그래프의 무역 추이가 나타난 시기의 경제적 변화로 옳은 것을 <보기>에서 모두 고른 것은? [3점]



-〈보기〉

- ㄱ. 무역이 활발해지면서 상권과 유통망이 확대되었다.
- ㄴ. 지주는 농산물을 수출하여 얻은 수익으로 토지를 늘려 나갔다.
- ㄷ. 청·일 전쟁이 일어나자, 청국 상인이 철수하면서 무역액이 급감하였다.
- ㄹ. 조선 면직업은 수입 면제품에 맞서 공장제 기계 공업 생산으로 시장을 넓혀 나갔다.

- ① \neg, \perp ② \neg, \sqsubset ③ \perp, \sqsubset
④ \perp, \sqsupset ⑤ \sqsubset, \sqsupset

[5~6] 다음 자료를 읽고 물음에 답하시오.

- (가) 군국기무처를 설치하고 개혁안을 상의하여 결정하였다.
 ○ 국내의 공·사문서는 개국 기원을 쓴다.
 ○ 문벌 반상의 등급을 없애며, 문벌에 구애받지 말고 인재를 등용한다.
 (나) 홍범 14조를 조종의 영전에 고하오니 굽어 살펴 주소서.
 ○ 청국에 의존하려는 마음을 버리고 자주 독립의 기초를 확고히 세울 것
 ○ 민법과 형법을 엄명하게 제정하여 감금과 징벌을 남용하지 못하게 하여 인민의 생명과 재산을 보전할 것
 (다) 태양력을 사용하였으며 연호를 건양이라 하였다. …(중략)… 순검을 시켜 농촌이나 도회지로 두루 돌아다니며 강제로 삭발시켰다.

5. (가)~(다)의 개혁 내용을 분야별로 옳게 정리한 것을 <보기>에서 모두 고른 것은? [3점]

— < 보 기 > —

- ㄱ. 정치면 - 지방관의 권한 축소와 사법권 분리
 ㄴ. 경제면 - 불평등 조약 개정과 관세 자주권 회복
 ㄷ. 사회면 - 과부의 재가 허용과 조혼 금지
 ㄹ. 교육면 - 중학교와 상공 학교 설립

- ① ㄱ, ㄴ ② ㄱ, ㄷ ③ ㄴ, ㄷ
 ④ ㄴ, ㄹ ⑤ ㄷ, ㄹ

6. (다)에 반발하여 일어난 의병에 대한 설명으로 옳지 않은 것은?

- ① 위정 척사 사상을 지닌 유생층이 주도하였다.
 ② 명성 황후 시해도 의병 봉기의 한 원인이었다.
 ③ 의병 해산 후 일부가 활빈당 활동을 전개하였다.
 ④ 신분 차별 철폐와 탐관 오리 척결을 주장하였다.
 ⑤ 고종의 해산 권고 조치는 의병 해산에 영향을 미쳤다.

7. 지도에 표시된 지역에서 활약한 독립군의 활동에 대한 설명으로 옳지 않은 것은? [3점]



- ① (가)에서 대한 독립군은 일본군을 기습하여 전과를 올렸다.
 ② (나)에서 북로 군정서 등 독립군 연합 부대가 승리를 거두었다.
 ③ (다)에서 조선 혁명군은 중국 의용군과 연합하여 일본군을 물리쳤다.
 ④ (라)에서 한국 독립군은 중국 군대와 함께 항일 투쟁의 성과를 거두었다.
 ⑤ (가), (나)에서 활동한 부대들은 만주국 수립 후 중국 관내로 이동하였다.

8. 다음 일본 측 주장에 대해 우리 정부가 제기한 반박으로 적절하지 않은 것은?

일본 정부는 한국 병합 이전인 1905년 시마네현 고시 제40호에 의해 독도를 영토로 편입해서 시마네현의 관리 하에 두었다. 이와 동시에 일본인 나카이는 이 섬에서 강치를 포획하는 허가를 일본 정부로부터 획득하였다. 이후 이 섬은 제2차 세계 대전 발발 때까지 일본인에 의해 실효적으로 개발되어 왔다. 이 모든 기간에 이 섬에 대한 일본 통치는 어떠한 외국에 의해서도 질문을 받은 바 없다.

- 일본 정부의 견해, 1953 -

- ① 1900년 대한 제국 정부는 독도를 울릉군의 관할 구역으로 규정하였다.
 ② 독도 문제는 영토에 관한 국제 분쟁이기 때문에 국제 사법 재판소에 제소해야 한다.
 ③ 독도 해역에서의 어로 활동과 도서에 대한 영유 문제는 별개의 것이며 동일한 것일 수 없다.
 ④ 을사조약 이후 외교권을 박탈당해 일본 측에 항의할 수 없었지만 이것이 독도 편입을 묵인한 것은 아니다.
 ⑤ 정상적인 외교 절차로 통고되지 않은 일개 지방 관청의 고시는 독도에 대한 영유권에 영향을 끼칠 수 없다.

9. 다음 활동을 한 (가), (나) 단체에 대한 설명으로 옳은 것은? [3점]

(가) 김원봉 등이 일제를 타도하기 위해 조직한 단체로서, 단원인 김상옥이 종로 경찰서에 폭탄을 던졌고, 나석주는 동양척식주식회사에 폭탄을 투척하는 등 활발한 투쟁을 벌였다.

(나) 청년은 뜻한 바를 기어이 성공하려고 이틀 전 식당인 홍커우(虹口) 공원으로 가서 모든 식당 배치를 세밀하게 살펴보고 …(중략)… 4월 29일 새벽이 되자, 공원으로 달음질쳐 갔으니, 왜인 군경의 경계 경비가 아무리 철통같다 해도 마침내 한 사람의 한국인을 막지 못했던 것이다.

- ① (가)는 단원들을 중국의 군관 학교에 파견하여 간부 훈련을 받게 하였다.
 ② (가)의 활동으로 중국 국민당 정부는 대한 민국 임시 정부가 중국 내에서 무장 투쟁을 할 수 있도록 허용하였다.
 ③ (나)는 인도, 미얀마 전선에서 영국군과 연합 작전을 전개하였다.
 ④ (나)의 강령은 정치적, 경제적, 교육적 균등을 실현한다는 삼균주의에 기초하였다.
 ⑤ (가)와 (나)의 갈등으로 대한 민국 임시 정부의 노선 대립은 더욱 심화되었다.

10. 다음은 어느 영화의 가상 광고지이다. 영화가 발표된 시기의 문화계 동향으로 가장 적절한 것은?



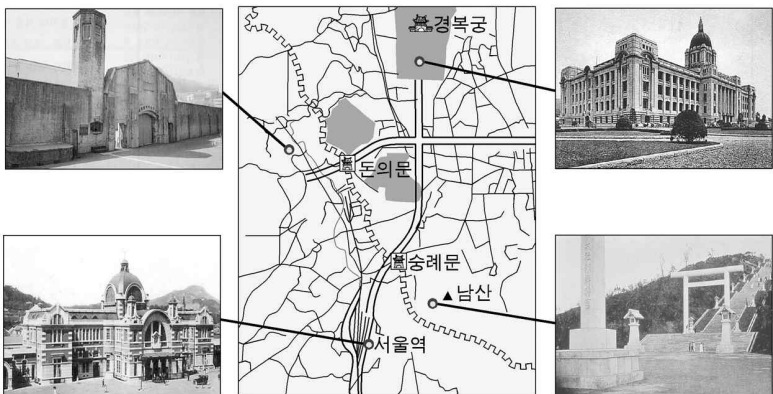
- ① 은세계, 치악산 등이 원각사에서 공연되었다.
- ② 독립가, 권학자와 같은 계몽적 성격의 창가가 등장하였다.
- ③ 일제의 대륙 침략 정책을 미화하는 미술 작품이 제작되었다.
- ④ 신경향파 작가들은 식민지 현실을 고발하는 문학 활동을 전개하였다.
- ⑤ ‘해에게서 소년에게’라는 신체시가 발표되어 근대시의 지평을 열었다.

11. 그림은 1920년대 민족 운동의 흐름을 나타낸 것이다. (가), (나) 운동에 대한 설명으로 옳지 않은 것은?



- ① (가)는 문화 통치를 배경으로 등장하였다.
- ② (가)는 일제의 탄압을 피하기 위해 비밀리에 진행되었다.
- ③ (나)는 기회주의를 배격하고 민족의 단결을 추구하였다.
- ④ (나)는 지방 조직을 확충하여 전국적인 규모로 성장하였다.
- ⑤ (가)의 출현은 (나)가 나타나는 배경이 되었다.

12. 지도와 연결된 건축물에 공통으로 해당하는 탐구 주제로 가장 적절한 것은?



- ① 근대화 과정에서 수용된 서양식 건축물
- ② 6·10 만세 시위에서 규탄의 대상이 되었던 기관들
- ③ 조선의 전통 건축 양식이 가미된 일제 시대 건축물
- ④ 일제 잔재 청산의 논쟁 속에 현존하는 근대 문화 유산
- ⑤ 민족 수난의 관점에서 본 식민 통치를 상징하는 건축물

13. 다음 자료와 관련된 지역의 동포 사회에 대한 설명으로 옳은 것은?

한국 정부와 농장주를 연결시켜 준 사람은 주한 공사 알렌이었다. 그는 1902년 고향으로 휴가차 건너갔다가 사탕수수 농장주 협회와 한국인 노동자를 불러들이는 문제에 대해 의견을 나누었고, 그해 4월에 한국으로 돌아와 고종을 설득하여 이민 사업을 성사시켰다.

- ① 지진이 발생하였을 때 많은 한국인이 학살당하였다.
- ② 신흥 무관 학교를 설립하여 독립 전쟁을 준비하였다.
- ③ 대한인 국민회를 조직하여 독립 운동 단체를 지원하였다.
- ④ 토지 조사 사업으로 경작지를 잃은 농민들이 주로 이주하였다.
- ⑤ 신한촌을 건설하고 한인 학교를 세워 민족 의식을 고취시켰다.

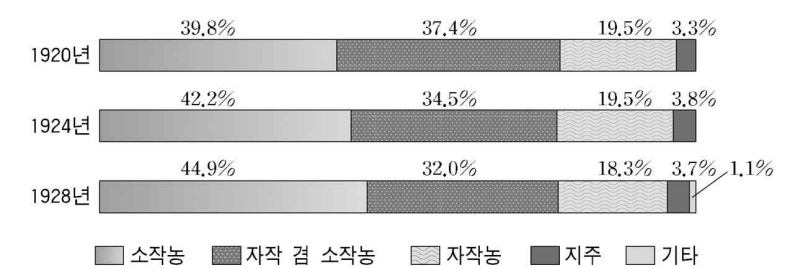
14. 다음 자료와 관련된 운동의 영향으로 알맞은 것을 <보기>에서 모두 고른 것은? [3점]

그날 대한문 앞 광장에는 많은 사람들이 고종의 죽음을 애도하면서 엎드려 곡하는 유생들을 지켜보고 있었다. 탑골공원의 시위에 앞서 학생들이 2, 3명씩 조를 지어 달려 들어 오더니 열변을 토했다. 이에 호응한 군중들이 독립 만세를 높이 외치자 그 소리가 광장을 뒤흔들었다.

〈보기〉
ㄱ. 공화주의와 복벽주의의 대립이 격화되었다.
ㄴ. 간도와 연해주에서 무장 독립 운동이 활성화되었다.
ㄷ. 독립 운동의 구심체로서 대한민국 임시 정부가 수립되었다.
ㄹ. 국내에서 을사 5적 처단을 목표로 하는 비밀 결사 운동이 전개되었다.

- ① ㄱ, ㄴ ② ㄱ, ㄷ ③ ㄴ, ㄷ ④ ㄴ, ㄹ ⑤ ㄷ, ㄹ

15. 그래프를 보고 토론 학습을 하였다. 1920년대 농촌 현실을 옳게 설명한 학생을 <보기>에서 모두 고른 것은? [3점]



〈보기〉
ㄱ. 갑 - 소작권 이동, 고율 소작료 등 지주의 횡포가 심해졌을.
ㄴ. 을 - 농민들은 소작료 인하뿐만 아니라 토지 분배도 요구하며 투쟁했지.
ㄷ. 병 - 소작지를 얻기가 어려운 농민은 일자리를 찾아 광산이나 부두로 몰려들었군.
ㄹ. 정 - 조선 총독부는 피폐한 농민을 구제하려는 목적으로 농촌 진흥 운동을 전개했지.

- ① ㄱ, ㄴ ② ㄱ, ㄷ ③ ㄴ, ㄷ ④ ㄴ, ㄹ ⑤ ㄷ, ㄹ

16. 다음 정·부통령 선거 결과로 일어난 정치 상황을 <보기>에서 모두 고른 것은? [3점]

선거 결과 공고			
대통령 후보		부통령 후보	
이승만	5,046,437표	장 면	4,012,654표
조봉암	2,163,808표	이기봉	3,805,502표
무 호	1,856,818표	(이하 생략)	

— < 보 기 > —

- ㄱ. 보안법 파동 ㄴ. 진보당 등록 취소
ㄷ. 사사오입 개헌 ㄹ. 3·15 부정 선거 규탄 시위

- ① ㄱ, ㄴ ② ㄱ, ㄷ ③ ㄴ, ㄷ ④ ㄴ, ㄹ ⑤ ㄷ, ㄹ

17. 다음 노래가 등장한 시기의 경제 발전에 대한 설명으로 옳지 않은 것은?

- 월남에서 돌아온 새까만 김 상사 이제서 돌아왔네
월남에서 돌아온 새까만 김 상사 너무나 기다렸네
굳게 닫힌 그 입술 무거운 그 철모 웃으며 돌아왔네
○ 새벽종이 울렸네 새 아침이 밝았네
너도 나도 일어나 새마을을 가꾸세
살기 좋은 내 마을 우리 힘으로 만드세

- ① 시장 경제의 자율성을 도모하고 자본 및 금융 시장의 개방을 추진하였다.
② 수출 상품을 생산하는 기업에 많은 혜택을 주어 수출을 늘리는 데 온 힘을 기울였다.
③ 대규모 기업 집단(재벌)은 사업 영역을 다각도로 확대하면서 경제력 집중 현상을 심화시켰다.
④ 저곡가 정책으로 도시와 농촌 간 소득 격차가 심화되고 농촌 인구의 도시 이주 현상이 발생하였다.
⑤ 경제 개발 자금을 끌어들이기 위해 서독에 간호사와 광부를 파견하고 베트남 전쟁에도 참전하였다.

18. (가)와 (나)가 발표된 시점 사이에 일어난 남북 관계의 변화를 <보기>에서 모두 고른 것은?

- (가) 남과 북은 상대방에 대하여 무력을 사용하지 않으며 상대방을 무력으로 침략하지 아니한다. 남과 북은 민족 구성원들의 자유로운 왕래와 접촉을 실현한다.
- 남북 기본 합의서 -
(나) 남측의 연합제 안과 북측의 낮은 단계의 연방제 안이 서로 공통성이 있다고 인정하고 앞으로 이 방향에서 통일을 지향시켜 나간다. - 6·15 남북 공동 선언 -

— < 보 기 > —

- ㄱ. 금강산 관광이 시작되었다.
ㄴ. 경수로 건설 사업이 추진되었다.
ㄷ. 최초로 이산 가족이 상봉하였다.
ㄹ. 개성 공단 조성 사업이 시작되었다.

- ① ㄱ, ㄴ ② ㄱ, ㄷ ③ ㄴ, ㄷ ④ ㄴ, ㄹ ⑤ ㄷ, ㄹ

19. 다음 결정에 대한 정치 세력의 대응으로 옳지 않은 것은? [3점]

- 한국을 독립 국가로 발전시키기 위해 한국 민주주의 임시 정부를 수립한다.
○ 한국 민주주의 임시 정부 수립을 원조하기 위해 미·소 공동 위원회를 설치한다.
○ 미·영·소·중 4개국 정부가 공동으로 관리하는 최장 5년간의 신탁 통치를 실시한다.

- ① 이승만은 남한만이라도 단독 정부를 수립하고 북한에서 소련군을 철수시켜야 한다고 주장하였다.
② 한국 민주당은 소련이 신탁 통치안을 제기했다고 주장하며 반탁 운동을 반소 운동으로 몰아갔다.
③ 김구는 미·소 양군을 철수시키고 남북 지도자의 협상에 의해 총선거를 실시하자고 주장하였다.
④ 조선 공산당은 이 결정의 본질이 임시 정부 수립에 있다고 보고 총체적인 지지 운동을 전개하였다.
⑤ 김규식과 여운형은 남북을 아우르는 좌우 합작으로 임시 정부를 수립한 뒤 신탁 통치 문제를 해결하자고 주장하였다.

20. 다음 자료에서 언급된 친일과 청산에 대한 설명으로 옳지 않은 것은? [3점]

국회에서는 치안 혼란을 선동하고 있다. 즉 경찰을 체포하여 경찰의 동요를 일으키는 치안의 혼란을 조장하는 것이다. 우리가 공산당과 싸우는 것은 그들이 조국을 남의 나라에 예측시키려는 반역 행위를 하기 때문에 싸우는 것이다. 과거에 친일한 자를 한꺼번에 숙청하였으면 좋을 것인데, 기나긴 군정 3년 동안에 못한 것을 지금에 와서 단행하면 앞으로 우리나라가 해나갈 일에 여러 가지 지장이 많을 것이다. 반민특위(반민족 행위 특별 조사 위원회)에서 반역자의 징치를 목적으로 한다면 해당자를 비밀리에 조사하여 사법부로 넘겨야 한다.

- 이승만 대통령 담화, 1949 -

- ① 친일과 척결을 주도하던 국회 의원들이 간첩 혐의로 체포되었다.
② 이승만 정부는 경찰을 동원하여 반민특위를 습격하고 직원들도 연행하였다.
③ 반민족 행위자에 대한 조사 활동은 처벌보다는 진상 규명을 목적으로 하였다.
④ 미군정은 조선 총독부 출신 관료와 경찰들을 활용하면서 친일파 처단을 외면하였다.
⑤ 일부 우익 세력은 체포된 반민족 행위자들이 공산당과 싸운 애국자라며 이들의 석방을 요구하였다.

* 확인 사항

- 답안지의 해당란에 필요한 내용을 정확히 기입(표기)했는지 확인 하시오.