

2007학년도 10월 고3 전국연합학력평가 문제지

제 4 교시 사회 탐구영역(한국근·현대사)

성명

수험번호

1

- 먼저 수험생이 선택한 과목의 문제지인지 확인하시오.
- 문제지에 성명과 수험 번호를 정확히 기입하시오.
- 답안지에 수험 번호, 선택 과목, 답을 표기할 때는 반드시 '수험생이 지켜야 할 일'에 따라 표기하시오.
- 문항에 따라 배점이 다르니, 각 물음의 끝에 표시된 배점을 참고하시오. 3점 문항에만 점수가 표시되어 있습니다. 점수 표시가 없는 문항은 모두 2점씩입니다.

1. 다음 가상의 대화에서 밑줄 친 (가)~(라)와 관련된 정책이 옳게 연결된 것을 <보기>에서 모두 고른 것은?

갑: 흥선 대원군의 개혁으로 우리 (가) 양반 유생들의 부담만 늘어났어.
을: 그래도 민생 안정의 대의에는 합당한 조치가 아닌가?
갑: 민생 안정이라고? 오히려 (나) 물가 상승으로 민생고만 가중되지 않았는가?
을: 하지만 흥선 대원군은 중농적인 입장에서 전체적으로 백성을 염두에 두고 있다고 보네.
갑: 그렇다면 (다) 왕실의 위엄을 세운다고 일반 백성들을 동원하는 것도 백성을 고려한 정책인가?
을: 이 사람아, 그것은 어쩔 수 없는 조치 아니었는가?
갑: 그뿐인가, 세도가를 몰아낸 것은 잘했지만 (라) 학문의 공간을 없앴 것은 부당한 조치야.

< 보 기 >
ㄱ. (가) - 호포제 시행 ㄴ. (나) - 사창제 실시
ㄷ. (다) - 경복궁 중건 ㄹ. (라) - 비변사 철폐
① ㄱ, ㄴ ② ㄱ, ㄷ ③ ㄴ, ㄷ ④ ㄴ, ㄹ ⑤ ㄷ, ㄹ

2. 다음과 같은 법령이 제정되어 실시되었던 시기의 사실로 옳은 것은?

제 1 조 3개월 이하의 징역 또는 구류에 처하여야 할 자는 그 정상에 따라 태형에 처할 수 있다.
제 4 조 본령에 의해 태형에 처하거나 또는 벌금이나 과태료를 태형으로 바꾸는 경우에는 1일 또는 1원을 태 하나로 친다.
제13조 본령은 조선인에 한하여 적용한다.

- ① 자작회가 토산품 애용 운동을 전개하였다.
- ② 여성계의 민족 협동 전선인 근우회가 활동하였다.
- ③ 일본식 성명 사용을 강요하는 정책이 추진되었다.
- ④ 대한 광복회가 군자금을 모금하고 친일파를 처단하였다.
- ⑤ '아는 것이 힘'이라는 구호를 내건 민족 운동이 전개되었다.

3. 그림과 같은 상황이 나타났던 시기에 일제가 실시한 정책을 <보기>에서 모두 고른 것은?



< 보 기 >
ㄱ. 학교에서 조선어를 필수 과목에 포함시켰다.
ㄴ. 개량 서당을 탄압하기 위해 서당 규칙을 만들었다.
ㄷ. 소학교 대신 국민 학교라는 명칭을 사용토록 하였다.
ㄹ. 한국 학생들을 지원병의 명목으로 전쟁터에 동원하였다.
① ㄱ, ㄴ ② ㄱ, ㄷ ③ ㄴ, ㄷ ④ ㄴ, ㄹ ⑤ ㄷ, ㄹ

4. 다음 노래의 배경이 되었던 사건에 대한 탐구 활동으로 옳은 것을 <보기>에서 모두 고른 것은? [3점]

(가) 돌아오네 돌아오네 고향산천 찾아서 얼마나 그렸던가
무궁화꽃을 얼마나 외쳤던가 태극기발을 갈대기야 울어라
파도야 춤춰라 귀국선 뱃머리에 희망도 크다
(나) 눈보라가 휘날리는 바람찬 홍남부두에 독을 놓아 불러
봤다 찾아를 봤다 금순아 어디를 가고 길을 잃고 헤매
었더니 피눈물을 흘리면서 일사이후 나홀로 왔다
(다) 이제 우리 폭정에 견딜 수 없어 자유의 그리움으로 분
노를 뱉는다 아 총칼에 뚫린 4월 그 가슴 위로 났 되어
허공에 흐르는 아 자유여 만세
(라) 월남에서 돌아온 새까만 김상사 이제서 돌아왔네 월남
에서 돌아온 새까만 김상사 너무나 기다렸네 굳게 닫힌
그 입술 무거운 그 철모 웃으며 돌아왔네

< 보 기 >
ㄱ. (가) - 김종필·오히라 비밀 회담 내용을 알아본다.
ㄴ. (나) - 유엔군과 중국군의 참전 과정을 알아본다.
ㄷ. (다) - 6·29 선언이 발표된 배경을 살펴본다.
ㄹ. (라) - 브라운 각서의 내용을 조사해 본다.
① ㄱ, ㄴ ② ㄱ, ㄷ ③ ㄴ, ㄷ ④ ㄴ, ㄹ ⑤ ㄷ, ㄹ

5. 다음 가상의 대화가 오고 가던 시기의 역사적 사실로 적절한 것은?

농민1: 정부에서 토지를 새로 측량한다는군.
농민2: 그래, 동학 농민군들이 주장했던 것처럼 가난한 농민들에게 토지를 나눠 주려나?
농민1: 그러면 오죽 좋겠는가? 듣자하니 '지계'라는 것을 만들어 줄 거라는군.
농민2: '지계'라고 그랬는가? 지계가 뭐지?
농민1: 토지 소유 증명서라고 그러대.
농민2: 우리 같은 소작농에게는 지계가 그림의 떡이로군.

- ① 정부가 대한국 국제 9조를 반포하였다.
 - ② 농민군이 사발통문을 돌리고 봉기하였다.
 - ③ 고종이 처소를 러시아 공사관으로 옮겼다.
 - ④ 영남 유생들이 개화 정책에 반발하여 만인소를 올렸다.
 - ⑤ 국채를 갚기 위한 모금 운동이 전국적으로 전개되었다.
6. 다음 조약 체결의 배경이 되었던 사건에 대한 설명으로 옳은 것을 <보기>에서 모두 고른 것은? [3점]

◦ 금일부터 20일 안에 조선국은 흉도를 체포하고 그 피수를 엄중히 취조하여 중벌에 처한다.
◦ 일본 공사관에 군인 약간 명을 두어 경비한다. 그 비용은 조선국이 부담한다.

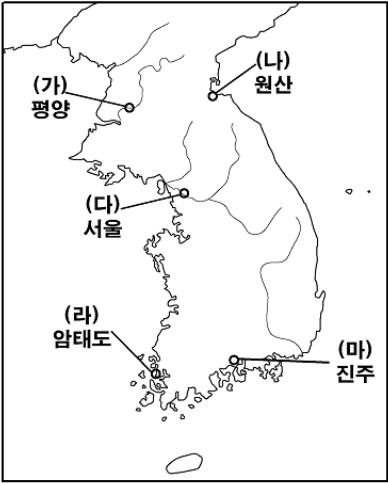
— < 보 기 > —
ㄱ. 급진 개화파가 주도하였다.
ㄴ. 청의 군대가 조선에 주둔하는 결과를 낳았다.
ㄷ. 청·프 전쟁이 진행되는 상황 아래 전개되었다.
ㄹ. 흥선 대원군이 일시적으로 재집권하는 계기가 되었다.

- ① ㄱ, ㄴ ② ㄱ, ㄷ ③ ㄴ, ㄷ ④ ㄴ, ㄹ ⑤ ㄷ, ㄹ
7. 다음은 독립 운동 유적지 답사 계획표이다. (가) ~ (다)에 들어갈 내용으로 적절하지 않은 것은? [3점]

모듬명	주요 여행지	사건 조사 사항
대화	청산리 대첩 전적지	(가)
난초	한국 독립군 전적지	(나)
국화	신흥 무관 학교 유적지	(다)
대나무	한국 광복군 본부 유적지	(라)
소나무	윤봉길 의사 의거지	(마)

- ① (가) - 훈춘 사건, 김좌진의 활동
- ② (나) - 쌍성보 전투, 중국 호로군의 활동
- ③ (다) - 신민회의 활동, 경학사의 특징
- ④ (라) - 연안파의 계보, 조선 독립 동맹의 활동
- ⑤ (마) - 한인 애국단의 활동, 상하이 사변

8. 1920년대 (가) ~ (마) 지역에 거주했던 외국인들이 볼 수 있었던 장면이 아닌 것은? [3점]



- ① (가) - 민립 대학 기성회 창립 총회에서 연설하는 지사
- ② (나) - 총파업에 참가하는 조선인 노동자
- ③ (다) - 황제의 장례식 날 단세 시위를 주도하는 학생
- ④ (라) - 지주의 횡포에 맞서 쟁의를 벌이는 소작농
- ⑤ (마) - 조선 형평사를 결성하기 위해 모인 백정들

9. 자료를 토대로 당시의 상황을 파악한 것으로 옳지 않은 것은?

0000년 0월 0일 0요일

한성주보

독일 상사 세창양행 고백(告白)

알릴 것은 저희 세창양행이 조선에서 개업하여 호랑이·수달피·원담비·소·말·여우·개 등 각종 가죽과 사람의 머리카락, 소·말·돼지의 갈기털, 꼬리, 뿔, 발톱, 조개와 소라, 담배, 종이, 오배자, 옛 동전 등 여러 가지 물건을 사들이고 있습니다.

독일 상사 세창양행이 조선에서 개업하여 외국에서 자명종 시계, 들여다 보는 풍경, 뮤직 박스, 호박, 유리, 각종 램프, 서양 단추, 각종 서양 직물, 서양 천을 비롯해 엄격한 옷과 선명한 염료, 서양 바늘, 서양 실, 성냥 등 여러 가지 물건을 수입하여 물품의 구색을 맞추어 공정한 가격으로 팔고 있으니 모든 손님과 상인은 찾아와 주시기 바랍니다. 바라건대 저희 세창양행의 상표를 확인하시면 거의 잘못이 없을 것입니다.

- ① 신문에 상업 광고가 등장하기 시작하였다.
- ② 석유가 수입되어 램프의 사용이 증가하였다.
- ③ 외국에서 수입된 상품에 관세가 부과되지 않았다.
- ④ 서양 직물의 도입으로 가내 수공업이 침체되었다.
- ⑤ 원자재 수출과 완제품 수입으로 무역 수지가 악화되었다.

한국근·현대사

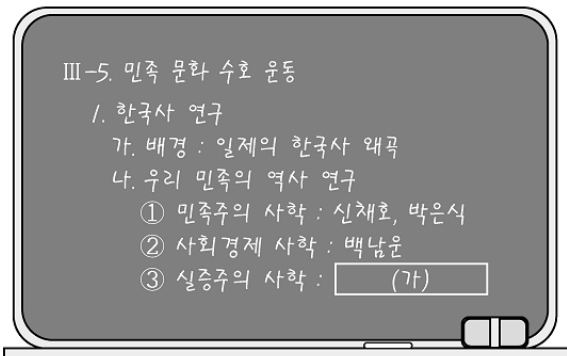
사회탐구영역

10. 다음은 역사 드라마의 기획안이다. 드라마에서 구현될 주인공의 모습이 시대 상황과 맞지 않는 것은? [3점]

- 시기: 대한 제국 선포 ~ 통감부 설치
- 주인공: 양반 집안에서 신식 교육을 받은 신여성
- 기획 의도: 급격한 사회 변화 속에서 가치관의 충돌을 느끼면서도 당차게 살아가는 신여성의 모습을 그린

- ① 만민 공동회장 - 러시아의 침략을 규탄함.
- ② 명동 성당 앞 - 친구와 고덕 양식에 대해 논의함.
- ③ 대성 학교 운동장 - 사립 학교령 반대 집회에 참석함.
- ④ 경인 열차 객실 안 - 창밖으로 인친 시가지를 구경함.
- ⑤ 서대문 전차 정거장 - 홍릉으로 가기 위해 전차를 기다림.

11. 다음은 교사가 수업 시간에 판서한 내용의 일부이다. (가)에 해당하는 인물의 활동으로 적절한 것은?



- ① 진단 학보 발간 ② 청구 학회 조직
③ 낭가 사상 연구 ④ 조선 광문회 결성
⑤ 조선사회경제사 저술

12 (가), (나)와 관련된 설명으로 옳은 것을 <보기>에서 모두 고른 것은?

(가) 첫째, 통일은 외세에 의존하거나 외세의 간섭을 받음이 없이 자주적으로 해결하여야 한다. 둘째, 통일은 서로 상대방을 반대하는 무력 행사에 의거하지 않고 평화적 방법으로 실현해야 한다. 셋째, 사상과 이념, 제도의 차이를 초월하여 우선 하나의 민족으로서 민족적 대단결을 도모하여야 한다.

(나) 남과 북은 나라의 통일을 위한 남측의 연합제 안과 북측의 낮은 단계의 연방제 안이 서로 공통성이 있다고 인정하고, 앞으로 이 방향에서 통일을 지향해 나가기로 하였다.

- ㄱ. (가)의 결과 두만강 경제 특구가 형성되었다.
- ㄴ. (가) 이후 남한과 북한에서는 새로운 헌법이 제정되어 독재 체제가 강화되었다.
- ㄷ. (나)의 결과로 경의선 철도가 복원되었다.
- ㄹ. (나)의 영향을 받아 북한에서 합영법이 제정되었다.

- ① \neg, \perp ② \neg, \sqsubset ③ \perp, \sqsubset ④ \perp, \supset ⑤ \sqsubset, \supset

13. 다음 글의 밑줄 친 ‘범령들’에 의해 이루어진 개혁을 <보기>에서 모두 고른 것은?

새로 발표된 **법령들**에는 배타적인 과거의 남은 관습을 고수하고 있는 것은 옳지 않다는 내용이 들어 있었다. 그리하여 성문을 닫고 통행금지 시간을 알리는 종각의 타종을 없애버리고, 우체사를 설치하여 편지 왕래가 가능하게 하였으며 태양력도 채택하였다. 그런데 이 새로운 **법령들**에 일본인이 관련되어 있다고 믿었기 때문에 국민들의 반대 감정은 매우 격양되었다.

- 해밀턴, 「개화기의 한·미 관계」 -

< 보 기 >

ㄱ. 신분제 폐지	ㄴ. 단발령 시행
ㄷ. 건양 연호 사용	ㄹ. 조세의 금납화

- ① \neg, \perp ② \neg, \sqsubset ③ \sqsubset, \sqsubset ④ \sqsubset, \sqsupset ⑤ \sqsubset, \sqsupset

14 다음은 어떤 인물이 발표한 신년사의 일부이다. 이를 통해 이 인물의 활동을 옳게 추론한 것은? [3점]

과거 1년간 우리 민족 내부의 정치 운동은 민족적 자주성을 망각한 채 편파적인 노선을 걸어왔습니다. 즉, 일부 노선은 친소·반미의 행동이라고, 또 일부 노선은 친미·반소의 행동이라며 서로 비판하면서 편을 가르고 민족상간의 투쟁을 계속하여 왔습니다. 이 두 노선은 우리 민족의 자주적 입장을 망각한 것으로 민족의 통일 단결을 파괴하는 것입니다. 또한 좌우 양익의 협조에 의한 민주주의 일시 정부의 수립을 저지하는 것이며, 미·소 양국의 조선 문제에 관한 진정한 협조를 방해하는 것입니다. 이러한 편파적인 노선이 있다면 우리는 이를 철저히 청산하는 데서 비로소 민족의 자주 독립을 목표로 한 민주 단결 노선을 확립할 수가 있다고 생각합니다.

- ① 모스크바에서 열린 3국 외상 회의의 결정에 반대하였다.
- ② 남한단의 단독 정부 수립 필요성을 처음으로 제기하였다.
- ③ 통일 정부 수립을 위하여 좌우 합작 위원회를 조직하였다.
- ④ 조선 공산당을 재건하여 이를 남조선 노동당으로 개칭하였다.
- ⑤ 지주와 기업가를 지지 기반으로 하는 한국 민주당을 만들었다.

15. 표는 어느 해 국회의원 선거에서 나타난 정당별 당선자 분포이다. 당시의 상황으로 옳지 않은 것은? [3점]

정당	국회의원 의석수	득표율(%)
유신정우회	77	—
민주공화당	68	31.7
신민당	61	32.8
민주통일당	3	7.4
무소속	22	28.1

- ① 긴급 조치의 철회와 정권 퇴진 운동이 전개되었다.
- ② '정의 사회 구현'을 내세운 강압 정치가 시행되었다.
- ③ 대통령은 국회의원 1/3의 임명 제정권을 행사하였다.
- ④ 노동자의 생존권 보장을 위한 노동 운동이 격화되었다.
- ⑤ 야당의 득표율이 높아져 여당의 위기 의식이 고조되었다.

사회탐구영역

16 다음은 대한민국 임시 정부의 헌법 조항이다. 이 헌법 체계에서의 임시 정부 활동으로 옳은 것은? [3점]

제23조 임시 정부는 국무위원회 주석 및 국무위원으로 조직하며, 국무위원의 수는 6인 이상 10인 이내로 한다.
제27조 국무위원회 주석의 권한은 다음과 같다.
1. 국무위원회를 소집한다.
2. 국무위원회 회의의 시에 주석이 된다.
3. 임시 정부를 대표한다.
4. 한국 광복군을 총감한다.
5. 국무위원의 부서로 법률을 공포하고 명령을 발한다.

- ① 국민 대표 회의를 개최하였다.
- ② 파리 강화 회의에 대표를 파견하였다.
- ③ 국제 연맹에 위임 통치를 건의하였다.
- ④ 김원봉의 조선 민족 혁명당을 받아들였다.
- ⑤ 정부 직할군으로 육군 주단 참의부를 편성하였다.

17 다음 각서가 효력을 발휘하고 있던 시기의 경제 상황으로 옳지 않은 것은? [3점]

◦ 통화는 긴급적으로 운용하고 일시적으로 금리 상승을 허용하며 탄력적인 환율 제도를 계속 유지해야 한다.
◦ 강력한 긴축 재정을 유지해야 하며 세수 확대를 위해 교통세와 특별 소비세의 인상, 기업의 법인세와 내국세, 부가 가치세의 적용 범위가 확대되어야 한다.
◦ 부실 금융 기관의 폐쇄, 인수 및 합병 등 퇴출 제도와 바젤 협약 기준에 부합하는 금융 기관의 건전성에 대한 감독 기준을 마련해야 한다.

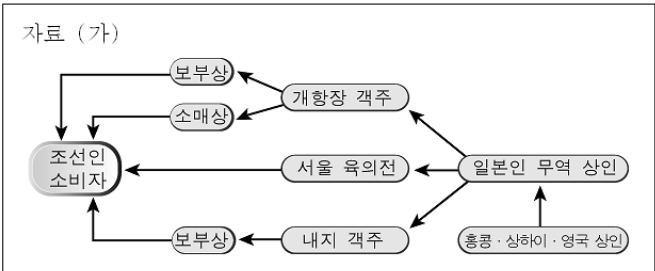
- ① 실업자가 급증하였다.
- ② 노사 간의 갈등이 증폭되었다.
- ③ '금 모으기 운동'이 추진되었다.
- ④ 부익부 빈익빈 현상이 심화되었다.
- ⑤ 외국인의 자본 투자가 급감하였다.

18 다음은 어느 인물의 연대기이다. (가)에 들어갈 내용으로 적절한 것은?

◦ 1870년, 충청도 진천에서 출생
◦ 1896년, 탁지부에서 관직 생활을 시작
◦ 1905년, 오적 처단과 조약 파기 상소를 올림
◦ 1906년, 서전 서숙을 세워 민족 교육을 실시
◦ 1907년, 황제의 특사로 헤이그에 파견
◦ (가)
◦ 1917년, 니콜리스크에서 사망

- ① 1908년, 서울 진공 작전에서 군사장으로 활약
- ② 1909년, 이토 히로부미를 하얼빈에서 사살
- ③ 1911년, 105인 사건으로 체포되어 유죄 판결을 받음
- ④ 1912년, 고종의 밀명을 받아 독립 의군부를 조직
- ⑤ 1914년, 대한 광복군 정부의 정통령으로 선임

19 다음 논술 문제의 답안에 포함될 내용으로 옳은 것은?



자료 (나)
청은 조선에 대한 종주권을 확인하였고 개항장을 비롯하여 서울과 양화진에서 상점 개설, 연안 무역, 내지 통상, 영사 재판권을 인정받았다.

논제 : 자료 (가)의 무역 형태는 자료 (나)를 계기로 변화하였다. 이로 인해 나타난 경제 현상을 서술하시오.

- ① 일본 상인의 조선 상권 독점이 심화되었다.
- ② 개항장을 거점으로 한 거류지 무역이 등장하였다.
- ③ 한성 은행, 천일 은행 등 민간 은행이 몰락하였다.
- ④ 조선인 선상(船商)과 개항장 객주의 활동이 활발해졌다.
- ⑤ 객주, 여객, 보부상 등이 상회사를 설립하기 시작하였다.

20 다음은 최근에 발간된 북한 관련 서적의 목차이다. 아래에 제시된 소재목이 들어갈 적합한 위치는? [3점]

차례 추천사 : 통일 시대를 대비하기 위한 북한 역사 이해	
1장 1945~1948 조선 민주주의 인민 공화국을 세우다 (가)	3장 1961~1970 주체의 시대 (다)
2장 1953~1960 폐허 위에 세운 사회주의 (나)	4장 1971~1990 모습을 드러낸 우리식 사회주의 (라)
	5장 1991~ 위기의 북한, 새로운 선택은 (마)

소재목	◦ 땅도 공장도 집단 소유로 ◦ 수령의 권력에 도전하다 ◦ 천리마를 탄 기세로
-----	---

- ① (가) ② (나) ③ (다) ④ (라) ⑤ (마)

※ 확인 사항
문제지와 답안지의 해당란을 정확히 기입(표기)했는지 확인하시오.