

제 4 교시

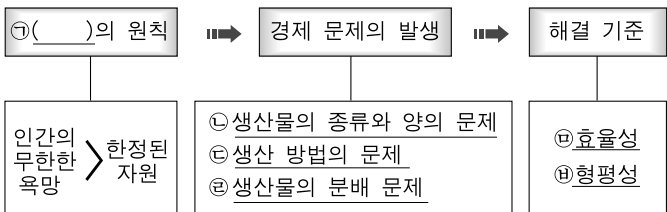
사회탐구 영역(경제)

성명

수험 번호

- 자신이 선택한 과목의 문제지인지 확인하시오.
- 문제지의 해당란에 성명과 수험 번호를 정확히 쓰시오.
- 답안지의 해당란에 성명과 수험 번호를 쓰고, 또 수험 번호와 답을 정확히 표시하시오.
- 선택한 과목 순서대로 문제를 풀고, 답은 답안지의 '제1선택'란부터 차례대로 표시하시오.
- 문항에 따라 배점이 다르니, 각 물음의 끝에 표시된 배점을 참고하시오. 3점 문항에만 점수가 표시되어 있습니다. 점수 표시가 없는 문항은 모두 2점입니다.

1. 그림의 ㉠~㉨과 관련된 설명으로 옳지 않은 것은? [3점]



- ① 다이아몬드가 물보다 비싼 것은 ㉠때문이다.
- ② 정부가 임대 주택을 건설할 것인가, 도로를 건설할 것인가의 문제는 ㉡의 사례이다.
- ③ 기업이 사원 수를 늘릴 것인지, 공장 자동화 설비를 늘릴 것 인지의 문제는 ㉢의 사례이다.
- ④ 주말 여가 시간에 낚시를 포기하고 등산을 가는 것은 ㉣의 사 례이다.
- ⑤ ㉣의 해결에 있어서 ㉣과 ㉤을 함께 고려해야 한다.

2. 다음 글을 읽고, 애그플레이션을 유발할 수 있는 공급 측 요인 과 수요 측 요인을 <보기>에서 골라 바르게 묶은 것은? [3점]

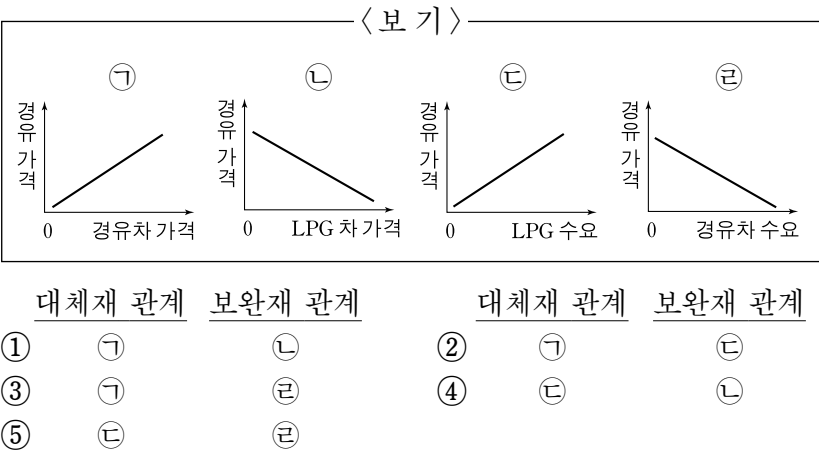
올 들어 곡물 값이 급등하면서 애그플레이션(agflation)이 세계 경제의 중요한 문제로 대두되고 있다. 애그플레이션은 농업(agriculture)과 인플레이션(inflation)의 합성어로서 농 산물 가격 급등에 따른 물가 상승을 의미한다.

- < 보 기 >
- ㄱ. 주요 곡물 생산국의 기상 이변
 - ㄴ. 식량 수출국의 자원 민족주의 확산
 - ㄷ. 유전자 변형 곡물(GMO)의 대량 생산
 - ㄹ. 중국, 인도 등 신흥 개발 도상국의 소득 증가
 - ㅁ. 곡물을 원료로 하는 바이오 에너지 생산의 증가

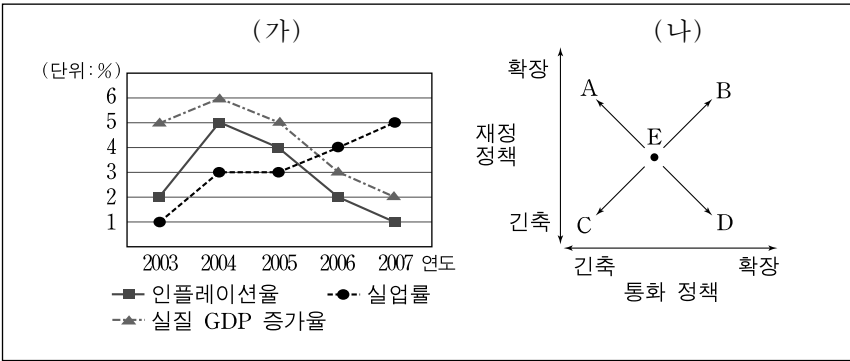
(공급 측 요인)	(수요 측 요인)
① ㄱ, ㄴ	ㄹ, ㅁ
② ㄷ, ㄹ	ㄱ, ㄴ
③ ㄱ, ㄴ, ㄷ	ㄹ, ㅁ
④ ㄱ, ㄴ, ㅁ	ㄷ, ㄹ
⑤ ㄷ, ㄹ, ㅁ	ㄱ, ㄴ

3. 다음 글에서 추론할 수 있는 대체재와 보완재의 관계를 옳게 나타낸 그래프를 <보기>에서 골라 바르게 묶은 것은?

최근 경유 가격이 많이 상승하여, 자동차 시장에서 경유차 수요 급감으로 경유차 가격이 하락하고 있다. 반면 LPG 가 격은 상대적으로 적게 상승하여, LPG 차를 구입하려는 사람 이 늘어남에 따라 LPG 차 가격이 상승하고 있다.



[4~5] 다음은 갑국의 자료이다. (가)는 여러 가지 경제 지표들의 추이를 나타낸 것이고, (나)는 재정 정책과 통화 정책의 방향을 A~D로 나타낸 것이다. 물음에 답하시오.



4. (가)에 대한 옳은 분석을 <보기>에서 고른 것은?

- < 보 기 >
- ㄱ. 2003년 이후에 실질 GDP는 지속적으로 증가하고 있다.
 - ㄴ. 인플레이션율과 실업률의 합계인 국민 교통 지수는 2004 년에 가장 크다.
 - ㄷ. 2004년과 2005년의 실업자 수는 같다.
 - ㄹ. 인플레이션율과 실업률은 반비례 관계이다.

- ① ㄱ, ㄴ
- ② ㄱ, ㄷ
- ③ ㄴ, ㄷ
- ④ ㄴ, ㄹ
- ⑤ ㄷ, ㄹ

5. (나)에서 2007년 현재 정책 조합이 E점에 위치하고 있다면, 향후 취해야 할 정책 방향 및 수단으로 가장 적절한 것은? [3점]

- ① A : 소득세 인하, 재할인율 인하
- ② B : 법인세 인하, 지급 준비율 인상
- ③ B : 사회 간접 자본 시설 확충, 국채 매입
- ④ C : 법인세 인상, 보유 외환 매각
- ⑤ C : 소득세 인하, 금융권의 대출 한도 축소

6. 표는 개인의 소득 수준에 따른 평균적인 소비 수준을 나타낸 것이다. B의 소득에서 E의 소비를 하고 있던 갑의 소득 및 소비 수준 변화와 그에 해당하는 사례로 옳은 설명을 <보기>에서 고른 것은?

	낮음 ←		→ 높음
소득 수준	A	B	C
평균 소비 수준	D	E	F

— < 보 기 > —

(소득, 소비)

- ㄱ. (A, E) : 은퇴 후 소득은 감소했으나 예전의 소비 규모를 줄이지 못했다.
- ㄴ. (B, D) : 자녀의 대학 등록금을 위해 저축액을 늘렸다.
- ㄷ. (B, F) : 승진하여 연봉이 높아지자 고가 사치품의 소비를 늘렸다.
- ㄹ. (C, E) : 부유한 동네로 이사했으나 소비는 예전 수준을 유지했다.

- ① ㄱ, ㄴ ② ㄱ, ㄷ ③ ㄴ, ㄷ ④ ㄴ, ㄹ ⑤ ㄷ, ㄹ

7. 표의 ㉠~㉣에 대한 적절한 설명을 <보기>에서 고른 것은?

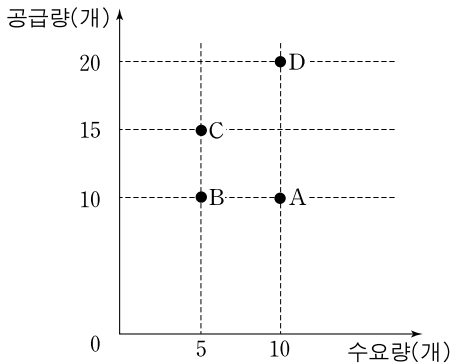
경제 주체 구분	(㉠)	(㉡)	정부
목적	효용 극대화	이윤 극대화	국민의 삶의 질 향상
수입	(㉢)	판매 수입	㉣ 조세
예산	수입에 따른 지출 결정		지출에 따른 수입 결정

— < 보 기 > —

- ㄱ. 정부가 소득세의 세율을 인상하면 ㉠의 소비가 감소한다.
- ㄴ. ㉢에서 비정상 소득의 증가는 국민의 부담을 증가시킨다.
- ㄷ. 생산 요소 시장에서는 ㉠이 공급자이고 ㉡은 수요자이다.
- ㄹ. ㉢에서 ㉣을 뺀 것이 실질 소득이다.

- ① ㄱ, ㄴ ② ㄱ, ㄷ ③ ㄴ, ㄷ ④ ㄴ, ㄹ ⑤ ㄷ, ㄹ

8. 그래프의 A~D는 어떤 재화의 수요량과 공급량을 나타낸 것이다. 가격이 10일 때 수요량과 공급량이 A라고 한다. 가격이 20으로 상승할 때 수요량과 공급량이 B~D로 이동한다면, 이에 대한 설명으로 옳지 않은 것은? [3점]



- ① B : 수요는 가격에 대하여 비탄력적이다.
- ② C : 상품 판매 수입은 증가한다.
- ③ C : 공급의 가격 탄력성과 수요의 가격 탄력성은 동일하다.
- ④ D : 초과 공급이 발생한다.
- ⑤ D : 공급의 가격 탄력성은 1이다.

9. 그림의 (가)~(다)에서 나타날 수 있는 실업의 유형에 대한 옳은 설명을 <보기>에서 고른 것은? [3점]



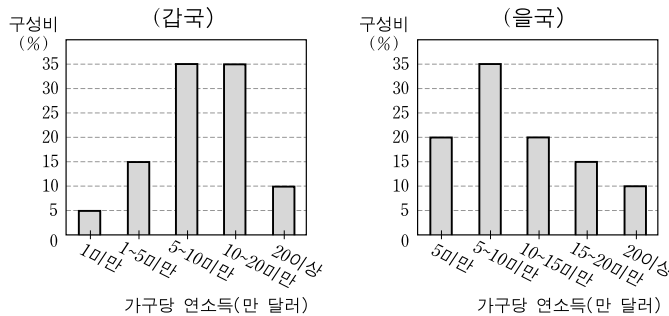
— < 보 기 > —

- ㄱ. (가)는 자발적 실업으로 실업자 통계에 포함되지 않는다.
- ㄴ. (나) 발생의 가장 큰 원인은 노동시장에서 정보 제공이 원활하게 이루어지지 못한 것이다.
- ㄷ. (다)의 해결책으로 총수요 확대 정책을 들 수 있다.
- ㄹ. 직업을 옮기는 과정에서 일시적으로 나타나는 실업은 (가)보다 (다)에 가깝다.

- ① ㄱ, ㄴ ② ㄱ, ㄷ ③ ㄴ, ㄷ ④ ㄴ, ㄹ ⑤ ㄷ, ㄹ

10. 다음 '탐구 과제 수행 보고서'에 대한 적절한 평가만을 <보기>에서 있는 대로 고른 것은?

과제 : OECD 국가의 평균적인 소득 불평등 정도 조사
A. 조사 방법 : OECD 국가 관련 통계 자료 조사
B. 조사 자료 : 갑국과 을국의 가구당 연소득 분포 현황



C. 자료 분석 결과 : 두 국가 모두 연소득 10만 달러 이상의 가구가 45%이지만, 갑국이 을국보다 저소득 가구가 적으므로 소득 분배가 더 평등하다.
D. 결론 : OECD 국가 간의 소득 불평등 정도 차이가 크다.

— < 보 기 > —

- ㄱ. 더 많은 국가의 자료를 수집할 필요가 있다.
- ㄴ. A로서 통계 자료 조사는 적절하다.
- ㄷ. 동일한 소득 척도에 따라 B를 분석해야 한다.
- ㄹ. C와 이를 바탕으로 도출한 D는 적절하다.

- ① ㄱ, ㄴ ② ㄴ, ㄹ ③ ㄷ, ㄹ
④ ㄱ, ㄴ, ㄷ ⑤ ㄱ, ㄷ, ㄹ

(경제)

사회탐구 영역

3

11. 다음 글의 ㉠, ㉡에 대한 옳은 설명을 <보기>에서 고른 것은?

갑국 정부는 쓰레기 처리 비용을 ㉠재산세에 비례하여 부과하던 방법에서 ㉡쓰레기 배출량에 비례하여 부과하는 방법으로 변경하였다. 이러한 쓰레기 종량제를 실시한 결과, 쓰레기 발생량은 전년에 비해 약 17% 감소하였다.

— < 보 기 > —

- ㄱ. ㉠에서는 쓰레기 배출량이 많은 사람일수록 재산세를 많이 납부하였다.
- ㄴ. ㉡에서는 쓰레기 배출량이 같다면 누구나 동일한 처리 비용을 부담한다.
- ㄷ. ㉠보다 ㉡이 문제 해결을 위하여 시장의 가격 기능을 활용한 사례이다.
- ㄹ. ㉠에서 ㉡으로의 변화는 외부 불경제가 외부 경제로 바뀌었음을 의미한다.

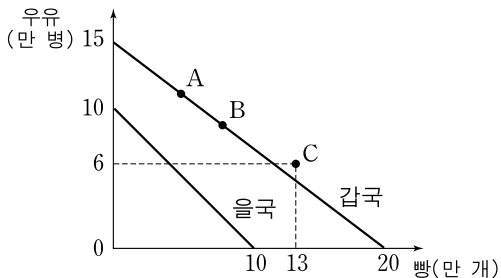
- ① ㄱ, ㄴ ② ㄱ, ㄷ ③ ㄴ, ㄷ ④ ㄴ, ㄹ ⑤ ㄷ, ㄹ

12. 다음 글의 ㉠~㉣에 대한 설명으로 적절하지 않은 것은?

인간이 생존을 위해 경제적 문제를 해결하는 세 가지 방식은 다음과 같다. ㉠은(는) 사회의 유지에 필요한 과업을 관습과 관례에 따라 해결하는 것이다. 애덤 스미스는 이 방식의 예를 들면서 “고대 이집트에서는 모든 사람은 아버지가 하던 직업을 계승해야 했다.”라고 설명했다. ㉡은(는) 권위적 통치라는 체제를 사용해서 경제적 문제를 해결하는 것이다. 옛 소련의 경제 개발 계획이 이에 해당된다. ㉢은(는) 믿을 수 없을 정도로 간단하다. 개개인이 자유롭게 이익을 추구하는 가운데 사회는 경제적 문제를 해결한다.

- ① ㉠의 다른 예로 품앗이를 들 수 있다.
- ② ㉡의 다른 예로 인도의 카스트 제도를 들 수 있다.
- ③ ㉢에서 기업 생산의 동기는 이윤 추구이다.
- ④ ㉠은 ㉢보다 기술 발전 가능성이 낮다.
- ⑤ ㉢은 ㉡보다 효율성을 더 중시한다.

13. 그래프는 갑국과 을국의 생산 가능 곡선을 나타낸 것이다. 이에 대한 설명으로 옳지 않은 것은? (단, 생산 요소는 노동 하나뿐이고 양국에서 투입 가능한 노동의 양은 동일하다고 가정한다.) [3점]



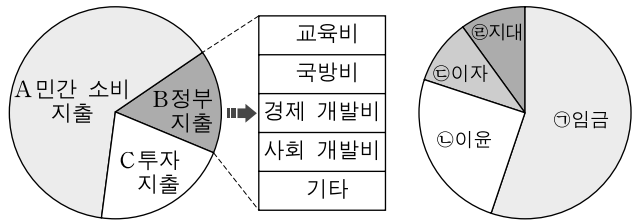
- ① 갑국은 을국에 비해 두 재화 모두 생산비가 저렴하다.
- ② 갑국이 을국보다 우유 한 병에 대한 기회 비용은 크다.
- ③ 교역 후 갑국이 C점을 소비하기 위해서는 교역 조건이 빵 1개에 우유 6/7병이어야 한다.
- ④ 갑국은 양국 간의 교역 조건이 빵 5개에 우유 4병일 경우에는 무역에 응하지 않을 것이다.
- ⑤ 갑국이 생산 조합을 A점에서 B점으로 이동하는 경우, 빵 1개 추가 생산에 따른 기회 비용은 일정하다.

14. 다음은 ‘일상 생활 속에서 합리적 선택 실천하기’에 대한 학생들의 수행 평가 보고서이다. A~E에 들어갈 내용 또는 그에 대한 설명으로 적절하지 않은 것은?

수행 평가 보고서			
	김○○	지□□	정△△
주제	A	방학 중 학습 방법 선택	새로운 핸드폰 구매
문제 인식	1박 2일, 30만 원 미만으로 네 식구 추억 만들기	34일 간 언어, 사회 탐구 네 과목 내용 정리	B
자료 및 정보 수집	인터넷 여행 동호회 카페 검색, 여행 잡지	C	매장 방문, 인터넷 구매 후기 검색
D	E	EBS 인터넷 강의, 방학 중 방과 후 학교	ㄱ사 제품, ㄴ사 제품, ㄷ사 제품
대안 평가
대안 선택

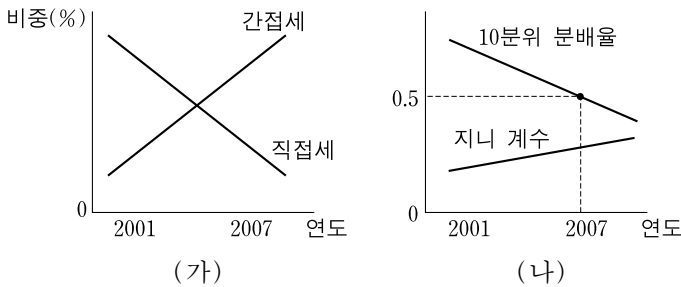
- ① A : ‘가족 주말 여행지 결정’이 적절한 예이다.
- ② B : ㄱ사 J모델보다 우수한 ㄴ사 K모델 구입
- ③ C : 방과 후 학교 시간표, EBS 편성표 등 확인
- ④ D : 다양한 대안들에 대한 탐색이 이루어지는 단계이다.
- ⑤ E : 기간이 2일을 초과하거나 30만 원 이상의 비용이 소요되는 곳은 제외한다.

15. 다음 자료는 폐쇄 경제의 GDP 구성을 나타낸 것이다. 이에 대한 설명으로 옳지 않은 것은?



- ① 두 그림은 국민 소득을 지출과 분배 측면에서 나타낸 것이다.
- ② A는 ㉠~㉣에서 얻은 소득을 바탕으로 한다.
- ③ B의 사회 개발비에는 복지에 대한 지출이 포함된다.
- ④ C에 대한 보상은 ㉢이다.
- ⑤ 상장된 주식을 사는 것은 C의 사례가 아니다.

16. (가), (나)는 갑국의 조세 수입 비중 변화와 소득 분배 지표 변화를 나타낸 것이다. 이에 대한 옳은 설명을 <보기>에서 고른 것은? [3점]



— < 보 기 > —

- ㄱ. 조세 부담의 역진성은 2001년보다 2007년에 완화되었다.
- ㄴ. 소득 불평등 상태는 2001년에 비해 2007년에 완화되었다.
- ㄷ. 2007년에는 상위 20% 계층의 소득이 하위 40% 계층 소득의 2배이다.
- ㄹ. (가)의 변화가 (나)의 변화를 초래하는 하나의 원인으로 작용했을 것이다.

- ① ㄱ, ㄴ ② ㄱ, ㄷ ③ ㄴ, ㄷ ④ ㄴ, ㄹ ⑤ ㄷ, ㄹ

17. 다음 논쟁에 대한 옳은 추론을 <보기>에서 고른 것은? [3점]

갑 : 주택 가격이 상승하는 이유는 주택 수요가 늘어나도 당장은 주택 공급량이 고정되어 있기 때문이다. 신규 주택을 건설하는 데 시간이 걸리지만 주택 가격의 안정을 위해서는 지속적으로 공급을 늘리는 방법밖에 없다.

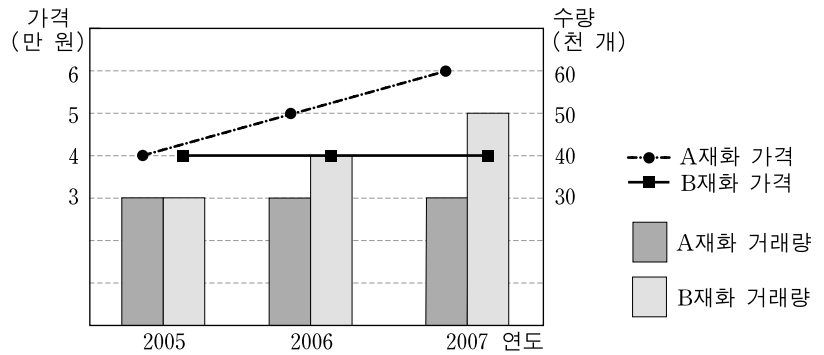
을 : 주택 가격을 결정하는 주택 공급량은 그 나라에 존재하는 주택의 총량이 아니라 시장에 팔려고 내놓은 주택의 총량으로 이해해야 한다. 주택의 공급량을 이렇게 정의한다면, 주택 가격의 상승이 예상될 때에는 예외적으로 주택의 공급량이 줄어들 수 있다. 또한 수요 측면에서도 주택 가격 상승 예상 시, 예외적으로 주택의 수요량이 늘어날 수 있다.

— < 보 기 > —

- ㄱ. 갑의 관점에서 주택 공급의 가격 탄력성은 기간이 길어질수록 작아진다.
- ㄴ. 을의 관점에서 주택 수요 곡선은 부분적으로 우상향할 수 있다.
- ㄷ. 갑과 을의 관점에서 주택 공급 곡선은 부분적으로 우하향할 수 있다.
- ㄹ. 갑의 관점에서는 신도시 건설이, 을의 관점에서는 주택 보유세 인상이 가격 안정을 위한 방법이 될 수 있다.

- ① ㄱ, ㄴ ② ㄱ, ㄷ ③ ㄴ, ㄷ ④ ㄴ, ㄹ ⑤ ㄷ, ㄹ

18. 그래프는 연도별로 A재화와 B재화의 시장 균형 가격과 균형 거래량의 변화를 나타낸 것이다. 이에 대한 옳은 분석과 추론을 <보기>에서 고른 것은? [3점]

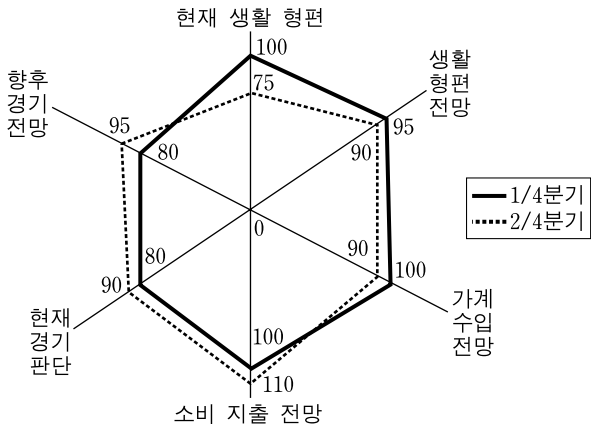


— < 보 기 > —

- ㄱ. A재화와 B재화의 총판매 금액의 증가 폭은 일정하다.
- ㄴ. 2006년에 비해 2007년의 총판매 금액은 A재화보다 B재화가 더 적게 증가했다.
- ㄷ. 밀에 대한 수요가 증가하고 밀 재배의 생산비가 감소하면 B재화의 균형 변화와 같은 현상이 나타날 수 있다.
- ㄹ. 보석에 대한 수요가 완전 탄력적일 때 보석 공급이 감소하면 A재화의 균형 변화와 같은 현상이 나타날 수 있다.

- ① ㄱ, ㄴ ② ㄱ, ㄷ ③ ㄴ, ㄷ ④ ㄴ, ㄹ ⑤ ㄷ, ㄹ

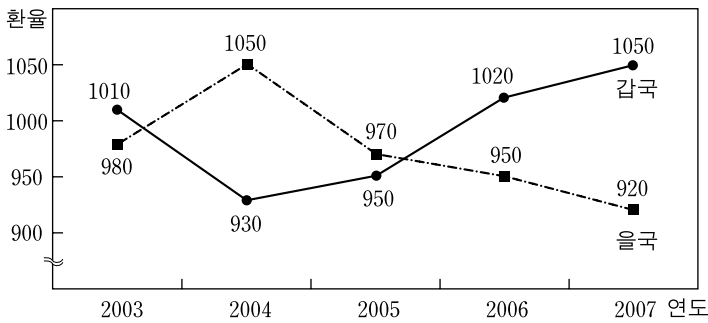
19. 그림은 소비자들의 경제 상황에 대한 심리를 측정한 지수들의 변화를 나타낸 것이다. 이에 대한 분석으로 옳은 것은?



* 각 지수는 그 값이 기준치 100일 때 좋음과 나쁨의 응답 비중이 동일하다는 의미로서, 100보다 큰 경우 긍정적인 전망이 부정적 전망보다 많음을 나타냄.

- ① 1/4분기는 가계 수입 전망과 소비 지출 전망이 모두 100이므로 저축은 0이다.
- ② 1/4분기는 현재 생활 형편에, 2/4분기는 현재 경기 판단에 긍정적인 전망이 더 많다.
- ③ 소비자들은 1/4분기와 2/4분기에 향후 경기 전망을 비관적으로 보고 있다.
- ④ 생활 형편 전망은 1/4분기와 2/4분기에 모두 기준치보다 높게 나타난다.
- ⑤ 소비자들은 가계 수입이 1/4분기는 감소, 2/4분기는 증가할 것으로 전망하고 있다.

20. 그래프는 갑국, 을국 두 나라 통화의 미국 달러화에 대한 환율 변동을 각 국 통화 단위로 나타낸 것이다. 이에 대한 옳은 추론만을 <보기>에서 있는 대로 고른 것은? (단, 대외 거래는 미국 달러화로만 결제된다고 가정한다.) [3점]



— < 보 기 > —

- ㄱ. 최근 3년 간 갑국의 대(對) 을국 수출은 증가했을 것이다.
- ㄴ. 2003년 갑국에 유학 온 미국 학생들은 그 다음 해 학비 부담이 더 감소했을 것이다.
- ㄷ. 2004년에는 전년보다 미국 시장에서 갑국 상품의 경쟁력이 을국에 비해 약화되었을 것이다.
- ㄹ. 2004년 이후의 추세가 지속될 경우 을국은 갑국으로부터 빌린 달러 표시 외채를 되도록 빨리 결제하려 할 것이다.

- ① ㄱ, ㄷ ② ㄱ, ㄹ ③ ㄷ, ㄹ
④ ㄱ, ㄴ, ㄷ ⑤ ㄴ, ㄷ, ㄹ

* 확인 사항
○ 답안지의 해당란에 필요한 내용을 정확히 기입(표기)했는지 확인 하시오.