

제 4 교시

사회탐구 영역(경제)

성명

수험번호

3

1

1. 표는 금융 상품 A~D를 비교한 것이다. 이에 대하여 옳은 진술을 한 학생을 <보기>에서 고른 것은?

기준	가중치	금융 상품			
		A	B	C	D
안전성	()	4	2	3	1
수익성	()	1	3	2	4
유동성	()	4	2	1	3
합계					

* 수치는 각 금융 상품의 점수를 나타낸다. 4점 만점으로 수치가 높을수록 높은 평가를 받은 금융 상품이다.

* 괄호의 가중치 값에는 '1'과 '2' 중 하나만 적용한다.

* 각 점수에 가중치를 곱한 후 모두 합한 값이 가장 큰 상품을 선택한다.

< 보 기 >
갑: D는 '고위험 고수익' 상품이군요.

을: 요구불 예금은 A보다 C에 가까운 상품이겠네요.

병: 안전성에만 낮은 가중치를 부여한다면 D를 선택하겠군요.

정: 세 가지 기준에 동일한 가중치를 부여한다면 B를 선택하겠군요.

- ① 갑, 을 ② 갑, 병 ③ 을, 병
④ 을, 정 ⑤ 병, 정

2. 다음 수업 장면에서 (가)~(다)에 해당하는 경제 체제로 옳은 것은? (단, (가)~(다)는 전통 경제 체제, 시장 경제 체제, 계획 경제 체제 중 하나이다.)

교사: 지금까지 배웠던 경제 체제 (가)~(다)에 대해 설명해 볼까요?

갑: (다)보다 (가)에서 개인의 자유로운 이익 추구를 중시합니다.

을: 관습에 따라 경제 문제를 해결하려는 방식은 (가), (다)와 달리 (나)와 관련됩니다.

병: (나)는 (가)와 달리 사유 재산은 보장되지만 이윤 추구가 허용되지 않습니다.

교사: 갑의 발표 내용은 옳고, 을의 발표 내용은 옳지 않습니다. 병은 이윤 추구에 대해서만 옳게 발표했습니다.

(가)

(나)

(다)

- ① 전통 경제 체제 시장 경제 체제 계획 경제 체제
② 시장 경제 체제 계획 경제 체제 전통 경제 체제
③ 시장 경제 체제 전통 경제 체제 계획 경제 체제
④ 계획 경제 체제 시장 경제 체제 전통 경제 체제
⑤ 계획 경제 체제 전통 경제 체제 시장 경제 체제

3. 표와 같은 성격을 갖는 재화에 대한 옳은 설명을 <보기>에서 고른 것은?

질문	응답
비용을 지불하지 않고도 소비할 수 있는가?	예
한 사람의 소비가 다른 사람의 소비를 제약하는가?	아니요

< 보 기 >
ㄱ. 무임승차의 문제가 발생한다.

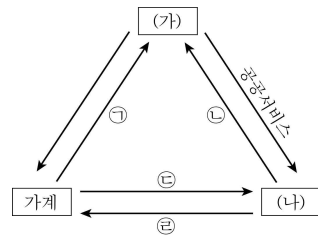
ㄴ. 시장에 맡기면 부족하게 생산된다.

ㄷ. 자원 남용에 따른 고갈 문제가 발생한다.

ㄹ. 생산량이 사회적 적정 수준보다 많아진다.

- ① ㄱ, ㄴ ② ㄱ, ㄷ ③ ㄴ, ㄷ ④ ㄴ, ㄹ ⑤ ㄷ, ㄹ

4. 그림은 경제 주체 간 실물의 흐름을 나타낸 것이다. 이에 대한 설명으로 옳은 것은?



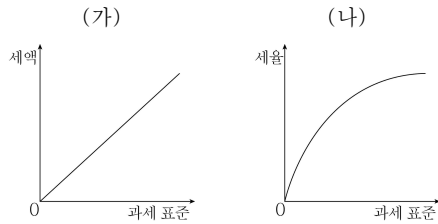
- ① ㉠은 시장에서 거래되지 않는다.
② ㉡은 공공서비스를 제공받은 대가이다.
③ ㉠과 ㉣의 양과 질에 따라 소득 격차가 발생할 수 있다.
④ (가)는 일반적으로 이윤의 극대화를 추구한다.
⑤ (나)는 ㉡의 종류를 결정할 때 형평성을 중시한다.

5. 다음 사례에 대한 분석으로 옳은 것은? [3점]

갑은 A 회사에서 연봉 3,000만 원을 받으며 근무하던 중 ㉠ 200만 원의 비용을 들여 △△자격을 취득하였다. 이후 B 회사에서 연봉 5,000만 원을 주겠다는 제의를 받았다. A 회사는 ㉡ 출퇴근이 자유롭고, 직원들을 위해 특별 휴가도 보장해주지만, B 회사는 ㉢ 거의 매일 야근을 해야 할 정도로 일이 많다. 갑은 A 회사에 남을 것인지, B 회사로 옮길 것인지 고민하고 있다.

- ① ㉠은 갑의 선택과 무관한 비용이다.
② ㉡은 ㉢과 달리 금전적 유인에 해당한다.
③ 갑의 합리적 선택은 B 회사로 옮기는 것이다.
④ B 회사를 선택할 경우 기회비용은 3,000만 원이다.
⑤ A 회사를 선택할 경우 ㉣의 가치는 2,000만 원 이상이어야 한다.

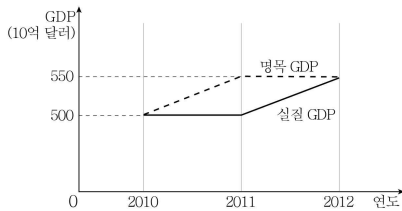
6. 조세제도 (가), (나)에 대한 옳은 설명을 <보기>에서 고른 것은?



- 가. (가)에서는 과세 표준이 클수록 세율이 높아진다.
 나. 우리나라의 부가가치세는 (가)의 형태를 띤다.
 다. (나)에서는 조세 부담의 역진성이 나타난다.
 라. (나)는 (가)보다 소득 재분배 효과가 강하다.

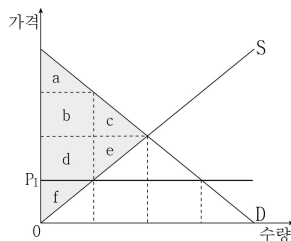
- ① 가, 나 ② 가, 다 ③ 나, 다 ④ 나, 라 ⑤ 다, 라

7. 그림은 어떤 나라의 연도별 실질 GDP와 명목 GDP를 나타낸 것이다. 이에 대한 분석으로 옳지 않은 것은? [3점]



- ① 2010년의 물가 지수는 100이다.
 ② 2011년의 경제 성장률은 0%이다.
 ③ 2011년의 물가 상승률은 10%이다.
 ④ 2012년의 경제 성장률은 10%이다.
 ⑤ 2012년의 물가 수준은 전년도와 동일하다.

8. 최고 가격을 P_1 으로 설정했을 때, 소비자 잉여와 생산자 잉여로 옳은 것은?



소비자 잉여 생산자 잉여

- ① a b+d+f
 ② a+b+c d+e+f
 ③ a+b+d f
 ④ a+b+d+f c+e
 ⑤ a+b+d+c+e f

9. 다음 제안들과 관련한 옳은 설명을 <보기>에서 고른 것은? [3점]

○○서점은 9월 한 달 동안에 매출을 늘리기 위한 시기로 삼아 모든 직원들을 대상으로 아이디어를 공모하였고, 채택된 아이디어를 바탕으로 판매 전략을 세우고자 한다. 제안된 아이디어는 다음과 같다.

- 제안 1. 9월 한 달 동안 모든 도서에 대해 매일 오전 10시부터 오후 4시까지 20% 할인된 가격으로 판매한다.
 제안 2. 9월 한 달 동안 도서를 구매한 모든 고객들 중 추첨을 통해 30명에게 최신행 태블릿 PC를 준다.
 제안 3. 9월 한 달 동안 도서 구입액이 가장 많은 고객에게 유럽 1주일 여행권을 준다.

- 가. 제안 1을 채택했을 때 수요가 가격에 탄력적이라면 판매 수입은 감소할 것이다.
 나. 제안 2를 채택했을 때 도서 판매량은 증가할 것이다.
 다. 제안 3을 채택했다면 ○○서점은 판매 수입 증가를 기대했을 것이다.
 라. 제안 1보다 제안 2를 채택했을 때 ○○서점의 도서 판매량은 더 많이 증가할 것이다.

- ① 가, 나 ② 가, 다 ③ 나, 다 ④ 나, 라 ⑤ 다, 라

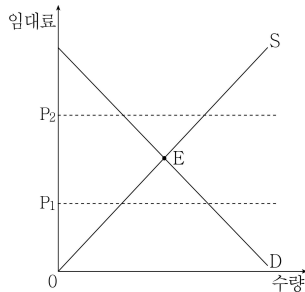
10. 화폐의 기능과 관련한 그림 (가)~(라)에 대한 옳은 진술을 <보기>에서 고른 것은? [3점]



- 가. (가)에서 거래가 성사되지 않은 이유는 강아지의 가치와 고양이의 가치보다 더 높기 때문이다.
 나. (나)에서 화폐는 고양이의 시장 가치를 재는 척도이다.
 다. (다)에서 쌀은 가치 저장의 수단으로 기능한다.
 라. (라)에서는 (나)와 달리 화폐가 지불 수단으로 기능한다.

- ① 가, 나 ② 가, 다 ③ 나, 다 ④ 나, 라 ⑤ 다, 라

11. A국 정부는 임대 주택의 임대료를 P_1 과 P_2 의 범위 내에서만 허용하려고 한다. 이 정책의 실시로 예상되는 결과에 대한 옳은 설명을 <보기>에서 고른 것은?



- ㄱ. 균형 가격이 P_2 보다 낮을 때 P_2 가 시장 가격이 된다.
 ㄴ. 균형 가격이 P_2 보다 높을 때 P_2 가 가격 상한선이 된다.
 ㄷ. 균형 가격이 P_1 보다 높을 때 P_1 이 가격 상한선이 된다.
 ㄹ. 균형 가격이 P_1 보다 낮을 때 임대 주택 시장에서 초과 공급이 발생한다.

① \neg, \perp ② \neg, \sqsubset ③ \perp, \sqsubset ④ \perp, \sqsupset ⑤ \sqsubset, \sqsupset

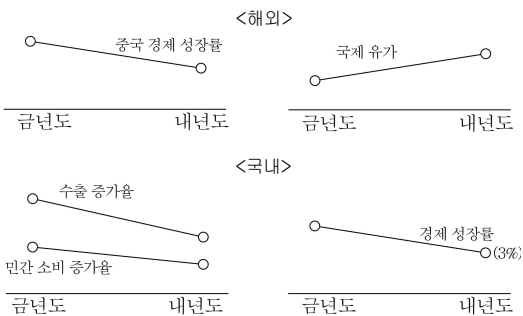
12. 다음 신문 기사에 대해 옳은 분석이나 추론을 한 사람을 <보기>에서 고른 것은? [3점]

○○ 신문

제 0000호 35판

예상 밖 '4대 악재'에 한국 경제 '불안불안'

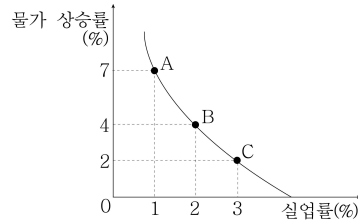
국내외 주요 기관들은 내년도 한국의 대내외 경제지표를 다음과 같이 전망하고 있다.



- 갑: 실질 GDP가 금년도보다 줄어든다고 보고 있군요.
 을: 국제 유가 상승을 성장 억제 요인으로 보고 있어요.
 병: 내수가 수출 부진을 메울 것으로 기대할 수 있겠군요.
 정: 중국의 성장 둔화는 우리의 대중국 수출에 부정적인 요
 인으로 작용하겠군요.

① 갑, 을 ② 갑, 정 ③ 을, 병
④ 을, 정 ⑤ 병, 정

13. 현재 갑국의 경기 상황이 B점에 있을 때 국민 교통 지수를 감소시키는 갑국 정부의 정책 방향과 그 수단으로 옳은 것은? [3점]



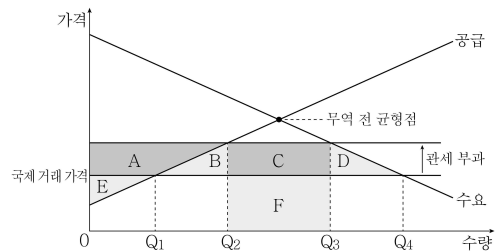
*국민 고통 지수 = 실업률(%) + 물가 상승률(%)

정책 방향

정책 수단

- | | | |
|---|-------------------|-----------------|
| ① | $B \rightarrow A$ | 서울 인상, 정부 지출 감소 |
| ② | $B \rightarrow A$ | 서울 인하, 정부 지출 증가 |
| ③ | $B \rightarrow C$ | 서울 인하, 정부 지출 감소 |
| ④ | $B \rightarrow C$ | 서울 인상, 정부 지출 증가 |
| ⑤ | $B \rightarrow C$ | 서울 인상, 정부 지출 감소 |

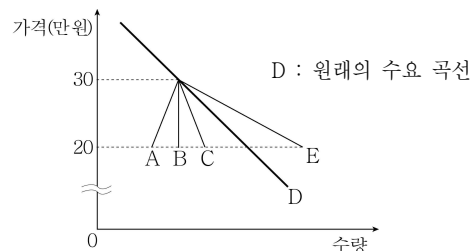
14. 그림은 관세 부과 효과 설명하기 위한 것이다. 관세 부과 이후의 변화에 대한 설명으로 옳은 것은? [3점]



- ① 국내 소비량은 Q_3Q_4 만큼 감소하게 된다.
- ② 생산자 잉여는 $(A+E)$ 만큼 증가하게 된다.
- ③ 국내 생산량과 소비량은 모두 감소하게 된다.
- ④ 소비자 잉여는 $(B+C+D)$ 만큼 감소하게 된다.
- ⑤ 정부의 조세 수입은 $(C+F)$ 만큼 증가하게 된다.

15. 다음 사례에서 밀줄 친 유행 효과가 나타났을 때 20~30만 원 구간에서의 수요 곡선 형태로 옳은 것은?

자전거의 가격이 30만 원에서 20만 원으로 떨어지는 과정에서 다른 사람들이 자전거를 사는 것에 영향을 받아 그 상품을 사게 되는 유행 효과가 나타났다.



- ① A ② B ③ C ④ D ⑤ E

[16~17] 표는 정부의 고용 통계를 구체적으로 분류한 것이다. 읽고 물음에 답하시오.

분류	인구수 (만 명)
경제 활동 인구	2,500
주 36시간 이상 장시간 근로자(A)	1,940
주 36시간 미만 근로자 중 추가 근로를 원하지 않는 자(B)	430
주 36시간 미만 근로자 중 추가 근로를 원하는 자(C)	40
실업자(D)	90
비경제 활동 인구	1,500
취업 의사와 근로 능력이 있는 자(E)	60
취업 의사 또는 근로 능력이 없는 자(F)	1,440

* 취업 애로 계층: C+D+E

16. 표의 각 항목에 대한 옳은 설명만을 <보기>에서 있는 대로 고른 것은?

- < 보 기 >
- ㄱ. A~E를 합한 인구를 노동 가능 인구라 한다.
 ㄴ. D~F는 모두 취업자가 아니다.
 ㄷ. 실업률은 $[D/(A+B+C+D)] \times 100(\%)$ 으로 계산한다.
 ㄹ. 취업자 중의 일부도 취업 애로 계층으로 분류된다.

- ① ㄱ, ㄴ ② ㄱ, ㄷ ③ ㄷ, ㄹ
 ④ ㄱ, ㄴ, ㄹ ⑤ ㄴ, ㄷ, ㄹ

17. 표와 관련한 진술로 옳지 않은 것은? [3점]

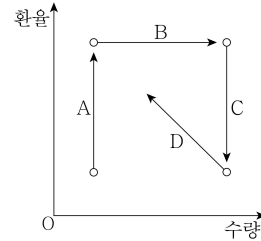
- ① 실업자는 총인구의 3%를 넘지 않는다.
 ② C가 추가 근로를 하면 실업률은 감소한다.
 ③ 출업을 했거나 앞둔 대학가의 취업 준비생은 E에 해당한다.
 ④ 취업 애로 계층을 모두 실업자로 간주하면 실업률은 높아진다.
 ⑤ E가 실업자로 분류되지 않는 것은 구직 활동을 하지 않았기 때문이다.

18. 표는 A 기업이 독점 판매하는 X재에 대해 성인과 청소년을 구분하여 가격 차별을 실시한 이후의 변화를 나타낸 것이다. X재 수요의 가격 탄력성(E_d)으로 옳은 것은?

구분	청소년	성인
가격 변화율(%)	-5	5
판매 수입 변화율(%)	5	0

- 청소년 성인
- ① $E_d > 1$ $E_d < 1$
 ② $E_d > 1$ $E_d = 1$
 ③ $E_d < 1$ $E_d > 1$
 ④ $E_d = 1$ $E_d = 1$
 ⑤ $E_d = 1$ $E_d > 1$

19. 그림의 A~D는 외환 시장의 균형점 이동을 나타낸 것이다. A~D의 이동을 초래할 수 있는 적절한 사례를 <보기>에서 고른 것은? [3점]



- < 보 기 >
- ㄱ. A: 외국인 관광객이 증가하였고, 국내 기업의 해외 투자가 증가하였다.
 ㄴ. B: 외국인의 국내 주식 투자가 증가하였고, 원자재 수입이 증가하였다.
 ㄷ. C: 문화 콘텐츠의 수출이 증가하였고, 국내 기업의 해외 투자가 감소하였다.
 ㄹ. D: 상품 수입이 감소하였고, 외국인의 국내 투자가 증가하였다.

- ① ㄱ, ㄴ ② ㄱ, ㄷ ③ ㄴ, ㄷ ④ ㄴ, ㄹ ⑤ ㄷ, ㄹ

20. 표는 갑국과 을국만이 존재하는 상황에서 무역 전후 생산량을 나타낸 것이다. 이에 대한 옳은 설명을 <보기>에서 고른 것은? [3점]

(단위: 개)

구분	무역 이전 생산량		무역 이후 생산량	
	A재	B재	A재	B재
갑국	10	20	0	40
을국	10	10	20	0
전체	20	30	20	40

- * 두 재화만 생산되며, 각 재화의 단위당 생산 비용은 일정하다.
 * 유일한 생산 요소는 노동이며, 노동의 질적·양적 변화는 없다.

- < 보 기 >
- ㄱ. 갑국은 B재, 을국은 A재 생산에 비교 우위가 있다.
 ㄴ. 무역 이후 갑국에서 A재 소비의 기회비용은 증가한다.
 ㄷ. 갑국과 을국이 무역을 통해 얻은 이익의 총합은 B재 10개의 가치와 같다.
 ㄹ. A재 10개와 B재 10개를 서로 교환할 경우 갑국은 무역 이익이 발생하지 않는다.

- ① ㄱ, ㄴ ② ㄱ, ㄷ ③ ㄴ, ㄷ ④ ㄴ, ㄹ ⑤ ㄷ, ㄹ

※ 확인 사항

- 답안지의 해당란에 필요한 내용을 정확히 기입(표기)했는지 확인하시오.