

제 4 교시

사회탐구 영역(경제)

성명

수험번호

3

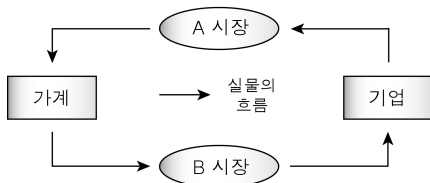
1

1. 다음 자료에 대한 옳은 분석을 <보기>에서 고른 것은?

(가) 갑은 가족들의 저녁 식사를 준비하기 위해 ㉠ 정육점에 서 돼지고기를 구입하였다.

(나) 정부는 경기 침체에서 벗어나기 위해 ㉡ 법인세율을 대폭 인하하는 정책을 실시하였다.

<민간 부문의 경제 순환>



< 보 기 >

- ㄱ. ㉠은 A 시장에서 수요자에 해당한다.
 ㄴ. ㉡은 B 시장에서 수요 증가 요인이다.
 ㄷ. (가)에서 갑은 효용의 극대화를 추구하는 경제 주체이다.
 ㄹ. (나)에서 정부는 소득 재분배의 기능을 수행하였다.

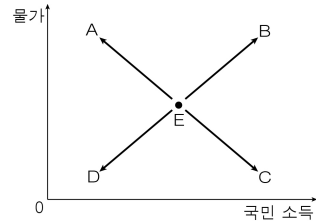
- ① ㄱ, ㄴ ② ㄱ, ㄷ ③ ㄴ, ㄷ ④ ㄴ, ㄹ ⑤ ㄷ, ㄹ

2. 다음 자료는 시장 경제 체제에서의 정부 유형을 비유적으로 나타낸 것이다. 이에 대한 학생의 진술 중 가장 적절한 것은?

자녀 양육에서 나타나는 부모의 유형은 크게 두 가지이다. 첫 번째는 ㉠ 자유 방임형 부모이다. 이 유형의 부모는 굳이 부모가 자녀의 일에 나서서 간섭하거나 참견하지 않아도 자녀는 스스로 잘 성장한다고 믿는다. 부모로서 최소한의 돌봄 기능만 수행하되 다른 부분은 자녀의 자율에 맡긴다. 두 번째는 ㉡ 우두머리형 부모이다. 이 유형의 부모는 기본적으로 자녀의 자율성을 인정해 주되 부족한 부분에 대해서는 적극적으로 개선키고자 노력하고 자녀가 나아가야 할 올바른 방향을 제시한다.

- ① 대공황은 ㉠과 같은 유형의 정부가 옳았음을 입증하는 계기였어.
 ② ㉠과 같은 유형의 정부는 '보이지 않는 손'에 대한 믿음이 확고했지.
 ③ ㉡과 같은 유형의 정부는 작은 정부에 해당하겠군.
 ④ 1970년대의 석유 파동 이후 ㉡과 같은 유형의 정부가 등장하였어.
 ⑤ ㉠, ㉡ 모두 시장 실패에 적극적으로 대처하는 정부 유형에 해당해.

3. 그림에서 A~D는 국민 경제의 균형점 이동 방향을 나타낸다. 이에 대한 설명으로 옳지 않은 것은? (단, E는 현재의 균형점이다.)



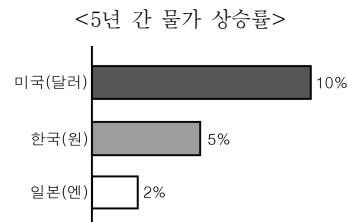
- ① 재정 정책을 실시하면 A 또는 C로 이동한다.
 ② A로 이동할 때 스태그플레이션 현상이 나타날 수 있다.
 ③ B로의 이동은 주로 경기가 상승 국면에 있을 때 나타난다.
 ④ C로 이동할 때 일반적으로 고용 수준이 향상된다.
 ⑤ D로 이동할 때 경기적 실업이 나타날 수 있다.

4. 표에 대한 분석으로 옳은 것은? (단, 기준 연도는 2005년이다.) [3점]

구분	2006년	2007년	2008년
명목 GDP 증가율(%)	5	5	2
실질 GDP 증가율(%)	3	1	4

- ① 2005년에는 실질 GDP보다 명목 GDP가 크다.
 ② 2006년의 물가 수준이 가장 높다.
 ③ 2006년과 2007년의 명목 GDP 증가액은 같다.
 ④ GDP 디플레이터는 2007년보다 2008년이 작다.
 ⑤ 명목 GDP와 달리 실질 GDP는 2008년에 가장 크다.

5. 그림에 대한 옳은 분석을 <보기>에서 고른 것은? (단, 환율은 각국 화폐의 구매력으로 결정된다.) [3점]



<5년 간 물가 상승률>

- ㄱ. 원 / 달러 환율은 상승하였다.
 ㄴ. 엔화 대비 원화의 가치는 하락하였다.
 ㄷ. 1달러와 교환되는 엔화의 양은 감소하였다.
 ㄹ. 화폐 가치의 하락 정도는 미국보다 일본이 크다.

- ① ㄱ, ㄴ ② ㄱ, ㄷ ③ ㄴ, ㄷ ④ ㄴ, ㄹ ⑤ ㄷ, ㄹ

6. 그림에 나타난 갑국~병국의 소득세 제도에 대한 분석이나 추론으로 옳은 것은?



- ① 갑국에서는 소득세가 역진성을 나타내고 있다.
- ② 을국에서는 소득세 부과 후 빈부 격차가 커질 것이다.
- ③ 병국의 소득세에는 누진세율이 적용되고 있다.
- ④ 갑국에 비해 병국 고소득층의 소득세 부담이 작을 것이다.
- ⑤ 을국, 병국에 비해 갑국이 분배의 형평성을 더 증진한다.

7. 다음은 무역 정책을 둘러싼 논쟁을 요약한 것이다. 이에 대한 설명으로 옳은 것은? [3점]

갑: ① 어떤 재화나 서비스를 수입에만 의존하는 경우, 국제 분쟁이 발생하거나 수출국이 수출을 중단하면 큰 혼란이 발생하고 국가 안보가 위협받을 수 있다.

을: 개방을 통해 경쟁이 활발해지면 가격이 내려가고 서비스도 좋아지기 때문에 소비자들에게 다양한 혜택을 줄 수 있다.

병: 경쟁력을 갖지 못한 유치 산업을 일정 기간 동안 보호하여 충분히 성장시킨 후에 외국 기업들과 경쟁할 수 있도록 해야 한다.

정: ㉠ 외국의 수출 기업이 낮은 임금을 주거나 국제적인 환경 규약을 지키지 않았을 경우, 공정한 경쟁이 되지 않으므로 수입을 규제할 필요가 있다.

- ① ①의 대체제가 적을수록 갑의 주장은 설득력이 커진다.
- ② ㉠ 상황에서 교역을 하면 수입국 소비자의 후생은 감소한다.
- ③ 을은 관세 부과, 수입 할당제 등의 정책을 지지할 것이다.
- ④ 갑과 정은 보호 무역을, 을과 병은 자유 무역을 지지한다.
- ⑤ 병과 달리 갑은 비교 우위론에 따른 교역을 강조할 것이다.

8. 다음 사례에 대한 옳은 설명을 <보기>에서 고른 것은?

- 갑은 자기 자본 2천만 원을 여러 종류의 주식에 분산하여 투자하였다.
- 을은 자기 자본 2천만 원에 대출금 2천만 원을 더하여 총 4천만 원을 모두 한 종류의 주식에 투자하였다.

< 보 기 >

- ㄱ. 갑의 투자는 “계란을 한 바구니에 담지 마라.”라는 격언에 충실한 방법이다.
- ㄴ. 을에 비해 갑의 투자 방법은 개인의 신용 등급에 부정적 영향을 미칠 우려가 크다.
- ㄷ. 모든 주식 가격이 동일한 비율로 하락할 때 갑에 비해 을이 더 큰 손실을 입게 된다.
- ㄹ. 모든 주식 가격이 동일한 비율로 상승할 때 자기 자본 대비 투자 수익률은 을보다 갑이 더 높다.

- ① ㄱ, ㄴ ② ㄱ, ㄷ ③ ㄴ, ㄷ ④ ㄴ, ㄹ ⑤ ㄷ, ㄹ

9. 다음 자료를 바탕으로 X재~Z재 간의 연관재 관계에 대한 옳은 설명을 <보기>에서 고른 것은? [3점]

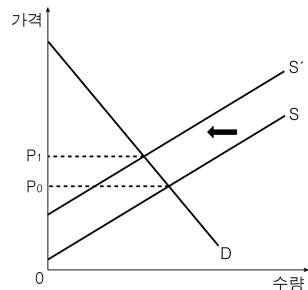
- X재 가격이 상승하자 Y재 수요는 감소했다.
- Y재 생산에 필요한 원재료 조달이 어려워지자 Z재 수요는 증가했다.

< 보 기 >

- ㄱ. X재와 Z재는 보완재 관계이다.
- ㄴ. X재 공급이 증가하면 Y재 수요는 증가한다.
- ㄷ. X재 가격이 상승하면 Y재 공급량은 증가한다.
- ㄹ. Y재 공급의 감소는 Z재 가격의 상승 요인이다.

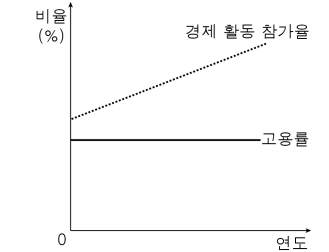
- ① ㄱ, ㄴ ② ㄱ, ㄷ ③ ㄴ, ㄷ ④ ㄴ, ㄹ ⑤ ㄷ, ㄹ

10. 그림은 X재 시장에서의 경제적 변화를 나타낸 것이다. 이에 대한 설명으로 옳지 않은 것은?



- ① 소비자 잉여는 감소한다.
- ② 생산자 잉여는 감소한다.
- ③ P_0 수준에서 초과 공급이 발생한다.
- ④ 시장 균형 가격이 P_0 에서 P_1 으로 상승한다.
- ⑤ 생산비 증가가 이러한 변화를 가져올 수 있다.

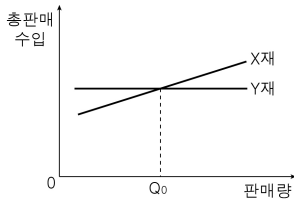
11. 그림에 대한 분석으로 옳은 것은? (단, 15세 이상 인구는 일정하다.) [3점]



$$* \text{고용률}(\%) = \frac{\text{취업자 수}}{\text{15세 이상 인구}} \times 100$$

- ① 취업률은 높아졌다.
- ② 취업자의 수는 증가하였다.
- ③ 비경제 활동 인구는 증가하였다.
- ④ 취업률과 고용률의 격차는 확대되었다.
- ⑤ 경제 활동 인구나 실업자 수는 같은 크기로 증가하였다.

12. 그림에 대한 옳은 분석을 <보기>에서 고른 것은? (단, X재와 Y재는 수요의 법칙을 따르며, 수요의 변동은 없다.) [3점]



- < 보 기 >
- ㄱ. X재 수요의 가격 탄력성은 1보다 작다.
 - ㄴ. Y재는 판매량이 늘어나도 가격이 변하지 않는다.
 - ㄷ. 판매량이 Q0일 때 X재와 Y재의 가격은 일치한다.
 - ㄹ. X재, Y재 모두 가격과 판매량 간에 부(-)의 관계가 성립한다.

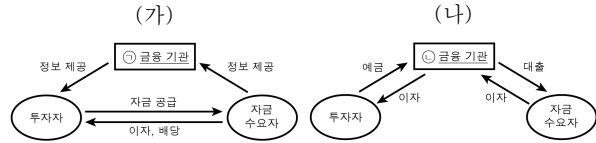
- ① ㄱ, ㄴ ② ㄱ, ㄷ ③ ㄴ, ㄷ ④ ㄴ, ㄹ ⑤ ㄷ, ㄹ

13. 다음 자료에 나타난 외부 효과에 대한 설명으로 옳은 것은?

자가용 차량의 운행으로 운전자 개인이 얻는 편익보다 사회 전체의 편익이 더 작다. 왜냐하면 자가용 차량의 운행으로 인한 교통 체증, 매연 등으로 제3자들이 교통을 받기 때문이다.

- ① 무임승차의 문제가 발생하게 된다.
- ② 사회적 최적 수준보다 적게 소비된다.
- ③ 소비 활동에서의 외부 불경제 상황이다.
- ④ 통행세를 징수하면 운전자 개인의 사적 편익은 증가한다.
- ⑤ 보조금을 지급하면 운전자 개인의 사적 편익은 감소한다.

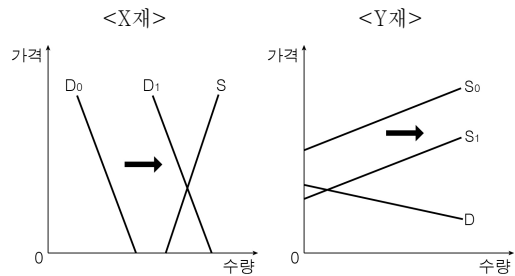
14. (가), (나)는 금융 시장의 유형을 나타낸 것이다. 이에 대한 옳은 설명을 <보기>에서 고른 것은?



- < 보 기 >
- ㄱ. 일반적으로 은행은 ㉠에, 증권 회사는 ㉡에 해당한다.
 - ㄴ. 주식 및 채권 투자는 (가)가 아닌 (나)에서 이루어진다.
 - ㄷ. (가)에 비해 (나)에서의 금융 상품이 일반적으로 안전성이 더 높다.
 - ㄹ. (나)에 비해 (가)에서는 투자자의 자금이 어느 기업으로 갔는지 알기 쉽다.

- ① ㄱ, ㄴ ② ㄱ, ㄷ ③ ㄴ, ㄷ ④ ㄴ, ㄹ ⑤ ㄷ, ㄹ

15. 그림은 X재, Y재의 수요·공급의 변화를 나타낸 것이다. 이에 대한 설명으로 옳지 않은 것은?



- ① X재는 자유재에서 경제재로 변화되었다.
- ② X재의 경우 소비에 따른 기회비용이 증가하였다.
- ③ Y재의 변화는 기술 혁신을 통해 나타날 수 있다.
- ④ Y재의 경우 변화 전 상황에서는 거래가 형성되지 않았다.
- ⑤ X재와 달리 Y재는 변화 이후 희소성이 커졌다.

16. 그림은 A, B 시기의 신문 기사이다. 이에 대한 추론으로 옳은 것은?

<A 시기>

○○ 신문

국제 유가와 원자재 가격 급등

관련 산업 전반에 걸쳐
부정적 영향 끼쳐

<B 시기>

○○ 신문

시중 통화량 5년 내 최고 수준

소비·투자 늘고,
경상 수지 흑자폭도 커져

- ① A 시기에는 총수요가 증가했을 것이다.
- ② B 시기에는 총공급이 감소했을 것이다.
- ③ A 시기에는 경제 성장률이 높아졌을 것이다.
- ④ B 시기와 달리 A 시기에는 고용 상황이 나빠졌을 것이다.
- ⑤ A 시기와 달리 B 시기에는 물가 수준이 높아졌을 것이다.

17. 다음은 갑국의 국제 수지표이다. 이에 대한 분석이나 추론으로 옳은 것은? [3점]

(단위: 억 달러)

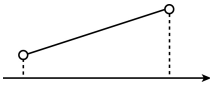
구분	2010년	2011년	2012년
경상 수지	-56	㉠	5
상품 수지	-30	-12	6
서비스 수지	-21	-13	-1
:	:	:	:
자본·금융 계정	58	20	-3
자본 수지	4	5	3
금융 계정	54	15	-6
직접 투자	12	-6	-14
증권 투자	-16	8	12
:	:	:	:
준비 자산 증감	34	-5	-19
오차 및 누락	-2	1	-2

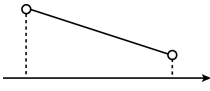
- ① ㉠에 들어갈 수치는 '-25'이다.
 ② 2010년에는 상품의 수출이 수입보다 많았다.
 ③ 2011년에는 외화의 유입이 유출보다 많았다.
 ④ 2012년에는 경상 수지 중 여행, 운송 등의 거래가 반영된 항목이 흑자였다.
 ⑤ 2010년에 비해 2011년에는 외국인의 국내 증권 투자가 증가하였다.

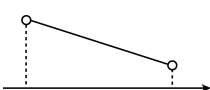
18. 다음은 갑국의 중앙은행이 어느 시점에서 취한 통화 정책이다. 이러한 정책 결정의 근거가 되는 경제 지표의 변화를 <보기>에서 고른 것은? [3점]

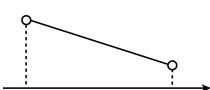
- 기준 금리를 0.25%p 인하하였다.
 ○ 시중 은행의 지급 준비율을 1%p 인하하였다.
 * 기준 금리: 중앙은행이 매 월 결정하는 정책 금리로, 제한인율과 비슷한 효과를 가진다.

< 보 기 >

ㄱ.  <소비자 물가 상승률>

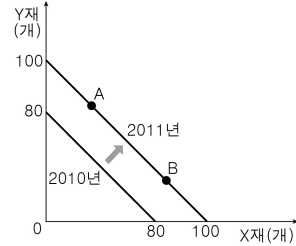
ㄴ.  <제조업 평균 가동률>

ㄷ.  <기업 재고율>

ㄹ.  <경제 성장률>

- ① ㄱ, ㄴ ② ㄱ, ㄷ ③ ㄴ, ㄷ ④ ㄴ, ㄹ ⑤ ㄷ, ㄹ

19. 그림은 갑국의 생산 가능 곡선의 변화를 나타낸 것이다. 이에 대한 옳은 설명을 <보기>에서 고른 것은? (단, 갑국에서는 노동만이 유일한 생산 요소이며 그 수는 일정하다.) [3점]

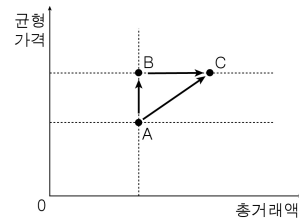


< 보 기 >

- ㄱ. 노동 생산성은 2010년보다 2011년이 높다.
 ㄴ. X재, Y재의 시장 가격은 2010년보다 2011년이 높다.
 ㄷ. A와 B에서 X재 1단위 추가 생산에 따른 기회비용은 같다.
 ㄹ. Y재 1단위 추가 생산에 따른 기회비용은 2010년보다 2011년이 크다.

- ① ㄱ, ㄴ ② ㄱ, ㄷ ③ ㄴ, ㄷ ④ ㄴ, ㄹ ⑤ ㄷ, ㄹ

20. 그림은 소비재인 X재의 균형 가격과 총거래량의 변화를 나타낸 것이다. 이에 대한 분석으로 옳지 않은 것은? (단, X재 수요의 가격 탄력성은 1이며, 공급 곡선은 우상향한다.) [3점]



- ① B보다 C에서 거래량이 더 많다.
 ② A와 B에서 소비자의 총지출액은 동일하다.
 ③ 수요는 불변이고 공급이 감소하면 A에서 B로의 변화가 나타난다.
 ④ 수요는 불변이고 공급이 증가하면 B에서 C로의 변화가 나타난다.
 ⑤ 공급은 불변이고 수요가 증가하면 A에서 C로의 변화가 나타난다.

※ 확인 사항

- 답안지의 해당란에 필요한 내용을 정확히 기입(표기)했는지 확인하시오.