


제 4 교시

사회탐구 영역 (경제)

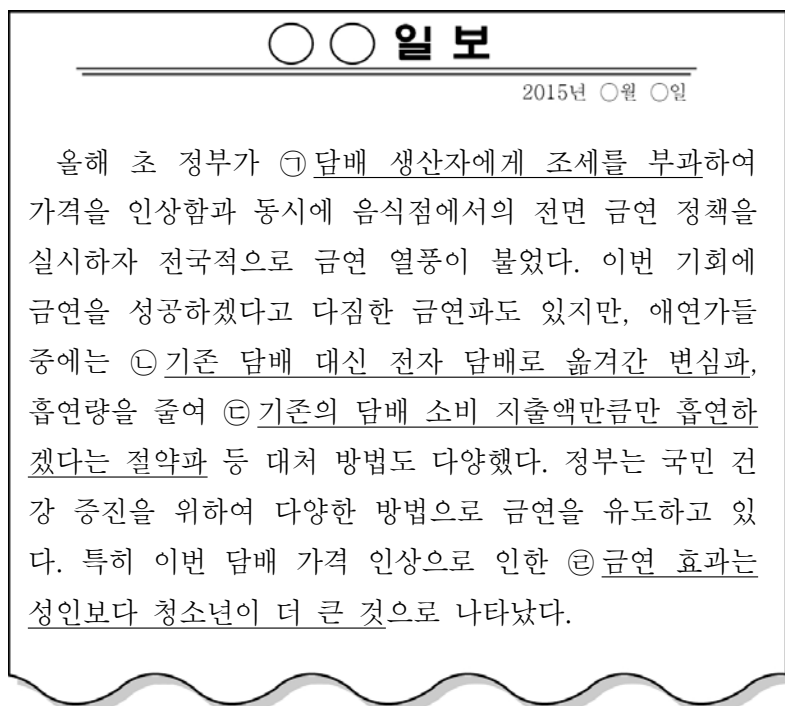
1. 교사의 질문에 대해 옳게 답변한 학생을 <보기>에서 고른 것은?



갑: 근로자에게 임금을 지급하는 것은 (가)에 해당합니다.
을: 렌터카 회사가 영업용 승용차를 구입하는 것은 (나)에 해당합니다.
병: 백화점 직원의 판매 활동은 (다)에 해당합니다.
정: (다)와 달리 (나)는 이윤의 극대화를 추구합니다.

- ① 갑, 을 ② 갑, 병 ③ 을, 병 ④ 을, 정 ⑤ 병, 정

2. 밑줄 친 ㉠ ~ ㉣에 대한 옳은 분석 및 추론을 <보기>에서 고른 것은?



㉠. ㉠으로 인해 담배 공급량은 감소한다.
㉡. ㉡에서 기존 담배와 전자 담배는 대체재 관계이다.
㉢. ㉢에서 담배 수요의 가격 탄력성은 완전 비탄력적이다.
㉣. ㉣에서 담배 수요의 가격 탄력성은 성인에 비해 청소년이 더 크다.

- ① ㉠, ㉡ ② ㉠, ㉢ ③ ㉡, ㉣ ④ ㉢, ㉣ ⑤ ㉣, ㉣

3. 표에 대한 옳은 분석을 <보기>에서 고른 것은? [3점]

< 전년도 대비 갑국의 경제 성장률 증감 >
(단위 : %p)

2010년	2011년	2012년	2013년	2014년
1	1	0	-1	-2

* 2009년의 경제 성장률은 5%이다.
** %p(% 포인트)는 %의 차를 측정하는 단위이다. 예를 들어, 경제 성장률이 5%에서 2%로 바뀌면 경제 성장률이 3%p 낮아진 것이다.

<보 기>
ㄱ. 2011년 이후 경제 규모는 지속적으로 작아졌다.
ㄴ. 2014년의 실질 GDP가 가장 크다.
ㄷ. 2011년과 2012년의 경제 성장률은 같다.
ㄹ. 2013년에 비해 2010년의 경제 성장률이 높다.

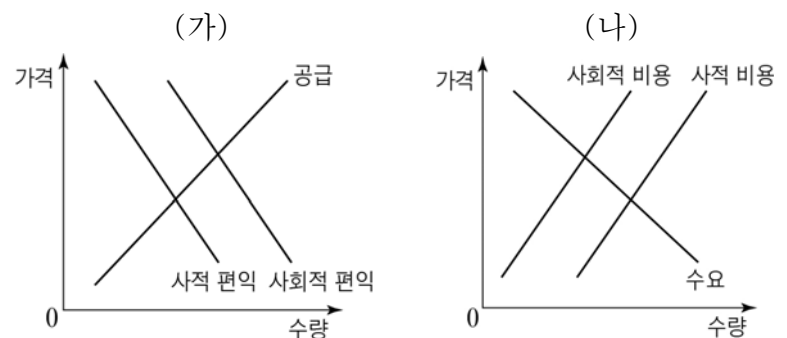
- ① ㄱ, ㄴ ② ㄱ, ㄷ ③ ㄴ, ㄷ ④ ㄴ, ㄹ ⑤ ㄷ, ㄹ

4. 표는 경쟁 형태에 따라 시장을 구분한 것이다. A ~ D 시장의 일반적 특징으로 옳은 것은?

구분	상품의 질	
	동질	이질
생산자 수	하나	A 시장
	소수	B 시장
	다수	C 시장 D 시장

- ① A 시장에서는 담합 가능성이 있다.
② B 시장에서는 진입 장벽이 존재하지 않는다.
③ C 시장에서는 가격 차별화가 나타난다.
④ D 시장에서는 상품 차별화가 나타난다.
⑤ A 시장과 달리 C 시장에서 기업은 가격 결정자이다.

5. 그림 (가), (나)는 외부 효과를 나타낸다. 이에 대한 설명으로 옳은 것은? [3점]



- ① (가)는 사회적 최적 수준보다 많이 소비된다.
② (가)의 사례로 과수원 인근 양봉업자의 이익을 들 수 있다.
③ (나)는 사적 비용이 사회적 비용보다 크다.
④ (나)는 사회적 최적 수준보다 적게 생산된다.
⑤ (가)는 긍정적 외부 효과, (나)는 부정적 외부 효과이다.

6. 그림은 갑국의 경제 활동 참가율과 고용률의 변화 추이를 나타낸다. 이에 대한 옳은 분석만을 <보기>에서 있는 대로 고른 것은? (단, 갑국의 15세 이상 인구는 변화가 없다.) [3점]



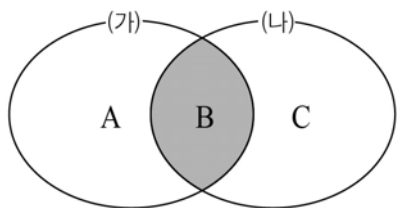
$$* \text{고용률}(\%) = \frac{\text{취업자 수}}{\text{15세 이상 인구}} \times 100$$

<보 기>

- ㄱ. 2011년에 비해 2012년의 실업률은 감소하였다.
 ㄴ. 2011년과 2013년의 취업자 수는 같다.
 ㄷ. 2012년에 비해 2013년의 실업자 수는 증가하였다.
 ㄹ. 2012년에 비해 2013년의 비경제 활동 인구는 감소하였다.

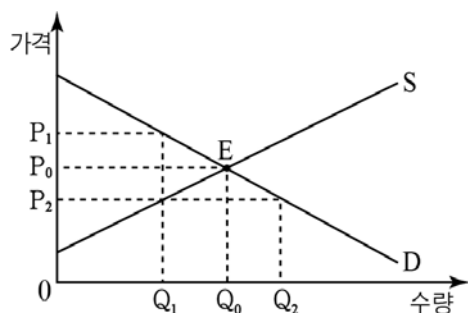
- ① ㄱ, ㄴ ② ㄱ, ㄷ ③ ㄴ, ㄹ
 ④ ㄱ, ㄷ, ㄹ ⑤ ㄴ, ㄷ, ㄹ

7. 그림은 갑국의 GNP와 GDP 관계를 나타낸다. 이에 대한 설명으로 옳은 것은? (단, (가)는 국적을 기준으로 하는 개념이다.)



- ① 갑국 국민의 국내 생산 증가는 A의 증가 요인이다.
 ② 갑국 국민의 해외 취업 증가는 B의 증가 요인이다.
 ③ 갑국 내 외국인 근로자 증가는 C의 감소 요인이다.
 ④ 세계 경제의 개방화가 촉진될수록 'A+C' 비중은 감소한다.
 ⑤ (가)에 비해 (나)가 갑국의 고용과 경기 상황을 잘 반영한다.

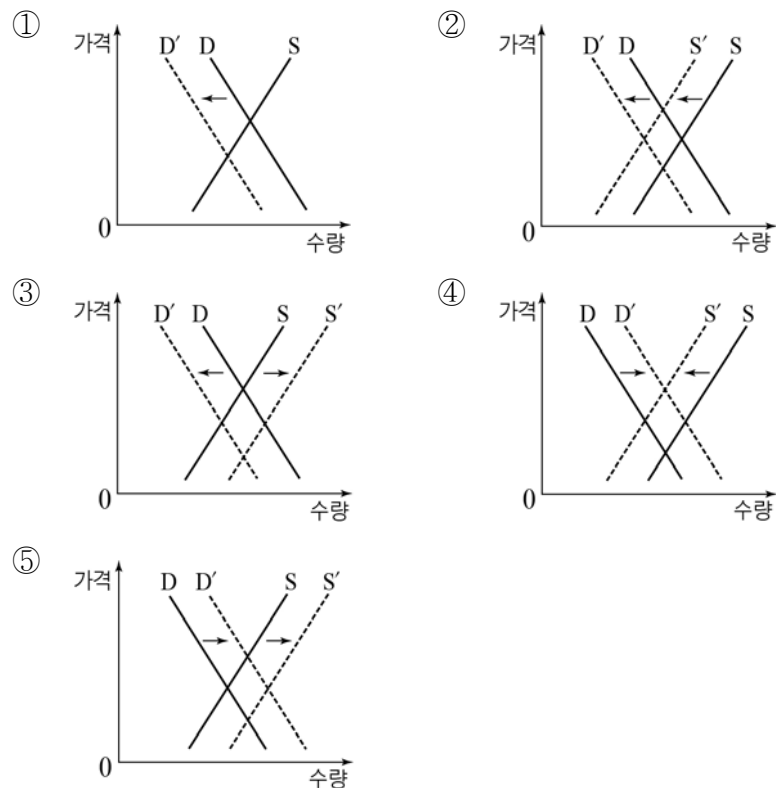
8. 그림에 대한 분석 및 추론으로 옳지 않은 것은?



- ① 수요가 증가하면 생산자 잉여는 감소한다.
 ② 수요 곡선이 수평으로 변하면 소비자 잉여는 감소한다.
 ③ 가격이 P0일 때 사회적 잉여가 극대화된다.
 ④ 정부가 최저 가격을 P1로 설정하면 Q0Q1만큼 거래량이 감소한다.
 ⑤ 정부가 최고 가격을 P2로 설정하면 Q1Q2만큼 초과 수요가 발생한다.

9. 다음 자료에 근거하여 갑국의 임대 주택 시장 변화를 나타낸 것으로 가장 적절한 것은? [3점]

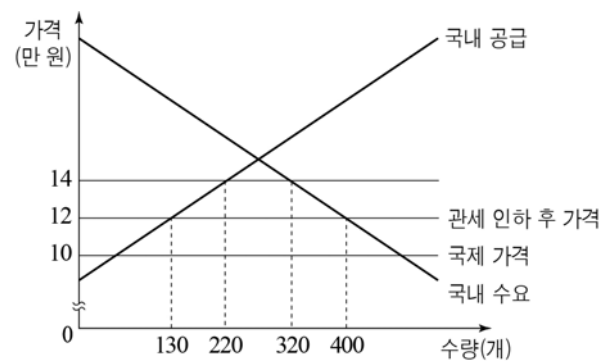
갑국의 전·월세 가격이 폭등하자 이에 부담을 느낀 세입자들은 계속 임대 주택에 살 것인지, 주택을 구입할 것인지 고민하고 있었다. 그러던 중 주택 담보 대출 이자율이 낮아지자 전·월세 수요자 중 다수가 주택을 구입하였다. 또한 정부는 임대 주택 시장의 안정화를 위해 공공 임대 주택을 추가로 건설하였다.



10. 다음 자료에 대한 옳은 분석을 <보기>에서 고른 것은?

[3점]

그림은 갑국의 X재 시장 상황을 나타낸다. 현재 X재의 국제 가격은 10만 원이며, 이 가격으로 갑국의 국내 시장에 무한정 공급이 가능하다. 갑국 정부는 관세를 4만 원에서 2만 원으로 인하하였다.

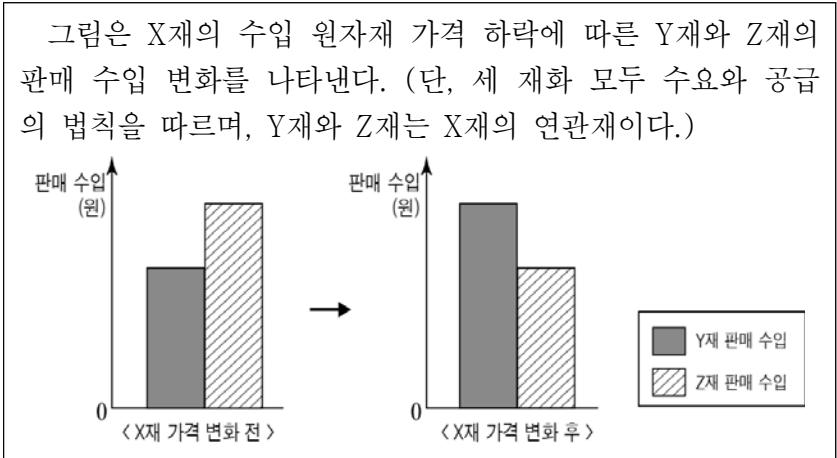


<보 기>

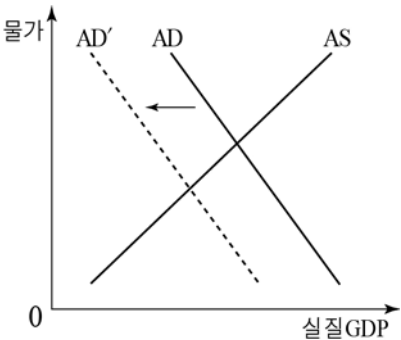
- ㄱ. 관세 인하 후 국내 수요량은 80개 증가한다.
 ㄴ. 관세 인하 후 국내 수입량은 170개 증가한다.
 ㄷ. 관세 인하 후 정부의 관세 수입은 200만 원 감소한다.
 ㄹ. 관세 인하로 인한 소비자 잉여의 증가분과 생산자 잉여의 감소분은 같다.

- ① ㄱ, ㄴ ② ㄱ, ㄷ ③ ㄴ, ㄷ ④ ㄴ, ㄹ ⑤ ㄷ, ㄹ

11. 다음 자료의 재화 간 관계를 바탕으로 X재의 시장 변화에 따른 Y재와 Z재의 변화를 추론한 것으로 옳은 것은? [3점]

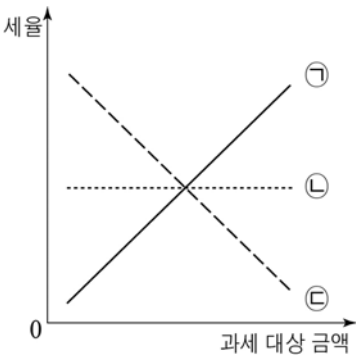


- ① X재의 공급이 감소하면 Y재의 공급은 증가한다.
 - ② X재의 가격이 하락하면 Y재의 수요는 증가한다.
 - ③ X재의 공급이 증가하면 Z재의 수요는 증가한다.
 - ④ X재의 가격이 하락하면 Z재의 거래량은 증가한다.
 - ⑤ X재의 공급이 감소하면 Z재의 판매 수입은 감소한다.
12. 그림은 갑국의 총수요(AD)와 총공급(AS)을 나타낸다. 이와 같은 변화의 요인으로 가장 적절한 것은?



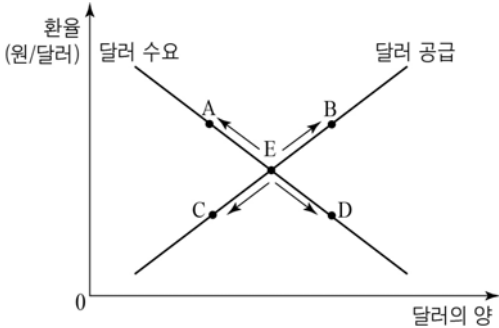
- ① 갑국의 순수출이 증가하였다.
- ② 중앙은행이 기준 금리를 인하하였다.
- ③ 정부가 종합 소득세율을 인상하였다.
- ④ 중앙은행이 지급 준비율을 인하하였다.
- ⑤ 정부가 사회 간접 자본 투자를 확대하였다.

13. 그림은 세율 적용 방식에 따른 조세의 유형을 나타낸다. 이에 대한 설명으로 옳은 것은?



- ① ①은 우리나라의 소비세에 적용된다.
- ② ②은 과세 대상 금액 증가율과 세액의 증가율이 같다.
- ③ ③은 고소득층에 비해 저소득층에게 유리하다.
- ④ ①에 비해 ②은 소득 재분배 효과가 크다.
- ⑤ ③과 달리 ①은 조세 부담의 역진성이 나타난다.

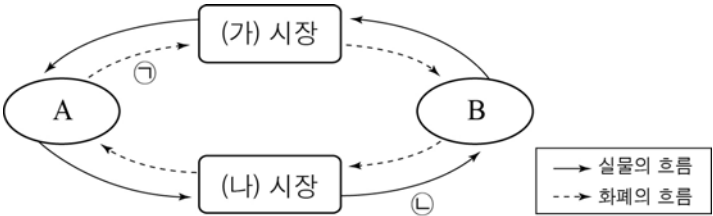
14. 그림은 우리나라 외환 시장에서 달러에 대한 수요 곡선과 공급 곡선을 나타낸다. 균형점 E가 이동하게 되는 적절한 사례를 <보기>에서 고른 것은? [3점]



- <보 기>
- ㄱ. E → A : 우리나라 상품의 수출이 감소하였다.
 - ㄴ. E → B : 외국인의 국내 채권 매입이 증가하였다.
 - ㄷ. E → C : 우리나라 국민들의 해외 여행이 감소하였다.
 - ㄹ. E → D : 우리나라 기업의 외국 기업에 대한 특허권 사용료 지급이 증가하였다.

- ① ㄱ, ㄴ ② ㄱ, ㄷ ③ ㄴ, ㄷ ④ ㄴ, ㄹ ⑤ ㄷ, ㄹ

15. 그림은 민간 경제의 순환을 나타낸다. 이에 대한 설명으로 옳은 것은?



- ① A가 기업이라면 B는 생산물 시장의 공급자이다.
- ② A가 가계라면 ㉠에는 임금, 지대, 이자가 해당한다.
- ③ B가 가계라면 (나) 시장에서는 생산 요소가 거래된다.
- ④ (가) 시장에서 재화와 서비스가 거래된다면 B는 이윤 극대화를 추구하는 경제 주체이다.
- ⑤ (나) 시장에서 생산 요소가 거래된다면 ㉡의 감소는 경제 성장 요인이다.

16. 다음 자료에 대한 옳은 분석을 <보기>에서 고른 것은? [3점]

표는 X재, Y재, Z재의 가격이 현재 수준에서 5% 상승할 경우의 수요량 변화율과 판매 수입 변화율을 나타낸다.

구분	수요량 변화율	판매 수입 변화율
X재	0%	㉠
Y재	- 5%	㉡
Z재	- 10%	㉢

- <보 기>
- ㄱ. ㉠은 5%이다.
 - ㄴ. ㉡은 0%이다.
 - ㄷ. ㉢은 10%이다.
 - ㄹ. 수요의 가격 탄력성은 X재가 가장 크다.

- ① ㄱ, ㄴ ② ㄱ, ㄷ ③ ㄴ, ㄷ ④ ㄴ, ㄹ ⑤ ㄷ, ㄹ

17. 표는 갑국의 국제 수지표이다. 이에 대한 분석으로 옳은 것은? (단, 오차 및 누락은 0이다.) [3점]

(단위 : 억 달러)

구분	2011년	2012년	2013년
경 상 수 지	263	508	822
상품 수지	311	494	828
서비스 수지	-112	-52	-65
본원 소득 수지	75	121	101
이전 소득 수지	-11	-55	-42
자 본·금 융 계 정	-263	-508	-822
자본 수지	2	4	5
금융 계정	-265	-512	-827
(준비 자산)	-19	8	-21

- ① 2011년 이후 상품 수출에 비해 수입이 많았다.
 ② 2011년 이후 해외 투자 소득이 포함된 항목은 수취한 외화에 비해 지급한 외화가 많았다.
 ③ 2012년과 2013년의 경상 수지 변화는 국내 통화량을 감소시키는 요인이다.
 ④ 2013년의 여행·운송 등이 포함된 항목은 2012년에 비해 적자액이 감소하였다.
 ⑤ 2013년과 달리 2012년의 외환 보유액은 감소하였다.

18. 다음 사례에 대한 옳은 설명을 <보기>에서 고른 것은?

- 갑은 100만 원으로 연 2%의 복리 이자가 적용되는 정기 예금에 가입한 후 3년이 지나 만기가 되었다.
 ○ 을은 100만 원으로 연 5%의 이자가 적용되는 회사채를 매입한 후 3년이 지나 만기가 되었다.
 ○ 병은 △△회사 주식을 100만 원에 매입하여 3년간 보유하다가 114만 원에 매각하였다.

* 만기 또는 매각일은 같다.

** 3년 전에 비해 물가는 5% 상승하였다.

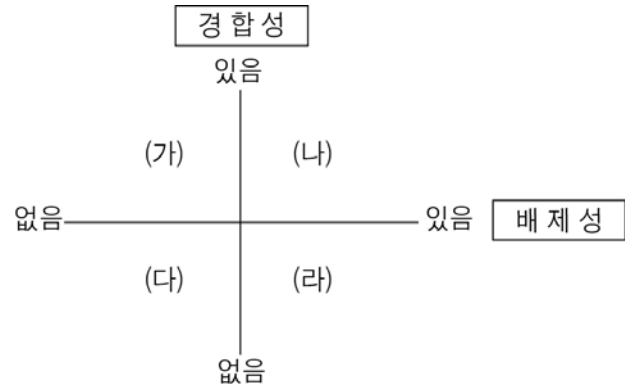
*** 세금과 매당금 및 거래 비용은 고려하지 않는다.

<보 기>

- ㄱ. 을이 매입한 금융 상품은 일반적으로 금리가 상승하면 수익률도 높아진다.
 ㄴ. 병이 매입한 금융 상품은 발행자 입장에서 자기 자본이다.
 ㄷ. 을에 비해 병이 투자한 금융 상품의 수익이 더 크다.
 ㄹ. 갑, 을, 병 모두 금융 상품의 만기 또는 매각 후 구매력이 증가하였다.

- ① ㄱ, ㄴ ② ㄱ, ㄷ ③ ㄴ, ㄷ ④ ㄴ, ㄹ ⑤ ㄷ, ㄹ

19. 그림은 배제성과 경합성을 기준으로 재화를 (가) ~ (라)로 분류한 것이다. 이에 대한 설명으로 옳지 않은 것은?

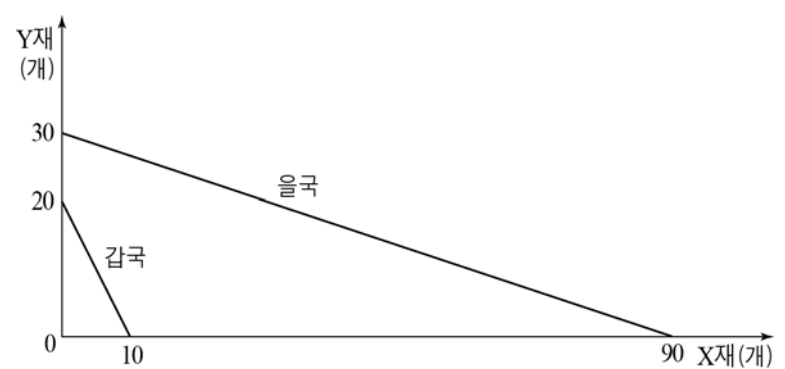


- ① (가)에 해당하는 재화는 한 사람의 소비가 다른 사람의 소비를 제한하지 않는다.
 ② (나)에 해당하는 재화로 신발이 있다.
 ③ (다)에 해당하는 재화는 주로 정부에서 공급한다.
 ④ (나)에 비해 (가)에 해당하는 재화는 남용으로 인한 자원 고갈 문제가 더 많이 나타난다.
 ⑤ (라)에 비해 (다)에 해당하는 재화에서 무임승차의 문제가 더 많이 나타난다.

20. 다음 자료에 대한 옳은 설명을 <보기>에서 고른 것은?

[3점]

그림은 X재와 Y재만을 생산하는 갑국, 을국의 생산 가능 곡선을 나타낸다. (단, 양국의 생산 요소의 양은 같으며, 무역에 따른 거래 비용은 없다. 두 국가는 이득이 발생할 때만 무역에 참여한다.)



<보 기>

- ㄱ. X재 생산의 기회비용은 갑국이 을국의 3배이다.
 ㄴ. Y재 생산의 기회비용은 을국이 갑국의 6배이다.
 ㄷ. 갑국은 무역 후 Y재 소비에 따른 기회비용이 감소한다.
 ㄹ. X재와 Y재의 교환 비율이 2:3이라면 양국은 무역에 참여할 것이다.

- ① ㄱ, ㄴ ② ㄱ, ㄷ ③ ㄴ, ㄷ ④ ㄴ, ㄹ ⑤ ㄷ, ㄹ

* 확인 사항

- 답안지의 해당란에 필요한 내용을 정확히 기입(표기)했는지 확인 하시오.