

제 4 교시

사회탐구 영역 (경제)

성명		수험번호					3			
----	--	------	--	--	--	--	---	--	--	--

1. 갑과 을의 여행 선택에 대한 옳은 분석을 <보기>에서 고른 것은?

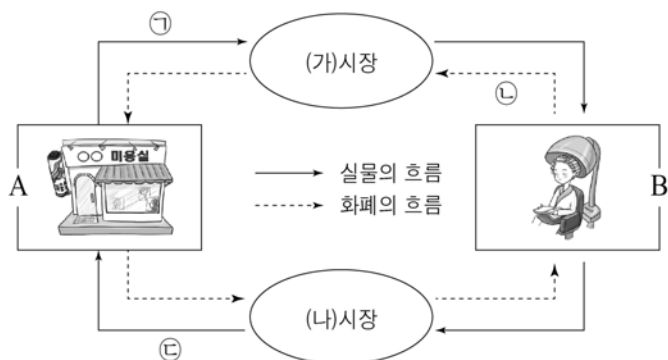
갑과 을은 여행 정보를 얻기 위해 1인당 5만 원을 이미 지출하였다. 3일간 여행을 간다면 여행 경비는 1인당 120만 원이다. 갑은 여행을 가기 위해서 3일간 휴가를 사용해야 하는데, 휴가를 사용하지 않으면 회사로부터 1일당 20만 원의 보상비를 받을 수 있다. 을은 1일당 50만 원의 순이익이 발생하는 식당을 운영하고 있으며, 여행을 가기 위해서는 3일간 식당 영업을 할 수 없다.

<보 기>

- ㄱ. 갑은 을보다 기회비용이 작다.
 ㄴ. 갑은 을보다 명시적 비용이 작다.
 ㄷ. 을은 갑보다 암묵적 비용이 크다.
 ㄹ. 갑과 을의 매물 비용의 합은 240만 원이다.

- ① ㄱ, ㄴ ② ㄱ, ㄷ ③ ㄴ, ㄷ ④ ㄴ, ㄹ ⑤ ㄷ, ㄹ

2. 그림은 민간 경제의 흐름을 나타낸다. 이에 대한 설명으로 옳은 것은? (단, A, B는 각각 가게, 기업 중 하나이다.)



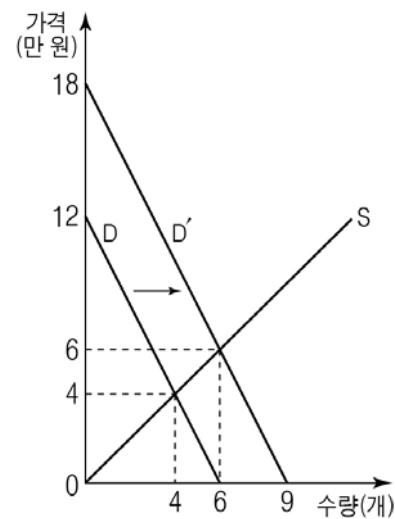
- ① (가)시장에서 생산 요소가 거래된다.
 ② (나)시장에서 B는 수요자이다.
 ③ ㉠을 통해 A는 부가 가치를 창출한다.
 ④ ㉡은 A의 이윤과 일치한다.
 ⑤ ㉣을 통해 A는 효용의 극대화를 추구한다.

3. 표는 갑국의 경제 지표를 나타낸다. 이에 대한 분석으로 옳은 것은? (단, 물가 지수는 GDP 디플레이터로 측정한다.) [3점]

구분	2013년	2014년	2015년
명목 GDP(만 달러)	100	110	120
GDP 디플레이터	100	100	120

- ① 2013년 이후 실질 GDP는 변함이 없다.
 ② 2014년의 물가는 전년 대비 10% 상승하였다.
 ③ 2014년의 전년 대비 실질 GDP 증가율과 명목 GDP 증가율은 동일하다.
 ④ 2015년의 경제 규모가 가장 크다.
 ⑤ 2015년은 2014년에 비해 경제 성장률이 더 높다.

4. 그림은 X재 시장에서 수요의 변화를 나타낸다. 이에 대한 옳은 분석을 <보기>에서 고른 것은? [3점]



<보 기>

- ㄱ. 수요 변화 전의 사회적 잉여는 24만 원이다.
 ㄴ. 수요 변화 후의 생산자 잉여는 36만 원이다.
 ㄷ. 소비자 잉여의 증가액은 생산자 잉여의 증가액의 2배이다.
 ㄹ. X재와 보완 관계에 있는 재화의 가격 상승은 D→D'의 요인이 될 수 있다.

- ① ㄱ, ㄴ ② ㄱ, ㄷ ③ ㄴ, ㄷ ④ ㄴ, ㄹ ⑤ ㄷ, ㄹ

5. 그림은 외부 효과와 관련된 상황을 나타낸다. 이에 대한 옳은 설명을 <보기>에서 고른 것은?



<보 기>

- ㄱ. 긍정적 외부 효과가 발생하고 있다.
 ㄴ. 사적 편익이 사회적 편익보다 큰 경우에 발생한다.
 ㄷ. 사적 비용을 감소시켜 자원을 효율적으로 배분하려는 정책이 시행되고 있다.
 ㄹ. 시장 균형 소비량을 사회적 최적 소비량으로 줄이기 위한 정책이 시행되고 있다.

- ① ㄱ, ㄴ ② ㄱ, ㄷ ③ ㄴ, ㄷ ④ ㄴ, ㄹ ⑤ ㄷ, ㄹ

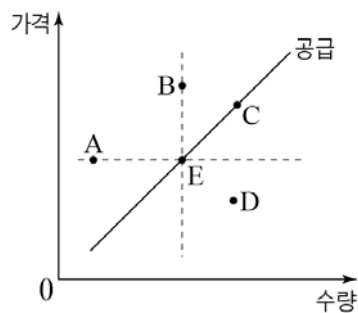
6. 표는 어느 가구의 연간 소득을 나타낸다. 이에 대한 분석으로 옳은 것은? [3점]

(단위: 만 원)

구분	2012년	2013년	2014년	2015년
소득	3,480	4,200	4,800	4,910
경상 소득	3,380	4,060	4,620	4,770
근로 소득	2,200	2,670	3,000	3,300
사업 소득	800	1,000	1,200	1,000
재산 소득	30	20	20	30
이전 소득	350	370	400	440
비경상 소득	100	140	180	140

- ① 주식 배당금이 포함된 소득은 지속적으로 증가하였다.
 ② 생산 활동과 관계없이 무상으로 받은 소득은 매년 동일한 금액만큼 변화하였다.
 ③ 2014년은 전년에 비해 전체 소득 중 사업 소득이 차지하는 비중이 감소하였다.
 ④ 2015년은 전년에 비해 근로 소득과 이전 소득이 동일한 비율로 증가하였다.
 ⑤ 2013년과 2014년은 전년 대비 비경상 소득의 증가율이 동일하다.

7. 그림은 X재의 공급 곡선을 나타낸다. 현재 균형점을 E라고 할 때, 균형점의 변화에 대한 옳은 설명을 <보기>에서 고른 것은? (단, X재는 수요의 법칙을 따른다.)



<보 기>

- ㄱ. X재의 선호도가 감소하고 생산 요소 투입량이 감소하면, 균형점은 A로 이동할 수 있다.
 ㄴ. X재의 수요자 수가 증가하고 원자재 가격이 상승하면, 균형점은 B로 이동할 수 있다.
 ㄷ. X재의 소비자 소득이 증가하고 생산 기술이 향상되면, 균형점은 C로 이동할 수 있다.
 ㄹ. X재의 수요에 변화가 없고 공급자 수가 감소하면, 균형점은 D로 이동할 수 있다.

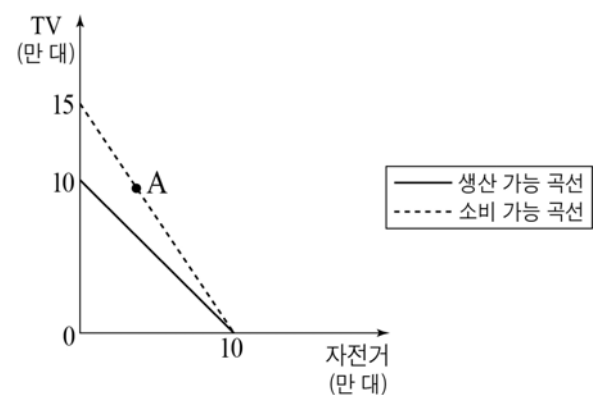
- ① ㄱ, ㄴ ② ㄱ, ㄷ ③ ㄴ, ㄷ ④ ㄴ, ㄹ ⑤ ㄷ, ㄹ

8. 밑줄 친 ㉠~㉣에 대한 설명으로 옳지 않은 것은?



- ① ㉠은 자원의 절대적인 존재량이 적은 것을 의미한다.
 ② ㉡을 결정하기 위해서는 효율성을 고려해야 한다.
 ③ ㉢은 생산 요소의 결합 방법을 결정하는 것이다.
 ④ ㉡은 생산된 가치를 분배하는 것이다.
 ⑤ ㉢은 시장 가격에 의해 경제 문제를 해결한다.

9. 그림은 갑국의 생산 가능 곡선과 교역 후 소비 가능 곡선을 나타낸다. 이에 대한 옳은 분석을 <보기>에서 고른 것은? (단, 갑국과 을국만 존재하고, 이익이 발생할 때만 교역에 참여한다. 교역에 따른 거래 비용은 없다.) [3점]



<보 기>

- ㄱ. 갑국은 교역 후 A점에서 생산이 가능하다.
 ㄴ. 갑국의 TV 1대 생산의 기회비용은 자전거 1대이다.
 ㄷ. 을국은 TV 생산에 비교우위가 있다.
 ㄹ. 자전거와 TV의 교환 비율이 2:3이라면 갑국은 교역으로 인한 이익을 얻을 수 없다.

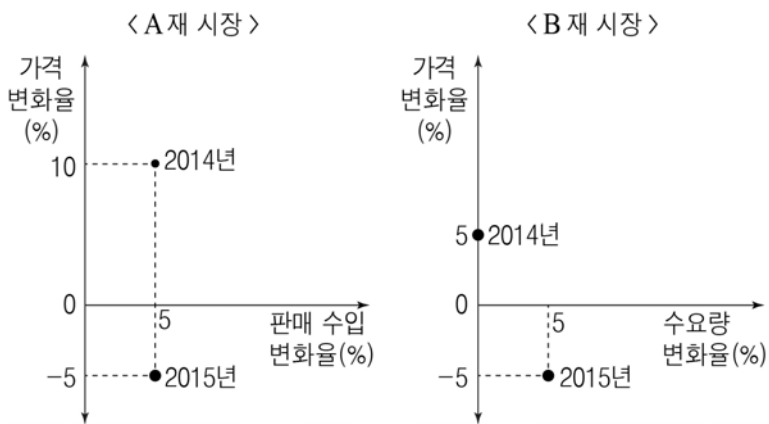
- ① ㄱ, ㄴ ② ㄱ, ㄷ ③ ㄴ, ㄷ ④ ㄴ, ㄹ ⑤ ㄷ, ㄹ

10. 다음 글에서 주장하는 내용으로 가장 적절한 것은?

최근 IoT(Internet of Things: 사물 인터넷) 기술을 이용한 혁신적인 제품들이 연이어 시장에 출시되면서 화제가 되고 있다. IoT 시장 최초의 특허 제품은 쌍방향 모니터 기능을 이용하여 원격으로 건강을 체크할 수 있는 제품이다. 글로벌 경기 침체를 극복해야 할 시기에 새로운 영역에 도전하는 기업의 신제품 개발은 국민 경제 활성화에 기여하고 있다.


- ① 기업의 기술 혁신은 경제 발전에 도움이 된다.
 ② 기업의 의사 결정은 정부 실패를 보완하는 역할을 한다.
 ③ 기업은 소비자와의 관계에서 사회적 책임을 다해야 한다.
 ④ 소비자의 합리적 소비는 기업의 의사 결정에 영향을 준다.
 ⑤ 기업을 운영할 때 기업 윤리를 최우선의 가치로 생각해야 한다.

11. 그림은 가격 변화에 따른 A재의 판매 수입 변화율과 B재의 수요량의 변화율을 나타낸다. 이에 대한 분석으로 옳은 것은? [3점]



- ① 2014년의 A재는 수요의 가격 탄력성이 1보다 크다.
- ② 2014년의 B재는 수요의 가격 탄력성이 완전 탄력적이다.
- ③ 2015년의 B재는 가격 변화 후에도 판매 수입의 변화가 없다.
- ④ 2015년은 A, B재 모두 수요의 가격 탄력성이 단위 탄력적이다.
- ⑤ 2014년의 A재보다 2015년의 B재 수요의 가격 탄력성이 더 작다.

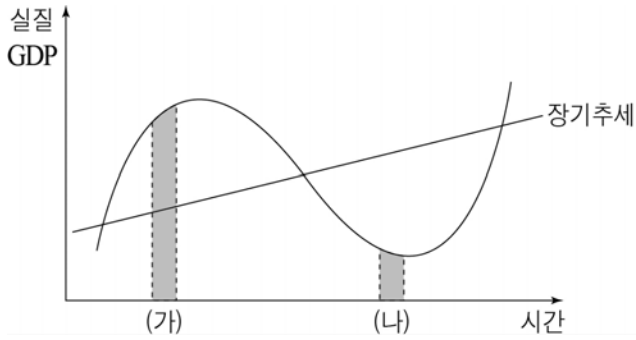
12. 다음 대화에 대한 분석으로 옳은 것은? (단, 동일한 고용 통계 지표를 바탕으로 나눈 대화이며, 모두 옳은 진술이다.) [3점]



* 고용률(%) = $\frac{\text{취업자 수}}{\text{15세 이상 인구}} \times 100$

- ① 15세 이상 인구가 변함없다면, 경제 활동 인구는 증가한 것이다.
- ② 15세 이상 인구가 변함없다면, 취업자가 실업자보다 더 큰 비율로 감소한 것이다.
- ③ 경제 활동 인구가 변함없다면, 취업자는 감소한 것이다.
- ④ 경제 활동 인구가 변함없다면, 실업자와 비경제 활동 인구는 모두 감소한 것이다.
- ⑤ 경제 활동 인구가 변함없다면, 15세 이상 인구가 취업자보다 더 많이 증가한 것이다.

13. 그림은 경기 변동을 나타낸다. (가), (나)시기에 경기를 안정화시킬 수 있는 정책으로 옳은 것은?



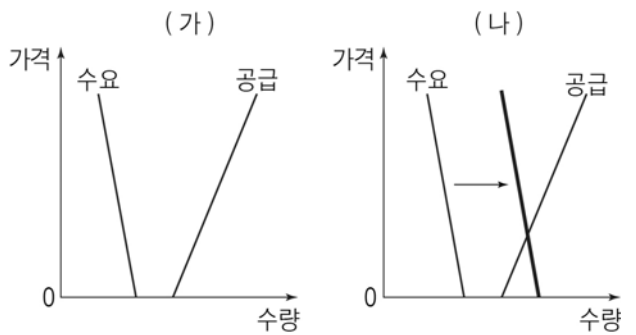
- | (가) | (나) |
|-------------|-----------|
| ① 세율 인상 | 지급 준비율 인상 |
| ② 국공채 매입 | 세율 인하 |
| ③ 재할인을 인상 | 국공채 매각 |
| ④ 정부 지출 축소 | 재할인을 인하 |
| ⑤ 지급 준비율 인하 | 정부 지출 확대 |

14. 다음 자료에 대한 분석으로 옳은 것은? (단, X, Y재는 수요와 공급의 법칙을 따르며, X재의 수요 곡선과 공급 곡선은 상호 대칭이다. Y재의 공급은 변동이 없다.) [3점]

X재의 원자재 가격은 하락하고, X재를 선호하는 수요자가 증가하여 X재의 가격은 하락하고 거래량은 증가하였다. 이에 따라 X재와 대체 관계에 있는 Y재 시장의 가격과 거래량이 모두 변화하였다.

- ① X재의 판매 수입은 감소한다.
- ② X재는 수요의 변동 폭이 공급의 변동 폭보다 크다.
- ③ Y재의 수요는 증가한다.
- ④ Y재의 가격은 상승한다.
- ⑤ Y재의 거래량은 감소한다.

15. (가), (나)에 대한 옳은 분석을 <보기>에서 고른 것은?

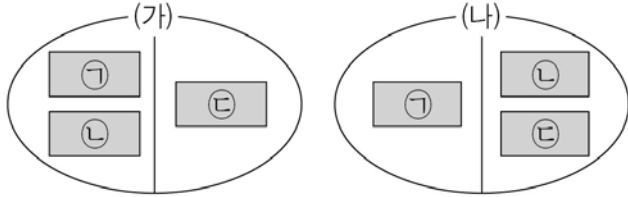


— <보 기> —

ㄱ. (가)는 사용해도 만족을 느낄 수 없는 재화를 나타낸다.
ㄴ. (가)는 판매 가격이 너무 높아서 소비가 이루어지지 않는 경우를 나타낸다.
ㄷ. (나)는 희소성이 있는 재화로 변화된 것을 나타낸다.
ㄹ. (나)는 대가를 지불해야 소비할 수 있는 재화로 변화된 것을 나타낸다.

- ① ㄱ, ㄴ ② ㄱ, ㄷ ③ ㄴ, ㄷ ④ ㄴ, ㄹ ⑤ ㄷ, ㄹ

16. 그림은 경합성과 배제성의 유무에 따라 재화 ㉠ ~ ㉣을 구분한 것이다. 이에 대한 옳은 설명을 <보기>에서 고른 것은? [3점]



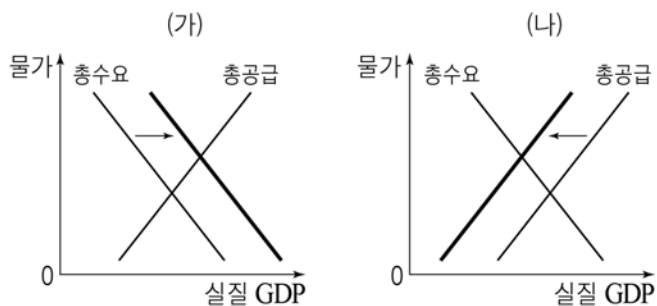
* ㉠ ~ ㉣은 각각 자동차, 유료 케이블 방송, 공해상의 물고기 중 하나이며, 같은 영역에 있는 것은 유사한 특징을 지닌다.

<보 기>

- ㄱ. (가)가 경합성이면 ㉣은 자동차이다.
 ㄴ. (나)가 배제성이면 ㉠은 공해상의 물고기이다.
 ㄷ. ㉣이 유료 케이블 방송이면 (나)는 경합성이다.
 ㄹ. (가)가 배제성이고 (나)가 경합성이면 ㉡은 자동차이다.

- ① ㄱ, ㄴ ② ㄱ, ㄷ ③ ㄴ, ㄷ ④ ㄴ, ㄹ ⑤ ㄷ, ㄹ

17. (가), (나)는 인플레이션의 발생 유형을 나타낸다. 이에 대한 옳은 분석을 <보기>에서 고른 것은?

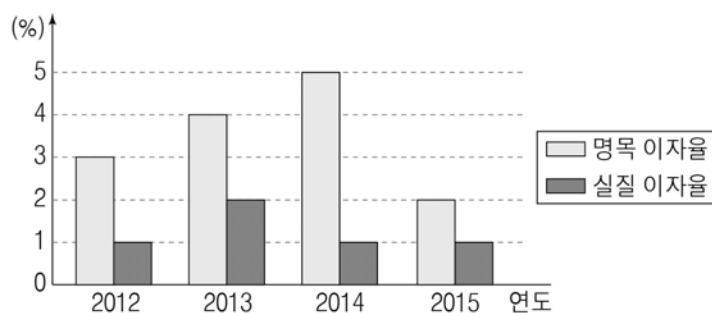


<보 기>

- ㄱ. (가)는 스태그플레이션이 발생할 가능성이 높다.
 ㄴ. (가)의 요인으로 기업의 투자 증가를 들 수 있다.
 ㄷ. 기술 발전을 통해 기업이 생산비를 절감한다면 (나)를 해결할 수 있다.
 ㄹ. 재정 정책은 (가)와 달리 (나)를 해결하는데 효과적이다.

- ① ㄱ, ㄴ ② ㄱ, ㄷ ③ ㄴ, ㄷ ④ ㄴ, ㄹ ⑤ ㄷ, ㄹ

18. 그림에 대한 분석으로 옳은 것은? [3점]



- ① 2014년은 예금보다 현금 보유가 유리하다.
 ② 2015년의 물가 수준이 가장 높다.
 ③ 2015년의 물가 상승률은 음(-)의 값을 갖는다.
 ④ 2012년과 2013년의 물가 수준은 동일하다.
 ⑤ 동일한 금액을 1년간 예금한 경우 은행에서 받는 이자가 가장 적은 해는 2014년이다.

19. 다음 자료에 대한 옳은 분석을 <보기>에서 고른 것은?

<갑의 금융 상품 보유액>			<을의 금융 상품 보유액>		
(단위: 천 원)			(단위: 천 원)		
구분	2013년 7월 1일	2015년 7월 1일	구분	2013년 7월 1일	2015년 7월 1일
예금	2,000	4,200	예금	4,000	4,410
주식	3,000	1,000	펀드	2,000	1,800
보험	2,000	2,000	채권	1,500	1,500
연금	1,000	1,050	연금	500	600
합계	8,000	8,250	합계	8,000	8,310

* 갑은 을과 달리 금융 자산 재구성을 시행하였다.
 ** 갑, 을 모두 2013년 이후 추가적으로 투자한 금액은 없다.


<보 기>

- ㄱ. 갑은 미래의 위험에 대비한 금융 상품에 가입하였다.
 ㄴ. 갑은 수익성보다 안전성을 중시하는 방향으로 금융 상품을 재구성하였다.
 ㄷ. 을은 2013년 7월 1일에 연 5%의 단리 예금 상품에 가입하였다.
 ㄹ. 을은 갑과 달리 노후 보장이 주목적인 금융 상품 보유액이 증가하였다.

- ① ㄱ, ㄴ ② ㄱ, ㄷ ③ ㄴ, ㄷ ④ ㄴ, ㄹ ⑤ ㄷ, ㄹ

20. 다음 자료에 대한 옳은 추론만을 <보기>에서 있는 대로 고른 것은? [3점]

우리나라의 갑 기업은 일본에서, 일본의 을 기업은 중국에서 부품을 수입하여 제품을 생산하고 있다. 갑과 을 기업 모두 미국에 제품을 수출하고 있다.



<보 기>

- ㄱ. 위안화에 대한 원화의 가치는 하락할 것이다.
 ㄴ. 달러화에 대한 원화의 가치는 상승할 것이다.
 ㄷ. 갑 기업의 경우 제품의 생산 비용이 증가할 것이다.
 ㄹ. 을 기업의 경우 가격 경쟁력 향상을 위해서 부품 수입 국가를 다변화할 필요성이 높아질 것이다.

- ① ㄱ, ㄴ ② ㄴ, ㄷ ③ ㄷ, ㄹ
 ④ ㄱ, ㄴ, ㄹ ⑤ ㄱ, ㄷ, ㄹ

* 확인 사항

- 답안지의 해당란에 필요한 내용을 정확히 기입(표기)했는지 확인하시오.