

2010학년도 3월 고3 전국연합학력평가 문제지

제 4 교시 사회탐구 영역(법과 사회)

성명

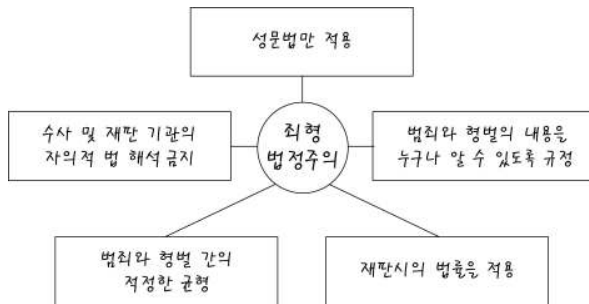
수험 번호

3

1

- 자신이 선택한 과목의 문제지인지 확인하시오.
- 문제지의 해당란에 성명과 수험 번호를 정확히 쓰시오.
- 답안지의 해당란에 성명과 수험 번호를 쓰고, 또 수험 번호와 답을 정확히 표시하시오.
- 선택한 과목 순서대로 문제를 풀고, 답을 표시하시오.
- 문항에 따라 배점이 다르니, 각 물음의 끝에 표시된 배점을 참고하시오. 3점 문항에만 점수가 표시되어 있습니다. 점수 표시가 없는 문항은 모두 2점입니다.

1. 그림은 어느 학생이 죄형 법정주의의 파생 원칙을 정리한 것이다. 잘못 정리한 원칙은?



- ① 명확성의 원칙 ② 적정성의 원칙
③ 관습형법 금지의 원칙 ④ 유추 해석 금지의 원칙
⑤ 형법 효력 불소급의 원칙

2. 다음은 교사가 어떤 행정 구제 제도를 설명하기 위해 준비한 자료이다. 교사가 설명하고자 하는 제도에 대해 바르게 진술한 학생을 <보기>에서 고른 것은?

보상 계획 공고

○○군이 시행하는 ◇◇지역 도로 개설 공사 등을 위한 편입 토지의 보상 계획을 「공익사업을 위한 토지 등의 취득 및 보상에 관한 법률」 제15조 규정에 의거 다음과 같이 공고합니다.

1. 사업명 : ◇◇지역 도로 개설 공사
2. 사업 시행자 : ○○군수

<보 기>

갑 : 사회적 공평 부담의 원칙을 토대로 해.
을 : 행정 작용에 대한 사법(司法)적 구제 수단이야.
병 : 보상 금액에 대해 불복할 경우 행정 심판을 제기할 수 있어.
정 : 위법한 행정 작용으로 인해 발생한 재산상의 피해를 구제해주는 제도야.

- ① 갑, 을 ② 갑, 병 ③ 을, 병 ④ 을, 정 ⑤ 병, 정

3. (가)와 (나) 사례에서 손해 배상 책임을 질 수 있는 사람을 있는 대로 고른 것은? [3점]

- (가) A가 운영하는 식당에서 아르바이트를 하던 B는 실수로 뜨거운 음식물을 었걸렸고, 그 결과 옆에 있던 손님이 큰 화상을 입었다.
(나) C가 만 5세인 유치원생 아들 D와 귀가하던 중 잠시 편의점에서 물건을 사고 있는 사이, D가 장난삼아 던진 돌에 주차되어 있던 자동차의 유리창이 파손되었다.

- | | | | |
|--------|------|--------|-----|
| (가) | (나) | (가) | (나) |
| ① A | D | ② B | C |
| ③ B | C, D | ④ A, B | C |
| ⑤ A, B | C, D | | |

4. 다음 판결에 적용된 법 원칙으로 가장 적절한 것은?

원고가 ○○군에 인도(引渡)를 요구한 도로는 S고로 진입하는 길로 30년 동안 주민들의 통행로로 이용되어 왔다. 따라서 이 부분이 폐쇄될 경우 S고 학생과 주민들의 통행이 매우 곤란해지고, ○○군은 새로운 통행로를 개설해야 하는 큰 부담을 지게 된다. 이에 반해 원고가 통행로를 폐쇄하는 방법으로 소유권을 행사하여 얻는 이익은 크지 않으므로 원고의 청구는 허용될 수 없다.

- ① 권리 남용 금지의 원칙 ② 자력 구제 금지의 원칙
③ 계약 공정의 원칙 ④ 사적 자치의 원칙
⑤ 과실 책임의 원칙

5. 그림의 ㉠, ㉡에 해당되는 소송이나 심판의 종류를 바르게 연결한 것은?



- | | |
|--------------|------------|
| ㉠ | ㉡ |
| ① 기관 소송 | 취소 심판 |
| ② 기관 소송 | 의무 이행 심판 |
| ③ 취소 소송 | 취소 심판 |
| ④ 취소 소송 | 무효 등 확인 심판 |
| ⑤ 무효 등 확인 소송 | 무효 등 확인 심판 |

6. 다음은 ○○ 인터넷 사이트에 게시된 글이다. 옳은 내용의 댓글을 단 사람은?

3일 전에 인터넷 쇼핑몰에서 200만 원을 지불하고 드럼 세탁기를 구입했습니다. 어제 드럼 세탁기가 배달되었는데 고가인 상품을 충동적으로 구입한 것 같아 너무 괴롭습니다. 약관에 '단순 번심으로는 철회할 수 없다.'는 조항이 포함되어 있습니다. 어떻게 해야 하나요?

- ㄱ 갑 : 드럼 세탁기에 하자가 있는 경우에만 철회가 가능합니다.
- ㄴ 을 : 드럼 세탁기를 담은 상자를 뜯었다면 철회가 불가능합니다.
- ㄷ 병 : 약관에도 불구하고 단순 번심을 이유로 계약을 철회할 수 있습니다.
- ㄹ 정 : 제조물책임법에 의거하여 제조업자에게 무과실 책임을 물을 수 있습니다.
- ㅁ 무 : 드럼 세탁기 판매 업체에 정신적 피해에 대한 위자료를 청구할 수 있습니다.

- ① 갑 ② 을 ③ 병 ④ 정 ⑤ 무

7. 다음은 헌법재판소 결정문의 일부이다. 이에 대해 옳은 진술을 한 사람을 <보기>에서 고른 것은? [3점]

[심판 대상 조문]

㉠ 군인연금법 제33조 제1항 제1호

[당사자]

제청법원 ㉡ ○○법원

제청신청인 ㉢ 홍□□

당해사건 ㉣ ○○법원 2007누 7125 군인연금 지급 제한 등 처분 취소

[주 문]

군인연금법 제33조 제1항 제1호는 헌법에 합치되지 아니한다.

[이 유]

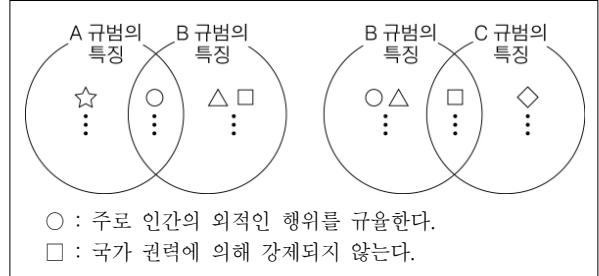
공무원연금법상 공무원 또는 공무원이었던 자의 경우에는 재직 중의 사유로 금고 이상의 형을 받았다고 하더라도 연금 일부 지급 정지의 기본권 제한을 받지 않고 있는데 비해 군인은 아직도 그러한 제한을 받고 있어 헌법상 평등의 원칙에 위반된다고 볼 수 있다.

<보 기>

- 갑 : ㉠의 위헌 여부가 ㉣ 재판의 전제가 되었을 거야.
 을 : 위헌 법률 심사형 헌법 소원 사건에 대한 결정문이군.
 병 : 헌법재판소는 ㉠이 '같은 것을 다르게' 취급하고 있다고 보았어.
 정 : ㉢의 제청 신청이 없었다면 ㉡은 직권으로 위 심판을 청구할 수 없었을 거야.

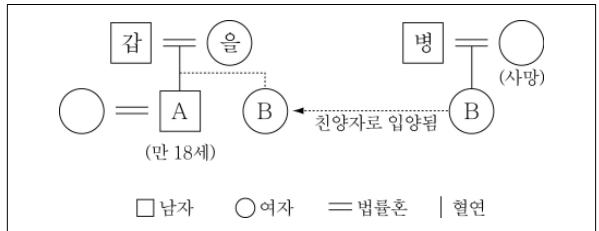
- ① 갑, 을 ② 갑, 병 ③ 을, 병 ④ 을, 정 ⑤ 병, 정

8. 그림의 A~C 규범에 대한 설명으로 옳은 것은? (단, A~C 규범은 법, 도덕, 관습 중 하나에 해당한다.) [3점]



- ① B 규범은 C 규범과 달리 상위 법칙의 지배를 받는다.
- ② A 규범은 선(善)의 실현, C 규범은 정의의 실현을 목적으로 한다.
- ③ 일반적으로 민사에 관하여 B 규범이 A 규범에 우선하여 적용된다.
- ④ A 규범은 권리와 의무 모두를 규율하나, C 규범은 주로 의무를 규율한다.
- ⑤ C 규범은 A 규범과 달리 그 내용과 집행 및 제재의 방법이 제도화되어 있다.

9. 그림의 가계도를 보고 법적으로 옳게 분석한 내용을 <보기>에서 고른 것은? [3점]



<보 기>

- ㄱ. A는 부모의 동의 없이 이혼할 수 있다.
- ㄴ. B는 병의 재산을 상속받을 수 있다.
- ㄷ. 갑이 사망할 경우 을이 A의 친권자가 된다.
- ㄹ. 갑과 을의 재산에 대한 A와 B의 법정 상속분은 동일하다.

- ① ㄱ, ㄴ ② ㄱ, ㄷ ③ ㄱ, ㄹ ④ ㄴ, ㄹ ⑤ ㄷ, ㄹ

10. 그림에서 공통적으로 파악할 수 있는 내용으로 가장 적절한 것은?



- ① 민법에 정해진 요건을 갖추어야 유언의 효력이 발생한다.
- ② 의사 능력이 없는 상태에서 이루어진 유언은 무효이다.
- ③ 유언의 효력은 유언자가 사망한 때로부터 발생한다.
- ④ 유언은 유언자의 최종적 의사를 존중하는 제도이다.
- ⑤ 유언은 단독적 법률 행위에 해당된다.

사회탐구 영역(법과 사회)

3

법과 사회

11. 다음 사례에 대한 법적 판단으로 옳은 것은? [3점]

사업을 통해 크게 성공한 갑은 미혼인 두 자녀 A, B와 함께 여행을 떠났다. 그런데 여행 도중 교통사고를 당해 A는 그 자리에서 사망하였고, 갑과 B는 병원으로 옮겨졌다. B는 구사일생으로 살아났으나 갑은 수술 도중 사망하고 말았다. 갑의 또 다른 유족으로는 부인 을과 노모(老母)인 병이 있고, 갑은 수술 직전에 '자신의 전 재산 70억 원을 병에게 주겠다.'는 취지의 법적 효력이 있는 유언을 하였다.

- ① 갑의 법정 상속권자는 을, 병, B이다.
- ② 을이 청구 가능한 유류분은 B보다 7억 원이 더 많다.
- ③ 갑의 유언이 없었을 경우 을은 갑의 재산 중 총 50억 원을 상속받았을 것이다.
- ④ 모든 유족의 유류분권이 행사될 경우 B가 갑의 재산을 가장 많이 받게 될 것이다.
- ⑤ 교통사고로 갑, A, B가 동시에 사망하였을 경우 을이 유일한 법정 상속권자가 되었을 것이다.

12. 다음은 법률 상담 인터넷 사이트에 게시된 질문과 답변 내용이다. 이에 대한 옳은 분석을 <보기>에서 고른 것은? [3점]

질문 : 보증금 9천만 원에 임대차 계약을 체결하려 합니다. 어떤 점에 유의해야 할까요?
 답변 : (1) 계약 전 다음의 사항들을 꼼꼼히 확인하세요.
 ㉠ 등기부에 저장권 등 선순위 권리가 존재하는가?
 ㉡ 경매 시 예상되는 낙찰가는 얼마인가?
 (2) 이사 후 동사무소에서 전입신고를 하고 계약서에 확정일자를 받으세요.

<보기>

- ㄱ. ㉠은 등기부의 을구에서 확인할 수 있다.
- ㄴ. (2)에 제시된 모든 요건을 갖추어야만 임차권에 대한력이 인정된다.
- ㄷ. ㉡의 낙찰가가 ㉠의 저장권 등 설정 금액보다 크면 보증금 전액 회수가 보장된다.
- ㄹ. ㉠의 선순위 권리가 (2)를 이행한 임차권자보다 우선하여 채권을 회수할 수 있다.

- ① ㄱ, ㄴ ② ㄱ, ㄷ ③ ㄴ, ㄷ ④ ㄴ, ㄹ ⑤ ㄷ, ㄹ

13. 다음 갑과 을의 법적 지위에 대한 설명으로 옳은 것은?

- 갑(만 41세)은 교통사고 후유증으로 청력을 잃어 대부분의 일을 갑의 부인이 대신하고 있다.
- 대학생 을(만 18세)은 부동산에 관한 공부를 열심히 하여 최근 공인중개사 자격증을 취득하였다.

- ① 을과 달리 갑은 행위 무능력자로 분류된다.
- ② 을은 단독으로 유효한 부동산 매매 계약을 체결할 수 있다.
- ③ 갑의 부인은 갑이 단독으로 체결한 계약을 취소할 수 있다.
- ④ 갑의 재산법상 법률행위는 갑의 부인이 대리하여야 유효하다.
- ⑤ 을이 혼인하면 갑과 을의 재산법상 행위 능력이 동일해진다.

14. 다음 자료와 관련하여 옳은 진술을 한 사람을 <보기>에서 고른 것은? [3점]

2008. 5. 검찰, K씨를 ㉠ 「집회 및 시위에 관한 법률」 제10조* 위반 혐의로 기소함.
2009. 9. 헌법재판소, 「집회 및 시위에 관한 법률」 제10조가 위헌이라고 판단했지만, 법의 공백과 사회적 혼란을 피하기 위해 2010년 6월 30일까지 법 조항의 효력을 유지하라는 헌법불합치 결정을 내림.
2009. 10. A 법원 형사 단독부, 헌법불합치 결정으로 「집회 및 시위에 관한 법률」 제10조의 위헌성이 확인된 이상, 이에 근거하여 유죄 판결을 내리면 2010년 7월 1일 이후에 과거의 유죄 판결을 번복해야 하는 상황이 올 것이라며 K씨에게 ㉡ 무죄 판결을 내림.

* 「집회 및 시위에 관한 법률」 제10조 : 누구든지 해가 뜨기 전이나 해가 진 후에는 옥외 집회 또는 시위를 하여서는 아니 된다. ... (후략)

<보 기>

갑 : ㉠은 '기본권 보장을 위한 기본권'에 해당하는 기본권을 제한하기 위한 조항이야.
 을 : 검찰이 ㉡에 대해 항소할 경우, 항소심은 A 법원에서 담당해.
 병 : A 법원은 K씨의 행위에 책임성이 없다고 판단하였어.
 정 : 헌법재판소와 A 법원 모두 법적 안정성을 고려하였군.

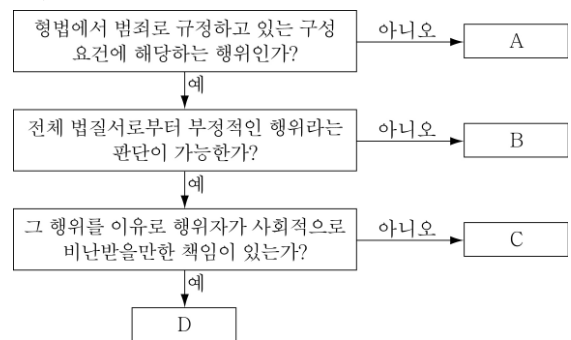
- ① 갑, 을 ② 갑, 병 ③ 을, 병 ④ 을, 정 ⑤ 병, 정

15. <자료 1>에 나타난 갑과 을의 행위가 <자료 2>의 A~D 중 어디에 해당하는지 바르게 연결한 것은?

<자료 1>

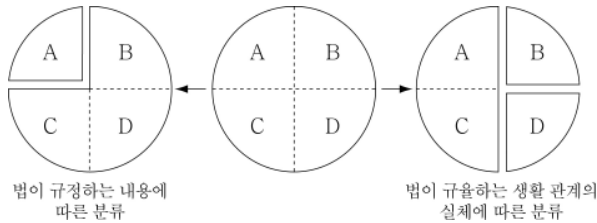
- 심신 상실자 갑(만 28세)이 아무 이유없이 행인에게 돌을 던져 상해를 입혔다.
- 을(만 31세)은 마약의 원료로 사용되는 양귀비를 대량으로 재배하여 판매하였다.

<자료 2>



- | 갑의 행위 | 을의 행위 | 갑의 행위 | 을의 행위 |
|-------|-------|-------|-------|
| ① A | B | ② B | C |
| ③ B | D | ④ C | B |
| ⑤ C | D | | |

16. 그림은 성문법 A~D를 일정한 기준에 의해 분류한 것이다. A~D에 대한 옳은 설명을 <보기>에서 고른 것은? (단, A~D는 형법, 민법, 근로기준법, 형사소송법 중 하나에 해당한다.) [3점]



- <보 기>
- ㄱ. A와 C는 일반법과 특별법의 관계에 있다.
 ㄴ. B와 D는 공권력 관계를 규율하는 법이다.
 ㄷ. B, C, D는 A와 달리 실체법으로 분류된다.
 ㄹ. C를 위반한 자는 A에 정해진 절차에 의해 재판을 받는다.

- ① ㄱ, ㄴ ② ㄱ, ㄷ ③ ㄴ, ㄷ ④ ㄴ, ㄹ ⑤ ㄷ, ㄹ

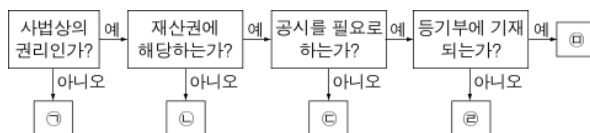
17. 다음에 제시된 두 제도를 실시하는 취지로 적절한 내용을 <보기>에서 고른 것은?

- 저작권의 침해가 경미한 경우 침해자에게 일정 시간의 저작권 교육을 이수하도록 하는 조건으로 기소유예 처분하는 '저작권 교육 조건부 기소유예 제도' 실시
- 저작권 침해로 처음 고소된 미성년자에 대해서는 고소 사건을 종료하는 '고소장 각하 제도' 실시

- <보 기>
- ㄱ. 저작물의 보호 범위 확대
 ㄴ. 저작권 관련 전과자 양산 방지
 ㄷ. 저작권 침해에 대한 무차별적인 고소 억제
 ㄹ. 저작권법 위반에 대한 형사 처벌 방법의 다양화

- ① ㄱ, ㄴ ② ㄱ, ㄷ ③ ㄴ, ㄷ ④ ㄴ, ㄹ ⑤ ㄷ, ㄹ

18. ㉠~㉥에 해당하는 권리를 행사한 사례로 적절한 것은? [3점]



- ① ㉠ - 갑은 손님이 세탁비를 주지 않자, 세탁물의 반환을 거부하였다.
 ② ㉡ - 을은 공무원의 불법 행위로 입은 손해에 대해 배상해줄 것을 국가에 청구하였다.
 ③ ㉢ - 병은 채무 상환일에 채무자에게 빌려간 돈을 갚으라고 요구하였다.
 ④ ㉣ - 정은 자기 소유의 주택을 고등학교 동창 친구에게 매도하였다.
 ⑤ ㉥ - 무는 사촌 동생에게 빌려간 노트북을 돌려 달라고 요구하였다.

19. 다음은 법 해석과 관련된 자료이다. 표의 (가)~(라)에 들어갈 말로 옳은 것은? [3점]

<A 해석과 B 해석의 사례>

- A 해석 : 자동차로 분류되는 자전거는 교량 보호를 위한 '차량 통행 금지' 규정의 차량에는 포함되지 않는다.
- B 해석 : '유치권의 행사는 채권의 소멸시효의 진행에 영향을 미치지 아니한다.'는 규정은 이러한 규정이 없는 질권에도 적용된다.

<A 해석과 B 해석의 특징>

문항	A 해석	B 해석
논리적 사고를 통해 법의 진의를 확정합니까?	(가)	(나)
형법에서 원칙적으로 금지됩니까?	(다)	(라)

- | | (가) | (나) | (다) | (라) |
|---|-----|-----|-----|-----|
| ① | 예 | 예 | 예 | 아니오 |
| ② | 예 | 예 | 아니오 | 예 |
| ③ | 예 | 아니오 | 아니오 | 예 |
| ④ | 아니오 | 예 | 예 | 아니오 |
| ⑤ | 아니오 | 예 | 아니오 | 예 |

20. 밑줄 친 ㉠~㉥에 대한 옳은 설명을 <보기>에서 고른 것은?

㉠소년법

제4조 ① 다음 각 호의 어느 하나에 해당하는 소년은 소년부의 보호 사건으로 심리한다.

- ㉠죄를 범한 소년
- ㉡형법 법령에 저촉되는 행위를 한 10세 이상 14세 미만의 소년
- ㉢다음 각 목에 해당하는 사유가 있고 그의 성격이나 환경에 비추어 앞으로 형법 법령에 저촉되는 행위를 할 우려가 있는 10세 이상의 소년

가. 집단적으로 몰려다니며 주위 사람들에게 불안감을 조성하는 성벽이 있는 것

:

<보 기>

ㄱ. 형법이 개정되면 기존의 ㉠보다 우선 적용된다.

ㄴ. ㉠에 해당될 수 있는 자는 죄를 범한 만 14세 이상 만 19세 미만의 자이다.

ㄷ. ㉡은 죄가 무거운 경우 형법을 부과받을 수 있다.

ㄹ. ㉢은 촉법 소년, ㉣은 우범 소년에 해당한다.

- ① ㄱ, ㄴ ② ㄱ, ㄷ ③ ㄴ, ㄷ ④ ㄴ, ㄹ ⑤ ㄷ, ㄹ

※ 확인 사항

문제지와 답안지의 해당란을 정확히 기입(표기)했는지 확인하십시오.