

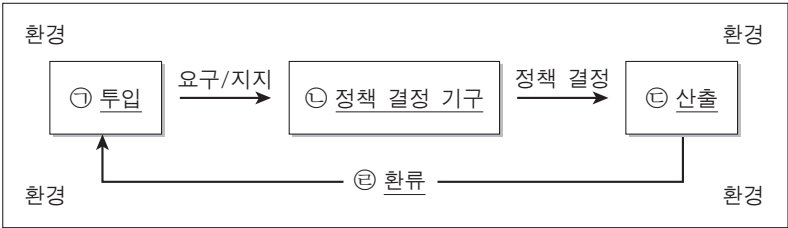
제 4 교시

사회탐구 영역(법과 정치)

성명

수험 번호

1. 그림은 정치 체계론 모형이다. 밑줄 친 ㉠~㉣에 대한 설명으로 옳지 않은 것은?



- ① 정치 효능감이 높은 국가에서는 ㉠이 활성화된다.
- ② 입법부와 행정부는 ㉡에 해당한다.
- ③ 권위주의 국가에서는 ㉠이 ㉡보다 영향력이 강하다.
- ④ 민주주의 국가에서는 ㉢에 ㉠이 잘 반영된다.
- ⑤ ㉣은 ㉢이 환경에 영향을 미치고, 이것이 다시 ㉠에 영향을 미치는 과정이다.

2. 갑~병은 대표적인 근대 사회 계약론자이다. 이들에 대한 설명으로 옳은 것은? [3점]

갑: 자연 상태에서 인간은 서로가 서로를 위협하는 투쟁 상태에 있다. 이러한 투쟁 상태에서 안전과 질서를 확보하기 위하여 사회 구성원은 서로 계약을 통해 국가를 만든다.

을: 자연 상태는 자유롭고 평화롭지만, 옳고 그름을 구별하는 법이 없고, 다툼을 해결해 주는 재판관도 없으며, 법을 집행할 수 있는 합리적 권력도 없다. 이러한 불안정한 상태를 예방하고 자유와 평등을 보장하기 위하여 사회 구성원은 계약을 통해 국가를 만든다.

병: 자연 상태는 평등한 상태이지만, 사적 소유로 인해 불평등이 조성되었다. 이에 사람들은 자신들의 자유와 평등을 보장하기 위하여 국가를 만든 것이며, 국가는 국민들의 직접적인 의사에 따라 운영되어야 한다.

- ① 갑은 자연 상태에서 죽음에 대한 공포를 강조하고, 사회 계약의 동기는 개인의 자기 보존 욕구라고 주장하였다.
- ② 을은 국가가 일반 의지에 따라 형성되었음을 강조하고, 국민 주권론을 피력하였다.
- ③ 병은 국가 권력의 이런 분립과 저항권을 주장하고, 개인 간의 평등을 위해 사유 재산권의 제한을 인정하였다.
- ④ 갑은 절대 군주제를, 을은 직접 민주제를, 병은 대의제를 주장하였다.
- ⑤ 갑, 을, 병 모두 국가는 수단이 아니라 목적이라는 입장을 취하고 있다.

3. 다음에 나타난 정치권력에 대한 옳은 설명만을 <보기>에서 있는 대로 고른 것은?

정치권력은 일방적인 힘의 행사만을 의미하지는 않는다. 정치권력이 행사되기 위해서는 통치자의 강제력뿐 아니라 피치자의 자발적인 복종 의사 또한 필요하다. 정당성은 피치자가 정치권력을 정당한 것으로 인정하여 자발적으로 따르는 것과 깊은 연관이 있다. 정당성을 상실한 정치권력은 국민들의 저항에 직면할 수 있다. 결국 정치권력은 정당성을 확보하는 것이 중요하다. 그 정당성은 정치권력이 민주주의 이념과 원리에 충실하고 합법성을 지녔을 때 확보된다. 이때 합법성은 정치권력이 법적 절차에 의해 형성되고 법에 근거하여 행사 되는 것을 의미한다.

- < 보 기 >—
- ㄱ. 정치권력이 합법적으로 행사되면 정당성이 확보된다.
 - ㄴ. 정치권력의 정당성은 국민의 자발적인 동의와 합의에 의해 형성된다.
 - ㄷ. 정치권력이 제대로 기능하기 위해서는 정당성과 강제력이 함께 확보되어야 한다.
 - ㄹ. 정치권력이 민주주의의 이념과 원리에 어긋날 경우 국민들의 저항에 직면할 수 있다.

- ① ㄱ, ㄴ ② ㄱ, ㄷ ③ ㄷ, ㄹ
- ④ ㄱ, ㄴ, ㄹ ⑤ ㄴ, ㄷ, ㄹ

4. 다음은 전형적인 정부 형태 A, B의 구성 방식을 비교한 것이다. 질문에 대한 답변이 모두 옳은 것은? [3점]

A	B
국민에 의해 선출된 행정부 수반이 정치권력의 정당성을 부여받아 실권을 쥐고 행정부를 구성한다.	의회 내 다수당이 내각을 구성하고 의회에서 선출된 행정부 수반이 정치적 실권을 장악한다.

	질문	답변	
		A	B
①	사법부의 독립이 보장되는가?	예	아니요
②	의원은 각료를 겸직할 수 있는가?	예	아니요
③	행정부 수반의 임기가 보장되는가?	아니요	예
④	행정부가 입법부에 연대 책임이 있는가?	아니요	예
⑤	행정부 수반에게 법률안 거부권이 있는가?	아니요	예

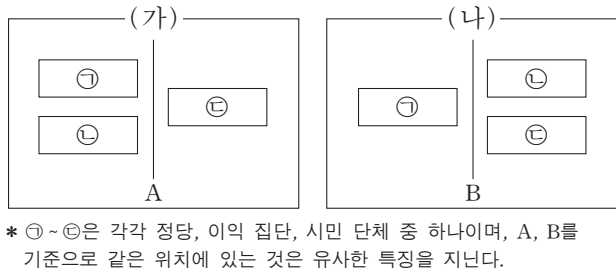
5. 자료에 대한 분석 및 추론으로 가장 적절한 것은? [3점]

전형적인 정부 형태를 지닌 A국은 소선거구제를 통해 의회 의원을 선출한다. 단, A국의 모든 선거에서 후보자는 정당을 통해서만 공천되고, 선거 제도가 변경되어도 지지하는 정당과 투표율은 변함이 없다.

〈A국의 선거 결과〉 (단위: %)

구분	갑당		을당		병당	
	득표율	의석률	득표율	의석률	득표율	의석률
2006년	37	38	41	57	22	5
2010년	38	46	38	48	24	6

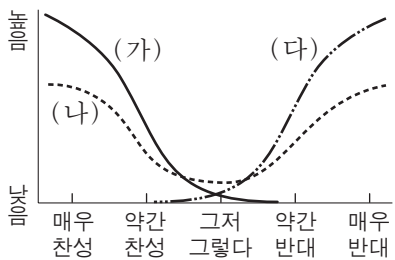
- ① 갑당, 을당과 달리 병당은 과대 대표되었다.
 ② 비례 대표제를 적용하면 병당보다 을당이 유리하다.
 ③ 의원 내각제 국가라면 2006년에는 연립 정부가 구성된다.
 ④ 대통령제 국가라면 2010년에는 여소야대의 정국이 형성된다.
 ⑤ 투표율이 높아지면 세 정당 모두 득표율과 의석률의 차이는 줄어든다.
6. 그림은 전형적인 정치 참여 집단 ㉠~㉣을 A, B로 구분한 것이다. 이에 대한 옳은 설명만을 <보기>에서 있는 대로 고른 것은? [3점]



— < 보 기 > —

ㄱ. (가)에서 A가 '선거에서의 후보자 공천'이면, ㉣은 정당이다.
 ㄴ. (나)에서 ㉠이 이익 집단이면, B는 '특수 이익 추구'가 될 수 있다.
 ㄷ. A가 '정권 획득 추구'이고 B가 '공익 추구'이면, ㉡은 시민 단체이다.
 ㄹ. ㉣이 정당이면, A는 '정치적 책임'이고 B는 '의회와 정부의 매개 역할'이 될 수 있다.

- ① ㄱ, ㄴ ② ㄱ, ㄷ ③ ㄷ, ㄹ
 ④ ㄱ, ㄴ, ㄷ ⑤ ㄴ, ㄷ, ㄹ
7. 그림의 (가)~(다)는 여론 분포의 다양한 유형을 나타낸 것이다. 각 유형에 대한 설명으로 적절한 것은?



- ① (가)는 지배적인 여론이 형성되어 국민적 합의가 용이할 것이다.
 ② (나)는 정부의 정책 결정과 추진이 용이하게 이루어질 것이다.
 ③ (다)는 여론이 분산되어 사회가 불안정할 가능성이 높을 것이다.
 ④ (가)는 (다)보다 정부 정책에 대한 여론이 유동적일 것이다.
 ⑤ (나)는 합의형 여론 분포, (가)와 (다)는 분산형 여론 분포이다.

8. 그림에서 갑과 을이 말하고 있는 기본권에 대한 옳은 설명을 <보기>에서 고른 것은?



— < 보 기 > —

ㄱ. 갑이 주장하는 기본권은 소극적이고 방어적인 성격을 갖는다.
 ㄴ. 갑이 주장하는 기본권은 추상적이고 열거적인 성격을 갖는다.
 ㄷ. 을이 주장하는 기본권은 실질적 평등 이념에 기초한다.
 ㄹ. 을이 주장하는 기본권은 '기본권 보장을 위한 기본권'으로 불린다.

- ① ㄱ, ㄴ ② ㄱ, ㄷ ③ ㄴ, ㄷ ④ ㄴ, ㄹ ⑤ ㄷ, ㄹ

9. 밑줄 친 ㉠~㉣에 대한 옳은 설명만을 <보기>에서 있는 대로 고른 것은?

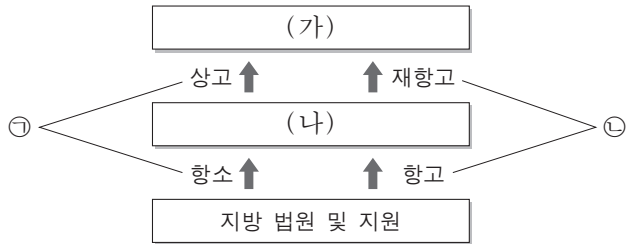
행정부가 비대해지고 전문 관료의 역할이 증대되면서 행정에 대한 통제 요구가 높아지고 있다. 우리나라에서 행정에 대한 통제 방법에는 크게 행정부 내부 통제, ㉠국회에 의한 통제, ㉡국민에 의한 통제, 사법부에 의한 통제 등이 있다. 특히 행정부의 수반인 대통령은 국가 원수로서 실질적인 권한을 가지고 있기 때문에 이러한 강력한 권한에 대한 통제가 필요하다. 그러나 현실적으로 ㉢탄핵을 제외하고는 대통령에 대한 직접적인 통제 수단이 없고, 다만 대통령의 권한 행사 방식에 대한 ㉣간접적인 통제 수단이 헌법에 규정되어 있을 뿐이다.

— < 보 기 > —

ㄱ. 국정 감사는 ㉠의 예가 된다.
 ㄴ. 헌법 소원은 ㉡의 예가 된다.
 ㄷ. 대통령에 대한 ㉢은 국회의 탄핵 소추 의결과 대법원의 판결로 결정된다.
 ㄹ. 대통령의 정책 결정에 대해 국무 회의의 심의를 거치게 하는 것은 ㉣의 예가 된다.

- ① ㄱ, ㄴ ② ㄴ, ㄷ ③ ㄷ, ㄹ
 ④ ㄱ, ㄴ, ㄹ ⑤ ㄱ, ㄷ, ㄹ

10. 그림은 우리나라의 사법 제도를 나타낸 것이다. 이와 관련된 설명으로 옳지 않은 것은? [3점]



- ① (가)는 공권력에 의한 기본권 침해에 대해 다른 구제 수단이 없을 때의 최종적인 구제 기관이다.
② (가)는 명령·규칙 또는 처분이 헌법이나 법률에 위반되는지 여부에 대한 최종 심사권을 가진다.
③ (나)는 고등 법원 또는 지방 법원 본원 합의부이다.
④ 국회의원 선거의 유·무효에 관한 재판은 (나)를 거치지 않고 (가)에서 단심으로 한다.
⑤ ㉠은 판결에 대한, ㉡은 명령이나 결정에 대한 이의 제기를 말한다.

11. 다음 사례에 대한 법적 판단으로 가장 적절한 것은?

고등학교 1학년 갑(만 16세)은 학습지를 판매하는 을과 상담을 하였다. 을은 갑이 미성년자이기에 학습지 구독에 대한 부모의 동의를 얻어 오라고 하였다. 갑은 부모가 없는 틈을 타서 부모의 인감 도장으로 동의서를 위조한 후 을에게 동의서를 보여 주었다. 이에 갑과 을은 학습지의 구독 기간과 구독료를 을이 마음대로 정할 수 있도록 구두 합의하였고, 을은 갑에게 일방적으로 불리하게 구독 기간과 구독료를 정하였다.

- ① 갑과 을은 계약서를 쓰기 전이므로 계약이 성립된 것은 아니다.
② 갑은 갑의 부모가 계약 취소를 반대해도 구독 계약을 취소할 수 있다.
③ 갑의 부모는 갑이 계약 취소를 반대해도 구독 계약을 취소할 수 있다.
④ 을은 갑과 갑의 부모에게 계약을 취소할 것인지에 대한 확답을 요구해야 한다.
⑤ 갑은 구독 계약에 대해 사회 질서에 반하는 법률 행위임을 이유로 무효를 주장할 수 있다.

12. 다음 사례에 대한 옳은 법적 판단을 <보기>에서 고른 것은?

○○시가 횡단보도에 설치한 보행자 신호등이 고장 나서 작동되지 않았다. 마침 A 버스 운송 회사 소속 운전자 갑이 회사 버스를 운행하여 고장 난 보행자 신호등 앞을 지나던 중 횡단보도를 건너던 보행자 을을 미처 발견하지 못하여 다치게 하였다.

—<보기>—

- ㄱ. 을은 A 버스 운송 회사를 상대로 손해 배상을 청구할 수 없다.
ㄴ. 을은 갑을 상대로 손해 배상을 청구할 수 있다.
ㄷ. 을은 ○○시를 상대로 손해 배상을 청구할 수 있다.
ㄹ. 을은 ○○시의 과실을 입증해야 손해 배상을 받을 수 있다.

- ① ㄱ, ㄴ ② ㄱ, ㄷ ③ ㄴ, ㄷ ④ ㄴ, ㄹ ⑤ ㄷ, ㄹ

13. 그림의 밑줄 친 '이 제도'에 해당하는 것을 <보기>에서 고른 것은? [3점]



—<보기>—

- ㄱ. 형사 보상 제도 ㄴ. 배상 명령 제도
ㄷ. 명예 회복 제도 ㄹ. 범죄 피해자 구조 제도

- ① ㄱ, ㄴ ② ㄱ, ㄷ ③ ㄴ, ㄷ ④ ㄴ, ㄹ ⑤ ㄷ, ㄹ

14. 그림은 ○○ 건물에 대한 등기부 등본의 일부이다. 이에 대한 분석으로 옳지 않은 것은? [3점]

(가)				
순위 번호	등기 목적	접수	등기 원인	권리자 및 기타 사항
1	소유권 보존	1998년 7월 20일		소유자 A (이하 생략)
2	소유권 이전	2011년 5월 12일	2011년 5월 10일 매매	소유자 B (이하 생략)

(나)				
순위 번호	등기 목적	접수	등기 원인	권리자 및 기타 사항
1	저당권 설정	2011년 5월 1일	2011년 5월 1일 설정 계약	저당권자 C (이하 생략)
2	전세권 설정	2012년 6월 1일	2012년 5월 7일 설정 계약	전세권자 D (이하 생략)

- ① (가)는 갑구이고, (나)는 을구이다.
② 위 문서는 ○○ 건물의 소유자 및 이해관계자만 열람할 수 있다.
③ 2011년 6월에 A에게 돈을 빌려 준 사람은 ○○ 건물을 가압류할 수 없다.
④ A가 C에게 ○○ 건물을 담보로 제공한 사실을 알 수 있다.
⑤ C는 ○○ 건물이 경매로 넘어갈 경우 D보다 우선 변제를 받을 수 있다.

15. 밑줄 친 ㉠~㉣에 대한 설명으로 옳지 않은 것은? [3점]

㉠ 부당 노동 행위 ➡ ㉡ 지방 노동 위원회 ➡ ㉢ 중앙 노동 위원회 ➡ ㉣ 법원

- ① ㉠에 대한 피해 구제 제도는 근로 3권의 보호를 목적으로 한다.
② ㉠의 예로 정당한 노동조합 활동을 이유로 근로자를 해고한 것을 들 수 있다.
③ ㉡을 통한 구제 신청은 근로자 개인뿐 아니라 노동조합도 가능하다.
④ ㉢의 재심 판정에 불복할 경우에는 ㉣에 행정 소송을 제기할 수 있다.
⑤ ㉣을 통한 분쟁의 해결은 ㉢에서 재심 과정이 있었으므로 단심제로 한다.

16. 다음 대화와 관련된 소비자의 권리로 가장 적절한 것은?

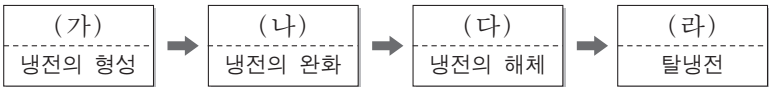


- ① 알 권리

② 선택할 권리
- ③ 의견을 반영할 권리

④ 피해를 보상받을 권리
- ⑤ 안전하고 쾌적한 환경에서 소비할 권리

17. 그림의 (가)~(라) 시기에 대한 설명으로 옳지 않은 것은?



- ① (가) 시기에 국제 사회에서는 자유주의적 관점에 기반을 둔 양극 체제가 형성되었다.
- ② (나) 시기는 공산주의와 자유주의 진영의 다원화, 비동맹 국가의 국제적 위상 강화 등을 통해 이루어졌다.
- ③ (다) 시기는 동유럽의 공산주의 포기, 독일 통일, 소련 해체 등을 통해 이루어졌다.
- ④ (라) 시기에 국제 사회에서는 이념보다 경제적 실리 추구가 중시되고 있다.
- ⑤ (가) 시기에서 (라) 시기로 이동하면서 국제 사회의 행위 주체는 전반적으로 다원화되고 있다.

18. 다음 기사의 A에 대한 옳은 설명을 <보기>에서 고른 것은?

제○○○○ 호 □□신문 2013년 ○월 ○일

일본 외교 청서 또 독도 도발 … 정부 항의

일본 외교 청서(한국의 외교 백서에 해당)는 올해도 '독도는 일본 땅'이라는 주장을 되풀이했다. …(중략)… 외교 청서는 "일본 정부는 독도 문제를 국제 연합(UN)의 사법 기관인 **A**에 회부할 것을 제안했으나 한국 정부는 거부했다."라고 덧붙였다. 이에 우리 정부는 "일본의 이러한 의도는 독도를 국제 분쟁 지역화하는 데 있다."라고 밝히고, "독도는 역사적, 지리적, 국제법적으로 명백히 대한민국의 영토 이므로 이에 응할 필요가 없다."라고 발표했다.

— < 보 기 > —

- ㄱ. 국제 연합 회원국만이 A에 재판을 신청할 수 있다.
- ㄴ. 우리나라가 일본의 제안에 동의하지 않는다면 A는 재판을 시작할 수 없다.
- ㄷ. A의 판결은 법적으로 구속력을 가지며, A가 이를 직접 강제적으로 집행할 수 있다.
- ㄹ. 패소국이 A의 판결을 이행하지 않을 경우 안전 보장 이사회는 판결의 이행을 위해 적절한 조치를 취할 수 있다.

- ① ㄱ, ㄴ ② ㄱ, ㄷ ③ ㄴ, ㄷ ④ ㄴ, ㄹ ⑤ ㄷ, ㄹ

19. 그림은 갑이 을과 병에게 폭행을 당한 후 제기한 소송의 소장이다. 이와 관련된 법적 판단으로 옳은 것은? [3점]

소 장

원고 갑 피고 을

청구 취지 (생략)

청구 원인

- 갑, 을 및 병은 온라인 동호회에서 만나 친해졌는데, ○○시 △△동에서 놀던 중 사소한 시비로 을과 병이 함께 갑을 주먹으로 가격하여 갑의 안면이 함몰되는 상해를 가하였습니다.
- 갑은 위 상처를 완치하는 데 총치료비로 30,000,000원을 지출하였습니다.
- 갑은 을로부터 치료비를 지급받기 위해 이 사건 소송을 제기합니다.

2013. ○. ○.

□□ 지방 법원 귀중

- ① 소송의 당사자는 갑, 을, 병이다.
- ② 갑은 을을 형사 고소할 수 없다.
- ③ 갑은 을에게 치료비 외에 별도로 위자료를 청구할 수 있다.
- ④ 갑은 치료비 중 절반인 15,000,000원까지만 을에게 청구할 수 있다.
- ⑤ 갑은 을과 병 중 누가 자신을 때렸는지 입증하지 못할 경우 손해 배상을 받을 수 없다.

20. 그림에 나타난 형사 절차 (가)~(라) 단계에 대한 설명으로 옳지 않은 것은? [3점]



- ① (가) 단계에서 현행범 을에게는 무죄 추정의 원칙이 적용된다.
- ② (가) 단계에서 갑은 현행범 을에게 체포의 이유, 변호사를 선임할 권리 등을 알려 줘야 한다.
- ③ (나) 단계에서 을은 구속의 적부 심사를 법원에 청구할 수 있다.
- ④ (다) 단계의 형사 재판은 검사의 기소가 있어야만 가능하다.
- ⑤ (라) 단계에서 을에 대한 징역형은 선고 후 1년이 지나면 형의 선고가 없었던 것으로 된다.

* 확인 사항

- 답안지의 해당란에 필요한 내용을 정확히 기입(표기)했는지 확인 하시오.