

제 4 교시

사회탐구 영역(법과 정치)

성명

수험 번호

1. 갑과 을의 주장에 대한 적절한 추론을 <보기>에서 고른 것은?

갑: 현대 민주주의는 대의제를 통해 실현됩니다. 대의제에서 선출된 대표는 대리인 역할에 충실해야 합니다. 즉 그를 뽑아 준 유권자들의 선호나 의견을 정책 결정에 그대로 반영해야 합니다. 이 같은 역할을 하지 못하는 대표에 대해서는 임기 중이라도 유권자들이 견제할 수 있는 제도가 필요합니다.

을: 현대 사회의 문제는 매우 다양하고 복잡해서 유권자 대부분은 명확하거나 합리적인 의견을 가지기 어렵습니다. 따라서 선출된 대표는 주어진 임기 동안 정책 전문성을 바탕으로 정책에 대해 독립적 판단을 해야 합니다.

— < 보 기 > —

ㄱ. 갑은 국민 소환제의 도입에 찬성할 것이다.  
ㄴ. 갑은 정책 결정에서 대표의 자율성 강화에 찬성할 것이다.  
ㄷ. 을은 국민 발안제의 도입에 소극적일 것이다.  
ㄹ. 을은 국민 투표의 대상이 되는 정책 사안의 확대에 찬성할 것이다.

- ① ㄱ, ㄴ    ② ㄱ, ㄷ    ③ ㄴ, ㄷ    ④ ㄴ, ㄹ    ⑤ ㄷ, ㄹ

2. 다음 대화에서 갑~병의 의견에 대한 추론으로 적절하지 않은 것은? [3점]



- ① 갑은 언론이 정치적 부정과 부패가 일어날 가능성을 줄여야 한다고 볼 것이다.  
② 을은 언론이 공익을 추구하는 보도를 통해 올바른 여론 형성을 유도해야 한다고 볼 것이다.  
③ 병은 언론이 사회적 소외 계층의 권익 증진에 기여해야 한다고 볼 것이다.  
④ 갑과 을은 언론이 정부 정책을 대중에게 홍보하여 정책에 대한 정당성을 강화해야 한다고 볼 것이다.  
⑤ 을과 병은 언론이 정보 제공을 통해 특정 쟁점과 주제에 대해 대중의 주의를 환기해야 한다고 볼 것이다.

3. (가)와 (나)는 법치주의를 보는 관점이다. 이에 대한 설명 및 추론으로 옳은 것은?

(가) 법은 그 내용의 옳고 그름 또는 선악과 상관없이 법에 정해진 입법 절차에 따라 제정되면 법으로서의 효력을 갖게 된다.  
(나) 법에 정해진 입법 절차에 따라 법이 제정되고 그 법의 목적과 내용이 기본권을 보장하는 헌법 이념에 부합되면 법으로서의 효력을 갖게 된다.

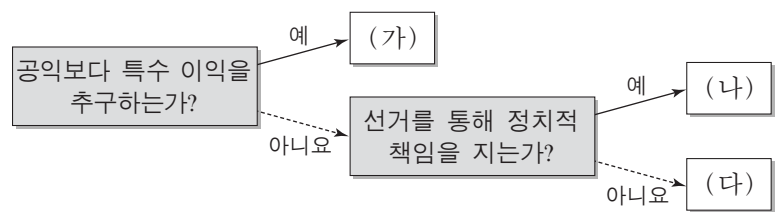
- ① (가)는 (나)에 비해 법 만능주의로 흐를 가능성이 높다.  
② (가)는 (나)와 달리 의회 다수당의 횡포나 독재를 견제하는 수단으로 사용될 수 있다.  
③ (나)는 (가)보다 통치의 형식적 합법성을 강조한다.  
④ 현대 사회로 오면서 법치주의는 (나)에서 (가)로 확장되고 있다.  
⑤ (가)와 (나) 모두 법 내용의 실질적 정당성을 필수적 요소로 본다.

4. 밑줄 친 ㉠~㉣에 대한 설명으로 옳지 않은 것은?

어떤 정치학자에 의하면 정치 체계는 국민의 요구와 지지가 ㉠ 정책 결정 기구로 전달되는 ㉡ 투입, 요구와 지지가 정책 결정 기구에 들어가 공공 정책으로 전환되어 나오는 ㉢ 산출, 산출이 투입에 다시 영향을 미치는 ㉣ 환류의 과정으로 이루어진다. 그리고 이러한 과정은 정치 체계를 둘러싼 제반 환경과 영향을 주고받는다.

- ① 입법부와 행정부는 ㉠의 대표적인 예이다.  
② 시민의 입법 청원 활동은 ㉡의 예이다.  
③ 언론이 일정한 방향으로 여론을 형성하는 것은 ㉢의 예이다.  
④ 민주주의 국가에서는 전체주의 국가에서보다 ㉣이 활발하게 나타난다.  
⑤ 정책 집행 결과에 대한 평가가 이루어지고 그에 따른 정책 수정의 필요성 여부가 제기되는 과정은 ㉣에 해당한다.

5. 정치 참여 집단 (가)~(다)에 대한 옳은 설명만을 <보기>에서 있는 대로 고른 것은? (단, (가)~(다)는 각각 정당, 이익 집단, 시민 단체 중 하나이다.) [3점]



— < 보 기 > —

ㄱ. (가)은/는 의회와 행정부를 매개하는 기능을 수행한다.  
ㄴ. (나)은/는 정치적 결사 조직으로서 정치적 정체성을 제공한다.  
ㄷ. (나)은/는 다양한 이해 관계와 정책 선호를 집약하고 이를 공약으로 개발한다.  
ㄹ. (다)은/는 정부의 한계를 보완하고 참여를 통해 공공 문제를 해결하기 위해 등장했다.

- ① ㄱ, ㄴ    ② ㄱ, ㄷ    ③ ㄷ, ㄹ  
④ ㄱ, ㄴ, ㄹ    ⑤ ㄴ, ㄷ, ㄹ

6. 다음 자료에 근거한 추론으로 적절한 것은? [3점]

선거 제도는 유권자의 투표 선택과 정당제 유형에 영향을 미친다. 예를 들어 대표 1인을 선출하는 단순 다수제하에서 군소 정당을 지지하는 유권자는 그 정당 후보의 당선 가능성이 낮다는 사실을 안다. 이에 유권자 중 일부는 당선 가능성이 높고 이념적으로 유사한 다른 정당 후보에게 투표한다. 따라서 군소 정당 후보는 당선되기 어려워져 정당제는 (가) (으)로 유도된다. 반면 비례 대표제하에서 군소 정당을 지지하는 유권자는 자신의 표가 의석 배분에 반영된다는 점을 알기 때문에 대부분 지지 정당에 투표하며, 그 결과 (나) (으)로의 정당제 형성이 촉진된다. 다음은 이와 같은 주장을 뒷받침하는 갑국과 을국의 의회 선거 결과이다.

〈갑국과 을국의 정당과 이념 및 최근 의회 선거 결과〉

국가	구분	정당 이념				
		진보	중도			보수
갑국	정당	A	B	C	D	E
	득표율(%)	15	33	5	37	10
	의석률(%)	0	43	0	57	0
을국	정당	F	G	H	I	J
	득표율(%)	12	30	23	18	17
	의석률(%)	11	31	24	18	16

\* 갑국과 을국의 대표 결정 방식은 각각 단순 다수제와 비례 대표제 중 하나임.

- ① (가)에서는 (나)보다 정치적 책임 소재가 불분명할 것이다.
- ② (나)에서는 (가)와 달리 연립 정부 구성 가능성이 낮을 것이다.
- ③ 갑국 선거구제는 중선거구제, 을국은 소선거구제일 것이다.
- ④ 갑국 대표 결정 방식은 비례 대표제, 을국은 단순 다수제일 것이다.
- ⑤ A당 지지자의 일부는 B당 후보에, J당 지지자의 다수는 J당에 투표했을 것이다.

7. 밑줄 친 ㉠~㉣에 대한 옳은 사례만을 <보기>에서 있는 대로 고른 것은? [3점]

국제 사회는 평등한 주권 국가를 기본 단위로 구성되지만, ㉠ 현실적으로는 강대국의 힘의 논리가 적용된다. 또한 ㉡ 국제 사회에는 강제력을 가진 중앙 정부가 존재하지 않아 분쟁의 해결이 어렵다. 그렇지만 ㉢ 오늘날의 국제 사회가 완전한 무질서 상태는 아니다. 국제 사회의 구성원인 각국은 대부분 국제법, 세계 여론, 도덕적 규범 등을 존중한다. 아울러 다양한 ㉣ 국제 비정부 기구들 역시 국제 질서를 유지하고, 국제 사회를 발전시키기 위해 활발하게 활동하고 있다.

————— < 보 기 > —————

ㄱ. ㉠ - 유엔 안전 보장 이사회 상임 이사국의 거부권 행사  
ㄴ. ㉡ - 국제 사법 재판소 판결이 갖는 구속력의 한계  
ㄷ. ㉢ - 세계 무역 기구(WTO)의 활동  
ㄹ. ㉣ - 국제 통화 기금(IMF)

- ① ㄱ, ㄴ                      ② ㄱ, ㄷ                      ③ ㄷ, ㄹ
- ④ ㄱ, ㄴ, ㄷ                ⑤ ㄴ, ㄷ, ㄹ

8. 갑국과 을국 정부 형태의 특징에 대한 설명으로 옳은 것은?

갑국과 을국은 전형적인 정부 형태를 채택하고 있다. 갑국에서 국민은 의회 의원을 선출하며, 의회는 총리를 선출한다. 총리는 내각을 구성해 행정부 수반의 역할을 수행한다. 국가 원수는 별도로 존재하며 상징적 지위만을 갖는다. 을국에서 국민은 선거를 통해 대통령과 의회 의원을 선출한다. 대통령은 국가 원수이자 행정부 수반이며, 총리는 존재하지 않는다. 대통령과 의회는 엄격한 권력 분립의 원칙에 입각해 상호 견제할 수 있는 제도적 수단을 갖는다.

- ① 갑국 행정부 수반은 을국과 달리 의회를 해산할 수 있다.
- ② 갑국 국가 원수는 을국과 달리 의회의 신임에 구속된다.
- ③ 을국 행정부 수반은 갑국과 달리 법률안 제출권을 가진다.
- ④ 을국 내각 각료는 갑국과 달리 의회 의원을 겸직할 수 있다.
- ⑤ 갑국과 을국 모두 행정부 수반의 임기가 보장된다.

9. 우리나라 헌법 기관 A~C에 대한 설명으로 옳은 것은? [3점]

A는/는 국정 감사나 각종 국정 통제 권한을 통하여 행정부의 결정과 집행을 감시하고 비판하며, 헌법 개정안의 제출·의결권과 중요한 조약의 체결·비준에 대한 동의권을 갖는 기관이다.  
B는/는 국가의 세입·세출의 결산 검사, 국가 및 법률이 정한 단체의 회계 검사와 행정 기관 및 공무원의 직무에 관한 감찰을 하는 기관이다.  
C는/는 행정부의 수반을 의장으로 하여 국정의 기본 계획, 중요한 대외 정책, 정부 제출 법률안, 예산안·결산 등 정부의 중요 정책을 심의하는 행정부의 최고 심의 기관이다.

- ① A는 국무총리와 국무 위원을 해임할 수 있다.
- ② A는 국가의 예산안을 심의·확정하는 기능을 수행한다.
- ③ B는 대통령의 각종 권한 행사에 대한 동의·승인권을 가진다.
- ④ 대통령은 국가의 중대 사안에 관해서 C의 의결에 따라야 한다.
- ⑤ A와 B의 장(長)은 대통령이 임명하며, A와 C의 구성원은 국민이 직접 선출한다.

10. 그림의 (가)에 들어갈 옳은 법적 조언만을 <보기>에서 있는 대로 고른 것은?

공지 사항    게시판    Q&A

Q 저는 며칠 전 A사의 접이식 자전거를 구입하였습니다. 그런데 제 어린 아들이 자전거를 타다가 자전거 접는 부분의 고정 장치가 풀리는 바람에 넘어져 크게 다쳤습니다. 이에 저는 A사에 피해 보상을 요구하였는데 거절당하였습니다. A사에 책임을 묻고 싶은데 어떻게 해야 하나요?

A (가)

————— < 보 기 > —————

ㄱ. 민사 조정 제도를 활용하여 A사와의 분쟁을 신속하게 해결할 수 있습니다.  
ㄴ. 소비자 분쟁 조정 위원회의 조정을 거친 후에 한국 소비자원에 피해 구제를 신청해야 합니다.  
ㄷ. 한국 소비자원에 피해 구제를 신청하는 것과는 별도로 민사 소송을 제기할 수 있습니다.  
ㄹ. A사의 과실과 자전거 결함 사이의 인과관계를 증명해야 제조물책임법에 따른 손해 배상을 받을 수 있습니다.

- ① ㄱ, ㄴ                      ② ㄱ, ㄷ                      ③ ㄴ, ㄹ
- ④ ㄱ, ㄷ, ㄹ                ⑤ ㄴ, ㄷ, ㄹ

11. 그림의 ㉠~㉣에 들어갈 수 있는 옳은 내용만을 <보기>에서 있는 대로 고른 것은? [3점]

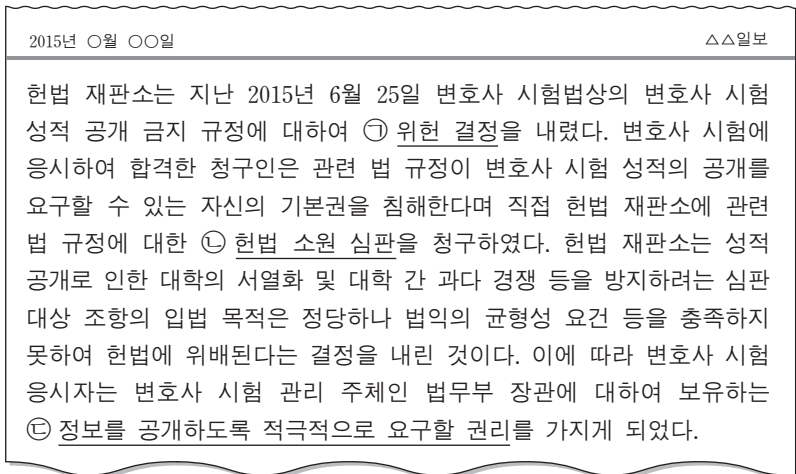


<보 기>

- ㄱ. ㉠ - 갑을 대신하여 갑의 부모가 체결한 근로 계약
- ㄴ. ㉡ - 갑의 부모가 사장으로부터 갑의 임금을 대신 수령
- ㄷ. ㉢ - A의 피해에 대한 사장의 사용자 배상 책임
- ㄹ. ㉣ - 불법 행위로 인한 손해 배상

- ① ㄱ, ㄴ                      ② ㄱ, ㄷ                      ③ ㄴ, ㄹ
- ④ ㄱ, ㄷ, ㄹ                ⑤ ㄴ, ㄷ, ㄹ

12. 밑줄 친 ㉠~㉣에 대한 적절한 분석 및 추론을 <보기>에서 고른 것은?

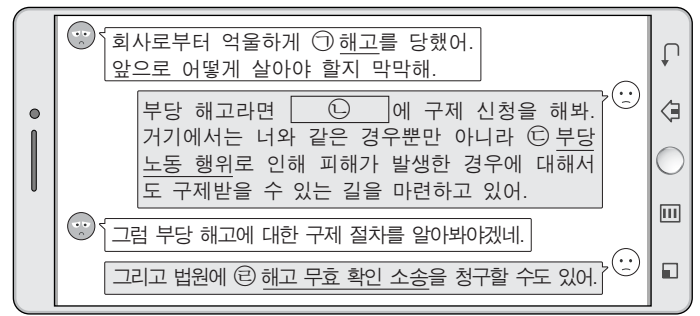


<보 기>

- ㄱ. ㉠은 법 규범에 상하의 위계가 있음을 전제로 한 것이다.
- ㄴ. 위 사건에서는 ㉠의 판단에 있어 과잉 금지 원칙을 심사 기준으로 삼았을 것이다.
- ㄷ. 위 사건의 ㉡은 위헌 심사형 헌법 소원 심판일 것이다.
- ㄹ. ㉢은 최소한의 인간다운 생활을 보장받기 위한 것이다.

- ① ㄱ, ㄴ                      ② ㄱ, ㄷ                      ③ ㄴ, ㄷ                      ④ ㄴ, ㄹ                      ⑤ ㄷ, ㄹ

13. 그림의 ㉠~㉣에 대한 옳은 설명만을 <보기>에서 있는 대로 고른 것은?

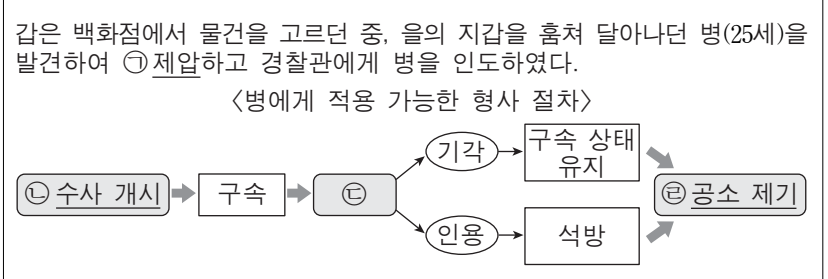


<보 기>

- ㄱ. ㉠의 사유와 그 시기는 서면으로 통지해야 한다.
- ㄴ. ㉡에는 국가 인권 위원회와 공정 거래 위원회가 해당된다.
- ㄷ. ㉢은 사용자가 근로자의 정당한 근로 3권 행사를 침해하는 행위를 포함한다.
- ㄹ. ㉣은 행정 소송으로 3심제가 적용된다.

- ① ㄱ, ㄴ                      ② ㄱ, ㄷ                      ③ ㄴ, ㄹ
- ④ ㄱ, ㄷ, ㄹ                ⑤ ㄴ, ㄷ, ㄹ

14. 다음 자료에 대한 법적 판단으로 옳은 것은? [3점]



- ① ㉠은 지갑을 찾아주기 위한 자구행위로서 위법성이 조각된다.
- ② ㉡에 있어서 갑은 고소인이 된다.
- ③ ㉢은 법원에 신청하며 병이 피의자 신분일 때만 인정된다.
- ④ ㉣의 요건을 갖춘 경우라도 법원은 병의 기소를 유예할 수 있다.
- ⑤ 만일 ㉣ 이후에 병이 징역 6월에 집행 유예 2년을 선고받아 확정 되면, 병은 6개월 동안 복역해야 한다.

15. 다음 사례에서 (가)와 관련한 법적 판단으로 옳지 않은 것은?

은퇴 이후 행복한 삶을 살아가던 갑에게 어느 날 외출 후 자신의 집을 제대로 찾지 못하는 상황이 발생했다. 그 후 점차 상황이 악화되어 조금 전 한 말을 제대로 기억하지 못하거나 불필요한 물건을 사오는 등, 전체적인 판단에는 문제가 없지만 정신적 제약을 보이는 상황이 가끔 나타났다. 따라서 갑에 대한 가정 법원의 (가) 개시의 심판이 절실한 실정이다.

- ① (가) 제도는 심판이 필요한 갑 본인뿐만 아니라 갑과 거래할 상대방도 보호하기 위한 것이다.
- ② (가) 개시의 심판이 있더라도, 갑에게는 원칙적으로 온전한 재산상의 법률 행위 능력이 인정된다.
- ③ 법원은 (가) 개시의 심판을 하면서 갑이 그 후견인의 동의를 받아야 하는 행위의 범위를 정할 수는 없다.
- ④ (가)의 심판에 의해 후견이 개시되더라도, 갑이 그로 인해서 불법 행위 책임을 면하게 되는 것은 아니다.
- ⑤ (가)의 심판에 의해 후견이 개시되더라도, 갑이 일용품을 구입 하는 계약을 체결하였으면 후견인은 이를 취소할 수 없다.



16. 밑줄 친 ㉠~㉣에 대한 법적 판단으로 옳지 않은 것은? [3점]

다음은 갑이 을을 상대로 1심 법원에 제기한 통상적인 대여금 반환 청구 소송의 일반적 진행 절차를 소송 전 절차를 포함하여 간략하게 정리한 것이다.

㉠ 채권 보전을 위한 가압류 신청 → ㉡ 법원에 소장 제출 → ㉢ 변론 → ㉣ 판결

- ① ㉠은 갑의 이익을 위한 것으로, 가압류가 결정되면 을은 임의로 재산을 처분할 수 없다.
- ② 갑이 승소하려면 ㉢에서 을의 채무 불이행을 증명하여야 한다.
- ③ 갑이 ㉢에서 을에게 내용 증명 우편을 보냈다는 사실을 증명하면, 우편에 기재된 내용 그대로 사실 관계가 확정된다.
- ④ ㉡과 ㉢은 반드시 변호사에 의해서 수행될 필요는 없으며, 갑이 수행하여도 무방하다.
- ⑤ ㉣의 선고 후 일정 기간 내에 항소하지 않으면 ㉣은 확정된다.

17. 다음 자료에 대한 설명으로 옳은 것은? [3점]

국제법은 다양한 형태로 존재한다. ㉠은/는 2개 이상의 국가 간에 체결되는 구속력 있는 약속이다. ㉡은/는 국제 사회의 반복적인 관행이 법 규범으로 승인되어 효력을 가지게 된 유형이다. 그리고 ㉢은/는 문명국들이 공통으로 승인하여 따르는 법의 보편적인 원칙이다. 이 밖에도 국제 사법 재판소의 판례, 국제 기구의 결의, 그리고 ㉣ 각국의 가장 우수한 국제법 학자의 학설 등이 있다.

- ① ㉠의 경우 국제 기구와 국가 간에는 체결될 수 없다.
- ② ㉡의 예로는 신사협정과 외교관의 면책 특권이 있다.
- ③ ㉢의 경우 원칙적으로 이를 승인한 국가에만 법적 구속력이 발생한다.
- ④ ㉣은 국제 사법 재판소 판결의 준거로 사용될 수 있다.
- ⑤ ㉠과 ㉡의 경우 우리나라에서는 국회의 동의가 있어야 법적 효력을 갖는다.

18. 다음 자료에 대한 법적 판단으로 옳은 것은? [3점]

갑은 2015년 3월 25일에 을에게 1년 안에 갚을 테니 1억 원을 빌려 달라고 요청하였고, 을은 이 요청에 따라 같은 날 갑에게 1억 원을 빌려 주었다. 며칠이 지난 4월 1일에 갑과 을은 오른쪽과 같은 계약서를 작성하였다.

**금전 차용 계약서**

채무자: 갑    채권자: 을  
금 액: 1억 원  
변제일: 2016년 3월 25일

갑은 을로부터 위 금액을 차용하며, 변제일 까지 이를 성실히 변제할 것을 약속합니다.

2015년 4월 1일

채무자: 갑(서명)  
채권자: 을(서명)

- ① 위 계약은 2015년 4월 1일에 성립하였다.
- ② 위 계약이 성립하기 위해서는 위 계약서의 작성이 있어야 한다.
- ③ 위 계약서가 작성되었으므로 갑과 을은 위 계약을 취소할 수 없다.
- ④ 위 계약서에 갑과 을의 서명이 없다면, 위 계약은 성립하지 않는다.
- ⑤ 위 계약서에 집행력 있는 공증을 받으면, 갑이 돈을 갚지 않을 경우 을은 재판 절차 없이 바로 집행 절차에 들어갈 수 있다.

19. 그림에 나타난 상황에 대한 법적 분석 및 추론으로 적절한 것은?

- ① 갑이 자신의 기본권 보호를 위해 을의 기본권을 직접 침해하는 것은 헌법적으로 허용될 수 있다.
- ② 갑은 충돌하는 기본권의 법적 이익을 각각 비교하여 어느 것이 더 우위에 있는지를 판단해야 한다고 주장할 것이다.
- ③ 을은 충돌하는 기본권 모두가 조화롭게 반영될 수 있는 방법으로 분쟁이 해결되어야 한다고 주장할 것이다.
- ④ 갑과 을의 주장은 기본권이 개인 간에도 효력이 있다는 것을 전제해야 한다.
- ⑤ 을의 건물 건축이 불법한 경우라도, 갑의 기본권에 우선하여 자신의 기본권이 보호되어야 한다는 을의 주장은 정당하다.

20. 다음 사례에 대한 옳은 법적 판단만을 <보기>에서 있는 대로 고른 것은?

갑은 을과 법률상 혼인을 하여, 을이 병을 출산하였다. 그 후 갑은 을, 병과 함께 할머니 정을 모시고 살고 있었다. 어느 날 정지 신호를 보지 못하고 달려오던 운전자 A의 자동차에 횡단보도를 건너던 갑이 치여 병원으로 옮겨지던 중 사망하였다. 갑의 사망 신고가 이루어진 후, 갑이 모든 재산을 아동 복지 법인에 기부한다는 내용의 유효한 유언장이 공개되었다. 생계의 위협을 받게 된 갑의 가족들은 유류분권을 행사하려고 한다.

\* 유류분은 법정 상속분의 일정 비율로 청구할 수 있는데, 직계 비속과 배우자는 그 비율이 같고 직계 존속의 비율은 이들보다 작음.  
\*\* 이 사례에서는 유류분을 전액 청구하는 것을 전제함.

- < 보 기 > —
- ㄱ. 갑의 권리능력은 사망 신고와 상관없이 사망함으로써 소멸된다.
  - ㄴ. 운전자 A가 형사 재판에서 유죄를 선고받으면 운전자 A는 을과 병에 대하여 손해 배상 책임을 면한다.
  - ㄷ. 을이 유류분권을 행사해 받게 되는 유류분의 액수는 병이 유류분권을 행사해 받게 되는 유류분의 액수보다 많다.
  - ㄹ. 을, 병, 정 모두 유류분권을 행사할 수 있다.

- ① ㄱ, ㄴ                      ② ㄱ, ㄷ                      ③ ㄴ, ㄹ
- ④ ㄱ, ㄷ, ㄹ                ⑤ ㄴ, ㄷ, ㄹ

\* 확인 사항  
○ 답안지의 해당란에 필요한 내용을 정확히 기입(표기)했는지 확인 하시오.