

2007학년도 3월 고3 전국연합학력평가 문제지

제 4 교시 사회 탐구영역(사회·문화)

성명

수험번호

3

1

- 먼저 수험생이 선택한 과목의 문제지인지 확인하십시오.
- 문제지에 성명과 수험 번호를 정확히 기입하십시오.
- 답안지에 수험 번호, 선택 과목, 답을 표기할 때는 반드시 '수험생이 지켜야 할 일'에 따라 표기하십시오.
- 문항에 따라 배점이 다르니, 각 물음의 끝에 표시된 배점을 참고하십시오. 3점 문항에만 점수가 표시되어 있습니다. 점수 표시가 없는 문항은 모두 2점씩입니다.

1. 다음 글을 통해 파악할 수 있는 사회·문화 현상의 특징을 <보기>에서 모두 고른 것은?

- 1972년 출간된 『성장의 한계(Limits to Growth)』에서는 인구의 급격한 증가와 자원 사용의 급증으로 금은 1981년에, 은과 수은은 1985년에 각각 고갈될 것이라고 예측했다. 그러나 인구 조절 정책과 자원 개발 기술의 발전은 이러한 예측을 빗나가게 하였다.
- 환경 파괴를 우려하는 사람들은 이산화탄소 과다 배출에 따른 엘니뇨 현상이 가져올 위험성을 경고한다. 그런데 한 연구소는 엘니뇨의 발생으로 겨울 난방비가 절약되고 홍수 피해도 줄어든 것으로 보았다.

< 보 기 >

- ㄱ. 확률의 원리가 지배한다.
- ㄴ. 원인이 동일하면 결과 역시 동일하다.
- ㄷ. 보는 관점에 따라 달리 해석될 수 있다.
- ㄹ. 인간의 의지에 의해 변화가 나타날 수 있다.

- ① ㄱ, ㄴ                      ② ㄴ, ㄷ                      ③ ㄷ, ㄹ
- ④ ㄱ, ㄷ, ㄹ              ⑤ ㄴ, ㄷ, ㄹ

2. 다음은 교사가 일탈 행동의 원인을 설명하기 위해 제시한 자료이다. 설명하고자 하는 일탈 행동의 원인으로 가장 적절한 것은?


착한 사람과 같이 있으면 향기로운 난초가 있는 방안에 들어간 것과 같아, 오래되어 그 향기를 맡지 못하게 되더라도 곧 이와 더불어 동화되고, 착하지 못한 사람과 같이 있으면 소금에 절인 어물 가게에 들어간 것과 같아서 오래되어 그 냄새를 맡지 못하더라도 또한 이와 더불어 동화되나니, 단사(丹砂)를 지닌 사람은 붉어지고, 옷을 지닌 사람은 검어진다. 이런 까닭으로 군자는 반드시 그 함께 있을 바의 사람을 삼가야 하느니라.

- 『명심보감』 -

- ① 급속한 사회 변동
- ② 사회의 주도적 가치 부재
- ③ 일탈 집단과의 상호 작용
- ④ 문화적 목표와 수단의 불일치
- ⑤ 특정 행동에 대한 사회적 낙인

3. 다음 글의 (가)에 해당하는 사회학적 개념에 대한 옳은 설명을 <보기>에서 모두 고른 것은?

사회적 행동의 교환으로 이루어지는 사회적 상호 작용은 반복 지속되면서 안정된 틀을 갖추게 되는데, 이로 인해 사람들의 지위와 역할이 구분되고 규범과 가치관도 뚜렷해진다. 또한 집단이나 조직의 종류와 기능, 개인과 집단의 협동과 갈등의 관계도 일정한 양상을 띠게 된다. 이러한 현상이 반복되어 사회 관계가 통일적이고 조직적인 총체를 이루고 있는 상태를 (가)라 하는데, 이를 도식화하면 다음과 같다.



< 보 기 >

- ㄱ. 안정된 사회 관계를 유지하게 한다.
- ㄴ. 구성원의 자유 의지에 따라 쉽게 변화한다.
- ㄷ. 개인의 행동을 예측하는 데 장애 요소가 된다.
- ㄹ. 개인의 행동을 제약하고 자유를 구속하기도 한다.

- ① ㄱ, ㄴ                      ② ㄱ, ㄷ                      ③ ㄱ, ㄹ
- ④ ㄴ, ㄷ                      ⑤ ㄷ, ㄹ

4. 그림을 통해 도출할 수 있는 문화의 속성이 나타난 사례로 가장 적절한 것은? [3점]



- ① 묘지 문제가 심각해지면서 수목장이 늘어나고 있다.
- ② 베트남에서 유학 온 류이는 김치를 먹는 데 익숙하다.
- ③ 꽃과 장롱을 달고 달리는 자동차를 보면 결혼을 떠올리게 된다.
- ④ 인터넷의 보급이 생산과 소비 생활에 연쇄적 영향을 주고 있다.
- ⑤ 필리핀 원주민이 손으로 음식을 먹는 것은 미끈한 해산물 때문이다.

2

# 사회탐구영역

5. 다음 글의 필자가 지니고 있는 개인과 사회를 바라보는 관점에서 부합하는 진술을 <보기>에서 모두 고른 것은? [3점]

사회를 단순히 인간의 조합이라고 간단하게 정의내리기는 어렵다. 왜냐하면 인간과 인간의 결합에는 수많은 의미가 담겨 있기 때문이다. 일단 인간과 인간이 결합하여 사회를 형성하면 그 사회가 다시 인간과 인간으로 환원되지는 않는다.

< 보 기 >

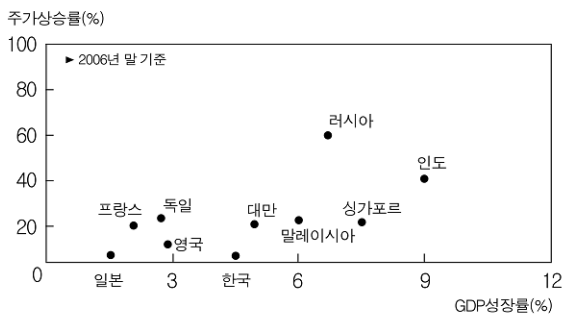
- ㄱ. 회사의 위기를 극복하기 위한 종업원의 희생은 불가피해.  
 ㄴ. 사회 문제는 구성원 개인의 의식 개혁을 통해 해결해야 돼.  
 ㄷ. 공부 안 하던 학생도 우등생 반에 들어가면 열심히 하게 되지.  
 ㄹ. 결혼할 때 배우자의 가문보다 인성을 우선적으로 고려하는 것은 당연해.

- ① ㄱ, ㄴ                      ② ㄱ, ㄷ                      ③ ㄴ, ㄷ  
 ④ ㄴ, ㄹ                      ⑤ ㄷ, ㄹ

- 【6-7】 다음은 경제 성장률과 주가 상승률의 관계에 대해 어떤 학생이 작성한 수행 평가 보고서이다. 읽고 물음에 답하시오.

- (가) 경제가 좋아지면 주식에 투자하는 것이 효율적인지 궁금해졌다.  
 (나) '주가 상승률은 경제 성장률에 비례한다.'는 가설을 설정하였다.  
 (다) 연구 설계  
 (라) 자료 수집 및 분석 결과

각국의 경제 성장률과 주가 상승률의 관계



6. 위 보고서에 대한 올바른 분석을 <보기>에서 모두 고른 것은? [3점]

< 보 기 >

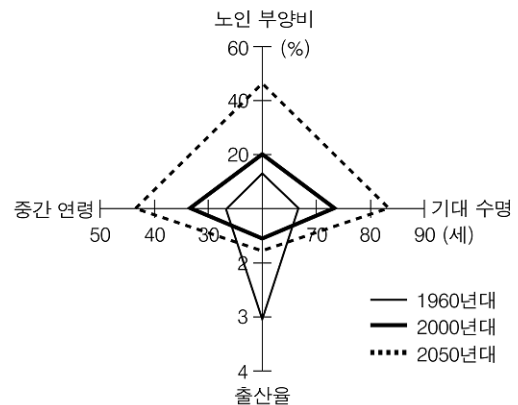
- ㄱ. 연구 가설은 기각될 것이다.  
 ㄴ. 귀납적 연구 방법을 사용하였다.  
 ㄷ. 방법론적 일원론에 입각한 연구가 진행되었다.  
 ㄹ. (나), (다) 과정에서는 연구자의 가치 개입이 배제된다.

- ① ㄱ, ㄷ                      ② ㄱ, ㄹ                      ③ ㄴ, ㄷ                      ④ ㄴ, ㄹ                      ⑤ ㄷ, ㄹ

7. 위 보고서 작성 과정에서 사용된 자료 수집 방법의 특징으로 가장 적절한 것은?

- ① 연구자의 직관적 통찰을 중시한다.  
 ② 자료의 신뢰성에 대한 검토가 필요하다.  
 ③ 정확성에 비해 많은 비용과 시간이 소요된다.  
 ④ 생생하고 실제적인 자료를 수집하기에 유리하다.  
 ⑤ 연구 대상에 대한 윤리적 문제 발생을 고려해야 한다.

8. 그림은 '경제협력개발기구(OECD) 국가들의 인구 전망'이다. 이에 대해 옳게 분석한 것은? [3점]



\* 주: 노인 부양비 = (65세 이상 인구 / 15 ~ 64세 인구) × 100

- ① 기대 수명의 증가는 출산율 저하가 주요 원인이다.  
 ② 시간이 지날수록 피라미드형 인구 구조가 강화될 것이다.  
 ③ 2050년이 되면 65세 이상 인구가 총인구의 40%를 넘는다.  
 ④ 2000년 이후 출산 장려 정책의 긍정적 효과를 예상하고 있다.  
 ⑤ 2050년 이후 전 세계의 인구 감소로 인해 부작용이 심각해질 것이다.

9. 다음 글의 역사학자가 사용한 연구 방법에 대한 평가로 가장 타당한 것은? [3점]

역사학자 홉스봄의 『미완의 시대(원제: Interesting Times)』는 자서전적 역사서이다. 그는 자신의 개인사에 세계사를 접목시켰다. 그는 오스트리아의 격동기를 설명하기 위해 유년기에 수집했던 우표를 동원하고 있으며, 어머니가 친척에게 보낸 편지와 당시의 신문 기사, 개인적인 일기 등을 사료로 활용하였다. 독자들은 남의 일기를 엿보는 듯한 흥미로움 속에서 자연스럽게 현대사의 흐름을 파악하게 된다.

- ① 사회 현상에 내재된 인과 관계의 발견을 중시하고 있다.  
 ② 개인적 통찰력을 바탕으로 사회 현상을 이해하고자 한다.  
 ③ 연구의 객관성 확보를 위해 사회 현상을 계량화하고 있다.  
 ④ 사회 현상에 대한 감정 이입적 이해의 오류를 벗어나려 한다.  
 ⑤ 비공식적 자료의 중요성을 간과하고 있어 심층적 연구에는 부적합하다.

# 사회 탐구 영역

3

사회·문화

10 그림에서 (을)이 사회·문화 현상을 보는 관점과 부합하는 진술은?



- ① 사회 현상은 미시적으로 파악해야 한다.
- ② 사회 변동은 사회 발전에 걸림돌이 된다.
- ③ 사회에는 구성원의 합의된 가치가 존재한다.
- ④ 계층화는 개인의 능력을 발휘하는 데 기여한다.
- ⑤ 희소가치의 차등 분배는 사회 발전을 저해한다.

11 다음은 문화 단원 수업 시간에 제시된 자료이다. 이를 통해 추론한 수업 주제로 가장 적절한 것은?

1840년 아일랜드에서 감자 생산의 급감에 따른 기록적인 기근이 발생했다. 당시 아일랜드에서는 맛과 산출량 등을 고려하여 가장 우수하다고 선별된 한 종류의 감자만을 재배하고 나머지 종자는 모두 폐기 처분하였다. 그런데 이 감자에 치명적인 바이러스가 퍼지면서 모든 감자가 한꺼번에 해를 입는 사태가 일어난 것이다. 이로 인해 감자를 주식으로 하는 아일랜드에서 200만 명 이상이 굶어 죽었다.

- ① 문화 다양성의 의의
- ② 문화 상대주의의 폐해
- ③ 비교론적 관점의 필요성
- ④ 극단적 문화 상대주의의 위험성
- ⑤ 대중문화의 상업성에 대한 고찰

12 다음 사례에 대한 분석으로 옳지 않은 것은?

국내 굴지의 IT 기업에서 과장으로 근무하던 이○○(35세)은 ㉠사별 대학에 다니면서 가졌던 교사로서의 꿈을 이루기 위해 ㉡가족들과 상의한 후 회사에 사표를 냈다. 중등 교사 임용시험을 거쳐 교사가 된 그는, 아이들과 호흡을 같이 하기 위해 동네에 있는 ㉢힙합 댄스 동호회에 가입하여 힙합 댄스를 배우고 있다.

- ① ㉠은 선택 의지에 의해 형성된 집단이다.
- ② ㉡은 결합 자체를 목적으로 한다.
- ③ ㉢은 자발적 결사체에 해당한다.
- ④ 이○○은 역할 갈등을 경험하였다.
- ⑤ 이○○은 소속 집단과 준거 집단의 일치를 피하였다.

13 다음의 사회 문제를 해결하기 위한 방안을 <보기>에서 모두 고른 것은?

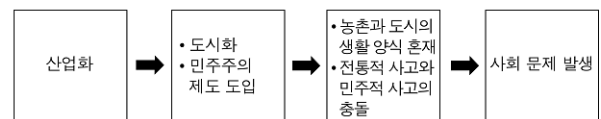
대학 교수가 제자가 쓴 논문을 제목만 바꾸어 다른 학술지에 싣거나 본인의 동일한 논문을 여러 학술지에 게재한 사건이 사회적 이슈가 되고 있다. 또한 사회 저명 인사가 외국 서적을 출간하면서 대리 번역이나 대필을 시키는 경우가 종종 발생하고 있다. 이러한 행태는 과학적 영역의 실험적 연구에 있어서도 줄기 세포 조작 사건과 같은 논문 조작으로 나타나 학문 발전의 장애 요소가 되고 있다.

< 보 기 >

- ㄱ. 엄격한 자기 검열의 자세를 가진다.
- ㄴ. 연구 결과에 대한 검증 시스템을 구축한다.
- ㄷ. 연구 윤리에 대한 사회적 합의를 도출한다.
- ㄹ. 과학적 연구 결과에 대한 인센티브를 확대한다.

- ① ㄱ, ㄴ                      ② ㄱ, ㄷ                      ③ ㄴ, ㄹ
- ④ ㄱ, ㄴ, ㄷ                ⑤ ㄴ, ㄷ, ㄹ

14 다음은 사회 문제를 어떤 이론적 관점에서 분석한 것이다. 이에 대한 설명으로 옳은 것은? [3점]



- ① 재사회화를 사회 문제 해결책으로 제시하고 있다.
- ② 사회 문제를 상호 작용론적 시각에서 접근하고 있다.
- ③ 개인적 결함을 사회 문제 발생의 원인으로 보고 있다.
- ④ 타협과 협상을 통한 사회 문제 해결을 강조하고 있다.
- ⑤ 아노미 현상을 사회 문제 발생의 배경으로 보고 있다.

15 다음은 계층 구조를 설명하기 위해 교사가 제시한 자료이다. 이에 대한 설명으로 적절하지 않은 것은?



- ① (가)에서는 개인적 노력에 의한 계층 이동이 상대적으로 어렵다.
- ② (나)에서는 수평 이동보다 수직 이동이 더 많이 나타난다.
- ③ (나)에 비해 (가)에서 세대 간 이동 가능성이 낮다.
- ④ (가)보다 (나)에서 혼인에 의한 계층 이동 가능성이 더 크다.
- ⑤ (가)에 비해 (나)에서 다이아몬드형 계층 구조의 출현 가능성이 더 높다.

16 다음 글의 취지에 부합하는 조직 혁신 방안으로 보기 어려운 것은? [3점]

이제 행정 업무도 서비스의 개념으로 인식되어야 한다. 따라서 행정 조직의 패러다임도 성과와 책임을 중시하고 고객의 요구에 신속하게 대응하며, 구성원의 자율과 책임을 강조하는 방향으로 바뀌어야 한다. 이에 맞게 행정 조직의 대대적인 혁신이 필요할 때이다.

- ① 능력에 대한 보상을 강화한다.
- ② 과업 중심의 팀제 조직을 도입한다.
- ③ 상향식 의사 결정 구조를 정착시킨다.
- ④ 수요자에 의한 조직 평가 시스템을 도입한다.
- ⑤ 신분 보장을 통해 조직의 안정성을 추구한다.

17 다음은 어느 책에 대한 서평이다. 이 책의 저자가 사회·문화 현상을 보는 시각을 바르게 진술한 것은? [3점]

이 책의 저자인 제임스 버크는 ‘핀볼 효과’에 주목하였다. 핀볼 효과란 무작위의 세계를 구성하는 모든 것들은 어떻게든 서로 영향을 주고 받는다는 것이다. 이에 입각하여 거대한 과학 문명사를 살펴보는 버크의 재치와 통찰이 이 책에 담겨 있다. 그는 1789년 나폴레옹이 이집트 원정에서 가져온 몇진 비단 술의 영향을 사례로 들고 있다. 나폴레옹의 술은 프랑스 사교계에 엄청난 유행을 몰고 왔고, 대량 생산을 위한 자카르식 직조기의 발명을 가져왔다. 이 직조기는 미국의 공학자 허만 홀러리스가 천공카드를 이용한 계산기를 발명하는 계기를 마련하였고, 최초의 전자 컴퓨터 에니악이 탄생하는 원리를 제공하기도 하였다.

- ① 사회 구성 요소 간의 유기적 연관성에 주목하고 있다.
- ② 사회 현상에는 여러 가능성이 공존함을 전제하고 있다.
- ③ 사회 구성 요소 간 기본적 갈등 관계를 중시하고 있다.
- ④ 연구자의 주관적 가치에 의존하여 현상을 바라보고 있다.
- ⑤ 보편성과 특수성을 고려한 사회 통찰이 필요함을 일깨우고 있다.

18 밑줄 친 ‘신부대’와 관련된 진술로 가장 타당한 것은?

농경 문화가 정착된 아프리카에서 혼인은 노동력을 생산하는 근본이 되었다. 그래서 노동력이 부족했던 일부 부족의 신랑은 신부에게 결혼에 대한 대가, 즉 ‘신부대’를 지불해야 했다. 우간다 간다족의 신랑측은 부족 내의 화폐인 조개 껍데기 2천 5백 개와 소와 염소, 개 등을 신부 집에 지불한다. 에디오피아 가라족 사회에서는 총각이 청혼을 하면 신부 측은 신랑 측의 재산 상태를 조사한 뒤 신랑 측에 사람을 보내 금액을 협의하고 혼사 여부를 결정했다.

- ① 우생학적 측면을 고려한 풍습이다.
- ② 족내혼보다 족외혼에서 나타나기 쉽다.
- ③ 일처다부제의 출현에 영향을 줄 것이다.
- ④ 여성의 인권 향상에 도움이 되는 풍습이다.
- ⑤ 사회·경제적 환경이 혼인 풍습에 영향을 미친 것이다.

19 다음 글에 대한 옳은 분석을 <보기>에서 모두 고른 것은?

[3점]

- (가) 일제 강점기 일본은 한국의 민속놀이나 동제(洞祭)와 같은 공동 의례들을 비과학적, 비합리적, 비경제적인 사고 방식에서 나온 활동이라고 금지시켰다. 이런 활동이 전통을 계승하고, 촌락의 단결을 도모하는 기능을 수행하고 있음을 잘 알고 있었기 때문이다.
- (나) 미국 정부는 인디언을 보호 구역 내에 수용하고, 이들의 풍속과 종교를 사교(邪敎)라 하여 무시하였다. 또한 선교 학교를 설립하여 영어를 강요함으로써 이들의 원래 말을 버리게 하였으며, 백인의 종교관과 가치관을 주입하였다.

< 보 기 >

- ㄱ. 인디언들은 문화 지체 현상을 경험하였다.  
 ㄴ. 일본과 미국 모두 문화의 상대성을 인정하지 않았다.  
 ㄷ. (가)는 내재적 요소에 의한 문화 변동 현상에 해당한다.  
 ㄹ. (나)에서는 강제적 문화 접변 현상을 도출할 수 있다.

- ① ㄱ, ㄴ    ② ㄱ, ㄷ    ③ ㄴ, ㄷ    ④ ㄴ, ㄹ    ⑤ ㄷ, ㄹ

20 다음은 미래에 대비하는 제도와 관련된 광고문이다. 이에 대한 설명으로 옳지 않은 것은? [3점]

(가)	(나)
<p>부모님을 감동시킨 효도보험!</p> <p>○○효도보험</p> 	<p>대한민국이 늙어 간다</p> <p>프랑스 115년, 미국 72년, 우리나라는 19년!                      대한민국이 고령화 속도는 세계최고령을 기록하고 있습니다</p> <p>노후준비의 0순위, 국민연금입니다</p> 

- ① (가)는 사기업이, (나)는 국가가 운영한다.
- ② (가)에 가입한 사람은 (나)에 가입하지 않아도 된다.
- ③ (가)에 비해 (나)는 국가의 사회 보장 책임을 강조한다.
- ④ (가)와 달리 (나)는 소득 재분배 효과를 기대할 수 있다.
- ⑤ 본인의 비용 부담이 전제된다는 점에서 공통점이 있다.

※ 확인 사항

○ 문제지와 답안지의 해당란을 정확히 기입(표기)했는지 확인하십시오.