

제 4 교시

사회탐구 영역(사회·문화)

성명		수험 번호												
----	--	-------	--	--	--	--	--	--	--	--	--	--	--	--

- 자신이 선택한 과목의 문제지인지 확인하시오.
- 문제지의 해당란에 성명과 수험 번호를 정확히 쓰시오.
- 답안지의 해당란에 성명과 수험 번호를 쓰고, 또 수험 번호와 답을 정확히 표시하시오.
- 선택한 과목 순서대로 문제를 풀고, 답은 답안지의 '제1선택'란부터 차례대로 표시하시오.
- 문항에 따라 배점이 다르니, 각 물음의 끝에 표시된 배점을 참고하시오. 3점 문항에만 점수가 표시되어 있습니다. 점수 표시가 없는 문항은 모두 2점입니다.

1. 밑줄 친 ㉠과 같은 현상에 비해 ㉡과 같은 현상이 가지는 일반적인 특성으로 옳은 것은?



- ① 개연성이 높다. ② 물가치성을 띤다.
 ③ 법칙 발견이 용이하다. ④ 통제된 실험과 예측이 쉽다.
 ⑤ 보편성 원리가 강하게 나타난다.
2. 다음은 여가 활용의 성별 차이를 연구하는 과정의 일부이다. 이에 대한 타당한 설명을 <보기>에서 고른 것은?

(가) 취미 활동 등에 대해 면접할 사람을 모집한다.
↓
(나) 자기 계발에 관한 얘기를 녹음해도 되는지 묻는다.
↓
(다) 여가 활동 지출 계수 등의 개념을 이해하지 못하면 부연 설명한다.
↓
(라) 녹취록에 나타난 남녀의 차이를 기존 연구의 결론과 비교한다.

<보 기>

- ㄱ. (가)에서 성비가 약 1 : 1이 아니면 표본의 대표성에 문제가 생긴다.
 ㄴ. (나)를 생략해도 연구 윤리에 위배되지 않는다.
 ㄷ. (다)를 적극적으로 수행하여 분석할 만한 답을 얻는다.
 ㄹ. (라)는 2차 자료들 간의 비교이다.

- ① ㄱ, ㄴ ② ㄱ, ㄷ ③ ㄴ, ㄷ ④ ㄴ, ㄹ ⑤ ㄷ, ㄹ

3. 밑줄 친 ㉠~㉣에 대한 설명으로 옳지 않은 것은?

갑은 가난한 집의 ㉠장남으로 태어나 한국 대학교 □□학과를 수석으로 졸업한 사람이다. 졸업 후 △△생명에 입사하여 ㉡초고속 승진을 했지만, 늘 경쟁사인 ㉢○○생명과 실적이 비교되면서 심한 스트레스를 받았다. 이를 극복하고 ㉣회사에서 더욱 실력을 인정받기 위해 ㉤대학원에서 전공 공부를 계속하고 있다.

- ① ㉠은 귀속 지위이다. ② ㉡은 역할에 대한 보상이다.
 ③ ㉢은 갑의 외집단이다. ④ ㉣은 사회화 기관이다.
 ⑤ ㉤은 갑의 내집단이다.

4. 표의 (가)~(라)에 대한 옳은 설명을 <보기>에서 모두 고른 것은? [3점]

기준 집단	(가)	(나)	(다)	(라)
결합 의지	선택적	본질적	선택적	선택적
이익 실현	공익	사익	사익	사익
접촉 방식	업무 관계	친밀감	친밀감	업무 관계

<보 기>

- ㄱ. (가)에 해당하는 집단으로 회사를 들 수 있다.
 ㄴ. (나)의 구성 바탕이 되는 것은 공동의 가치와 관습이다.
 ㄷ. (다)에 해당하는 집단으로 친족을 들 수 있다.
 ㄹ. (라)는 구성원 간 2차적 인간 관계를 특징으로 한다.

- ① ㄱ, ㄴ ② ㄱ, ㄷ ③ ㄴ, ㄹ
 ④ ㄱ, ㄷ, ㄹ ⑤ ㄴ, ㄷ, ㄹ

5. 다음 서술형 평가 문제에 대해 옳게 서술한 학생을 <보기>에서 고른 것은?

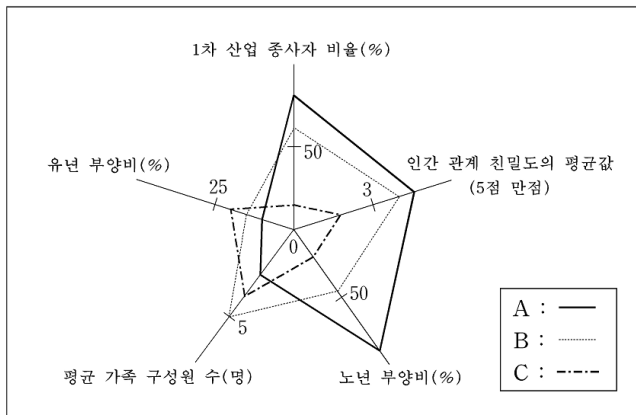
서술형 평가	3학년 반 번 이름 :
문제> 당신이 어느 조직의 최고 경영자라고 가정하자. 그리고 다음 주장에 동의한다면 어떤 결정을 내릴지 서술하시오.	
주장> 최근 10여 년 동안 세계적 기업가나 경영학자들은 관료제에서 전제하는 바와 다른 방식으로 상황을 인식하고 있다. 잘 짜여진 환경이란 없으며, 질서 정연한 세계란 허구라는 것이다. 그러면서 조직이 진정으로 살아남기 위해서는 혼란 그 자체를 사랑해야 하고, 불확실성의 시대를 극복하고 선도해 나가기 위해서는 조직의 운명을 건 변신이 필요하다고 주장한다.	

<보 기>

- 갑 : 일관된 업무 추진을 위해 고용을 최대한 보장한다.
 을 : 이합집산이 용이한 소규모 그룹들을 발족시킨다.
 병 : 신속한 의사 결정을 위해 직원 간 통솔 시스템을 구축한다.
 정 : 의사 소통의 유연성이 가능한 소통 구조를 확립한다.

- ① 갑, 을 ② 갑, 병 ③ 을, 병 ④ 을, 정 ⑤ 병, 정

[6~7] 그림은 다섯 가지 지표를 기준으로 세 지역을 도식화한 것이다.



* 유년 부양비 : 총 인구 중 생산 가능 인구를 100으로 보았을 때의 유년 인구
** 노년 부양비 : 총 인구 중 생산 가능 인구를 100으로 보았을 때의 노년 인구

6. A~C 지역의 일반적인 특징에 관한 내용으로 옳지 않은 것은?

- ① A는 B에 비하여 인구 성장 가능성이 낮을 것이다.
- ② A는 C에 비하여 전통적인 생활 방식이 더 많이 나타날 것이다.
- ③ B는 C에 비하여 지역 주민의 소속감이 높을 것이다.
- ④ C는 B에 비하여 생산 가능 인구의 비율이 낮을 것이다.
- ⑤ 도시화가 진행될수록 B에서 C로 변화될 것이다.

7. 위의 A, C 지역과 가족의 세대 구성을 결합하여 (가)~(라)로 가족 유형을 나눌 수 있다.

세대 구성 \ 지역	A	C
2세대 이하	(가)	(나)
3세대 이상	(다)	(라)

다음 김씨의 인생 경로(㉠~㉣)에 나타난 가족 유형을 (가)~(라)에서 모두 고른 것은? [3점]

㉠ 김씨는 유사한 문화와 가치를 공유하는 지역에서 태어나 할아버지와 아버지로부터 엄한 가정 교육을 받고 자랐다.



㉡ 결혼과 더불어 독립한 김씨 부부는 2차적 인간 관계가 주로 이루어지는 지역에서 두 아이를 키웠다. 두 아이는 결혼 후 가까운 곳에 따로 살게 했다.



㉢ 김씨는 익명성이 높고 주로 공식적 사회 통제 수단으로 규제되는 지역에서 부부만의 노후를 보냈다.

- ① (가), (나) ② (가), (라) ③ (나), (다)
- ④ (가), (다), (라) ⑤ (나), (다), (라)

8. 밑줄 친 ‘기우제 춤’을 보는 학자의 관점에 부합하는 진술을 <보기>에서 고른 것은? [3점]

호피 인디언 사회를 연구한 어느 학자는 그들의 기우제 춤을 관찰하고 다음과 같이 설명하고 있다. “호피 인디언들은 ‘기우제 춤이 비를 내리게 한다’고 믿는다. 바로 이 믿음으로 인해 그들은 그 의례에 적극적으로 참여한다. 뿐만 아니라 이런 과정을 통해 기우제 춤은 그들의 사회적 응집력을 높인다.”

<보 기>

- ㄱ. 사회 발전의 원동력을 사회 갈등이라고 본다.
- ㄴ. 사회 유지를 위해서는 부분 간에 야기되는 갈등을 해결하는 제도가 있어야 한다고 본다.
- ㄷ. 정치 상황이 심하게 변할 때 독재 체제를 옹호하는 중요한 이론적 기반으로 활용되기도 한다.
- ㄹ. 개인마다 사회적 상징을 다르게 보기 때문에 인간 행위의 의미 해석을 통해 현상을 이해하게 된다.

- ① ㄱ, ㄴ ② ㄱ, ㄷ ③ ㄴ, ㄷ ④ ㄴ, ㄹ ⑤ ㄷ, ㄹ

9. 다음의 옛 동독 지역 사람들에 관한 타당한 설명을 <보기>에서 고른 것은?

통일 후 1993년에 행해진 한 조사에 따르면, 옛 서독 지역 사람들은 ‘평등’보다 ‘자유’를, 옛 동독 지역 사람들은 ‘자유’보다 ‘평등’을 더 중요하게 인식하고 있었다. 또 다른 연구를 보면, 통일 이후 옛 동독 지역 사람들은 실직과 사회적 신분의 하강을 경험하였으며 이로 인해 통일 이전을 그리워하는 것으로 나타났다. 그러나 최근 연구에 의하면, 통합을 위한 정부의 다양한 노력으로 이런 문제는 상당히 해결되어 가고 있다.

<보 기>

- ㄱ. 통일로 인해 역할 갈등을 경험하고 있다.
- ㄴ. 재사회화를 통해서 사회에 통합되어 가고 있다.
- ㄷ. 구조적 이동에 의한 사회 이동을 경험하고 있다.
- ㄹ. 옛 서독 지역 사람들을 준거 집단으로 삼고 있다.

- ① ㄱ, ㄴ ② ㄱ, ㄷ ③ ㄴ, ㄷ ④ ㄴ, ㄹ ⑤ ㄷ, ㄹ

10. 다음 사례가 시사하는 바로 가장 적절한 것은? [3점]

○○지역 내 교통 현황을 연구한 김씨는, 지역 감정을 조장하는 웹 사이트에서 자신의 보고서를 인용한 게시물을 보고 경악을 금할 수 없었다. 거기에는 “◇◇지역민이면서 ○○지역으로 통근하는 사람들이 교통 법규를 위반하는 경우가 지나치게 많다”고 적혀 있었다. 그러나 보고서의 핵심 요점은 “운전자의 거주 지역에 관계없이 급박한 상황에 처한 사람이 교통 법규를 위반하게 된다”는 것이었다.

- ① 연구 결과는 가치 함축적일 수밖에 없다.
- ② 경험적 증거에만 의존한 연구는 한계가 있다.
- ③ 연구의 주제 선정은 가치 중립적으로 해야 한다.
- ④ 사회 문화 현상의 탐구는 객관적 태도를 요구한다.
- ⑤ 연구 결과의 활용에 대한 윤리적 성찰이 필요하다.

11. 표에 대한 분석으로 옳지 않은 것은?

〈도시와 농촌의 순 전입 비율과 개별 도시로의 전입 비율〉										
구분 연도	순 전입 비율(%)		도시 순 전입 인구 중 개별 도시로의 이동 비율(%)							
	농촌	도시	도시				광역시·광역시 생활권			
			서울	부산	기타	합계	서울 광역시 생활권	부산 광역시 생활권	기타	합계
60~65	-5	10	70	4	26	100	75	4	21	100
66~70	-14	20	61	13	26	100	67	14	19	100
71~75	-10	11	36	18	46	100	57	22	21	100
76~80	-16	12	32	16	52	100	53	24	23	100
81~85	-13	7	30	3	67	100	62	9	29	100
86~90	-14	5	12	1	87	100	65	11	24	100

- * 순 전입 비율 = $\left(\frac{\text{전입 인구} - \text{전출 인구}}{\text{해당 지역 인구}} \right) \times 100$
- ** 서울(부산) 광역 생활권은 서울(부산)과 외곽 생활권(행정 경계에 인접한 도시)을 합한 것임
- ① 도시 순 전입 인구의 과반수가 수도권으로 전입해 왔다.
② 도시 순 전입 인구 중 서울로의 이동 비율은 감소해 왔다.
③ 도시 순 전입 인구의 70% 이상이 서울 광역 생활권과 부산 광역 생활권으로 전입해 왔다.
④ 80년대에는 도시 순 전입 인구의 30% 이상이 서울의 외곽 생활권으로 전입하였다.
⑤ 60년대와 비교하여 80년대의 도시 순 전입 인구가 도시 인구 증가에 더 큰 영향을 미쳤다.

12. 다음 연구 사례에 나타난 자료 수집 방법에 대한 설명으로 가장 적절한 것은? [3점]

- (가) 새터민 10명을 심층 면접하여 정체성의 혼란에 대해 연구한다.
(나) 인라인 스케이트 초보자들을 두 집단으로 나눈 후 한 집단에 대해 새로운 훈련 방법을 적용하여 효과가 어떠한지를 측정한다.
(다) 독립 영화 제작자 한 팀과 함께 생활하며 무엇이 그들에게 동기를 부여하는지 탐구한다.
(라) 질문지를 배포하여 삶의 만족도를 묻고, 어떠한 교육 수준, 직업, 계층의 사람들이 가장 만족스럽다고 했는지 분석한다.
(마) 도농 교류 활성화 방안을 연구하면서 관련된 주제에 관한 책과 논문을 검색하여 수집한다.

- ① (가)의 방법은 다른 방법에 비해 의미 해석이 가장 중요시된다.
② (나)에서 두 집단은 편의에 따라 나누면 된다.
③ (다)를 통해 독립 영화 제작 동기에 대해 일반화할 수 있다.
④ (라)는 교육 수준, 직업, 계층 간의 상호 연관성을 분석하기 위한 것이다.
⑤ (마)의 방법은 대부분의 사회과학 연구의 가설 수립 단계에서 공통적으로 활용된다.

[13~14] 다음 내용을 보고 물음에 답하시오.

- (가) 자료 수집이 완료되면 통계 분석을 실시하여 중요한 내용을 정리한다.

(다) 구체적으로 어떤 주제를 연구 내용으로 할지 결정한다.
- (나) 조사의 세부 내용이 확정되면 질문지를 작성하고 대상자를 선정한다.

(라) 새로이 발견된 사항에 주목하면서 결론을 내린다.

13. 위 (가)~(라)의 연구 단계에 대한 설명으로 적절하지 않은 것은? [3점]

- ① (가)는 연역적 단계이다.
② 예비 조사는 (나)에서 한다.
③ 가설은 (다)에서 만든다.
④ (라)에서 일반화 작업이 진행된다.
⑤ (다)-(나)-(가)-(라)의 순서로 연구가 진행된다.

14. 위 연구의 (다) 단계에서 결정할 주제로 가장 적합한 것은?

- ① 수도권 성인병 환자의 애로 사항
② 아마존 지역 원주민 부족의 생산관
③ 동북 아시아 산업 정책의 국가별 비교
④ A종교와 B종교 경제 윤리의 역사적 비교
⑤ 구사회주의권 몰락 과정에서 시민 사회의 역할

15. 다음은 논술 경시 대회에 대한 어떤 사람의 주장이다.

○○교육청에서 실시하는 논술 경시 대회에서 많은 학생들은 입상이라는 사회적 희소 가치를 획득하기 위해 경쟁한다. 권위 있는 채점 위원들이 여러 평가 요소에 의해 공정하게 채점한 결과에 따라 입상자들은 대상을 비롯해 금상, 은상, 동상, 장려상을 수상한다. ○○교육청에서 주관하는 논술 경시 대회는 논술에 재능 있는 학생의 발굴과 육성에 기여한다.

아래 질문에 대하여 위 사람의 관점에 따른 대답을 순서대로 바르게 배열한 것은? [3점]

- (가) 불평등 정도를 연속적으로 서열화하는 것에 동의하십니까?
(나) 특정 집단의 빈곤 원인이 사회 구조에 있다는 주장에 동의하십니까?
(다) 직업별 중요도에 따른 차별적 보상이 정당하다고 생각하십니까?
(라) 불평등 현상이 사회적 대립 관계를 나타낸다고 생각하십니까?

- | | (가) | (나) | (다) | (라) |
|---|-----|-----|-----|-----|
| ① | 예 | 예 | 예 | 아니요 |
| ② | 예 | 아니요 | 아니요 | 예 |
| ③ | 예 | 아니요 | 예 | 아니요 |
| ④ | 아니요 | 예 | 아니요 | 예 |
| ⑤ | 아니요 | 예 | 예 | 아니요 |

16. 다음은 개인과 사회의 관계를 파악하는 관점과 관련된 내용이다. 이 관점이 담긴 진술을 <보기>에서 모두 고른 것은? [3점]

내가 형제로서 아버지로서 또는 시민으로서 나의 의무를 행하고 나에게 맡겨진 일들을 할 때, 나는 법과 관습을 따른다. 마찬가지로 종교인은 정해진 종교적 삶의 믿음과 실천들을 발견하고 행하게 된다. 그것은 그가 행하기 이전부터 존재하고 있으며, 결과적으로 그의 외부에 존재한다.

<보 기>

ㄱ. 치안 유지를 위해 사생활이 침해당해서는 안돼.
 ㄴ. 도덕적인 사람들의 모임이 꼭 도덕적이지는 않아.
 ㄷ. 조직력이 강한 팀이 개인기가 강한 팀을 이길 수밖에 없어.
 ㄹ. A국의 한 사람을 깊이 사귀면 그 나라의 사회 구조를 알 수 있어.

- ① ㄱ, ㄷ ② ㄱ, ㄹ ③ ㄴ, ㄷ
 ④ ㄱ, ㄴ, ㄹ ⑤ ㄴ, ㄷ, ㄹ

17. 표로부터 추론되는 가족 기능의 변화에 대한 타당한 진술을 <보기>에서 모두 고른 것은?

항목 \ 연도	1985	1990	1995	2000
총 인구(천 명)	3,469	3,474	3,481	3,479
생산 가능 인구(천 명)	2,075	2,118	2,256	2,387
노령화 지수(%)	16.8	22.6	32.4	47.2
가구당 평균 가구원 수(명)	5.13	4.38	3.89	3.02
연평균 가족 여행 빈도(회)	1.2	2.7	3.5	4.9

* 생산 가능 인구: 15세~64세 인구

** 노령화 지수 = $\frac{\text{노년 인구}}{\text{유년 인구}} \times 100$

<보 기>

ㄱ. 사회화 기능은 약화되고 있다.
 ㄴ. 사회 성원의 충원 기능은 약화되고 있다.
 ㄷ. 경제적 생산 주체로서의 기능은 약화되고 있다.
 ㄹ. 여가와 오락을 제공하는 기능은 강화되고 있다.

- ① ㄱ, ㄷ ② ㄴ, ㄹ ③ ㄱ, ㄴ, ㄷ
 ④ ㄱ, ㄴ, ㄹ ⑤ ㄴ, ㄷ, ㄹ

18. 밑줄 친 ㉠, ㉡ 조직에 대한 설명으로 옳은 것은?

〈알림〉

물 사랑 마라톤 대회

○ 일시 : 2007년 ○월 ○일
 ○ 구간 : ◇◇~◆◆
 ○ 참가비 : 회원(2만원), 비회원(3만원)
 ○ 참가자격 : 우리 물을 사랑하는 사람은 누구나 가능
 ○ 주최 : ㉠물사랑시민연대

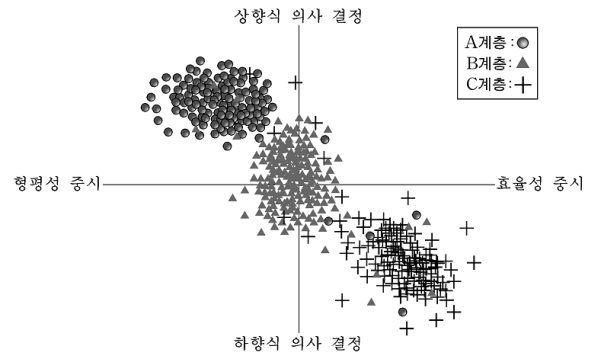
〈알림〉

봄 맞이 산행

○ 일시 : 2007년 ○월 ○○일
 ○ 장소 : ▲▲산
 ○ 참가비 : 1만원
 ○ 참가자격 : 우리 회사 직원이면 누구나 가능
 ○ 주최 : ㉡산(山)사랑회

- ① ㉠은 전인격적 인간 관계를 특징으로 한다.
 ② ㉠은 다원주의 사회에서 기능과 역할이 감소하고 있다.
 ③ ㉡은 목표 달성과 업무 처리의 절차를 중시한다.
 ④ ㉡은 자발적 결사체이면서 동시에 공식 조직이다.
 ⑤ ㉠은 ㉡에 비해 구성원의 지위와 책임이 명확히 규정된다.

19. 그림은 지역 사회의 개발 방식에 대한 선호도 조사 결과를 도식화한 것이다. 이를 바탕으로 한 적절한 진술을 <보기>에서 고른 것은? [3점]

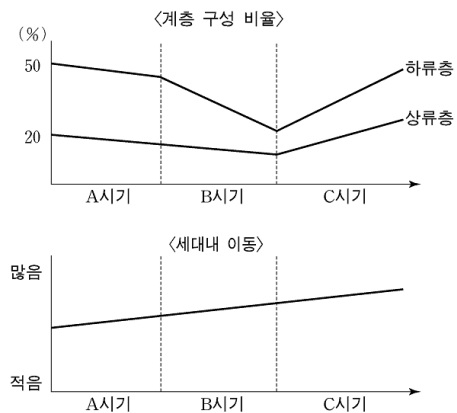


<보 기>

- ㄱ. A계층은 집적 이익을 형성하고 그것이 파급되길 바란다.
 ㄴ. B계층은 C계층에 비해 지역 격차를 줄이는 방식을 선호한다.
 ㄷ. C계층이 선호하는 것은 광역 개발 방식이다.
 ㄹ. 지역 개발 방식에 대한 개인적 선호는 구조화되어 있다.

- ① ㄱ, ㄴ ② ㄱ, ㄷ ③ ㄴ, ㄷ ④ ㄴ, ㄹ ⑤ ㄷ, ㄹ

20. 그래프는 계층 구성 비율과 세대내 이동을 나타낸 것이다. 이에 대한 분석으로 적절한 것은? [3점]



- ① A시기는 신분제 사회로 피라미드형 계층 구조가 확고해진다.
 ② B시기는 하강 이동에 의한 계층 구조의 변화가 활발하게 전개된다.
 ③ B시기는 구조적 이동이 다이아몬드형 계층 구조로의 변화를 야기한다.
 ④ C시기는 빈곤의 세대 간 대물림 현상이 점점 약화될 것이다.
 ⑤ C시기는 중류층에서 세대내 계층적 위치가 지속될 가능성이 낮아진다.

* 확인 사항

- 답안지의 해당란에 필요한 내용을 정확히 기입(표기)했는지 확인 하시오.