

제 4 교시

사회탐구 영역 (사회·문화)

성명

수험번호

- 자신이 선택한 과목의 문제지인지 확인하시오.
- 답안지에 성명과 수험 번호를 써 넣고, 또 수험 번호와 선택과목 번호, 답을 정확히 표시하시오.
- 과목을 선택한 순서대로 풀고, 답은 답안지의 '제1선택'란부터 차례대로 표시하시오.
- 문항에 따라 배점이 다르니, 각 물음의 끝에 표시된 배점을 참고하시오. 3점 문항에만 점수가 표시되어 있습니다. 점수 표시가 없는 문항은 모두 2점입니다.

1. 다음 글에서 강조하고 있는 사회 과학의 연구 방법에 대한 설명으로 옳은 것을 <보기>에서 모두 고른 것은?

기획 담당자들은 “업무 능력 가운데 가장 필요한 것은 무엇인가?”라는 물음에 대부분 통찰력을 꼽았다.  
그 이유는 시장을 분석하는 여러 가지 도구가 있지만 아무리 과학적으로 접근해도 인간의 직관이 필요한 부분이 있고, 특정한 자료를 판단하는 것은 인간의 몫이기 때문이다.

<보 기>

- ㄱ. 개별적인 사례를 통해 일반화된 지식을 얻기가 어렵다.
- ㄴ. 사회를 정태적이고 기계적으로 인식할 우려가 있다.
- ㄷ. 실험 연구나 계량적 자료를 이용하는 표본 연구가 필요하다.
- ㄹ. 역동적인 사회·문화 현상을 심도 있게 파악하는 데 유용하다.

- ① ㄱ, ㄴ                      ② ㄱ, ㄷ                      ③ ㄷ, ㄹ
- ④ ㄱ, ㄴ, ㄷ                ⑤ ㄴ, ㄷ, ㄹ

2. 다음과 같은 가족 형태가 나타날 때 예상되는 현상으로 옳지 않은 것은?

정보화는 다른 여러 분야도 마찬가지이지만 가족의 관계와 기능에도 변화를 가져올 것이다.  
이미 10대들은 외부 세계와 연결해주는 PC와 휴대 전화 등이 필수품이 되었고, 부모와의 면대면(face to face) 대화보다 친구와의 통신에 더 익숙해지고 있다. 이렇게 되면 물리적인 몸은 가정에 있지만 지속적으로 바깥 사회 관계망과 시간을 보냄으로써 개인의 자유를 즐기면서도 긴급시에는 가족 성원들과 일시적 도움을 주고받는 네트워크형 가족이 새로운 가족으로 등장할 가능성이 있다.

- ① 가족의 본질적 기능이 점차 확대될 것이다.
- ② 가족 구성원의 개성과 사생활이 더욱 중시될 것이다.
- ③ 가족 간의 결속력이 약화되어 가족 해체가 증가할 수 있다.
- ④ 가족 이외의 사람들과 폭넓은 인간 관계를 맺게 될 것이다.
- ⑤ 가족에 대한 가치관의 변화로 다양한 가족 형태가 등장할 것이다.

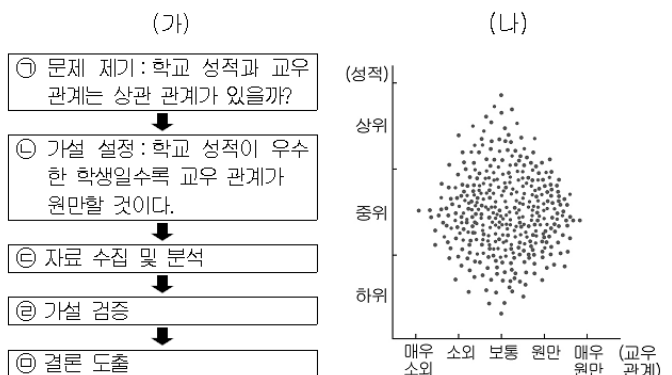
3. 그림에 나타난 사회 계층 현상을 바라보는 관점에 부합하는 설문 응답을 모두 고른 것은? [3점]



설문 내용	응답	
	예	아니오
1. 사회적 희소 가치는 지배 집단에 의해 배분된다.	㉠✓	
2. 가난한 사람은 능력이나 노력이 부족하기 때문이다.	㉡✓	
3. 사회적 불평등은 사회의 유지와 통합에 장애가 된다.		㉢✓
4. 사회 구조의 변동은 사회 발전에 기여한다.	㉣✓	

- ① ㉠, ㉡                      ② ㉠, ㉢                      ③ ㉡, ㉣
- ④ ㉠, ㉢, ㉣                ⑤ ㉡, ㉢, ㉣

4. 그림의 (가)는 사회 조사 과정을, (나)는 그에 대한 자료 수집 결과를 나타낸 것이다. 이에 대한 설명으로 적절하지 않은 것은? [3점]



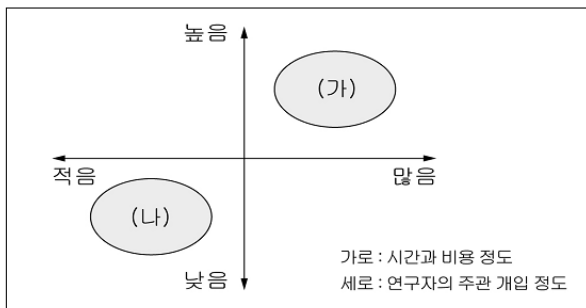
- ① ㉠은 연구자의 관찰과 판단, 경험 등을 바탕으로 한다.
- ② ㉡에서는 개념의 조작적 정의가 필요하다.
- ③ ㉢에서 ㉣까지는 연구자의 엄격한 가치 중립이 요구된다.
- ④ ㉣에서 (나)와 같은 결과가 나타나면 가설이 수용된다.
- ⑤ (나)는 연역적 연구 과정에서 얻어진 실증적 자료이다.

5. 다음 글의 밑줄 친 ㉠~㉣에 대한 설명으로 적절한 것은?

베트남에서 한국 농촌으로 시집온 ㉠A씨는 현재 ㉡남편과 두 딸을 두고 있다. ㉢언어 장벽으로 인하여 많은 어려움을 겪던 그녀는 군청에 개설된 한글 깨치기 강좌에 열심히 참여하여 2년 만에 한국어 능력 시험에 합격하였다. 나아가 마을 부녀회에도 적극적으로 참여한 결과 최우수 부녀 회원으로 추천되어 군수로부터 ㉣표창장을 받았다. 최근에는 인터넷을 통해 농산물을 판매하려고 ㉤학교에서 운영하는 컴퓨터 교육을 받고 있다.

- ① ㉠과 ㉡은 법률상 혈족 관계로 맺어진 친족에 해당한다.
- ② ㉠과 동일한 성격의 지위에는 딸, 청소년 등이 있다.
- ③ ㉢은 다양한 지위에서 비롯되는 역할 갈등의 사례이다.
- ④ ㉣은 개인의 역할 행동에 대한 평가 결과이다.
- ⑤ ㉤은 1차적 사회화 기관에서 이루어지는 재사회화 과정이다.

6. 그림의 (가)와 (나)에 해당하는 자료 수집 방법에 대한 진술로 적절한 것은? [3점]



- ① (가)는 필요한 정보를 한꺼번에 얻을 수 있고 분석이 용이하다.
- ② (나)는 인류학자들이 현지 조사에서 많이 사용하는 방법이다.
- ③ (가)는 질적 연구, (나)는 양적 연구에 주로 이용된다.
- ④ (가)보다 (나)는 피조사자와 정서적 유대가 필요하다.
- ⑤ (나)보다 (가)는 조사 대상이나 표본을 구하기가 용이하다.

7. 다음은 개인과 사회의 관계를 보는 관점이다. 이에 대한 설명으로 옳은 것을 <보기>에서 모두 고른 것은? [3점]

(가) 인간은 누구든 그 자체로서 온전한 점은 아니다. 모든 인간은 대륙의 한 조각이며 대양의 일부이다.  
(나) 사회는 나름대로의 고유한 특성을 지니며, 개인의 삶을 규제하고 좌우하는 구속력을 가진다.

<보 기>

ㄱ. (가)에서 사회는 개인을 뛰어넘는 독립적인 실체이다.  
ㄴ. (가)는 개인주의와 자유주의를 사상적 배경으로 하고 있다.  
ㄷ. (나)는 집합적 단위로서의 사회 구조를 중시한다.  
ㄹ. (가)와 (나)는 모두 사회 변화를 위한 인간의 주체성을 경시하는 한계가 있다.


- ① ㄱ, ㄴ                      ② ㄱ, ㄹ                      ③ ㄴ, ㄷ
- ④ ㄱ, ㄷ, ㄹ                ⑤ ㄴ, ㄷ, ㄹ

8. 다음은 ○○대학교에 지원한 갑의 자기 소개서 일부이다. 밑줄 친 ㉠~㉣에 대한 설명으로 가장 적절한 것은?

지원 동기	㉠초등학교 때부터 ㉡농구 동아리 활동을 하면서 농구 선수의 꿈을 키워 왔습니다. 그 꿈을 이루기 위해 체육학과에 지원하게 되었습니다.
대학 생활	대학 생활 동안 이론과 실기를 꾸준히 연마함과 동시에 ㉢환경 운동 단체에 가입하여 미약하나마 이 사회에 꼭 필요한 일꾼이 되고자 합니다.
진로 계획	우리 지역을 연고로 하고 있는 ㉣스타일에 입단하여, ㉤경기를 관람하러 온 사람들에게 프로 선수로서의 면모를 마음껏 펼쳐 보이고 싶습니다.

- ① ㉠은 공동의 목표를 달성하기 위해 자발적으로 만든 집단이다.
- ② ㉡은 자연 발생적으로 생겨난 조직으로 2차 집단의 성격이 강하다.
- ③ ㉢은 가입과 탈퇴가 자유로운 비공식 조직에 해당한다.
- ④ ㉣은 갑의 가치 판단과 행동에 기준을 제공하는 집단이다.
- ⑤ ㉤은 비의도적으로 형성된 사회 집단으로 볼 수 있다.

9. 다음 글에 나타난 경찰의 행동을 지지하는 주장으로 가장 적절한 것은?



- ① 대중 매체의 발달은 문화 전파를 가속화시킨다.
- ② 외래 문화의 유입은 문화의 다양화에 기여한다.
- ③ 세계화된 보편 문화는 민족 문화 발전을 자극한다.
- ④ 문화 상품화에 의한 문화 제국주의가 확산되고 있다.
- ⑤ 주체성 없는 외래 문화 수용은 문화 정체성을 약화시킨다.

10. 자료에 대한 분석으로 옳은 것은? [3점]

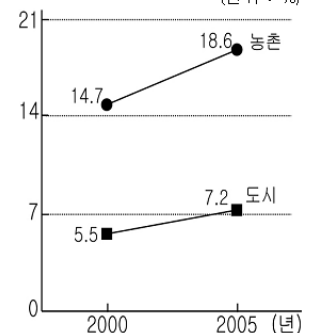
<고령 인구 규모 및 추이>

(단위: 천 명)

구분	2000년	2005년	증가율 (%)
총인구	45,125	47,345	4.9
65세 이상	3,371	4,365	29.5
성 남자	1,287	1,736	34.9
별 여자	2,084	2,629	26.1
지 도시	2,001	2,747	37.2
역 농촌	1,370	1,618	18.1

<지역별 고령 인구 비율>

(단위: %)



- ① 도시의 고령화가 농촌보다 빠르게 진행되었다.
- ② 도시 지역은 2000년에 고령화 단계에 진입하였다.
- ③ 총 인구 수보다 고령 인구 수가 더 많이 증가하였다.
- ④ 농촌 지역에 거주하는 고령 인구가 도시 지역보다 많다.
- ⑤ 여성 고령자의 비중이 더 크지만 증가율은 남성이 더 높다.

11. 다음 학자가 문화를 이해하는 관점에 부합하지 않는 것은?

프랑스의 문화인류학자 레비스트로스는 아프리카를 여행하면서 아프리카의 과학은 서양의 과학과 종류가 다를 뿐 결코 서양 과학보다 뒤떨어지지 않는다는 사실을 발견했다고 주장했다. 과학뿐만 아니라 예술이나 관습, 제도 등도 모두 그 나름대로의 합리성이 있다는 것이다.

- ① 문화는 우열을 가릴 수 없다.
- ② 문화는 그 사회의 맥락에서 이해해야 한다.
- ③ 문화는 평가 대상이지만 비교 대상은 될 수 없다.
- ④ 문화는 그 사회의 환경으로부터 자유로울 수 없다.
- ⑤ 문화는 그 사회에서 보다 적합한 방식으로 발전된 것이다.

12. 표에 대한 분석으로 옳은 것은? [3점]

< 2005년 기준 여성의 출생아 수 현황 > (단위 : %)

구분		출생아 수						계
		0명	1명	2명	3명	4명	5명 이상	
전체		6.4	15.6	43.8	16.2	7.0	11.0	100
지역	농촌	5.0	10.5	30.3	17.9	13.0	23.3	100
	도시	6.8	17.1	47.5	15.7	6.4	6.5	100
연령	20~29세	36.3	40.6	20.9	1.7	0.5	0.0	100
	30~39세	7.8	23.8	58.6	9.1	0.6	0.1	100
	40~49세	3.2	15.6	65.4	13.6	1.8	0.4	100
	50세 이상	4.0	6.1	11.2	19.9	21.4	37.4	100

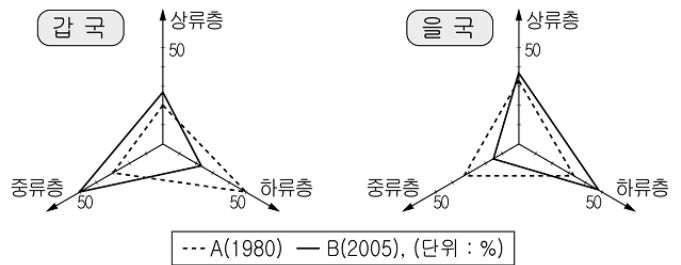
- ① 농촌 지역의 출생아 수가 도시 지역보다 많다.
- ② 50세 이상에서는 대부분 5명 이상을 출산하였다.
- ③ 자녀를 출산하지 않은 여성의 수는 30대가 40대보다 많다.
- ④ 3명 이상을 출산한 여성이 1명 이하를 출산한 여성보다 많다.
- ⑤ 두 자녀를 출산한 여성의 비중이 모든 연령대에서 가장 크다.

13. 다음 글의 밑줄 친 ㉠~㉤에 대한 설명으로 옳은 것은?

일류(日流)가 밀려온다  
최근 한·일 간의 문화 교류는 역류라는 표현이 절맞을 정도로 역전되고 있다.  
식사 시간이 되면 ㉠일본식 불고기집에 빈자리를 찾아보기 힘들고, ㉡일본 원작의 드라마나 영화가 상영되는 일도 많고 있다. 우리가 한류(韓流)에 취해 있는 사이 ㉢일류(日流)가 청소년 문화의 중심으로 들어와 있다. 일부 젊은이들은 ㉣한국 문화보다 섬세하고 독창적인 일본 문화가 더 매력적이라고 말한다. 이는 ㉤경제적으로나 문화적으로 심각한 문제이다.

- ① ㉠은 문화 변동 과정의 문화 동화에 해당한다.
- ② ㉡은 직접 전파로서 문화 변동의 외재적 요인이다.
- ③ ㉢은 문화 접촉으로 발생하는 자발적 문화 접변이다.
- ④ ㉣의 문화 인식 태도는 문화의 상대성을 중시한다.
- ⑤ ㉤은 문화의 세계화가 진행됨에 따라 해소될 수 있다.

14. 그림은 두 국가의 계층 구조 변화를 나타낸 것이다. 이에 대한 해석으로 옳은 것을 <보기>에서 모두 고른 것은? [3점]



<보 기>

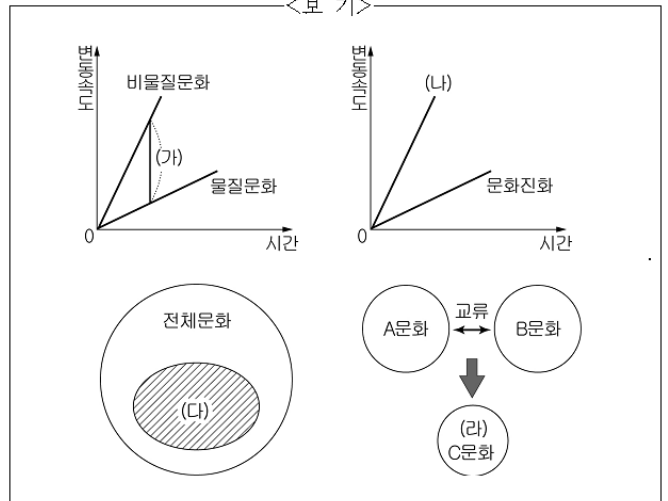
- ㄱ. 갑국에서 사회 이동이 가장 활발하게 이루어진 것은 상류층이다.
- ㄴ. 을국은 양극화에 따른 사회 불안의 가능성이 높아지고 있다.
- ㄷ. 갑국과 을국은 모두 개방적 계층 구조가 나타나고 있다.
- ㄹ. B시기에 갑국은 을국에 비해 사회 안전망 확보가 더 필요하다.

- ① ㄱ, ㄷ
- ② ㄴ, ㄷ
- ③ ㄴ, ㄹ
- ④ ㄱ, ㄴ, ㄹ
- ⑤ ㄱ, ㄷ, ㄹ

15. 다음 글에 나타난 문화적 개념을 옳게 표현한 것을 <보기>에서 모두 고른 것은? [3점]

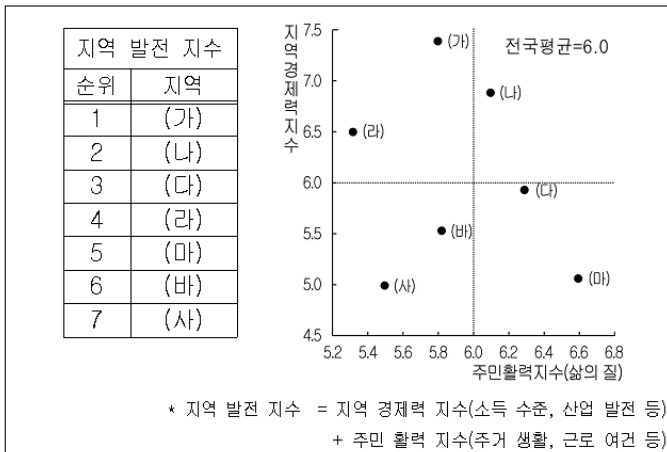
브레이크 댄스를 추는 사람을 뜻하는 비보이(B-boy)가 세계적 문화 코드로 자리 잡으면서, 그동안 좋지 않은 청소년 문화로 평가받던 비보이에 대한 인식이 달라지고 있다.  
한국의 비보이들은 '춤은 곧 내 삶'이라는 프로 정신과 끊임없는 연습으로 세계 최강이 되었다. 또한 이들은 신명나는 국악에 맞춰 새로운 감각의 춤을 개발하는 등 다양한 공연을 선보이면서 대표적 한류 상품으로 주목받고 있다.  
하지만 뮤지컬, 광고, 드라마 등에서 맹활약하는 이들의 개인 블로그 등에는 여전히 악성 댓글이 많아 네티즌들의 성숙한 시민 의식이 요구된다.

<보 기>



- ① (가), (나)
- ② (나), (다)
- ③ (다), (라)
- ④ (가), (나), (라)
- ⑤ (가), (다), (라)

[16~17] 다음은 어느 나라의 지역 발전 정도를 나타낸 자료이다. 물음에 답하시오.



16. 위 자료에 대한 해석으로 가장 적절한 것은?

- ① 지역 경제력이 삶의 질을 보장해 주지는 못한다.
- ② 지역 경제력 지수가 높을수록 지역 발전 지수가 높다.
- ③ 지역 간 경제력 격차에 비해 삶의 질 격차가 더 크다.
- ④ 지역 발전 지수와 주민 활력 지수는 정비례 관계이다.
- ⑤ 삶의 질이 전국 평균보다 높으면 지역 경제력 지수도 전국 평균보다 높다.

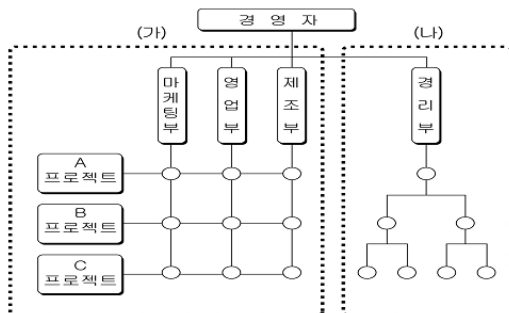
17. 위 자료에 나타난 각 지역의 상황을 추론한 것으로 옳은 것을 <보기>에서 모두 고른 것은? [3점]

<보기>

- ㄱ. (가)는 주택 문제나 환경 오염 등과 같은 경제 성장의 부작용이 나타날 수 있다.
- ㄴ. (마)는 다른 지역보다 삶의 만족도를 높이기 위한 사회·문화적 자원의 확보가 필요하다.
- ㄷ. (사)는 다른 지역과의 격차를 해소하기 위한 균형 개발 방식을 요구할 것이다.
- ㄹ. (나)와 (라)는 산업화에 따른 이촌 향도 현상으로 노동력이 부족할 것이다.

- ① ㄱ, ㄷ
- ② ㄴ, ㄹ
- ③ ㄷ, ㄹ
- ④ ㄱ, ㄴ, ㄷ
- ⑤ ㄱ, ㄴ, ㄹ

18. 그림의 (가)와 (나)를 비교한 설명으로 옳은 것은?



- ① (가)는 개인의 업무가 표준화되고 권한과 책임이 명확하다.
- ② (나)는 구성원들의 상상력과 창의력을 이끌어 내기에 수월하다.
- ③ (가)는 (나)보다 인적 자원을 신속적으로 활용할 수 있다.
- ④ (나)에 비해 (가)는 경력에 따른 승진과 보상을 원칙으로 한다.
- ⑤ 다품종 소량 생산 체제에서는 (가)보다 (나)가 요구된다.

19. 다음 글에서 알 수 있는 문화의 속성과 관련된 진술을 <보기>에서 모두 고른 것은?

UCC(User Created Contents)는 인터넷 사용자가 직접 자료를 만들어 올리는 '사용자 제작 콘텐츠'라는 뜻이다. 초기의 UCC는 개인 홈페이지 등에 글과 사진을 올리는 정도였으나 동영상 공유 사이트가 인기를 끌면서 동영상이 주류가 되었다. 또한 동영상 기능이 강화된 디지털 카메라의 보급과 인터넷 환경의 발달로 기존의 정보 수용자가 직접 양질의 콘텐츠를 제작할 수 있게 되었다. 나아가 개인의 영역에 머물렀던 UCC는 정치 영역으로도 확대되고 있어 대통령 선거에서도 그 영향력이 클 것으로 전망된다.

<보기>

- ㄱ. 문화를 구성하는 각 부분들은 상호 밀접한 관련을 맺고 있다.
- ㄴ. 시공을 초월하여 어느 사회에나 공통적인 문화 요소가 존재한다.
- ㄷ. 새로운 삶의 방식들이 더해지면서 다양한 문화의 내용이 축적된다.
- ㄹ. 기술의 발전과 제도의 도입 등 사회적 변화에 따라 끊임없이 변화한다.

- ① ㄱ, ㄷ
- ② ㄴ, ㄷ
- ③ ㄴ, ㄹ
- ④ ㄱ, ㄴ, ㄹ
- ⑤ ㄱ, ㄷ, ㄹ

20. 다음의 ㉠~㉣과 관련된 진술로 옳은 것을 <보기>에서 모두 고른 것은? [3점]

			㉠		
			㉡사		
			회		
㉢			적		
			㉣상		
			호		
			작		
			응		

<세로>

- ㉠ 구성원 스스로의 의지와 선택에 의해 형성된 집단
- ㉡ 대표적 유형으로 협동, 경쟁, 갈등이 있다.

<가로>

- ㉢ 사회적 관계가 통일적이고 조직적인 총체를 이루고 있는 상태
- ㉣ 어떤 사실이나 주장이 경험적으로 실증될 때까지는 하나의 가설로만 받아들이는 태도
- ㉤ 어떠한 의미를 담고 있는 몸짓이나 사물, 언어, 문자, 신호 등

<보기>

- ㄱ. 세로 ㉠은 구성원들 간의 결합 자체를 목적으로 한다.
- ㄴ. 가로 ㉢으로 교사와 학생이 바뀌어도 학교가 유지되는 이유를 설명할 수 있다.
- ㄷ. 가로 ㉣은 특정 이론을 무비판적으로 추종하거나 배격하지 않는 태도이다.
- ㄹ. 가로 ㉤은 사회나 제도 등을 중시하는 거시적 관점에서 강조한다.

- ① ㄱ, ㄴ
- ② ㄴ, ㄷ
- ③ ㄷ, ㄹ
- ④ ㄱ, ㄴ, ㄷ
- ⑤ ㄱ, ㄷ, ㄹ

\* 확인 사항

- 답안지의 해당란에 필요한 내용을 정확히 기입(표기)했는지 확인하시오.