

제 4 교시

사회탐구 영역(사회·문화)

성명

수험 번호

- 자신이 선택한 과목의 문제지인지 확인하시오.
- 문제지의 해당란에 성명과 수험 번호를 정확히 쓰시오.
- 답안지의 해당란에 성명과 수험 번호를 쓰고, 또 수험 번호와 답을 정확히 표시하시오.
- 선택한 과목 순서대로 문제를 풀고, 답은 답안지의 '제1선택'란부터 차례대로 표시하시오.
- 문항에 따라 배점이 다르니, 각 물음의 끝에 표시된 배점을 참고하시오. 3점 문항에만 점수가 표시되어 있습니다. 점수 표시가 없는 문항은 모두 2점입니다.

1. (가), (나)에 나타난 지역 축제의 문제점을 해결하기 위한 적절한 방안을 <보기>에서 고른 것은?

(가) '☆☆ 풍물 축제'는 지역의 전통을 계승한 풍물재비들이 참여하고 기획도 지역 주민이 한다. 주민들은 적극적으로 참여하지만, 외지인들의 참여가 적어 사실상 주민들만의 행사를 탈피하지 못하고 있다.

(나) '○○ 음식 축제'는 방문객뿐만 아니라 운영자 대부분도 다른 지역 사람들이다. 주민들은 자신들의 세금으로 왜 이런 축제를 운영해야 하는지, 자신들에게 돌아오는 혜택이 무엇인지에 대하여 의문을 가지고 있다.

—<보 기>—

- ㄱ. (가)는 축제의 외연 확대를 위한 홍보를 강화한다.
- ㄴ. (나)는 축제의 기획과 운영에 주민의 의견을 반영하는 통로를 마련한다.
- ㄷ. (가)와 (나)는 축제 과정에 지역의 문화 자원을 활용한다.
- ㄹ. (가)와 (나)는 축제에 대한 지방 자치 단체의 재정 지원을 강화한다.

- ① ㄱ, ㄴ    ② ㄱ, ㄷ    ③ ㄴ, ㄷ    ④ ㄴ, ㄹ    ⑤ ㄷ, ㄹ

2. 다음은 사회를 보는 갑과 을의 서로 다른 관점이다. 이에 대한 설명으로 적절하지 않은 것은?

갑 : 노동 조합과 시민 단체의 지속적인 감시와 투쟁이 있어야 기득권자의 차별과 억압으로부터 벗어날 수 있고, 지역의 진정한 발전도 기대할 수 있습니다.

을 : 아닙니다! 기업과 노동 조합, 지방 자치 단체와 시민 단체가 각자 맡은 역할을 수행하며 협력할 때, 우리 지역이 발전할 수 있습니다.

- ① 갑은 문명권 또는 국가 같은 거대 집단 사이에 만연한 정치적, 종교적 대립을 당연시한다.
- ② 을은 노사 분규가 심각해도 결국은 양측이 합의한다고 본다.
- ③ 갑은 을에 비해 현재의 사회 체제를 비판적으로 인식한다.
- ④ 을은 갑에 비해 사회 변동을 촉진하는 데에 더 적극적이다.
- ⑤ 갑과 을은 사회 현상을 사회 전체적인 차원에서 인식하는 데에는 동의한다.

3. 밑줄 친 ㉠~㉣같은 현상의 일반적 특성을 고려한 옳은 설명을 <보기>에서 모두 고른 것은?

○○지역은 20세기 초까지 ㉠홍수와 산불이 반복해서 발생한 곳이다. 1930년대에 ㉡공업화가 급속히 진행되었으며, 1950년대에는 ㉢연평균 기온이 상승하였고 ㉣대기 및 수질 오염에 대한 우려가 제기되었다. 이후 ㉤정부가 강력한 환경 정책을 실시하여, 1960년대 말에는 공업화 전의 ㉥연평균 기온을 회복하였다.

—<보 기>—

- ㄱ. ㉠같은 현상에는 ㉡같은 현상보다 보편성이 더 강하게 작용한다.
- ㄴ. ㉢과 ㉣같은 현상은 ㉤같은 현상의 원인이 될 수 없다.
- ㄷ. ㉢같은 현상은 ㉥, ㉤같은 현상에 비해 당위 법칙의 지배를 더 많이 받는다.
- ㄹ. ㉥ 현상은 인간의 노력에 의한 자연계의 변화이다.

- ① ㄱ, ㄴ    ② ㄱ, ㄷ    ③ ㄴ, ㄷ  
④ ㄱ, ㄷ, ㄹ    ⑤ ㄴ, ㄷ, ㄹ

4. (가)에 들어갈 적절한 내용을 <보기>에서 고른 것은? [3점]

수업 목표	문화 이해의 세 가지 관점인 총체론, 비교론, 상대론 각각의 특징을 사례를 통해 설명할 수 있다.
교사 수업 자료	<div>□□론적 관점</div> <div>○ 관점의 사례</div> <p>우리나라에서는 눈, 코, 입이 작고 전체적으로 다소 곱한 분위기를 풍기는 것을 미인으로 보았다. 한편 중국의 미인은 눈의 경우 검은자위가 2/3, 흰자위가 1/3을 차지하고, 긴 머리로 얼굴을 감싸야 하며, 붉은 미륵보살의 볼처럼 풍만해야 했다. 그리고 이탈리아의 미인은 눈동자와 눈썹이 검고, 이마와 미간은 넓어야 했다. 이렇게 대부분의 사회에서 미인상을 발견하는 것은 어렵지 않다.</p> <div>○ 관점의 특징</div> <div>(가)</div>

—<보 기>—

- ㄱ. 문화를 구성 요소 간의 관계 속에서 파악한다.
- ㄴ. 자문화를 보다 객관적으로 바라보는 데에 유용하다.
- ㄷ. 문화가 서로 다를지라도 공통된 분모가 존재한다고 본다.
- ㄹ. 문화를 단절 없이 연속적으로 발전하는 과정으로 파악한다.

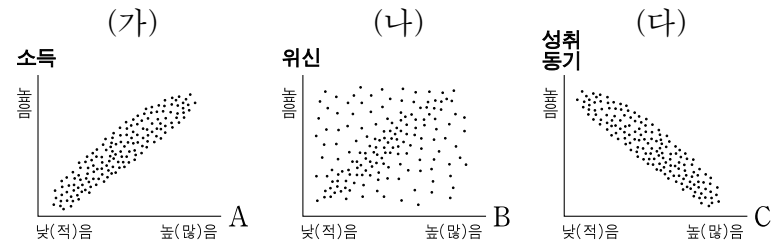
- ① ㄱ, ㄴ    ② ㄱ, ㄷ    ③ ㄴ, ㄷ    ④ ㄴ, ㄹ    ⑤ ㄷ, ㄹ

5. 밑줄 친 ㉠~㉥에 대한 설명으로 옳지 않은 것은?

A는 불가촉천민 출신으로 ㉠대학 총장이 되어 화제가 되고 있는 사람이다. A의 오늘이 있기까지는 사회적 멸시를 받으며 병원에서 청소를 하면서도 한편으로는 ㉡의사들의 삶을 동경한 ㉢아버지의 힘이 컸다. 아버지는 자신이 살아온 삶을 자식에게 물려주고 싶지 않아서, A를 ㉣엘리트 집단에 진입 시킬 목적으로 ㉤도시로 이사하여 교육시켰다. A는 열심히 공부하여 ㉥장학생이 되었다.

- ① ㉠과 ㉢은 모두 성취 지위이다.
  - ② ㉡은 A 아버지의 준거 집단이다.
  - ③ ㉣은 A와 그의 아버지의 내집단이다.
  - ④ ㉤은 세대 간 수직 이동을 목표로 한 것이다.
  - ⑤ ㉥은 A의 역할 행동에 대한 보상이다.
6. (가)~(다)를 그래프로 나타낼 때 A~C에 해당하는 내용을 바르게 배열한 것은? [3점]

(가) 사회 계층화 현상은 사회적 희소 자원이 구성원들의 자질과 노력에 따라 다르게 분배됨으로써 나타나는 당연한 결과이다.  
 (나) 개인차에 따라 어떤 요소의 계층적 위치와 또 다른 요소의 계층적 위치가 서로 일치하지 않는 현상이 나타나기도 한다.  
 (다) 사회 계층화 현상은 개인이 사회 체제 내에서 최선의 기능을 하도록 한다.



- |          | A      | B  | C         |
|----------|--------|----|-----------|
| ① 능력     | 능력     | 재산 | 차등 분배 기대치 |
| ② 가정 배경  | 가정 배경  | 능력 | 차등 분배 기대치 |
| ③ 가정 배경  | 가정 배경  | 명예 | 균등 분배 기대치 |
| ④ 사회 기여도 | 사회 기여도 | 권력 | 차등 분배 기대치 |
| ⑤ 사회 기여도 | 사회 기여도 | 재산 | 균등 분배 기대치 |

7. 다음은 갑, 을 두 학생의 '가족'에 대한 정의이다. 이에 대한 설명으로 가장 적절한 것은?

갑 : 가족은 혼인, 혈연 또는 입양으로 맺어진 단일 가구의 사회 집단이다.  
 을 : 가족은 자신들 스스로가 가족으로 생각하면서 일반적인 가족의 임무를 수행하는 두 명 이상의 사람들을 의미한다.

- ① 갑과 을 모두 확대 가족을 전제로 하고 있다.
- ② 갑은 을에 비해 가족의 기능에 초점을 두고 있다.
- ③ 을은 갑에 비해 가족 구성원의 재생산을 중시한다.
- ④ 새로 나타나는 다양한 가족 유형을 이해하기에는 을의 정의가 더 적합하다.
- ⑤ 국제 결혼에 의한 가정은 갑의 정의에 의하면 가족이 아니지만 을의 정의에 의하면 가족이다.

8. 표에 대한 분석으로 옳지 않은 것은? [3점]

<60세 이상 인구의 사회 보장 제도에 따른 수급 현황>

단위 : %, (천 명)

성별	수급 분류	나이					
		60 이상 전체	60~64	65~69	70~74	75~79	80 이상
남자	연금 수급자	42.8	68.3	57.2	7.2	5.6	2.7
	기초 수급자	4.7	3.2	4.3	5.5	6.5	11.8
	수급 제외자	52.5	28.5	38.5	87.3	87.9	85.5
	소계 (해당 인구)	100.0 (2,575)	100.0 (897)	100.0 (756)	100.0 (514)	100.0 (271)	100.0 (137)
여자	연금 수급자	14.6	28.2	25.6	1.1	0.6	0.2
	기초 수급자	8.9	4.9	7.6	10.1	12.6	14.0
	수급 제외자	76.5	66.9	66.8	88.8	86.8	85.8
	소계 (해당 인구)	100.0 (3,620)	100.0 (991)	100.0 (924)	100.0 (739)	100.0 (496)	100.0 (470)

\* 연금 수급자 : 사회 보험식 연금 제도에 의하여 급여를 받는 사람  
 \*\* 기초 수급자 : 국민 기초 생활 보장법에 의하여 급여를 받는 사람

- ① 60세 이상 전체 인구 중 기초 수급자의 비율은 13.6%이다.
- ② 80세 이상 여자 인구 중 기초 수급자의 비율은 연금 수급자 비율의 70배이다.
- ③ 60세 이상 인구의 연령대가 높아질수록 남녀 모두 연금 수급자의 비율은 감소한다.
- ④ 60세 이상 전체 인구 중 국가가 전액 부담하는 급여를 받는 사람은 여자가 남자보다 많다.
- ⑤ 60세 이상 전체 인구 중 가입자 부담 원칙을 적용한 제도의 수혜자 비율은 남자가 여자보다 더 높다.

9. 다음은 학생이 작성한 수행 평가지이다. (가)~(라)에 들어갈 집단의 수를 바르게 배열한 것은? [3점]

과제 1. 대학 졸업 후 자신의 삶에 대한 계획을 사회 집단을 중심으로 서술하시오.

공기업에 입사하여 양질의 서비스를 제공하고 싶고, 마음에 맞는 동료 직원 몇 명과 등산 동호회를 만들어 여가 시간을 즐기고 싶습니다. 또한 □□ 시민 연대에 가입하여 보람 있고 유익한 사회 활동도 펼치고 싶습니다. 더불어 회칙과 회원들의 역할이 분명하고 조직적 체계를 갖춘 재경 △△ 초등학교 총동창회를 조직하여 회원 간 교우 관계를 더욱 돈독히 해 나갈 것입니다.

과제 2. 자신의 서술 내용에 나타난 사회 집단을 아래 (가)~(라)에 분류하시오. (단, 여러 성격을 동시에 지닌 경우 중복 분류할 것)

구 분	지향 가치	
	과업 중심	친목 중심
자발적 결사체	(가)	(나)
공식적 조직	(다)	(라)

- |      | (가) | (나) | (다) | (라) |
|------|-----|-----|-----|-----|
| ① 1개 | 1개  | 1개  | 1개  | 1개  |
| ② 1개 | 2개  | 2개  | 2개  | 0개  |
| ③ 1개 | 2개  | 2개  | 2개  | 1개  |
| ④ 2개 | 1개  | 2개  | 2개  | 1개  |
| ⑤ 2개 | 2개  | 1개  | 1개  | 0개  |

(사회·문화)

사회탐구 영역

3

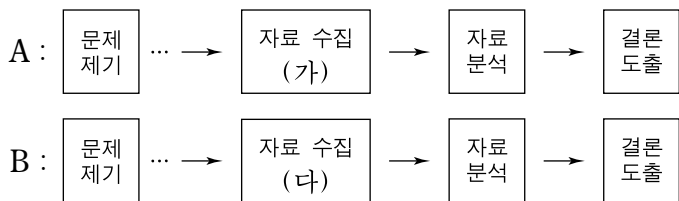
[10~11] 다음은 어느 대기업에서 직장 만족과 관련한 연구를 하는 데에 사용할 수 있는 자료 수집 방법이다.

(가) 직장에 대해 어떻게 생각하고 있는지를 팀장들과 면담하고 그 내용을 정리한다.	(나) 모든 사원에게 무기명으로 자유롭게 A4 용지 1장 분량을 진술하여 제출하도록 한다.
(다) 성별·연령별·직급별로 적절한 비율의 임직원을 뽑아 통계 처리가 가능한 질문지를 배포·수거한다.	(라) 문헌을 통해 다른 회사에서는 어떻게 사내 의견을 수렴했는지, 어떠한 의견이 나왔는지를 알아본다.

10. 위 (가)~(라)에 관한 설명으로 적절하지 않은 것은? [3점]

- ① 연구를 실제 수행할 때, (가)~(라)를 모두 함께 사용할 수 있다.
- ② (가)는 (다)보다 더 깊이 있는 정보의 수집에 적당하다.
- ③ (나)의 시간과 비용을 줄이기 위해 (다) 방식의 표집 방법을 활용할 수 있다.
- ④ (다)는 (나)와 달리 수치화된 자료를 수집하는 데에 더 유용하다.
- ⑤ (라)는 (가)보다 조사자의 주관이 개입될 가능성이 높다.

11. 위 (가), (다) 자료 수집 방법을 아래와 같이 적용한 서로 다른 A, B 연구 방법에 대한 설명으로 적절하지 않은 것은?



- ① A를 사용할 때, '직장 만족'을 연구 대상자가 어떻게 개념화하느냐에 유의해야 한다.
- ② B를 사용할 때, 자료 수집 단계 이전에 '직장 만족'을 측정하는 방식에 대해 숙고해야 한다.
- ③ B는 변수 간의 연관성을 파악하는 데에 유용하다.
- ④ 자료 수집 및 분석 단계에서 A는 B에 비해 연구자와 연구 대상자가 일정한 거리를 유지한다.
- ⑤ B는 A에 비해 결론 도출 단계에서 일반화하기가 더 용이하다.

12. 다음 글에 내재된 개념을 <보기>에서 고른 것은? [3점]

갑은 중국 □□ 지역에 살고 있는 조선족을 대상으로 '주류 문화인 중국 문화에 대한 수용과 한민족으로서의 민족 정체감의 유지'에 관해 연구하였다. 조사 결과에 따르면, 이들은 집 밖에서는 중국어를 구사하지만 가족끼리는 한국어를 사용하였다. 또한 평상시에는 한민족 음식뿐만 아니라 중국 음식도 즐긴다. 그리고 추석에는 송편 등의 한민족 전통 음식을 먹으며 명절을 기리는 것으로 나타났다.

— < 보 기 > —

- ㄱ. 문화 동화                      ㄴ. 문화 접변  
ㄷ. 자극 전파                      ㄹ. 하위 문화

- ① ㄱ, ㄴ    ② ㄱ, ㄷ    ③ ㄴ, ㄷ    ④ ㄴ, ㄹ    ⑤ ㄷ, ㄹ

13. 표에 대한 분석으로 옳은 것은? [3점]

<지역 및 혼인 상태별 여성 가구주 분포>

지역	연도	여성 가구주 혼인 상태(%)				여성 가구주 수(천 명)
		유배우	사별	이혼	미혼	
도시	1980	24.5	48.8	5.1	21.6	725
	1990	20.3	47.0	6.9	25.8	1,297
	2000	18.7	41.7	13.8	25.8	2,020
농촌	1980	18.6	73.4	2.0	6.0	444
	1990	10.8	80.7	2.2	6.3	490
	2000	9.8	78.3	4.6	7.3	633

\* 유배우 : 남성 배우자가 있는 가구

- ① 도시, 농촌 모두 이혼에 의한 여성 가구주의 비율이 가장 높다.
- ② 도시, 농촌 모두 사별로 인한 여성 가구주 비율이 지속적으로 감소하였다.
- ③ 1990년과 2000년의 도시 미혼 여성 가구주 수는 동일하다.
- ④ 1990년에 비해 2000년 농촌에서는 배우자가 있는 여성 가구주 수가 감소하였다.
- ⑤ 2000년 사별로 인한 여성 가구주 수는 도시가 농촌보다 더 많다.

14. 다음을 통해 공통적으로 알 수 있는 사회 문제의 성격으로 가장 적절한 것은?

- 인간은 누구든지 죽고 또 죽음에 대한 공포를 갖고 있다. 죽음은 분명 인간에게 바람직하지 않은 현상이다. 그러나 죽음은 사회 문제가 되지 않는다.
- 현재에는 사회 문제로 인식되는 기아, 빈곤 등도 과거 한 때에는 신의 뜻 또는 피할 수 없는 운명으로 간주되어 사회 문제로 취급되지 않았다.

- ① 상당 기간 동안 지속되어야 한다.
- ② 영향력 있는 집단이 규정해야 한다.
- ③ 사회적 노력으로 해결될 수 있어야 한다.
- ④ 사회 구성원 다수에게 영향을 주어야 한다.
- ⑤ 인간에게 피해를 주는 해로운 상황이어야 한다.

15. 표는 학생들의 인터넷 사용과 관련된 조사 결과이다. 이에 대한 추론으로 가장 적절한 것은? [3점]

항 목	갑	을	병
인터넷 때문에 학업을 소홀히 한 적이 있다.	5	2	1
댓글 등으로 다른 사람을 비방한 적이 있다.	1	5	1
정보 검색 방법을 몰라 어려움을 느낀 적이 있다.	3	1	5
인터넷을 하느라 밤늦게까지 잠을 못 잔 적이 있다.	5	1	1
동영상 등의 파일을 불법 다운로드한 적이 있다.	2	4	1
자신의 블로그나 미니홈피를 관리한다.	3	4	1

\* 1-매우 드물게, 2-드물게, 3-가끔, 4-자주, 5-매우 자주

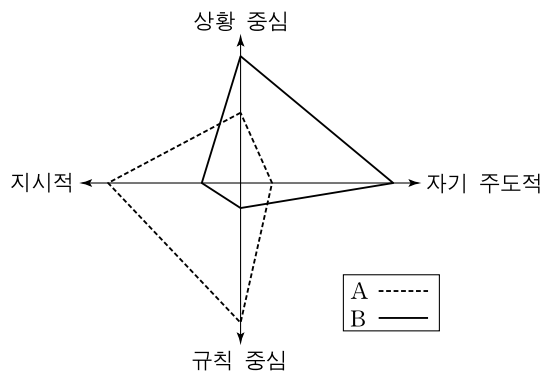
- ① 갑은 을에 비해 타인의 권리를 존중하는 자세가 더 요구된다.
- ② 갑은 을에 비해 과도한 인터넷 사용으로 인한 상담이 더 요구된다.
- ③ 을은 갑에 비해 정보 활용 능력을 높일 필요가 있다.
- ④ 을은 병에 비해 정보 격차로 인한 불편함을 더 많이 느낄 것이다.
- ⑤ 병은 갑, 을에 비해 인터넷 의존도를 줄일 필요가 있다.

16. 다음과 같이 사회 문제의 발생 요인을 바라보는 관점에 가장 부합하는 것은? [3점]

사회는 이익이 대립하는 관계에 있는 집단들로 구성된다. 사회의 각 집단이 추구하는 이익을 얻지 못하거나, 희소 자원의 배분에서 제외될 때 사회 문제가 발생한다.

- ① 청소년들의 특이한 복장이나 행동을 이해하지 못하여 일탈로 규정한다.
- ② 도시화에 따른 주거 조건의 황폐화로 사람들이 범죄에 휘말리게 된다.
- ③ 여성 빈곤 문제는 취업 기회의 제한과 열악한 고용 조건 등 차별적 요인에 기인한다.
- ④ 범죄 전과자들은 다른 범죄자로부터 범죄 기술을 배워서 범죄를 더 많이 저지르게 된다.
- ⑤ 학력 위조가 일부 집단에 만연한 것은 정직이라는 가치를 제대로 인정하지 않기 때문이다.

17. 그림은 업무 처리 방식을 기준으로 사회 조직을 유형화한 것이다. A, B에 대한 옳은 설명을 <보기>에서 고른 것은?



- < 보 기 > —
- ㄱ. A는 효율성 제고와 탈계층화를 중시한다.
  - ㄴ. B는 경쟁 원리와 조직의 유연성을 강조한다.
  - ㄷ. A는 B에 비해 업무의 세분화와 재량권을 중시한다.
  - ㄹ. B는 A에 비해 서열과 경력 대신 능력과 동기 부여를 중시한다.

- ① ㄱ, ㄴ    ② ㄱ, ㄷ    ③ ㄴ, ㄷ    ④ ㄴ, ㄹ    ⑤ ㄷ, ㄹ

18. 다음을 통해 파악할 수 있는 대중 매체의 역기능으로 가장 적절한 것은?

요즘 TV에 '맛집'을 소개하는 프로그램이 늘어나고 있다. 방송이 나간 당일 출연한 집에 가면 손님이 평상시의 2배 이상 물려 줄을 서야 하는 것은 물론이고, 같은 음식을 파는 다른 지역 음식점까지도 손님이 몰린다. 뿐만 아니라 TV 프로그램에 어떤 과일이 건강에 좋다고 소개되면, 다음 날 바로 대형 마트의 그 과일 코너에 사람이 몰려들어 품귀 현상을 빚는다.

- ① 대중을 물질 만능주의로 획일화시킨다.
- ② 다량의 정보를 유통시켜 삶의 질을 저하시킨다.
- ③ 사회 구성원들의 규격화된 행동 양식을 조장한다.
- ④ 다양한 정보를 제공하여 사회적 통합을 저해한다.
- ⑤ 대중의 이성적 판단을 마비시켜 사회적 무관심을 확산시킨다.

19. 다음은 갑국의 지역 개발 정책과 이에 대한 두 지역의 반응이다. 옳은 설명을 <보기>에서 모두 고른 것은?

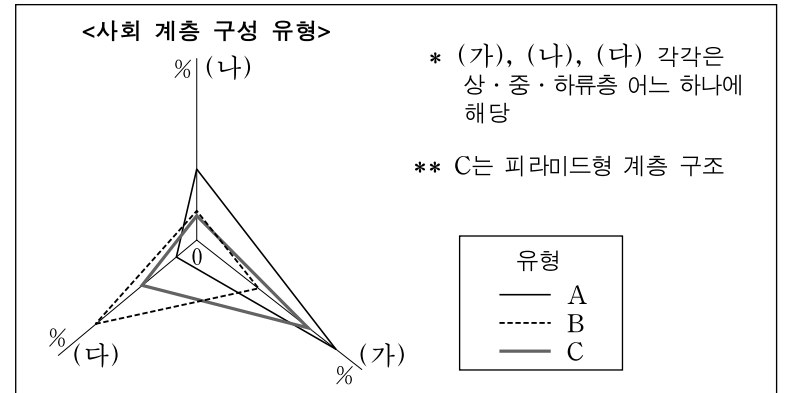
갑국 정부는 거점 개발에 따른 문제를 해결하기 위해 각 지역을 발전 정도에 따라 구분하고, 낙후 지역에 더 많은 지원과 혜택이 갈 수 있도록 차등을 둘 예정이다.



- < 보 기 > —
- ㄱ. 정부는 지역 간 격차 해소를 추구하고 있다.
  - ㄴ. A 지역은 정부의 정책을 역차별로 인식하고 있다.
  - ㄷ. A 지역과 달리, B 지역은 지역 이기주의를 극복하고 있다.
  - ㄹ. A, B 지역 모두 국가 공동체 의식을 중시하고 있다.

- ① ㄱ, ㄴ    ② ㄱ, ㄷ    ③ ㄴ, ㄷ  
④ ㄱ, ㄷ, ㄹ    ⑤ ㄴ, ㄷ, ㄹ

20. 다음 자료에서 추론할 수 있는 갑국의 세대 간 계층 구성에 대한 옳은 설명을 <보기>에서 고른 것은? [3점]



<갑국의 세대 간 계층 구성>

부모의 계층		(가)			(나)			(다)		
자녀	계층	(가)	(나)	(다)	(가)	(나)	(다)	(가)	(나)	(다)
	비율(%)	22	6	32	5	3	2	6	3	21
합계(%)		100								

- < 보 기 > —
- ㄱ. 세대 간 계층 구성 유형은 C에서 B로 변화한다.
  - ㄴ. 세대 간 하강 이동보다 상승 이동이 더 많이 나타난다.
  - ㄷ. 자녀 세대보다 부모 세대에서 사회의 안정도가 더 높다.
  - ㄹ. 부모가 하류층일 때 세대 간 계층 고착화가 가장 심하다.

- ① ㄱ, ㄴ    ② ㄱ, ㄷ    ③ ㄴ, ㄷ    ④ ㄴ, ㄹ    ⑤ ㄷ, ㄹ

\* 확인 사항

○ 답안지의 해당란에 필요한 내용을 정확히 기입(표기)했는지 확인 하시오.