

제 4 교시 사회탐구영역(사회·문화)

성명

수험번호

3

1

- 먼저 수험생이 선택한 과목의 문제지인지 확인하시오.
- 문제지에 성명과 수험 번호를 정확히 기입하시오.
- 답안지에 수험 번호, 선택 과목, 답을 표기할 때는 반드시 '수험생이 지켜야 할 일'에 따라 표기하시오.
- 문항에 따라 배점이 다르니, 각 물음의 끝에 표시된 배점을 참고하시오. 3점 문항에만 점수가 표시되어 있습니다. 점수 표시가 없는 문항은 모두 2점씩입니다.

1. 표는 (가), (나)의 조직 형태를 비교한 것이다. 이에 대한 옳은 설명을 <보기>에서 모두 고른 것은? [3점]

비교 항목 \ 조직 형태	(가)	(나)
조직의 운영 방식	중앙 집중적	분권적
구성원의 직무 범위	협소함	광범위함
직무 수행자의 자율성	낮음	높음
조직 단위 간의 역할 구분	명확함	불명확함

가. (가)에 비해 (나)가 급변하는 사회에 대한 적응력이 강하다.
나. (가)에 비해 (나)가 규약과 절차에 따른 업무 처리를 중시한다.
다. 조직 구성원 간의 위계 질서는 (나)에 비해 (가)에서 강조된다.
르. 일반적으로 (가)는 상향식, (나)는 하향식 의사 결정 구조를 갖는다.

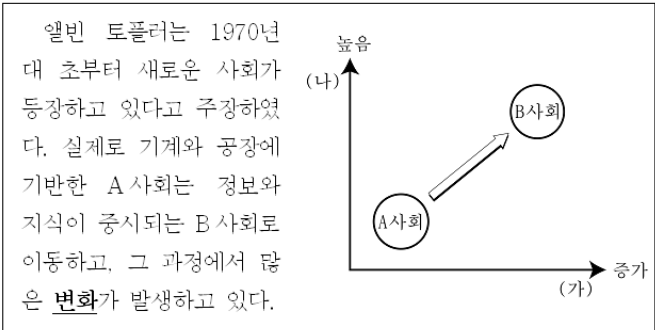
- ① 가, 나 ② 가, 다 ③ 나, 르
- ④ 가, 나, 다 ⑤ 가, 다, 르

2. 일탈 행위와 관련하여, 다음 글을 통해 내릴 수 있는 결론으로 가장 적절한 것은?

한 개인이 일탈 행위자가 되느냐의 여부는 일탈 행위를 인정해 주는 집단과 긴밀한 접촉을 하느냐에 달려 있다. 우범 지대로 이주해 온 사람들이 쉽게 일탈 행위를 저지르게 되는 것은, 그곳에서 불량한 친구들과 접촉하기 때문이다.

- ① 아노미 상태가 일탈 행위를 조장한다.
- ② 일탈 행위는 사회화 과정을 통해 학습된다.
- ③ 일탈 행위는 개인의 도덕적 결함으로 인해 나타난다.
- ④ 일탈 행위가 되느냐의 여부는 지배 집단에 의해 결정된다.
- ⑤ 일탈 행위는 목표 달성을 위한 수단이 제한되었을 때 발생한다.

3. 그림은 제시된 글의 밑줄 친 '변화'의 모습을 나타낸 것이다. (가), (나)에 들어갈 내용이 바르게 연결된 것은?



- (가) (나)
- ① 중간 유통 단계 서비스 산업의 비중
- ② 중간 유통 단계 가정과 직장의 통합 정도
- ③ 생산되는 상품의 종류 조직의 경직성
- ④ 생산되는 상품의 종류 확대 가족의 비중
- ⑤ 생산되는 상품의 종류 생산과 소비의 결합 정도

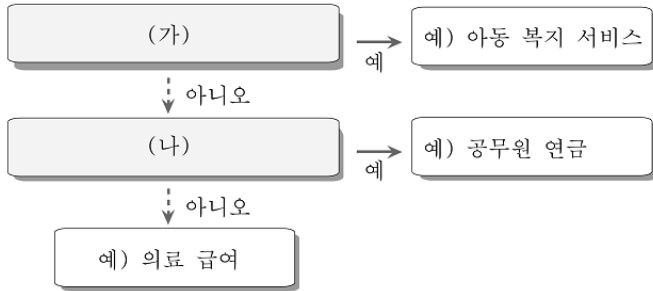
4. 사회 계층화 현상과 관련하여, 그림에 나타난 부부의 입장에 부합하는 진술을 <보기>에서 모두 고른 것은? [3점]



가. 사회 계층화는 특정 집단의 가치가 반영된 것이다.
나. 사회적 희소 가치를 차등 분배하는 것은 불가피하다.
다. 사회 계층화는 사회가 최선의 기능을 하는 데에 기여한다.
르. 직업에는 귀천이 없고, 모든 일이 사회에 필요하고 중요하다.

- ① 가, 나 ② 가, 르 ③ 나, 다
- ④ 가, 나, 다 ⑤ 나, 다, 르

5. 그림은 사회 보장 제도의 유형을 분류한 것이다. (가), (나)에 들어갈 질문 내용을 <보기>에서 골라 바르게 연결한 것은? [3점]



< 보 기 >

- ㄱ. 수혜자가 비용의 일정 부분을 부담합니까?
 ㄴ. 경제적 능력이 없는 국민을 대상으로 합니까?
 ㄷ. 대상자에 대해 비금전적 지원을 원칙으로 합니까?

- | | | | |
|-----|-----|-----|-----|
| (가) | (나) | (가) | (나) |
| ① ㄱ | ㄴ | ② ㄱ | ㄷ |
| ③ ㄴ | ㄱ | ④ ㄷ | ㄱ |
| ⑤ ㄷ | ㄴ | | |

6. 다음 사회 현상을 설명하는 데 필요한 개념으로 가장 적절한 것은?

능력과는 관계없이 특정 지역 또는 특정 학교 출신이라는 이유로 고위직을 독차지하거나 경제적 이익을 취하려고 하는 사람들이 있다. 그들은 자신과 같은 출신인 사람에게는 유대감을 가지고 서로 감싸 주고 지원해 주지만, 그렇지 않은 경우에는 배타적으로 대한다. 이러한 행태는 그들이 속한 공동체를 하나로 결속시키기는 하지만, 부패나 정보 독점 등을 초래하여 사회에 해악을 끼치기도 한다.

- ① 내집단과 외집단 ② 관료제와 탈관료제
 ③ 1차 집단과 2차 집단 ④ 소속 집단과 준거 집단
 ⑤ 공동 사회와 이익 사회

7. 사회 현상을 탐구하는 태도와 관련하여, 다음 글이 시사하는 바로 가장 적절한 것은?

‘까마귀는 검다.’라는 명제는 검지 않은 까마귀가 나타날 때까지 참일 수 있다. 이렇듯 모든 과학적 진술은 늘 잠정적일 수밖에 없다. 언제라도 새로운 사실이 나타나 그 진술을 완전히 뒤엎어 버릴 수 있기 때문이다. 이와 같이 과학적 지식은 언제든지 새로운 경험적 증거에 의해 부정될 수 있는 것이다.

- ① 사실과 가치를 엄격히 구별하여야 한다.
 ② 사회적 맥락에서 현상을 이해하여야 한다.
 ③ 연구 결과가 사회에 미칠 영향을 고려하여야 한다.
 ④ 현상의 내면에 담긴 인과 관계를 파악하여야 한다.
 ⑤ 여러 가지 가능성이 공존할 수 있음을 인정하여야 한다.

8. 다음은 형성 평가 문항에 대해 갑돌이가 답하여 제출한 것이다. 갑돌이가 받을 점수로 옳은 것은? [3점]

<형성평가>
 3학년 1반 /반 이름: 갑돌이

1. 다음은 문화의 속성을 정리한 것이다. 괄호 안에 들어갈 문화의 속성과 핵심 내용을 적어 넣으시오. (각 1점, 총 5점)

속 성	핵 심 내 용
(변동성)	사회의 가치와 규범의 습득
(전체성)	한 부분의 변화로 연쇄적 변화 초래
(학습성)	기존 문화의 소멸 및 새로운 문화의 등장
축적성	(타인의 행동과 사고의 예측 가능)
공유성	(세대 간 전승을 통한 문화의 발전)

- ① 1점 ② 2점 ③ 3점 ④ 4점 ⑤ 5점

- 【9-10】 다음은 S씨가 작성한 어느 연구 계획서의 일부 내용이다. 물음에 답하시오.

<연구 주제>

현대 사회에서 가족은 상속과 관련하여 어떠한 사고, 규범, 신념을 지니고 있는가?

<조사 대상 및 선정 이유>

- 가족 구성원: 가족 구성원으로부터 상속과 관련된 경험과 판단, 설명을 들음으로써 재산의 분배와 관련된 그들의 사고, 규범, 신념의 일단을 밝혀낼 수 있을 것이다.
- 변호사: 변호사는 법률적인 조언을 하는 과정에서 상속과 관련된 가족 구성원들의 의식과 태도에 대해 실제적인 정보를 습득하게 된다. 이들과의 면담을 통해 이 주제에 관한 자료를 수집할 수 있을 것이다.

9. 위 연구자가 사용하고자 하는 탐구 방법에 대한 설명으로 옳은 것은? [3점]

- ① 질적 자료보다 양적 자료에 의존한다.
 ② 연구 대상의 입장이 되어 자료를 해석한다.
 ③ 일반적으로 연구 과정에서 가설이 설정된다.
 ④ 자연 과학적 방법으로 사회 현상을 이해한다.
 ⑤ 사회 현상에 대한 이해보다 예측을 목적으로 한다.

10. 위 연구자가 사용하고자 하는 탐구 방법을 활용하기에 적절한 연구 제목을 <보기>에서 모두 고른 것은?

< 보 기 >

- ㄱ. 비탄 청소년의 일상 생활 관찰 연구
 ㄴ. 최종 학력과 정보 소유 정도의 상관 관계 연구
 ㄷ. 노인 돌봄 문화의 전승에 관한 문화 기술적 연구
 ㄹ. 부모의 소득 수준이 자녀의 학업 성적에 미치는 영향 연구

- ① ㄱ, ㄴ ② ㄱ, ㄷ ③ ㄴ, ㄷ ④ ㄴ, ㄹ ⑤ ㄷ, ㄹ

11. (가), (나)는 개인과 사회의 관계를 서로 다르게 보고 있다.
(나)의 관점에 부합하는 진술을 <보기>에서 모두 고른 것은? [3점]

- (가) 오늘날에는 삶의 모든 영역에서 개인의 선택권이 폭발적으로 증가하면서 사회가 다원화되고 있다. 따라서 사회를 제대로 이해하기 위해서는 각 개인의 성향이나 추구하는 가치를 파악하는 것이 중요하다.
- (나) 개개인의 행동 양식에 영향을 미치는 거대한 사회 조류가 있다. 따라서 사회의 변화를 정확히 파악하기 위해서는 방대한 데이터를 분석해서 메가트렌드를 포착하는 것이 중요하다.

- < 보 기 > —
- ㄱ. 개인은 사회의 그림자다.
ㄴ. 사회는 개인의 암묵적 합의에 의해 움직인다.
ㄷ. 사회 문제의 원인은 불합리한 사회 구조에 있다.
ㄹ. 사회는 개인의 이익을 실현하기 위한 수단일 뿐이다.

- ① ㄱ, ㄷ ② ㄱ, ㄹ ③ ㄴ, ㄹ
④ ㄱ, ㄴ, ㄷ ⑤ ㄱ, ㄷ, ㄹ

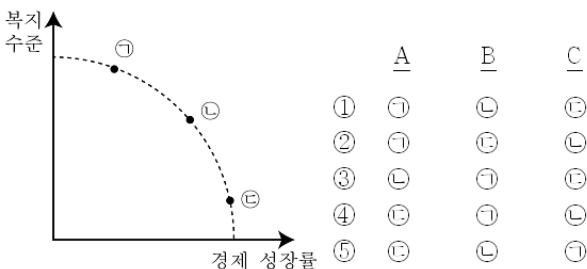
12. 다음 현상을 설명할 수 있는 개념으로 적절한 것은?

조선 시대에 청빈한 생활을 한 양반 관료들은 비록 가난했지만, 사회적으로 상당한 존경을 받았다. 이와 반대로 일부 상인들의 경우 장사로 많은 돈을 벌기도 하였지만, 그들에게 사회적 존경이 늘 뒤따르지는 않았다. 이와 같이 경제적 부와 사회적 위신이 상응하지 않는 경우도 있다.


- ① 재사회화 ② 목적 전치 ③ 역할 갈등
④ 사회 해체 ⑤ 지위 불일치

13. 다음 글을 쓴 필자의 견해를 토대로, A - C의 주장을 그래프에 표시할 때, 그 위치를 바르게 연결한 것은?

A나 B의 주장으로는 복지와 성장이라는 두 마리 토끼를 모두 잡는 것이 어려웠다. A는 효율성을 강조한 나머지 사회적 연대의 유지에는 실패했고, B는 사회적 보호에 치중한 나머지 자원을 효율적으로 배분하지는 못하였다. 이러한 문제를 해결하기 위해, 기존 복지 제도의 개혁을 요구하며 그 대안으로 생산적 복지를 강조한 C가 등장하였다.




14. 그림은 교사가 수업 시간에 제시한 계층 구조의 변화 추이이다.
이 자료를 보고 바르게 진술한 학생은 몇 명인가? [3점]



- 갑: 수직 이동이 이루어지고 있군요.
을: 중층의 소득 수준이 저하되고 있어요.
병: 다이아몬드형 계층 구조가 강화되고 있어요.
정: 양극화 현상을 우려하는 목소리가 커지겠군요.

- ① 0명 ② 1명 ③ 2명 ④ 3명 ⑤ 4명

15. 신문의 밑줄 친 ㉠, ㉡과 같은 현상에 대한 옳은 설명을 <보기>에서 모두 고른 것은?



- < 보 기 > —
- ㄱ. ㉠은 당위 법칙이 적용된다.
ㄴ. ㉠에 비해 ㉡의 인과 관계는 분명하지 않다.
ㄷ. ㉠은 몰(沒)가치적이고, ㉡은 가치 함축적이다.
ㄹ. ㉠과 달리 ㉡은 과학적 탐구 대상이 될 수 없다.

- ① ㄱ, ㄴ ② ㄱ, ㄷ ③ ㄴ, ㄷ ④ ㄴ, ㄹ ⑤ ㄷ, ㄹ

16. 밑줄 친 ㉠, ㉡의 공통점으로 옳지 않은 것은? [3점]

계시판

회원 모집 공고

㉠△△구 조기 축구회에서 2008년 신입 회원을 아래와 같이 모집합니다.

☞ 요건 : △△구에 주소지가 있는 주민

☞ 문의 : 01X-XXX-XXXX

계시판

회원 모집 공고

㉡□□당 축구 동호회에서 2008년 신입 회원을 아래와 같이 모집합니다.

☞ 요건 : 정당 명부에 등록된 당원

☞ 문의 : 01X-XXX-XXXX

- ① 선택 의지에 따라 결함된다.
② 회원 간에 정서적 교류가 이루어진다.
③ 공통의 목표와 관심을 기반으로 결성된다.
④ 공식 조직 내에서 형성된 비공식 조직이다.
⑤ 가입과 탈퇴가 자유로운 자발적 결사체이다.

사회탐구영역(사회·문화)

17. 다음 조사 결과를 바르게 분석한 것은? [3점]

<질 문> 부모의 노후 생계를 누가 책임져야 한다고 생각하십니까?

<조사 대상> 15세 이상 인구 중 남녀 각각 3만 5천 명

<조사 결과> (단위 : %)

연도 응답 내용 조사 대상		2002년				2006년			
		가족	부모 스스로	가족과 정부 공동	기타	가족	부모 스스로	가족과 정부 공동	기타
성별	남자	72.6	9.2	16.8	1.4	65.6	7.1	25.2	2.1
	여자	68.9	10.0	19.5	1.6	61.3	8.4	27.6	2.7
소속 가구 별	1세대 가구	70.0	13.7	14.9	1.4	65.3	11.4	20.7	2.6
	2세대 가구	70.1	8.8	19.6	1.5	62.6	6.7	28.5	2.2
	3세대 이상 가구	75.0	7.5	15.9	1.6	64.4	6.4	26.5	2.7

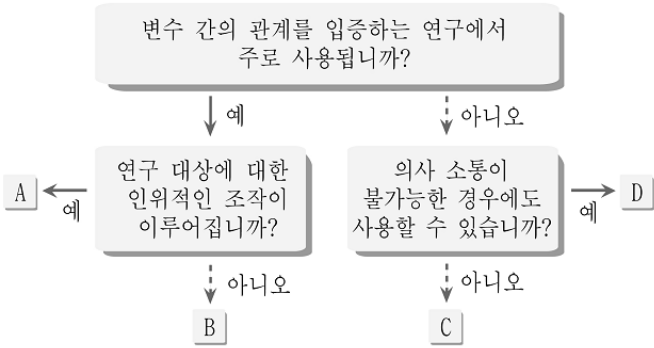
- ① 남자보다 여자가 부모의 노후를 책임지려는 의식이 강하다.
- ② 노후를 가족이 책임져야 한다고 보는 경향이 확산되고 있다.
- ③ 노후를 부모 스스로 해결해야 한다는 응답들의 감소폭은 남자가 여자보다 크다.
- ④ 노후를 부모 스스로 해결해야 한다고 보는 응답자의 비율은 핵가족일수록 낮다.
- ⑤ 노후를 가족과 정부가 공동으로 책임져야 한다고 보는 응답자의 비율은 1세대 가구보다 2세대 가구에서 낮다.

18. 다음은 어느 신문의 '여론 광장'에 실린 글이다. 필자가 비판하고 있는 현상을 지칭하는 개념으로 적절한 것은?

나는 3년에 걸쳐 나뭇가지를 바로 톱밥으로 만들 수 있는 기계를 개발하여 특허까지 받았다. 그래서 이 기계로 작업을 하기 위해 구청에 재활용 업체로 허가를 받으러 갔는데, 담당 공무원은 관련 규정이 없기 때문에 허가를 내줄 수 없다고 했다. 이런 이야기를 TV나 주위에서 자주 듣긴 했지만 나한테 이런 일이 생기니 참 당황스러웠다. 이 기계를 이용해 일을 하면 인건비를 15~20% 가량 줄일 수 있을 텐데, (중략) 이처럼 기계의 발전 속도를 법률이나 사회 제도가 뒷받침하지 못하는 현실이 답답하기만 하다.

- ① 아노미 ② 문화 지체 ③ 문화 접변
- ④ 자국 전파 ⑤ 하위 문화

19. 그림은 자료 수집 방법을 분류한 것이다. A - D에 대한 설명으로 옳지 않은 것은? (단, A - D는 면접법, 실험법, 질문지법, 참여 관찰법 중 하나이다.) [3점]



- ① A는 법적·윤리적 문제를 초래할 수 있어 제한적으로 사용된다.
- ② B는 역동적인 정보를 파악하는 데에는 적합하지 않다.
- ③ D는 자료의 실제성을 확보하는 데에 유리하다.
- ④ A에 비해 D는 연구자의 편견이 개입될 가능성이 크다.
- ⑤ B와 C를 동일 연구에서 같이 사용할 수 없다.

20. 사회 현상을 보는 다음 관점에 대한 옳은 설명을 <보기>에서 모두 고른 것은?

우리는 “커피 한 잔 하자.”라고 카페에 들어가서는 엉뚱하게 골라나 유자차와 같은 다른 음료를 주문하기도 한다. 그렇다고 해서 상대방이 이의를 제기하는 경우는 없다. “커피 한 잔 하자.”라며 단란 두 사람은 사실 무엇을 마시느냐에 관심이 있는 것이 아니라, 커피를 핑계로 대화에 더 관심을 두고 있기 때문이다. 즉, “커피 한 잔 하자.”라는 말 속에는 ‘대화를 나누자.’라는 의미가 담겨 있는 것이다. 이렇듯 사람들은 현상에 대해 나름대로 의미를 부여하고 그에 따라 행동한다.

- < 보 기 >
- ㄱ. 사회 전체와의 관련 속에서 현상을 파악한다.
 - ㄴ. 인간의 자율적 사고와 행위에 초점을 맞춘다.
 - ㄷ. 사회 구조가 개인에게 미치는 영향을 강조한다.
 - ㄹ. 객관적 사회 조건보다 주관적 상황 정의를 중시한다.

- ① ㄱ, ㄴ ② ㄱ, ㄹ ③ ㄴ, ㄷ ④ ㄴ, ㄹ ⑤ ㄷ, ㄹ

※ 확인 사항
문제지와 답안지의 해당란을 정확히 기입(표기)했는지 확인하십시오.