

사회탐구 영역(사회·문화)

제 4 교시

성명

수험번호

3

1

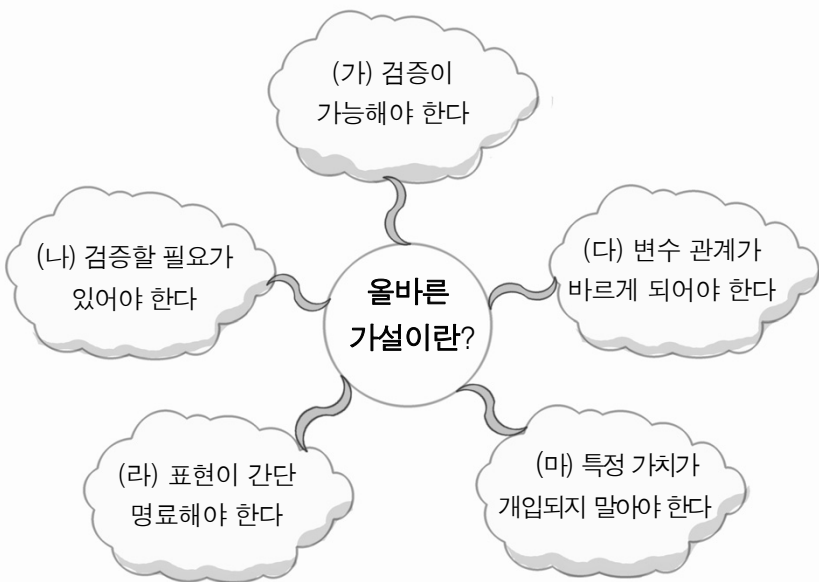
- 먼저 수험생이 선택한 과목의 문제지인지 확인하시오.
- 반드시 자신이 선택한 과목의 문제지를 풀어야 합니다.
- 문제지에 성명과 수험 번호를 정확히 기입하시오.
- 답안지에 수험 번호, 선택 과목, 답을 표기할 때에는 반드시 ‘수험생이 지켜야 할 일’에 따라 표기하시오.
- 문항에 따라 배점이 다르니, 각 물음의 끝에 표시된 배점을 참고하시오. 3점 문항에만 점수가 표시되어 있습니다. 점수 표시가 없는 문항은 모두 2점씩입니다.

1. 다음은 ‘사회·문화 현상의 탐구’ 단원의 수업 시간에 교사가 제시한 자료이다. 이 수업의 주제로 가장 적절한 것은?

가옥 형태	알래스카 - 이글루
	말레이시아 - 수상 가옥
	한국 - 기와집과 초가집
인사 방법	미국 - 악수를 한다.
	한국 - 큰 절이나 고개를 숙인다.
	인도네시아 - 서로 악수를 한 후 가슴에 손을 얹는다.

- ① 사회·문화 현상의 보편성과 다양성
- ② 사회·문화 현상의 가변성과 유동성
- ③ 자연 환경과 사회·문화 현상의 비교
- ④ 사회·문화 현상의 가치중립의 중요성
- ⑤ 자연 현상이 사회·문화 현상에 미치는 영향

2. 그림은 올바른 가설을 설정하기 위한 요건을 나타낸 마인드 맵이다. (가)~(마)에 해당되는 예(例)로 옳은 것은? [3점]



- ① (가) : 착하게 살면 천국에 갈 것이다.
- ② (나) : 경제성장률이 높아지면 GDP도 증가할 것이다.
- ③ (다) : 문화비 지출이 많으면 소득이 높아질 것이다.
- ④ (라) : 인구 밀도가 높아지면 범죄율이 증가할 것이다.
- ⑤ (마) : 정치가 발전하려면 의원내각제를 실시해야 할 것이다.

3. 밑줄 친 (가)에 들어갈 학자로 가장 거리가 먼 것은?

교사 : 다음 발표 주제를 볼 때 각 분야별로 어떤 전공의 학자가 발표하는 것이 적절할까요?

- 발표 주제
 - 외국인 노동자 집단의 공간적 분포와 특성
 - 외국 인력 유입이 국내 노동 시장에 끼친 경제적 영향
 - 우리나라 사람들과 외국인 노동자 간의 문화 접촉 양상
 - 외국인 불법 체류자 규제 정책과 외국인 근로자의 고용 허가제도
- 일시 및 장소 : 4월 15일 15:00, ○○시 시민 회관 중강당
- 주 최 : 외국인 노동자들의 권익을 위한 시민 연대

학생 : _____ (가) _____ 입니다.

- ① 법학자 ② 철학자 ③ 경제학자
- ④ 지리학자 ⑤ 문화 인류학자

4. 다음 관점으로 연구할 수 있는 적절한 주제를 <보기>에서 고른 것은? [3점]

개인은 사회가 요구하거나 문화적으로 규정된 규범에 따라 행동하는 사회의 산물이 아니라 자기의 주관에 따라 대상과 상황을 규정하고 거기에 의미를 부여함으로써 자기의 세계를 능동적으로 이끌어가는 주체이다.

< 보 기 >

- ㄱ. 또래 집단의 비언어적 의사소통의 행태
- ㄴ. 우리나라 국민들의 소득 수준에 따른 정당 선호도 관계
- ㄷ. 회사 내 비공식적 인간관계가 생산성 향상에 미치는 영향
- ㄹ. 아랍 국가에서 일부다처제를 시행하는 의미와 역사적 배경

- ① ㄱ, ㄴ ② ㄱ, ㄷ ③ ㄴ, ㄷ
- ④ ㄴ, ㄹ ⑤ ㄷ, ㄹ

5. 다음을 고려하여 사회 과학자가 가져야 할 연구 태도로 가장 적절한 것은?

만일 당신이 시인이자라면 종이 안에 구름이 떠 있는 것을 볼 것이다. 구름 없이는 물이 없고, 물 없이는 나무가 자랄 수 없고, 나무 없이는 종이를 만들 수 없기 때문에 종이 안에 구름이 있다고 할 수 있다. 이처럼 하나의 사회 현상도 여러 요소들이 관련되어 있음을 인식해야 한다.

- ① 자신의 주장에 대한 비판을 허용해야 한다.
- ② 확고한 가치를 가지고 자신의 의견을 제시해야 한다.
- ③ 선입견과 편견을 배제하고 객관적인 태도를 가져야 한다.
- ④ 문화적 배경과 현실적인 여건을 고려하여 파악해야 한다.
- ⑤ 사회 현상을 전체적인 관점에서 체계적으로 이해해야 한다.

2

사회탐구 영역(사회·문화)

사회·문화

6. 다음은 어느 기업에서 실시한 연구 결과이다. 이 연구 과정에 나타난 문제점을 <보기>에서 고른 것은? [3점]

어느 기업에서는 운동이 스트레스 수준을 감소시킨다고 생각하고 다음과 같은 실험을 실시하였다. 먼저 스트레스 수준을 수치화하여 측정하였다. 그리고 작업장에서 가장 스트레스 수준이 높은 20명을 실험집단으로 삼아 점심시간에 주5회 1시간씩 각자 좋아하는 운동을 하게하고 30분간 휴식을 취하게 하였다. 그리고 스트레스 수준이 낮은 20명을 성별, 연령 등 실험집단과 동일한 조건으로 선발하여 통제집단으로 삼았다. 3개월 후 실험 집단은 스트레스 수준이 낮아졌고, 통제집단은 변함이 없다는 결론을 얻었다. 그래서 이 기업은 모든 사원을 대상으로 하는 스포츠 프로그램을 실시하기로 결정하였다.

- < 보 기 >
- ㄱ. 통제 집단을 잘못 선정하였다.
ㄴ. 비윤리적인 방법으로 연구를 수행하였다.
ㄷ. 다른 변수가 연구 결과에 미치는 영향을 간과하였다.
ㄹ. 추상적 개념을 구체화하는 조작적 정의를 하지 않았다.

① ㄱ, ㄴ ② ㄱ, ㄷ ③ ㄴ, ㄷ ④ ㄴ, ㄹ ⑤ ㄷ, ㄹ

7. 다음은 수행평가 과제물을 교사가 채점한 것이다. ㉠~㉣을 고려하여 바르게 채점한 점수는? [3점]

인적 사항	3학년 ○반 ○번 ○○○	만 점	점 수	5점
-------	---------------	-----	-----	----

문제) ‘지각을 하는 학생들의 심리적 특성’이란 주제를 연구하기 위한 적절한 연구 방법을 선택하여 자신의 의견을 제시하시오. (단, 잘못된 부분이 있을 시 1점씩 감점함.)

위 주제를 연구하기 위해서 저는 ㉠방법론적 이원론을 통해 지각하는 학생들의 ㉡동기나 의도 등을 파악하려고 합니다. 물론 다른 방법에 비해 ㉢주관이 개입되는 한계점을 가지고 있지만 ㉣법칙 발견이 용이한 장점을 가지고 있기 때문에 ㉤대화나 관찰을 통해 자료를 수집하면 지각하는 학생들의 심리적 특성을 파악할 수 있다고 생각합니다.

① 1점 ② 2점 ③ 3점 ④ 4점 ⑤ 5점

8. ㉠~㉣에 대한 설명으로 적절하지 않은 것은?

학생 : 선생님! 자발적 결사체의 종류로는 어떤 것이 있나요?
교사 : 크게 세 가지로 나눌 수 있어요. 친교와 취미에 목적을 두고 조직된 ㉠친목회나 동호회, 집단 공통의 이익을 추구하기 위해 결성된 ㉡이익단체, 그리고 시민 단체가 있어요.

학생 : 그럼, 시민 단체는 어떤 분야에서 활동을 하나요?
교사 : 최근 환경, 봉사, 인권, 나눔 등의 분야에서 활발한 활동을 하고 있는데 이들을 ㉢NGO나 NPO*로 부르기도 해요.

* NPO(비영리기구, Non Profit Organization)

- ① ㉠은 구성원들에게 심리적 만족감을 제공한다.
② ㉡의 사례로 직능(職能)단체, 노동조합 등이 있다.
③ ㉢은 경제적, 물질적 보상에 의해서 조직이 운영된다.
④ ㉠과 ㉡은 퇴니스의 분류에 의하면 이익 사회에 해당한다.
⑤ ㉡과 ㉢은 합리적인 기준에 의해 만들어진 공식적 조직이다.

9. 수업 시간에 교사가 제시한 과제에 대해 옳게 표시한 학생은? [3점]

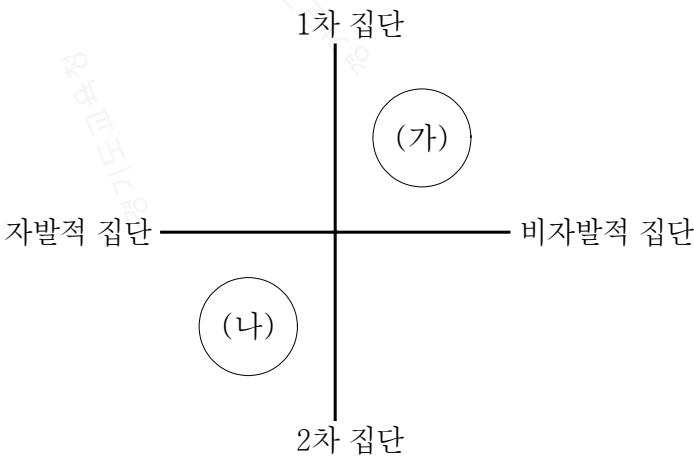
교사 : 다음 결과를 얻기 위해 사용된 자료 수집 방법의 특징을 아래 표에서 모두 ‘○’로 표시해 보세요.

내가 본 마사이족 사람들은 반가운 사람을 만나면 상대방 얼굴에 침을 뱉어 반가움을 표현한다. 물이 귀한 아프리카에서 수분(水分)을 함께 나눈다는 뜻으로 행운을 기원하는 의미가 담겨 있다. 그리고 마사이족 남성들은 막대기를 들고 차례로 돌아가며 하늘 높이 뛰면서 춤을 추고, 여자들은 무릎만 살짝 구부린 채 춤추고 노래를 부른다. 남자들이 경충경충 하늘로 뛰는 춤을 추는 데에는 용맹을 과시하면서 하늘과 가까워지려는 염원이 깃들어 있는 것 같다.

자료 수집 방법의 특징	학생				
	갑	을	병	정	무
문맹자에게 실시하기 곤란하다.	○		○		
자료의 실제성을 확보하기 용이하다.	○		○	○	○
정보 수집과 분석이 용이하다.		○			
연구자의 주관이 개입될 가능성이 높다.	○	○	○		○
예상치 못한 변수를 통제하기 곤란하다.		○		○	○

① 갑 ② 을 ③ 병 ④ 정 ⑤ 무

10. 그림은 집단의 분류를 나타낸 것이다. (가), (나)에 대한 옳은 설명을 <보기>에서 모두 고른 것은? [3점]



- < 보 기 >
- ㄱ. (가)는 공식적이고 합리적인 인간관계가 유지된다.
ㄴ. 현대 사회에서 (가)의 기능은 농경사회 보다 약화되고 있다.
ㄷ. (나)의 예로는 회사, 정당 등이 있다.
ㄹ. (가)는 (나)보다 전면적인 대면 접촉의 특성을 지닌다.

① ㄱ, ㄴ ② ㄱ, ㄹ ③ ㄴ, ㄷ
④ ㄱ, ㄷ, ㄹ ⑤ ㄴ, ㄷ, ㄹ

11. 다음을 바탕으로 추론할 수 있는 사회관에 부합하는 진술을 <보기>에서 고른 것은?

서양에서는 수술이 보편적으로 시행되어 왔으나 고대 중국에서는 그렇지 않았다. 그들은 사람의 몸을 단순히 장기들의 합으로 구성된 것이 아니라 여러 장기들이 조화를 이루면서 새로운 생명체가 된다고 믿었기 때문이다. 그래서 특정 부위나 장기에 심각한 문제가 생겼다고 해서 그 부분만을 따로 떼어내어 수술하기보다는 여러 장기들의 균형을 추구하는 치료법을 시행해 온 것이다.

< 보 기 >

- ㄱ. 사회는 고유한 특성을 지닌 독립적인 존재이다.
 ㄴ. 개인은 사회를 구성하는 하나의 단위에 불과하다.
 ㄷ. 사회를 변화시키는 원동력은 개인의 특성과 힘이다.
 ㄹ. 개인이 있어야 가족이 있고, 가족이 있어야 국가가 있다.

- ① ㄱ, ㄴ ② ㄱ, ㄷ ③ ㄴ, ㄷ ④ ㄴ, ㄹ ⑤ ㄷ, ㄹ

12. 다음을 공통적으로 설명할 수 있는 사회학적 개념에 대한 진술로 옳지 않은 것은?

- 소비자들은 우수 집단이 구매하는 제품이나 소비패턴을 모방하여 동일시하고 열등 집단이 구매하는 제품이나 행동특성을 기피하는데 이처럼 우수 집단이 개별 소비자에게 미치는 영향을 동일시 영향이라고 한다.
- TV광고는 시청자들에게 관심 없는 연예인들보다는 인기 있는 연예인들이 등장하여 제품을 선전하는 경우가 대부분이다. 왜냐하면 어떤 사람들이 광고에 출연하느냐에 따라서 기업의 매출이 달라지기 때문이다.

- ① 시간이 경과하면 변하는 경향이 있다.
 ② 긍정적인 집단도 있고 부정적인 집단도 있다.
 ③ 하나의 집단에 국한되는 것이 일반적이다.
 ④ 현재 자신이 소속된 집단일 수도 있고 아닐 수도 있다.
 ⑤ 개인이 살아가는 데 신념과 가치관의 방향을 제시해 준다.

13. 다음이 시사하는 바람직한 조직 운영 방식을 <보기>에서 고른 것은?

링겔만은 직장 내에서 노동자를 대상으로 줄다리기 실험을 통해 힘의 크기를 측정하였다. 처음에는 개개인의 힘의 크기를 측정 후 집단의 규모를 다르게 하면서 실험을 진행하였다. 그 결과 실험 집단의 규모가 커질수록 힘의 총합은 증가하였지만 개인이 최대로 발휘하는 힘의 크기는 감소하였다. 이렇게 대규모 조직 안에서 개인의 평균 생산성이 감소하는 현상을 ‘링겔만 효과’라고 한다.

< 보 기 >

- ㄱ. 집단 내 공식적 관계를 강화한다.
 ㄴ. 권한의 집중화로 업무의 통일성을 강조한다.
 ㄷ. 조직을 소규모 팀 단위로 구성하여 운영을 한다.
 ㄹ. 팀 성과 뿐 아니라 개인의 성과에도 적절한 보상을 한다.

- ① ㄱ, ㄴ ② ㄱ, ㄷ ③ ㄴ, ㄷ ④ ㄴ, ㄹ ⑤ ㄷ, ㄹ

14. 표를 통해 알 수 있는 갑, 을의 관점에 대한 옳은 설명을 <보기>에서 모두 고른 것은? [3점]

질 문	응 답		갑		을	
	예	아니오	예	아니오	예	아니오
성(性) 정체성은 주로 부모와 자식의 상호 작용 과정을 통해 형성되니까?		○				○
사회 구조가 개인에게 미치는 영향이 매우 크다고 생각합니까?	○			○		
성과급 제도는 근로자의 근로의욕을 향상시킨다고 봅니까?		○		○		
범은 약자(弱者)보다 강자(强者)에게 유리한 편입니까?	○					○
사회적 희소 자원은 사회 구성원의 합의에 의해 분배되고 있습니까?		○		○		

< 보 기 >

- ㄱ. 갑은 갈등이 사회 변동에 기여한다고 본다.
 ㄴ. 을은 사회를 살아있는 유기체에 비유한다.
 ㄷ. 갑은 을보다 개인 행위를 중심으로 사회 구조를 분석한다.
 ㄹ. 급격한 사회 변동을 설명하는 데에는 갑보다 을이 유리하다.

- ① ㄱ, ㄴ ② ㄱ, ㄷ ③ ㄴ, ㄹ
 ④ ㄱ, ㄷ, ㄹ ⑤ ㄴ, ㄷ, ㄹ

15. ㉠~㉣에 대한 설명으로 옳지 않은 것은?

사랑하는 반 아이들아

내가 너희들을 처음 만났을 때에는 우리 반을 ㉠동아리 모임처럼 편안하게 만들어 너희들의 마음을 조금이라도 달래 주고 싶었는데, 이제는 ㉡원하는 대학에 진학시키기 위해 재미없는 ㉢시험문제만 풀어주는 담임이 되었구나. 고3 수험 생활이 생각보다 힘들지? 나 또한 ㉣학교에서는 좋은 담임으로, 집에서는 좋은 아빠로 지내야 하는데 쉽지 않아 고민이다. 하지만 늘 웃으면서 묵묵하게 자리를 지키며 공부하는 너희들을 보면 다시금 힘이 난단다. 오늘도 지친 몸을 이끌고 퇴근을 하였지만 내일을 꿈꾸는 너희들을 위해 최선을 다하는 ㉤교사가 되어야겠다고 다짐해 본다. 우리 반 파이팅!

2008. 4. 15. 너희를 사랑하는 담임이

- ① ㉠은 공식적 조직의 효율성을 제고하는 역할을 하기도 한다.
 ② ㉡은 역할 기대에 대한 역할 수행이 잘 이루어진 경우 나타난다.
 ③ ㉢은 목표와 이해관계가 대립되어 나타나는 사회적 상호작용이다.
 ④ ㉣은 전문화되고 복잡한 사회일수록 발생 빈도가 높다.
 ⑤ ㉤과 같은 성격의 지위는 현대 사회에서 그 중요성이 커지고 있다.

4

사회탐구 영역(사회·문화)

사회·문화

16. 다음 자료가 시사하는 바를 토대로 설문지를 작성할 때 유의할 점으로 가장 적절한 것은? [3점]

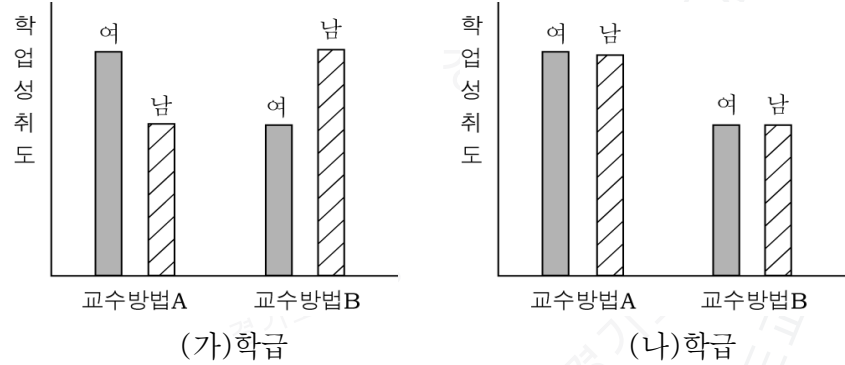
○○대학교 총학생회장 선거에 출마하려고 하는 갑, 을은 여론 조사를 통해 단일 후보를 정하기로 하였다. 그러나 후보 선정을 위한 설문 문항을 두고 소극적 지지층이 많은 갑은 선호도 문항을, 적극적 지지층이 많은 을은 지지도 문항을 강력히 주장하며 대립하고 있다.

<각 후보가 주장하는 설문 문항과 예상 결과>

후보	문항종류	문항 내용	예상 결과
갑	선호도 문항	총학생회장 후보로 누구를 더 좋아하십니까?	갑의 승리
을	지지도 문항	총학생회장 선거에서 누구에게 투표할 것입니까?	을의 승리

- ① 두 가지의 질문을 하나로 묶지 말아야 한다.
- ② 이해관계자의 특정한 의도를 배제해야 한다.
- ③ 지나치게 상세한 응답을 요구해서는 안 된다.
- ④ 응답자의 수준에 맞는 적절한 용어를 사용하여야 한다.
- ⑤ 문항 내용을 작성할 때 애매모호한 표현은 삼가야 한다.

17. 그래프는 ‘교수 방법에 따른 학업 성취도 변화’에 대한 연구 결과를 나타낸 것이다. (가), (나)에 대한 분석으로 옳지 않은 것은? [3점]



- ① (가)의 남학생은 교수 방법 B를 선호할 것이다.
- ② (나)는 교수 방법에 따라 학업 성취도가 다르다.
- ③ (나)에서 성별은 교수 방법의 효과를 알아보는 데 유용하다.
- ④ (가), (나)에서 학업 성취도는 종속 변수이다.
- ⑤ 여학생에게는 (가), (나) 모두 교수 방법 A가 효과적이다.

18. 다음은 어느 기업의 회의 내용의 일부이다. ㉠에 해당되는 내용으로 가장 적절한 것은?

김 이사 : 중간 관리층의 규모를 축소하면 많은 비용이 절감됩니다.

조 이사 : 복잡한 의사 결정 구조를 개선하고 능력에 따른 보상 체계를 확립해야 합니다.

심 이사 : 빠른 변화에 적응하기 위해 '팀(Team)제'를 도입하고 자율적인 권한과 책임을 부여할 필요가 있습니다.

대표이사 : 하지만 이로 인해 ㉠예상되는 문제점은 없을까요?

- ① 업무 추진의 효율성이 떨어질 것이다.
- ② 조직 운영의 안정성이 저하될 것이다.
- ③ 수단과 목적이 뒤바뀔 가능성이 높아질 것이다.
- ④ 규칙과 절차 중시로 인해 창의성이 저하될 것이다.
- ⑤ 신분이 보장되어 무사안일주의가 팽배해질 것이다.

[19~20] 다음은 ‘경찰관 수와 범죄 건수와의 관계’를 연구한 내용이다. 물음에 답하시오.

연구 주제	경찰관 수가 범죄 증감에 미치는 영향
연구 가설	경찰관 수가 증가하면 범죄 건수가 줄어든 것이다.
자료 수집	○○국 통계청 홈페이지 자료
분석 결과	<p>수집한 자료를 분석한 결과 다음과 같이 나타났다.</p> <p><경찰관 수의 증가율></p> <p>(단위 : %, 전년대비)</p> <p><범죄 건수의 증가율></p> <p>(단위 : %, 전년대비)</p>
결과 활용	연구 결과를 가지고 ○○국 정부에 정책을 제안하였다.

19. 위 연구에 대한 옳은 설명을 <보기>에서 모두 고른 것은?

< 보 기 >

- ㄱ. 연구 가설은 기각되었다.
- ㄴ. 연구자의 직관적 통찰을 중시하였다.
- ㄷ. 경험적 자료를 토대로 사회 현상을 분석하였다.
- ㄹ. 시·공간적 제약을 극복하는데 용이한 자료 수집 방법을 사용하였다.

- ① ㄱ, ㄴ

② ㄱ, ㄷ

③ ㄴ, ㄹ

④ ㄱ, ㄷ, ㄹ

⑤ ㄴ, ㄷ, ㄹ

20. 위 그래프에 대한 분석으로 옳은 것은? [3점]

- ① 경찰관 수가 가장 많은 해는 2000년도이다.
- ② 2001년도의 범죄 건수가 가장 많다.
- ③ 2003년 까지 범죄 건수는 꾸준히 증가하였다.
- ④ 2004년 이후 경찰관 수는 다시 증가하고 있다.
- ⑤ 범죄 건수 증가율 변동 폭이 경찰관 수 증가율 변동 폭보다 작다.

※ 확인사항

- 문제지와 답안지의 해당란을 정확히 기입(표기)했는지 확인하시오.