

2010학년도 3월 고3 전국연합학력평가 문제지

제 4 교시

사회탐구 영역(사회 · 문화)

성명

수험 번호

3

1

- 자신이 선택한 과목의 문제지인지 확인하십시오.
- 문제지의 해당란에 성명과 수험 번호를 정확히 쓰시오.
- 답안지의 해당란에 성명과 수험 번호를 쓰고, 또 수험 번호와 답을 정확히 표시하십시오.
- 선택한 과목 순서대로 문제를 풀고, 답을 표시하십시오.
- 문항에 따라 배점이 다르니, 각 물음의 끝에 표시된 배점을 참고하십시오. 3점 문항에만 점수가 표시되어 있습니다. 점수 표시가 없는 문항은 모두 2점입니다.

1. 밑줄 친 ㉠~㉣ 현상에 대한 설명으로 옳은 것은?

㉠명태는 보통 수온이 10~12℃ 정도 되는 차가운 바다에 산다. 최근 동해안의 ㉡수온이 상승하면서 한류성 어종인 명태의 개체 수가 급격히 감소하고 있다. 이 때문에 명태잡이에 어려움을 겪으면서 ㉢명태의 공급이 감소하자 명태의 가격이 상승하였다.

- ① ㉠은 출퇴근 시간에 교통체증이 나타나는 것과 같은 현상이다.
- ② ㉡은 각 사회의 맥락에 따라 달라지는 특성을 갖는다.
- ③ ㉢은 사회 · 문화 현상에서 인과 관계가 나타날 수 있음을 보여준다.
- ④ ㉠은 ㉢과 달리 확률의 원리에 따른다.
- ⑤ ㉢은 ㉠에 비해 불가치적이어서 통제된 실험이 용이하다.

2. 표는 사회학자 갑이 A~D국의 근대화 수준을 조사한 자료이다. 이에 대한 분석으로 옳은 것은? [3점]

국가		A국	B국	C국	D국
경제적 측면					
경제적 측면	기계화	++	-	-	+
	시장 경제	++	-	-	+
정치적 측면	민주적 선거	++	+	++	+
	인권 보장	+	++	+	-
사회적 측면	합리주의적 가치	++	++	+	-
	사회 이동의 용이성	++	+	-	--

* 각 영역의 평균 수준을 기준으로 +는 평균 수준보다 높음을, -는 평균 수준보다 낮음을 의미한다.
 ** + 개수의 합이 많을수록 전체적으로 근대화 수준이 높다.

- ① A국은 B국보다 정치적 근대화 수준이 높다.
- ② B국의 근대화는 경제 성장에 힘입은 바 크다.
- ③ 사회적 측면에서 C국은 D국보다 근대화 수준이 낮다.
- ④ 경제적 근대화 수준이 높을수록 정치적 근대화 수준이 높다.
- ⑤ 계층 구조의 개방성이 높은 국가일수록 전체적으로 근대화 수준이 높다.

[3~4] 다음 글을 읽고 아래 물음에 답하십시오.

A사는 전체 직원들을 대상으로 ㉠회사 생활에 대한 만족도를 조사하였는데 ㉡사내 동호회 활동을 하는 직원들의 만족도가 그렇지 않은 직원들의 만족도보다 높게 나타났다. 한편 사내 복지와 관련하여 모델이 될 수 있는 회사가 어느 회사인지에 관한 질문에 대한 응답은 K사(63%), M사(21%), Z사(13%)의 순서로 나타났다. 직원 중 과반수가 사내 복지와 관련하여 K사를 (가)(으)로 보고 있다.

3. 밑줄 친 ㉠, ㉡에 대한 옳은 설명을 <보기>에서 고른 것은?

< 보 기 >
 ㉠. ㉠은 현대 사회의 대표적인 자발적 결사체이자 이익 사회이다.
 ㉡. ㉡은 정의적인 관계에 기초한 비공식 조직이자 공동 사회이다.
 ㉢. ㉠의 구성원의 수는 항상 ㉡의 구성원의 수 이상이다.
 ㉣. ㉡은 ㉠에 대한 구성원의 내집단 의식 강화에 기여할 수 있다.

- ① ㉠, ㉡ ② ㉠, ㉢ ③ ㉡, ㉢ ④ ㉡, ㉣ ⑤ ㉢, ㉣

4. 빈칸 (가)에 들어갈 사회 집단 개념에 대한 설명으로 옳지 않은 것은?

- ① 개인이 동시에 여러 개를 가질 수 있다.
- ② 개인의 소속 집단과 일치하지 않기도 한다.
- ③ 역할 갈등 상황에서 해결 기준을 제공할 수 있다.
- ④ 한 번 결정되면 변하지 않는 특성을 지니고 있다.
- ⑤ 개인의 성취동기나 만족감이 형성되는 데 중요한 역할을 한다.

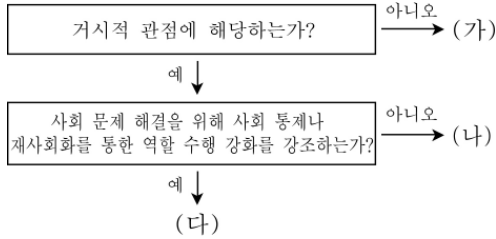
5. 그림은 노인 장기 요양 보험제도의 비용 부담 체계를 나타낸 것이다. 이에 근거한 타당한 추론을 <보기>에서 고른 것은? [3점]



< 보 기 >
 ㉠. 능력별 부담 원칙을 반영하여 보험료액을 산정한다.
 ㉡. 상호 부조의 성격을 지니는 비용 부담 체계를 가진다.
 ㉢. 가족의 노인 부양 책임을 강화하는 것을 목적으로 한다.
 ㉣. 건강 보험료율을 인상하면 국가의 장기 요양 보험 지원액은 감소한다.

- ① ㉠, ㉡ ② ㉠, ㉢ ③ ㉡, ㉢ ④ ㉡, ㉣ ⑤ ㉢, ㉣

6. 그림은 사회 문제를 바라보는 이론적 시각을 나타낸 것이다. (가)~(다)에 대한 옳은 설명을 <보기>에서 고른 것은? [3점]



- < 보 기 > —
- ㄱ. 사회 문제의 원인을 집단 간 이해관계의 대립으로 보는 시각은 (가)에 해당한다.
- ㄴ. 사회 문제를 하나의 병리 현상으로 보는 관점은 (나)에 해당한다.
- ㄷ. 일탈의 원인을 사회적 목표와 합법적 수단의 불일치로 보는 시각은 (다)에 해당한다.
- ㄹ. (다)와 달리 (나)에서는 사회 문제 해결을 위해 구조적인 변혁이 중시된다.

- ① ㄱ, ㄴ ② ㄱ, ㄷ ③ ㄴ, ㄷ ④ ㄴ, ㄹ ⑤ ㄷ, ㄹ

7. 다음 글에서 파악할 수 있는 사회 · 문화 현상을 바라보는 관점에 부합하는 진술을 <보기>에서 고른 것은? [3점]

자아와 자의식은 타인에 대한 우리의 행동, 타인의 반응, 그리고 그 반응에 대한 우리의 예상을 통해 만들어지고 계속해서 수정된다. 인간은 타인이 왜 그렇게 행동하는지 이해하려고 한다. 인간은 단지 몸짓에만 반응하는 것이 아니라 몸짓과 그 몸짓을 유발하는 물체나 사건 사이의 관계에 대해서도 반응한다.

- < 보 기 > —
- ㄱ. 사회 집단들은 상호 의존적인 관계를 형성하고 있다.
- ㄴ. 사회 · 문화 현상의 의미는 개인이 규정하기 나름이다.
- ㄷ. 사회는 인간들의 상호 작용에 의해서 창조되는 것이다.
- ㄹ. 사회 제도는 지배 집단의 이익을 보호하기 위한 수단이다.

- ① ㄱ, ㄴ ② ㄱ, ㄷ ③ ㄴ, ㄷ ④ ㄴ, ㄹ ⑤ ㄷ, ㄹ

8. 다음 글에서 설명하고 있는 문화 변동 양상에 대한 진술로 옳지 않은 것은?

사람들은 도구나 기술을 포함한 물질 문화는 쉽게 받아들이지만 사회 제도, 가치관 등을 포함한 비물질 문화는 쉽게 받아들이지 못한다. 이러한 이유로 물질 문화와 비물질 문화 간의 괴리 상태가 나타나기도 한다.

- ① 문화 병존 현상은 그 대표적인 사례이다.
- ② 사회 문제를 유발하는 원인이 될 수 있다.
- ③ 변동 속도가 빠른 사회에서 많이 나타날 수 있다.
- ④ 내재적 변동과 외재적 변동 모두에서 나타날 수 있다.
- ⑤ 물질 문화와 비물질 문화의 유기적 연관이 전제가 된다.

9. 표에 대한 옳은 분석만을 <보기>에서 있는 대로 고른 것은? [3점]

< 본인의 계층이 부모와 일치하는 사람의 수 >
(단위 : 명)

지역	조사 대상자의 계층	1970년	2000년
A 지역	상류층	78	81
	중류층	186	188
	하류층	82	95
B 지역	상류층	87	84
	중류층	182	178
	하류층	78	82

* 두 지역 모두에서 1970년과 2000년 상류층과 하류층에서는 각각 100명, 중류층에서는 200명을 선정하여 조사하였다.

- < 보 기 > —
- ㄱ. 두 지역 모두에서 세습률이 높아진 계층은 하류층이다.
- ㄴ. 다이아몬드형 계층 구조가 A 지역에서는 강화되고, B 지역에서는 약화되었다.
- ㄷ. 1970년 B 지역 상류층에 속한 100명 중에서 세대 간 하강 이동한 사람은 13명이다.
- ㄹ. 2000년 A 지역에서는 세대 간 하강 이동한 사람보다 세대 간 상승 이동한 사람이 많다.

- ① ㄱ, ㄷ ② ㄱ, ㄹ ③ ㄴ, ㄹ
④ ㄱ, ㄴ, ㄷ ⑤ ㄴ, ㄷ, ㄹ

10. 다음 글의 밑줄 친 ㉠~㉥에 대한 설명으로 옳지 않은 것은?

㉠마르코 폴로에게 중국의 앞선 문화는 '경탄'의 대상이었으나, 페리 제독이 만난 일본은 남녀가 함께 목욕하는 '야만'의 모습으로 격하되었다. 페리 제독 이후 미국을 처음 방문한 ㉡일본인은 백주대로에서 키스하는 미국인들의 무도덕함에 경악을 금치 못하였으며, 중국 역시 전통적으로 서양을 '야만'의 한 형태로 간주했다. 19세기 말 이후 동 · 서양의 만남은 ㉢'동도서기(東道西器)' 즉 동양의 정신과 서양의 기술이라는 구분으로 곧잘 합리화되었으나, ㉣서구적 과학 기술은 오늘에 이르기까지 동양의 여러 영역에 강한 영향을 미치고 있다. 그래서 이제 외형상으로 동양은 서양과 많이 닮게 되었다. 그럼에도 불구하고 동양과 서양 간의 진정한 만남은 아직도 이루어지지 않았다. ㉤쌍방 간의 다양한 교류에서 나타나는 문화적 소통의 어려움이 이를 잘 말해준다.

- ① ㉠ - 마르코 폴로와 페리 제독은 절대주의적인 문화 인식 태도를 지니고 있었다.
- ② ㉡ - 일본인의 문화 인식 태도는 자기 집단의 통합에 기여하는 순기능을 가질 수 있다.
- ③ ㉢ - 문화 현상에 대한 총체론적 인식의 부족이라는 비판이 가능하다.
- ④ ㉣ - 자국 전파로 인한 물질 문화 요소의 변동 양상을 보여준다.
- ⑤ ㉤ - 문화 인류학의 비교 연구는 이러한 문제의 해결에 기여한다.

사회탐구 영역(사회 · 문화)

3

사회 · 문화

11. 다음 글을 읽고 밑줄 친 정책에 대해 발표한 학생들의 의견 중 타당한 것은?

○ ○국 정부는 산하 공공 기관 공무원들의 업무 처리 과정에서 지켜야 할 표준화된 업무 처리 지침을 보급하는 정책을 펴기로 하였다. 나아가 연말에는 공공 기관 평가를 통해 정부가 보급한 지침을 가장 충실히 따른 기관을 선정하여 별도의 포상금과 승진 가산점을 부여하고, 가장 점수가 낮은 기관에 대해서는 예산을 삭감하기로 하였다.

- ① 공무원들의 업무 수행에 있어서 안정성이 약해질 것입니다.
- ② 관료제에서 목적 전치가 나타나는 것을 방지할 수 있습니다.
- ③ 개인의 재량권을 강화시켜 업무 수행의 신속성이 떨어질 것입니다.
- ④ 외부의 환경 변화에 대한 공공 기관의 유연한 적응을 저해할 것입니다.
- ⑤ 관료제 조직 내의 지위를 귀속 지위에서 성취 지위로 바꿀 것입니다.

12. 다음 글의 입장에 부합하는 진술을 <보기>에서 고른 것은?

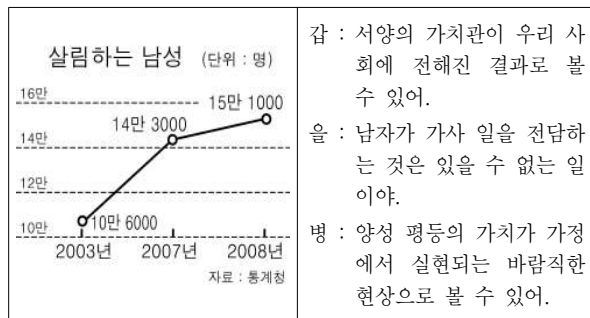
호랑이나 독수리 등과 같은 개체들이 존재하기 때문에 그것들의 공통적인 속성을 모아놓은 '동물'이라는 표현이 존재할 수 있는 것인가? 아니다. 진실은 오히려 그 반대이다. '동물'이 존재하지 않으면 우리는 아무도 동물의 속성을 지닌 개체를 즉, 호랑이나 독수리 등이 동물에 속해 있음을 인식할 수 없다. 마찬가지로 사회와 개인의 관계에 있어서도 사회가 동물이라면 개인은 호랑이나 독수리 등에 해당한다.

< 보 기 >

- ㄱ. 사회가 생명체라면 개인은 세포에 해당한다.
- ㄴ. 사회는 개인과 달리 영속성을 지닌 존재이다.
- ㄷ. 사회 문제 해결을 위해서는 의식 개혁이 필수적이다.
- ㄹ. 사회는 개인의 자유와 권리를 보장하기 위한 수단이다.

- ① ㄱ, ㄴ ② ㄱ, ㄷ ③ ㄴ, ㄷ ④ ㄴ, ㄹ ⑤ ㄷ, ㄹ

13. 그림을 보고 학생들이 나눈 대화에 내재된 개념을 <보기>에서 고른 것은? [3점]



< 보 기 >

- ㄱ. 사회화 ㄴ. 가족 해체 ㄷ. 문화 접변 ㄹ. 지위 불일치

- ① ㄱ, ㄴ ② ㄱ, ㄷ ③ ㄴ, ㄷ ④ ㄴ, ㄹ ⑤ ㄷ, ㄹ

14. 지역 사회의 개발 방식과 관련하여 다음 글의 관점에 부합하는 주장으로 가장 적절한 것은?

한 지역에 재화가 늘어나면 그 지역의 부는 다른 지역으로 확산된다. 한 지역이 발전함으로써 주변 지역에서도 산업이 부흥한다. 이로써 과거 빈곤하고 실업자가 많았던 지역 사람들의 소득도 증가한다. 풍요로운 지역에서 축적된 자본은 상대적으로 빈곤한 지역이 성장하는 데 기여한다.

- ① 하향식 개발보다 상향식 개발이 효율적이다.
- ② 한정된 자원을 형평성 있게 활용하는 것이 중요하다.
- ③ 불균형 개발은 지역 격차를 확대시켜 바람직하지 않다.
- ④ 성장 거점에 대한 투자는 다른 지역의 발전도 촉진한다.
- ⑤ 낙후 지역에 집중 투자하여 지역 격차를 최소화해야 한다.

15. 사회 · 문화 현상을 보는 갑과 을의 관점에 대한 설명으로 옳지 않은 것은?

갑 : 우리 사회가 다문화 사회가 되어도 사회의 결속이 깨져서는 안 돼. 우리 사회에서 공유하는 가치와 합의가 있으므로 새로운 사회 구성원들도 마땅히 이에 따라야지.

을 : 그 가치와 합의는 결국 우리 사회의 기득권층이 만들어낸 것이잖아. 그것이 우리 사회에서 상충되는 다양한 이익을 모두 반영하는 것은 아니야.

- ① 갑은 사회의 각 부분들이 사회 전체를 위해 작동한다고 본다.
- ② 갑은 사회적 합의가 지켜지지 않으면 사회에 혼란이 발생한다고 본다.
- ③ 을은 갈등이 사회 변동의 원동력으로서 사회에 내재한다고 본다.
- ④ 갑과 을 모두 개인의 행위에 미치는 사회 구조의 영향력을 인정한다.
- ⑤ 갑은 을과 달리 사회 계층화의 발생 원인을 사회 구조의 모순에서 찾는다.

16. 표에 대한 옳은 분석을 <보기>에서 고른 것은? [3점]

정보 소외 계층의 정보화 수준* (단위 : %)				
구분	2004년	2005년	2006년	2007년
장애인	57.5	65.2	73.9	76.0
저소득층	55.6	64.2	73.0	75.5
농어민	33.8	41.7	49.8	54.6
장노년층	40.9	49.3	58.4	62.6

* 일반 국민의 정보화 수준을 100으로 할 때, 일반 국민 대비 취약 계층의 정보화 수준을 의미한다. 자료 : 한국정보문화진흥원

< 보 기 >

- ㄱ. 정보 소외 계층 중 장애인의 정보화 수준이 가장 높다.
- ㄴ. 저소득층이 장노년층보다 정보화 수준 향상 속도가 빠르다.
- ㄷ. 정보 소외 계층 간 정보화 수준 격차가 가장 큰 해는 2005년이다.
- ㄹ. 2006년과 2007년 사이에 정보화 수준 향상 속도는 농어민이 가장 빠르다.

- ① ㄱ, ㄴ ② ㄱ, ㄷ ③ ㄴ, ㄷ ④ ㄴ, ㄹ ⑤ ㄷ, ㄹ

17. (가)와 (나)는 두 지역의 가구 형태에 관한 조사 자료이다. 아래 개념 구분을 바탕으로 (가)와 (나)를 옳게 분석한 것은? [3점]

(가)

가구 형태	비율(%)
조부모+부부+자녀	28.2
부부+기혼 자녀	0.9
부부	3.4
부부+미혼 자녀	67.5
계	100

* 조사 대상 가구의 수 : 3천 가구

(나)

가구 형태	비율(%)
조부모+부부+자녀	64.6
조부모+손자녀	0.8
부부	1.5
부부+미혼 자녀	33.1
계	100

* 조사 대상 가구의 수 : 2천 가구

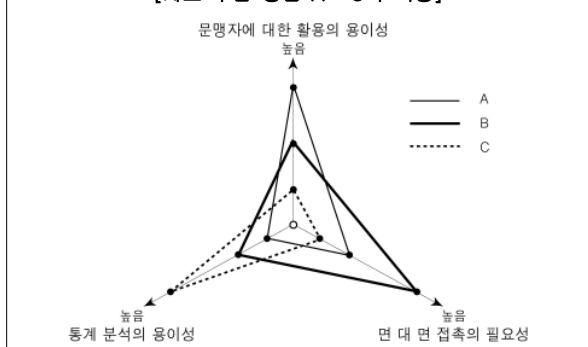
- 핵가족 : 부부만으로 구성되거나 (한)부모와 그들의 미혼 자녀로 구성된 가족
- 확대 가족 : 기혼 자녀와 함께 거주하는 2세대 이상으로 구성된 가족

- ① (가)에서 2세대 이상으로 구성된 가족이 90%를 넘지 못한다.
- ② (나)에서 핵가족의 수보다 확대 가족의 수가 적다.
- ③ (가)보다 (나)에서 확대 가족의 수가 많다.
- ④ 이동성이 높은 사회에 적합한 가족 형태의 비중은 (가)보다 (나)에서 높다.
- ⑤ 수직적 가족 관계가 중심이 되는 가족 형태의 비중은 (나)보다 (가)에서 높다.

18. 다음 갑, 을, 병이 활용하기에 적합한 자료 수집 방법을 아래 그림에서 찾아 바르게 연결한 것은?

- 갑은 개정 교육 과정에 대한 국민 여론을 조사하기로 하였다.
- 을은 국내 프로 축구팀 감독들을 상대로 국가대표팀의 전력 향상 방안에 대하여 심층적인 정보를 수집하기로 하였다.
- 병은 유치원 어린이들과 놀이 학습을 함께 하면서 그들의 인성 발달 과정을 알아보기로 하였다.

[자료 수집 방법 A~C의 특징]



- | | | | | | |
|-----|---|---|-----|---|---|
| 갑 | 을 | 병 | 갑 | 을 | 병 |
| ① A | B | C | ② A | C | B |
| ③ B | A | C | ④ C | A | B |
| ⑤ C | B | A | | | |

19. 다음 연구에 대한 설명으로 옳지 않은 것은? [3점]

▶ 가설

- 교사 주도 수업이 학생 주도 수업보다 사회 · 문화 과목의 성적 향상에 도움이 될 것이다.

▶ 자료 수집 방법

- 한 고등학교에서 사회 · 문화를 선택한 두 학급을 선정함.
- 같은 교사가 한 학급에서는 교사 주도 수업을, 다른 학급에서는 학생 주도 수업을 실시함.
- 3개월 후 두 학급 사회 · 문화 과목의 평균 성적을 비교함.

▶ 연구 결과

- 교사 주도 수업을 한 학급이 학생 주도 수업을 한 학급보다 평균 성적이 높게 나타났다.
- 교사 주도 수업이 학생 주도 수업보다 성적 향상에 도움이 된다는 것을 확인함.

- ① 연구 결과를 일반화하는 데 한계가 있다.
- ② 두 변수 간의 관계를 알고자 하는 귀납적 연구이다.
- ③ 사용된 자료 수집 방법은 방법론적 일원론에 근거한 연구에 적합하다.
- ④ 교사 주도 수업과 학생 주도 수업에 대한 개념 정의가 이루어져야 한다.
- ⑤ 연구 대상 선정 시 성적을 포함한 두 학급의 특성이 유사한지 확인해야 한다.

20. 표에 대한 옳은 분석만을 <보기>에서 있는 대로 고른 것은? [3점]

< ○○시의 인구 고령화 추이 >

연도	1990	2000	2010	2020	2030
고령화 지표					
노인 부양비(%)	5.2	7.0	11.3	15.6	22.1
고령화 지수(%)	19.7	27.6	43.1	69.9	107.1

* 노인 부양비(%) = (65세 이상 인구)/(15~64세 인구) × 100

** 고령화 지수(%) = (65세 이상 인구)/(0~14세 인구) × 100

*** 고령화 사회 : 전체 인구 중 65세 이상 노인 인구가 7% 이상인 사회

< 보 기 >

- ㄱ. 2000년에 고령화 사회로 진입하였다.
- ㄴ. 노인 인구는 2020년에 1990년의 세 배가 될 것으로 전망된다.
- ㄷ. 15 ~ 64세 인구의 노인 부양 부담의 상승 추세가 이어질 것으로 전망된다.
- ㄹ. 2030년에는 65세 이상 인구가 15세 미만 인구보다 더 많을 것으로 전망된다.

- ① ㄱ, ㄴ
- ② ㄱ, ㄷ
- ③ ㄷ, ㄹ
- ④ ㄱ, ㄴ, ㄷ
- ⑤ ㄴ, ㄷ, ㄹ

※ 확인 사항

문제지와 답안지의 해당란을 정확히 기입(표기)했는지 확인하십시오.