

제 4 교시

사회탐구 영역 (사회 · 문화)

성명		수험번호							3				
----	--	------	--	--	--	--	--	--	---	--	--	--	--

- 자신이 선택한 과목의 문제지인지 확인하시오.
- 문제지에 성명과 수험번호를 정확히 써 넣으시오.
- 답안지에 성명과 수험번호를 써 넣고, 또 수험번호와 답을 정확히 표시하시오.
- 과목을 선택한 순서대로 풀고, 답은 답안지의 '제1선택'란에서부터 차례대로 표시하시오.
- 문항에 따라 배점이 다르니, 각 물음의 끝에 표시된 배점을 참고하시오. 3점 문항에만 점수가 표시되어 있습니다. 점수 표시가 없는 문항은 모두 2점입니다.

1. 밑줄 친 ㉠~㉣과 같은 현상의 일반적 특징에 대한 설명으로 옳은 것은?

○○ 신문 2011년 1월 ○○일

**겨울철 전력 비상**

계속되는 ㉠겨울철 한파로 ㉡난방을 전력 수요가 급증하면서 ㉢최대 전력 수요 기록이 연일 갱신되고 있다. 통상적으로 전력 수요는 ㉣기온이 높은 여름철에 최대치에 이른다.

- ① ㉠과 ㉢은 존재 법칙의 지배를 받는다.
- ② ㉠은 물가치적 현상, ㉢은 가치 함축적 현상이다.
- ③ ㉠과 달리 ㉢은 확실성의 원리가 적용된다.
- ④ ㉡은 ㉢에 비해 특수성이 강하게 나타난다.
- ⑤ ㉠과 ㉢은 ㉢에 비해 인과 관계를 발견하기가 쉽다.

2. 사회 계층화 현상을 바라보는 갑의 관점에 부합하는 진술만을 <보기>에서 있는 대로 고른 것은?

**토론 주제 : 학력 인플레이션 현상 어떻게 볼 것인가?**

사회자 : 사회적 지위 획득의 수단으로써 학력 경쟁이 가속화되는 이른바 학력 인플레이션 현상이 나타나고 있습니다. 이에 대해 어떻게 생각하십니까?

갑 : 산업 구조가 고도화됨에 따라 고학력의 전문화된 능력을 가진 사람들이 필요하고 이들에 대한 사회적 우대는 당연한 현상입니다.

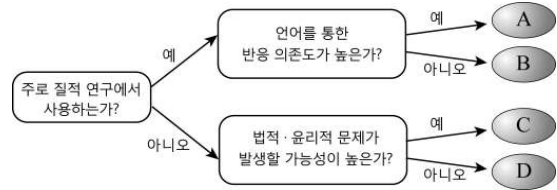
을 : 학력 인플레이션 현상은 지배 집단이 그들의 사회적 특권을 지켜내기 위해 도입한 교육 제도가 빚어낸 결과입니다.

<보 기>

- ㄱ. 사회에 대한 기여도에 따라 직업을 서열화할 수 있다.
- ㄴ. 사회 계층화는 개인과 사회가 최선의 기능을 하도록 한다.
- ㄷ. 교육은 현 사회의 계급 구조를 재생산하는 기능을 수행한다.
- ㄹ. 사회 계층화는 사회적 최소 가치가 개인의 능력에 따라 차등 분배됨으로써 나타난다.

- ① ㄱ, ㄴ
- ② ㄱ, ㄷ
- ③ ㄷ, ㄹ
- ④ ㄱ, ㄴ, ㄹ
- ⑤ ㄴ, ㄷ, ㄹ

3. 그림은 자료 수집 방법을 분류한 것이다. A~D의 일반적 특징에 대한 설명으로 옳은 것은? (단, A~D는 질문지법, 면접법, 실험법, 참여 관찰법 중 하나이다.) [3점]



- ① A는 D보다 분석 기준이 명확하고 비교가 용이하다.
- ② B는 C보다 연구 대상에 대한 인위적인 조작성이 강하다.
- ③ C는 A보다 가설 검증을 위한 과학적 연구에 많이 활용된다.
- ④ D는 B보다 연구자와 연구 대상자 사이에 정서적 교감이 중요하게 작용한다.
- ⑤ A, B는 C, D에 비해 변수 간의 관계를 입증하는 연구에서 주로 사용된다.

4. 그림은 대학 교수 갑의 주간 일정표이다. 밑줄 친 ㉠~㉣집단에 대한 설명으로 옳은 것은? [3점]

일	월	화	수	목	금	토
11:00 ㉠동네 테니스회 모임	10:00 ㉡사범 대학 ○○학과 교수회의	19:00 ㉢대학내 동산 동아리 정기모임	14:00 ㉣□□ 정당 초청강의	19:00 ㉤◇◇ 고등학교 동창회 참석	19:00 ㉥대학원 강의	18:00 ㉦가족 모임

- ① ㉠은 공식 조직 내에 형성된 자연 발생적 조직이다.
- ② ㉡과 ㉢은 공통의 관심사를 기초로 형성된 비공식적 조직이다.
- ③ ㉡과 ㉢은 특수한 이해 관계에 기초하여 의식적으로 조직된다.
- ④ ㉡과 ㉢은 특정 목적 달성을 위한 수단적 만남이 지배적이다.
- ⑤ 선택적 의지로 결합된 집단은 모두 4개이다.

5. 다음은 한 영농 조합의 운영 설계도와 광고이다. 이러한 운영 방식이 증가할 경우 예상되는 농촌의 변화로 가장 적절한 것은?

**앞서가는 농촌! ○○마을 !**

◇◇ 연구소의 유기농 기법이라 믿을 수 있고, 소비자와 직접 연결되어 가격도 저렴합니다....(중략)...○○마을 영농 조합 홈페이지에 오시면 3D로 구현된 ○○마을 체험, 유기농 농산물 주문 예약이 가능합니다. 가족, 친구와 함께 오세요!

- ① 도시와의 시·공간적 연대성이 강화될 것이다.
- ② 농업 생산물의 생산 및 유통 구조가 복잡해질 것이다.
- ③ 귀농인의 증가로 농촌 총각의 결혼난이 해소될 것이다.
- ④ 농산물 시장에서 생산자와 판매자의 역할 분담이 뚜렷해 질 것이다.
- ⑤ 온라인을 통한 농산물 거래가 활성화되면 1차적 인간관계가 확산될 것이다.

6. 다음 글에서 추론할 수 있는 문화 개념만을 <보기>에서 있는 대로 고른 것은? [3점]

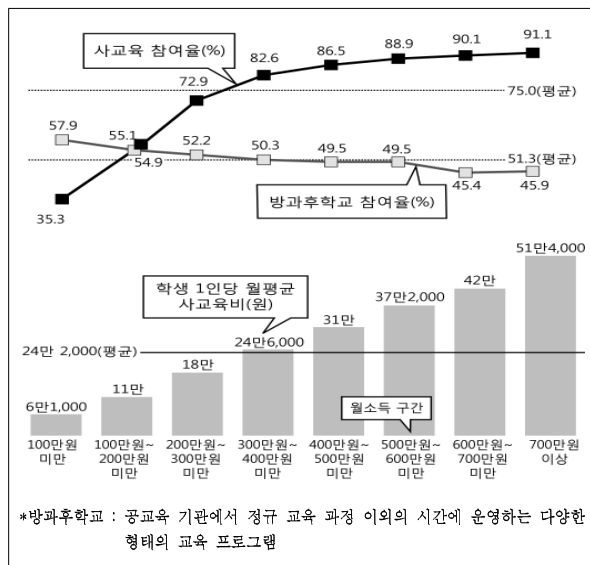
레게 음악의 뿌리는 서아프리카에서 찾을 수 있다. 17세기에 서아프리카인들이 영국인들에 의해 노예가 되어 서인도 제도로 끌려왔다. 영국인들은 노예들에게 전통 음악 연주를 금하는 대신 자신들의 유럽 음악 스타일을 강요했다. 그러나 그들은 유럽 음악 스타일과 자신들의 음악 전통을 통합하는 방식을 통해 북을 두드리는 아프리카의 전통을 유지할 수 있었다.

<보 기>

- ㄱ. 문화 동화                      ㄴ. 문화 접변  
ㄷ. 문화 융합                      ㄹ. 직접 전파

- ① ㄱ, ㄴ                      ② ㄱ, ㄷ                      ③ ㄷ, ㄹ  
④ ㄱ, ㄴ, ㄹ                  ⑤ ㄴ, ㄷ, ㄹ

7. 그림은 가구 소득에 따른 사교육 및 방과후학교 참여율을 나타낸 것이다. 이에 대한 옳은 분석만을 <보기>에서 있는 대로 고른 것은? [3점]



<보 기>

- ㄱ. 소득이 적은 가구일수록 사교육보다 공교육을 더 신뢰한다.  
ㄴ. 소득이 많은 가구일수록 사교육 참여율이 높게 나타난다.  
ㄷ. 고소득 가구에 비해 저소득 가구에서 교육을 통한 계층 이동에 대한 기대가 더 높다.  
ㄹ. 월소득 700만 원 이상인 가구의 학생 1인당 월평균 사교육비는 월소득 100만 원 미만인 경우보다 8배 이상 높다.

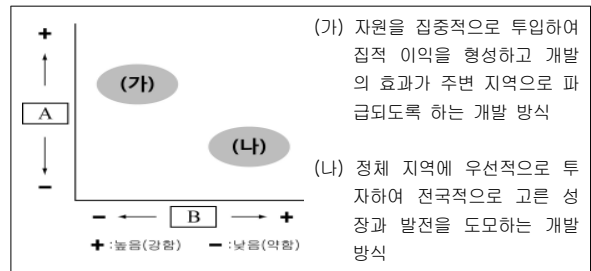
- ① ㄱ, ㄷ                      ② ㄱ, ㄹ                      ③ ㄴ, ㄹ  
④ ㄱ, ㄴ, ㄷ                  ⑤ ㄴ, ㄷ, ㄹ

8. 다음 사례에서 파악할 수 있는 문화 이해의 관점에 대한 진술로 가장 적절한 것은?

우리나라의 가족 제도는 전통적으로 장자의 가계 계승과 항렬 및 나이에 따른 서열을 중요시하고 남성의 권위를 강조한다. 중국에서도 남아 선호와 장자의 상속권 등 권위주의적 요소를 발견할 수 있다. 한편 러시아와 이탈리아 중부의 전통적 가족 제도는 부모와 자식 간의 관계가 권위주의적이거나 자식들 간의 관계는 평등하다. 이를 통해 우리나라와 외국의 가족 제도가 공통점도 있지만 차이점도 있다는 것을 파악할 수 있다.

- ① 자문화를 보다 객관적으로 바라보는 데 유용하다.  
② 문화를 자연 환경에 대한 적응 과정으로 파악한다.  
③ 문화는 특수성을 지니므로 문화의 우열을 파악할 수 있다.  
④ 구성 요소 간의 상호 유기적 관계 속에서 문화를 파악한다.  
⑤ 문화를 비슷한 과정 속에서 연속적으로 발전하는 것으로 파악한다.

9. (가), (나)에 해당되는 지역 개발 방식을 그림과 같이 제시할 경우, A와 B에 들어갈 수 있는 기준으로 적절한 것은?



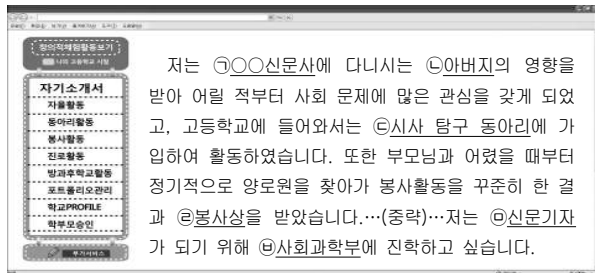
- A                      B
- ① 주민 여론 수렴 정도                  복지 지향성  
② 중앙 정부의 주도성                  상향식 의사 결정 경향  
③ 형평성의 중시 정도                  하향식 의사 결정 경향  
④ 지역 격차 해소 효과                  지역 주민의 참여 정도  
⑤ 효율성의 중시 정도                  개발도상국의 선호 정도

10. 다음 연구의 결론이 시사하는 바로 가장 적절한 것은?

대학 교수 갑이 어느 기업의 조직 문화를 연구한 결과 “직장에서 작업과 직접적인 관련이 없는 동료와의 관계를 지속적으로 맺으려는 욕망은 인간의 특성이다. 이러한 자연적인 욕망이 발현된 소규모 집단은 몇 개의 행동 규범, 가치 체계, 지위 관계 등을 형성하여 기업의 생산성을 향상시킨다.”는 결론을 내렸다.

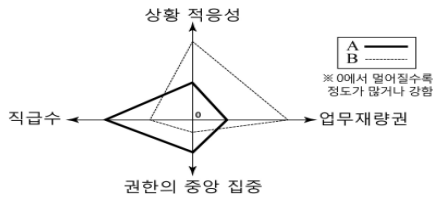
- ① 업무상 지위 관계를 강화하면 기업의 목표 달성이 용이하다.  
② 기업 조직은 공동의 사적 관심사와 관습을 바탕으로 구성된다.  
③ 동료 의식과 정서적 만족을 추구하다 보면 연고주의가 강화된다.  
④ 작업의 능률 향상을 위해서는 체계화된 공식적 조직의 관리가 중요하다.  
⑤ 공식 조직 내에 존재하는 자발적 결사체는 조직의 만족도와 사기를 높인다.

11. 밑줄 친 ㉠~㉤에 대한 설명으로 옳은 것은? [3점]



- ① ㉠은 2차적이며 공식적 사회화 기관이다.
- ② ㉡과 ㉢은 동일한 성격의 지위이다.
- ③ ㉣은 본질 의지에 의해 결집되어 있다.
- ④ ㉤은 역할에 따른 보상이다.
- ⑤ ㉤은 준거 집단이자 내집단이다.

12. 그림은 사회 조직의 유형을 도식화한 것이다. A, B 조직의 일반적 특징에 대한 옳은 설명만을 <보기>에서 있는 대로 고른 것은?



- <보 기>
- ㄱ. A에서는 분화되고 표준화된 과업을 부여한다.
  - ㄴ. B에서는 중간 관리층의 역할을 중시한다.
  - ㄷ. A는 B보다 구성원 간 수평적 관계를 중시한다.
  - ㄹ. B는 A보다 사회 변화에 유연하게 대응할 수 있다.

- ① ㄱ, ㄴ
- ② ㄱ, ㄷ
- ③ ㄷ, ㄹ
- ④ ㄱ, ㄴ, ㄷ
- ⑤ ㄴ, ㄷ, ㄹ

13. 사회 · 문화 현상을 바라보는 갑, 을, 병의 관점에 대한 설명으로 옳은 것은?

갑 : 사회 현상은 개인의 상황 정의에 따른 의미 부여가 중요합니다. 예를 들어 숲을 알기 위해서는 숲 속으로 들어가 각각의 나무를 관찰해야 합니다.

을 : 하지만 갑은 지나치게 나무만 보고 있는 것이 아닌가요? 숲은 나무와 나무들이 상호 의존하며 균형과 조화를 이룬 하나의 생태계로 이해해야 합니다.

병 : 저는 생각이 다릅니다. 오히려 숲 속의 나무들은 조화가 아닌 대립 속에서 자라게 되고 그 중에서 더 많은 공간을 차지한 나무들이 숲을 지배하게 됩니다. 우리 사회도 이와 다르지 않습니다.

- ① 갑은 사회 구조가 개인에게 미치는 영향을 중시한다.
- ② 을은 사회 구성원들의 합의에 의한 역할 배분을 경시한다.
- ③ 병은 사회 변동과 제도의 근본적인 개혁을 강조한다.
- ④ 갑과 을은 사회 · 문화 현상을 사회 전체와의 관련 속에서 파악한다.
- ⑤ 을은 병보다 사회 · 문화 현상을 심층적으로 분석하고 있다.

14. 다음은 한 연구자가 작성한 연구 계획서의 일부이다. ㉠~㉤에 대한 설명으로 옳지 않은 것은?

- 연구 주제 : ㉠TV 폭력물 시청이 어린이의 폭력성에 미치는 영향
- 연구 과정 : ㉡문제 인식 → ㉢가설 설정 → ㉣연구 설계 → 자료 수집 → 자료 분석 → 가설 검증 및 결론 도출
- 연구 내용 : 연구 대상으로 ㉤다섯 살 남자 어린이 100명을 선정하여 ㉢중 50명은 실험실 내에서 TV 폭력물을 보게 하고, 나머지 50명은 다른 실험실에서 그냥 놀게 한 후 이들의 변화를 관찰한다.

- ① ㉠은 독립 변수에 해당된다.
- ② ㉡에서는 연구자의 가치가 개입된다.
- ③ ㉢은 경험적으로 증명 가능한 명제의 형태로 진술되어야 한다.
- ④ ㉣에서는 연구의 분석 단위, 연구 범위 등을 정한다.
- ⑤ ㉤은 통제 집단, ㉤은 실험 집단에 해당된다.

15. 표는 A국과 B국의 계층 구성비의 변화를 나타낸 것이다. 이에 대한 옳은 설명만을 <보기>에서 있는 대로 고른 것은? [3점]

연도	1980년		2000년	
	A국	B국	A국	B국
상류층 비율 대비 중류층 비율	3	2	3	2
중류층 비율 대비 하류층 비율	2	1	$\frac{1}{3}$	$\frac{7}{2}$

- <보 기>
- ㄱ. A국의 하류층 인구수는  $\frac{1}{3}$ 로 감소하였다.
  - ㄴ. B국의 중류층은 하강 이동보다 상승 이동이 많다.
  - ㄷ. 2000년에는 A국이 B국보다 상류층의 비율이 높다.
  - ㄹ. 2000년에 A국은 다이아몬드형 계층 구조, B국은 피라미드형 계층 구조가 나타났다.

- ① ㄱ, ㄴ
- ② ㄱ, ㄷ
- ③ ㄷ, ㄹ
- ④ ㄱ, ㄴ, ㄷ
- ⑤ ㄴ, ㄷ, ㄹ

16. 표는 결합 의지와 접촉 방식을 기준으로 사회 집단을 구분한 것이다. 이에 대한 옳은 설명을 <보기>에서 고른 것은? [3점]

접촉 방식	결합 의지	본질적, 비의도적	선택적, 의도적
	비인격적, 형식적	A	C
	전인격적, 직접적	B	D

- <보 기>
- ㄱ. A에서는 형식화된 규약에 의한 공식적 통제가 이루어진다.
  - ㄴ. B에는 가족, C에는 회사를 예로 들 수 있다.
  - ㄷ. B는 자연적 의지를 바탕으로 이해타산적 관계를 강조한다.
  - ㄹ. D는 B보다 가입과 탈퇴가 자유롭다.

- ① ㄱ, ㄴ
- ② ㄱ, ㄷ
- ③ ㄴ, ㄷ
- ④ ㄴ, ㄹ
- ⑤ ㄷ, ㄹ

17. 밑줄 친 부분에 나타난 개인과 사회를 바라보는 관점에 부합하는 진술만을 <보기>에서 있는 대로 고른 것은? [3점]

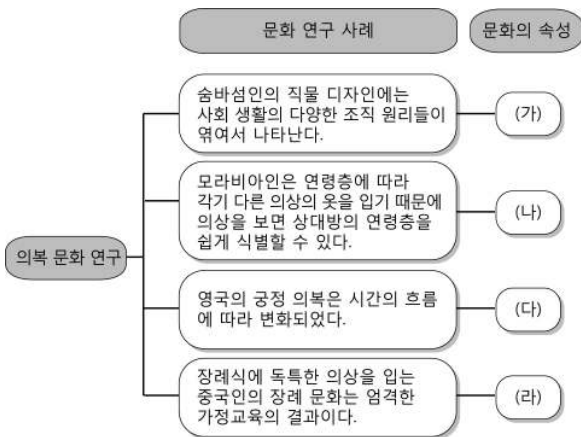
어떤 시스템이든 부분과 전체는 밀접하게 관련을 맺고 있다. 이 부분과 전체의 관계를 새롭게 규정하는 개념이 바로 홀론(holon)이다. 홀론은 그리스어인 홀로스(holos, 전체)와 온(on, 부분)을 합쳐서 만든 신조어로 부분이면서 동시에 전체라는 뜻이다. 가령 언어학 분야에서 홀론의 입장에 따라 단어를 보면, 단어가 문장 내에 들어가 있지 않을 때는 여러 가지 의미를 가지고 있지만 어떤 문장에 들어가면 그 문장의 의미에 맞게 단어의 의미가 규정되어 버린다.

<보 기>

- ㄱ. 사회는 개인 외부에 존재하며 독자적인 특성을 지니고 있다.  
 ㄴ. 개인은 각자 자신의 주관적 관점에 따라 다양한 사회상을 만들어 낼 수 있다.  
 ㄷ. 개인의 행위를 바르게 이해하기 위해서는 사회 구조를 파악하는 것이 중요하다.  
 ㄹ. 사회적 규범은 개인들이 객관적 규범을 존중하고 받아들이기 때문에 형성된다.

- ① ㄱ, ㄴ                      ② ㄱ, ㄷ                      ③ ㄴ, ㄹ  
 ④ ㄱ, ㄷ, ㄹ                ⑤ ㄴ, ㄷ, ㄹ

18. 그림의 문화 연구 사례를 통해 파악할 수 있는 (가)~(라)에 대한 진술로 적절하지 않은 것은? (단, (가)~(라)는 공유성, 학습성, 변동성, 전체성 중 하나이다.) [3점]



- ① (가)는 문화가 사회의 구성원들이 공통적으로 가지고 있는 생활 양식임을 의미한다.  
 ② (나)는 사회 구성원들 간에 원활한 상호 작용의 토대가 된다.  
 ③ (다)는 인간이 새로운 환경에 적응하기 위해 끊임없이 노력하는 것과 관련되어 있다.  
 ④ (라)는 후천적인 사회화 과정을 통해 나타난다.  
 ⑤ (가)와 (다)는 공통적으로 문화가 고정되어 있지 않고 변화되는 것과 관련되어 있다.

19. 다음 글에서 값이 강조하는 문화 이해 태도에 부합하는 진술로 가장 적절한 것은?

A국은 학교와 같은 공공 장소에서 아랍 여성들이 히잡을 착용하지 못하도록 하는 법안을 통과시켰다. 이에 대해 인류학자 값은 아랍인들의 고유한 문화를 인정하지 않으려는 정부를 비판하면서 다른 문화에 대한 관용의 정신이 필요하다 고 주장했다.

\*히잡 : 아랍권의 여성들이 외출할 때 얼굴이나 가슴을 가리기 위해 머리에 쓰는 가리개

- ① 구성원들에게 자부심을 갖게 하여 민족 의식을 고취시킬 수 있다.  
 ② 특정 문화가 진화와 야만을 평가하는 기준이 될 수 없다는 입장이다.  
 ③ 세계화 시대에 국가 간의 이해와 협력을 증진시키는 데 장애가 될 수 있다.  
 ④ 선진 문화의 수용을 용이하게 하여 문화적 정체성을 상실할 우려가 있다.  
 ⑤ 미개한 문화를 계몽하고 문명화시킨다는 명분으로 제국주의적 침략을 정당화시킨다.

20. 표에 대한 옳은 분석만을 <보기>에서 있는 대로 고른 것은? [3점]

<가구원 수별 가구 분포>

지역	연도	일반 가구 수	가구원 수별 가구 분포(%)				
			1인 가구	2인 가구	3인 가구	4인 가구	5인 이상 가구
A	1980	4,800	5.0	10.7	15.3	22.3	46.7
	2000	12,000	14.6	16.8	21.5	33.6	13.5
B	1980	3,300	5.0	10.3	13.3	17.4	54.0
	2000	4,100	19.0	27.4	18.4	21.7	13.5

<세대별 가구 분포>

지역	연도	혈연 가구 수	세대별 가구 분포(%)			
			1세대	2세대	3세대	4세대 이상
A	1980	4,400	10.0	76.1	13.6	0.3
	2000	9,500	14.0	76.8	9.1	0.1
B	1980	3,100	7.6	68.0	23.5	0.9
	2000	2,500	27.6	59.2	12.9	0.3

\* 혈연 가구 : 일반 가구에서 비혈연 가구와 1인 가구를 제외한 가구

\*\* 핵가족 : 부부 또는 (한)부모와 그들의 미혼 자녀로 이루어진 가족

<보 기>

- ㄱ. A 지역에서 일반 가구 대비 혈연 가구의 비율은 2000년이 1980년보다 작다.  
 ㄴ. 2000년의 경우 A 지역 1인 가구 수가 B 지역 1인 가구 수 보다 많다.  
 ㄷ. 핵가족의 증가율은 A 지역이 B 지역보다 높다.  
 ㄹ. 2000년 혈연 가구에서 2세대 이하가 차지하는 비중은 A 지역이 B 지역보다 크다.

- ① ㄱ, ㄴ                      ② ㄱ, ㄷ                      ③ ㄷ, ㄹ  
 ④ ㄱ, ㄴ, ㄹ                ⑤ ㄴ, ㄷ, ㄹ

\* 확인 사항

- 답안지의 해당란에 필요한 내용을 정확히 기입(표기)했는지 확인 하시오