

제 4 교시

사회탐구 영역(사회·문화)

성명

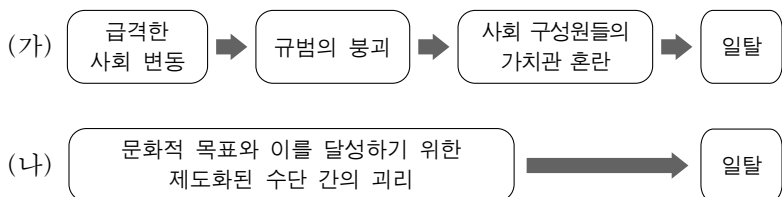
수험 번호

1. 그림의 갑, 을, 병은 청소년 문제를 서로 다른 관점으로 바라보고 있다. 이에 대한 설명으로 가장 적절한 것은?



- ① 갑의 관점은 청소년 문제 해결을 위해 사회 통합을 강조한다.
- ② 을의 관점은 청소년 문제에 대한 판단 기준의 상대성을 강조한다.
- ③ 병의 관점은 가정이나 학교에서의 부정적인 낙인이 청소년 문제를 일으킨다고 본다.
- ④ 갑과 병의 관점은 청소년 문제를 개인의 의식이나 행동에 초점을 맞추어 분석한다.
- ⑤ 병의 관점과 달리 을의 관점은 청소년 문제를 사회 병리 현상으로 인식한다.

2. 그림은 일탈 이론 (가), (나)를 도식화한 것이다. 이에 대한 옳은 설명만을 <보기>에서 있는 대로 고른 것은?



— < 보 기 > —

- ㄱ. (가)는 사회적 합의를 통한 결속력 강화를 해결 방안으로 제시할 것이다.
- ㄴ. 모범생이었던 고교생의 가출을 불량 학생들과 어울렸기 때문이라고 설명하는 것은 (가)의 사례이다.
- ㄷ. 올림픽에 참가한 선수가 금메달을 따기 위해 금지 약물을 복용한 것은 (나)로 설명할 수 있다.
- ㄹ. (가)와 달리 (나)는 기능론적 관점에서 일탈 문제를 분석한다.

- ① ㄱ, ㄴ ② ㄱ, ㄷ ③ ㄴ, ㄹ
- ④ ㄱ, ㄷ, ㄹ ⑤ ㄴ, ㄷ, ㄹ

3. 다음 두 사례에 공통적으로 부각되어 있는 문화의 속성에 대한 옳은 설명을 <보기>에서 고른 것은? [3점]

- 이스라엘 사람들은 팻삭 축제 기간에 누룩 없는 빵을 나눠 먹는다. 이는 옛날 유대 민족이 이집트에서 탈출할 때의 고난을 함께 기억하기 위한 것이다. 뼈째 구운 양고기, 쓴 나물 등도 당시의 쓰라린 경험을 상징하는 축제의 대표적 음식들이다.
- 아마존 남비과라 족에서는 아이가 젖을 떼기 전까지 부모들이 강물에서 목욕하지 않는다. 그래서 씻지 않고 더러운 채 지내는 부부를 보면 주민들은 그 집에 아이가 태어났다고 생각한다.

— < 보 기 > —

- ㄱ. 구성원의 사고와 행동에 구속력을 지닌다.
- ㄴ. 원활한 사회 생활을 위한 상호 작용의 토대가 된다.
- ㄷ. 한 부분의 문화 요소가 변동하면 연쇄적인 변동이 나타난다.
- ㄹ. 세대 간 전승을 통해 새로운 지식과 생활 양식이 더해져 복잡하고 다양해진다.

- ① ㄱ, ㄴ ② ㄱ, ㄷ ③ ㄴ, ㄷ ④ ㄴ, ㄹ ⑤ ㄷ, ㄹ

4. 표는 갑국의 가구 구성의 변화를 나타낸 것이다. 이에 대한 옳은 분석만을 <보기>에서 있는 대로 고른 것은? [3점]

구 분		1990년	1995년	2000년	2005년	2010년
총 가구 수(천 가구)		11,355	12,958	14,312	15,887	17,339
친족 가구 (%)	부부 가구	10.7	12.8	14.2	16.2	17.4
	2세대 가구	66.3	63.2	60.8	55.4	49.3
	3세대 이상 가구	12.5	10.0	8.4	7.0	6.6
1인 가구(%)		9.0	12.7	15.5	20.0	25.1
기타 가구(%)		1.5	1.3	1.1	1.4	1.6

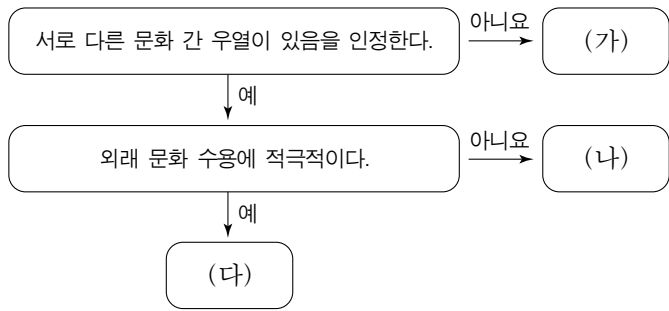
* 핵가족: 부부 또는 (한)부모와 그들의 미혼 자녀로 이루어진 가족
 ** 확대 가족: (한)부모와 그들의 기혼 자녀 또는 3세대 이상으로 이루어진 가족

— < 보 기 > —

- ㄱ. 1995년에 부부 가구 인구는 1인 가구 인구의 2배 이상이다.
- ㄴ. 1995년 이후 확대 가족 비중은 총 가구의 10% 이하이다.
- ㄷ. 제시된 모든 연도의 2세대 가구 수는 친족 가구 수의 과반수를 차지한다.
- ㄹ. 1990년 대비 2010년의 부부 가구 수 증가율은 총 가구 수 증가율보다 더 크다.

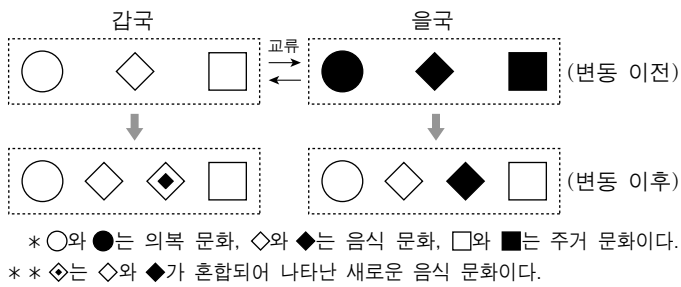
- ① ㄱ, ㄴ ② ㄱ, ㄷ ③ ㄴ, ㄷ
- ④ ㄱ, ㄷ, ㄹ ⑤ ㄴ, ㄷ, ㄹ

5. 그림은 문화 이해 태도를 도식화한 것이다. 이에 대한 설명으로 가장 적절한 것은? (단, (가)~(다)는 각각 자문화 중심주의, 문화 상대주의, 문화 상대주의 중 하나이다.)



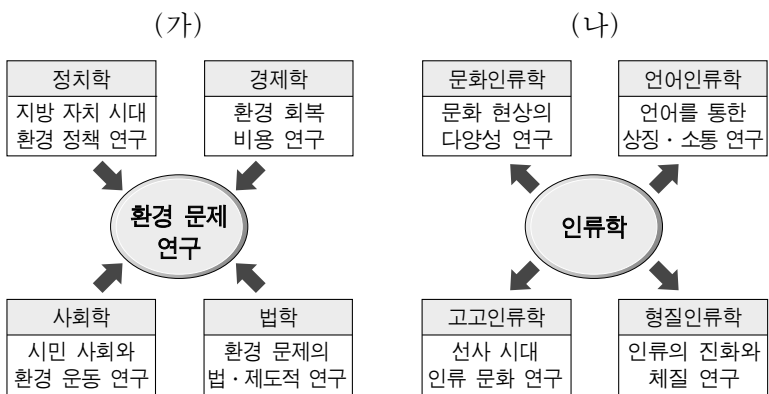
- ① (가)는 문화 간 동질성을 강화시킨다.
 ② (나)는 타문화의 고유한 가치를 존중한다.
 ③ (다)는 사회적 환경과 맥락을 고려한 문화 이해를 강조한다.
 ④ (나)는 (다)에 비해 타문화와의 접촉 과정에서 문화적 마찰을 발생시킬 가능성이 크다.
 ⑤ (다)는 (가)에 비해 문화적 다양성 보존에 기여한다.

6. 그림은 갑국과 을국의 문화 교류와 문화 변동을 나타낸 것이다. 문화 변동 결과에 대한 분석으로 가장 적절한 것은? [3점]



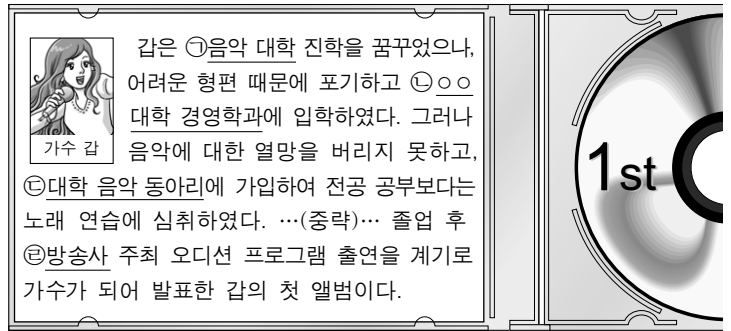
- ① 갑국에서는 문화 동화가 나타났다.
 ② 갑국은 내부에서 새로운 문화 요소를 찾아내었다.
 ③ 을국에서는 자극 전파가 나타났다.
 ④ 을국에서는 문화 지체 현상이 나타났다.
 ⑤ 갑국에서는 문화 융합이, 을국에서는 문화 병존이 나타났다.

7. 그림의 (가), (나)에 나타난 사회 과학 연구의 경향에 대한 설명으로 가장 적절한 것은?



- ① (가)는 학문이 세분화되는 모습을 보여준다.
 ② (나)는 사회 현상에 대해 간학문적으로 접근한다.
 ③ (가)는 (나)에 비해 사회 현상에 대해 총체적으로 접근한다.
 ④ (나)는 (가)와 달리 가치 중립적인 연구 방법을 추구한다.
 ⑤ (가)는 귀납적 접근을, (나)는 연역적 접근을 보여준다.

8. 밑줄 친 ㉠~㉣에 대한 옳은 설명을 <보기>에서 고른 것은? [3점]



- < 보 기 >
 가. ㉠과 ㉡은 갑의 내집단이였다.
 나. ㉠과 ㉢은 갑의 준거 집단이였다.
 다. ㉡은 공식적 사회화 기관, ㉣은 비공식적 사회화 기관이다.
 르. ㉢은 공동 사회, ㉣은 이익 사회이다.

- ① 가, 나 ② 가, 다 ③ 나, 다 ④ 나, 르 ⑤ 다, 르

9. 다음에서 주장하는 연구 방법을 적용하기에 적절한 연구가 아닌 것은? [3점]

사회 과학은 사회·문화 현상에 대한 논리적 이해와 설명을 추구한다. 어떤 학자들은 경험적인 검증을 수반한 과학적 방법을 통해 현상들 간의 인과 관계를 설명하는 법칙의 발견이 필요하다고 말한다. 하지만 이보다 더 중요한 것은 '구체적 현상을 어떻게 이해할 것인가'이다. 이를 위해서는 연구 대상에 대한 피상적인 관찰보다는 심층적인 이해가 요구된다. 법칙이 추상적일수록 인간 행위에 담긴 동기를 이해하거나 개성적 사회·문화 현상에 대한 설명력을 높이는 데 별로 소용이 없기 때문이다.

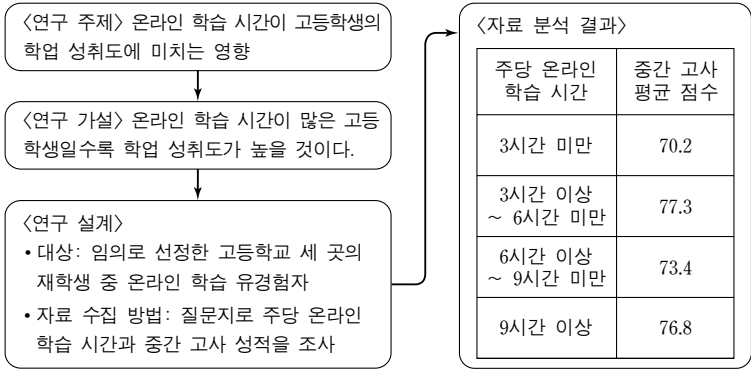
- ① 프로 야구 팬클럽 회원의 충성도 분포 연구
 ② 한국과 일본의 세시 풍속 의미에 대한 비교 연구
 ③ 동학 농민 운동에 나타난 민족 의식에 관한 연구
 ④ 현대 사회에서의 주술 행위에 대한 참여 관찰 연구
 ⑤ 도서 지역 주민들의 경제 행위에 대한 민족지적 연구

10. 그림은 인류 사회의 변천과 각 사회의 특징을 나타낸 것이다. 이에 대한 설명으로 옳지 않은 것은?

구 분	주요 산업	중심 직업군	부가 가치의 주요 원천
A 사회	—	—	토지와 노동
B 사회	제조업	㉠	㉡
C 사회	—	전문직	지식과 정보

- ① 대중 문화의 영향으로 ㉠이 등장하였다.
 ② ㉡에는 '자본과 노동'이 들어갈 수 있다.
 ③ A 사회는 B 사회보다 일터와 주거지의 통합 정도가 높다.
 ④ B 사회에서 C 사회로 이행하면서 다품종 소량 생산 방식이 확산되었다.
 ⑤ C 사회는 A 사회에 비해 구성원 간의 비대면적 접촉 정도가 높다.

11. 다음 자료는 한 연구를 요약한 것이다. 이에 대한 설명으로 옳은 것은? [3점]



- ① 온라인 학습 유경험자는 실험 집단이다.

② 종속 변수에 대한 조작적 정의가 이루어졌다.

③ 자료 분석 결과에 따르면 이 연구의 가설은 수용될 것이다.

④ 표본 집단이 대표성을 갖추어 연구 결과를 일반화할 수 있다.

⑤ 연구자와 연구 대상자 간의 상호 작용이 활발한 자료 수집 방법을 사용하였다.

12. 사회·문화 현상을 바라보는 (가), (나) 관점의 일반적인 특징에 대한 설명으로 가장 적절한 것은? [3점]

(가) 개인은 사회화를 통해 자아를 발전시키고 인성을 형성한다. 또한 사회화는 자신이 속한 사회의 생활 양식에 적응하도록 하여 문화의 연속성과 사회 통합을 유지하는 과정이다.

(나) 한 사회의 지배 집단은 사회화를 통해 자신에게 유리한 규칙, 규범, 가치 등을 보편화한다. 즉, 사회화는 기존의 불평등한 질서의 재생산을 정당화하는 과정이다.

- ① (가)는 사회 질서가 특정 집단의 합의에 근거한다고 본다.

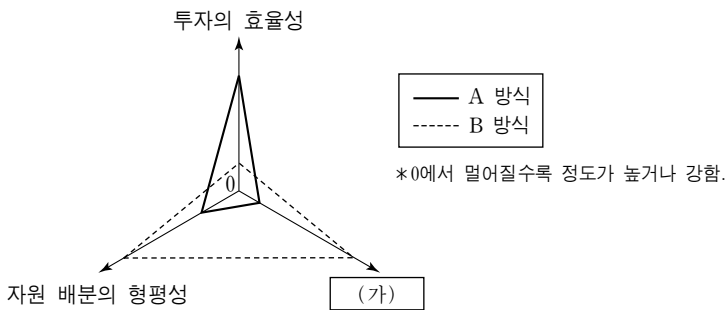
② (가)는 사회 갈등 세력을 기존 질서에 편입시켜 사회 안정을 이룰 수 있다고 본다.

③ (나)는 사회 구성 요소들 간의 대립으로 인한 사회 문제를 간과한다.

④ (나)는 사회 변동을 균형으로 돌아가기 위한 일시적인 과정으로 이해한다.

⑤ (가)는 사회 변동을 사회 발전의 원동력으로, (나)는 사회 문제의 원인으로 이해한다.

13. 그림은 균형 개발 방식과 거점 개발 방식을 일반적인 특징에 따라 구분한 것이다. 이에 대한 설명으로 가장 적절한 것은?



- ① (가)에는 ‘의사 결정의 신속성’이 들어갈 수 있다.

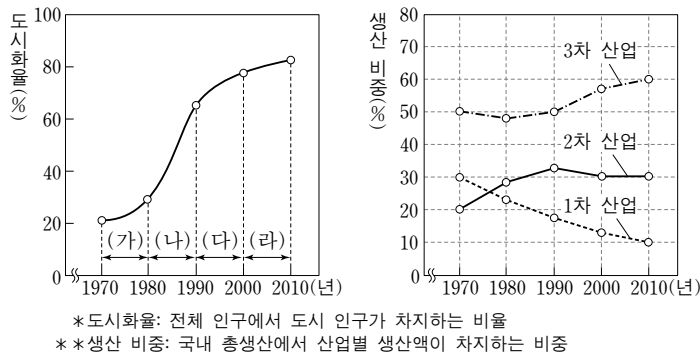
② A 방식은 개발 주변 지역으로의 파급 효과를 기대한다.

③ 자본이 부족한 나라일수록 B 방식을 선호할 가능성이 크다.

④ A 방식은 B 방식보다 지역 간 격차를 줄이는 효과가 크다.

⑤ B 방식은 A 방식보다 집적 이익을 실현하기에 유리하다.

14. 그림은 갑국의 도시화율과 산업 구조의 변화를 나타낸 것이다. 이에 대한 분석으로 옳은 것은?



- ① (가) 기간 동안 1차 산업과 2차 산업 간 생산 비중 격차는 꾸준히 줄어들었다.

② (라) 기간 동안 2차 산업의 생산액은 변동이 없다.

③ (나)~(다) 기간의 도시 인구 증가율은 지속적으로 높아졌다.

④ (가)~(라) 기간 동안 2차·3차 산업 생산 비중 합계의 추이는 도시화율의 추이와 정(+)의 관계이다.

⑤ (가)~(라) 기간 중 도시 인구가 농촌 인구를 초과하는 시점은 2차 산업의 생산 비중이 감소하는 시점과 일치한다.

15. 개인과 사회의 관계를 바라보는 (가), (나) 관점에 대한 설명으로 가장 적절한 것은? [3점]

(가) 사회 과학자들은 사회가 무슨 거창한 존재인 것처럼 말하기를 좋아한다. 하지만 개인에게 무엇을 강요하는 것은 사회가 아니라 또 다른 개인일 뿐이다. 결국 사회적 삶은 개인과 개인 간의 상호 작용으로 환원될 수 있다.

(나) 사회학은 사회적 사실과 그것들로 구성된 사회 제도의 발생과 기능을 연구하는 학문이다. 사회적 사실은 개인의 의식이나 사고, 감정 등과 는 별개로, 그 자체가 독립적으로 존재하면서 개인에게 영향력을 행사한다.

- ① (가)는 사회가 개인의 집합이라는 점을 강조한다.

② (가)는 사회 구조에 대한 개인의 불가항력성을 인정한다.

③ (나)는 극단적 개인주의에 빠질 가능성이 있다.

④ (나)는 개인의 주체적·능동적 측면을 중시한다.

⑤ (가)는 개인보다 사회를, (나)는 사회보다 개인을 중시한다.

16. 다음 자료를 통해 추론할 수 있는 A, B 회사의 특징으로 가장 적절한 것은?

<A 회사 업무 처리 지침>	<B 회사 업무 처리 지침>
<ul style="list-style-type: none">○ 규칙에 지나치게 얽매이지 말고 결재 단계를 간소화할 것○ 긴급한 사안에 대해서는 우선 자율적으로 처리하고 사후 보고할 것	<ul style="list-style-type: none">○ 문서로 된 규약과 절차를 반드시 준수할 것○ 직무와 관련된 모든 내용은 상부에 보고하여 임원의 지시에 따라 처리할 것

- ① A 회사에는 위계 서열이 존재하지 않는다.

② B 회사는 상향식 의사 결정 방식을 강조한다.

③ A 회사는 B 회사에 비해 업무의 일관성을 유지하기에 유리하다.

④ B 회사는 A 회사에 비해 환경 변화에 유연하게 대응하기 어렵다.

⑤ A 회사는 1차적 관계가, B 회사는 2차적 관계가 지배적이다.

17. (가), (나)는 정보 사회에서 나타나는 문제점을 해결하기 위한 노력이다. 이에 대한 옳은 설명을 <보기>에서 고른 것은?

(가) 방송통신위원회는 인터넷 상의 ‘비밀번호 변경’, ‘휴면 계정 정리’ 및 ‘아이핀(i-PIN) 전환’을 주요 내용으로 하는 캠페인을 실시하고 있다.

(나) 정부는 정보 취약 계층과 취약 지역을 파악하여 정보 인프라를 우선적으로 구축할 수 있도록 다양한 재정적 지원 제도를 마련하고 있다.

*휴면 계정: 일정 기간 동안 사이트를 이용하지 않아 로그인이 제한된 ID

**아이핀: 인터넷 상에서 주민등록번호 대신 사용할 수 있는 신원 번호

— < 보 기 > —

- ㄱ. (가)는 네티즌들의 정보 공유를 촉진하기 위한 것이다.

ㄴ. (나)는 정보 활용 능력보다 정보 접근성을 높이는 데 초점을 두고 있다.

ㄷ. (가)는 사이버 범죄 예방에, (나)는 정보 이용자 저변 확대에 도움이 된다.

ㄹ. (가)와 (나) 모두 개인 정보 보호에 주안점을 두고 있다.

- ① ㄱ, ㄴ ② ㄱ, ㄷ ③ ㄴ, ㄷ ④ ㄴ, ㄹ ⑤ ㄷ, ㄹ

18. 다음 대화에서 나타나는 사회 보장 제도 A~C의 일반적인 특징에 대한 옳은 설명을 <보기>에서 고른 것은? (단, A~C는 사회 보험, 공공 부조, 사회 복지 서비스 중 하나이다.) [3점]

사회 보장 제도에는 어떤 종류가 있나요?

물질적·금전적 지원 방식인 A, B 제도와 비금전적 지원 방식인 C 제도가 있습니다.

그럼, A, B 제도의 차이는 무엇인가요?

A 제도가 주로 사회적 약자들을 위한 것이라면, B 제도는 미래의 위험에 대비하기 위한 사회적 안전망 역할을 합니다.

— < 보 기 > —

- ㄱ. A 제도는 상호 부조의 성격을 띠며, 생산적 복지 정책에 활용된다.

ㄴ. B 제도의 가입자는 수혜 정도에 비례하여 차등적으로 비용을 부담한다.

ㄷ. C 제도의 사례로는 상담, 재활, 사회 복지 시설 이용 등의 도움을 제공하는 것을 들 수 있다.

ㄹ. B 제도는 A 제도와 달리 강제 가입을 원칙으로 한다.

- ① ㄱ, ㄴ ② ㄱ, ㄷ ③ ㄴ, ㄷ ④ ㄴ, ㄹ ⑤ ㄷ, ㄹ

19. 밑줄 친 ㉠~㉢에 대한 옳은 설명만을 <보기>에서 있는 대로 고른 것은?

내일이면 수능이다. 종례 시간에 ㉠ 수험생 유의 사항을 알려 주며 격려해 주시는 ㉡ 담임 선생님의 말씀에 그냥 눈물이 났다.

㉢ 친구들과 함께 고사장 확인까지 하니 정말 실감이 났다. 집에 오자마자 ㉣ 신분증과 수험표를 가방에 넣어 두었다.

힘내라는 후배들의 문자, ㉤ 막내 동생의 응원 선물, ㉥ 엄마는 말없이 안아 주셨다. …(중략)… 지금은 밤 11시, 잠이 오지 않는다.

㉦ 오답 노트를 정리할까, 교과서를 한번 더 볼까? 고민이다.

아무튼 모두의 기대를 안고 최선을 다해 시험을 치르리라! 전국의 모든 ㉧ 수험생이여~ 힘내자!

2011. 11. 9.

— < 보 기 > —

- ㄱ. ㉠은 예기 사회화, ㉢은 사회 집단이다.

ㄴ. ㉡과 ㉤은 성취 지위, ㉥은 귀속 지위이다.

ㄷ. ㉣과 ㉦은 역할 행동이다.

ㄹ. ㉤은 역할, ㉥은 역할 갈등이다.

- ① ㄱ, ㄴ ② ㄱ, ㄷ ③ ㄴ, ㄷ

④ ㄱ, ㄷ, ㄹ ⑤ ㄴ, ㄷ, ㄹ

20. 다음 자료를 토대로 A~C 사회의 자녀 세대에 대한 옳은 분석만을 <보기>에서 있는 대로 고른 것은? [3점]

A~C 사회에서는 세대 간 계층 이동을 통해 자녀 세대에서 (가), (나)와 같은 결과가 나타났다. (가)는 A~C 사회의 자녀 세대 계층별 구성원 비율을, (나)는 (가)에 나타난 각 계층 구성원 중 다른 계층에서 새롭게 유입된 구성원이 차지하는 비율을 나타낸 것이다. (단, A~C 사회의 자녀 세대 구성원 수는 동일하며, 계층은 상층, 중층, 하층으로 구분한다.)

(가)

(나)

구분	A	B	C
상층	15	15	20
중층	25	10	20
하층	35	20	30

(단위: %)

— < 보 기 > —

- ㄱ. B 사회에서는 세대 간 하강 이동한 사람이 세대 간 상승 이동한 사람보다 많다.

ㄴ. 세대 간 계층 이동은 C 사회에서 가장 많이 발생하였다.

ㄷ. 계층 구조로 보면 C 사회가 A 사회보다 안정된 형태를 띠고 있다.

ㄹ. A~C 사회 모두 세대 간 계층 이동으로 새롭게 유입된 사람은 하층에 가장 많다.

- ① ㄱ, ㄴ ② ㄱ, ㄷ ③ ㄴ, ㄷ

④ ㄱ, ㄷ, ㄹ ⑤ ㄴ, ㄷ, ㄹ

* 확인 사항

○ 답안지의 해당란에 필요한 내용을 정확히 기입(표기)했는지 확인 하시오.