

제 4 교시

사회탐구 영역(사회·문화)

성명

수험 번호

1. 밑줄 친 ㉠~㉤와 같은 현상의 일반적인 특징에 대한 옳은 설명을 <보기>에서 고른 것은?

㉠ 나무에 붙어 있는 수많은 반딧불이가 어떻게 동시에 깜빡일까? 매미나 개구리는 지휘자가 없는데도 어떻게 아름다운 합창을 할 수 있을까? 생명체들의 이러한 현상을 ‘동기화’라고 한다. ○○대학 △△△교수팀은 ㉡ 생명체의 다양한 진동 신호들이 ㉢ 동기화되는 원리를 규명했다고 밝혔다. △△△ 교수팀은 컴퓨터 속에 가상 세포를 만들고 이를 이용한 시뮬레이션 실험으로 이번 결과를 얻었다. 이 연구는 세포 생물학 분야 ㉣ 학술지에 발표됐다.

- < 보 기 >—
- ㄱ. ㉠와 같은 현상은 물가치적, ㉡와 같은 현상은 가치 함축적이다.
 - ㄴ. ㉢와 같은 현상은 ㉠와 같은 현상에 비해 인과 관계가 분명하다.
 - ㄷ. ㉢와 같은 현상은 ㉡와 같은 현상과 달리 상위 법칙의 지배를 받는다.
 - ㄹ. ㉣와 같은 현상은 ㉠와 같은 현상과 달리 해석적 연구 방법을 적용하기에 용이하다.

- ① ㄱ, ㄴ ② ㄱ, ㄷ ③ ㄴ, ㄷ ④ ㄴ, ㄹ ⑤ ㄷ, ㄹ

2. 그림에서 사회 불평등 현상을 바라보는 갑, 을의 관점에 대한 옳은 설명을 <보기>에서 고른 것은?



- < 보 기 >—
- ㄱ. 갑은 차등적인 보상 체계가 개인의 성취 동기를 자극한다고 본다.
 - ㄴ. 을은 개인의 귀속적 요인이 불평등에 미치는 영향이 작다고 본다.
 - ㄷ. 갑은 사회 불평등 현상을 불가피한 것으로 보는 반면, 을은 극복해야 할 대상으로 본다.
 - ㄹ. 갑은 사회 불평등 현상을 제도적 차원에서, 을은 개인적 차원에서 해결해야 하는 것으로 본다.

- ① ㄱ, ㄴ ② ㄱ, ㄷ ③ ㄴ, ㄷ ④ ㄴ, ㄹ ⑤ ㄷ, ㄹ

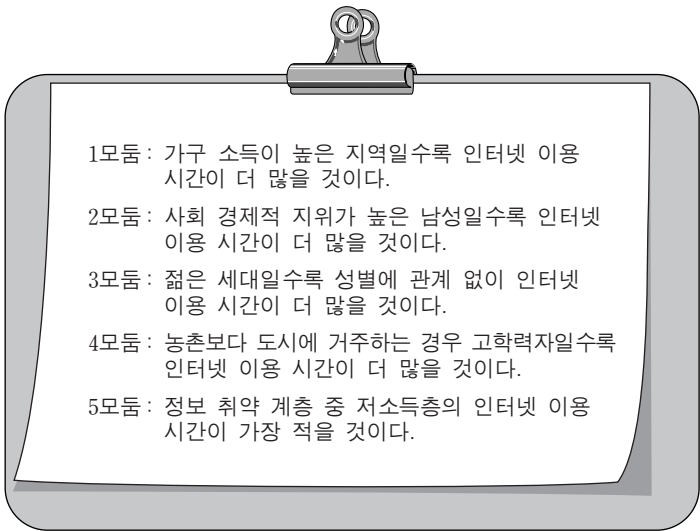
3. 다음 글에 나타난 사회·문화 현상을 보는 관점에 대한 옳은 설명을 <보기>에서 고른 것은?

생활 세계는 사람들이 그들의 정신 생활에 스며들고 있다. 고 여기는 하나의 당연시되는 세계이며, 사람들이 외부의 저기 어딘가에 존재한다고 느끼는 세계이다. …(중략)… 대부분의 사람들이 각자가 느끼는 주관에도 불구하고 타인과의 원활한 소통이 가능한 이유는, 서로 간에 동일한 생활 세계를 공유한다고 지각하여 마치 공통의 경험 세계와 감각 세계에 살고 있는 듯이 행동하기 때문이다. 이처럼 사람들이 서로를 의식하고 공통 상황에 의미를 둘 때 사회적 행위가 발생한다.

- < 보 기 >—
- ㄱ. 사람들이 행위를 해석하고 정의하는 과정에 초점을 맞춘다.
 - ㄴ. 개인은 각자의 주관에 따라 다양한 사회상을 만들어 낸다고 본다.
 - ㄷ. 사회 구성원은 사회의 안정과 조화에 필요한 역할을 수행해야 한다고 본다.
 - ㄹ. 개인의 행위에 대한 의미를 이해하기 위해서는 사회 구조에 대한 이해가 전제되어야 한다고 본다.

- ① ㄱ, ㄴ ② ㄱ, ㄷ ③ ㄴ, ㄷ ④ ㄴ, ㄹ ⑤ ㄷ, ㄹ

4. 다음은 정보 격차 요인을 탐구하기 위해 모둠별로 만든 가설이다. 가설을 검증하기에 가장 적절한 자료를 수집한 모둠은? [3점]



- ① 1모둠: 가구 소득이 높은 지역의 인터넷 이용 시간
- ② 2모둠: 직업 및 소득별 인터넷 이용 시간
- ③ 3모둠: 연령 및 성별 인터넷 이용 시간
- ④ 4모둠: 도시와 농촌의 고학력자 인터넷 이용 시간
- ⑤ 5모둠: 저소득층과 노인층의 인터넷 이용 시간

5. 표는 문화를 이해하는 태도를 구분한 것이다. (가)~(다)에 들어가기에 적절한 내용을 <보기>에서 고른 것은? [3점]

질문 \ 태도	문화 상대주의	문화 상대주의	자문화 중심주의
(가)	예	아니요	예
(나)	예	아니요	아니요
(다)	아니요	아니요	예

— < 보 기 > —

- ㄱ. 자기 문화의 주체성이 약화되는가?
 ㄴ. 절대적 기준에 비추어 문화를 평가하는가?
 ㄷ. 국수주의적 태도로 인해 문화 다양성을 거부하는가?

- | | | | | | |
|-----|-----|-----|-----|-----|-----|
| (가) | (나) | (다) | (가) | (나) | (다) |
| ① ㄱ | ㄴ | ㄷ | ② ㄴ | ㄱ | ㄷ |
| ③ ㄴ | ㄷ | ㄱ | ④ ㄷ | ㄱ | ㄴ |
| ⑤ ㄷ | ㄴ | ㄱ | | | |

6. 밑줄 친 ㉠~㉣에 대한 설명으로 옳지 않은 것은? [3점]

- 만화가를 꿈꾸던 ㉠A중학교의 학생 갑과 을은 탁월한 그림 솜씨로 칭찬을 받았다. 갑은 B애니메이션고등학교로 진학하기 위해 ㉡가족과 함께 이사를 가면서 을과 헤어졌다. 이후 갑은 유명 만화가가 되었고, 만화가가 되지 못하고 회사원이 된 을은 갑과 같은 학교로 ㉢진학하지 않은 것을 후회했다.
 ○ 병은 C회사를 목표로 취업 준비를 했으나, 불합격하여 ㉣D회사에 취직했다. 신입 사원 때는 회사 내 ㉤자원 봉사 모임 활동을 하며 적응하려고 노력했지만, 승진도 안 되고 연봉도 늘지 않자 C회사에 가지 못한 ㉥자신을 책망했다.

- ① ㉠은 이익 사회이면서 2차적 사회화 기관이다.
 ② ㉡은 1차 집단으로서 갑의 내집단이다.
 ③ ㉢과 ㉣은 소속 집단과 준거 집단의 불일치로 인한 결과이다.
 ④ ㉣은 공식 조직이면서 비공식적 사회화 기관이다.
 ⑤ ㉥은 자연 발생적 의지로 결합된 집단이면서 비공식 조직이다.

7. 밑줄 친 ㉠~㉣에 대한 옳은 설명만을 <보기>에서 있는 대로 고른 것은?

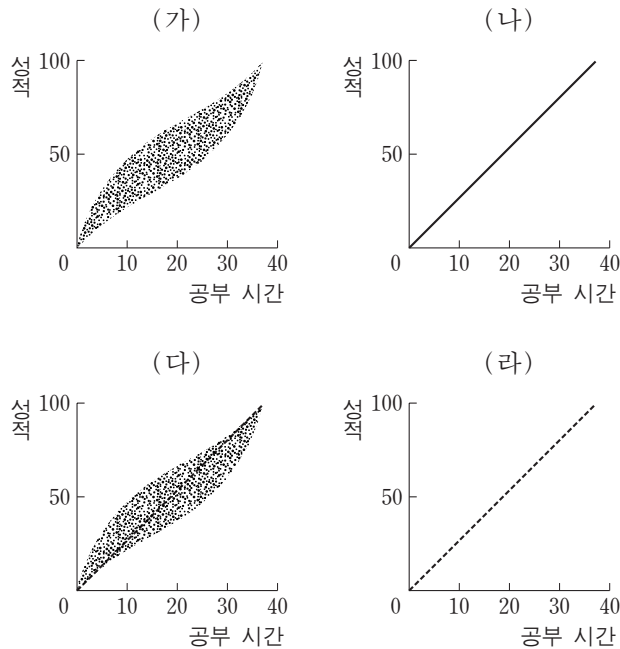
갑은 의로운 아버지와 씩씩한 어머니의 ㉠외아들로 태어났다. 집안은 가난했지만 늘 배움에 힘썼고, 20대에는 ㉡의병으로 활동하였다. 3·1운동이 일어나자 ㉢고민 끝에 민족의 독립 없이는 자신이 존재할 수 없음을 깨닫고, 독립 운동가로서 ㉣대한민국 임시 정부에 참여하였다. 그 후 독립을 준비하기 위해 군대를 조직하여 ㉤군인들을 양성하였다.

— < 보 기 > —

- ㄱ. ㉠은 귀속 지위이고, ㉡는 성취 지위이다.
 ㄴ. ㉢는 ㉠과 ㉡로 인해 나타난 갑의 역할 갈등이다.
 ㄷ. ㉣는 갑의 역할 수행이다.
 ㄹ. ㉤는 갑이 경험한 재사회화 과정이다.

- ① ㄱ, ㄷ ② ㄴ, ㄹ ③ ㄷ, ㄹ
 ④ ㄱ, ㄴ, ㄷ ⑤ ㄱ, ㄴ, ㄹ

8. (가)~(라)는 사회·문화 현상의 탐구 과정 중 일부를 나타낸 것이다. 이에 대한 설명으로 옳은 것은? [3점]



- ① 탐구 가설은 “공부 시간 집중도가 높을수록 성적이 높을 것이다”이다.
 ② (다) 단계에서 관련 이론에 대한 문헌 연구가 주로 이루어진다.
 ③ (가)와 (다) 단계 사이에 조작적 정의가 이루어진다.
 ④ (다)와 (라)는 가치 개입이 필요한 단계이다.
 ⑤ 실증적 탐구 과정은 (라) → (가) → (다) → (나)의 순서로 이루어진다.

9. 사회 문제를 보는 (가), (나)의 관점에 대한 설명으로 옳은 것은? [3점]

(가) 현대 사회에서는 스톡킹, 정신적 학대 등과 같은 새로운 형태의 사회 문제들이 출현하고 있다. 이는 과거에는 전혀 문제시되지 않았으나, 언론이나 시민 단체 등에서 새롭게 주목함으로써 사회 문제로 만들어진 결과이다. 이로 인해 중세의 마녀 사냥처럼 멸절한 사람들이 피해자가 되기도 한다.
 (나) A국은 부자가 되어야 한다는 문화적 목표를 지나치게 강조하는 사회이다. 그러나 가난한 사람들이 부자가 되기 위해 사용할 수 있는 제도화된 수단은 제한되어 있다. 이로 인해 그들 중 일부는 비합법적인 수단을 선택하게 된다.

- ① (가)는 사회 통제의 약화가 사회 문제의 원인이라고 본다.
 ② (나)는 지배 집단의 이익 보호를 위한 사회 제도가 사회 문제의 원인이라고 본다.
 ③ (가), (나)는 모두 사회 문제를 규정하는 객관적 기준이 없다고 본다.
 ④ (가)는 미시적 관점에서, (나)는 거시적 관점에서 사회 문제를 본다.
 ⑤ (가)는 재사회화, (나)는 개인의 자아 정체감 확립을 통해 사회 문제를 해결할 수 있다고 본다.

10. 표는 갑국의 고령자 가구 유형별 구성비 변화를 나타낸 것이다. 이에 대한 분석으로 옳은 것은? (단, 전체 고령자 가구 수는 지속적으로 증가하고 있다.) [3점]

(단위: %)

가구 유형 \ 연도	2005년	2010년
부부 가구	28.5	32.7
2세대 가구	23.7	24.6
3세대 이상 가구	30.1	23.2
1인 가구	16.1	17.9
기타 가구*	1.6	1.6
계	100.0	100.0

*기타 가구: 형제 가구, 기타 친족 가구, 비친족 가구

- ① 2세대 이상의 고령자 가구 비율이 증가하였다.
- ② 1세대 핵가족 형태의 고령자 가구 수가 감소하였다.
- ③ 2005년과 2010년 모두 혼자 사는 고령자는 부부가 함께 사는 고령자보다 많다.
- ④ 2005년 대비 2010년 혼자 사는 고령자 가구의 증가율이 전체 고령자 가구의 증가율보다 크다.
- ⑤ 2005년 대비 2010년 핵가족과 확대 가족이 아닌 형태로 거주하는 고령자 가구 비율은 변화가 없다.

11. 표는 농업 사회, 산업 사회, 정보 사회를 구분한 것이다. (가)~(다)의 일반적인 특성에 대한 설명으로 옳은 것은?

기준 \ 사회	(가)	(나)	(다)
가정과 일터의 결합 정도	+	++	+++
사회의 다원화 정도	++	+++	+
사회 조직의 관료제화 정도	+++	++	+

*+의 개수가 많을수록 강함 내지 높음을 나타냄.

- ① (가)에서는 (나)보다 양방향 의사 소통 구조가 중시된다.
- ② (가)에서는 (다)보다 산업 구조가 고도화된다.
- ③ (나)에서는 (다)보다 면대면 접촉 가능성이 높다.
- ④ (다)에서는 (가)보다 합리주의적 생활 양식이 강조된다.
- ⑤ (다)에서는 (나)보다 사회 변화의 속도가 빠르다.

12. 다음에 제시된 지역 개발의 두 가지 방식 A, B의 일반적인 특성에 비추어 ㉠, ㉡에 들어갈 내용으로 옳은 것은?

○ A는 성장 잠재력 및 발전 가능성이 큰 지역을 선정하여, 이를 집중 개발함으로써 개발 효과를 주변 지역으로 파급시키고자 하는 개발 방식이다.

○ B는 낙후 지역에 우선적으로 투자하여 주민의 기본 수요를 충족시켜 주고 다른 지역과의 격차를 줄여 전국적으로 고른 발전을 추구하는 개발 방식이다.

(높음) ↑
↓ (낮음)

(낮음) ← ㉠ → (높음)

(A) (B)

- ㉠

 - ① 개발의 형평성
 - ② 개발의 형평성
 - ③ 개발의 효율성
 - ④ 역차별 논란 정도
 - ⑤ 불균형 성장 가능성
- ㉡

 - 개발의 효율성
 - 역차별 논란 정도
 - 상향식 의사 결정 정도
 - 균형 성장 가능성
 - 하향식 의사 결정 정도

13. 다음 자료는 15세 이상의 국민을 대상으로 인터넷 이용 실태를 조사하기 위해 만든 질문지의 일부이다. 이에 대한 평가로 옳지 않은 것은? [3점]

1. 귀하의 연령은? ()

① 20세 이하 ② 20세~29세 ③ 30세~39세 ④ 40세~50세

2. 귀하의 인터넷 게임 이용 시간은? ()

① 1시간 이하 ② 1시간 이상~3시간 미만
③ 3시간 이상~5시간 미만 ④ 5시간 이상

3. 최근 청소년의 게임 중독이 심각한 사회 문제가 되고 있습니다. '밤 12시 이후에 청소년의 게임 접속을 제한하는 법안'에 대한 귀하의 의견은? ()

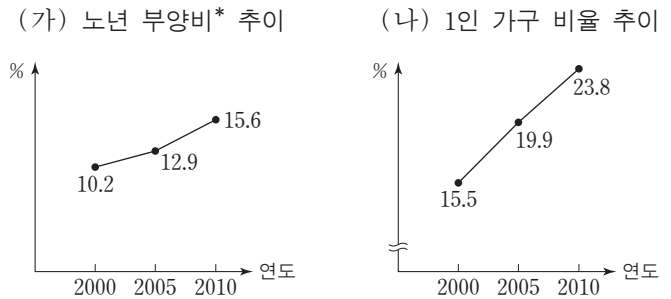
① 찬성한다 ② 반대한다

4. '저소득층의 인터넷 이용을 위한 통신비 지원 제도'에 대한 귀하의 의견은? ()

① 찬성한다 ② 반대한다

- ① 특정 응답을 유도하는 문항이 있다.
- ② 선택지가 포괄적이지 않은 문항이 있다.
- ③ 선택지가 상호 배타적이지 않은 문항이 있다.
- ④ 두 가지 내용을 동시에 묻고 있는 문항이 있다.
- ⑤ 묻는 것이 명료하지 않아 응답에 혼란을 주는 문항이 있다.

14. (가), (나) 현상에 영향을 미치는 각각의 요인으로 가장 적절한 것은?



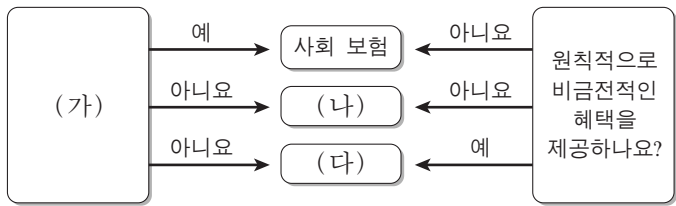
*노년 부양비=(65세 이상 인구/15~64세 인구)×100

- (가)

 - ① 정년 단축
 - ② 출산율 감소
 - ③ 평균 수명 상승
 - ④ 노인 인구 증가
 - ⑤ 재취업 노인 증가
- (나)

 - 이혼율 증가
 - 국제 결혼 증가
 - 초혼 연령 상승
 - 귀농 인구 증가
 - 핵가족 증가

15. 그림은 우리나라 사회 보장 제도의 세 가지 유형을 구분한 것이다. (가)~(다)에 대한 설명으로 옳지 않은 것은? [3점]



- ① (가)에는 “강제 가입의 원칙이 적용되나요?”가 들어갈 수 있다.
- ② (나)의 사례에는 의료 급여 제도가 해당된다.
- ③ (나)는 사회 보험보다 혜택을 받는 대상자의 폭이 좁다.
- ④ (다)는 상담, 재활, 사회 복지 시설 이용 등의 도움을 제공한다.
- ⑤ (나)와 (다)에 소요되는 모든 비용은 국가가 부담한다.

16. (가), (나)는 관료제에서 나타날 수 있는 현상이다. 이에 대한 옳은 설명을 <보기>에서 고른 것은?

(가) 조직 운영에서 근무 기간을 중시하여 직원을 승진시키기 때문에 무능한 사람이 능력 이상의 자리를 차지하게 된다.
(나) 형식과 절차만을 중시하여 서류를 복잡하게 갖추도록 하기 때문에 본연의 임무 처리가 지연되는 현상이 나타난다.

—<보 기>—

- ㄱ. (가), (나) 모두 관료제가 추구하는 효율성을 저해하는 역기능에 해당된다.
ㄴ. (가)는 연공 서열제, (나)는 목적 전치 현상과 관련된다.
ㄷ. (가)는 지위 획득에서의 경쟁 원리 강화, (나)는 조직의 안정성 추구가 일차적 원인이다.
ㄹ. (가)는 성과급 제도의 실시, (나)는 회사 내 비공식 조직의 활성화를 통해 해결할 수 있다.

- ① ㄱ, ㄴ ② ㄱ, ㄷ ③ ㄴ, ㄷ ④ ㄴ, ㄹ ⑤ ㄷ, ㄹ

17. 밑줄 친 ㉠~㉤에 대한 설명으로 옳지 않은 것은? [3점]

중국에서 시작된 ㉠ 국수는 고려 때 유학 간 승려들에 의해 우리나라에 들어왔다는 설이 유력하다. 이후 ㉡ 국수는 우리 식문화에 빠르게 정착해서 ㉢ 전국 팔도에 국수 문화가 없는 지역이 없을 정도이다. 각 지역에서 나는 재료와 특색 있는 조리법이 결합되어 다양한 국수가 만들어졌다. 북쪽 지방에서는 메밀과 전분을, 남쪽 지방에선 밀가루와 옥수수 등을 사용한 국수 요리를 즐겼다. ㉣ 충청 지방에서는 생선 국수를, 경북 안동이나 전북 익산 같은 내륙 지방에서는 콩이나 팥으로 국수를 만들어 먹었다. ㉤ 모양도 맛도 천차만별, 지역별로 국수가 만들어지고 유명해진 사연도 제각각이다.

- ① ㉠은 물질 문화의 직접 전파이다.
② ㉡은 단기간에 변동이 일어나는 문화 개혁이다.
③ ㉢은 자발적 문화 접변의 결과이다.
④ ㉣은 문화 융합의 사례이다.
⑤ ㉤은 문화의 보편성과 특수성이 공존함을 보여준다.

18. 다음 글에 나타난 개인과 사회의 관계를 바라보는 관점에 대한 옳은 설명을 <보기>에서 고른 것은?

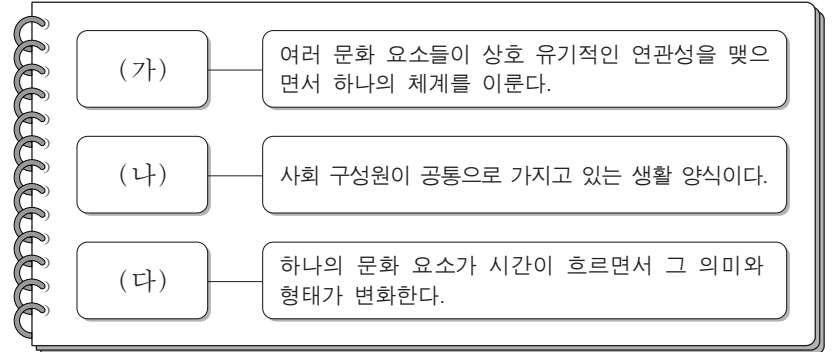
사회학의 중요한 관심은 사회적 사실을 연구하는 것이어야 한다. 이때 사회적 사실은 경제 상황이나 종교 규범과 같이 개별적인 인간 행위를 구속하는 사회적 측면들이다.

—<보 기>—

- ㄱ. 사회를 개인들 간의 계약의 산물로 간주한다.
ㄴ. 사회가 개인의 행동을 제약한다는 점을 강조한다.
ㄷ. 사회 규범은 개인들이 그것을 옳다고 믿기에 존재한다고 본다.
ㄹ. 사회 현상의 분석 단위로서 개인의 의식, 심리 상태 등을 간과한다.

- ① ㄱ, ㄴ ② ㄱ, ㄷ ③ ㄴ, ㄷ ④ ㄴ, ㄹ ⑤ ㄷ, ㄹ

19. (가)~(다)에 해당하는 문화의 속성에 대한 옳은 진술만을 <보기>에서 있는 대로 고른 것은?

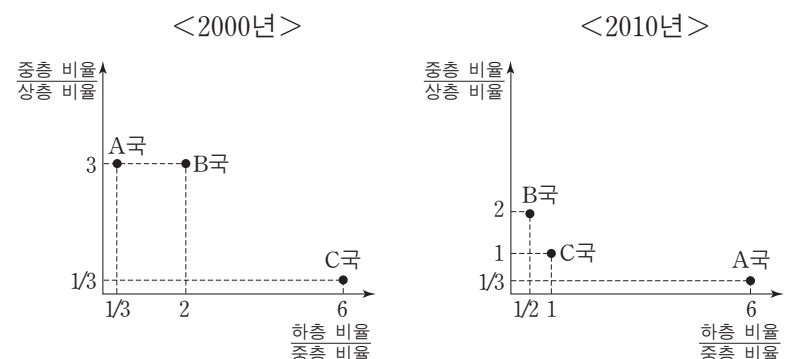


—<보 기>—

- ㄱ. (가)는 서로 다른 문화 체계를 구분하는 기준이 된다.
ㄴ. (나)는 사회 구성원 간에 원활한 상호 작용의 토대가 된다.
ㄷ. (다)의 사례에는 2월에 꽃다발을 들고 다니는 사람들을 보면서 졸업식을 떠올리는 현상이 해당된다.
ㄹ. 스마트폰의 확산으로 인해 나타난 대학생들의 일상 생활 변화는 (가), (다) 모두에 해당되는 사례이다.

- ① ㄱ, ㄷ ② ㄱ, ㄹ ③ ㄴ, ㄹ
④ ㄱ, ㄴ, ㄷ ⑤ ㄴ, ㄷ, ㄹ

20. 그래프는 A~C국의 2000년과 2010년의 계층 간 상대적 비율을 나타낸 것이다. 이에 대한 설명으로 옳은 것은? (단, 2000년과 2010년 A~C국의 구성원은 변함이 없다고 가정한다.) [3점]



- ① 2000년 상층의 구성 비율은 B국이 가장 높다.
② 2010년 A국의 계층 구조는 피라미드형 구조이다.
③ 2010년 C국은 폐쇄적 계층 구조로 변화했다.
④ 2000년에 비해 2010년 A국에서는 양극화 현상이 완화되었다.
⑤ 2000년 대비 2010년 사회 이동의 결과를 보면, B국에서는 하강 이동보다 상승 이동이 더 많다.

* 확인 사항

- 답안지의 해당란에 필요한 내용을 정확히 기입(표기)했는지 확인 하시오.