

제 4 교시

사회탐구 영역(사회·문화)

성명

수험번호

3

1

1. 밑줄 친 ㉠ ~ ㉣과 같은 현상에 대한 설명으로 옳은 것은?

새해 첫날 ㉠하늘이 맑아 전국 어디에서나 해맞이가 가능했다. ㉡오전 7시 26분 독도의 해돋이를 시작으로 서울에서는 7시 46분에 일출을 볼 수 있었다. 한편 해맞이 여행을 하려는 사람들을 겨냥해 ○○ 여행사는 ㉢울릉도, 독도 해상에서 신년 첫 일출을 맞는 여행 상품을 출시했다.

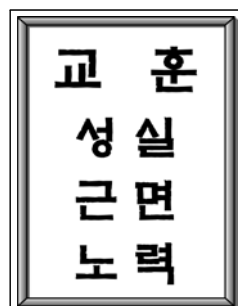
- ① ㉠과 같은 현상에는 인간의 가치가 개입되지 않는다.
- ② ㉡과 같은 현상은 개연성을 띤다.
- ③ ㉠과 달리 ㉡과 같은 현상은 확률의 원리에 의해 설명된다.
- ④ ㉡과 달리 ㉢과 같은 현상은 존재 법칙이 적용된다.
- ⑤ ㉡보다 ㉢과 같은 현상에서 인과 관계의 발견이 용이하다.

2. 밑줄 친 ㉠ ~ ㉣에 대한 설명으로 옳은 것은?

갑은 다니고 있는 ㉠회사에서 받는 ㉡연봉에 불만이 많아 ㉢이직을 고려 중이다. 매출액에 대한 기여도가 낮다는 이유로 ㉣후배 사원보다 연봉이 적기 때문이다. 그래서 갑은 ㉤임금을 결정할 때 경력을 가장 중시하는 회사를 물색하고 있다.

- ① ㉠은 구성원 간 전인격적 관계가 중심이 되는 사회 집단이다.
- ② ㉡은 갑의 역할에 대한 보상이다.
- ③ ㉢은 갑의 역할 갈등에 해당한다.
- ④ ㉣은 성취 지위에 해당한다.
- ⑤ ㉤은 보상 방식 측면에서 탈관료제의 특성이 강하다.

3. 자료에서 사회·문화 현상을 보는 갑, 을의 관점에 대한 설명으로 옳은 것은? [3점]



갑: 교훈에는 전체 사회의 가치가 반영되어 있으므로 모두가 이를 따르도록 노력해야 합니다.
을: 교훈은 지배 집단이 기존 사회 질서와 가치를 학생들에게 강요하기 위한 수단에 불과합니다.

- ① 갑은 개인의 능동성과 자율성을 강조한다.
- ② 을은 사회를 유기체로 간주한다.
- ③ 갑은 을과 달리 사회 변동보다 안정을 중시한다.
- ④ 을은 갑과 달리 사회 문제를 병리적인 현상으로 간주한다.
- ⑤ 갑과 을은 모두 개인에 대한 사회 구조의 영향력을 경시한다.

4. 표는 자료 수집 방법 A ~ C의 특징을 비교한 것이다. 이에 대한 설명으로 옳은 것은? (단, A ~ C는 각각 질문지법, 면접법, 참여 관찰법 중 하나이다.) [3점]

질문	자료 수집 방법		
	A	B	C
주로 언어적인 수단에 의존하는가?	예	예	아니요
주로 질적 자료를 수집하기 위해 활용되는가?	아니요	예	예
자료 분석 또는 해석 과정에서 연구자의 주관의 개입될 가능성이 높은가?	아니요	(가)	(나)

- ① A에서는 조사 대상자와의 정서적 교감이 중시된다.
- ② C는 비구조화·비표준화된 방법에 해당한다.
- ③ A보다 B가 시간과 비용 측면에서 효율적이다.
- ④ C보다 B가 실제성 있는 자료를 수집하기에 용이하다.
- ⑤ (가)는 '아니요', (나)는 '예'이다.

5. 그림에서 근대화를 이해하는 갑, 을의 관점에 대한 설명으로 옳은 것은?

후진국이 발전하기 위해서는 선진국들의 근대화 과정을 따를 필요가 있어.

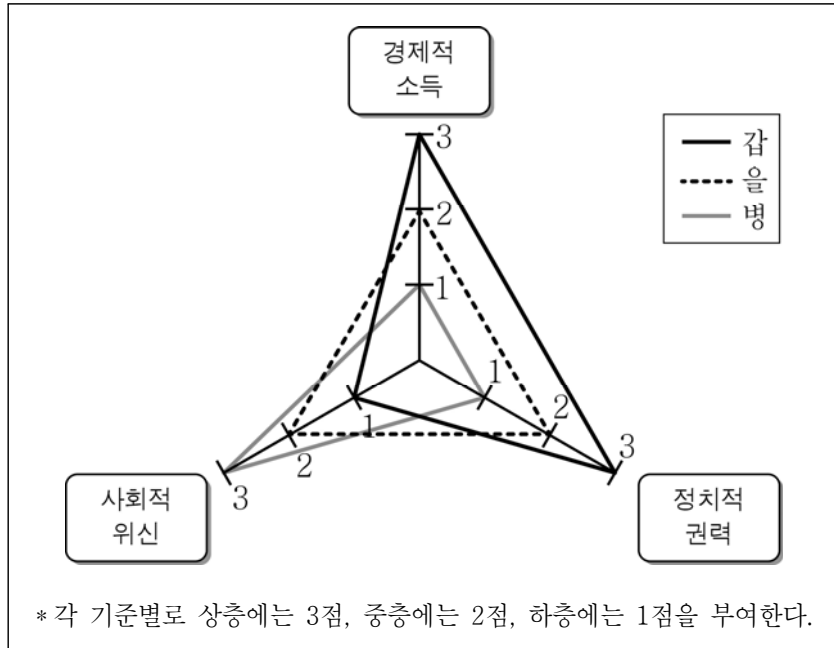
아니야. 강대국과 저발전 국가 간의 종속 관계가 해소되어야 해.

갑

을

- ① 갑은 세계가 중심부와 주변부로 구성되어 있다고 본다.
- ② 갑은 외부 요인에 의해 후진국이 저발전 상태에 처해 있다고 본다.
- ③ 을은 후진국의 침체 원인을 해당 국가의 내부 상황에서 찾으려 한다.
- ④ 을은 낙후된 국가가 서구 국가들의 착취로부터 벗어나 독자적인 발전 방안을 추구해야 한다고 본다.
- ⑤ 갑은 진화론, 을은 순환론을 바탕으로 한 관점을 지니고 있다.

6. 그림은 세 가지 차원에서 갑 ~ 병의 계층적 지위를 점수로 나타낸 것이다. 이에 대한 분석으로 옳은 것은? [3점]



- ① 종합 점수를 기준으로 할 때 계층이 가장 높은 사람은 을이다.
 ② 병은 사회적 위신 점수보다 경제적 소득 점수가 높다.
 ③ 갑 ~ 병 모두 지위 불일치 상태에 있다.
 ④ 계급 이론을 바탕으로 갑 ~ 병의 계층을 파악하고자 하였다.
 ⑤ 갑 ~ 병의 경제적 소득 순위와 정치적 권력 순위가 일치한다.

7. 밑줄 친 ㉠ ~ ㉣에 대한 옳은 설명을 <보기>에서 고른 것은? [3점]

최근 ㉠대학교와 산업체 간의 제휴가 활발해지고 있다. 대학생을 대상으로 산업체의 요구가 반영된 강좌를 개설하는 대학교가 증가하고 있는 것이다. ㉡이러한 변화는 대졸 신입 사원이 기업에 와서 별도의 ㉢연수 과정을 거치지 않으면 업무를 수행하지 못한다는 문제에 기인한다. 그런데 이러한 변화에 대하여 ㉣대학교의 본래 기능이 훼손될 우려가 있다고 ㉤비판하는 사람도 적지 않다.

- < 보 기 >
 ㄱ. ㉠은 공식적 사회화 기관과 비공식적 사회화 기관의 협동에 해당한다.
 ㄴ. ㉡은 대학교의 재사회화 기능 강화를 의미한다.
 ㄷ. ㉢을 통해 2차적 사회화가 이루어진다.
 ㄹ. ㉣이 생각하는 ㉤은 1차적 사회화이다.

- ① ㄱ, ㄴ ② ㄱ, ㄷ ③ ㄴ, ㄷ ④ ㄴ, ㄹ ⑤ ㄷ, ㄹ

8. 개인과 사회의 관계에 대한 다음 글의 관점에 부합하는 진술을 <보기>에서 고른 것은?

산업화가 되면 각기 다른 전문화된 일을 하는 사람들이 한데 모여 협업하는 생산 방식이 확산된다. 그런데 어떻게 서로 다른 일을 하는 사람들 사이에서 협업이 나타날 수 있을까? 사회가 사람들에게 혼자서는 살 수 없고 서로가 서로에게 필요하다는 신념을 공유하도록 작용했기 때문이다.

- < 보 기 >
 ㄱ. 사회 규범은 개인들에 의해 형성되고 변화한다.
 ㄴ. 전체로서의 사회의 특성이 개인의 특성을 형성한다.
 ㄷ. 사회는 단지 개인들의 집합체를 가리키는 말에 불과하다.
 ㄹ. 사회 체계의 구성 요소들은 상호 유기적인 관계를 유지한다.

- ① ㄱ, ㄴ ② ㄱ, ㄷ ③ ㄴ, ㄷ ④ ㄴ, ㄹ ⑤ ㄷ, ㄹ

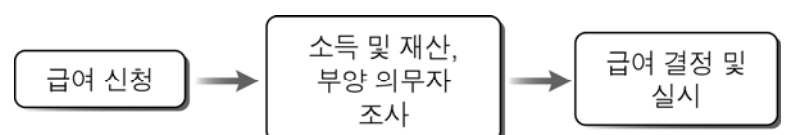
9. 일탈 행동을 이해하는 다음 글의 이론적 관점에 대한 옳은 설명을 <보기>에서 고른 것은?

사람들은 타인에게 긍정적인 인상을 주려고 노력한다. 그럼에도 불구하고 주변 사람들이 특정인의 행동에 대하여 부정적인 반응을 보이는 경우가 있다. 주변 사람들의 부정적인 반응은 지극히 선택적인 행위로서 특정인을 일탈 행위자로 만드는 계기가 될 수 있다.

- < 보 기 >
 ㄱ. 일탈 행동의 객관적 기준이 있다고 본다.
 ㄴ. 차별적인 제재가 일탈 행동의 원인이라고 본다.
 ㄷ. 목표와 수단의 불일치에서 일탈 행동의 원인을 찾는다.
 ㄹ. 행동 자체보다 그것에 대한 사회적 평가를 더 강조한다.

- ① ㄱ, ㄴ ② ㄱ, ㄷ ③ ㄴ, ㄷ ④ ㄴ, ㄹ ⑤ ㄷ, ㄹ

10. 그림과 같은 절차에 따라 급여가 제공되는 우리나라의 사회 보장 제도에 대한 설명으로 옳은 것은?



- ① 금전이나 물품 지원을 원칙으로 한다.
 ② 대상자의 의무 가입을 원칙으로 한다.
 ③ 재원 마련은 수익자 부담을 원칙으로 한다.
 ④ 선별적 복지보다 보편적 복지 이념을 바탕으로 한다.
 ⑤ 미래에 발생할 수 있는 소득 감소에 대비하고자 한다.

[사회 · 문화] 사회탐구 영역

3

11. 다음 글은 어느 인류학자의 기록이다. 이에 나타난 피그미족 사례에 대한 옳은 분석을 <보기>에서 고른 것은? [3점]

피그미족의 신비한 대나무 피리인 ‘물리모’를 처음 본다는 생각에 마음이 설레었다. 그러나 그들이 보여준 물리모는 금속 상하수도관을 잘라 양 끝에 끈을 맨 것이었다. 왜 전통적인 재료를 쓰지 않고 서양인들이 들여온 흔해 빠진 건축 자재를 썼냐고 묻자 그들은 “물리모를 무엇으로 만들든 그게 왜 중요하지요? 이것도 좋은 소리를 냅니다. 게다가 나무와 달리 편리하지요. 나무로 피리를 만들려면 힘이 듭니다. 또 나무가 썩어 버리면 새로 만들어야 하고요.”라고 대답했다.

< 보 기 >

- ㄱ. 변화한 환경에 적응하는 인간의 모습이 나타나 있다.
- ㄴ. 물질문화의 급속한 변동으로 인한 문화 지체 사례이다.
- ㄷ. 전통문화 요소에 외래문화 요소를 융합시킨 문화 변동이다.
- ㄹ. 타 문화를 기준으로 자기 문화를 폄하하는 태도가 나타나 있다.

- ① ㄱ, ㄴ ② ㄱ, ㄷ ③ ㄴ, ㄷ ④ ㄴ, ㄹ ⑤ ㄷ, ㄹ

12. 표에 대한 옳은 분석을 <보기>에서 고른 것은? [3점]

갑국의 빈곤 탈출률과 진입률		
(단위: %)		
가구주의 연령대	빈곤 탈출률 (2012년 빈곤층 → 2013년 비빈곤층)	빈곤 진입률 (2012년 비빈곤층 → 2013년 빈곤층)
40세 미만	40	10
40세 이상 60세 미만	25	20
60세 이상	10	50
전체	25	25

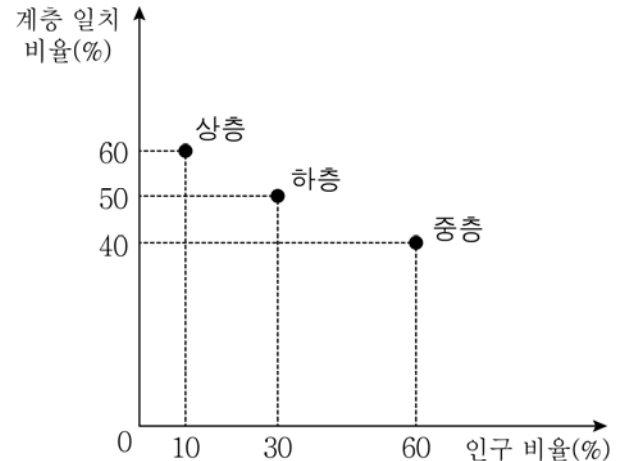
* 2012년 빈곤층 가구는 총가구의 20%이다.

< 보 기 >

- ㄱ. 빈곤 탈출 가구보다 빈곤 진입 가구가 많다.
- ㄴ. 가구주의 연령대가 낮을수록 빈곤을 탈출한 가구가 많다.
- ㄷ. 가구주의 연령대가 높을수록 빈곤 탈출률은 낮고, 진입률은 높다.
- ㄹ. 가구주의 연령이 60세 미만인 비빈곤층의 빈곤 진입률은 30%이다.

- ① ㄱ, ㄴ ② ㄱ, ㄷ ③ ㄴ, ㄷ ④ ㄴ, ㄹ ⑤ ㄷ, ㄹ

13. 그림은 갑국의 계층별 인구 비율과 부모와 계층이 일치하는 사람의 비율을 나타낸 것이다. 이에 대한 분석으로 옳은 것은? [3점]



- ① 계층 구조는 피라미드형이다.
- ② 부모와 계층이 일치하는 사람은 하층이 가장 많다.
- ③ 상층 인구 10명 중 4명은 세대 간 하강 이동을 하였다.
- ④ 총인구 중 부모와 계층이 일치하는 하층 사람은 30%이다.
- ⑤ 부모와 계층이 일치하는 사람보다 세대 간 이동한 사람이 많다.

14. 밑줄 친 ‘소규모 사회 집단’에 대한 설명으로 옳은 것은?

인간관계 이론은 관료제의 인간 소외 문제를 해결하여 조직의 효율성을 높이기 위해 등장하였다. 이 이론은 관료제 조직 내에서 구성원들에 의한 소규모 사회 집단의 형성을 장려함으로써 인간 소외를 줄일 수 있다고 본다.

- ① 자발적 결사체에 해당한다.
- ② 이익 사회보다 공동 사회에 가깝다.
- ③ 권한의 수직적인 위계 서열이 뚜렷하다.
- ④ 1차 집단보다 2차 집단의 성격이 강하다.
- ⑤ 공식적인 규약과 절차에 따른 상호 작용이 강조된다.

15. 밑줄 친 ㉠ ~ ㉣에 대한 옳은 설명을 <보기>에서 고른 것은?

㉠ 인쇄 매체 시대에는 문자 정보를 분석할 수 있는 능력이, ㉡ 영상 매체 시대에는 영상 정보를 분석할 수 있는 능력이, ㉢ 디지털 매체 시대에는 디지털 정보가 제공하는 메시지를 분석할 수 있는 능력이 요구된다. 특히 디지털 매체 시대에서는 인쇄 매체 시대나 영상 매체 시대보다 정보를 수집, 활용, 생산하는 능력이 더 중요하다.

< 보 기 >

- ㄱ. ㉠보다 ㉣이 정보 전달의 신속성이 높다.
- ㄴ. ㉡보다 ㉣이 양방향적인 정보 전달에 유리하다.
- ㄷ. ㉣보다 ㉠이 정보 생산자의 익명성이 문제가 될 가능성이 높다.
- ㄹ. ㉠ ~ ㉣ 모두에서 대중은 정보 생산자인 동시에 소비자이다.

- ① ㄱ, ㄴ ② ㄱ, ㄷ ③ ㄴ, ㄷ ④ ㄴ, ㄹ ⑤ ㄷ, ㄹ

16. 다음 글에 부각되어 있는 문화의 속성에 대한 옳은 설명을 <보기>에서 고른 것은? [3점]

우리나라에서 12월 31일에 태어난 아이는 다음 날 두 살이 된다. 우리나라 사람들 대부분은 이를 당연하게 받아들인다. 하지만 서구 사회에서 온 사람들은 우리나라의 전통적인 나이 계산 방식을 이해하지 못하는 경우가 많다.

— < 보 기 > —

- ㄱ. 다양한 민족으로 구성된 사회에서는 찾아볼 수 없다.
 ㄴ. 한 사회의 구성원들 간 원활한 상호 작용을 위한 바탕이 된다.
 ㄷ. 문화가 한 사회의 구성원들에 의해 공유되는 생활 양식임을 보여 준다.
 ㄹ. 문화의 한 부분에서 나타난 변화가 연쇄적인 변화로 이어지는 이유를 설명하는 데 적합하다.

- ① ㄱ, ㄴ ② ㄱ, ㄷ ③ ㄴ, ㄷ ④ ㄴ, ㄹ ⑤ ㄷ, ㄹ

17. 다음 연구 계획에 대한 설명으로 옳은 것은?

- 연구 주제: 귀농 기간과 삶의 만족도 간의 관계
- 연구 가설: 귀농 기간이 길수록 귀농인의 삶의 만족도가 높을 것이다.
- 연구 설계: ○○ 지역에 거주하는 귀농인 100명을 대상으로 설문 조사를 실시하여 귀농 기간을 월 단위로 측정하고, 주관적으로 느끼는 삶의 만족도를 파악하기로 한다.

- ① 연구 결과는 일반화될 수 있다.
 ② 가설에서 독립 변수는 삶의 만족도이다.
 ③ 가설은 변수 간의 관계가 명확하게 설정되었다.
 ④ 연구 주제 선정에서는 연구자의 가치가 배제되었다.
 ⑤ 방법론적 이원론을 전제로 하는 연구 방법을 선택하였다.

18. 차등 분배와 관련하여 다음 글의 갑, 을의 관점에 대한 옳은 설명을 <보기>에서 고른 것은?

갑은 정규직과 비정규직 간의 차등 분배가 노동자들의 단결을 막아 자본가의 이익을 보호하기 위한 수단이라고 본다. 반면 을은 차등 분배가 정규직과 비정규직 간 기여도의 차이를 반영한 결과로서 우리 사회의 발전을 위해 필수적인 수단이라고 본다.

— < 보 기 > —

- ㄱ. 갑은 차등 분배가 갖는 사회적 순기능을 강조한다.
 ㄴ. 갑은 차등 분배가 개인의 성취동기를 자극한다고 본다.
 ㄷ. 을은 차등 분배가 사회적 합의의 결과임을 중시한다.
 ㄹ. 갑과 을은 모두 거시적 관점에서 차등 분배 현상을 이해하고 있다.

- ① ㄱ, ㄴ ② ㄱ, ㄷ ③ ㄴ, ㄷ ④ ㄴ, ㄹ ⑤ ㄷ, ㄹ

19. 자료에 대한 설명으로 옳지 않은 것은? [3점]

- (가) 미국으로 건너간 일본인들에 의해 소개된 ㉠ 초밥은 대중화되는 데 오랜 시간이 걸렸다. 일본인 요리사들은 더 많은 손님을 끌기 위해 낱생선을 재료로 한 전통적인 초밥 대신 미국 현지 방식으로 조리한 게살과 새우살을 넣고 김밥 모양으로 만든 ㉡ 캘리포니아 롤을 개발했고 이는 초밥의 대중화에 크게 기여하였다.
 (나) 서양 선교사들에 의해 ㉢ 서양식 의술이 우리나라에 처음 소개되었을 때 대부분의 사람들은 이를 미심쩍어해 한의원을 주로 이용했다. 시간이 흘러 서양 의술이 대중화되었으나 여전히 많은 사람들이 한의원을 찾는다.

- ① (가)에는 자발적인 문화 수용의 사례가 나타나 있다.
 ② (나)에는 문화 병존의 사례가 나타나 있다.
 ③ ㉠은 직접 전파를 통해 미국에 전해졌다.
 ④ ㉡은 서로 다른 문화 요소가 결합하여 나타난 새로운 문화 요소이다.
 ⑤ ㉢은 강제적으로 전파된 문화 요소이다.

20. 표는 갑국의 학력별, 성별 평균 임금을 비교한 것이다. 이에 대한 옳은 분석을 <보기>에서 고른 것은? (단, 고졸 평균 임금은 2010년보다 2012년이 많다.) [3점]

구분	2010년	2012년
중졸 / 고졸	0.78	0.72
대졸 / 고졸	1.20	1.14
여성 / 남성	0.70	0.60

— < 보 기 > —

- ㄱ. 2012년 중졸 평균 임금은 2010년에 비해 감소하였다.
 ㄴ. 2012년 여성 평균 임금은 2010년에 비해 10 % 감소하였다.
 ㄷ. 2012년 남성의 평균 임금은 여성 평균 임금의 2배보다 적다.
 ㄹ. 중졸과 대졸 간 평균 임금의 차이는 2010년보다 2012년이 크다.

- ① ㄱ, ㄴ ② ㄱ, ㄷ ③ ㄴ, ㄷ ④ ㄴ, ㄹ ⑤ ㄷ, ㄹ

※ 확인 사항

- 답안지의 해당란에 필요한 내용을 정확히 기입(표기)했는지 확인하십시오.