


제 4 교시

# 사회탐구 영역(사회·문화)

성명		수험 번호							
----	--	-------	--	--	--	--	--	--	--

1. 밑줄 친 ㉠~㉣과 같은 현상의 일반적인 특징에 대한 설명으로 옳은 것은?



남아메리카 아마존 강과 오리노코 강 유역에 서식하는 ㉠ 분홍 돌고래는 아마존 지역의 멸종로 알려져 있다. 이 돌고래는 몸길이가 2m 내외로, ㉡ 숨을 쉬기 위해 몇 분 간격으로 한 번씩 물 위로 올라온다. 시력이 나쁜 분홍돌고래는 ㉢ 초음파를 이용해 먹이와 장애물의 위치를 감지한다. 과거에는 강가로 나와 아이들과 어울리며 함께 친구가 될 정도로 친숙한 존재였으나 ㉣ 무분별한 사냥과 개발 때문에 현재는 멸종 위기에 처해 있다.

- ① ㉠과 같은 현상은 ㉡과 같은 현상과 달리 상위 법칙의 지배를 받는다.
- ② ㉡과 같은 현상은 ㉢과 같은 현상과 달리 경험적 자료로 연구할 수 있다.
- ③ ㉢과 같은 현상은 ㉠과 같은 현상에 비해 특수성이 강하다.
- ④ ㉢과 같은 현상은 ㉠과 같은 현상과 달리 가치 함축적이다.
- ⑤ ㉣과 같은 현상은 ㉡과 같은 현상에 비해 예측이 용이하다.

2. 갑~병의 대화에 나타난 일탈 이론에 대한 설명으로 옳은 것은? [3점]

사회자: 범죄로 인해 수감되었던 사람들 중 일부는 왜 다시 범죄를 저지르게 될까요?  
 갑: 교도소에서 수감자들과 어울리는 동안 범죄 행동에 대해 우호적인 태도를 공유하게 되고, 때로는 함께 지내던 수감자들로부터 범죄 기술을 배우게 되기 때문이지요.  
 을: 범죄는 사회적으로 권장되는 목표와 이를 달성하기 위한 합법적 수단 간의 괴리로부터 야기되는 긴장 때문에 발생하는데, 출소 후에도 여전히 그와 같은 상황에 놓인 이들이 범죄를 반복하게 되지요.  
 병: 교도소에서 나온 후에 주위로부터 지속적으로 따가운 시선을 받게 되어 스스로를 일탈자로 인식하면서 다시 범죄를 저지르게 되지요.

- ① 갑의 이론은 일탈 행동의 원인을 사회 통제의 강화에서 찾는다.
- ② 을의 이론은 일탈 행동의 구조적 원인보다는 일탈자가 되어 가는 내면적 과정에 초점을 둔다.
- ③ 병의 이론은 특정 행위를 일탈 행동으로 규정하는 객관적 기준이 있다고 본다.
- ④ 갑, 병의 이론은 타인들과의 상호 작용이 일탈 발생 과정에 미치는 영향을 중시한다.
- ⑤ 병의 이론은 갑, 을과 달리 최초의 일탈을 방치하면 또 다른 일탈로 이어진다고 본다.

3. 다음 사례에 나타난 연구 윤리상의 문제점으로 적절하지 않은 것은? [3점]

연구자 갑은 학술 대회 논문 발표를 위해 노인의 요양 기간과 가족 유대감 간의 관계를 연구하기로 하였다. 이를 위해 ○○요양병원 원장에게 허락을 구하고 해당 병원의 노인들을 대상으로 설문 조사와 면접을 실시하였다. 면접 중에 피로를 호소하거나 정서적 불안을 토로하는 노인들의 경우, 면접을 중단하고 미리 대기시켜 놓은 의료진의 보살핌을 받도록 하였다. 그 대신 본인에게는 알리지 않고 가족으로부터 노인들의 편지, 수첩 등을 확보하였다. 수집한 자료 중 가설을 지지하지 않는 자료는 의도적으로 제외하고 분석하였다. 그리고 논문 발표 시 자료의 사실성을 보여 주기 위해 면접 참여 노인들의 이름을 공개하였다. 그 후, 가족 유대감이 낮은 노인들의 명단 등 조사 자료를 노인 전문 상담 기관에 제공하고 금전적 보상을 받았다.

- ① 수집한 자료를 연구 이외의 목적으로 활용하였다.
- ② 면접 과정에서 연구 대상의 안전을 고려하지 않았다.
- ③ 연구 대상의 동의를 구하지 않고 자료를 수집하였다.
- ④ 연구 결과 발표 시 연구 대상의 익명성을 보장하지 않았다.
- ⑤ 자료 분석 과정에서 특정 방향으로 결론을 유도하기 위한 조작이 이루어졌다.

4. 사회 변동의 방향을 바라보는 갑, 을의 관점에 대한 옳은 설명을 <보기>에서 고른 것은?

갑: 인류 문명의 성장 과정을 미디어의 발달과 관련지어 설명할 수 있다. 인류 문명은 말[言]의 등장과 수렵·채취 사회, 문자의 등장과 농경 사회, 인쇄술의 등장과 산업 사회, 원격 통신의 등장과 정보 사회의 네 단계를 거쳐 왔다.  
 을: 유목민과 정착민 간의 갈등을 통해 120년 주기로 나타나는 문명의 변동 과정을 설명할 수 있다. 유목민은 기회가 오면 도시의 정착민을 공격하고 정복한다. 이렇게 정복에 성공한 유목민은 차츰 도시 생활에 안주하면서 정착민으로 변모한다. 하지만 이들 역시 안일한 삶과 부패가 만연해지면서 또 다른 강력한 유목민에게 정복당한다.

— < 보 기 > —

- ㄱ. 갑의 관점은 사회 변동을 비관적으로 바라본다.
- ㄴ. 을의 관점은 사회 변동이 일정한 양상을 반복하며 진행된다고 본다.
- ㄷ. 갑의 관점은 을과 달리 사회가 단순한 상태에서 복잡하고 분화된 상태로 변동한다고 본다.
- ㄹ. 을의 관점은 갑과 달리 모든 발전은 곧 서구화임을 전제로 하여 제국주의의 지배를 정당화한다.

- ① ㄱ, ㄴ    ② ㄱ, ㄷ    ③ ㄴ, ㄷ    ④ ㄴ, ㄹ    ⑤ ㄷ, ㄹ

## 5. 밑줄 친 ㉠~㉥에 대한 설명으로 옳은 것은? [3점]

○○신문 2015년 ○월 ○일

축구 선수 갑은 수년 간 해외 구단에서 주전 공격수로 활동하다가 부진으로 인해 ㉠ 계약 해지를 통보받았다. ㉡ 향후 거취를 고민하던 갑은 국내 △△프로 축구팀 ㉢ 감독인 ㉣ 아버지 을의 권유로 국내 리그에 복귀하였다. 그 후 ㉤ ☆☆축구협회에서 지도자 연수를 받고 코치 겸 선수로 뛰던 갑은 지치지 않는 체력과 탁월한 리더십을 발휘하며 소속팀을 우승으로 이끌었다. 그 결과 ㉥ 국가 대표팀 선수로도 거론되는 등 제2의 전성기를 누리고 있다.

- ① ㉠은 갑의 역할 수행에 대한 제재에 해당한다.  
 ② ㉡은 갑의 역할 갈등이다.  
 ③ ㉣은 후천적으로 획득한 지위, ㉤은 선천적으로 주어진 지위이다.  
 ④ 갑은 공식적 사회화 기관인 ㉢에서 예기 사회화를 경험하였다.  
 ⑤ ㉥은 갑의 내집단이면서 준거 집단이다.

## 6. 다음에 나타난 종교를 바라보는 관점에 대한 옳은 설명을 &lt;보기&gt;에서 고른 것은?

종교는 성스러운 존재들과 관련된 믿음과 의례가 결합된 체계를 통해 구성원에게 공통의 가치를 제공한다. 그리고 공동체의 집단 정체성을 형성하며 구성원 간의 결속을 강화시킨다. 이를 통해 종교는 사회 질서 유지와 통합에 기여한다.

—< 보 기 >—

- ㄱ. 종교가 제시하는 도덕률이 사회의 조화와 균형에 기여한다고 본다.  
 ㄴ. 종교는 개인으로 하여금 구조화된 행동 양식을 따르게 한다고 본다.  
 ㄷ. 종교는 개인을 현실에 순응하게 함으로써 사회 변혁 의지를 무력화시킨다고 본다.  
 ㄹ. 종교가 기득권층의 가치를 합리화하여 현재의 불평등 구조를 정당화한다고 본다.

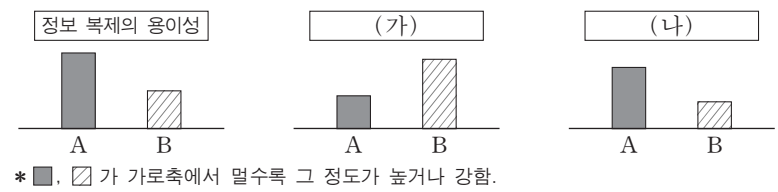
- ① ㄱ, ㄴ    ② ㄱ, ㄷ    ③ ㄴ, ㄷ    ④ ㄴ, ㄹ    ⑤ ㄷ, ㄹ

## 7. 밑줄 친 ㉠~㉥에 대한 설명으로 가장 적절한 것은?

동아프리카의 키크유 족은 ㉠ 상대의 손바닥에 침을 뱉어 반가움을 표현한다. 일부 사람들은 이러한 ㉡ 인사 문화에 대해 ㉢ 더럽다거나 상대방의 기분을 고려하지 않는다고 생각하기도 한다. 그러나 이러한 인사법은 ㉣ 물이 귀한 이 지역에서 수분을 함께 나눈다는 뜻으로 이해할 수 있다. 또한, 행운을 기원하는 ㉤ 주술의 의미도 포함되어 있다.

- ① ㉠은 문화 요소 중 인간의 욕구 충족을 위한 '기술'에 해당한다.  
 ② ㉡에서의 문화는 '문화 시민'에서의 문화와 같이 좁은 의미로 사용되었다.  
 ③ ㉢에는 문화를 평가의 대상으로 보는 태도가 담겨 있다.  
 ④ ㉣은 타문화를 통해 자신의 문화를 객관적으로 바라보는 관점에 해당한다.  
 ⑤ ㉤은 ㉡과 달리 비물질 문화에 해당한다.

## 8. 그림은 대중 매체 유형 A, B의 특징을 비교한 것이다. 이에 대한 설명으로 옳은 것은? (단, A, B는 각각 인쇄 매체와 뉴미디어 중 하나이다.) [3점]



- ① A는 B에 비해 정보의 생산자와 소비자 간 경계가 뚜렷하다.  
 ② B는 A와 달리 정보의 동시적 전달이 가능하다.  
 ③ B는 A에 비해 정보의 전달자와 수용자 간 상호 작용이 활발하다.  
 ④ (가)에는 '시청각 정보 제공의 용이성'이 적절하다.  
 ⑤ (나)에는 '정보 확산 경로의 다양성'이 적절하다.

## 9. 밑줄 친 A, B문화의 일반적인 특징에 대한 설명으로 옳은 것은? [3점]

문화는 사회마다 다를 뿐 아니라 같은 사회 내에서도 다양한 양상으로 나타난다. 한 사회 내의 특정 집단 구성원들만이 공유하는 문화가 있는데, 이를 A문화라고 한다. 또한, 주류 문화에 반대하고 적극적으로 도전하는 양상을 보이는 B문화도 있다. B문화는 때로는 지배 집단에 의해 일탈로 규정되기도 한다.

- ① 모든 A문화의 총합은 전체 문화이다.  
 ② 사회가 복잡해질수록 A문화는 전체 문화로 수렴되는 경향을 보인다.  
 ③ B문화는 전체 문화와 공통 요소를 가지고 있다.  
 ④ A문화는 사회의 변동을, B문화는 사회의 안정을 지향한다.  
 ⑤ A문화는 사회에 따라 상대적으로, B문화는 사회에 상관없이 절대적으로 규정된다.

## 10. 다음 자료에 대한 분석으로 옳은 것은?

표는 갑국과 을국의 절대적 빈곤 가구 수(A) 대비 상대적 빈곤 가구 수(B)의 변화를 나타낸 것이다. 두 국가 모두 2000년에서 2010년 사이에 최저 생계비는 지속적으로 증가하였다. (단, 갑국과 을국 각각 모든 가구의 구성원 수는 동일하다.)

구분	2000년	2005년	2010년
갑국(B/A)	0.25	1	1.5
을국(B/A)	2	1	0.5

\* 절대적 빈곤 가구: 가구 소득이 절대적 빈곤선(최저 생계비) 미만인 가구  
 \*\* 상대적 빈곤 가구: 가구 소득이 상대적 빈곤선(중위 소득의 50%) 미만인 가구  
 \*\*\* 중위 소득: 전체 가구를 소득 순으로 나열했을 때 한가운데 위치한 가구의 소득

- ① 2000년에 갑국에서 절대적 빈곤선은 상대적 빈곤선의 4배이다.  
 ② 2000년에 을국에서 상대적 빈곤 가구는 모두 절대적 빈곤 가구에 해당한다.  
 ③ 2005년 대비 2010년에 갑국에서는 절대적 빈곤선과 상대적 빈곤선이 모두 높아졌다.  
 ④ 2010년에 을국에서 중위 소득 대비 최저 생계비의 비율은 50% 미만이다.  
 ⑤ 2010년에 갑국은 을국과 달리 상대적 빈곤 가구의 비율이 절대적 빈곤 가구의 비율보다 낮다.

11. 표는 교육 제도를 바라보는 관점 (가), (나)를 구분한 것이다. A에 들어갈 질문으로 옳은 것은? (단, (가), (나)는 각각 기능론과 갈등론 중 하나이다.) [3점]

질문	관점	
	(가)	(나)
학교를 지배 집단이 자신들의 가치를 학습시키는 통치 수단으로 보는가?	예	아니요
A	아니요	예

- ① 학교 교육을 통한 사회 이동의 가능성을 과소평가한다는 비판을 받는가?
- ② 학교 교육을 통해 인재가 적재적소에 효율적으로 배치될 수 있다고 보는가?
- ③ 학교 교육의 내용과 방식이 중·상류층에 속한 학생에게 유리하다고 보는가?
- ④ 교육 불평등 문제를 해결하기 위한 방안으로 접근 기회의 평등보다 결과의 평등을 중시하는가?
- ⑤ 학교 교육은 학생을 기존 권위에 복종하도록 훈육함으로써 불평등 구조를 고착화한다고 보는가?

12. 갑~병이 선택한 자료 수집 방법의 일반적인 특징에 대한 설명으로 옳은 것은?

교사

청소년들의 팬덤(fandom) 문화를 주제로 각자의 연구 계획을 발표해 보세요.

갑

저는 청소년들의 팬덤 문화와 소비 양식의 관계를 분석해 보기 위해 우리 학교 학생들을 대상으로 설문 조사를 하려고 합니다.

을

저는 청소년들의 팬덤 문화가 그들에게 어떤 의미를 갖는지 알아보기 위해 팬클럽에 가입하고 콘서트장과 팬미팅 현장 등에 가서 직접 느끼고 확인해 볼 생각입니다.

병

저는 청소년들의 팬덤 문화 실태를 살펴보기 위해 최근의 언론 자료와 주요 연구 논문 등을 찾아 정리해 보겠습니다.

- ① 갑의 방법은 을에 비해 예상치 못한 상황의 통제가 어렵다.
- ② 을의 방법은 병에 비해 시간과 공간의 제약을 적게 받는다.
- ③ 병의 방법은 갑에 비해 실제성이 높은 생생한 자료를 확보하기 용이하다.
- ④ 갑의 방법은 을, 병에 비해 연구 대상에 대한 연구자의 감정 이입을 중시한다.
- ⑤ 갑, 을의 방법은 1차 자료를 수집하는 방법이다.

13. 사회 집단과 사회 조직의 유형 A~C에 대한 설명으로 옳은 것은?

- A의 성립은 B를 전제로 하며, A의 구성원은 항상 B의 구성원이 된다. A는 친목 도모를, B는 과업 달성을 중시한다.
- 결합 의지에 따라 사회 집단을 구분할 때 A, B는 C로 분류된다.

- ① 대학 내 홍보 부서는 A에, 대학은 B에 해당한다.
- ② 종친회와 가족은 C에 해당한다.
- ③ A는 B에 비해 공식적 규범에 대한 의존도가 높다.
- ④ B는 A와 달리 상향식 의사 결정 과정이 지배적이다.
- ⑤ A, B, C 모두 구성원의 특정 목적을 위해 인위적으로 만들어진 집단.

14. 다음 두 사례에서 공통적으로 부각되는 문화의 속성에 대한 옳은 설명을 <보기>에서 고른 것은? [3점]

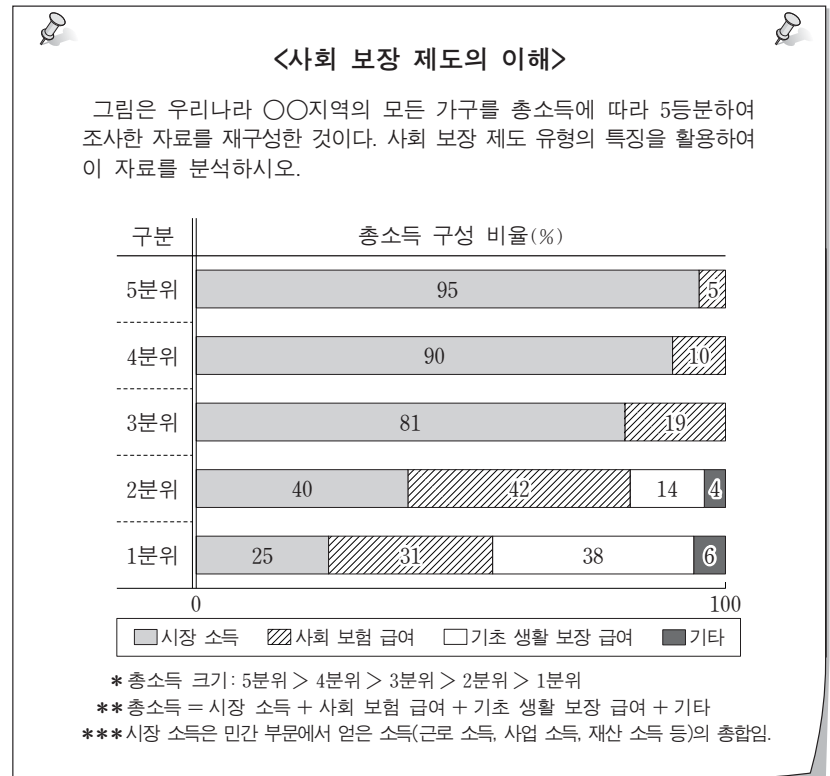
- A국에서는 남는 음식을 제공하는 사람이 이를 얻어 가는 걸인에게 고마움을 표시한다. 이는 덩고 습한 지역이 많은 A국에서는 다모작이 가능하여 식량이 풍족하게 생산되는 반면, 음식을 오래 보관하기 곤란하다는 것과 관련이 깊다.
- 유목 생활을 하는 B민족은 화장(火葬) 문화를 가지고 있다. 이는 잦은 이동 생활로 인해 무덤에 대한 지속적인 사후 관리가 용이하지 않다는 것과 관련이 깊다.

— < 보 기 > —

- ㄱ. 문화는 상징을 통해 다음 세대로 전달·계승된다.
- ㄴ. 문화는 여러 요소들이 유기적으로 결합된 하나의 체계이다.
- ㄷ. 문화는 시간의 흐름에 따라 기존 요소가 사라지거나 변화한다.
- ㄹ. 문화는 부분이 아닌 전체로서 의미를 갖기 때문에 문화 요소 간에 서로 영향을 미친다.

- ① ㄱ, ㄴ    ② ㄱ, ㄷ    ③ ㄴ, ㄷ    ④ ㄴ, ㄹ    ⑤ ㄷ, ㄹ

15. 교사가 제작한 수업 자료에 대한 학생들의 분석으로 옳은 것은? [3점]



- ① 갑: 소득 재분배 효과가 있는 사회 보장 제도에 의한 급여는 2분위 이하에게만 제공됩니다.
- ② 을: 저소득 분위일수록 총소득 중 강제 가입을 원칙으로 하는 제도에 의한 급여의 비율이 높습니다.
- ③ 병: 수혜 대상자 선정 과정에서 소득이 고려되는 제도의 수혜자는 ○○지역 전체 인구의 40%입니다.
- ④ 정: 1분위에서는 총소득 중 사후 처방적 성격이 강한 사회 보장 제도에 의한 급여의 비율이 가장 높습니다.
- ⑤ 무: 총소득 중 수혜자 부담 원칙이 적용되지 않는 사회 보장 제도에 의한 급여의 비율이 가장 높은 분위는 2분위입니다.



16. 다음은 사회 계층화 현상에 대한 어떤 이론이다. 이에 대한 옳은 설명만을 <보기>에서 있는 대로 고른 것은?

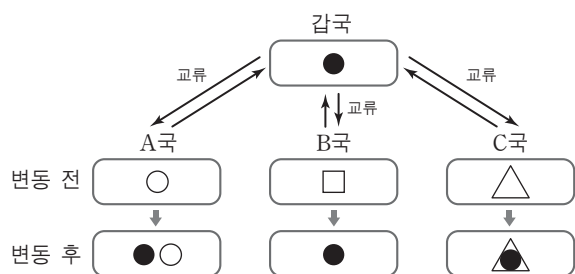
사회는 재산, 권력, 위신에 기초하여 계층화된다. 재산의 차이는 '계급'을, 권력의 차이는 '파당'을, 위신의 차이는 '지위 집단'을 만들어 낸다. 어떤 사람이 이들 중 한두 가지 차원에서 상층에 속하더라도 나머지 다른 차원에서는 하층에 속할 수 있다.

— < 보 기 > —

- ㄱ. 다원론적 관점에서 사회 계층화 현상을 바라본다.  
 ㄴ. 현대 사회의 지위 불일치 현상을 설명하기 용이하다.  
 ㄷ. 동일한 계층적 위치에 속한 구성원 간의 귀속 의식을 강조한다.  
 ㄹ. 사회 계층화 현상을 불연속적으로 구분되어 있는 상태로 파악한다.

- ① ㄱ, ㄴ                      ② ㄱ, ㄷ                      ③ ㄷ, ㄹ  
 ④ ㄱ, ㄴ, ㄹ                ⑤ ㄴ, ㄷ, ㄹ

17. 그림은 갑국과 교류한 A~C국의 문화 변동 양상과 결과를 나타낸 것이다. 이에 대한 분석으로 가장 적절한 것은?



\* □ 안의 기호는 각국의 문화 요소이며, △●는 ●와 △가 혼합되어 나타난 것임.

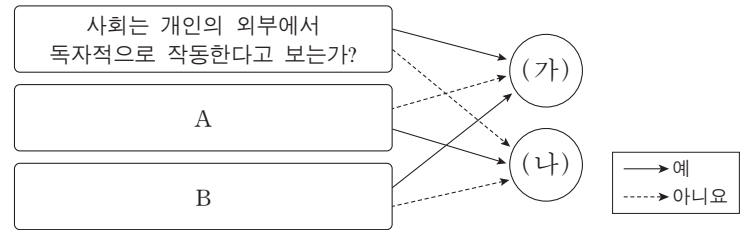
- ① A국의 문화 변동 결과에 해당하는 사례로는 서양의 결혼 예식과 전통 폐백 의례가 결합된 현재 한국의 결혼식을 들 수 있다.  
 ② B국의 문화 변동 결과는 자발적이 아닌 강제적 문화 접변에 의해 나타났다.  
 ③ C국의 문화 변동 결과에 해당하는 사례로는 한국에서 전통 시장과 별도로 온라인 쇼핑몰이 자리 잡은 것을 들 수 있다.  
 ④ A, C국에서는 문화 접변 후에도 자문화 요소가 유지되고 있다.  
 ⑤ A, B국에서는 C국과 달리 외래 문화 요소를 수용하였다.

18. 다음 연구에 대한 설명으로 옳은 것은? [3점]

야간 대학원을 다니며 석사 학위 논문을 준비하던 직장인 갑은 자신의 직장 동호회 활동 경험에서 아이디어를 얻어 직장인들의 ㉠ 회사 생활 만족도에 ㉡ 사내 동호회 활동이 미치는 영향을 알아보기 위한 연구를 진행하였다. 먼저 갑은 ㉢ 자신이 속한 직장의 전체 직원들 중 ㉣ 500명을 성별, 연령별, 직급별 비율에 따라 추출하였다. 그리고 이들을 대상으로 구조화된 질문지를 활용하여 급여 수준, 근무 환경, 직장 내 인간 관계 등에 대한 만족도를 조사한 후, ㉤ 동호회 참여 집단과 ㉥ 미참여 집단으로 구분하여 자료를 분석하였다. 그 결과, 동호회 참여 집단의 만족도가 더 높게 나타났다.

- ① ㉠은 독립 변수, ㉡은 종속 변수이다.  
 ② ㉢은 모집단, ㉣은 표본 집단이다.  
 ③ ㉤은 실험 집단, ㉥은 통제 집단이다.  
 ④ 주제 설정 및 자료 수집 단계에서 연구자의 가치가 배제되었다.  
 ⑤ 연구 대상의 주관적 가치를 측정하여 규칙성을 도출할 수 있는 연구 방법이 사용되었다.

19. 그림은 개인과 사회의 관계를 보는 관점 (가), (나)를 분류한 것이다. 이에 대한 옳은 설명만을 <보기>에서 있는 대로 고른 것은?

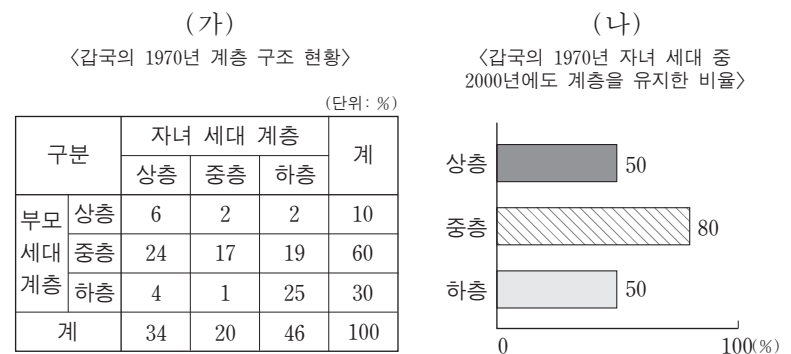


— < 보 기 > —

- ㄱ. (가)는 개인의 능동성보다 사회 규범의 구속성을 중시한다.  
 ㄴ. (나)는 사회를 실체가 없는 허구적 개념에 불과한 것으로 본다.  
 ㄷ. A에는 '사회 문제 해결을 위해 개인의 의식 변화보다 제도적 개입을 강조하는가?'가 적절하다.  
 ㄹ. B에는 '사회가 개인으로 환원될 수 있다고 보는가?'가 적절하다.

- ① ㄱ, ㄴ                      ② ㄱ, ㄷ                      ③ ㄷ, ㄹ  
 ④ ㄱ, ㄴ, ㄹ                ⑤ ㄴ, ㄷ, ㄹ

20. (가), (나)에 대한 옳은 분석만을 <보기>에서 있는 대로 고른 것은? [3점]



— < 보 기 > —

- ㄱ. (가)에 따르면, 세대 간 상승 이동이 세대 간 하강 이동보다 많다.  
 ㄴ. (가)에 따르면, 자녀 세대 중에서 세대 간 이동을 경험한 비율이 가장 낮은 계층은 중층이다.  
 ㄷ. (가)에 따르면, 부모 세대의 계층 대비 계층 대물림 비율은 중층에서 가장 낮고 상층에서 가장 높다.  
 ㄹ. (가), (나)에 따르면, 자녀 세대 중 세대 내 상승 이동을 한 사람이 세대 내 하강 이동을 한 사람보다 많다.

- ① ㄱ, ㄴ                      ② ㄴ, ㄷ                      ③ ㄷ, ㄹ  
 ④ ㄱ, ㄴ, ㄹ                ⑤ ㄱ, ㄷ, ㄹ

\* 확인 사항

○ 답안지의 해당란에 필요한 내용을 정확히 기입(표기)했는지 확인하십시오.