

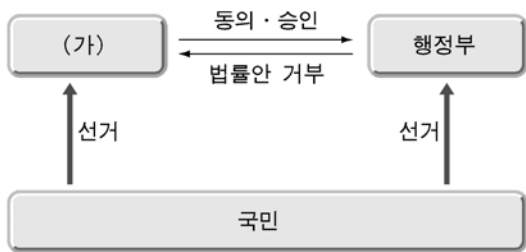
제 4 교시

사회탐구 영역(정치)

성명		수험 번호							
----	--	-------	--	--	--	--	--	--	--

- 자신이 선택한 과목의 문제지인지 확인하시오.
- 문제지에 성명과 수험 번호를 정확히 써 넣으시오.
- 답안지에 성명과 수험 번호를 써 넣고, 또 수험 번호와 답을 정확히 표시하시오.
- 과목을 선택한 순서대로 풀고, 답은 답안지의 '제1선택'란에서부터 차례대로 표시하시오.
- 문항에 따라 배점이 다르니, 각 물음의 끝에 표시된 배점을 참고하시오. 3점 문항에만 점수가 표시되어 있습니다. 점수 표시가 없는 문항은 모두 2점입니다.

1. 그림과 같은 정부 형태에서 (가)의 권한에 해당되지 않는 것은?



- ① 행정부 수반에 대해 탄핵을 소추할 수 있다.
- ② 정국 안정을 위해 연립 정부를 구성할 수 있다.
- ③ 국정 현안에 대하여 청문회를 개최할 수 있다.
- ④ 행정부 수반이 거부한 법률안을 다시 통과시킬 수 있다.
- ⑤ 정부 형태의 변화를 포함한 헌법 개정안을 발의할 수 있다.

2. 다음 글에 대한 설명으로 적절한 것을 <보기>에서 모두 고른 것은?

오늘날 상당수 국가들은 ㉠ 세계적 차원의 자유 무역이 초래하는 ㉡ 불안 요인을 감소시키거나 자국의 정치적, 경제적 안보를 공고히 하기 위해 지역 국가들과 블록을 형성하고 있다. 지역 블록으로서의 북미 자유 무역 협정(NAFTA)은 역내에서 자본과 상품 시장 위주의 개방을 추진하는 체제이다. 한편, 유럽 연합(EU)은 역내의 자본과 상품뿐만 아니라 노동 시장까지 포함한 전면적 통합을 추진하는 지역 블록 체제이다. 전반적으로 EU는 NAFTA에 비해 포괄적이고 구속력이 강한 법체계를 갖추고 있다.

<보 기>


- ㄱ ㉠을 법적으로 규율하는 국제 기구로 세계 무역 기구(WTO)가 있다.
- ㄴ ㉡의 사례로는 국내 산업이 초국가적 기업이나 국제 자본에 의해 위축되는 것을 들 수 있다.
- ㄷ 국가보다 국가 내부적 행위체의 영향력이 점차 커지고 있다.
- ㄹ NAFTA는 EU에 비해 역내 노동 진입 장벽과 정치적 통합 강도가 모두 낮은 체제이다.

- ① ㄱ ㄴ ② ㄱ ㄷ ③ ㄴ ㄷ ④ ㄴ ㄹ ⑤ ㄷ ㄹ

3. 다음 글에 나타난 주장을 토대로 A국의 정책 지향점을 적절하게 제시한 것을 <보기>에서 모두 고른 것은? [3점]

A국은 유럽식 모델과 영미식 모델 중 어느 것을 채택할 것 인지를 놓고 고민을 하고 있다. 유럽식 모델은 사회 복지를 강조하고 분배를 중시하며, 사회 정의를 우선시하는 경제 정책과 노동자 위주의 경직된 노동 정책을 특징으로 한다. 한편, 영미식 모델은 신자유주의적 성향을 갖고 있고 성장을 강조하며, 정부 간섭의 최소화과 경쟁을 중시하는 경제 정책과 기업가 위주의 유연한 노동 정책을 특징으로 한다.

“A국은 어떤 모델을 취해야 하는가?” 이에 대한 대답은 “경제 지표를 보고 판단하라.”는 것이다.



<보 기>

- ㄱ 형평성보다 효율성을 중시해야 한다.
- ㄴ 소외 계층에 대한 사회적 배려를 해야 한다.
- ㄷ 성장 후 분배가 아닌 분배를 통한 성장을 해야 한다.
- ㄹ 결과의 평등이 아닌 기회의 평등을 추구해야 한다.
- ㅁ 시장의 한계를 보완하기 위해 정부가 개입해야 한다.

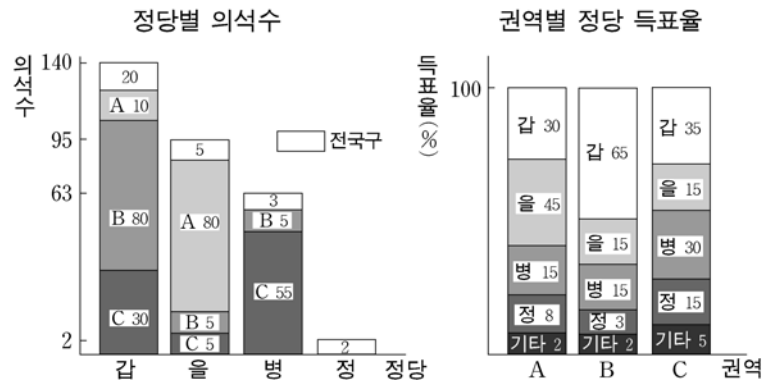
- ① ㄱ ㄹ ② ㄴ ㄷ ③ ㄴ ㄹ
④ ㄱ ㄷ ㅁ ⑤ ㄴ ㄷ ㅁ

4. 다음 글과 부합하는 진술로 가장 적절한 것은? [3점]

사람은 본래 자유롭게 태어났으나 사회 내의 신분이나 재산에 따라 종속적 관계에 놓이게 된다. 하지만 그들이 다시 자연적 자유 상태로 돌아갈 수 없다면 계약에 의해 새로운 사회 질서를 만들어야 한다. 이때 사회적 자유는 자연적 자유를 대신하게 된다. 사회적 자유는 사람들이 사회 계약을 통해 구성된 일반 의지에 복종하는 과정을 통해 가능해진다. 왜냐하면 일반 의지는 이기적인 욕망을 극복하면서 공익을 추구하는 의지인 동시에 자기 자신의 의지이기 때문이다.

- ① 자연적 자유는 최소한의 정부에서 최소화될 수 있다.
- ② 인간은 자연의 섭리에 순응할 때 사회적 자유를 얻게 된다.
- ③ 구성원들이 공동으로 합의한 계약에 따를 때 사회적 자유를 얻게 된다.
- ④ 구성원들의 재산과 자유는 신성불가침한 권리로서 결코 침해될 수 없다.
- ⑤ 인간의 자유는 자신의 의지와 무관한 강제나 구속에 복종하는 것을 의미한다.

[5~] 그림은 O국의 의원 선거 결과를 나타낸 것이다. 물음에 답하시오.



*O국은 권역별로 각각 90개의 선거구를 가지고 있다.

** '기타'는 기타 정당을 의미하며 무소속 후보는 없다.

5. 위 나라의 정치 제도에 대한 설명으로 적절한 것을 <보기>에서 모두 고른 것은? [3점]

- <보 기>
- ㄱ 총 선거구 수는 300개이다.
 - ㄴ 복수 정당 제도를 채택하고 있다.
 - ㄷ 소선거구제와 비례 대표제를 채택하고 있다.
 - ㄹ 전국구 의석은 지역구 의석수에 의한 배분 방식을 따르고 있다.

- ① ㄱ ㄴ ② ㄱ ㄹ ③ ㄴ ㄷ
④ ㄱ ㄷ ㄹ ⑤ ㄴ ㄷ ㄹ

6. 위 나라의 선거 결과에 대한 분석으로 적절한 것을 <보기>에서 모두 고른 것은? [3점]

- <보 기>
- ㄱ 지역구 의석률이 가장 낮은 정당은 '병' 당이다.
 - ㄴ 의석수가 정당 득표율을 정확하게 반영하고 있다.
 - ㄷ 각 권역별로 다수 의석을 차지한 정당이 각각 다르다.
 - ㄹ 정국의 안정을 위하여 정당 간 정책 연합이 필요하다.
 - ㅁ A 권역에서의 득표가 지역구 의석에 반영되지 않은 정당이 있다.

- ① ㄱ ㄴ ㄷ ② ㄱ ㄴ ㅁ ③ ㄱ ㄹ ㅁ
④ ㄴ ㄷ ㄹ ⑤ ㄷ ㄹ ㅁ

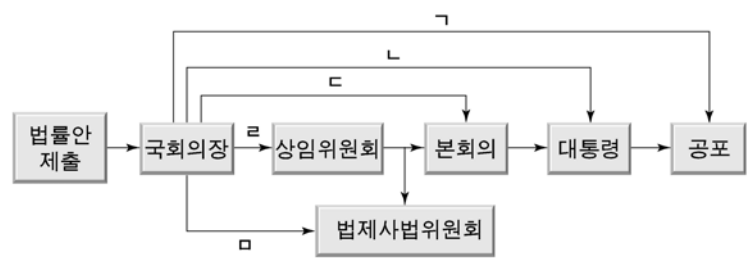
7. 다음 대화에서 나타난 제도를 선거에 적용하려고 할 때 검토해야 할 사항으로 적절하지 않은 것은? [3점]



- ① 어떤 선거 운동 방식을 허용할 것인가?
- ② 누가 선거 운동을 관리하고 감시할 것인가?
- ③ 어떻게 균등한 선거 운동 기회를 부여할 것인가?
- ④ 어떤 방식으로 선거에서 당선자를 확정할 것인가?
- ⑤ 어느 정도로 선거 운동의 비용 범위를 정할 것인가?

8. 밑줄 친 '조치'에 해당하는 것을 ㄱ~ㅁ 중에서 고른 것은?

원내 대표 회담이 결렬됨에 따라 국회에서 심의 중인 법안에 대한 정상적인 합의 처리가 이번에도 어려워 보이면서 국회 의장의 선택에 관심이 쏠리고 있다. 국회 의장은 양당 대표에게 “이번 임시 국회 회기 내에 본회의 표결을 위한 절차를 밟아주기 바라며, 그렇지 않을 경우 사회적 파장과 영향을 고려하여 국회법상 국회 의장의 권한을 활용한 조치를 취할 수밖에 없을 것” 이라고 말했다.



- ① ㄱ ② ㄴ ③ ㄷ ④ ㄹ ⑤ ㅁ

9. 다음 내용과 부합하지 않는 진술은?

외교란 한 국가가 국제 사회에서 자국의 이익을 평화적인 방법으로 달성하려는 활동이다. 오늘날 국제 사회가 복잡해지고 교통·통신의 발달로 다양한 행위자들에 의한 국제 교류가 활발해지면서 외교의 중요성과 개방성은 강화되고 있다. 또한 국제 관계의 주요한 관심사가 바뀌고 있으며, 대부분의 국가들은 다양한 수단을 동원하여 자국의 대외적인 위상을 높이고 국익을 극대화하기 위해 노력하고 있다.

- ① 국제 교류의 활성화로 비밀 외교 형태가 보편화되고 있다.
- ② 이념보다는 명분이나 실리를 추구하는 외교로 변화되고 있다.
- ③ 설득, 위협, 타협 등 가능한 모든 외교 수단이 사용되고 있다.
- ④ 공식적 행위자에 의한 외교뿐만 아니라 민간 외교의 중요성도 커지고 있다.
- ⑤ 외교의 범위가 안보 문제에 한정되지 않고 경제 및 문화 영역 등으로 확대되고 있다.

10. 표는 10년 후에 예상되는 A국의 갈등 상황에 대한 설문 조사 결과이다. 이에 대한 분석으로 가장 적절한 것은?

(단위 : %)

문항 내용	상당히 완화	약간 완화	변화 없음	약간 심각	상당히 심각
경제적 상위 계층과 하위 계층 간 갈등	15	30	35	15	5
도시와 농촌 주민 간 갈등	10	20	40	20	10
젊은 세대와 기성 세대 간 갈등	5	15	40	30	10
보수와 혁신 세력 간 갈등	5	20	40	30	5

- ① 보혁 갈등이 가장 심각해질 것으로 보고 있다.
- ② 세대 간 갈등이 지역 갈등보다 더 심각해질 것으로 보고 있다.
- ③ 상하위 계층 간 경제적 불평등이 더 심화될 것으로 보고 있다.
- ④ 지역 갈등보다는 계층 간 갈등이 더 심각해질 것으로 보고 있다.
- ⑤ 대다수가 사회 전반적인 갈등 상황이 지금과 다르지 않을 것으로 보고 있다.

11. 표는 공명 선거의 정착을 위해 최우선으로 필요한 사항에 대하여 설문 조사한 결과이다. 이에 대한 분석으로 가장 적절한 것은? [3점]

(단위 : %)

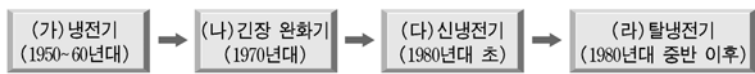
항목 연도	후보자의 준법 의식	선거법 개정	단속·처벌 강화	유권자의 의식 개선	언론·시민 단체 감시
1960	22	32	25	16	5
1980	23	29	22	19	7
2000	25	15	18	27	15

- ① 후보자에 대한 언론 및 시민 단체의 감시 활동의 필요성은 약화되고 있다.
- ② 언론 및 시민 단체의 교육·홍보 활동에 의하여 유권자의 의식이 개선되고 있다.
- ③ 유권자 의식 개선의 요구가 증가함에 따라 선거법 개정에 대한 요구도 증가하고 있다.
- ④ 법적 조치만으로는 공정한 선거 정착에 한계가 있다고 생각하는 사람이 증가하고 있다.
- ⑤ 유권자의 의식 개선보다 후보자의 의식 개선이 중요하다는 응답이 큰 폭으로 증가하고 있다.
12. 다음 기사에 나타난 사례에 대한 이해로 적절하지 않은 것은?

학교 정화 구역 내에서의 극장 시설 및 영업을 일률적으로 금지하고 있는 학교 보건법 관련 조항에 대하여 헌법 재판소는 극장 운영자의 기본권 침해는 물론이거니와 극장의 자유로운 운영에 대한 제한 및 학생들의 기본권도 과도하게 침해하여 헌법 정신에 어긋난다는 결정을 내렸다. 이 결정은 아무리 학생에 대한 보호라는 취지가 정당하다 할지라도 그 방식과 범위에 구분을 두지 않고 무조건적으로 규제하는 것은 자유로운 문화 향유에 관한 권리 등 기본권을 침해한다는 점을 보여준다.

○신문-

- ① 자유권이 평등권에 우선한다는 사례이다.
- ② 국회는 학교 보건법의 해당 조항을 개정하여야 한다.
- ③ 학교 보건법의 해당 조항은 예술·표현의 자유를 침해한다.
- ④ 헌법 재판소의 결정은 학생의 행복 추구권도 고려한 것이다.
- ⑤ 직업의 자유에 대한 과도한 침해는 허용되지 않는다는 사례이다.
13. 그림은 2차 세계 대전 이후 국제 관계의 변화를 나타낸 것이다. (가)~ (라) 시기에 대한 설명으로 가장 적절한 것은?



- ① (가)는 (라)에 비해 동·서 진영의 대립으로 양극 체제가 이완된 시기이다.
- ② (나)는 (가)에 비해 국제 연합(UN)에서 제3세계 국가들의 영향력이 감소한 시기이다.
- ③ (다)는 (나)에 비해 지역 블록의 형성으로 단극 체제가 강화된 시기이다.
- ④ (라)는 (가)에 비해 정치·경제적 협력과 상호 의존이 전세계적으로 확산된 시기이다.
- ⑤ (라)는 (다)에 비해 국제 분쟁의 해결 과정에서 국제 비정부 기구(INGO)의 역할이 감소된 시기이다.

14. 표는 A국의 법률안 가결률과 여당 의석률을 시기별로 나타낸 것이다. 이에 대한 분석으로 적절한 것을 <보기>에서 모두 고른 것은? [3점]

항목 시기	정부 제출 법률안			의원 발의 법률안			여당 의석률 (%)
	발의수	가결수	가결률 (%)	발의수	가결수	가결률 (%)	
1대	200	84	42	200	80	40	37
2대	260	143	55	240	120	50	39
3대	290	203	70	200	70	35	53
4대	300	255	85	100	30	30	63

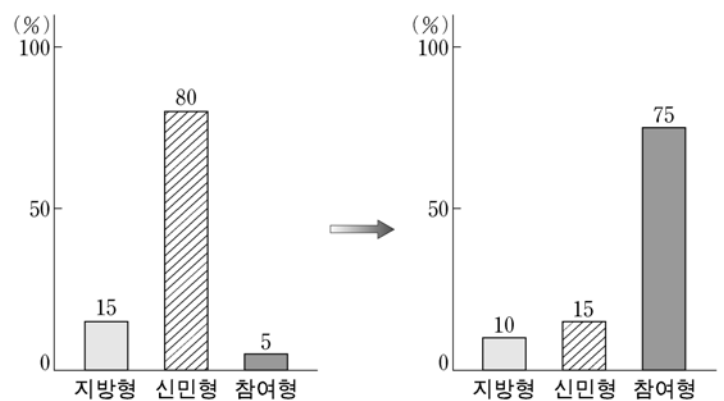
* 가결률 = (가결수/발의수) × 100

<보 기>

- ㄱ 정부가 제출한 법률안이 의원이 발의한 법률안보다 가결률이 더 높다.
- ㄴ 여당 의석률이 증가함에 따라 정부 제출 법률안의 가결률은 낮아진다.
- ㄷ 여대야소(與大野小)인 경우가 여소야대인 경우보다 정부 제출 법률안의 가결률이 높다.
- ㄹ 각 시기에 가결된 법률안 중에서 의원이 발의하여 가결된 법률안이 차지하는 비중이 가장 큰 시기는 제2대 국회이다.

- ① ㄱ ㄴ ② ㄱ ㄷ ③ ㄴ ㄹ
- ④ ㄱ ㄷ ㄹ ⑤ ㄴ ㄷ ㄹ

15. 그림은 A국 정치 문화 유형 분포의 변화를 나타낸 것이다. 변화 후의 지배적인 정치 문화에 속하는 개인이 ㉠에 근거해 정치적 활동을 한다고 가정할 때, 부합하는 사례는?



한 사회의 정치 문화는 구성원들이 정치 현상에 대해 지니고 있는 정치적 태도를 통해 이해될 수 있다. 그리고 정치적 태도는 각 개인이 지니는 정치적 정향에서 비롯된다. 이러한 정향은 인지적 정향, ㉠ 정서적 정향, 평가적 정향으로 구분된다. 인지적 정향은 지식 및 정보에 근거하고, 정서적 정향은 감정적 선호에 근거하며, 평가적 정향은 종합적인 가치 판단에 근거한다.

- ① ‘갑’은 신문 광고를 보고 향우회 모임에 참석하였다.
- ② ‘을’은 정부 정책의 문제점을 알면서도 그대로 수용하였다.
- ③ ‘병’은 이웃과의 불화로 전체 주민 회의에 참석하지 않았다.
- ④ ‘정’은 연고주의에 따라 특정 정당을 적극적으로 후원하였다.
- ⑤ ‘무’는 정책 분석을 통해 얻은 대안을 시민 단체에 제시하였다.

16. 다음 글에서 찾을 수 있는 언론의 자세가 아닌 것은? [3점]

5월 13일자 ‘국민의 혈세가 새고 있다’는 기사와 관련, 자료를 제공한 ○당 A 의원은 “B 도(道 내 50개 기관의 자료 중 C 시(市)의 9개 기관의 통계는 기관 전체가 아닌 일부 부서 통계이므로 이를 근거로 기관의 예산 사용 분포 상황을 판단하기 힘들다는 것을 보도 이후 확인했다.”고 본지에 알려 왔습니다. A 의원에게 통계를 제출한 B 도(道 역시 이런 점을 지적했습니다. 기사에 인용한 일부 사례는 취재 과정에서 해당 기관에 확인하기가 사실상 불가능했습니다. 앞으로 이런 일이 재발하지 않도록 만전을 기하겠습니다.

— 日신문 5월 15일 —

- ① 국민의 알 권리를 위해 노력해야 한다.
- ② 언론 보도에 대한 비판을 수용해야 한다.
- ③ 개인의 사생활을 침해하지 않도록 해야 한다.
- ④ 국가 기관의 활동에 대한 감시 기능을 담당해야 한다.
- ⑤ 사실에 근거한 보도를 통해 정확한 정보를 제공해야 한다.

17. (가)와 (나)는 어떤 국제적 사건에 대한 서로 다른 해석이다. 이에 대한 설명으로 적절한 것은? [3점]

(가) 1990년 이라크 후세인 독재 정권의 쿠웨이트 침공으로 걸프전이 발발하였다. 이에 국제 사회는 국제 연합(UN)의 승인을 받아 다국적 군대를 파견하여 국제 사회의 평화와 중동 지역의 안정을 확보하고자 하였다.

(나) 1990년 미국의 걸프전 참전은 중동 지역에 대한 미국의 영향력을 유지·확대하기 위한 것이었다. 그러나 미국은 중동에서 이라크의 약화가 이란의 세력 확대를 야기할 것을 우려하여 후세인 정권의 붕괴를 피하지 않았다.

- ① (가)는 국가들 사이의 이익의 조화가 불가능하다는 입장이다.
- ② (나)는 국제 질서가 집단 안보에 의해서 유지된다는 입장이다.
- ③ (나)는 국제 질서가 국가 간 협력과 상호 의존을 기초로 형성된다는 입장이다.
- ④ (가)는 (나)에 비해 패권적 국제 질서의 확장을 중시하고 있다.
- ⑤ (나)는 (가)에 비해 개별 국가의 이익 추구를 강조하고 있다.

18. 밑줄 친 ‘위헌 결정’에 대한 해석으로 적절한 것을 <보기>에서 모두 고른 것은?

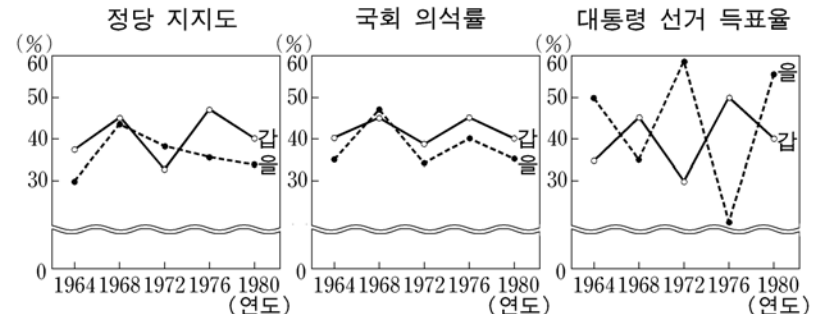
영화 진흥법 제21조 제4항은 영상물 등급 위원회에 의한 등급 분류 보류 제도를 규정하고 있었다. 이는 영상물 등급 위원회가 상영에 앞서 영화를 제출 받아 그 심의 및 상영 등급 분류를 하되, 등급 분류를 받지 아니한 영화에 대해 상영을 금지하는 제도였다. 그러나 이 제도는 결과적으로 영상물에 대한 사전 검열에 해당하므로 헌법 재판소는 이 조항에 대하여 위헌 결정을 내렸다.

— <보 기> —

- ㄱ 사법부의 권한을 약화시킨다.
- ㄴ 입법부의 입법권을 견제한다.
- ㄷ 예술과 창작 활동의 자유를 보장하기 위한 것이다.
- ㄹ 사전 검열에 해당하는 보류는 허용되지 않는다는 취지이다.

- ① ㄱ ㄷ ② ㄱ ㄹ ③ ㄴ ㄷ
- ④ ㄱ ㄴ ㄹ ⑤ ㄴ ㄷ ㄹ

19. 그림은 A국의 ‘갑’ 당과 ‘을’ 당에 대한 정당 지지도와 각 당의 국회 의석률 및 대통령 선거 득표율을 나타낸 것이다. 이에 대한 설명으로 적절한 것을 <보기>에서 모두 고른 것은? [3점]

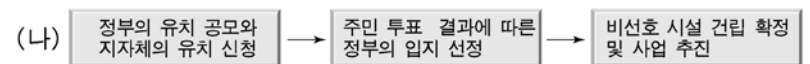
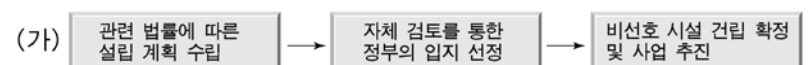


— <보 기> —

- ㄱ 정권 교체가 지속적으로 일어났다.
- ㄴ 여당이 국회에서 제1당을 차지한 경우가 없었다.
- ㄷ ‘갑’ 당과 ‘을’ 당은 각각 국회에서 과반수를 확보하지 못하였다.
- ㄹ ‘갑’ 당은 ‘을’ 당에 비해 정당 지지도와 대통령 선거 득표율 간의 상관 관계가 높다.

- ① ㄱ ㄴ ② ㄱ ㄷ ③ ㄴ ㄹ
- ④ ㄱ ㄷ ㄹ ⑤ ㄴ ㄷ ㄹ

20. (가)와 (나)는 비선호 시설의 입지 선정 방식을 나타낸 것이다. 이에 대한 설명으로 적절한 것을 <보기>에서 모두 고른 것은?



* 비선호 시설이란 방사성 폐기물 처리장 등과 같이 지역 주민들이 기피 또는 혐오하는 시설을 말한다.

— <보 기> —

- ㄱ (가)는 상향식 의사 결정 방식을 채택하고 있다.
- ㄴ (나)는 직접 민주 정치의 요소를 반영하고 있다.
- ㄷ (가)는 (나)에 비해 지방 자치의 원리에 보다 충실하다.
- ㄹ (나)에 비해 (가)에서는 정부가 지방 자치 단체보다 더 큰 권한을 행사한다.

- ① ㄱ ㄴ ② ㄱ ㄷ ③ ㄴ ㄹ
- ④ ㄱ ㄷ ㄹ ⑤ ㄴ ㄷ ㄹ

* 확인 사항

◦ 답안지의 해당란에 필요한 내용을 정확히 기입(표기)했는지 확인 하시오.