

제 4 교시

사회탐구 영역(정치)

성명

수험 번호

1. 다음 글의 밑줄 친 문제를 해결하는 적절한 방안만을 <보기>에서 있는 대로 고른 것은? [3점]

만장일치는 가장 이상적인 의사 결정 방식이기는 하지만, 모든 의사 결정이 그렇게 되기는 쉽지 않다. 의사가 충돌하는 사안에 있어서도 구속력 있는 결정이 내려지고 집행되어야 하기 때문에 다수의 의사에 따른 결정이 현실적으로 민주적인 방식이다. 하지만 이를 적용하더라도 다수 의사의 남용을 어떻게 방지하고, 소수 의사를 어떻게 존중할 것인가라는 문제에 주의를 기울여야 한다.

- < 보 기 > —
- ㄱ. 소수의 의사가 다수의 의사가 될 수 있는 기회를 보장한다.
 - ㄴ. 다수결에 따른 결정이 기본권을 침해하는 경우를 엄격히 제한한다.
 - ㄷ. 소수와 사전에 합의를 도출하기보다 사후에 보상을 제공하도록 한다.
 - ㄹ. 인간의 존엄성과 같은 본질적 가치에 대해서는 다수결을 적용하지 않는다.

- ① ㄱ, ㄴ

② ㄴ, ㄹ

③ ㄱ, ㄴ, ㄹ
- ④ ㄱ, ㄷ, ㄹ

⑤ ㄴ, ㄷ, ㄹ
2. (가), (나)는 정치 형태에 대한 분류이다. 이에 대한 옳은 설명만을 <보기>에서 있는 대로 고른 것은?

(가)

통치 목적	국가 및 구성원의 이익 추구			통치 책임자의 이익 추구		
통치 책임자	1인	소수	다수	1인	소수	다수
정치 형태	군주정	㉠	공화정	폭군정	㉡	㉢

(나)

통치 목적	법을 통한 국민 주권의 실현		
통치 책임자	1인	소수	전체 또는 다수
정치 형태	군주정	귀족정	민주정

- < 보 기 > —
- ㄱ. (가)에서 재산가들이 자신들의 이익을 추구하는 정치는 ㉠에 해당한다.
 - ㄴ. (가)에서 특출한 소수가 통치를 담당하여 빈부 격차 해소에 주력하는 정치는 ㉡에 해당한다.
 - ㄷ. (가)에서 다수의 가난한 자들이 자신들의 이익을 추구하는 정치는 ㉢에 해당한다.
 - ㄹ. (나)에서 입헌적 정부는 민주정에 국한되어 나타난다.
 - ㅁ. (나)에서 (가)의 공화정과 가장 유사한 정치 형태는 민주정이다.

- ① ㄱ, ㄴ

② ㄴ, ㄹ

③ ㄷ, ㅁ
- ④ ㄱ, ㄷ, ㄹ

⑤ ㄷ, ㄹ, ㅁ

3. (가), (나)는 근대 정치 사상가들의 주장이다. 이에 대한 설명으로 옳은 것은? [3점]

- (가) 자연 상태에서 개인들은 자신의 생명을 보존하기 위해 원하는 대로 자신의 힘을 사용할 자유를 가진다. 이로 인해 개인은 서로 불신하고 투쟁하게 되고, 개인들은 평화와 안전을 위해 제3자인 주권자의 보호를 받는 데에 동의한다.
- (나) 자연 상태에서 개인들은 평화롭게 생명, 자유, 재산을 향유하는 자연권을 가진다. 하지만 대부분이 정의를 엄격히 준수하지 않으므로 개인의 자연권 향유는 불안하고 불확실하다. 자연권의 침해에 대해 개인은 처벌할 수 있는 힘을 가지지만, 이는 자연권을 안정적으로 보호하는 수단이 되지 못한다. 이에 개인들은 실정법, 재판관, 집행 기관을 갖춘 정부의 설립에 동의한다.

- ① (가)에서 개인은 주권자의 보호에 의존함으로써 자연 상태에서의 자유를 확대한다.

② (나)의 자연 상태에서 행사되는 개인의 처벌권은 정부 수립 후에도 유지된다.

③ (가)와 달리 (나)의 자연 상태에서 개인들은 자연법을 준수한다.
- ④ (가)와 (나)는 개인주의 관점에서 국가의 필요성을 정당화하는 공통점이 있다.

⑤ (가)와 (나)는 각각 개인의 자연권 보호를 위해 국민 주권에 바탕을 두는 국가를 추구한다.

4. (가), (나)의 주장에 대한 옳은 설명만을 <보기>에서 있는 대로 고른 것은?

- (가) 정부의 법률이나 정책이 정의롭지 못하다고 판단될 때, 시민은 이를 지키지 않는 운동을 비폭력적 방식으로 펼쳐야 한다.
- (나) 정부의 법률과 정책이 정의롭지 못하더라도 민주적인 절차에 의해 제정되고 결정된 것이기 때문에 시민은 이를 준수해야만 한다.

- < 보 기 > —
- ㄱ. (가)는 현재의 법률과 정책의 잘못은 차기 선거를 통해 평가되고 시정되어야 한다고 본다.
 - ㄴ. (가)는 법률이 보장하는 방식으로 잘못된 법과 정책을 시정하는 것은 오랜 시간이 걸려 그 동안의 피해를 막을 수 없다고 본다.
 - ㄷ. (나)는 잘못된 법률을 개정하기 위해서는 입법 절차를 거쳐야 한다고 본다.
 - ㄹ. (나)는 법률을 개인적 판단하에 준수하기도 하고 거부하기도 한다면 법체계의 정당한 강제력이 상실된다고 본다.

- ① ㄱ, ㄴ

② ㄷ, ㄹ

③ ㄱ, ㄴ, ㄷ
- ④ ㄱ, ㄴ, ㄹ

⑤ ㄴ, ㄷ, ㄹ

5. (가), (나)에 대한 옳은 설명을 <보기>에서 고른 것은?

권력은 집중화되는 경향이 있기 때문에 개인의 자유와 권리를 침해할 수 있다. 따라서 민주 정치에서는 권력을 기능적으로 분산시키기 위한 정치 원리가 필요하다. 이러한 취지에서 많은 국가들이 (가)를 통해 권력을 수평적으로 분산하여 권력 남용을 방지하고자 하며, (나)를 통해 지역적, 수직적으로 권력을 분산시킴으로써 민주 정치의 자치성을 확대하고자 한다.

— < 보 기 > —

- ㄱ. (가)는 권력의 자의적 행사를 방지하고자 한다.
- ㄴ. 입법권이 의회에 속하는 것은 (가)에 해당한다.
- ㄷ. (가)는 대통령제보다 의원 내각제 정부 형태에서 더 중시된다.
- ㄹ. 양원제는 (나)의 실현을 위한 선결 조건이다.

- ① ㄱ, ㄴ ② ㄱ, ㄷ ③ ㄴ, ㄷ ④ ㄴ, ㄹ ⑤ ㄷ, ㄹ

6. 다음에 나타난 제도 변경의 취지로 옳은 내용을 <보기>에서 고른 것은?

- 광역 및 기초 의원을 무급 명예직에서 유급직으로 전환
- 자치구·시·군의 지역구 의원은 선거구별 1인 선출에서 2~4인 선출로 변경
- 광역 및 기초 단체장, 광역 의원 및 기초 의원, 광역 의회 및 기초 의회 비례 대표 의원, 교육감 및 교육 위원 선거 동시 실시

— < 보 기 > —

- ㄱ. 충실한 의정 활동을 위한 여건 조성
- ㄴ. 최대 8표의 지역구 선거 투표권 확보
- ㄷ. 사표(死票) 축소 및 주민의 다양한 의사 반영
- ㄹ. 선거 운동 기회에 있어 후보자 간의 형평성 도모

- ① ㄱ, ㄴ ② ㄱ, ㄷ ③ ㄴ, ㄷ ④ ㄴ, ㄹ ⑤ ㄷ, ㄹ

7. 그림의 밑줄 친 부분에 들어갈 말로 가장 적절한 것은?



- ① 집단 간 갈등을 완화시키잖아.
- ② 신속한 정책 결정을 유도하잖아.
- ③ 정치 과정의 환류 기능을 강화하잖아.
- ④ 형성 과정에서 조작 가능성이 낮잖아.
- ⑤ 책임 소재가 분명하여 신뢰성이 높잖아.

8. 다음 체크 리스트의 밑줄 친 부분에 들어갈 제도로 가장 적절한 것은?

<○○국의 민주 정치에 대한 체크 리스트>		예	아니오
(가) 국민이 자유롭고 평등한 참정권을 가지고 있는가?	<input checked="" type="checkbox"/>	<input type="checkbox"/>	
(나) 국민의 심의를 통하여 정책이 결정되고 있는가?	<input type="checkbox"/>	<input checked="" type="checkbox"/>	
(다) 국민의 개별적 의사들이 매개 없이 국민 의사로 수렴되고 있는가?	<input type="checkbox"/>	<input checked="" type="checkbox"/>	
(라) 국민이 전문적 지식과 안목을 갖춘 자들에게 정책 결정을 위임하고 있는가?	<input checked="" type="checkbox"/>	<input type="checkbox"/>	
결론 : (가)~(라)의 체크 결과를 종합하여 판단할 때, ○○국은 _____를 바탕으로 민주주의를 운영하고 있다.			

- ① 대의제 ② 권력 분립제 ③ 보통 선거제
④ 국민 투표제 ⑤ 지방 자치제

9. 표는 국가관을 (가), (나)로 구분한 것이다. 이에 대한 옳은 설명만을 <보기>에서 있는 대로 고른 것은? [3점]

구분 국가관	국가의 역할	중시하는 가치	국가 예산 중 복지비 비중
(가)	소극적	평등보다 자유	작다
(나)	적극적	자유와 평등	크다

— < 보 기 > —

- ㄱ. (가)는 국가를 필요악(必要惡)으로 간주한다.
- ㄴ. (나)는 최소의 정부를 최선의 정부로 간주한다.
- ㄷ. (나)에서는 국가에 의한 인간다운 삶의 보장을 강조한다.
- ㄹ. (나)보다 (가)를 따를 때 행정 국가화 현상이 나타날 가능성이 높다.

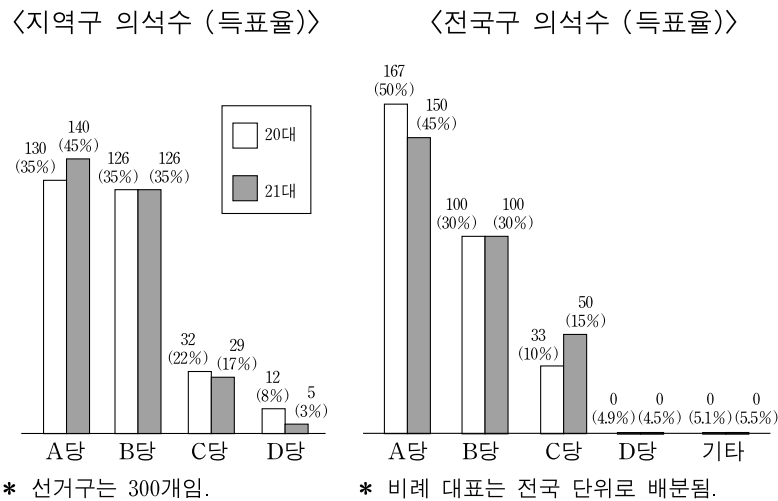
- ① ㄱ, ㄴ ② ㄱ, ㄷ ③ ㄴ, ㄹ
④ ㄱ, ㄷ, ㄹ ⑤ ㄴ, ㄷ, ㄹ

10. 다음 글의 핵심 내용으로 가장 적절한 것은?

일상 생활에서 우리는 언론 매체를 통해 정치 정보를 지속적으로 전달받는다. 이 과정은 대부분 비의도적으로 진행되나, 사람들은 이를 통해 자연스럽게 한 사회가 지향하는 정치 규범을 터득하게 되고, 기존 정치 체제를 지지하는 것에 익숙해진다. 왜냐하면 언론 매체가 사회 구성원들의 정치적 태도와 가치관 형성에 커다란 영향을 주기 때문이다. 이렇듯 사회 구성원들이 기존 정치 문화에 동화되어 가는 과정에서 언론 매체의 역할은 매우 크다.

- ① 언론 매체는 체계적인 교육을 제공한다.
- ② 언론 매체는 신속한 여론 형성을 돕는다.
- ③ 언론 매체는 국민들의 정치적 의견을 조율한다.
- ④ 정치적 정향 형성에 언론 매체가 영향을 준다.
- ⑤ 정치 권력에 대한 비판은 언론 매체를 통해 이루어진다.

[11~12] 그림은 갑국의 총선 결과이다. 물음에 답하시오.



11. 갑국의 선거 제도에 대한 옳은 설명만을 <보기>에서 있는 대로 고른 것은? [3점]

〈보기〉

- ㄱ. 총 선거구는 301개이다.
- ㄴ. 지역구 대표 선출 방식은 소수 대표제이다.
- ㄷ. 지역구 후보자와 정당에 대한 선택권이 각각 보장된다.
- ㄹ. 군소 정당의 난립을 방지하기 위한 장치가 마련되어 있다.

- ① \neg, \perp ② \perp, \sqsubset ③ \sqsubset, \sqsupset
④ \neg, \perp, \sqsubset ⑤ $\neg, \sqsubset, \sqsupset$

12. 위 선거 결과에 대한 분석으로 옳은 것은? [3점]

- ① 20대에 A당의 지역구 의석률은 전국구 의석률보다 높다.
- ② 전국구 의석수가 가장 많이 줄어든 정당은 B당이다.
- ③ 21대에 B당의 전체 의석률은 전국구 의석률보다 낮다.
- ④ 21대에 지역구 득표율과 지역구 의석률 간의 격차가 가장 큰 정당은 C당이다.
- ⑤ 20대와 21대에서 D당의 전체 의석률에는 변화가 없다.

13. (가), (나)에서 설명하는 정당 기능을 바르게 연결한 것은?

(가) 정당은 국민의 다양한 요구와 이해를 수렴하고 취합하여 그 내용을 구체화하는 동시에 정책 결정 과정에 반영하여 정책 대안으로 전환한다.

(나) 정당은 사회 균열을 반영하여 시민 사회 내의 요구와 갈등을 표면화시키기도 하지만, 다양한 대립과 충돌을 체제 내로 수용함으로써 갈등을 조정할 수 있는 환경을 만들기도 한다.

(가)

(4)

- | | |
|----------|--------|
| ① 이익 집약 | 사회 통합 |
| ② 이익 집약 | 정치적 충원 |
| ③ 이익 표출 | 정치적 충원 |
| ④ 정치 사회화 | 이익 표출 |
| ⑤ 정치 사회화 | 사회 통합 |

14. 표는 A국의 ○○선거 전 실시된 여론 조사 결과이다. 이에 대한 옳은 해석만을 <보기>에서 있는 대로 고른 것은? [3점]

구분		투표 할 것임	투표 안할 것임	미정
연령별	20~30대	180	70	70
	40~50대	150	90	80
	60대 이상	120	140	100
학력별	중졸 이하	200	50	60
	고졸	150	100	80
	대재 이상	100	150	110
소득별	100~199만 원	200	80	50
	200~299만 원	160	100	70
	300만 원 이상	90	120	130
이념 성향별	진보	130	120	100
	중도	170	80	60
	보수	150	100	90

* 총 조사 대상자는 1,000명임.

-〈보기〉

- ㄱ. 학력이 높을수록 투표 참여 가능성이 높다.
- ㄴ. 소득이 높은 유권자일수록 보수적 성향이 강하다.
- ㄷ. 투표율을 높이기 위해서는 20~30대보다 60대 이상의 유권자에 대한 홍보 강화가 요구된다.
- ㄹ. 투표 여부를 결정하지 못한 유권자의 30% 이상이 투표에 참여할 경우 투표율은 50%를 넘을 것으로 예상된다.

- ① \neg, \perp ② \perp, \sqsubset ③ \sqsubset, \sqsupset
④ $\neg, \sqsubset, \sqsupset$ ⑤ $\perp, \sqsubset, \sqsupset$

15. 다음 자료의 A, B국 국민들의 정치 의식에 대한 적절한 추론을 <보기>에서 고른 것은? [3점]

‘권력 거리 지수’ (Power Distance Index, PDI)는 사회 구성원들이 권력의 불평등한 분포를 수용하는 정도를 수치화하는 것이다. PDI가 높으면 국민들이 권력 불평등을 수용하는 정도가 높다는 의미이다. PDI가 높을 경우 구성원들의 권력자에 대한 비판과 이의 제기가 상대적으로 적게 나타난다.

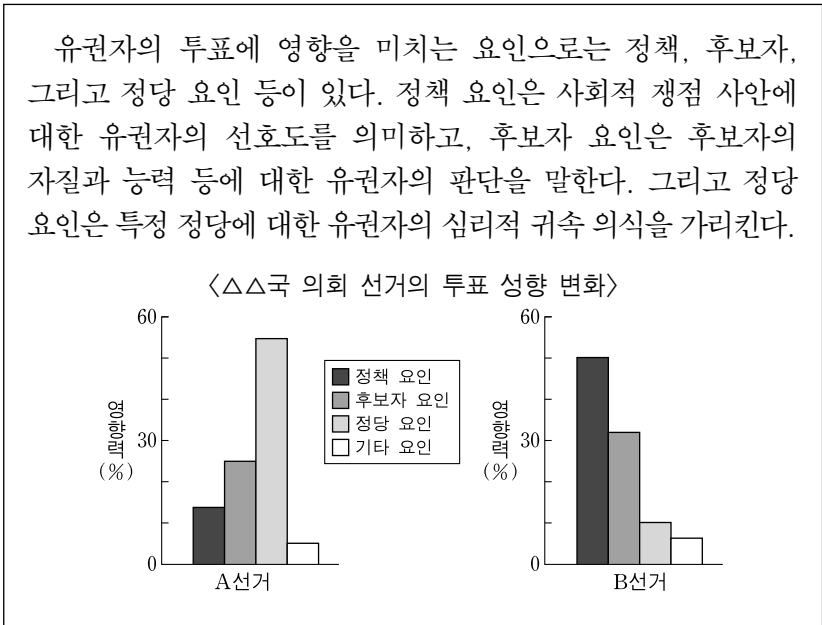
50개국의 PDI를 조사한 결과에 따르면, A국은 104점으로 가장 높았고, B국은 22점으로 최하위로 나타났다.

-〈보기〉

- ㄱ. A국보다 B국의 국민들은 정치 권력에 대한 의사 표출 빈도가 낮을 것이다.
- ㄴ. A국보다 B국의 국민들은 정치 권력의 일방적 행사에 대한 수용도가 낮을 것이다.
- ㄷ. B국보다 A국의 국민들은 정치 권력에 대한 비판 의식이 높을 것이다.
- ㄹ. B국보다 A국의 국민들은 불평등한 권력 배분에 대한 개선 의지가 낮을 것이다.

- ① \neg, \perp ② \neg, \sqsubset ③ \perp, \sqsubset ④ \perp, \sqsupset ⑤ \sqsubset, \sqsupset

16. 다음 자료에 대한 옳은 분석 및 추론만을 <보기>에서 있는 대로 고른 것은? [3점]

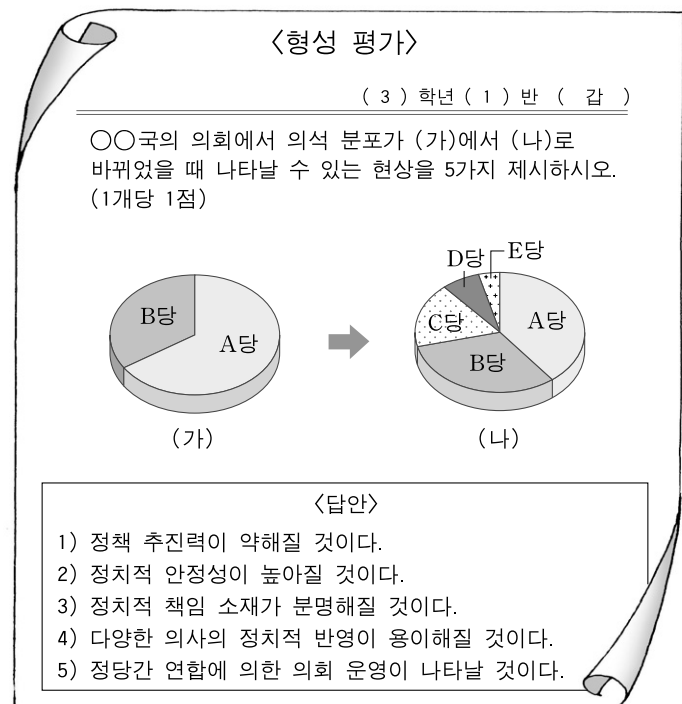


〈 보 기 〉

- ㄱ. A선거에서는 후보자의 자질이 정당에 대한 귀속 의식보다 중요시되었을 것이다.
- ㄴ. A선거보다 B선거에서 후보자의 신뢰성이 더 많은 영향을 미쳤을 것이다.
- ㄷ. A선거보다 B선거에서 정책 이슈 중심의 투표 행태가 강하게 나타났을 것이다.
- ㄹ. A선거에서와 달리 B선거에서는 유권자의 정당 소속감의 영향력이 소멸되었을 것이다.

- ① ㄱ, ㄴ ② ㄴ, ㄷ ③ ㄷ, ㄹ
- ④ ㄱ, ㄴ, ㄷ ⑤ ㄴ, ㄷ, ㄹ

17. 다음은 갑이 제출한 형성 평가지이다. 갑이 얻은 점수는? [3점]



- ① 1점 ② 2점 ③ 3점 ④ 4점 ⑤ 5점

18. 다음 자료에 대한 해석으로 적절하지 않은 것은?

○○ 신 문 2009년 ○월 ○○일

법무부는 입법을 추진하고 있는 ‘유전자감식 정보의 수집 및 관리법’이 심의위원회를 통과했다며 상반기 중 입법 예고할 계획이라고 밝혔다. 제정안에 따르면 강력 범죄의 피의자 및 수형자의 유전자를 채취·수집하고 이를 데이터베이스화 해 이용할 수 있도록 하고 있다.

이에 대해 시민 단체는 인권 침해의 소지가 있다고 강하게 비판하며 입법 계획의 전면 백지화와 토론회 개최를 주장했다.

- ① 입법 과정에서 여론 수렴이 필요함을 보여주고 있다.
- ② 질서 유지와 인권 보호 간의 논란을 보여주는 사례이다.
- ③ 시민 단체는 언론에 대한 비판적 태도를 보여주고 있다.
- ④ 시민 단체의 국가 권력에 대한 감시와 견제 기능을 보여주고 있다.
- ⑤ 시민 단체는 개인 정보 오용에 따른 피해 가능성을 지적하고 있다.

19. 다음 자료의 밑줄 친 결정의 이유로 가장 적절한 것은? [3점]

국회는 어제 본회의를 열고 한국 국적을 보유한 재외 국민에게 투표권을 주는 공직 선거법 개정안을 통과시켰다. 이에 따라 현재 세계 각국에 나가 있는 재외 국민 약 300만 명 가운데 한국 국적을 보유한 240만 명에 대해 오는 2012년 국회의원 선거부터 투표권이 부여된다. 헌법재판소는 2007년에 주민 등록을 선거권 행사 요건으로 하고 있는 공직 선거법에 대해 헌법 불합치 결정을 내린 바 있다.

- ① 주권자인 국민의 알 권리를 보장하고자 하였다.
- ② 투표 가치의 등가성에 대한 차별을 해소하고자 하였다.
- ③ 선거권 확대로 직접 선거의 원칙을 보장하고자 하였다.
- ④ 주민 등록 여부를 선거권 부여의 기준으로 삼고자 하였다.
- ⑤ 보통 선거 원칙은 엄격히 지켜져야 한다는 것을 강조하고자 하였다.

20. 다음 대화의 밑줄 친 부분에 들어갈 내용으로 적절하지 않은 것은?

갑 : 우리나라 헌법의 기본 원리 중 국제 사회와 관련된 것도 있나요?

을 : 네. 국제 평화주의가 있어요. 국제 평화주의는 인류 사회의 평화·번영을 추구하고 다른 국가를 침략하지 않으며 국제법 질서를 존중하는 이념을 말합니다.

갑 : 그 원리를 실현하기 위해 우리나라는 어떤 노력을 하고 있나요?

을 : 우리나라는 _____

- ① 모든 전쟁을 부인하고 있어요.
- ② 국제 구호 활동에 참여하고 있어요.
- ③ 분쟁 지역에서 평화 유지 활동을 펼치고 있어요.
- ④ 저개발국의 빈곤을 해결하기 위해 노력하고 있어요.
- ⑤ 상호주의 원칙에 따라 외국인의 신분과 지위를 보장하고 있어요.

* 확인 사항

- 답안지의 해당란에 필요한 내용을 정확히 기입(표기)했는지 확인하시오.