

제 4 교시

# 사회탐구 영역(정치)

성명

수험 번호

1. (가), (나)는 대표적인 두 가지 사회 계약론이다. 이에 대한 옳은 설명만을 <보기>에서 있는 대로 고른 것은?

(가) 자연 상태에서 인간은 대체로 '자신이 다른 사람으로부터 대접받기를 원하는 대로 다른 사람을 대하라.'는 자연법을 준수한다. 그러나 인간은 종종 편견과 선입견으로 인해 자연법을 위반하고 전쟁 상태로 들어간다. 이런 상태에서 벗어나기 위해 인간은 사회 계약을 맺고 국가를 형성한다.

(나) 자연 상태에서 인간은 누구나 타인의 생명을 위협할 수 있다는 측면에서 동등한 능력을 갖고 있다. 인간은 이 상태에서 타인을 먼저 공격할 수밖에 없고, 누구도 이런 행위를 정의롭지 못하다고 비난할 수 없다. 이런 상태에서 벗어나기 위해 인간은 사회 계약을 맺고 국가를 형성한다.

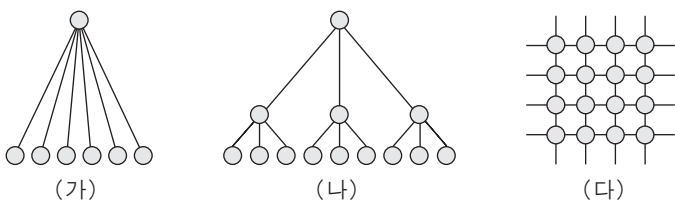
— < 보 기 > —

- ㄱ. (가)의 자연 상태에서 인간은 이성의 활용으로 자연법을 집행한다.
- ㄴ. (가)의 자연 상태에서 인간은 자연에 노동을 투여함으로써 소유권을 가진다.
- ㄷ. (나)에서 통치자의 권력 행사는 입법권에 의해 제한받는다.
- ㄹ. (나)의 자연 상태에는 '정의'의 개념이 없으므로 자연법도 존재하지 않는다.

- ① ㄱ, ㄴ                      ② ㄱ, ㄷ                      ③ ㄷ, ㄹ
- ④ ㄱ, ㄴ, ㄹ                ⑤ ㄴ, ㄷ, ㄹ

2. 다음 글의 밑줄 친 부분에 해당하는 그림을 (가)~(다)에서 찾은 후, 그 특징을 가장 적절하게 설명한 것은? [3점]

이 체제는 선진국과 아시아, 아프리카, 그리고 라틴아메리카의 개발 도상국 간에 이루어지고 있는 국제 관계를 말하는 것으로, 경제 발전의 수준 및 규범의 차이에 따른 핵심국·반주변국·주변국의 불평등한 구조를 나타낸다. 이러한 구조가 정치적 종속 현상을 초래하여 일방적 의존을 야기하게 된다는 것이 이 체제의 가장 큰 문제이다.



○는 '국가', —은 '관계'를 의미함.

- ① (가)에 해당하며, 패권국과 위성국 간 위계적인 역학 관계를 그 특징으로 한다.
- ② (나)에 해당하며, 강대국에 의해 약소국이 통제되는 구조이다.
- ③ (다)에 해당하며, 약소국이 동일한 국제적 위상을 나타내는 구조이다.
- ④ (가), (나)에 해당하며, 동일 위상의 국력을 가진 국가 간 위계적인 구조를 그 특징으로 한다.
- ⑤ (가), (다)에 해당하며, 강대국에 의한 지배가 여러 경로로 행사되는 상황을 나타낸다.

3. 그림에 나타난 갑, 을, 병의 투표 행태를 제시문에 근거하여 가장 적절하게 설명한 것은? [3점]



어떤 정치학자는 “유권자가 왜 투표장으로 향하는가?”라는 질문에 답하기 위해  $R=PB-C+D$ 라는 공식을 제시했다. 이 공식에서 R은 투표함으로써 얻게 되는 보상 정도이며, 유권자가 판단할 때 0보다 클 경우 선거에 참여하게 된다. P는 유권자의 한 표가 지지 후보의 당락에 영향을 줄 확률이며, B는 선호하는 후보가 당선될 경우 유권자가 받게 될 혜택이다. C는 투표 참여에 따른 비용이며, D는 시민적 의무로서, 민주주의 실현에 기여한다는 만족감을 의미한다.

- ① 갑은  $PB+D$ 가 C보다 작다고 보았다.
- ② 갑은 P를, 을은 B를 중요하게 보았다.
- ③ 갑은 D를, 병은 B를 중요하게 보았다.
- ④ 갑은 D를 중요하게 보았고, 을은  $PB+D$ 가 C보다 크다고 보았다.
- ⑤ 을은 B를 중요하게 보았고, 병은  $PB+D$ 가 C보다 크다고 보았다.

4. 다음 글에 나타난 '국력' 개념을 근거로 한 적절한 추론만을 <보기>에서 있는 대로 고른 것은?

오늘날 국제 사회에서는 물질 자원을 통해 직접적이고 강제로 영향을 미치는 기존의 국력 개념과 함께 문화·이데올로기·제도 등을 통해 간접적으로 영향력을 행사할 수 있는 새로운 국력 개념이 대두되고 있다. 이로 인해 국력에 대한 평가도 두 가지 측면을 모두 고려하는 것이 현실이다. 예를 들어 21세기 미국의 위상에 대하여 미국 국력의 쇠퇴를 주장하는 학자들은 안보 및 경제 측면에서 미국의 영향력이 감소하는 점을 지적하고 있다. 하지만 사회 제도 및 문화 측면까지 포함하여 미국의 영향력을 파악하는 학자들은 이에 동의하지 않는다.

— < 보 기 > —

- ㄱ. 강대국 중 새로운 개념의 국력을 월등하게 소유하고 있는 국가가 앞으로도 계속 영향력을 행사할 것이다.
- ㄴ. 약소국은 자국의 위상 제고를 위해서 기존 개념의 국력을 포기하고 새로운 개념의 국력 신장에 집중할 것이다.
- ㄷ. 향후 각국은 새로운 개념의 국력 신장을 위해 인터넷 및 방송을 통해 자국 문화와 가치의 확산을 도모할 것이다.
- ㄹ. 세계적 기업의 육성을 통한 경제적 영향력의 확대가 새로운 국력 개념을 구성하는 가장 주요한 요인이 될 것이다.

- ① ㄱ, ㄴ                      ② ㄱ, ㄷ                      ③ ㄴ, ㄹ
- ④ ㄱ, ㄷ, ㄹ                ⑤ ㄴ, ㄷ, ㄹ

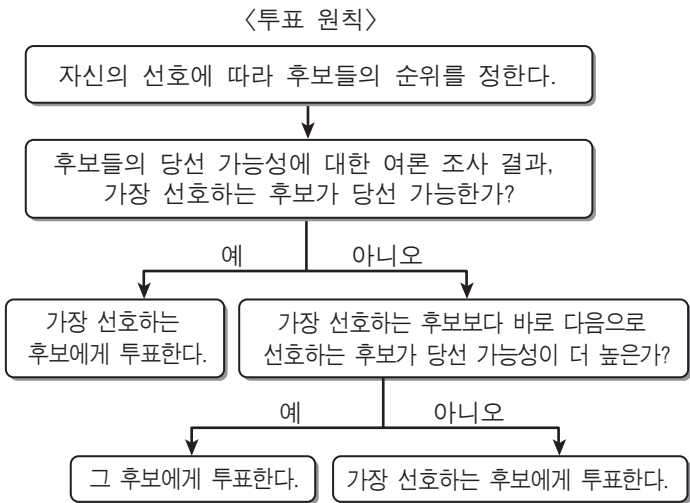
5. 다음 글의 밑줄 친 ㉠~㉣에 대한 적절한 추론만을 <보기>에서 있는 대로 고른 것은? [3점]

근대 대의제 민주주의의 의의는 크게 두 가지로 나뉜다. 첫째, 유권자는 대표의 선출을 통해 자신의 의사를 집합적으로 표현한다. 이 관점에서 ㉠대표는 주인인 유권자의 의사를 정확하게 대리해야 한다. 둘째, 유권자는 자신보다 공공선을 더 잘 판단할 수 있는 사람을 내세운다는 의미에서 대표를 선출한다. 이 관점에서 ㉡대표는 그가 갖고 있는 자질을 바탕으로 유권자로부터 위탁받은 권한을 행사해야 한다. 그러나 불행히도 현대 국가가 채택하고 있는 대의제 민주주의는 두 가지 측면에서 대표의 실패를 종종 경험하고 있다. 하나는 ㉢대표가 유권자의 의사를 제대로 반영하지 않는 것이고, 다른 하나는 ㉣대표가 공공선을 제대로 실현하지 않는 것이다.

— < 보 기 > —

ㄱ. 교육 정도에 따라 대표의 자격을 제한하면 ㉣은 예방된다.  
 ㄴ. 대표가 유권자를 속이고 사익을 추구한다면, ㉢과 ㉣이 모두 나타난다.  
 ㄷ. 재선(再選)을 위해서 유권자의 인기에 영합하는 대표는 ㉢보다 ㉣의 문제를 더 야기한다.  
 ㄹ. ㉣은 대표가 주로 ㉢보다 ㉠의 역할을 제대로 수행하지 못하기 때문이다.

- ① ㄱ, ㄴ                      ② ㄱ, ㄹ                      ③ ㄴ, ㄷ  
 ④ ㄱ, ㄷ, ㄹ                ⑤ ㄴ, ㄷ, ㄹ
6. 다음 자료에 나타난 <투표 원칙>에 따를 경우, <사례>의 유권자 '갑' 과 '을' 이 선택할 후보를 바르게 예측한 것은? [3점]



— < 사 례 > —

○ □ □ 국은 의회 선거에서 1인 1표제의 소선거구제를 운영하고 있다. 어느 지역구에 A, B, C, D, E 5명의 후보가 출마하였고 '갑'의 선호는 E>B>A>C>D이다. 선거 직전 여론 조사에 나타난 후보별 당선 가능성은 A 30%, B 25%, C 15%, D 10%, E 20%이다.

○ △ △ 국은 의회 선거에서 지역구별로 2명을 선출하는 1인 1표제의 중선거구제를 운영하고 있다. 어느 지역구에 F, G, H, I, J 5명의 후보가 출마하였고 '을'의 선호는 J>H>G>I>F이다. 선거 직전 여론 조사에 나타난 후보별 당선 가능성은 F 15%, G 20%, H 30%, I 10%, J 25%이다.

- |     |   |     |   |
|-----|---|-----|---|
| 갑   | 을 | 갑   | 을 |
| ① A | H | ② A | J |
| ③ B | H | ④ B | J |
| ⑤ E | G |     |   |

7. 다음 글에 나타난 주장으로 가장 적절한 것은?

정당에 대한 충성심은 어린 시절 가족을 통해서 전달되고, 이렇게 일단 정당 일체감이 형성되면 이는 대중 매체의 홍보와 보도의 영향력으로부터 사람들을 보호해 주는 정치적 인식의 여과 장치 역할을 한다. 이러한 장치를 통하여 유권자는 자신이 보기 원하는 것을 보고, 기억하고 싶은 것을 기억한다. 예를 들어 영국에서 노동당 지지자는 진보적 성향의 신문인, 보수당 지지자는 보수적 성향의 신문을 주로 구독한다.

- ① 대중 매체의 선택적 보도는 유권자가 무엇에 대해 생각하고 말하는가에 영향을 미친다.  
 ② 대중 매체를 취사선택함으로써 유권자는 자신의 의견을 지지하는 정보를 주로 받아들인다.  
 ③ 대중 매체는 정치 사회화의 주요한 기관으로서 유권자의 정당 일체감 형성에 영향을 미친다.  
 ④ 대중 매체를 정당 정책의 홍보 수단으로 이용함으로써 정당은 대중으로 하여금 호의적 태도를 갖게 한다.  
 ⑤ 대중 매체는 선거에서 경쟁 구도에만 관심을 집중시킴으로써 주요한 정치적 쟁점들을 관심의 대상에서 배제시킨다.

8. 다음은 어느 근대 사상가의 국가론이다. 밑줄 친 부분에 대한 설명으로 옳은 것은? [3점]

인간은 태어날 때부터 자유롭지만 온갖 속박으로 가득 찬 세상에 살고 있다. 개인을 보호할 것으로 여겨졌던 국가가 일단 세워지고 나면 개인을 예속하고 주인 노릇을 하기 때문이다. 한편, 국가 성립 이후에도 개인이 자유를 보존할 수 있는 길은 국가의 명령이 각 개인의 의지로부터 나오게 하는 것이다. 이를 위해 개인은 공동체에 자기 자신을 완전히 이양하고 공동체의 일부분이 되어야 한다. 이런 과정으로 만들어진 공동체의 의지는 공동선을 결정함에 있어서 항상 옳으며, 어떤 경우에도 실수하지 않는다.

- ① 현실 정치에 적용할 때 주로 만장일치로 나타난다.  
 ② 훌륭한 시민에게는 사적 의지와 동일하게 나타난다.  
 ③ 규모가 크고 인구가 많은 국가에서 성공적으로 나타난다.  
 ④ 항상 옳아야 하므로 현명한 철인(哲人)이 판단하도록 한다.  
 ⑤ 자신의 자유를 위협한다고 판단되면 시민은 불복종해도 된다.

9. 다음 글에 나타난 주장에 부합하는 사례로 가장 적절한 것은?

국가 간의 통상(通商) 관계를 설명할 때는 경제적 시각뿐만 아니라 정치적 시각을 잘 활용해야 한다. 경제적 시각만으로 통상 문제를 이해하는 데는 한계가 있다. 따라서 국가 간 안보 관계가 통상 협력 및 갈등과 관련되어 있다는 전제하에 안보 관계의 견지에서 통상 관계를 분석해야 한다.

- ① A국과 B국 간 경제적 격차가 양국 간 군사적 갈등으로 비화된다.  
 ② A국 시장에서 B국 제품의 시장 점유율이 증가할수록 양국 간 통상 관계는 갈등적 성향을 보인다.  
 ③ A국과 B국 간 통상 관계는 두 국가의 선거 주기에 근거한 국내 정치적 쟁점에 의해 영향을 받는다.  
 ④ A국은 냉전적 양국 체제 하에서 동맹국인 B국의 보호 무역 정책을 감내하며 우호적인 통상 관계를 유지한다.  
 ⑤ A국은 호경기 하에서 B국의 경제적 침투를 수용할 능력과 의사를 갖고 있으므로 B국과 개방적인 통상 관계를 유지한다.





16. 다음 글에 나타난 평등에 대한 갑국 사람들의 특징적 요구에 해당하는 사례로 가장 적절한 것은?

다른 나라에 비해 갑국 사람들의 가장 두드러진 특징은 이들이 법적·정치적 평등의 요구를 넘어 구성원 간에 삶의 조건에 있어서 평등을 지나치게 요구하고 있다는 점이다. 갑국 사람들의 이런 특징은 결국 그들의 삶의 방식이 점차 획일화되는 결과를 초래하였고, 이로 인해 갑국에서는 개별 시민의 개성이 무시되거나 자유가 침해되는 현상이 벌어지기도 한다.

- ① 능력에 관계 없이 동일한 소득을 요구한다.
- ② 성별에 관계 없이 투표할 수 있는 권리를 요구한다.
- ③ 학력에 관계 없이 공무원 채용 시험의 응시 자격을 요구한다.
- ④ 재산 정도에 관계 없이 공직에 출마할 수 있는 권리를 요구한다.
- ⑤ 신분에 관계 없이 법에 의해 공정하게 대우받을 것을 요구한다.

17. 다음 글에서 갑국은 의회 의원 선거 제도를 A에서 B로 변경하려고 한다. 제도 변경의 취지로 가장 적절한 것은?

갑국은 의회 의원을 선출하는 방법으로 현재 A 제도를 운영하고 있다. 이 제도는 경쟁 상대보다 유효 투표를 한 표라도 더 많이 획득한 후보자를 당선인으로 결정하는 방식이다. B 제도는 총 유효 득표수의 과반수 또는 일정 수 이상을 득표한 후보자를 당선인으로 결정하는 방법이다. 예를 들어 첫 번째 투표 결과, 최다 득표자의 득표수가 과반수일 경우 그를 당선인으로 결정한다. 그렇지 않을 경우 일정 요건을 갖춘 제한된 수의 후보자에 대하여 재투표를 실시하여 그 중 다수표를 획득한 후보자를 당선인으로 결정하게 된다.

- ① 무소속 후보자의 불리함 방지
- ② 선거 운동의 과열로 인한 부작용 방지
- ③ 능력 있는 정치 신인의 공직 진출 확대
- ④ 투표 결과에 유권자의 의사를 최대한 반영
- ⑤ 선거를 치르기 위해 소요되는 비용의 절감

18. 다음 글의 밑줄 친 부분에 나타난 문제점을 해결하기 위한 적절한 방안을 <보기>에서 고른 것은?

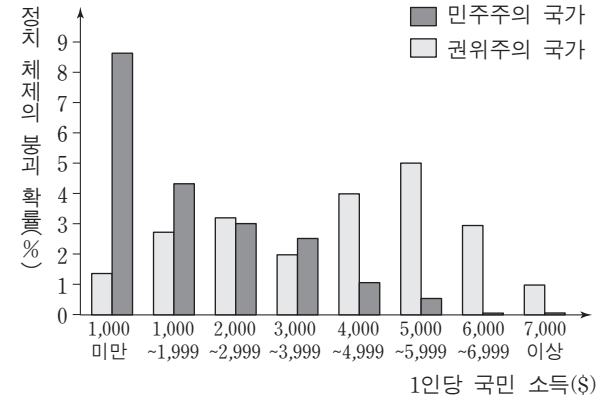
다수에 속하는 개인은 각각 좋은 자질을 모두 갖고 있진 못하더라도 한 집단으로서 혹은 집합체로서 소수의 훌륭한 사람들보다 더 뛰어난 자질을 발휘한다는 주장이 있다. 예컨대 다수는 소수보다 음악이나 시인의 작품을 더 잘 판단할 수 있다는 것이다. 각각의 사람들은 작품의 다른 부분들을 감상할 수 있으므로, 그들이 함께 모이게 되면 모든 것을 감상하게 되는 결과를 낳기 때문이다. 그러나 이 같은 주장을 모든 경우에 적용할 수 있을까? 특히 민주적인 정치 공동체가 이런 원칙을 무조건적으로 적용하는 것은 위험한 결과를 낳을 수 있다고 우려하는 이들도 있다.

— < 보 기 > —

ㄱ. 국가적으로 중대한 사안은 전문가의 권위에 따른다.  
 ㄴ. 다수를 견제할 수 있는 법적·제도적 장치를 마련한다.  
 ㄷ. 누구든지 비판과 토론이 가능한 공론의 장을 마련한다.  
 ㄹ. 갈등이 예견되는 문제는 공적인 심의 과정을 생략한다.

- ① ㄱ, ㄴ
- ② ㄱ, ㄷ
- ③ ㄴ, ㄷ
- ④ ㄴ, ㄹ
- ⑤ ㄷ, ㄹ

19. 그림은 국가의 1인당 국민 소득 수준과 정치 체제의 붕괴 확률에 관한 내용이다. 이에 대한 옳은 분석만을 <보기>에서 있는 대로 고른 것은? [3점]



— < 보 기 > —

ㄱ. 민주주의의 국가는 권위주의의 국가보다 정치 체제의 붕괴 가능성이 낮다.  
 ㄴ. 권위주의의 국가는 1인당 국민 소득이 낮을수록 정치 체제의 붕괴 가능성이 높다.  
 ㄷ. 민주주의의 국가의 경우, 1인당 국민 소득이 높아질수록 정치 체제가 붕괴되지 않을 가능성이 높다.  
 ㄹ. 1인당 국민 소득 수준과 정치 체제의 붕괴 가능성 간의 관계는 권위주의의 국가보다 민주주의의 국가에서 더 일관성이 있다.

- ① ㄱ, ㄴ
- ② ㄴ, ㄷ
- ③ ㄷ, ㄹ
- ④ ㄱ, ㄴ, ㄹ
- ⑤ ㄱ, ㄷ, ㄹ

20. 다음 글에 대한 적절한 분석만을 <보기>에서 있는 대로 고른 것은? [3점]

북대서양조약기구(NATO)와 유럽공동체(EC)는 남부 유럽 국가들에게 정치적·경제적 연결망을 제공하면서 이들 국가의 발전에 긍정적인 영향을 끼쳤다. 이들 국가에서는 경제 문제보다 정치 권력의 향배가 주요한 관심사였다. 예컨대 1980년대 비민주적인 남부 유럽 국가들이 NATO 회원국이라는 점은 군부의 직업주의와 정체성을 강화시켜 주었고, 이러한 점이 군부를 안심시켜 이들 국가가 민주주의로 전환하는데 도움이 되었다. 반면에 남아메리카 국가들은 NATO 및 EC와 같은 기구를 전혀 가지고 있지 않았고 군부가 정치에 계속 개입하고 있었다. 이들 국가는 지속적인 외채 위기로 인해 정치적 민주화보다 경제 안정이 중요하게 되었으며, 이것이 민주주의의 공고화에 방해가 되었다.

— < 보 기 > —

ㄱ. 민주화 과정에서 군부의 반발을 무마하는 것이 필요하다.  
 ㄴ. 초국가적인 지역 기구에의 소속이 일국의 정치적·경제적 발전에 기여한다.  
 ㄷ. 남아메리카 국가들은 선 경제 발전, 후 정치 발전의 모델을 따를 가능성이 크다.  
 ㄹ. 남부 유럽 국가들은 남아메리카 국가들에 비해 정치 발전은 앞서 있으나 경제 발전은 뒤쳐져 있다.

- ① ㄱ, ㄴ
- ② ㄱ, ㄹ
- ③ ㄷ, ㄹ
- ④ ㄱ, ㄴ, ㄷ
- ⑤ ㄴ, ㄷ, ㄹ

\* 확인 사항  
 ○ 답안지의 해당란에 필요한 내용을 정확히 기입(표기)했는지 확인 하시오.