

제 4 교시

사회탐구 영역(정치)

성명

수험 번호

1. 다음 글에 나타난 정치 형태에 대한 옳은 추론만을 <보기>에서 있는 대로 고른 것은?

고대 아테네 민주 정치에서 민회는 시민이 누구나 참여하여 입법, 행정, 군사에 관한 사안을 심의하고 결정하는 최고 의결 기관이었다. 그리고 민회의 의사 일정과 민회에 제출될 안건을 결정하는 일은 추첨으로 선출된 시민들로 구성된 평의회가 맡았다. 또한 시민은 추첨에 의해 일상적인 행정 업무를 담당하는 행정관이 될 수 있었고, 각 부족 단위로 추첨을 통해 재판소의 배심원으로 선출되어 재판에도 참여할 수 있었다.

- < 보 기 > —
- ㄱ. 시민의 참정권은 능력에 따라 부여되었을 것이다.
 - ㄴ. 모든 국정이 시민의 대표에 의해 처리되었을 것이다.
 - ㄷ. 시민으로 구성되는 조직들이 입법, 행정, 재판 기능을 담당했을 것이다.
 - ㄹ. 행정관과 배심원의 선출 방식은 직무 전문성을 보장하지 못했을 것이다.

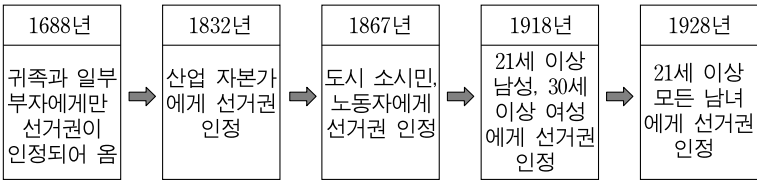
- ① ㄱ, ㄴ ② ㄷ, ㄹ ③ ㄱ, ㄴ, ㄷ
- ④ ㄱ, ㄷ, ㄹ ⑤ ㄴ, ㄷ, ㄹ

2. (가)~(다)의 사례에 대한 분석으로 옳지 않은 것은? [3점]

- (가) 5명의 후보가 출마한 A국 의회 □□ 지역구의 보궐 선거 결과, 유권자의 20%가 투표하여 22%를 득표한 갑이 당선되었다.(유권자는 1인 1표 행사, 선거구당 1인 선출)
- (나) 원내 60석을 차지하고 있는 B당은 선거법 개정안을 C당의 반대에도 불구하고 의회 본회의에서 찬성 60표, 반대 38표로 통과시켰다.(총 의원 수 100명, 법률안은 재적 의원 과반수 출석과 출석 의원 과반수 찬성으로 의결)
- (다) D단체 대표 재신임 투표에서 대표 을은 총 80인의 이사 중 20인 출석에 찬성 9표, 반대 7표, 기권 4표를 얻어 재신임을 받지 못하였다.(대표에 대한 재신임은 출석 이사 과반수의 찬성으로 의결)

- ① (가)에서는 유권자의 참여 부족으로 인해 지역구 내 갑의 대표성이 낮게 나타났다.
- ② (나)에서는 C당의 입장을 지지하는 유권자의 정치적 의사가 법안에 반영되지 않았다.
- ③ (다)에서는 투표에 참여하지 않은 대다수의 의사가 최종 결과에 반영되지 않았다.
- ④ (가)보다 (나)에서 해당 사안에 대한 투표권자의 관심이 더 크게 나타났다.
- ⑤ (나)보다 (다)에서 의사 결정에 필요한 최소 인원에 대한 요건이 엄격하였다.

3. 다음 영국의 선거권 확대 과정에 대한 설명으로 옳은 것은? [3점]



- ① 1688년에는 선거권의 평등이 실현되어 있었다.
- ② 1832년의 선거권 확대는 차티스트 운동의 결과로 인해 나타났다.
- ③ 1867년에 확대된 선거권에 의해 선출된 대표는 형식적 합법성을 충족하지 못하였다.
- ④ 1918년 이후에도 제한 선거에 대한 논란이 지속되었다.
- ⑤ 1928년에는 차등 선거 문제를 해결하고자 여성의 참정권을 확대하였다.

4. 다음 대화에서 학생이 답변한 내용 중 옳은 것만을 <보기>에서 있는 대로 고른 것은?

교사 : 다수결은, 개인의 의견 차이로 단일 의사 형성이 어렵기 때문에 국민 의사를 결정하는 현실적인 대안입니다.
학생 : 그러나 다수에 의한 횡포가 나타날 위험은 없을까요?
교사 : 그럴 수 있어요. 그래서 다수의 의사가 정당성을 가져야 해요. 이를 위해서 어떤 전제 조건이 필요할까요?
학생 : _____

- < 보 기 > —
- ㄱ. 구성원이 자유롭게 의사 결정 과정에 참여해야 합니다.
 - ㄴ. 의사 결정의 과정보다는 결과를 더 중요시해야 합니다.
 - ㄷ. 다수는 소수로, 소수는 다수로 될 수 있는 잠재적 가능성을 인정해야 합니다.
 - ㄹ. 각자의 생각을 서로 교환하고 비판하여 가장 타당한 것을 받아들이는 노력을 해야 합니다.

- ① ㄱ, ㄴ ② ㄷ, ㄹ ③ ㄱ, ㄴ, ㄹ
- ④ ㄱ, ㄷ, ㄹ ⑤ ㄴ, ㄷ, ㄹ

5. 밑줄 친 ‘경고’ 조치의 근거로 가장 적절한 것은?

□□□ 방송국 심의 위원회 심의 사항

- 자체 심의 결과 : 경고 (2009. 12. 30.)
- 방송 프로그램 : □□□ TV 현장 뉴스 (2009. 10. 15.)
- 심의 내용 : 뉴스 프로그램 중간에 약 10여 분간 A사 대표가 출연하여 자사 상품을 수차례 노출하는 등 신규 출시 상품에 대해 구체적으로 소개하였기에 경고 조치함.

- ① 다른 매체의 자료를 사용하면서 출처를 밝히지 않았다.
- ② 사적 이해를 위한 수단으로 활용되어 공정성이 훼손되었다.
- ③ 특정 의견을 근거 없이 필연적인 사회 현상으로 단정하였다.
- ④ 불명확한 내용을 사실처럼 보도하여 시청자를 혼동케 하였다.
- ⑤ 쟁점에 대한 해설을 통해 특정한 방향으로 여론을 유도하였다.

[6~7] (가)~(다)는 근대 정치 사상가들의 주장이다. 물음에 답하시오.

- (가) 인간은 ㉠자연법에 따라 자신의 자연권을 향유한다. 그러나 ㉡실정법, 재판관, 집행 권력이 없으면 개인의 권리는 안전하게 보호될 수 없다. 이에 개인들은 입법권을 확립하여 정부를 구성하는 ㉢계약에 동의한다. 입법권은 국가의 최고 권력이지만 시민으로부터 위임받은 권력의 범위 내에서 행사되어야 한다.
- (나) 개인들은 누구나 자신의 권리를 보호하기 위해 타인의 권리를 침해하는 일조차 벌어지는 ㉣불신과 전쟁의 상태에 처해 있다. 이에 개인들은 평화를 추구하라는 ㉤자연법의 명령에 따라 자연적 권리를 포기하고 절대적인 제3의 주권자의 보호 속으로 들어가는 ㉥계약을 맺는다.
- (다) 인간은 각자의 신체와 재산을 보호하는 결합 형태를 필요로 한다. 이 속에서 각 개인은 자기 자신에게만 복종하고 자유로워야 한다. 이를 위해 개인들은 자신의 신체와 모든 힘을 공동의 것으로 하여 ㉦공동선을 보장하는 의지의 최고 지도 아래 맡기는 ㉧계약에 참여하고, 그러한 정치 조직 속에서 개인들 각자는 전체와 하나가 된다.

6. (가)~(다) 각각의 맥락에서 밑줄 친 ㉠~㉧에 대한 설명으로 옳은 것은?

- ① ㉠, ㉢은 모두 사회 계약 전에 효력을 발생하여 자연 상태를 유지하는 기능을 한다.
- ② ㉡은 엄격한 삼권 분립 및 견제와 균형을 제도화하기 위한 것이다.
- ③ ㉢, ㉤, ㉥은 모두 개인의 권리 보호를 위해 정치 질서를 정당화하는 가상적 행위라는 공통점이 있다.
- ④ ㉣은 개인들이 자신이 원하는 것을 할 수 있는 권리에 있어서 불평등하기 때문에 나타난다.
- ⑤ ㉦은 개인들의 대립되는 이해 관계 속에 들어있는 공통적인 것으로 국가 형성 후 정부에 양도된다.

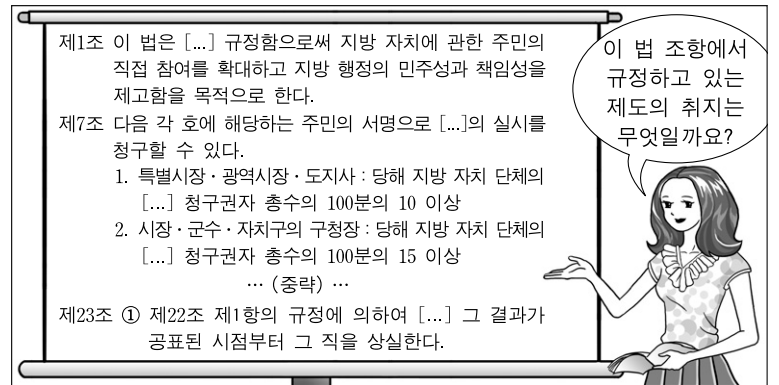
7. (가)~(다)에 대한 옳은 설명만을 <보기>에서 있는 대로 고른 것은? [3점]

— < 보 기 > —

- ㄱ. (가)는 대표에 대한 시민의 신뢰와 시민에 대한 대표의 책임을 바탕으로 정부가 운영되어야 함을 강조한다.
- ㄴ. (나)는 국가 간 평화와 안전을 보장하는 데 국가 형성의 목적이 있음을 강조하며 무정부주의에 대한 반박 논리를 제공한다.
- ㄷ. (다)는 개인의 의사를 공동체의 의사로 통합하려는 자세와 노력이 공동선의 실현을 위해 필수적임을 강조한다.
- ㄹ. (가)~(다)는 모두 자유롭고 평등한 개인을 전제하고, 국민 국가의 운영 원리로서 국민 주권을 강조한다.

- ① ㄱ, ㄴ ② ㄱ, ㄷ ③ ㄴ, ㄹ
④ ㄱ, ㄷ, ㄹ ⑤ ㄴ, ㄷ, ㄹ

8. 교사의 질문에 대해 옳은 답변을 한 학생은? [3점]



- ① 갑 : 지방 행정에 대한 주민의 통제를 강화하는 것입니다.
- ② 을 : 지역에서의 비정부 기구 활동을 활성화하는 것입니다.
- ③ 병 : 지방 행정에서 정당의 역할과 책임을 강화하는 것입니다.
- ④ 정 : 지방 행정에 대한 주민 감사 청구를 활성화하는 것입니다.
- ⑤ 무 : 지방 자치 단체장이 소신 있는 행정을 펼칠 수 있도록 하는 것입니다.

9. (가), (나)에 대한 옳은 설명만을 <보기>에서 있는 대로 고른 것은?

[가]은/는 이해 관계를 집약하는 데 그치지 않고 광범위한 이념적 목표를 토대로 정치적 강령을 실현하고자 하는 데 반해, [나]은/는 협소하고 세부적인 목적, 특히 특정 집단의 이익을 실현하기 위하여 활동한다. 그러나 [나]은/는 종종 [가]을/를 통해 영향력을 발휘하고자 하며, 심지어 어떤 경우에는 [가]을/를 직접적으로 형성하기도 한다.

— < 보 기 > —

- ㄱ. (가)는 국민에 대해 정치적인 책임을 진다.
- ㄴ. (나)는 해당 단체의 이익 표출 기능을 수행하여 (가)의 역할을 보완한다.
- ㄷ. (가)와 (나)는 모두 공공 이익보다 사익을 실현하기 위해 노력한다.
- ㄹ. (가)는 행정 조직에 편입되어 있으며, (나)는 정부 보조금을 지원 받는다.

- ① ㄱ, ㄴ ② ㄴ, ㄷ ③ ㄷ, ㄹ
④ ㄱ, ㄴ, ㄹ ⑤ ㄱ, ㄷ, ㄹ

10. (가), (나)의 사례로부터 추론할 수 있는 의사 결정에 대한 설명으로 옳은 것은?

- (가) A국 정부는 사전 협의 없이 방사성 폐기물 처리장을 ○○지역에 건설하기로 전격적으로 결정하였다.
- (나) B국 정부는 사교육비를 줄이고자 학부모와 시민 단체의 의견을 토대로 공교육 정상화 대책을 마련하였다.

- ① (가)에서는 (나)에서보다 상향식 의사 결정이 강하게 나타났다.
- ② (가)에서는 (나)에서보다 대중에게 더 많은 정책 결정의 책임이 있었다.
- ③ (나)에서는 (가)에서보다 신속한 의사 결정이 이루어졌다.
- ④ (나)에서는 (가)에서보다 권위주의적 정책 결정 행위가 나타났다.
- ⑤ (나)에서는 (가)에서보다 정책 결정에 관여하는 비공식적 행위자들의 의사가 존중되었다.

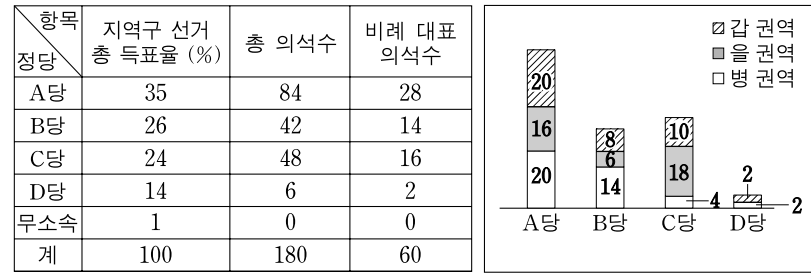
11. 다음은 어느 정치학자의 주장이다. 이 학자가 생각하는 유권자의 바람직한 자세가 아닌 것은?

유권자들은 선거를 통해 대표를 선출하면 그 의원이 지역 유권자들의 이익이 아니라 자신의 판단과 의회에서의 토론 결과에 따라 행동할 것을 기대해야 한다. 의원은 지역구의 대표일 뿐만 아니라 의회의 구성원이기도 하다. 만약 의원이 지역구의 이익과 사회 전체의 이익이 충돌하는 경우 전자에 우선 순위를 부여한다면, 이는 유권자들에 대한 배신으로 간주된다.

- ① 유권자는 대표의 자율성을 방해하지 말아야 한다.
- ② 지역 민원을 우선적으로 처리하는 대표를 뽑아야 한다.
- ③ 선거에서 지역의 대표보다 국가의 대표를 뽑아야 한다.
- ④ 지역 주민의 인기에 연연하는 사람은 뽑지 말아야 한다.
- ⑤ 국가의 미래 비전을 위해 노력하는 사람을 뽑아야 한다.

[12~13] 자료는 ○○국의 의회 선거 결과이다. 물음에 답하시오.

(가) 2004년 의회 선거 결과 및 정당의 권역별 지역구 의석수



(나) 2008년 의회 선거 결과 및 정당의 권역별 지역구 의석수



* 총 120개 지역구에서 선거가 실시되었으며, 2004년에는 지역구 후보에 대해서만 선거가 실시됨.
 ** 전국을 유권자 수가 동일한 3개 권역으로 구분함.

12. 위 자료에 대한 옳은 분석만을 <보기>에서 있는 대로 고른 것은? [3점]

——< 보 기 >——

ㄱ. (가)에서 총 득표율로 비례 대표를 배분한다면, 의석수 배분에서 가장 큰 손해를 보는 정당은 B당이다.

ㄴ. (가)의 비례 대표 의석 배분에서 2위를 한 정당이 (나)의 비례 대표 의석 배분에서는 3위를 하였다.

ㄷ. (가), (나)에서 C당보다 B당의 지역구 의석률의 변동폭이 더 크다.

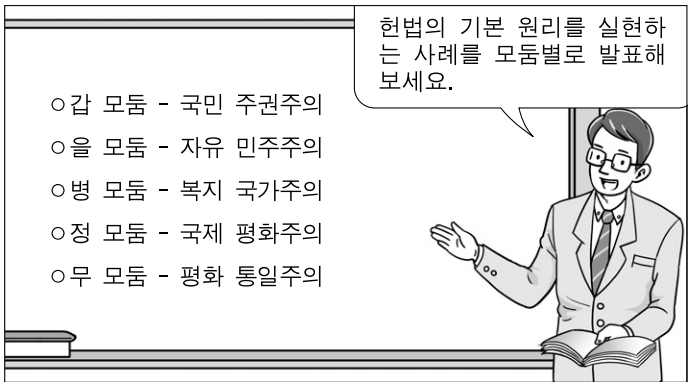
ㄹ. (가), (나)의 을 권역에서 지역구 의석수 변동률이 가장 큰 정당은 B당이다.

- ① ㄱ, ㄷ
- ② ㄱ, ㄹ
- ③ ㄴ, ㄹ
- ④ ㄱ, ㄴ, ㄷ
- ⑤ ㄴ, ㄷ, ㄹ

13. 위 자료 (가), (나)의 제도에 대한 설명으로 옳지 않은 것은?

- ① (가)에서는 다수 대표제와 비례 대표제가 실시되었다.
- ② (나)에서는 후보자와 정당에 대한 투표가 각각 실시되었다.
- ③ (가)와 (나)에서 각 당은 비례 대표 후보 명부를 작성하였다.
- ④ (가)보다 (나)에서는 정당에 대한 유권자의 선호가 더 직접적으로 반영되었다.
- ⑤ (가)보다 (나)에서는 비례 대표 의석 배분에 있어 헌법상의 직접 및 평등 선거권이 침해될 소지가 크다.

14. 그림에서 교사가 제시한 과제에 대해 모둠별로 발표한 내용 중 적절하지 않은 것은? [3점]



- ① 갑 모둠 - 재외 국민의 참정권 보장을 위해 선거권을 부여한다.
- ② 을 모둠 - 책임 정치 실현을 위해 대통령의 법률안 거부권을 폐지한다.
- ③ 병 모둠 - 사회적 기본권 보장을 위해 건강 보험 제도를 확대 실시한다.
- ④ 정 모둠 - 국제 협력을 위해 저개발국을 원조한다.
- ⑤ 무 모둠 - 통일을 위해 북한 주민에 대한 인도적 지원을 늘린다.

15. (가)~(마)에 대한 추론으로 옳지 않은 것은? [3점]

A당은 9월에 실시될 의회 의원 선거에 출마할 후보 공천을 위하여 공천 심사 위원회를 구성하였다. 위원회는 ○○지역구의 예비 후보 3명에 대하여 다음 방안 중 하나를 택하여 공천하기로 결정하였다. (현재 유권자 1,000명을 대상으로 한 여론 조사 결과는 95% 신뢰 수준에 $\pm 3\%p$ 오차 범위에서 갑 후보는 30%, 을 후보는 15%, 병 후보는 5%의 지지율을 보이고 있다.)

- (가) 도덕성, 공직 수행 능력과 전문성, 당 기여도, 사회 봉사 실적만을 기준으로 한 서류 심사를 통해 공천
- (나) 후보들 간 합의에 따라 여론 조사를 실시하여 그 결과에 따라 공천
- (다) 서류 심사, 여론 조사 결과 및 면접 결과를 종합하여 공천
- (라) 당원 1,000명으로 구성된 선거인단의 투표를 통한 경선 결과에 따라 공천
- (마) 당 대표가 전략 공천

- ① (나)는 예비 후보들 간의 여론 조사에 대한 합의 도출이 쉽지 않을 것이다.
- ② (다)는 공천 심사위원의 개인적 판단이 영향을 미칠 수 있다.
- ③ (마)는 당 대표의 자의적 판단에 의해 좌우될 수 있다.
- ④ (나)보다는 (가)에 의해 공천된 후보의 당선 가능성이 높을 것이다.
- ⑤ (라)는 (가)에 비해 공천 비용이 더 많이 발생할 것이다.

16. 다음 글에서 추론할 수 있는 갑과 을의 투표 성향으로 가장 적절한 것은? [3점]

- 갑은 정당 일체감에 따르는 전형적인 유권자다. 정당 일체감은 개인이 특정 정당에 대해 느끼는 애착심이다. 갑은 이에 따라 정당과 후보를 선택한다.
- 을은 자신의 투표 결과가 가져올 혜택과 비용에 대한 평가에 근거해서 자신의 정치적 이익에 가장 부합하는 후보와 정당을 선택한다.

- ① 갑은 비례 대표와 지역구 선거에서 같은 정당에 투표할 것이다.
- ② 갑은 자기의 이익에 맞는 공약을 제시한 후보에게 투표할 것이다.
- ③ 을은 정책보다는 연고 중심으로 투표할 것이다.
- ④ 을은 후보의 능력과 무관하게 지지 정당에 따라 투표할 것이다.
- ⑤ 모든 선거에서 갑이 선택한 정당과 을이 선택한 정당이 일치하지 않을 것이다.

17. 다음과 같은 제도를 갖춘 정부 형태에 대한 옳은 설명을 <보기>에서 고른 것은? [3점]

- 의회의 신임에 구속되는 총리와 내각이 존재한다.
- 국방·외교는 대통령이, 국가의 내치는 총리가 담당한다.
- 대통령과 의회 의원은 모두 국민들이 직접 선거를 통해 선출하고, 총리는 의회에서 선출한다.

— < 보 기 > —

- ㄱ. 입헌 군주제 국가를 전제로 해서 운영된다.
- ㄴ. 대통령과 총리는 모두 의회에 정치적 책임을 진다.
- ㄷ. 대통령과 총리가 정부 권력을 분점하는 것이 취지이다.
- ㄹ. 대통령과 총리의 소속 정당이 항상 일치하지는 않는다.


- ① ㄱ, ㄴ ② ㄱ, ㄷ ③ ㄴ, ㄷ ④ ㄴ, ㄹ ⑤ ㄷ, ㄹ

18. 밑줄 친 '제도'의 도입에 대한 A, B의 입장으로 적절하지 않은 것은?

선거 제도 개선 방안 토론회에서 A는 지역주의 해소와 소수 정당의 의회 진출을 위해 이 제도의 도입을 주장하였다. 그러나 B는 이 제도를 도입할 경우, 지역 구도 타파 의도와 달리 한 지역구에서 한 정당의 후보가 모두 당선되거나, 정당 간 경쟁보다 당내 경쟁이 심화되어 지역 출신 무소속 후보가 모두 당선될 수 있을 것이라며 도입을 반대하였다.

- ① A는 차순위 득표자도 당선될 필요가 있다고 보고 있다.
- ② A는 특정 정당의 독점을 막을 수 있을 것으로 보고 있다.
- ③ B는 선거에서 정책 정당의 역할이 강화될 것으로 보고 있다.
- ④ B는 지지도가 높은 정당에서 출마한 후보들이 모두 당선되지 못할 경우가 발생할 수 있다고 보고 있다.
- ⑤ A는 중대 선거구제에 대해 긍정적이며, B는 부정적인 태도를 취하고 있다.

19. 그림은 ○○국이 실시한 제27대 대통령 선거 결과이다. 이에 대한 옳은 설명 및 분석만을 <보기>에서 있는 대로 고른 것은? [3점]



- * 1차 투표의 투표율은 72%, 2차 투표의 투표율은 80%로 나타났다.
- ** 1차 투표에서 과반수 득표자가 있을 경우 2차 투표는 실시하지 않음.

— < 보 기 > —

- ㄱ. 대통령의 법적 권한을 추가적으로 확대시켰다.
- ㄴ. 당선자는 2차 투표에서 유권자 과반수의 표를 획득하였다.
- ㄷ. 1차 투표에서 상대 다수 대표제를 적용할 경우 기호 1번은 당선되지 않았다.
- ㄹ. 1차 투표에서 유권자의 각 후보에 대한 지지 구도가 2차 투표에 그대로 반영되지 않았다.

- ① ㄱ, ㄴ ② ㄱ, ㄷ ③ ㄷ, ㄹ
- ④ ㄱ, ㄴ, ㄹ ⑤ ㄴ, ㄷ, ㄹ

20. (가), (나)에 대한 옳은 설명만을 <보기>에서 있는 대로 고른 것은?

- (가) 대통령 선거에서 선전 벽보 비용은 인구 100명당 1매의 비율로 국고에서 부담한다. 또한 후보자 또는 연설원이 정견이나 정당 정책 등을 발표하기 위해 언론 매체를 이용할 경우 그 비용 중 일부를 국고에서 부담한다.
- (나) 공직 선거 비용은 대통령 선거에서는 인구수×950원, 지역구 국회 의원 선거에서는 1억 원+(인구수×200원)+(읍·면·동수×200만 원) 등으로 제한한다.

— < 보 기 > —

- ㄱ. (가)는 재력이 없지만 유능한 후보에게도 기회를 주기 위한 것이다.
- ㄴ. (나)는 금권 선거의 가능성을 방지하기 위한 것이다.
- ㄷ. (나)는 경제적 여유가 없는 시민들의 피선거권을 제한하는 제도이다.
- ㄹ. (가), (나)는 모두 선거의 공정성 제고를 위한 제도이다.

- ① ㄱ, ㄴ ② ㄱ, ㄷ ③ ㄱ, ㄴ, ㄹ
- ④ ㄱ, ㄷ, ㄹ ⑤ ㄴ, ㄷ, ㄹ

* 확인 사항

- 답안지의 해당란에 필요한 내용을 정확히 기입(표기)했는지 확인 하시오.