

제 4 교시

사회탐구 영역(정치)

성명

수험 번호

1. (가)에 들어갈 개념에 대한 설명으로 옳지 않은 것은?

최근 갑국과 을국은 정상 회담에서 서로 추구하는 목표가 다르다는 것을 극명하게 보여주었다. 갑국은 을국에 대해 인권과 민주주의 가치를 존중할 것과 투명성과 공정성이 보장되는 시장 개방을 요구하였다. 이에 대해 을국은 내정 불간섭 원칙을 내세우며 국가의 최고 의사 결정권인 (가) 을/를 존중할 것을 요구하였다.

- ① 일반 사회 집단도 소유하는 것이다.
- ② 영토, 국민과 함께 국가를 구성하는 요소이다.
- ③ 민주주의 국가에서는 그 소재가 국민에게 있다.
- ④ 국가의 독립성이 국제적으로 인정되는 근거이다.
- ⑤ 세계화로 그 실질적 행사가 제약받는 경향이 있다.

2. (가), (나)의 자유에 대한 옳은 설명을 <보기>에서 고른 것은?

(가) 자유란 '행동에 대한 외적 강제'의 부재'를 말한다. 즉, 개인이 자신의 욕구를 추구하는 과정에서 국가의 간섭, 특히 의도적이고 강제적인 간섭이 없는 것이다.
(나) 자유란 어떤 사람으로 하여금 X보다는 Y가 될 수 있게 하거나 또는 Y를 할 수 있도록 하는 것이다. 즉, 개인이 자아 실현과 복지에 장애가 되는 사회 구조를 개선하기 위해 국가의 개입을 요구할 수 있는 것을 말한다.

— < 보 기 > —

- ㄱ. (가)는 '국가로부터의 자유'를 의미한다.
ㄴ. (나)는 모든 구성원에게 동일한 결과를 보장한다.
ㄷ. (가)는 (나)에 비해 자유의 절대성을 강조한다.
ㄹ. (가)는 적극적 자유, (나)는 소극적 자유를 의미한다.

- ① ㄱ, ㄴ ② ㄱ, ㄷ ③ ㄴ, ㄷ
- ④ ㄴ, ㄹ ⑤ ㄷ, ㄹ

3. (가)에 들어갈 외교 방식에 대한 설명으로 옳은 것은?

(가) 은/는 공동의 행동 원칙과 상호 호혜성에 입각하여 다수의 국가들과 장기적인 협력 관계를 유지하는 외교 방식이다. 이 외교 방식은 전통적 양자 외교 방식 못지않게 중시되고 있다. 왜냐하면 정보 통신의 발달과 세계화가 진행되는 가운데 개별 국가 또는 양국만의 노력으로 해결할 수 없는 과제들이 증가하고 있기 때문이다.

- ① 단기적인 국익 관철을 우선시한다.
- ② 정부보다 비정부 기구가 주체가 된다.
- ③ 강대국 단독의 일방주의를 강화시킨다.
- ④ 국가 간 상호 의존성을 약화시키고 있다.
- ⑤ 초국가적 문제의 증가로 유용성이 커지고 있다.

4. (가)에 들어갈 내용으로 옳지 않은 것은?



- ① 객관적 증거에 입각하여 재판하는 것
- ② 권리 구제형 헌법 소원 심판을 청구하는 것
- ③ 재판의 심리(審理) 및 판결 과정을 국민에게 공개하는 것
- ④ 하급 법원 판결에 불복하는 경우 상급 법원에서 재판을 다시 받을 수 있도록 하는 것
- ⑤ 형벌이 무거운 범죄에 대한 재판은 단독 판사가 아니라 법원 합의부에서 담당하도록 하는 것

5. 다음은 ○○국 A, B당의 후보 공천 방식이다. 이에 대한 적절한 평가만을 <보기>에서 있는 대로 고른 것은? [3점]

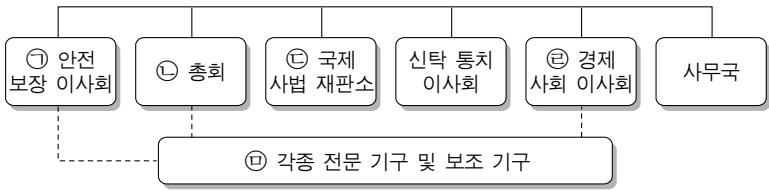
- A당: 공천 심사 위원회는 서류 심사 및 여론 조사를 통해 신청자의 후보 적격 여부에 대한 심사를 거쳐 후보를 추천한다. 심사는 당원 여부를 떠나 경력 및 대중적 이미지를 기준으로 한다. 지역구별로 압축된 복수의 후보 중 당원과 국민이 참여하는 선거인단 경선을 통해 최종 후보를 확정한다. 선거인단 경선은 공천 심사 위원회의 결정에 따라 여론 조사 경선으로 대체할 수도 있다.
- B당: 공천 심사 위원회는 서류 심사를 통해 신청자의 당원으로서의 활동 경력을 검증한다. 그리고 위원회는 압축된 소수를 대상으로 인터뷰를 실시하여 대중적 인지도나 지지도가 낮더라도 정당 목표와 가치를 실현할 수 있는 인물인지를 평가한다. 정당 대표는 이 과정을 통과한 자를 각 지역구 최종 후보로 지명한다.

— < 보 기 > —

- ㄱ. A당이 B당보다 후보의 정당에 대한 이념적 정체성을 중시한다.
ㄴ. A당이 B당보다 후보 신청 자격 기준과 선정 과정이 개방적이다.
ㄷ. B당이 A당보다 후보의 당선 가능성을 중시한다.
ㄹ. B당이 A당보다 후보의 정당에 대한 충성도를 중시한다.

- ① ㄱ, ㄴ ② ㄱ, ㄷ ③ ㄴ, ㄹ
- ④ ㄱ, ㄷ, ㄹ ⑤ ㄴ, ㄷ, ㄹ

6. 그림의 ㉠~㉥에 대한 설명으로 옳은 것은? [3점]



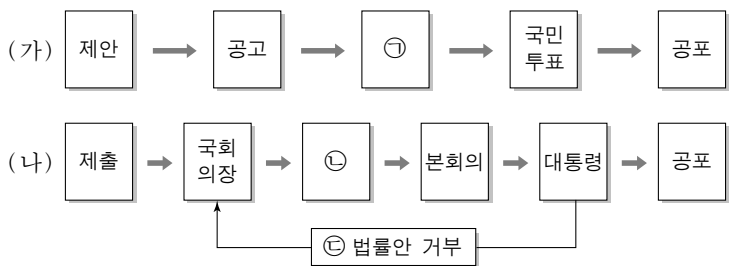
- ① ㉠은 5개 상임 이사국과 10개 비상임 이사국으로 구성된 최고 의결 기관이다.
- ② ㉡에서 회원국은 국가별 재정 분담액에 따라 차등적 투표권을 가진다.
- ③ ㉢은 원칙적으로 당사국 쌍방의 합의에 따른 청구로 재판을 한다.
- ④ ㉣은 지역 분쟁 당사국에 대해 평화 유지를 권고하거나 경제적 제재 조치를 취할 수 있는 권한을 가진다.
- ⑤ 유네스코(UNESCO)와 아시아 태평양 경제 협력체(APEC)가 ㉤에 포함된다.

7. 다음 글의 요지로 가장 적절한 것은?

언론이 대중에게 제공하는 정보의 영향력은 매우 크다. 따라서 언론에 의한 정보 선정과 해설, 배치, 크기의 설정 등이 중요하다. 이것들을 결정하는 가장 중요한 요인은 언론사 소유권자의 의도이다. 그런데 언론사 소유권자는 상업적 이익으로부터 자유로울 수 없다. 그들은 광고주인 기업의 구미에 맞지 않는 기사는 배제하려는 경향을 보이게 된다. 그러나 민주주의 사회에서의 언론 역할을 고려할 때, 언론사 소유권자는 기사 선정이나 해설의 권한을 언론사 구성원에게 위임해야 한다.

- ① 언론의 책임을 다하기 위해 편집권 독립이 보장되어야 한다.
- ② 언론은 신속한 정보 전달을 통해 사회적 쟁점을 규정해야 한다.
- ③ 개인의 사생활을 보호함으로써 언론의 공정성을 확보해야 한다.
- ④ 언론은 정부 감시 기능을 위해 국가 권력으로부터 독립적이어야 한다.
- ⑤ 상업적 저널리즘을 방지하기 위해 언론사의 개인 소유를 제한해야 한다.

8. (가), (나)의 절차에 대한 설명으로 옳지 않은 것은? [3점]



- ① ㉠에서 통과되려면 국회 재적 의원 2/3 이상의 찬성을 얻어야 한다.
- ② ㉡에서 폐기된 법안은 국회 의장에 의해 직권 상정될 수 있다.
- ③ ㉢의 경우 국회 재적 의원 과반수 출석과 출석 의원 2/3 이상의 찬성으로 재의결하면 법률로 확정된다.
- ④ (가)에서 공고와 공포는 모두 대통령에 의해 이루어진다.
- ⑤ (가)에서 제안은 대통령의 발의로도 할 수 있고, (나)에서 제출은 국회의원 발의의 경우 10인 이상의 찬성으로 할 수 있다.

9. (가), (나) 근대 정치 사상에 대한 설명으로 옳은 것은? [3점]

(가) 자연 상태에서 인간은 자연적 권리를 무제한적으로 행사함으로써 끝없이 서로 투쟁하고, 그 결과 항상 죽음의 공포 속에 살아간다. 이러한 상태를 벗어나기 위해 개인들은 권리를 양도하는 계약을 맺어 국가를 세우게 된다.
(나) 인간은 본래 자유롭게 태어났으나 사회 속에서 자유를 갖지 못하고 구속받는다. 이러한 상태를 극복하기 위해 개인들은 계약을 통해 일반 의지를 형성하고 국가를 수립한다.

- ① (가)에서의 계약은 개인이 자연 상태에서 가졌던 권리를 확대하는 결과를 낳는다.
- ② (나)는 개인들의 직접적인 정치 참여 의지를 제한해야 한다고 강조한다.
- ③ (가)에서 주권은 군주에게 위임되며, (나)에서 주권은 국가에 양도된다.
- ④ (가), (나) 모두 권력 집중보다 권력 분립에 기초하는 정치 체제를 옹호한다.
- ⑤ (가)의 계약에서는 개인의 자기 보존이 동기이고, (나)의 계약에서는 공동선을 추구하는 개인의 의지가 요구된다.

10. (가), (나)에 들어갈 기본권에 대한 옳은 설명만을 <보기>에서 있는 대로 고른 것은? [3점]

- ☐ (가) 침해 사례: ○○ 지방 법원은 공무 집행 방해죄 등으로 불구속 기소된 갑에 대해 무죄를 선고하였다. 법원은 “피고인에 대한 검거 절차 확인서가 없는 점에 비춰볼 때 피해자에게 체포의 이유와 변호인의 도움을 받을 권리가 있다는 사실을 알리지 않은 것으로 보인다.”라고 판시하였다.
- ☐ (나) 행사 사례: △△ 지역을 경제 자유 특구로 지정한 특별법이 국회에서 통과되었다. 이 법에 의해 △△ 지역에 속한 을의 토지는 본인의 의지와 관계없이 국가로 수용되었다. 이에 을은 그 특별법의 철회를 요구하는 문서를 국회에 제출하였다.

—< 보 기 >—

- ㄱ. (가)는 헌법에 열거되어야 인정되는 개별적 권리이다.
- ㄴ. (나)는 침해된 권리를 구제하기 위한 수단적 권리이다.
- ㄷ. (나)는 다른 기본권을 보장하기 위해 국가에 대해 일정한 행위를 적극적으로 요구할 수 있는 권리이다.
- ㄹ. (가)는 국가에 대해 인간다운 생활의 보장을 요구하는 권리인 데 비해, (나)는 본질적 권리로 다른 기본권 보장의 전제 조건이다.

- ① ㄱ, ㄷ
- ② ㄱ, ㄹ
- ③ ㄴ, ㄷ
- ④ ㄱ, ㄴ, ㄹ
- ⑤ ㄴ, ㄷ, ㄹ

[11~12] 다음을 읽고 물음에 답하시오.

- 갑국 의회는 총 6인의 의원으로 구성되고 X제도에 의해 의원을 선출한다. 이 제도는 6개 선거구(가~바)에서 상대 다수 대표제로 의원을 선출하는 방식이다. 갑국은 의원 선출 방식을 Y제도로 변경하기로 하였다. 이 제도는 현재의 선거구를 통합하여 한 선거구에서 2인 이상의 의원을 선출하는 방식이며, 유권자는 1인 1표를 행사한다. 다만, 세부적인 방안은 정당 간 합의로 결정하기로 하였다.

○ 그 후 갑국의 A, B, C당은 다음과 같은 원칙에 합의하였다. 첫째, 의원 총수는 변경하지 않는다. 둘째, 선거구는 2개씩 통합하여 총 3개로 한다. 셋째, 각 선거구는 경계가 인접한 동이나 서 또는 남북으로 통합한다. 넷째, 선거구별로 다수를 득표한 2인을 의원으로 선출한다. 다섯째, 각 정당은 선거구 별로 1인의 후보를 공천한다. 여섯째, 어떤 선거구끼리 통합 할지는 추후 논의한다.

11. 위 갑국의 현행 선거 제도인 X제도와 비교할 때, Y제도의 일반적 특징에 대한 설명으로 옳은 것은?

- ① 사표가 더 많이 발생하게 된다.

② 후보 개인의 선거 운동 비용이 줄어든다.

③ 군소 정당 후보의 당선 가능성이 낮아진다.

④ 정당의 득표율과 의석률 간의 비례성이 높아진다.

⑤ 지연과 학연 등 연고주의에 의한 당선 가능성이 높아진다.

12. 다음 자료만을 근거로 판단할 때, 위 A~C당이 합의한 원칙을 반영한 Y제도를 적용할 경우 각 정당별 유·불리에 대한 옳은 분석만을 <보기>에서 있는 대로 고른 것은? [3점]

<갑국의 현 선거구 위치 및 최근 실시된 의회 선거 결과>

		북				
서	가 60 : 30 : 10	나 40 : 50 : 10	다 20 : 25 : 55	동	라 45 : 20 : 35	마 10 : 60 : 30
						바 30 : 40 : 30
		남				

* 각 선거구 내 숫자는 차례대로 A, B, C당 후보의 득표율을 나타냄.
 ** 각 선거구별 유권자 수는 동일하며 모두 투표에 참여하였음.

—< 보 기>—

- ㄱ. A당은 선거구 통합 방식 중 남북으로만 통합하는 방식이 가장 유리하다.
- ㄴ. B당은 선거구 통합 방식 중 가-나 선거구 통합을 전제로 하는 방식이 가장 유리하다.
- ㄷ. C당은 가-나 또는 마-바 선거구 통합을 전제로 하는 방식이 현행 선거 제도의 방식보다 유리하다.
- ㄹ. A당과 C당 모두 라-마 선거구 통합을 전제로 하는 방식이 현행 선거 제도의 방식보다 불리하다.

- ① ㄱ, ㄴ

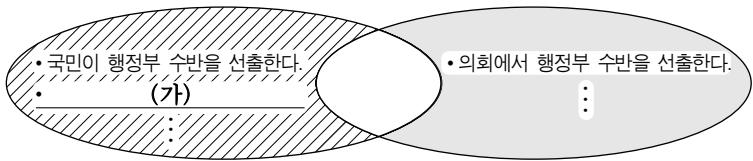
② ㄱ, ㄷ

③ ㄴ, ㄹ

④ ㄱ, ㄷ, ㄹ

⑤ ㄴ, ㄷ, ㄹ

13. 그림은 전형적인 대통령 중심제와 의원 내각제의 공통점과 차이점을 비교하기 위한 것이다. 밑줄 친 (가)에 들어갈 내용으로 옳은 것은? [3점]



- ① 의회 의원이 각료를 겸직한다.

② 의회는 내각에 불신임권을 행사한다.

③ 국민이 선거를 통해 의회를 구성한다.

④ 국가 원수와 행정부 수반이 동일인이다.

⑤ 행정부 수반이 의회를 해산할 권한을 갖는다.

14. 밑줄 친 ㉠~㉣에 대한 적절한 진술만을 <보기>에서 있는 대로 고른 것은?

남북 통일 과정에서 발생하게 될 비용과 편익을 고려해 볼 필요가 있다. 통일 비용은 통일 직후 예상되는 급격한 변화에 대응하기 위해 필요한 ㉠위기 관리 비용, ㉡이질적인 제도의 통합을 통해 민주적 질서를 정착시키는 데 드는 제도 통합 비용, 그리고 열악한 사회 간접 자본과 산업 구조의 개선을 위해 드는 ㉢경제적 투자 비용으로 나뉠 수 있다. 한편, 통일이 되면 이산 가족의 아픔 해소, 한반도의 지정학적 리스크로 인한 불이익의 해소 등 ㉣통일로 인한 편익 역시 기대할 수 있는데, 이것은 통일 방식에 따라 달라질 것이다.

—< 보 기>—

- ㄱ. ㉠의 주요 과제는 발생 가능한 사회 혼란을 최소화하는 것이다.
- ㄴ. ㉡은 개인의 모든 가치관과 삶의 방식을 일원화시키는 것이 목표이다.
- ㄷ. ㉢에는 교통 및 통신망의 확충에 소요되는 비용 등이 포함된다.
- ㄹ. ㉣에는 국가 위상 강화와 내수 시장 규모의 확대도 포함된다.

- ① ㄱ, ㄴ

② ㄴ, ㄹ

③ ㄷ, ㄹ

④ ㄱ, ㄴ, ㄷ

⑤ ㄱ, ㄷ, ㄹ

15. 다음 자료의 (가)~(라)에 대한 설명으로 옳은 것은? [3점]

- ㉠(가) 제2차 세계 대전 종전 후, 미국의 트루먼 독트린 발표 및 마셜 플랜 시행
- ㉡(나) 1969년 중·소 국경 분쟁 및 미국의 닉슨 독트린 발표
- ㉢(다) 1989년 미·소 몰타 정상 회담에서 새로운 세계 질서 수립 선언
- ㉣(라) 2001년 뉴욕 세계 무역 센터에 대한 '9·11 테러' 발생

- ① (가)는 국제 연맹을 대체하는 국제 연합 창설의 기초가 되었다.

② (나)는 미·소 간 이데올로기 대립을 종식시키는 결과를 가져왔다.

③ (다) 이후 상이한 두 경제 체제 간의 경쟁 구도는 사라지고 시장 경제 체제가 확대되는 현상이 나타났다.

④ (라)는 탈냉전 후 발생한 국가 간 국지적 전쟁의 대표적인 사례이다.

⑤ (가) 이후에는 이념 중심의 양극 체제가, (다) 이후에는 실리 중심의 양극 체제가 출현하였다.

16. 밑줄 친 ㉠, ㉡에 대한 적절한 추론만을 <보기>에서 있는 대로 고른 것은? [3점]

선거에서 유권자의 후보 선택 기준은 후보 개인이거나 정당 중 하나이다. 후보를 보고 투표하는 경우 ㉠인물 효과가 선거 결과에 강하게 나타난다. 이는 후보 간의 자질 및 개인적 배경을 비교 평가하여 선택하는 현상이다. 반면, 정당을 보고 투표하는 경우에는 ㉡정당 효과가 선거 결과에 많이 반영된다. 정치 사회화 과정에서 가족에 의해 특정 정당에 대한 애착심이 형성된 경우, 혹은 정당이 추구하는 정치적 가치에 동의하는 경우에 이 효과가 강하게 나타난다.

— < 보 기 > —

ㄱ. 유권자 다수가 정당 이념에 따른 투표 행태를 보일수록 ㉠보다 ㉡이 더 나타날 것이다.

ㄴ. 후보가 난립하여 개별 후보에 대한 정보 획득이 불가능할 경우 ㉠보다 ㉡이 더 나타날 것이다.

ㄷ. 정당의 수명이 짧고 이합 집산이 심할수록 ㉡보다 ㉠이 더 나타날 것이다.

ㄹ. 정당에 대해 정서적 일체감을 갖는 유권자가 많을수록 ㉡보다 ㉠이 더 나타날 것이다.

- ① ㄱ, ㄴ
 ② ㄱ, ㄹ
 ③ ㄷ, ㄹ
- ④ ㄱ, ㄴ, ㄷ
 ⑤ ㄴ, ㄷ, ㄹ

17. 다음 글의 주장과 부합하는 분석 및 추론만을 <보기>에서 있는 대로 고른 것은? [3점]

지역 무역 협정(Regional Trade Agreement: RTA)은 여러 국가들이 협정 등을 체결하여 회원국 간에는 관세 및 기타 무역 규제를 완화 내지 철폐하지만 비회원국에 대해서는 차별적인 무역 규제를 유지하는 것을 의미한다. 따라서 지역 무역 협정은 양자든 다자든 시장이 확대되어 국가 간의 경제 협력체를 이루는 현상을 말한다. 혹자는 이러한 협력체가 배타주의를 양산하며 세계화와 충돌한다고 본다. 지역 무역 협정은 세계 무역 기구(WTO)가 표방하는 무차별적인 최혜국 대우 원칙에 위배되는 것이 사실이다. 하지만 WTO도 특정 요건을 충족할 경우 지역 무역 협정을 적법한 예외로 인정하고 있다. 이러한 지역 무역 협정은 역내에서 경제적 자유화의 효과를 공유하게 함으로써 장기적으로 지역 차원을 넘어서는 경제적 자유화에 대한 저항을 약화시키는 역할을 할 것이다.

— < 보 기 > —

ㄱ. RTA는 세계화에 긍정적 영향을 미칠 것이다.

ㄴ. RTA는 역내 회원국에 배타적인 특혜를 부여한다.

ㄷ. WTO는 RTA 중심의 세계 무역 자유화를 지향한다.

ㄹ. RTA는 인접 국가들만의 정치적 및 경제적 통합을 목표로 한다.

- ① ㄱ, ㄴ
 ② ㄱ, ㄹ
 ③ ㄷ, ㄹ
- ④ ㄱ, ㄴ, ㄷ
 ⑤ ㄴ, ㄷ, ㄹ

18. 다음 글의 주장과 부합하는 우리나라 헌법 조항의 내용에 해당하지 않는 것은?

국가 권력에서 입법권과 집행권이 동일한 인간이나 기관의 수중에 주어져 있으면 안 된다. 또한 재판권이 입법권과 집행권에 속해 있으면 안 된다. 권력이 집중되거나 자의적으로 행사되어 개인의 자유는 존재할 수 없기 때문이다. 따라서 국가 권력의 권한과 기능은 엄격하게 분할되어 상호 견제되어야 한다.

- ① 국회의원과 정부는 법률안을 제출할 수 있다.
 ② 대통령은 국회에서 의결된 법률안에 대해 재의를 요구할 수 있다.
 ③ 국회는 국정을 감사하거나 특정한 국정 사안에 대하여 조사할 수 있다.
 ④ 국회가 정해진 요건을 갖추어 계엄의 해제를 요구한 때에는 대통령은 이를 해제하여야 한다.
 ⑤ 대법원은 특정한 경우에 명령·규칙 또는 처분이 헌법이나 법률에 위반되는지 여부를 심사할 권한을 가진다.

19. (가)에 들어갈 내용으로 가장 적절한 것은?

수업 목표:
(가)
에 관한 사례 알아보기

- 갑국의 국민들은 지방 자치가 활성화되어야 한다고 믿고 있으나, 실제로는 지방 선거 참여율이 저조하다.
- 을국의 국민들은 시민 단체의 활동이 정치 발전에 기여한다고 보고 있으나, 실제로는 시민 단체 가입에 소극적이다.

- ① 정치 제도와 정치 충원 간의 괴리
 ② 정치 발전을 제약하는 요인과 개선 방안
 ③ 시민들의 정치 의식과 참여 간의 불일치
 ④ 민주적 시민 의식의 함양을 위해 필요한 조건
 ⑤ 시민들의 과도한 정치 참여로 인해 발생하는 부작용
20. (가)~(라)는 우리나라 어느 헌법 기관의 권한 중 일부이다. 이에 대한 옳은 설명만을 <보기>에서 있는 대로 고른 것은?

(가) 헌법 재판소장을 임명한다.

(나) 최고 사령관으로서 국군을 지휘하고 통솔한다.

(다) 법률의 효력을 가지는 긴급 명령을 발할 수 있다.

(라) 국가 안위에 관한 중요 정책을 국민 투표에 부칠 수 있다.

— < 보 기 > —

ㄱ. (가)의 행사는 국회의 동의를 필요로 한다.

ㄴ. (나)의 행사는 국무 총리와 관계 국무 위원의 부서(副署)를 필요로 하지 않는다.

ㄷ. (라)는 대의 기구를 거치지 않고 주권자의 의사를 확인하는 것이다.

ㄹ. (가)~(라) 모두 행정부 수반으로서의 권한에 해당한다.

- ① ㄱ, ㄴ
 ② ㄱ, ㄷ
 ③ ㄴ, ㄹ
- ④ ㄱ, ㄷ, ㄹ
 ⑤ ㄴ, ㄷ, ㄹ

* 확인 사항

○ 답안지의 해당란에 필요한 내용을 정확히 기입(표기)했는지 확인 하시오.