

제 4 교시

사회탐구 영역(정치)

성명		수험 번호												
----	--	-------	--	--	--	--	--	--	--	--	--	--	--	--

1. 다음 글에서 설명하고 있는 근대 사상가의 주장으로 옳은 것만을 <보기>에서 있는 대로 고른 것은? [3점]

그는 모든 인민들이 동시에 주권자일 때만이 국가가 자유의 수단으로서 인민들에게 봉사하게 될 것이라 믿었다. 왜냐하면 인민들은 오직 그럴 때만이 자신들이 공동체를 스스로 통치하고 있다고 인식할 수 있기 때문이다. 그의 이러한 견해는 주권을 국가의 최고 지배자인 군주에게 귀속시켰던 당시의 일반적 주장과는 구분되는 독창적인 것이었다. 아울러 그는 이러한 주권 개념을 국가의 강제나 권력보다는 인민 전체의 의사나 권리와 연결시켰다.

- < 보 기 > —
- ㄱ. 국가는 공공선을 반영한 일반 의지에 따라 운영되어야 한다.
 - ㄴ. 성실한 노동의 결과인 재산의 보호가 정부의 최고 목표이어야 한다.
 - ㄷ. 법률 제정을 비롯해 공동체 문제에 적극 참여하는 것은 시민의 덕목이다.
 - ㄹ. 인민의 전체 정치와 중우 정치의 폐단을 막기 위해서는 전문가로 구성된 의회가 필요하다.

- ① ㄱ, ㄴ ② ㄱ, ㄷ ③ ㄴ, ㄹ
④ ㄱ, ㄷ, ㄹ ⑤ ㄴ, ㄷ, ㄹ

2. (가)~(라)는 갑국의 최저 임금 결정 과정을 나타낸 것이다. 이에 대한 분석으로 가장 적절한 것은?

- (가) 의회 의원 총선거에 참여한 야당들이 최저 임금의 인상을 공약으로 제시했다.
- (나) 노동자, 사용자, 정부 및 시민 단체의 대표가 모인 '최저 임금 조정 특별위원회'가 발족되었다. 위원회에서는 내년 최저 임금을 올해 대비 5% 인상하기로 합의하였다.
- (다) 노동자 단체는 올해 물가 상승을 고려하여 최소 7% 인상을 주장하였다. 반면 경영자 단체는 4% 이상의 인상은 기업 경영을 악화시킬 것이라 주장하였다.
- (라) 정부는 내년 최저 임금을 올해 대비 5% 인상하기로 최종 결정·공시하였다.

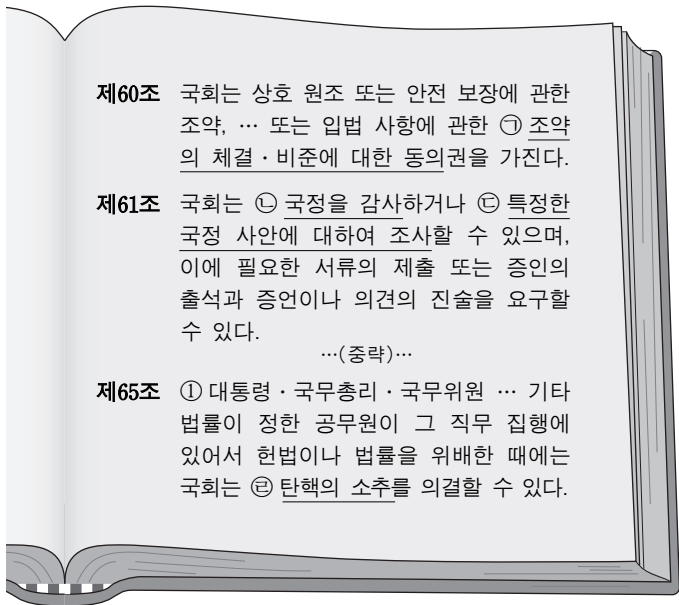
- ① (가)에서 정당은 공식적 정책 결정 참여자로서의 역할을 했다.
② (다)에서 나타난 노사 간 갈등은 물질적 이해관계보다는 이념적 차이에서 발생했다.
③ (라)의 결정에서 노동자 단체의 입장이 더 크게 반영되었다.
④ 정책 결정 과정 중 (가), (다)는 모두 투입 단계에 해당한다.
⑤ 정책 결정 과정은 (가) → (라) → (다) → (나)의 순서로 진행된다.

3. 밑줄 친 ㉠~㉣에 대한 설명으로 옳지 않은 것은?

㉠ 알권리는 신문이나 방송 등 언론 매체의 보도에 의존하는 바가 크다. 언론 보도를 통해 얻는 정보는 활발한 비판과 토론을 할 수 있게 하여 정치에 대한 높은 관심과 적극적인 참여라는 결과를 이끌어 낸다. 참된 민주주의는 ㉡ 권력을 가진 자들에 대한 자유로운 비판을 보장하며, ㉢ 여론을 수렴하여 그것을 다수 의사로 결집하는 과정을 필요로 한다. 이와 같은 의미에서 본다면 ㉣ 다양한 사상과 의견의 자유로운 교환을 위한 열린 공간의 확보와 언론 매체에 의한 정보의 전달은 민주제의 필수불가결한 요소라고 말할 수 있다.

- ① ㉠은 민주주의의 필수적 요소이므로 법률에 의해서도 제한될 수 없다.
② ㉡에는 국가 또는 공공 기관에 정보 공개를 요구할 권리가 포함된다.
③ ㉢을 위해서는 특정 권력으로부터 편집·편성권이 독립되어야 한다.
④ ㉣을 위해서는 언론의 정확성, 공정성, 공익성 등이 확보되어야 한다.
⑤ ㉣에는 인터넷 토론장과 같은 사이버 공간도 포함된다.

4. 그림은 국회의 권한과 관련된 헌법 조항들이다. 밑줄 친 ㉠~㉣에 대한 옳은 설명만을 <보기>에서 있는 대로 고른 것은? [3점]



- < 보 기 > —
- ㄱ. ㉠에 의한 조약은 법률과 같은 효력을 가지며, 헌법재판소의 심판 대상이 된다.
 - ㄴ. ㉡의 의결 즉시 해당 공직자는 그 권한이 정지되며, 해당 직위에서 파면된다.
 - ㄷ. 대통령에 대한 ㉢의 의결 정족수는 법률안 재의결 시 의결 정족수와 동일하다.
 - ㄹ. 대통령은 ㉣, ㉤의 실시에 대해 거부권을 행사할 수 없다.

- ① ㄱ, ㄴ ② ㄱ, ㄷ ③ ㄷ, ㄹ
④ ㄱ, ㄴ, ㄷ ⑤ ㄴ, ㄷ, ㄹ

5. 다음 글에 부합하는 주장으로 가장 적절한 것은? [3점]

정당 정치의 다양한 문제점에도 불구하고, 정당이 없는 세계를 상상해 보면, 왜 정당이 혼란스러운 정치 세계에 질서를 부여하는 대의 민주주의의 근간인지를 이해할 수 있다. 예컨대 정당이 없다면 상충하는 이익 집단의 요구를 어떻게 취합할 것인가? 유권자는 무엇을 기준으로 투표할 것이며, 집행된 정부의 정책에 대해 어떻게 책임을 물을 것인가? 이러한 질문에 대하여 정당 외의 다른 대안을 생각하기는 어렵다.

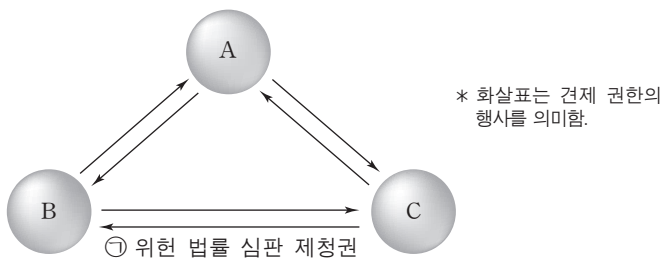
- ① 정당은 상향식 의사 결정 방식을 지향해야 한다.
- ② 군소 정당의 난립은 정국의 혼란을 가져올 것이다.
- ③ 정당은 다양한 집단적 이해를 조정, 통합하는 긍정적인 역할을 한다.
- ④ 유권자가 선거를 통해 정부의 정책에 대한 책임을 묻는 것은 당연하다.
- ⑤ 이익 집단은 사회적 요구를 표출하는 대의 민주주의의 핵심적 도구이다.

6. 다음은 국민의 기본권 실현과 관련된 입법 또는 판례이다. 밑줄 친 ㉠~㉣에 대한 설명으로 가장 적절한 것은? [3점]

- 국회는 최저 생활 보장과 자활에 필요한 급여를 제공하는 ㉠ 국민 기초 생활 보장법을 제정하였다.
- 헌법재판소는 주거 목적의 1가구 1주택 장기 보유자에 대해 종합 부동산세를 부과한 것은 주택 보유자의 ㉡ 재산권을 과도하게 침해하는 것이라고 결정했다.
- 국회 본회의에서 ㉢ 재외 국민의 투표를 허용하는 공직 선거법과 국민 투표법 개정안을 통과시켰다.

- ① ㉠은 '외부의 간섭과 강제로부터의 자유'를 추구한다.
- ② ㉡은 행정국가화 현상을 초래할 가능성이 크다.
- ③ ㉠은 형식적 평등을, ㉢은 실질적 평등을 추구한다.
- ④ ㉡은 국가로부터의 자유를, ㉢은 국가에의 자유를 추구한다.
- ⑤ ㉢에서 추구하는 기본권은 ㉡에서 추구하는 기본권에 선행하여 보편화되었다.

7. 그림은 우리나라 입법부, 행정부, 사법부 간의 견제와 균형 관계를 나타낸 것이다. 이에 대한 옳은 설명을 <보기>에서 고른 것은? [3점]



<보 기>

- ㄱ. B는 ㉠이 행사되면 해당 법률을 개정해야 한다.
- ㄴ. B는 C에 대해서 탄핵 소추권을 행사할 수 있다.
- ㄷ. 사면권은 C가 A를 견제하는 권한이다.
- ㄹ. C는 A의 명령·규칙·처분의 위헌 또는 위법 여부에 대한 심사권을 갖는다.

- ① ㄱ, ㄴ ② ㄱ, ㄷ ③ ㄴ, ㄷ ④ ㄴ, ㄹ ⑤ ㄷ, ㄹ

8. 밑줄 친 ㉠~㉣에 대한 설명으로 옳은 것은? [3점]

최근 ○○군은 △△시와의 ㉠ 행정 구역 통합을 위한 주민투표를 실시하여 투표율 36.7%, 찬성률 79%로 통합을 결정했으며, △△시는 이미 ㉡ 지방 의회 의결로 통합에 찬성했다. 중앙 정부가 아닌 ㉢ 지방 자치 단체의 요구에 의해 주민투표를 거쳐 통합을 결정한 것은 주민투표법이 시행된 이후 이번이 처음이다. 현재 우리나라에서는 주민 발안제와 ㉣ 주민 소환제도도 시행하고 있다.

- ① ㉠에서 유권자 과반수의 찬성에 의한 합의형 여론이 나타났다.
- ② 국회는 ㉡에 대해서도 국정 감사를 실시할 수 있다.
- ③ ㉢ 사이의 분쟁에 대해서는 중앙 정부가 헌법재판소에 권한쟁의 심판을 청구한다.
- ④ ㉣의 목적은 해당 지역의 단체장과 지역구 국회 의원의 위법·부당한 사무 처리나 직권 남용 행위를 견제하는 데 있다.
- ⑤ 법령의 범위 내에서 ㉡은 규칙을, ㉢의 장은 조례를 제정한다.

9. 다음에서 공통적으로 나타난 헌법의 기본 원리에 대한 옳은 설명을 <보기>에서 고른 것은?

- 전 문 ... 안으로는 국민 생활의 균등한 향상을 기하고 ...
- 제34조 ① 모든 국민은 인간다운 생활을 할 권리를 가진다.
- ② 국가는 사회보장·사회복지의 증진에 노력할 의무를 진다.

<보 기>

- ㄱ. 사회적 약자를 배려하는 합리적 차별을 거부한다.
- ㄴ. 국민 생활에 대한 정부 규제 최소화 지향한다.
- ㄷ. 건강하고 쾌적한 환경에서 생활할 권리를 포함한다.
- ㄹ. 시장 경제 질서의 문제점을 시정하기 위한 원리이다.

- ① ㄱ, ㄴ ② ㄱ, ㄷ ③ ㄴ, ㄷ ④ ㄴ, ㄹ ⑤ ㄷ, ㄹ

10. 다음 글에서 파악할 수 있는 정치 체제의 특징에 대한 옳은 설명을 <보기>에서 고른 것은?

고대 아테네에서는 누구나 공적 토론과 결정에 적극 참여하는 것을 바람직한 시민의 덕성으로 여겼다. 민회는 시민 누구나 참여하여 입법, 행정, 군사에 관한 사안을 심의하는 최고 의결 기관이었다. 그리고 민회의 의사 일정과 제출될 안건을 결정하는 일은 추첨으로 선출된 시민들로 구성된 평의회가 맡았다. 또한 시민은 추첨을 통해 배심원으로 선출되어 재판에도 참여할 수 있었다. 하지만 시민이 평의회 의 의장이 되는 것은 일생에 단 한번으로 제한되었다.

<보 기>

- ㄱ. 공동체의 시민보다는 개인으로서의 자유를 강조하였다.
- ㄴ. 대표 선출에 있어 탁월성과 전문성의 원리를 중시하였다.
- ㄷ. 치자(治者)와 피치자(被治者)의 동일성의 원리에 기초하였다.
- ㄹ. 공직 참여의 공정한 기회를 제공하기 위한 중요한 제도는 추첨과 윤번제였다.

- ① ㄱ, ㄴ ② ㄱ, ㄷ ③ ㄴ, ㄷ ④ ㄴ, ㄹ ⑤ ㄷ, ㄹ

11. 다음은 국제 사회의 현황과 과제에 대한 주장이다. 밑줄 친 ㉠~㉣에 대한 옳은 설명만을 <보기>에서 있는 대로 고른 것은?

㉠ 냉전의 종결은 여러 지역 분쟁의 조정과 민주 체제의 확산이라는 점에서 긍정적인 효과를 가져왔다. 그러나 이 과정에서 여전히 민족 간, 종교 간의 갈등이 끊이지 않고 있다. 또 선진국과 개발 도상국 간의 ㉡ 남북 문제도 여전히 남아 있는 가운데 국제 질서의 변화 및 재편이라는 상황에 처해 있다. 이러한 상황 속에서 국제 연합(UN)은 ㉢ 다양한 지구촌 문제의 해결과 ㉣ 내부의 문제로 지적된 것들을 개혁해야 한다는 요구를 받는 등 대내외적으로 여러 가지 문제에 봉착해 있다.

— < 보 기 > —

- ㄱ. ㉠ 이후 국제 연합(UN)의 국지적 분쟁 조정 역할은 감소하였다.
ㄴ. ㉡은 주로 정치적·이념적 대립을 의미한다.
ㄷ. ㉢의 대표적인 사례로는 환경 문제와 인권 문제가 있다.
ㄹ. ㉣의 사례로는 회원국들의 분담금 체납 문제를 들 수 있다.

- ① ㄱ, ㄴ ② ㄱ, ㄹ ③ ㄷ, ㄹ
④ ㄱ, ㄴ, ㄷ ⑤ ㄴ, ㄷ, ㄹ

12. 밑줄 친 ㉠~㉣에 대한 옳은 설명만을 <보기>에서 있는 대로 고른 것은? [3점]

갑은 ○○ 지방 병무청장으로부터 입영하라는 통지를 받고도 자신의 신념에 따라 입영 기일로부터 3일이 경과하도록 입영하지 않았다. 이후 갑은 병역법 위반으로 기소되어 ㉠ 지방 법원의 재판에서 3년의 징역형 선고를 받았다. 갑은 이에 불복하여 ㉡ 고등 법원에서 재판을 받던 중, 병역법 제88조가 병역 거부자의 양심의 자유를 침해한다는 이유로 위헌 법률 심판 제청을 신청하였으나 기각되자, 이에 ㉢ 헌법 소원 심판을 청구하였다.

— < 보 기 > —

- ㄱ. ㉠은 기초 자치 단체장의 선거 소송 1심 재판을 담당한다.
ㄴ. ㉡은 공권력의 행사 또는 불행사 시 법률 위반이 있어야만 청구할 수 있다.
ㄷ. ㉠에서 징역형을 선고한 판결에 대해서 갑은 ㉣을 청구할 수 없다.
ㄹ. ㉠은 재판의 전제가 된 병역법 조항의 위헌성이 의심되면 갑의 신청이 없어도 ㉣을 직권으로 청구할 수 있다.

- ① ㄱ, ㄴ ② ㄱ, ㄷ ③ ㄴ, ㄹ
④ ㄱ, ㄷ, ㄹ ⑤ ㄴ, ㄷ, ㄹ

13. 그림에서 갑~병의 주장에 대한 설명으로 가장 적절한 것은?



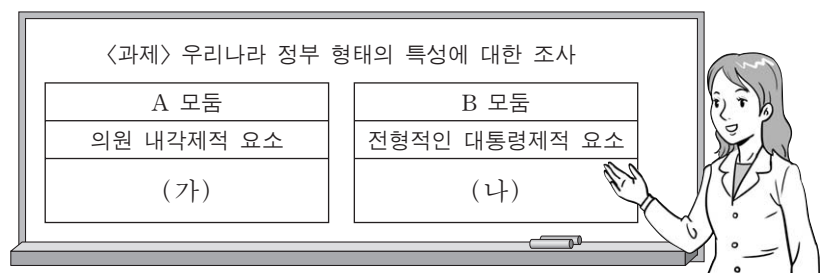
- ① 갑은 을에 비해 투표권이 국민의 당연한 권리라는 인식이 강하다.
② 병의 방식은 갑의 방식에 비해 당선자의 지지율이 더 높게 나타난다.
③ 병의 방식은 갑의 방식보다 선거권자의 투표율 제고에 주안점을 두고 있다.
④ 병의 방식은 을의 방식에 비해 보통 선거의 원칙에 더 충실하다.
⑤ 갑은 을, 병과 달리 직접 선거 원칙을 강조하고 있다.

14. (가)~(다)는 주요 국제 기구에서의 의결 방식이다. 이를 통해 알 수 있는 국제 사회의 특징에 대한 설명으로 옳은 것은? [3점]

구분	투표권 배분 기준	표결 방식
(가)	1국 1표	총 회원국의 2/3 이상의 찬성
(나)	1국 1표	모든 상임 이사국의 찬성 투표를 포함한 9개국 이상의 찬성
(다)	경제력에 상응하여 국가별로 투표권 차등 배분	총 투표권의 85% 이상의 찬성

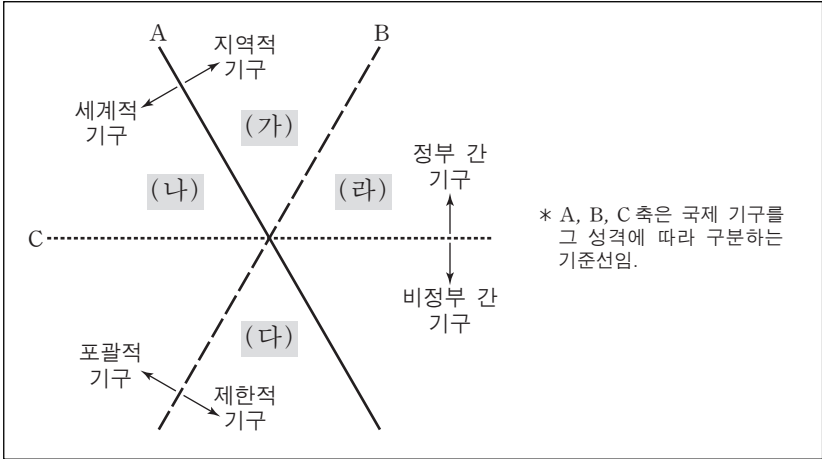
- ① (가)는 국제 사회에 강력한 중앙 정부가 존재함을 의미한다.
② (가)는 (나)에 비해 강대국이 영향력을 발휘하기에 유리하다.
③ (나)와 달리 (다)에서는 회원국의 지위에 따라 투표권의 가치가 차별화된다.
④ (나), (다)는 (가)보다 국제 사회를 바라보는 현실주의적 관점에 부합한다.
⑤ (가)~(다)는 모두 주권 평등의 원칙에 어긋난다.

15. 그림은 수행 평가 과제의 발표 내용을 정리한 것이다. (가), (나)에 들어갈 내용으로 옳지 않은 것은?



- ① (가) - 국회 의원은 국무 위원을 겸직할 수 있다.
② (가) - 행정부는 국회에 법률안을 제출할 수 있다.
③ (가) - 국회는 국무 총리 또는 국무 위원의 해임을 대통령에게 건의할 수 있다.
④ (나) - 행정권은 대통령을 수반으로 하는 정부에 속한다.
⑤ (나) - 대통령은 국가적 위기 상황에서는 비상 조치권과 국회 해산권을 갖는다.

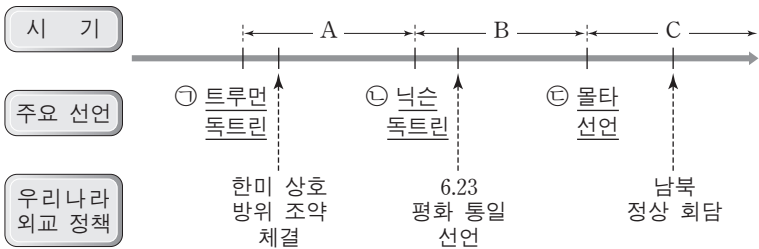
16. 그림의 (가)~(라)에 해당하는 국제 기구를 옳게 연결한 것을 <보기>에서 고른 것은?



- < 보 기 > —
- ㄱ. (가)－유럽 연합(EU), 동남아시아 국가 연합(ASEAN)
 ㄴ. (나)－국제 연합(UN), 세계 무역 기구(WTO)
 ㄷ. (다)－국제 사면 위원회(AI), 그린피스(Greenpeace)
 ㄹ. (라)－북대서양 조약 기구(NATO), 국제 사법 재판소(ICJ)

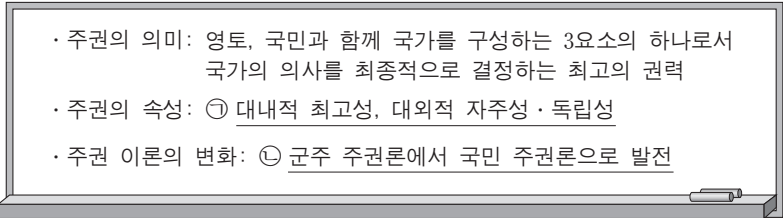
① ㄱ, ㄴ ② ㄱ, ㄷ ③ ㄴ, ㄷ ④ ㄴ, ㄹ ⑤ ㄷ, ㄹ

17. 그림은 시기별 국제 사회의 주요 선언과 우리나라의 외교 정책을 나타낸 것이다. 이에 대한 설명으로 옳은 것은?



① ㉠은 냉전 체제의 확산을 막고 평화 체제를 구현하는 데 기여하였다.
 ② ㉡, ㉢을 계기로 세력 균형을 위한 국제 사회의 집단적 동맹 체제가 강화되었다.
 ③ A 시기 우리나라는 사회주의 국가와의 북방 외교에 주력하였다.
 ④ B 시기의 국제 질서는 A 시기에 비해 다극 체제화되었다.
 ⑤ C 시기에는 A 시기에 비해 국가 간 교류에서 경제적 실리보다 정치적·이념적 가치가 중시되었다.

18. 그림은 주권에 대한 학습 내용을 정리한 것이다. 밑줄 친 ㉠, ㉡을 이해하기 위한 학습 자료로 적절하지 않은 것은?



① 자본주의의 모순과 사회주의의 등장 배경
 ② 서양의 중앙 집권적 민족 국가의 발전 과정
 ③ 국가 성립에 관한 홉스와 로크 사상의 차이점
 ④ 자연법 사상과 계몽 사상의 등장 배경 및 영향
 ⑤ 왕권 신수설, 왕권 민수설, 사회 계약설의 차이점

[19~20] 다음 자료는 우리나라 국회 의원 선거 제도의 변천을 나타낸 것이다. 물음에 답하시오.

시기	투표 방식	지역구	비례 대표(전국구)
1~5대	1인 1표제	소선거구제	없음
6~8대			제1당에 전체 의석의 1/2 이상 2/3 미만 보장 배분 후, 정당 득표율에 따라 배분
9, 10대		중선거구제	대통령이 지명한 자 중 통일 주체 국민 회의가 국회 재적 의원의 1/3 선출
11, 12대			제1당에게 전체 의석의 2/3 배분 후, 제1당을 제외하고 나머지 의석을 정당 의석수에 따라 비례 배분
13대		소선거구제	제1당 의석률이 50% 미만일 경우 제1당에 전체 의석의 2/3 배분 후, 정당 의석수에 따라 비례 배분
14대			3% 이상 득표한 정당에 대해 정당 의석수에 따라 비례 배분
15, 16대			지역구에서 5석 이상 얻거나 5% 이상 득표한 정당에 그 득표율에 따라 배분
17~19대	1인 2표제		비례 대표 선거를 별도로 실시하여 지역구에서 5석 이상 얻거나 3% 이상 득표한 정당에 그 득표율에 따라 배분

19. 위 각 시기별 선거 제도에 대한 설명으로 옳은 것은? [3점]

① 1~8대 지역구 대표 선출 방식은 소수 대표제이다.
 ② 9, 10대 선거는 국회 구성의 자율성이 제도적으로 보장되었다.
 ③ 9~12대 지역구 선거구제는 다른 시기보다 후보자의 선거 비용이 상대적으로 적게 드는 제도이다.
 ④ 17~19대 선거에서는 15, 16대에 비해 비례 대표 의석 배분의 요건이 강화되었다.
 ⑤ 17~19대가 11~16대에 비해 비례 대표 선거에서 평등 선거의 원칙이 강화되었다.

20. 표에 대한 분석으로 옳은 것은? (단, 갑국의 비례 대표 선출 방식은 우리나라 11, 12대의 비례 대표 선출 방식과 같다.) [3점]

<갑국의 의회 의원 선거 결과>

정당	지역구 의석수	지역구 득표율 (%)	비례 대표 의석수
A	100	45	()
B	()	22	8
C	30	16	()
D	20	13	()
E	()	4	2

* 지역구 총의석수는 200석, 비례 대표 총의석수는 60석임.

① A당은 지역구 의석률이 총의석률보다 높다.
 ② A, E당은 다른 정당들과 달리 지역구 득표율보다 지역구 의석률이 낮다.
 ③ B당은 E당과 달리 지역구 선거에서 유권자의 의사가 과소 대표되었다.
 ④ C당과 D당의 총의석수는 각각 38석, 22석이다.
 ⑤ 갑국이 의원 내각제 정부 형태라면 연립 정부를 구성하는 것이 불가피하다.

* 확인 사항

○ 답안지의 해당란에 필요한 내용을 정확히 기입(표기)했는지 확인하시오.