

고급

2012년도

제 15회 한국사능력검정시험 문제지

국사편찬위원회

성명

수험 번호

- 자신이 선택한 등급의 문제지인지 확인하시오.
○ 문제지에 성명과 수험 번호를 정확히 써넣으시오.
○ 답안지에 성명과 수험 번호를 써넣고, 또 수험 번호와 답을 정확히 표시하시오.
○ 시험 시간은 80분입니다.

1. (가), (나) 시대에 있었던 사실로 옳은 것은? [1점]



- ① (가) - 생산물의 사유화가 일반화되었다.
② (가) - 지배자의 무덤으로 고인돌이 만들어졌다.
③ (나) - 정착 생활이 시작되면서 움집이 나타났다.
④ (나) - 반달 돌칼을 이용한 곡물 수확이 이루어졌다.
⑤ (가), (나) - 금속제 무기를 사용한 정복 활동이 활발하였다.

2. (가)가 중심이 된 단체에 대한 설명으로 옳은 것은? [2점]

진흥왕 37년, 외모가 고운 남자를 뽑아 곱게 단장하게 하고 이름을 (가) (이)라 하여 받들게 하니, 따르는 무리들이 구름처럼 몰려들었다. 혹은 도의(道義)로써 서로 연마하고 혹은 노래와 음악으로 서로 즐겼는데, 산과 물을 찾아 노닐고 즐기니 멀리 이르지 않은 곳이 없었다. -「삼국사기」-

- ① 무예를 닦아 신라의 삼국 통일에 기여하였다.
② 정사암에 모여 국가의 중대사를 결정하였다.
③ 매향 활동을 하면서 각종 불교 행사를 주관하였다.
④ 국왕과 귀족 간의 권력을 조정하는 기능을 담당하였다.
⑤ 삼강오륜 중심의 유교 윤리를 바탕으로 풍속을 교정하였다.

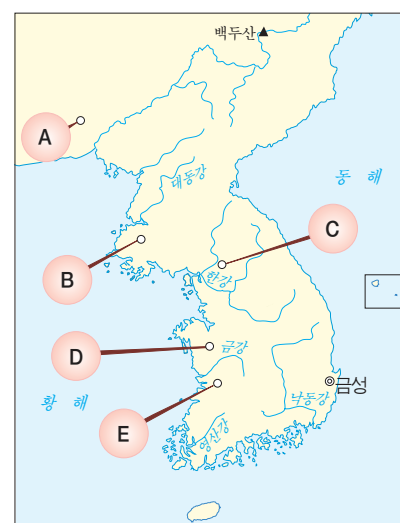
3. 다음 상황이 전개된 시기의 왕에 대한 설명으로 옳은 것은? [2점]

이사부는 하슬라주 군주가 되어 우산국의 병합을 계획하고 있었다. 그런데 그 나라 사람들이 어리석고 사나워서 위력으로는 항복 받기 어려우니, 계략으로 복속시킬 수밖에 없다고 생각하였다. 이에 나무 사자를 많이 만들어 전선(戰船)에 나누어 싣고 그 나라 해안에 다다라, “너희들이 항복하지 않으면 이 맹수를 풀어 놓아 밧아 죽이겠다.”라고 위협하니, 그 사람들이 두려워서 곧 항복하였다. -「삼국사기」-

- ① 마립간이라는 왕호를 처음으로 사용하였다.
② 이차돈의 순교를 계기로 불교를 공인하였다.
③ 국호를 신라로 정하고 지방 제도를 정비하였다.
④ 고령 지역의 대가야를 정복하여 영토를 확장하였다.
⑤ 고구려의 간섭에서 벗어나려고 백제와 동맹을 맺었다.

4. (가) 지역을 지도에서 옳게 고른 것은? [2점]

- 검모잠이 나라를 부흥시키려고 보장왕의 외손 안승을 세워 왕으로 삼았다. 당 고종이 대장군 고간을 보내 그들을 토벌하니, 안승이 검모잠을 죽이고 신라로 달아났다.
• 소형 다식 등이 아뢰기를, “우리 선왕이 도를 잃어 나라가 망하였지만, 지금 우리들은 본국의 귀족 안승을 받들어 왕으로 삼았습니다. 바라건대 변방을 지키는 울타리가 되어 영원히 충성을 다하고자 합니다.”라고 하니, 문무왕은 그들을 나라 서쪽 (가)에 머물게 하였다.



- ① A ② B ③ C ④ D ⑤ E

5. 밑줄 그은 ‘이 시기’의 상황으로 옳은 것을 <보기>에서 고른 것은? [3점]




— < 보 기 > —

- ㄱ. 김흠돌 모역 사건에 연루되어 많은 귀족이 숙청되었다.
 ㄴ. 지방에서는 호족이라고 불리는 정치 세력이 성장하였다.
 ㄷ. 신라를 불국토로 만들려는 염원에서 불국사가 건립되었다.
 ㄹ. 6두품이 중심이 되어 골품제를 비판하는 새로운 이념을 제시하였다.

- ① ㄱ, ㄴ ② ㄱ, ㄷ ③ ㄴ, ㄷ
 ④ ㄴ, ㄹ ⑤ ㄷ, ㄹ

6. 밑줄 그은 ‘이 지역’과 관련된 사실로 옳은 것은? [2점]



현재 일본 도다이 사(소쇼인)에 보관되어 있는 이 문서는 다나무로 만든 종이 2매로 되어 있다. 이 문서에는 신라의 5소경 가운데 하나가 자리 잡았던 이 지역에 속한 어느 촌과 이에 근접한 현(縣)에 속하였을 것으로 추측되는 사해점촌, 살하지촌 등의 인구와 논, 밭의 규모 등 경제적 상황이 기록되어 있다.

- ① 삼국 시대 - 철기 문화가 발달한 금관가야가 있었다.
 ② 신라 말기 - 양길이가 독자적인 세력을 형성하였다.
 ③ 고려 말기 - 금속 활자로 직지심체요절이 간행되었다.
 ④ 조선 전기 - 조운을 담당하는 가흥창이 설치되었다.
 ⑤ 조선 후기 - 한글 소설인 춘향전의 무대가 되었다.

7. 지도에서 혼인 풍속이 옳게 설명된 초기 국가들을 고른 것은? [2점]



- ① (가), (나) ② (가), (다) ③ (나), (다)
 ④ (나), (라) ⑤ (다), (라)

8. 다음 자료의 인물에 대한 설명으로 옳은 것은? [3점]

이 달의 문화 인물


2004년 5월



- 생몰 연대 : 625년(진평왕 47) ~ 702년(성덕왕 1)
- 생애 : 진골 귀족 출신으로 출가하여 승려가 되었다. 661년 당나라 사신의 배를 타고 중국에 가서 지엄으로부터 새로운 학풍을 배웠다. 670년 귀국한 후, 교단을 형성하여 많은 제자를 양성하였다. 또한 부석사를 비롯한 여러 사찰을 건립하여 불교 문화의 폭을 넓혔다.

- ① 화엄일승법계도를 저술하여 화엄 사상을 정리하였다.
 ② 교관검수를 제창하여 교종과 선종의 통합 운동을 전개하였다.
 ③ 십문화쟁론을 지어 여러 종파의 사상적 대립을 해소하고자 하였다.
 ④ 중국에서 유행한 풍수지리설을 들여와 지방의 중요성을 자각시켰다.
 ⑤ 인도와 중앙아시아 여러 나라의 풍물을 기록한 왕오천축국전을 남겼다.

9. (가), (나) 문화유산에 대한 설명으로 옳은 것은? [2점]



- ① (가) - 전형적인 통일 신라 양식의 석탑이다.
- ② (가) - 일본의 목탑 양식에 큰 영향을 끼쳤다.
- ③ (나) - 승려의 사리를 봉안하는 조형물이다.
- ④ (나) - 불국사 3층 석탑 축조에 영향을 주었다.
- ⑤ (가), (나) - 선종이 도입된 이후에 만들어졌다.

10. (가) 국가에서 제작된 유물로 옳은 것은? [1점]

3월에 왕이 순행을 하다가 낭성에 이르러서 우륵(于勒)과 그의 제자 이문(尼文)이 음악을 잘한다는 말을 듣고 특별히 불렀다. 왕이 하림궁에 머무르며 음악을 연주하게 하였는데, 두 사람이 각각 새로운 노래를 지어 연주하였다. 이보다 앞서 (가)의 가실왕이 12줄 현금(弦琴)을 만드니, 그것은 12달의 음률을 본뜬 것이었다. 우륵이 가실왕의 명을 받아 곡을 만들었는데, 나라가 어지러워지자 악기를 가지고 우리에게 귀의하였다. - 「삼국사기」 -



11. 밑줄 그은 '대사'에 대한 설명으로 옳은 것을 <보기>에서 고른 것은? [2점]

귀하를 뵈는 적은 없으나 높으신 이름을 오래 전에 들었기에
흠모하는 마음이 더욱 깊어만 갑니다. 부족한 이 사람
은 다행히도 대사께서 세우신 이곳 법화원에 머무를 수 있었
던 것을 말로 다할 수 없이 감사하게 생각합니다. 저는 은혜
를 입고 있으면서도 멀리 떨어져 찾아뵙지 못하였습니다.
- 엔닌, 「입당구법순례행기」 -

— < 보 기 > —

ㄱ. 6두품 출신으로 당에 유학하여 빈공과에 합격하였다.
ㄴ. 호국 불교에 바탕을 둔 황룡사 9층 목탑 건립을 건의하
였다.
ㄷ. 신무왕 즉위에 공을 세웠으나 귀족의 견제를 받아 살해
당하였다.
ㄹ. 당, 신라, 일본을 잇는 남해와 황해의 해상 무역권을 장
악하였다.

- ① ㄱ, ㄴ
- ② ㄱ, ㄷ
- ③ ㄴ, ㄷ
- ④ ㄴ, ㄹ
- ⑤ ㄷ, ㄹ

12. (가)에 들어갈 제목으로 가장 적절한 것은? [1점]

(가)

국보 제224호인 이곳은 외국 사신을 접견하기 위해
만들어졌지만, 임금과 신하가 덕으로써 만난다는 뜻에
맞게 임금과 신하들이 함께 연회를 여는 공간으로도
자주 활용되었다.

이 건물은 1412년(태종 12)에 처음 지어졌으며, 임
진왜란 때 불에 탄 후, 1867년(고종 4)에 다시 지어
졌다. 건물의 1층은 48개의 높은 돌기둥만 세우고 비
웠으며, 2층은 마루를 깔아 연회장으로 이용하였다.
마루의 높이를 3단으로 하여 지위에 따라 맞는 자리에
앉도록 하였다.

- ① 왕실 권위의 상징인 근정전
- ② 명성 황후의 한이 서린 건청궁
- ③ 연못과 누각이 어우러진 경희루
- ④ 초계문신의 자취를 간직한 주합루
- ⑤ 사대부 저택을 본뜬 창덕궁 후원의 연경당

13. 다음 내용과 관련된 설명으로 옳은 것을 <보기>에서 고른 것은? [2점]

금년 12월 16일에 이르러 처인 부곡에서 그들과 큰 싸움이 벌어졌습니다. 여기서 그 우두머리 살리타를 사살하고, 사로 잡은 자도 많았습니다. 이로부터 그 남은 무리들이 기세를 잃고 회군하여 갔습니다.

- 「동국이상국집」 -

— < 보 기 > —

- ㄱ. 고려군이 거란군의 침략을 물리친 전투이다.
 ㄴ. 왕은 이 난리를 당하여 나주까지 피신하였다.
 ㄷ. 전투에 승리한 후 이곳은 현으로 승격되었다.
 ㄹ. 이곳 주민들은 일반 군현민보다 더 많은 세금을 부담하고 있었다.

- ① ㄱ, ㄴ ② ㄱ, ㄷ ③ ㄴ, ㄷ
 ④ ㄴ, ㄹ ⑤ ㄷ, ㄹ

14. 지도의 빗금 친 영토를 수복한 왕의 업적으로 옳은 것을 <보기>에서 고른 것은? [3점]



— < 보 기 > —

- ㄱ. 왕권을 제약하던 정방을 폐지하였다.
 ㄴ. 기철을 비롯한 친원 세력을 제거하였다.
 ㄷ. 최영으로 하여금 요동을 정벌하게 하였다.
 ㄹ. 과전법 실시를 포함한 전제 개혁을 단행하였다.

- ① ㄱ, ㄴ ② ㄱ, ㄷ ③ ㄴ, ㄷ
 ④ ㄴ, ㄹ ⑤ ㄷ, ㄹ

15. 다음 가상 편지 글의 밑줄 그은 ㉠~㉥ 중 적절하지 않은 것은? [2점]

○○○에게

.....

나는 어릴 때 좋은 선생님을 만나 ㉠서당에서 천자문과 동몽선습을 공부하였고, 그 덕분에 ㉡한양에 있는 4부 학당 중 한 곳에 들어갈 수 있었지, 그 후 ㉢소과에 합격하여 성균관에 입학하였고, 마침내 대과에 합격해서 관직에 진출하였고, 자네는 예전에 ㉣대성전과 명륜당이 있는 향교에 적을 두고 있다가, 친척 분의 추천으로 ㉤서원에 들어가 나라에서 파견한 교수와 훈도의 지도를 받았는지, 어느새 우리의 교분이 벌써 20년이 흘렀군,

- ① ㉠ ② ㉡ ③ ㉢ ④ ㉣ ⑤ ㉤


16. 다음 신문 기사에 소개된 그림으로 옳은 것은? [2점]

○○ 일 보

2009년 9월 ○○일

다시 만나 보는 조선 회화의 걸작

조선 회화를 대표하는 작품 가운데 하나인 이 그림은 1996년 국내에 전시된 지 13년 만에 다시 고국 땅을 밟았다. 일본 텐리 대학이 좀처럼 공개하지 않는 이 그림의 전시를 위해 외교 통상 부까지 나섰다. 조선 세종 대의 화가였던 안견이 안평 대군의 요청을 받아 그린 이 그림은 안평 대군의 발문과 시문 이외에도 당대 문사 21명의 시와 글씨가 곁들여져 있는 것으로 유명하다.



17. 밑줄 그은 ㉠~㉤과 관련된 설명으로 옳은 것은? [2점]

〈신숙주의 연보〉

- 1417년(태종 17) 출생
- 1439년(세종 21) 친시 문과에 합격함.
- 1441년(세종 23) ㉠집현전 부수찬으로 임명됨.
- 1443년(세종 25) ㉡통신사 변효문의 서장관으로 일본에 다녀옴.
- 1453년(단종 1) ㉢계유정난 시 수양 대군을 도와 정난공신에 책봉됨.
- 1468년(예종 1) 남이를 숙청한 공으로 ㉣익대공신에 책봉됨.
- 1471년(성종 2) ㉤영의정으로 임명됨.
- 1475년(성종 6) 사망

- ① ㉠ - 왕명의 출납을 담당하였다.
- ② ㉡ - 돌아온 후 해동제국기를 저술하였다.
- ③ ㉢ - 성삼문, 박팽년 등의 모의를 저지한 공으로 공신이 되었다.
- ④ ㉣ - 일정 지역을 녹읍으로 하사받았다.
- ⑤ ㉤ - 비변사에 참여하여 회의를 주관하였다.

18. 다음 글의 내용을 입증할 수 있는 문화유산으로 옳지 않은 것은? [2점]

세종 때를 전후하여 추진된 민생 안정과 부국강병의 시책은 백성들의 삶의 질을 향상시키고, 국가 정책에 유용하게 활용할 수 있는 여러 방면의 실용적 학문을 크게 발전시켰다.



19. 다음 가상 대화가 있었던 시기의 경제 상황으로 옳은 것은? [3점]



- ① 2년 3작의 윤작법이 점차 보급되었다.
- ② 전세 부담을 낮춘 영정법이 실시되었다.
- ③ 소작료 납부 방식이 도조법으로 바뀌어 갔다.
- ④ 광작 농업으로 부를 축적한 농민이 늘어났다.
- ⑤ 쌀의 상품화로 밭을 논으로 바꾸는 현상이 활발해졌다.

20. 다음 지역에 대한 학습 주제로 적절하지 않은 것은? [2점]

- 월 간섭기에 탐라총관부가 설치되었다.
- 조선 시대에 광해군, 김정희 등의 유배지였다.
- 우리나라 신석기 시대의 시작 연대를 올려 잡을 수 있게 한 고산리 유적이 있다.

- ① 벨테브레이와 하멜의 표착
- ② 삼별초 항쟁과 항파두리성
- ③ 김만덕의 상업 활동과 빈민 구제
- ④ 정제두의 양명학 연구와 학파 형성
- ⑤ 광복 후 좌·우익의 대립과 4·3 사건

21. 다음 서문이 들어 있는 책으로 옳은 것은? [2점]

삼가 생각하건대, 전하께서는 “우리나라 문인들의 문장 저술이 비록 육경(六經)에 견줄 수는 없지만 문운(文運)의 성쇠를 볼 수 있다.”고 하시며, 여러 문인의 작품을 모아 한 질의 책을 만들도록 명하셨습니다. 그리하여 신들이 전하의 말씀을 받들어 삼국 시대로부터 지금에 이르기까지의 사·부·시·문 등 약간의 글을 수집하였습니다. 그 중에 정치에 도움이 될 만한 것들을 취하여 문체에 따라 분류하고, 130권으로 정리하여 책을 엮어 올립니다.

- ① 동문선 ② 경국대전 ③ 동국통감
- ④ 악학궤범 ⑤ 국조오례의

22. 다음 내용과 가장 관련 깊은 민속놀이로 옳은 것은? [1점]

정유재란 때 이순신이 삼도 수군통제사로 재차 부임하여 전라 우수영에 진을 치고 왜군이 황해로 진출하는 길을 차단하고 있었다. 이순신이 거느린 전선(戰船)은 10여 척에 지나지 않았으나, 왜군의 전선은 130여 척이었다. 당시 남해 일대에서는 남자를 찾기가 어려웠다. 모두 군사로 불러 나갔거나 군수 물자를 실어 나르는 일에 동원되었기 때문이다. 그래서 이순신은 조선군에 많은 군사가 있는 것처럼 보이기 위해 부녀자들을 동원하여 이 민속놀이를 하게 하였다고 전해진다.

①



②



③



④



⑤



23. 다음 가상 일과표의 밑줄 그은 ㉠에 대한 설명으로 옳은 것은? [2점]

조선 시대 왕의 ○○일 일정

- 오전 5시 : 기상
- 오전 6시 : 왕실 어른들께 아침 문안
- 오전 10시 : ㉠알성시 주관
- 오후 8시 : 합격자 격려
- 오후 10시 : 상소문 읽기
- 오후 11시 : 취침

- ① 3년마다 정기적으로 시행되었다.
- ② 왕의 문묘 참배 후 성균관에서 실시되었다.
- ③ 세자 책봉 등 나라에 경사가 있을 때 치러졌다.
- ④ 역과, 의과, 율과 응시자들을 대상으로 하였다.
- ⑤ 학덕이 높은 유생들을 추천받아 관리로 등용하였다.

24. 다음 요구 사항이 제기된 시기의 상황으로 옳은 것을 <보기>에서 고른 것은? [1점]

<○○부 농민의 요구 사항>

- 세미(稅米)는 항상 7량 5전으로 정하여 거둘 것.
- 각종 군포를 소민(小民)들에게만 편중되게 부담시키지 말고, 각 호마다 균등하게 부담시킬 것.
- 환곡의 폐단을 없앨 것.
- 군역의 부족분을 보충한다거나, 환곡의 부족분을 보충한다는 명목으로 *결렴하는 제도를 폐지할 것.

- 「용호한록」 -

*결렴(結斂) : 토지에 부가하여 조세를 거두어들이는 방식

< 보 기 >

- ㄱ. 임꺽정 등 도적의 출몰이 빈번하였다.
- ㄴ. 삼정의 문란에 항거하여 농민들이 봉기하였다.
- ㄷ. 사회가 여러 차례 일어나 사람이 피해를 입었다.
- ㄹ. 정감록, 도참 등을 이용한 예언 사상이 널리 유행하였다.

① ㄱ, ㄴ

② ㄱ, ㄷ

③ ㄴ, ㄷ

④ ㄴ, ㄹ

⑤ ㄷ, ㄹ

25. 신문 기사에 소개된 인물에 대한 설명으로 옳은 것은? [2점]

○○ 신문

2012년 1월 ○○일

○○○ 탄생 250주년 '유네스코 연관 기념 행사'로 선정




유네스코에서는 '○○○ 탄생 250주년(2012)'을 '2012~2013 유네스코 연관 기념 행사'로 선정하였다.

○○○은(는) 성호 학파의 학통을 이어받아 실학을 집대성한 학자로서, 각종 사회 개혁 사상을 제시하였다. 그는 정조 사후 천주교 박해에 연루되어 오랫동안 강진에서 유배 생활을 하였다.

- ① 자영농 육성을 위해 한전론을 주장하였다.
- ② 금석과안록을 지어 금석학 발전에 기여하였다.
- ③ 지방 행정의 개혁안을 담은 목민심서를 저술하였다.
- ④ 색경을 저술하여 농업 기술의 발전에 이바지하였다.
- ⑤ 100리 척을 사용하여 과학적인 지도 제작에 공헌하였다.

26. 다음 소설이 등장한 시기의 그림에 해당하는 것을 <보기>에서 고른 것은? [1점]

정선 고을에 한 양반이 살고 있었다. 그는 어질고 글 읽기를 매우 좋아하였다. 하지만 그는 몹시 가난하여 환곡을 타 먹었는데, 여러 해가 지나 천 섬의 빚을 지게 되어 옥에 갇히게 되었다. 때마침 그 동네 부자가 이 소문을 듣고 가족끼리 회의를 열어 말하였다. “이제 저 양반이 환곡을 갚을 길이 없어서 곤란한 모양이니 그 양반 자리를 더 유지할 수 없을 것이다. 이 기회에 내가 양반 신분을 사는 것이 어떨까?”



- ① 가, 나 ② 가, 다 ③ 나, 다
- ④ 나, 라 ⑤ 다, 라

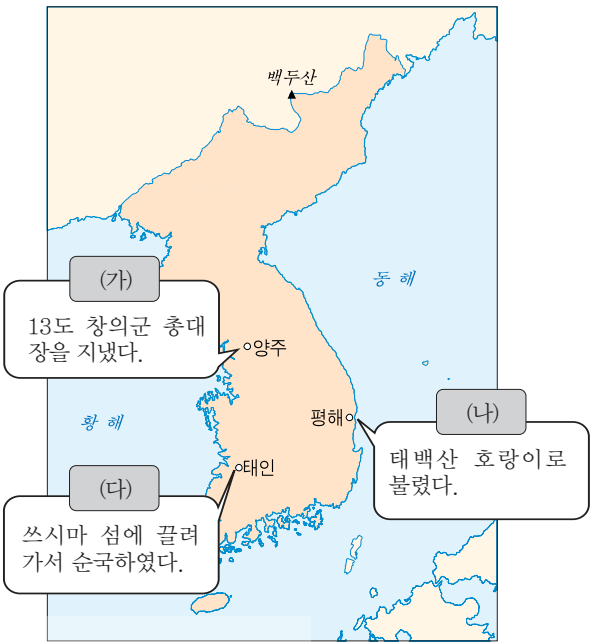
27. 밑줄 그은 ㉠의 반응이 나타나게 된 이유로 가장 적절한 것은? [2점]

강원도에는 대동법을 싫어하는 이가 없는데, 충청·전라도에는 좋아하는 이와 싫어하는 이가 있습니다. 왜 그럴겠습니까? 강원도에는 토호가 없으나 충청·전라도에는 토호가 있기 때문입니다. …… ㉠이렇게 볼 때 토호들만 싫어할 뿐, 백성들은 모두 대동법의 시행을 좋아합니다.

— 조익, 「포저집」 —

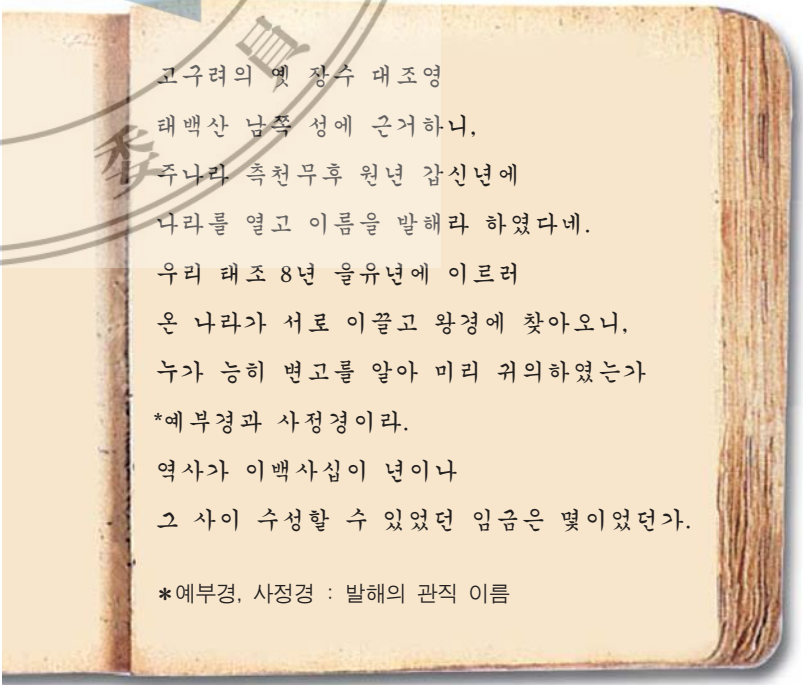
- ① 지주들에게 결작을 부과하였기 때문이다.
- ② 양반의 군역 면제 특권이 사라졌기 때문이다.
- ③ 일부 상류층에게 선무군관포를 징수하였기 때문이다.
- ④ 전분6등과 연분9등에 따라 세금을 부과하였기 때문이다.
- ⑤ 공납의 부과 기준을 가호 단위에서 토지 결수로 바꾸었기 때문이다.

28. (가)~(다) 의병장에 대한 설명으로 옳지 않은 것은? [2점]



- ① (가) - 고종 퇴위에 반발하여 의병을 일으켰다.
- ② (나) - 평민 출신으로 을사조약 체결에 항거하였다.
- ③ (다) - 고종의 친정을 요구하여 흥선 대원군의 하야를 이끌어냈다.
- ④ (가), (나) - 일제의 남한 대토벌 작전으로 인해 만주로 이동하였다.
- ⑤ (가), (다) - 위정척사 사상을 지닌 유생 출신이었다.

29. 다음 내용이 들어 있는 역사서가 저술된 시기를 연표에서 옳게 고른 것은? [2점]



918	1170	1392	1506	1636	1866
(가)	(나)	(다)	(라)	(마)	
고려 건국	무신 정변	조선 건국	중종반정	병자호란	병인양요

- ① (가) ② (나) ③ (다) ④ (라) ⑤ (마)

30. 다음 상황이 나타났던 시기의 사실로 옳지 않은 것은?

[3점]

밭에 심는 것은 9곡(穀)뿐만이 아니다. 모시, 오이, 배추, 도라지 등의 농사를 잘 지으면 조그만 밭이라도 얻는 이익이 헤아릴 수 없이 크다. …… 서쪽 지방의 담배밭, 북쪽 지방의 삼밭, 한산 지방의 모시밭, 전주의 생강밭, 강진의 고구마밭, 황주의 지황밭은 다 상상등(上上等)의 논보다 그 이익이 10배에 달한다.

- ① 벼와 보리의 이모작이 확산되었다.
- ② 전문적으로 광산을 경영하는 덕대가 나타났다.
- ③ 국경 지대에서 개시 무역과 후시 무역이 활발하였다.
- ④ 농업 생산력 향상으로 지방에서 장시가 처음 나타났다.
- ⑤ 상업 자본의 지배를 받는 선대제 수공업이 성행하였다.

32. 밑줄 그은 ‘왕’이 추진한 정책으로 옳은 것을 <보기>에서 고른 것은?

[3점]

왕은 무신년에 일어난 이인좌의 난을 진압한 후 봉당 간의 다툼을 금하고자, ‘신의가 있고 아첨하지 않는 것은 군자의 마음이요, 아첨하고 신의가 없는 것은 소인의 사사로운 마음이다(周而弗比 乃君子之公心 比而弗周 寔小人之私意).’라는 내용의 친필 비석을 성균관에 세웠다.



— < 보 기 > —

- ㄱ. 친위 부대인 장용영을 설치하여 왕권을 강화하였다.
- ㄴ. 군역법을 시행하여 백성들의 군역 부담을 줄여 주고자 하였다.
- ㄷ. 속대전, 동국문헌비고 등을 편찬하여 문물 제도를 정비 하였다.
- ㄹ. 신해통공을 통해 육의전을 제외한 시전 상인의 금난전권을 폐지하였다.

- ① ㄱ, ㄴ
- ④ ㄴ, ㄹ

- ② ㄱ, ㄷ
- ⑤ ㄷ, ㄹ

- ③ ㄴ, ㄷ

33. (가)에 들어갈 사실로 옳지 않은 것은?

[2점]

이용태가 고부로 내려와서, 행패를 부린 것은 모두 동학당의 행위라 하며 동학 교도를 잡아 살육을 자행하였다. 이에 전봉준은 그 무리 4천여 명을 영솔하여 전라도 무장에서 일어나 고부, 태인, 원평, 금구 등으로 갔다.



(가)



공주에 들어가 일본병들에게 격문을 전하여 대치하고자 하였더니, 일본병이 먼저 공주에 자리 잡고 있었다. 형세가 접전하지 아니할 수 없는 까닭에 세 차례 접전 후 군병을 점검하니 1만여 명 중에 남아 있는 자가 불과 5백여 명이었다.

- ① 남접과 북접의 연합이 이루어졌다.
- ② 정부가 청나라에 원병을 요청하였다.
- ③ 집강소를 중심으로 개혁안이 실시되었다.
- ④ 농민들이 장성 황룡촌에서 관군을 맞아 싸웠다.
- ⑤ 조병갑의 폭정에 항거하여 군민들이 관아를 습격하였다.

31. 다음 기사의 사건이 일어난 시기를 연표에서 옳게 고른 것은?

[2점]

역사신문

1800년 00월 00일

외국 상선, 관민과 충돌 끝에 침몰

미국 상선이 통상과 교역을 강요하며 백령도, 초도, 꾀석도를 거쳐, 대동강을 거슬러 평양까지 올라왔다. 평안도 관찰사 박규수는 즉시 물러갈 것을 경고했으나, 이들은 완강하여 물러가지 않았다. 뿐만 아니라 상륙하여 약탈을 자행하고 장수 이현익을 납치하는 등 난폭한 행위를 서슴지 않았다. 이에 격분한 군민들은 활과 소총을 난사하고 돌을 던졌다. 때마침 대동강의 수위가 줄어들어 배가 움직일 수 없게 되니, 박규수가 화공(火攻)으로 배를 불태웠다.

(가)

(나)

(다)

(라)

(마)

기해박해

흥선 대원군 집권

오페르트 도굴 사건


신미양요

강화도 조약

조·미 수호 통상 조약

- ① (가)
- ② (나)
- ③ (다)
- ④ (라)
- ⑤ (마)

34. (가), (나) 신문에 대한 설명으로 옳지 않은 것은? [2점]



- ① (가) - 순 한문으로 박문국에서 발행되었다.
- ② (가) - 정부의 정책을 알리는 관보적 성격을 가졌다.
- ③ (나) - 민간 신문으로는 최초로 발행되었다.
- ④ (나) - 외국인이 읽을 수 있도록 영문으로도 발행되었다.
- ⑤ (가), (나) - 신문지법의 적용을 받아 폐간되었다.

35. 다음 인물의 활동으로 옳은 것은? [2점]

- 1886년 : 길모어 등과 옥영 공원에서 학생들을 가르침.
- 1889년 : 세계지리 교과서인 사민필지를 한글로 발행함.
- 1905년 : 고종 황제의 친서를 가지고 미국으로 건너감.
- 1949년 : 국민으로 초대되어 왔다가, 서울에서 사망함.

- ① 최초의 서양식 병원인 광혜원을 설립하였다.
- ② 배재 학당을 설립하여 근대 교육을 보급하였다.
- ③ 헤이그 만국 평화 회의에 특사 파견을 건의하였다.
- ④ 대한매일신보의 사장을 지내며 매일 사상을 고취시켰다.
- ⑤ 외교 고문으로 활동하며 러시아와의 수교를 권유하였다.

36. 다음 경제 상황의 배경이 된 조약으로 옳은 것은? [1점]

어떠한 벽촌이라 하더라도 장날에 청 상인이 오지 않는 곳이 없다고 한다. 공주, 강경, 예산 등 시장에는 어디나 청 상인 20~30명이 와서 장사를 한다. 안성 시장의 경우 지금까지는 외국 물품을 인천에서 구입하여 판매하는 국내 상인이 100명이나 되었다. 그러나 요즘 들어 안성 시장에 청 상인이 늘어나 점차 상권을 빼앗겨 폐업하는 자가 많아졌다.

- ① 한성 조약 ② 텐진 조약
- ③ 제물포 조약 ④ 조·일 무역 규칙
- ⑤ 조·청 상민 수륙 무역 장정

37. 다음 두 장면에서 공통적으로 제기된 주장으로 가장 적절한 것은? [3점]



- ① 황제권을 강화하여 자주 국권을 확립하자.
- ② 토지 제도를 개혁하여 농민 생활을 안정시키자.
- ③ 상하 귀천의 신분 차별이 없는 사회를 구현하자.
- ④ 옛 제도를 근본으로 하여 근대 문물을 수용하자.
- ⑤ 의회를 설립하여 근대적인 정치 체제를 확립하자.


38. 다음 엽서의 앞면에 들어갈 사진으로 옳은 것은? [1점]

POST CARD

..... 앞면 사진 속의 건물은 천주교 신자인 김범우의 집터에 고딕 양식으로 1898년에 지어진 거야. 이곳은 건축물의 역사·문화적 가치도 크지만, 1970년대 이후 독재 정권에 항거하는 집회가 열린 곳으로도 아주 유명해,

보내는 사람 : ○○○

받는 사람 : ○○○



39. (가)~(다) 나라에 대한 설명으로 옳지 않은 것은? [3점]

(가) 은(는) 우리가 신하로서 섬기어 속방의 직분에 충실한 지가 벌써 2백 년이나 되었는데 이제 무엇을 더 친할 것이 있겠습니까?


(나) 은(는) 우리가 모르던 나라입니다. 갑자기 황 쥔센의 중용을 받고 우리 스스로가 끌어들였다가, 저들이 우리의 빈약함을 업신여겨 들어주기 어려운 청을 강요하면 전하께서는 장차 어떻게 이에 대응하시겠습니까?

(다) 은(는) 본래 우리와는 혐의(嫌疑)가 없는 나라입니다. 공연히 남의 이간을 듣고 원교(遠交)를 핑계로 근린을 배척하였다가, 만일 이것을 구실 삼아 분쟁을 일으키면 전하께서는 장차 어떻게 이를 구제하시겠습니까?

- 「일성록」 -

- ① (가) - 임오군란 후 조선에 대한 정치적 간섭을 강화하였다.
- ② (가) - 미국을 끌어들여 조선에 대한 자국의 영향력을 지키려 하였다.
- ③ (나) - 거문도를 불법 점령하여 러시아의 남하를 견제하였다.
- ④ (나) - 조선과 최혜국 대우 조항을 포함한 불평등 조약을 체결하였다.
- ⑤ (다) - 삼국 간섭 후 조선에 대한 영향력을 확대하였다.

40. 밑줄 그은 '이 단체'의 활동으로 옳은 것은? [2점]



이 단체는 민족 교육을 고양하고 식산(殖産)을 증진해 부국강병을 이루어 장차 독립의 기초를 세우기 위하여 장지연·윤효정 등 20여 명이 서울에서 조직한 것이다. 식산흥업의 필요성, 일제의 황무지 개척 요구의 의도, 토지 개량의 필요성, 종자 개량 등에 대한 구체적 연구를 거친 후 월보를 통해 계몽 운동을 전개하였다. 국채보상 운동 때 적극적인 참여를 결의하기도 하였다.

- ① 농광 회사 설립
- ② 5적 암살단 조직
- ③ 대성 학교, 오산 학교 설립
- ④ 해외 독립운동 기지 건설 추진
- ⑤ 고종의 강제 퇴위 반대 운동 전개

41. 밑줄 그은 ㉠ 시기에 제기된 독립운동가들의 주장으로 옳지 않은 것은? [3점]

3·1 운동 이후 민족 운동을 이끌 지도부의 필요성이 제기되어 한성, 상하이, 연해주 등지에 임시 정부가 조직되었다. 이 임시 정부들을 단일화하자는 주장이 제기되면서, 한성 정부의 법통을 이어받아 통합된 대한민국 임시 정부가 상하이에서 출범하였다. 대한민국 임시 정부는 한동안 ㉠대통령이 국정을 총괄하는 체제로 운영되었다. 이후 1925년에 국무령 중심의 내각 책임 지도제로, 1927년에 국무위원 중심제로, 1940년에 주석 지도 체제로, 1944년에 주석·부주석 중심 체제로 개편되었다.

- ① 이동휘 - 독립을 위하여 적극적인 무장 투쟁이 필요하다.
- ② 이승만 - 구미 위원부를 중심으로 외교 활동을 전개해야 한다.
- ③ 김 구 - 한국 광복군을 창설하여 독립군 투쟁을 강화해야 한다.
- ④ 안창호 - 임시 정부의 장래를 논의할 국민 대표 회의를 개최해야 한다.
- ⑤ 신채호 - 기존의 임시 정부를 해체하고 독립운동의 새로운 구심점을 만들어야 한다.

42. (가)~(라) 사실을 시기순으로 옳게 나열한 것은? [2점]

(가)



(나)



(다)



(라)



- ① (가) - (나) - (다) - (라)
- ② (가) - (라) - (다) - (나)
- ③ (나) - (라) - (다) - (가)
- ④ (다) - (라) - (나) - (가)
- ⑤ (라) - (나) - (가) - (다)

43. 다음 지도는 어느 독립운동가의 행적을 표시한 것이다.
(가)에 들어갈 내용으로 옳은 것은? [2점]



- ① 한·중 연합군을 결성하여 활동함.
- ② 대한 독립군을 이끌고 일본군을 격파함.
- ③ 중광단을 중심으로 북로 군정서를 조직함.
- ④ 서전서숙을 설립하여 민족 교육을 실시함.
- ⑤ 신흥 무관 학교를 설립하여 독립군을 양성함.

45. 다음 자료에 해당하는 사회 운동에 대한 설명으로 옳지 않은 것은? [2점]

〈1920년대 신문 만평〉

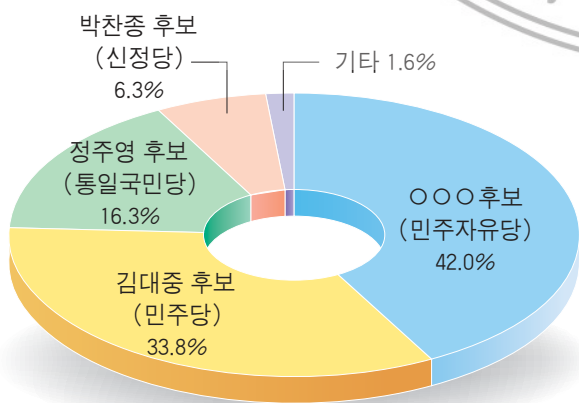


연도	건수	참가 인원(명)
1921	27	2,967
1923	176	9,060
1925	11	2,646
1927	22	3,285
1929	36	2,620
1931	57	5,486
1933	66	2,492
1935	71	2,795
1937	24	2,234

출처 : 조선 총독부 경무국, 「최근 조선의 치안 상황」, 1938

- ① 지주의 소작료 인상과 소작권 이동 등에 저항하였다.
- ② 전라도, 경상도, 황해도 등지에서 많이 발생하였다.
- ③ 토지 조사 사업과 산미 증식 계획을 배경으로 일어났다.
- ④ 중앙 조직인 조선 농민 총동맹의 지도를 받기도 하였다.
- ⑤ 사회 진화론에 입각하여 민족 실력 양성 운동을 전개하였다.

44. 다음 대통령 선거로 집권한 정부가 한 일로 옳은 것은? [2점]



〈제14대 대통령 선거 득표율〉

- ① 금융 실명제를 실시하였다.
- ② 평양에서 남북 정상 회담을 가졌다.
- ③ 미국과 자유 무역 협정을 조인하였다.
- ④ 소련, 중국과 외교 관계를 수립하였다.
- ⑤ 중·고교생 교복과 두발을 자유화하였다.

46. (가)~(라)의 노래를 시기순으로 옳게 나열한 것은? [1점]

(가) 새벽종이 울렸네 새아침이 밝았네 / 너도 나도 일어나 새
마을을 가꾸세 / 살기 좋은 내 마을 우리 힘으로 만드세

(나) 선고산이 우루루 화물차 가는 소리에 / 지원병 보낸 어
머니 가슴만 쥐어뜯고요 / 어랑어랑 어허야 / 양곡배급
적어서 콩깨묵만 먹고 사누나

(다) 눈보라가 휘날리는 바람찬 흥남부두에 / 목을 놓아 불러
보았다 찾아를 보았다 / 금순아 어테로 가고 길을 잃고
헤매었느냐 / 피눈물을 흘리면서 1·4 이후 나홀로 왔다

(라) 아, 광주여 무등산이여 죽음과 죽음 사이에 / 피눈물을
흘리는 우리들의 영원한 청춘의 도시여 / 우리들의 아버
지는 어디로 갔나 우리들의 어머니는 어디서 쓰러졌나 /
우리들의 아들은 어디에서 죽어 어디에 파묻혔나

- ① (가) - (나) - (다) - (라)
 ② (나) - (다) - (가) - (라)
 ③ (나) - (라) - (가) - (다)
 ④ (다) - (가) - (라) - (나)
 ⑤ (라) - (나) - (다) - (가)

47. (가), (나) 사건에 대한 설명으로 옳은 것은? [3점]

(가) 1월 8일 도쿄 사쿠라다 문 앞에서 자기 손으로 폭탄을 던진 이 의사는 일왕의 가슴을 서늘케 하고 적의 군중들이 놀라 아우성을 칠 때, 그 자리에서 가슴속으로부터 태극기를 꺼내 들고 바람에 맞추어 뒤흔들며 소리 높여 '대한 독립 만세'를 세 번 부르고 조용히 놈들의 체포를 받았다.

(나) 그는 뜻한 바를 기어이 성공하려고 4월 27일에 식당인 흥커우 공원으로 가서 모든 것을 세밀하게 점검한 후, 시라카와 대장의 사진을 얻고 일본 국기 한 장을 사서 가슴 속에 품고 있다가, 29일 새벽이 되자 양복을 입고 어깨에 군용 물병을 메고 손에는 도시락을 들고 공원으로 달음질쳐 간 것이다.

- 김구, 「도왜실기」 -

- ① (가) - 만주 사변 직전에 일어났다.
- ② (가) - 3부 통합 운동에 영향을 끼쳤다.
- ③ (나) - 일제의 상하이 무력 침공의 빌미가 되었다.
- ④ (나) - 중국 국민당이 대한민국 임시 정부를 지원하는 계기가 되었다.
- ⑤ (가), (나) - 의열단 소속 단원이 일으켰다.

48. 다음 선언이 발표될 당시 볼 수 있었던 모습으로 적절한 것은? [2점]

첫째, 대통령 직선제 개헌을 하고
평화적 정부 이양을 실현하도록 하겠습니다.
둘째, 대통령 선거법 개정을 통하여
공정한 경쟁이 보장되어야 합니다.
셋째, 시국 관련 사법들은 석방되어야 합니다.
.....



- ① 김주열 사망에 분노하여 시위하는 마산 시민들
- ② 베트남 파병 군인들의 무사 귀환을 기원하는 가족들
- ③ 서울 올림픽 개최를 앞두고 시설을 점검하는 공무원들
- ④ 유신 철폐와 계엄 해제를 요구하며 서울역에 나온 학생들
- ⑤ 외환 위기 극복을 위하여 금모으기 운동에 동참하는 시민들

49. (가), (나)에 대한 설명으로 옳은 것은? [2점]

(가) 여(閭)에는 여장을 두며 무릇 1여의 토지는 1여의 인민이 공동으로 경작하도록 한다. 내 땅 네 땅의 구별을 없애고 여장의 명령에만 따른다. 여민들이 농경하는 경우 여장은 매일 개개인의 노동량을 장부에 기록해 둔다. 가을이 되면 수확물을 모두 여장의 집으로 가져온 다음 분배한다. 이때 국가에 바치는 세와 여장의 봉급을 뺀다. 나머지를 가지고 장부에 적힌 노동량에 따라 여민에게 분배한다.

(나) 제5조 정부는 다음에 의하여 농지를 매수한다.

1. 다음의 농지는 정부에 귀속한다.
가. 법령 및 조약에 의하여 몰수 또는 국유로 된 농지
나. 소유권의 명목이 분명하지 않은 농지
2. 다음의 농지는 본법 규정에 의하여 정부가 매수한다.
가. 농가 아닌 자의 농지
나. 자경하지 않는 자의 농지
다. 본법 규정의 한도를 초과하는 부분의 농지

- ① (가) - 실학자 유형원이 주장하였다.
- ② (가) - 당시 국가 정책에 반영되어 시행되었다.
- ③ (나) - 6·25 전쟁이 끝난 후 공포되었다.
- ④ (나) - 토지의 무상 분배를 원칙으로 하였다.
- ⑤ (가), (나) - 경자유전의 이념이 반영되었다.

50. (가)에 들어갈 내용으로 가장 적절한 것은? [1점]

1973년 제4차 아랍-이스라엘 전쟁이 발생하자, 석유 수출국 기구(OPEC)는 원유 가격을 대폭 인상하였다. 그 결과 세계 경제는 커다란 혼란에 빠지게 되었다. 이에 우리나라 경제도 인플레이션과 경제 불황에 직면하였다. 그러나 우리나라는 (가) 등에 힘입어 경제 불황을 극복할 수 있었다.

- ① IMF의 구제 금융 지원
- ② 3저 호황으로 인한 무역 수지 개선
- ③ 중동 건설 사업 진출로 인한 외화 유입
- ④ 금융 시장 개방에 따른 외국 자본의 유입
- ⑤ 미국의 원조 물자를 기반으로 한 삼백 산업의 성장