



2015년도

제29회 한국사능력검정시험 문제지

국사편찬위원회

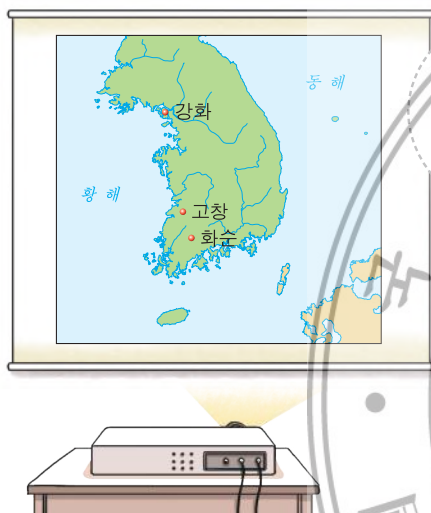
성명

수험번호

- 자신이 선택한 등급의 문제지인지 확인하십시오.
- 문제지에 성명과 수험 번호를 정확히 써넣으시오.
- 답안지에 성명과 수험 번호를 써넣고, 또 수험 번호와 답을 정확히 표시하십시오.
- 시험 시간은 80분입니다.

1. (가) 시대의 생활 모습으로 옳은 것은?

[1점]



지도에 표시된 세 지역은
 (가) 시대의 대표적인
 무덤군이 있는 곳입니다. 권력을
 가진 군장의 출현을 보여주는
 이들 무덤군은 2000년에 유네스코
 세계유산에 등재되었습니다.



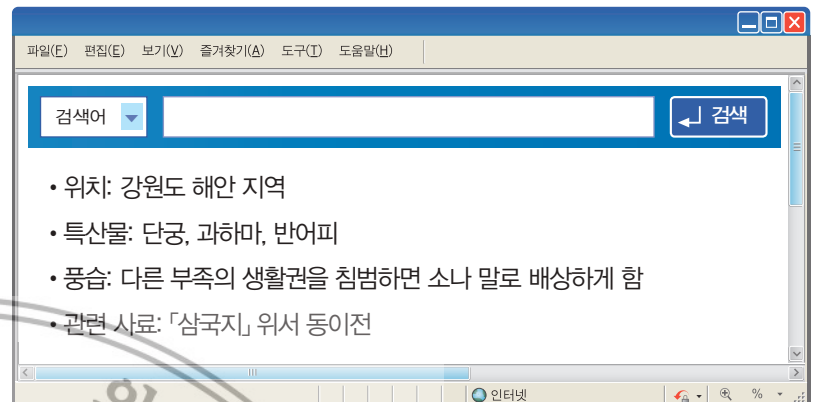
- ① 우경이 널리 보급되었다.
- ② 거친무늬 거울을 제작하였다.
- ③ 주로 동굴이나 막집에서 살았다.
- ④ 실을 뽑기 위해 가락바퀴를 처음 사용하였다.
- ⑤ 토기를 사용하여 식량을 저장하기 시작하였다.

2. 다음 자료에 해당하는 나라에 대한 설명으로 옳은 것은? [2점]

옛날에 환인의 아들 환웅이 천하에 자주 뜻을 두어, 인간 세상을 구하고자 하였다. 아버지가 아들의 뜻을 알고 삼위태백을 내려다 보니 인간을 널리 이롭게 할 만한지라. …… 웅녀는 혼인할 사람이 없었으므로 날마다 신단수 아래에서 잉태하기를 빌었다. 환웅이 잠시 사람으로 변하여 그녀와 혼인하였다. 웅녀가 잉태하여 아들을 낳으니 단군왕검이라 하였다.

- ① 부왕, 준왕 등의 왕이 있었다.
- ② 천군이 관장하는 소도가 있었다.
- ③ 전성기에 해동성국이라 불리었다.
- ④ 화백 회의에서 중대한 일을 결정하였다.
- ⑤ 가족이 죽으면 뼈를 추려 가족 공동 무덤에 안치하였다.

3. 다음 검색창에 들어갈 나라에 대한 설명으로 옳은 것은? [2점]



- ① 낙랑과 왜에 철을 수출하였다.
- ② 무천이라는 제천 행사를 열었다.
- ③ 혼인 풍습으로 서옥제가 있었다.
- ④ 신지, 읍차 등의 지배자가 있었다.
- ⑤ 여러 가(加)들이 사출도를 나누어 다스렸다.

4. 밑줄 그은 '이 불상'으로 옳은 것은?

[2점]

친구야 안녕?

오늘 △△ 박물관에 가서 '삼국의 불상 특별전'을 보고 왔어. 여러 불상 중에서 내 눈을 사로잡은 것은 국보 제83호였어. 이 불상은 일본 고류 사의 목조 미륵보살 반가 사유상과 재료만 다를 뿐 형태가 매우 비슷하여 일본에 전파된 삼국의 불교 문화를 잘 보여준다고 해. 무엇보다도 내 눈에는 미소를 머금은 듯 깊은 사색에 잠겨 있는 모습이 더욱 인상적이었어. 다음에는 꼭 같이 가서 보자.

친구 ○○이가.



제29회 한국사능력검정시험 (중급)

5. 다음 문화유산에 대한 탐구 활동으로 가장 적절한 것은? [2점]



- ① 신라와 고구려의 관계에 대해 분석한다.
- ② 신라에 전래된 서역 문화에 대해 살펴본다.
- ③ 백제 건국 세력과 고구려의 관계를 파악한다.
- ④ 백제가 일본에 전파한 불교 문화에 대해 조사한다.
- ⑤ 중국 남조의 영향을 받은 무덤 양식에 대해 알아본다.

6. 다음 자료에 해당하는 전쟁에 대한 설명으로 옳은 것은? [2점]

- 적장 이근행이 군사 20만 명을 이끌고 매소성에 진을 쳤다. 우리 군사가 이를 격퇴하여 전마(戰馬) 3만 380필과 많은 병기를 얻었다.
- 사찬 시득이 수군을 거느리고 소부리주 기벌포에서 설인귀가 이끄는 군대와 싸웠는데 연이어 패배하였다. 그러나 이후 크고 작은 22번의 싸움에서 승리하여 4천여 명을 죽였다.

- ① 을지문덕 장군이 활약하였다.
- ② 고구려의 선제 공격으로 시작되었다.
- ③ 백제의 성왕이 관산성에서 전사하였다.
- ④ 당 세력이 대동강 이남에서 축출되었다.
- ⑤ 고구려와 당 사이에 일어난 전쟁이었다.

7. (가)~(다) 학생이 발표한 내용을 이루어진 순서대로 옳게 나열한 것은? [3점]



- ① (가) - (나) - (다)
- ② (가) - (다) - (나)
- ③ (나) - (가) - (다)
- ④ (나) - (다) - (가)
- ⑤ (다) - (나) - (가)

8. (가) 국가에 대한 설명으로 옳지 않은 것은? [2점]



- ① 인안 등의 독자적 연호를 사용하였다.
- ② 대조영이 동모산 근처에서 건국하였다.
- ③ 중앙 정치 조직으로 3성 6부를 두었다.
- ④ 국방력 강화를 위해 5군영을 설치하였다.
- ⑤ 전국을 5경 15부 62주로 나누어 다스렸다.

9. 지도와 같은 형세를 이룬 시기의 백제에 대한 사실로 옳은 것은? [2점]



- ① 국호를 남부여로 바꾸었다.
- ② 수도를 한성에서 웅진으로 옮겼다.
- ③ 평양성을 공격하여 고국원왕을 전사시켰다.
- ④ 계백의 결사대가 황산벌에서 신라군과 맞서 싸웠다.
- ⑤ 신라와 혼인 동맹을 맺어 고구려의 남진 정책에 대항하였다.

10. 지도에 표시된 (가)를 설치한 목적으로 가장 적절한 것은? [1점]



- ① 지방 수령 보좌와 향리 감독
- ② 외국과의 활발한 무역 활동 촉진
- ③ 지방관이 파견되지 않은 속현 관리
- ④ 국가가 필요로 하는 특정 수공업품 제작
- ⑤ 동남쪽에 치우친 수도의 지리적 한계 보완

12. (가)에 들어갈 내용으로 옳은 것은? [2점]



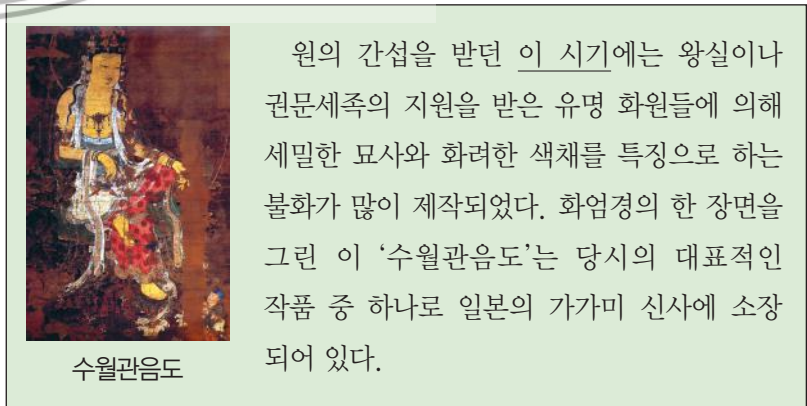
- ① 상평창을 설치하였습니다.
- ② 진대법을 시행하였습니다.
- ③ 영정법을 실시하였습니다.
- ④ 해민국을 설치하였습니다.
- ⑤ 양현고를 설치하였습니다.

11. (가) 왕의 정책으로 옳은 것은?



- ① 12목을 설치하고 지방관을 파견하였다.
- ② 쌍기의 건의로 과거 제도를 시행하였다.
- ③ 사심관 제도와 기인 제도를 처음 실시하였다.
- ④ 관료에게 토지를 지급하는 전시과 제도를 마련하였다.
- ⑤ 전민변정도감을 설치하여 국가 재정 수입의 기반을 확대하였다.

13. 밑줄 그은 '이 시기'의 문화에 대한 설명으로 옳은 것은? [3점]



- ① 서역 기행문인 왕오천축국전이 쓰여졌다.
- ② 대리석으로 경천사지 10층 석탑을 제작하였다.
- ③ 승려의 사리를 안치한 승탑이 처음 등장하였다.
- ④ 왕실의 무덤으로 돌무지덧널무덤이 조성되었다.
- ⑤ 설총이 한자의 음과 훈을 차용한 이두를 체계적으로 정리하였다.

제29회 한국사능력검정시험 (중급)


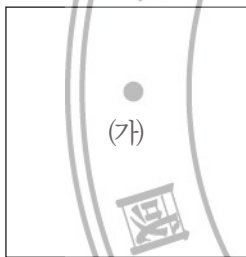
14. 다음 자료에 나타난 상황 이후의 사실로 옳은 것은? [2점]

왕이 보현원으로 가는 길에 5문 앞에 당도하자 시신(侍臣)들을 불러 술을 돌렸다. …… 저물녘 어가가 보현원 가까이 왔을 때, 이고와 이의방이 앞서가서 왕명을 핑계로 순검군을 집결시켰다. 왕이 막 문을 들어서고 신하들이 물러나려 하는 찰나에, 이고 등은 왕을 따르던 문관 및 높고 낮은 신하와 환관들을 모조리 살해했다. …… 정중부 등은 왕을 궁궐로 도로 데리고 왔다.

-「고려사」-

- ① 만적이 개경에서 반란을 도모하였다.
- ② 이자겸이 왕이 되기 위해 난을 일으켰다.
- ③ 윤관이 별무반을 이끌고 여진을 정벌하였다.
- ④ 의천이 교종 중심의 해동 천태종을 개창하였다.
- ⑤ 서희가 외교 협상을 통하여 강동 6주를 획득하였다.

15. (가)에 들어갈 사실로 옳은 것은? [2점]



- ① 과전법이 시행되었다.
- ② 교정도감이 설치되었다.
- ③ 정동행성이 혁파되었다.
- ④ 노비안검법이 시행되었다.
- ⑤ 9서당 10정이 편성되었다.

16. (가)에 해당하는 역사서로 옳은 것은? [1점]

(가) 은/는 역대 왕들의 행적을 날짜별로 기록한 역사서이다. 왕의 말과 행동은 사관이 모두 기록하여 편찬의 기본 자료로 활용하였는데 이를 '사초'라 한다. 왕이 죽은 후 편찬과 간행을 위해 임시 관청을 설치하고 사초와 시정기를 바탕으로 편찬 작업이 이루어졌다. 편찬은 초초, 중초, 정초의 세 단계를 거쳐 이루어졌는데, 모든 작업이 끝나면 편찬에 사용된 사초를 모두 찢는 세초를 하였다.

- ① 동사강목 ② 동국통감 ③ 승정원일기
- ④ 연려실기술 ⑤ 조선왕조실록

17. (가)에 해당하는 사회 조직으로 옳은 것은? [1점]



- ① 향약 ② 향도 ③ 두레
- ④ 경재소 ⑤ 유향소

18. 다음 안내문에 따라 제출한 보고서 제목으로 적절하지 않은 것은? [3점]

〈모듬별 수행평가 안내문〉

주제: 조선 전기 과학 기술의 발전

조선 전기에 민생 안정과 부국강병을 위해 노력하여 발달한 과학 기술의 사례를 모듬별로 조사하여 제출한다.

- 조사 방법: 문헌 조사, 인터넷 검색 등
- 제출 기간: 2015년 ○○월 ○○일 ~ ○○월 ○○일
- 분량: A4 용지 5장 이상

- ① 화약을 이용한 신무기 신기전
- ② 과학적으로 강우량을 측정한 측우기
- ③ 스스로 시간을 알리는 물시계 자격루
- ④ 천체 운동을 계산한 역법서 칠정산 내외편
- ⑤ 현존 최고(最古)의 금속 활자본 직지심체요절

19. 다음 글을 쓴 인물의 활동으로 옳은 것은? [3점]

훌륭한 재상을 얻으면 육전(六典)이 잘 거행되고 모든 직책이 잘 수행된다. 그러므로 임금이 할 일은 한 사람의 재상을 정하는 데에 있다고 하였다. 재상은 위로는 임금을 받들고 밑으로는 모든 관리를 통솔하여 만민을 다스리는 자리이니, 그 직분이 매우 큰 것이다.

— 「조선경국전」 —


- ① 불씨잡변을 저술하여 불교를 비판하였다.
- ② 최초의 서원인 백운동 서원을 설립하였다.
- ③ 기기도설을 참고하여 거중기를 설계하였다.
- ④ 100리 척을 사용하여 동국지도를 제작하였다.
- ⑤ 조선의 고유한 자연을 표현한 인왕제색도를 남겼다.

21. 다음 대화와 관련 있는 전쟁의 영향으로 옳은 것은? [1점]



- ① 북벌론이 대두되었다.
- ② 비변사가 창설되었다.
- ③ 천리장성이 축조되었다.
- ④ 쌍성총관부가 설치되었다.
- ⑤ 전국 각지에 척화비가 건립되었다.

20. (가)에 들어갈 내용으로 옳은 것을 <보기>에서 고른 것은? [2점]



— <보 기> —

- ㄱ. 양전 사업을 실시하고 지계를 발급하였어.
- ㄴ. 어장세, 염세, 선박세를 국가 재정에 귀속시켰어.
- ㄷ. 토산물 대신 쌀, 옷감, 동전으로 납부하게 하였어.
- ㄹ. 지주에게 토지 1결당 쌀 2두의 결작을 부과하였어.

- ① ㄱ, ㄴ ② ㄱ, ㄷ ③ ㄴ, ㄷ
- ④ ㄴ, ㄹ ⑤ ㄷ, ㄹ

22. (가), (나) 세력에 대한 설명으로 옳은 것은? [3점]

김효원이 이조 전랑의 물망에 올랐으나, 그가 윤원형의 문객이었다 하여 심의겸이 반대하였다. 그 후에 심충겸(심의겸의 동생)이 이조 전랑으로 천거되었으나, 외척이라 하여 김효원이 반대하였다. 이로 인해 양쪽으로 편이 갈라져 서로 배척하였는데, 김효원의 세력을 (가), 심의겸의 세력을 (나) (으)로 부르기 시작했다. 이는 김효원의 집이 동쪽 건천동, 심의겸의 집이 서쪽 정릉동에 있었기 때문이다.

- ① (가) - 갑술환국을 통해 권력을 장악하였다.
- ② (가) - 이이와 성혼의 문인을 중심으로 형성되었다.
- ③ (나) - 인조반정을 계기로 정국을 주도하였다.
- ④ (나) - 정여립 모반 사건을 계기로 남인과 북인으로 나뉘었다.
- ⑤ (가), (나) - 호론과 낙론으로 나뉘어 논쟁을 벌였다.

제29회 한국사능력검정시험 (중급)

23. 다음 사극에서 볼 수 있는 장면으로 가장 적절한 것은? [2점]

사극 기획안

▶제목: 임궫정의 눈물
▶시대 배경: 조선 명종 재위 시기
▶기획 의도

명종 때에는 을사사화가 일어나 정치가 혼란스러웠고 관리들의 부패로 수취 체제가 문란해졌다. 이런 상황 속에서 일어난 임궫정의 난을 통해 당시 사회 모습을 실감나게 그려본다.

- ① 나선 정벌에 동원된 군인
② 규장각 검서관에 등용되는 서얼
③ 방납의 폐단으로 고통 받는 농민
④ 광혜원에서 환자를 진료하는 의사
⑤ 품삯을 받고 화성 축조에 참여한 백성

25. (가)에 들어갈 문화유산으로 옳은 것은? [2점]

유네스코 세계유산 카드

(가)

- 종목: 사적 제122호
- 등재 연도: 1997년
- 주요 건물: 돈화문, 인정전, 선정전, 대조전 등
- 특징: 태종 때 별궁으로 세워짐. 임진왜란 이후 정궁 역할을 함. 궁궐의 후원은 조선의 정원 조경을 잘 보여줌.

- ①  창덕궁
②  경희궁
③  창경궁
④  경복궁
⑤  덕수궁(경운궁)

26. (가)에 들어갈 내용으로 옳은 것을 <보기>에서 고른 것은? [1점]

24. (가) 상인에 대한 설명으로 옳은 것은? [2점]


一. 조동모서(朝東暮西): 아침에는 동쪽, 저녁에는 서쪽, 근면 성실하게 일한다.

一. 병구사장(病救死葬): 병든 동료를 보면 돕고, 죽은 동료를 보면 장사 지낸다.

왼쪽은 전국을 무대로 활동한 (가) 조직의 내부 상규이다. 붓짐장수와 등짐장수를 아울러 일컫는 (가)은/는 상호 부조와 안전 등을 위해 상단(商團)을 결성하고 엄격한 규율을 실행하였다.

- ① 동시전의 감독을 받았다.
② 각지에 송방을 설치하였다.
③ 청과의 개시 무역을 주도하였다.
④ 대동법 실시를 계기로 등장하였다.
⑤ 여러 장시를 하나의 유통망으로 연계시켰다.

초 대 장



• 일자: 2015년 10월 ○○일
• 장소: △△ 대학교 대강당
• 주최: □□ 연구회

제○○회 정기 학술 대회

본 연구회에서는 조선 후기에 유행한 서민 문화를 주제로 학술 대회를 개최하고자 합니다.

※ 발표 내용 ※

1. 노래와 사설로 이야기를 풀어가는 판소리

2. (가)

— <보 기> —

- ㄱ. 사회 모순을 비판한 한글 소설
ㄴ. 양반의 위선을 해학적으로 풍자한 탈춤
ㄷ. 희망에 넘친 현실 생활을 노래한 경기체가
ㄹ. 상감 기법으로 다양한 무늬를 표현한 상감 청자

- ① ㄱ, ㄴ ② ㄱ, ㄷ ③ ㄴ, ㄷ
④ ㄴ, ㄹ ⑤ ㄷ, ㄹ

27. 다음 글을 쓴 인물의 활동으로 옳은 것은? [2점]

검소하다는 것은 물건이 있어도 남용하지 않는 것을 말하는 것이지, 자신에게 물건이 없다 하여 스스로 단념하는 것을 말하는 것이 아니다. 지금 우리나라 안에는 구슬을 캐는 집이 없고 시장에 산호 따위의 보배가 없다. 또 금과 은을 가지고 가게에 들어가도 떡을 살 수 없는 형편이다. …… 이것은 물건을 이용하는 방법을 모르기 때문이다. 이용할 줄 모르니 생산할 줄 모르고, 생산할 줄 모르니 백성은 나날이 궁핍해지는 것이다.

-「북학의」-

- ① 동의보감을 편찬하였다.
- ② 목민심서를 저술하였다.
- ③ 사상 의학을 확립하였다.
- ④ 청 문물의 수용을 주장하였다.
- ⑤ 북한산비가 진흥왕 순수비임을 밝혔다.

28. 다음 자료로 알 수 있는 사건에 대한 탐구 활동으로 가장 적절한 것은? [2점]

자료로 보는 ○○○○

기록 자료

미국 군대가 강화도를 침범하자 순무중군 어재연이 군사를 이끌고 광성보로 들어가서 배수진을 치고 방어하였다. 적군이 안개가 낀 틈을 타서 광성보를 넘어 밀려들어 왔다. 어재연은 칼을 들고 싸우다가 칼이 부러지자 연환(鉛丸)을 쥐고 적들을 향해 던졌다. 연환이 다 떨어지자 적들은 그를 창으로 찔렀다.

- 황현, 「매천야록」 -

사진 자료

강화 광성보 안해루

광성돈대

- ① 삼국 간섭의 원인을 분석한다.
- ② 운요호 사건의 결과를 알아본다.
- ③ 조사 시찰단의 파견 목적을 살펴본다.
- ④ 외규장각 도서의 반환 과정을 정리한다.
- ⑤ 제너럴 셔먼호 사건의 영향을 조사한다.

29. 다음 사건이 전개된 시기의 상황으로 옳은 것은? [2점]

철종 13년 4월, 경상도 안핵사 박규수가 아뢰기를, “금번 진주의 난민들이 소동을 일으킨 것은 오로지 전 우병사 백낙신이 탐욕을 부려 수탈하였기 때문입니다. …… 이 때문에 군정(群情)이 들끓고 여러 사람의 노여움이 한꺼번에 폭발하여 전에 듣지 못하던 변란이 갑자기 일어난 것입니다.”라고 하였다.

-「철종실록」-

- ① 예송으로 서인과 남인이 대립하였다.
- ② 훈구파를 중심으로 정국이 운영되었다.
- ③ 삼정의 문란으로 농민의 고통이 극심하였다.
- ④ 황제권 강화를 위해 대한민국 국제가 선포되었다.
- ⑤ 홍건적을 격퇴하면서 신흥 무인 세력이 성장하였다.

30. (가)의 발행을 추진한 인물의 정책으로 옳은 것은? [3점]

제 △△ 호

집중 기획

한국사 신문

○○○○년 ○○월 ○○일

(가)

발행, 그 효과는?

명목상의 가치가 상평통보의 100배에 해당하는 화폐가 발행되었다. 이는 왕실의 위엄을 회복하기 위해 추진 중인 경복궁 중건 사업에 막대한 경비가 소요되자 취해진 것이다. 이번 조치로 부족한 재정 문제가 해결될 수 있을지 귀추가 주목된다.

- ① 친위 부대인 장용영을 설치하였다.
- ② 조선의 기본 법전인 경국대전을 편찬하였다.
- ③ 환곡의 폐단을 없애기 위해 사창제를 실시하였다.
- ④ 관리들의 재교육을 위해 초계문신제를 운영하였다.
- ⑤ 봉당 정치의 폐해를 경계하고자 탕평비를 건립하였다.

31. 밑줄 그은 ‘이 사건’의 결과로 옳은 것은?

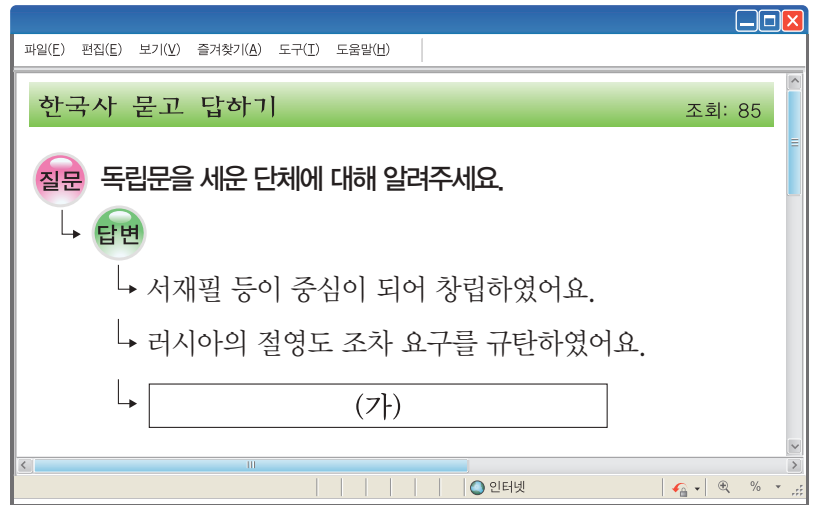
[2점]



- ① 일본에 통신사가 파견되었다.
- ② 청의 내정 간섭이 심화되었다.
- ③ 집강소가 설치되어 폐정 개혁이 추진되었다.
- ④ 정부와 농민군 사이에 전주 화약이 이루어졌다.
- ⑤ 개화 정책을 추진하기 위해 통리기무아문이 설치되었다.

33. (가)에 들어갈 내용으로 옳은 것은?

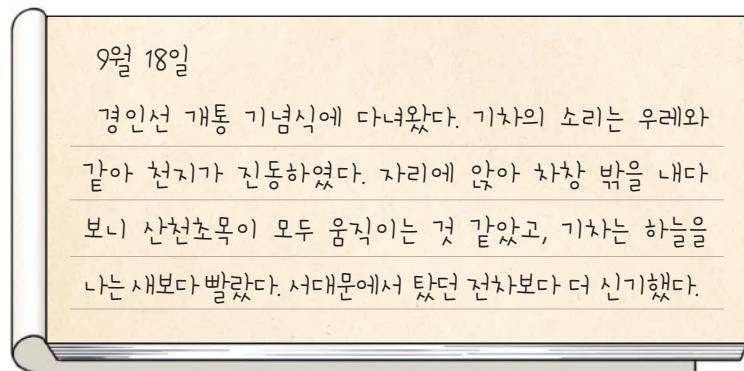
[2점]



- ① 물산 장려 운동을 주도하였어요.
- ② 파리 강화 회의에 대표를 파견하였어요.
- ③ 대중 집회인 만민 공동회를 개최하였어요.
- ④ 고종 강제 퇴위 반대 운동을 전개하였어요.
- ⑤ 광주 학생 항일 운동에 진상 조사단을 파견하였어요.

32. 다음 가상 일기의 상황이 나타난 시기를 연표에서 옳게 고른 것은?

[2점]

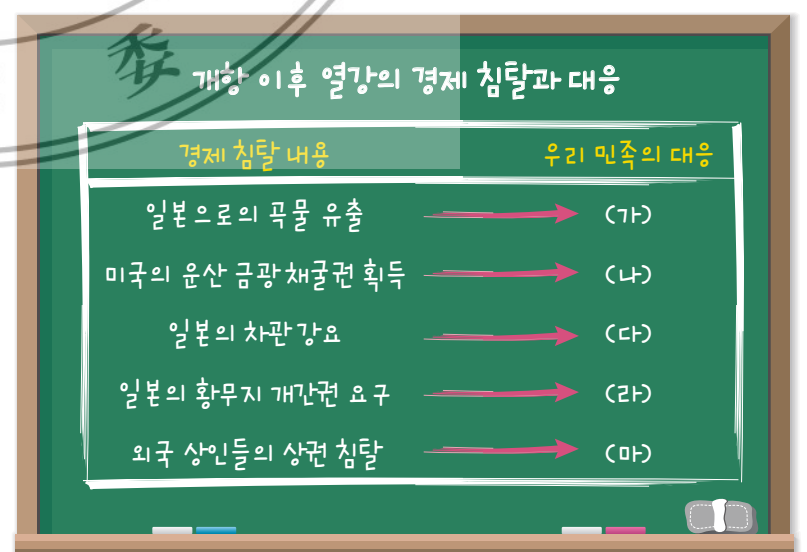


1876	1884	1894	1904	1910	1919
(가)	(나)	(다)	(라)	(마)	
강화도 조약	갑신 정변	갑오 개혁	러·일 전쟁	국권 피탈	대한민국 임시 정부 수립

- ① (가)
- ② (나)
- ③ (다)
- ④ (라)
- ⑤ (마)

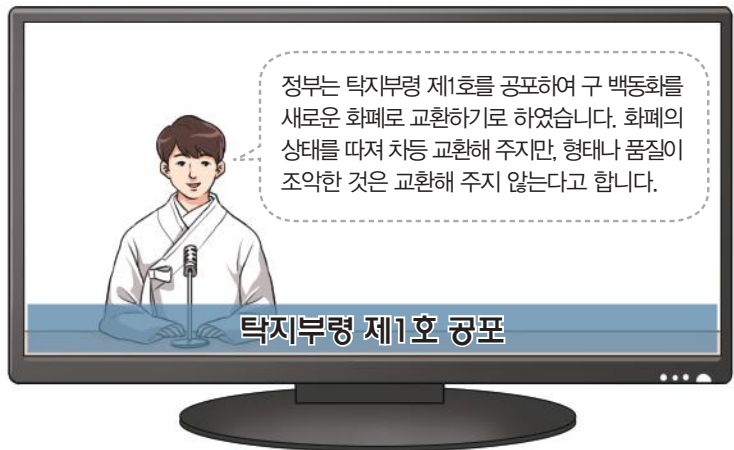
34. (가)~(마)에 들어갈 사실로 옳지 않은 것은?

[3점]



- ① (가) - 방곡령 선포
- ② (나) - 조선 광업령 제정
- ③ (다) - 국채 보상 운동 전개
- ④ (라) - 보안회의 저지 운동
- ⑤ (마) - 시전 상인들의 철시 투쟁

35. 다음 가상 뉴스에서 보도하는 정책에 대한 설명으로 옳은 것을 <보기>에서 고른 것은? [1점]



— <보 기> —

- ㄱ. 조선 상인들이 큰 타격을 입었다.
- ㄴ. 화폐 발행을 위해 전환국을 설치하였다.
- ㄷ. 일본인 재정 고문인 메가타가 주도하였다.
- ㄹ. 동양척식주식회사가 중심이 되어 실시하였다.

- ① ㄱ, ㄴ ② ㄱ, ㄷ ③ ㄴ, ㄷ
- ④ ㄴ, ㄹ ⑤ ㄷ, ㄹ

37. 다음 조약의 강제 체결에 대한 저항으로 옳은 것을 <보기>에서 고른 것은? [1점]

제2조 일본국 정부는 한국과 타국 사이에 현존하는 조약의 실행을 완수할 임무가 있으며, 한국 정부는 금후 일본국 정부의 중개를 거치지 않고는 국제적 성질을 가진 어떤 조약이나 약속도 하지 않는다.

제3조 일본국 정부는 그 대표자로 하여금 한국 황제 폐하의 결하에 1명의 통감(統監)을 두게 하며, 통감은 전적으로 외교에 관한 사항을 관리하기 위하여 경성에 주재하고 한국 황제 폐하를 친히 내알(內謁)할 권리를 가진다.


.....

— <보 기> —

- ㄱ. 홍경래가 평안도에서 봉기하였다.
- ㄴ. 이만손 등이 영남 만민소를 올렸다.
- ㄷ. 최익현이 태인에서 의병을 일으켰다.
- ㄹ. 고종이 헤이그 만국 평화 회의에 특사를 파견하였다.

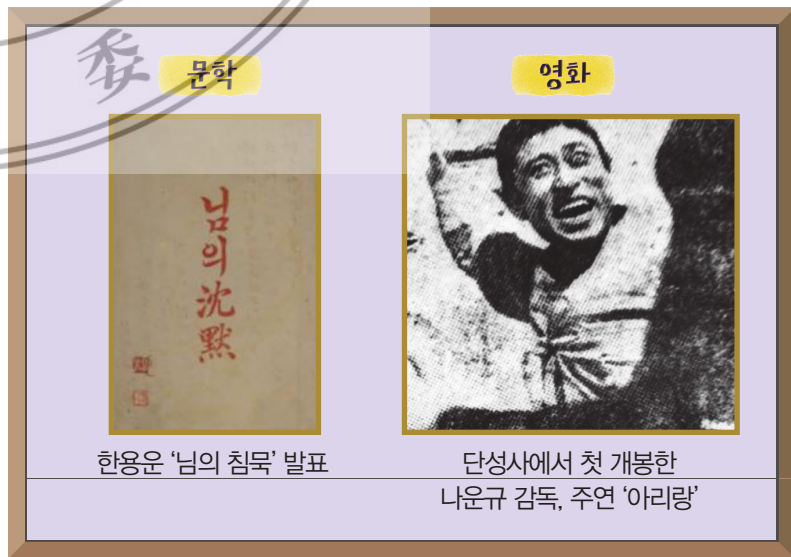
- ① ㄱ, ㄴ ② ㄱ, ㄷ ③ ㄴ, ㄷ
- ④ ㄴ, ㄹ ⑤ ㄷ, ㄹ

36. 교사의 질문에 대한 학생의 답변으로 옳은 것은? [2점]



- ① 위정척사 운동을 전개하였어요.
- ② 항일 무장 투쟁을 전개하였어요.
- ③ 애국 계몽 운동을 전개하였어요.
- ④ 민족 유일당 운동을 전개하였어요.
- ⑤ 국외에 독립군 기지를 건설하였어요.

38. 다음 작품들이 발표된 시기의 문화에 대한 설명으로 옳은 것은? [3점]



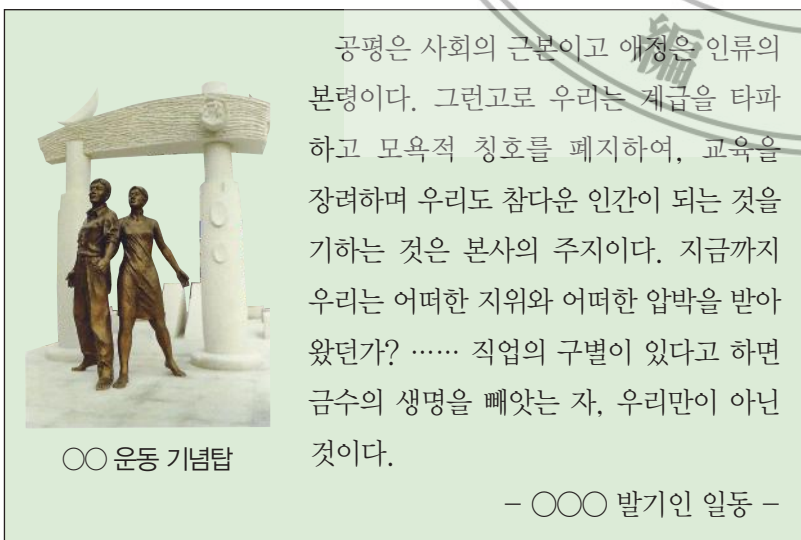
- ① 신소설 금수회의록이 발표되었다.
- ② 계몽적 성격의 창가인 경부철도가가 만들어졌다.
- ③ 청바지와 통기타로 상징되는 청년 문화가 유행하였다.
- ④ 문학의 현실 참여를 강조한 신경향파 작가들이 활동하였다.
- ⑤ 유길준이 서유견문을 저술하여 서양 근대 문물을 소개하였다.

39. 다음 가상 홈페이지의 인물에 대한 설명으로 옳은 것은? [2점]



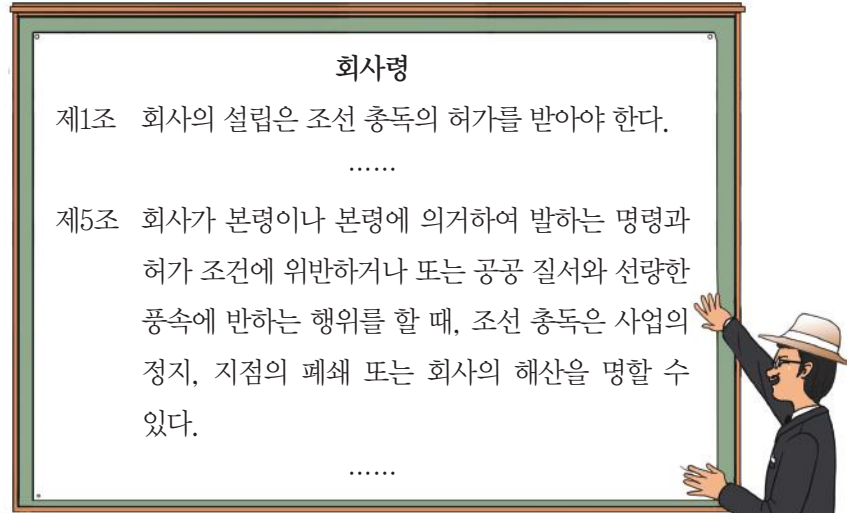
- ① 원산학사를 설립하였다.
- ② 조선 중립화론을 제안하였다.
- ③ 조선사 편수회에 참여하였다.
- ④ 조선 혁명 선언을 작성하였다.
- ⑤ 조선사회경제사를 저술하였다.

40. 다음 자료로 알 수 있는 사회 운동에 대한 설명으로 옳은 것은? [2점]



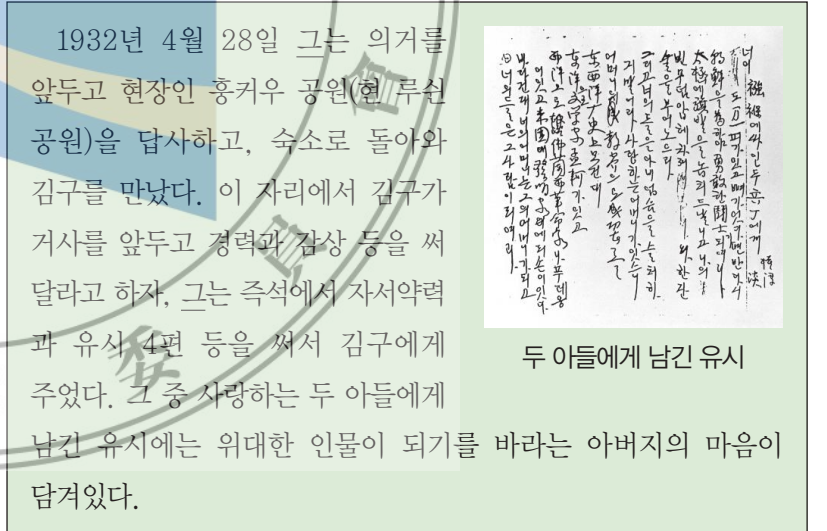
- ① 해상공국의 혁파를 주장하였다.
- ② 정부에 헌의 6조를 건의하였다.
- ③ 중국의 5·4 운동에 영향을 주었다.
- ④ 광주에서 시작하여 전국으로 확산되었다.
- ⑤ 백정에 대한 사회적 차별 철폐를 주장하였다.

41. 다음 법령이 시행된 시기의 사실로 옳은 것은? [2점]



- ① 토지 조사령이 제정되었다.
- ② 국가 총동원법이 공포되었다.
- ③ 소학교가 국민학교로 개칭되었다.
- ④ 여자 정신대 근로령이 시행되었다.
- ⑤ 황국 신민 서사 암송이 강요되었다.

42. 밑줄 그은 '그'에 해당하는 인물로 옳은 것은? [1점]



- ①  김원봉
- ②  윤봉길
- ③  이재명
- ④  이봉창
- ⑤  강우규

43. (가), (나) 인물에 대한 설명으로 옳은 것은? [2점]

인물로 보는 독립 운동

(가)	(나)
	
포수 출신으로 의병 활동을 전개하다가 국권 피탈 후 만주로 건너가 독립군 양성에 힘썼으며 대한 독립군 사령관이 됨.	대한 제국 육군 무관 학교 출신으로 애국 계몽 운동을 전개하다가 만주로 건너가 북로 군정서군 사령관이 됨.

- ① (가) - 의열단을 조직하였다.
- ② (가) - 이토 히로부미를 처단하였다.
- ③ (나) - 미국인 스티븐스를 사살하였다.
- ④ (나) - 조선 총독부에 폭탄을 투척하였다.
- ⑤ (가), (나) - 청산리 전투를 승리로 이끌었다.

44. (가)에 대한 설명으로 옳은 것은? [2점]

이 책자는 대한민국 임시 정부 산하 군대인
 (가)의 기관지「광복」입니다. 한국어판과 중국어판
 두 종류로 발행된「광복」은 (가)의 선전과 홍보를
 목적으로 간행되었습니다.





- ① 자유시 참변으로 큰 타격을 입었다.
- ② 쌍성보 전투에서 일본군에 대승을 거두었다.
- ③ 교육 사업으로 대성 학교, 오산 학교를 설립하였다.
- ④ 독립군 양성을 목적으로 신흥 강습소를 운영하였다.
- ⑤ 미국 전략정보국(OSS)과 함께 국내 진공 작전을 준비하였다.

45. 다음 일제의 식민 통치 방침이 마련된 배경으로 옳은 것은? [2점]

총독은 문무관 어느 쪽이라도 임용될 수 있는 길을 열고, 또한 헌병 경찰 제도를 보통 경찰 제도로 전환할 것이다. 그리고 복제를 개정하여 일반 관리·교원이 제복을 입고 칼을 차던 것을 폐지하고, 조선인의 임용 및 대우 등에 관해서도 역시 고려를 하여 각자 그 소임을 얻게 할 것이다.

- ① 일제가 태평양 전쟁을 일으켰다.
- ② 3·1 운동이 전국적으로 전개되었다.
- ③ 급진 개화파가 갑신정변을 일으켰다.
- ④ 일제가 만주를 침략하여 만주국을 세웠다.
- ⑤ 비타협적 민족주의 세력과 사회주의 세력이 연합하였다.

46. 다음 재판의 근거가 된 법령에 대한 설명으로 옳은 것은? [3점]

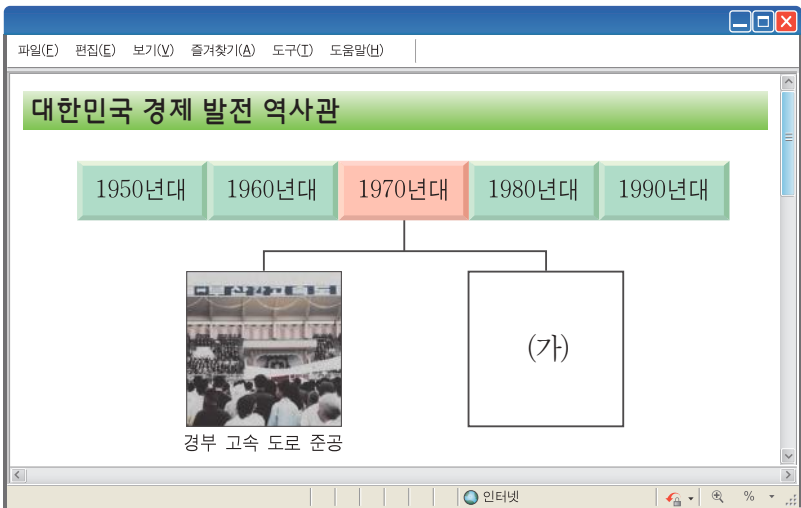
재판장: 피고인은 헌병보 재직 시 담당 사무는 무엇이었나?
 피고인: 민정 사찰이었습니다.
 재판장: 당시 부산 헌병대에서 세칭 ‘부산부 세무 직원 사건’ 관련자를 검거한 사실이 있는가?
 피고인: 있습니다.

 재판장: 동 사건 취급 시 피고인은 어느 정도 관여하였는가?
 피고인: 관계자 체포 시 동행하고, 취조 시 입회하고, 조서를 정서하고, 간혹 관계자의 뺨을 친 정도입니다.
 재판장: 그 사건에 고문한 사실이 있는가?
 피고인: 제가 상관의 지시에 의하여 뺨을 친 사실은 있으나 그 외는 없습니다.
 재판장: ○○○은 고문으로 인하여 사망하였다고 하는데 사실인가?
 피고인: 저는 최후까지 동 사건에 관여하지 않았으므로 잘 모르겠습니다.

○○○○년 ○월 ○○일
반민족 행위 특별 재판부

- ① 미군정에 의해 시행되었다.
- ② 제헌 국회에서 제정되었다.
- ③ 남북 경제 협력의 계기가 되었다.
- ④ 6·25 전쟁 중에 부산에서 공포되었다.
- ⑤ 농지의 유상 매수, 유상 분배를 규정하였다.

47. (가)에 들어갈 사진으로 가장 적절한 것은? [2점]



- ① 금 모으기 운동
- ② 경부 고속 철도 개통
- ③ 수출 100억 달러 달성
- ④ 한미 자유 무역 협정 (FTA) 타결
- ⑤ 경제 협력 개발 기구 (OECD) 가입

48. (가)에 들어갈 내용으로 가장 적절한 것은? [2점]



- ① 부마 항쟁
- ② 6·3 시위
- ③ 4·19 혁명
- ④ 6월 민주 항쟁
- ⑤ 5·18 민주화 운동

49. (가)~(다)를 발표된 순서대로 옳게 나열한 것은? [3점]

한반도 비핵화 공동 선언

(가) 남과 북은 한반도를 비핵화함으로써 핵 전쟁 위험을 제거하고 우리나라의 평화와 평화통일에 유리한 조건과 환경을 조성하며, 아시아와 세계의 평화와 안전에 이바지하기 위하여 다음과 같이 선언한다.

.....

7·4 남북 공동 성명

(나) 첫째, 통일은 외세에 의존하거나 외세의 간섭을 받음이 없이 자주적으로 해결하여야 한다.

둘째, 통일은 서로 상대방을 반대하는 무력 행사에 의거하지 않고 평화적 방법으로 실현하여야 한다.

.....

6·15 남북 공동 선언

(다) 2. 남과 북은 나라의 통일을 위한 남측의 연합제 안과 북측의 낮은 단계의 연방제 안이 서로 공통성이 있다고 인정하고 앞으로 이 방향에서 통일을 지향시켜 나가기로 하였다.

.....

- ① (가) - (나) - (다)
- ② (가) - (다) - (나)
- ③ (나) - (가) - (다)
- ④ (나) - (다) - (가)
- ⑤ (다) - (나) - (가)

50. 다음 두 시의 소재가 된 세시 풍속으로 옳은 것은? [1점]

서울에서 나그네 신세
되고서는
일 년 내내 집안 소식
드물었네
한 점 구름은 가을 빛을
머금고서
홀로 먼 산 고향으로
돌아가네

- 신광수 -

고향의 인정이
밤나무의 추억처럼
익어갑니다

어머님은
송편을 빚고
가을을 그릇에 담아
이웃과 동네에
꽃잎으로 돌리셨지

- 황금찬 -



- ① 추석
- ② 동지
- ③ 칠석
- ④ 설날
- ⑤ 정월 대보름