




2012년도 제 17회 한국사능력검정시험 문제지

 국사편찬위원회

성명


수험 번호

- 자신이 선택한 등급의 문제지인지 확인하시오.
- 문제지에 성명과 수험 번호를 정확히 써넣으시오.
- 답안지에 성명과 수험 번호를 써넣고, 또 수험 번호와 답을 정확히 표시하시오.
- 시험 시간은 80분입니다.


1. 다음 특별전에 전시될 유물로 적절하지 않은 것은? [2점]

〈○○○ 시대 유물 특별전〉

- 기간 : 2012년 ○○월 ○○일 ~ ○○일
- 장소 : ○○ 박물관 기획 전시실
- 전시 유물 : 농경 생활을 시작한 시대의 사람들이 사용한 도구



3. 다음 가상 뉴스의 행사가 실시된 나라를 지도에서 옳게 찾은 것은? [1점]



“오늘은 하늘에 제사 지내는 행사인 무천이 열리는 날입니다. 많은 사람들이 추수를 감사드리고 내년 농사의 풍요를 기원하는 마음으로 함께 모여서, 노래를 부르고 춤을 추며 즐길 것으로 예상됩니다.”



① (가) ② (나) ③ (다) ④ (라) ⑤ (마)

2. 다음 축제의 주제에 맞는 행사로 가장 적절한 것은? [2점]

제○○회 태봉제

- 주제 : 후삼국 시대 태봉의 역사 재현
- 기간 : 2012년 ○○월 ○○일 ~ ○○일
- 장소 : ○○ 종합 운동장 및 관내 일원

- ① 종묘 제례악 공연 ② 황산벌 전투 재현
- ③ 온달 장군 진혼제 ④ 상감 청자 제작 체험
- ⑤ 궁예의 어가 행렬 재연

4. 다음 장면에 해당하는 시기를 연표에서 옳게 고른 것은? [2점]

백제 사신 ○○○입니다.
저희 왕께서 동맹을 맺은
기념으로 좋은 말 2필을
보내셨습니다.



백제와 동맹을 맺게
되어서 나도 기쁘오.

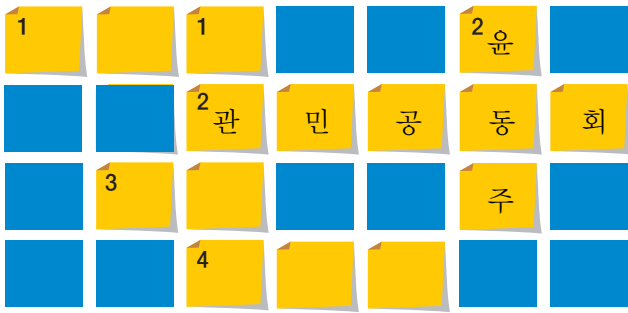
눌지왕

427	475	538	553	612	660
(가)	(나)	(다)	(라)	(마)	
고구려 평양 천도	백제 웅진 천도	백제 사비 천도	신라 한강 하류 차지	살수 대첩	백제 멸망

① (가) ② (나) ③ (다) ④ (라) ⑤ (마)

5. (가)에 들어갈 설명으로 옳은 것은?

[2점]



〈가로〉


1. 신라 왕호의 변천. 거서간→차차웅→○○○→마립간→왕
2. 독립 협회가 정부 관료들과 민중을 모아 개최한 집회
3. 고구려 귀족 회의 명칭. ○○ 회의
4. 최우가 야간에 도둑을 단속하기 위해 설치한 군대

〈세로〉

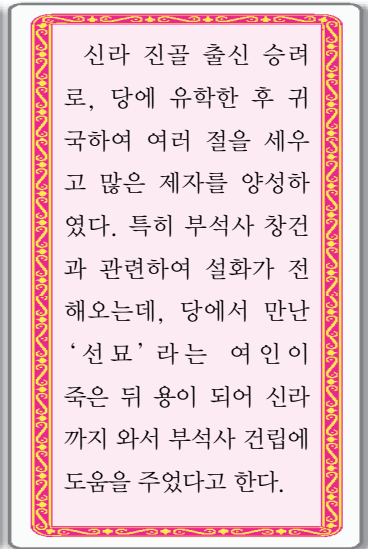
1. (가)
2. 일제 강점기에 '서시', '별 헤는 밤' 등을 지은 시인

- ① 전기 가야 연맹을 주도한 나라
- ② 4세기 백제의 전성기를 이룬 왕
- ③ 고종이 러시아 공사관으로 처소를 옮긴 사건
- ④ 김부식 등이 인종의 명을 받아 편찬한 역사책
- ⑤ 정변을 일으켜 보장왕을 세운 뒤 권력을 장악한 인물

7. 다음 인물 카드의 주인공에 대한 설명으로 옳은 것을 〈보기〉에서 고른 것은? [3점]



〈앞면〉



〈뒷면〉

—〈보기〉—

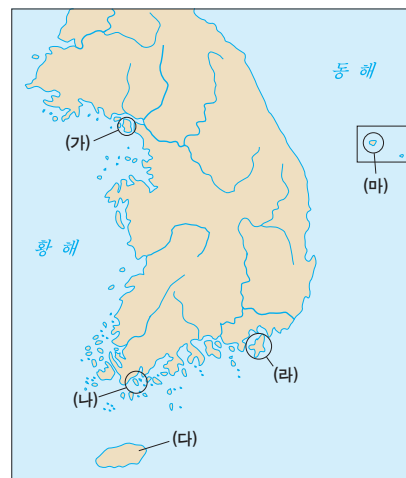
- ㄱ. 관음 신앙을 신라 사회에 확산시켰다.
- ㄴ. 금강삼매경론, 대승기신론소 등을 저술하였다.
- ㄷ. 모든 존재의 조화를 강조하며 신라 화엄종을 개창하였다.
- ㄹ. 선종을 중심으로 교종을 포용하여 선교 일치를 이루고자 하였다.

- ① ㄱ, ㄴ
- ② ㄱ, ㄷ
- ③ ㄴ, ㄷ
- ④ ㄴ, ㄹ
- ⑤ ㄷ, ㄹ

8. 다음 기행문에 나타난 답사 지역을 지도에서 옳게 찾은 것은? [1점]



우리가 처음 찾아간 곳은 장보고의 업적을 기리고, 해양 개혁 정신을 고취하기 위해 개관한 장보고 기념관이었다. 그 다음으로 장보고가 설치한 군진의 흔적인 목책을 둘러보았다.



- ① (가)
- ② (나)
- ③ (다)
- ④ (라)
- ⑤ (마)

6. 다음 문서를 작성한 목적으로 적절한 것은?

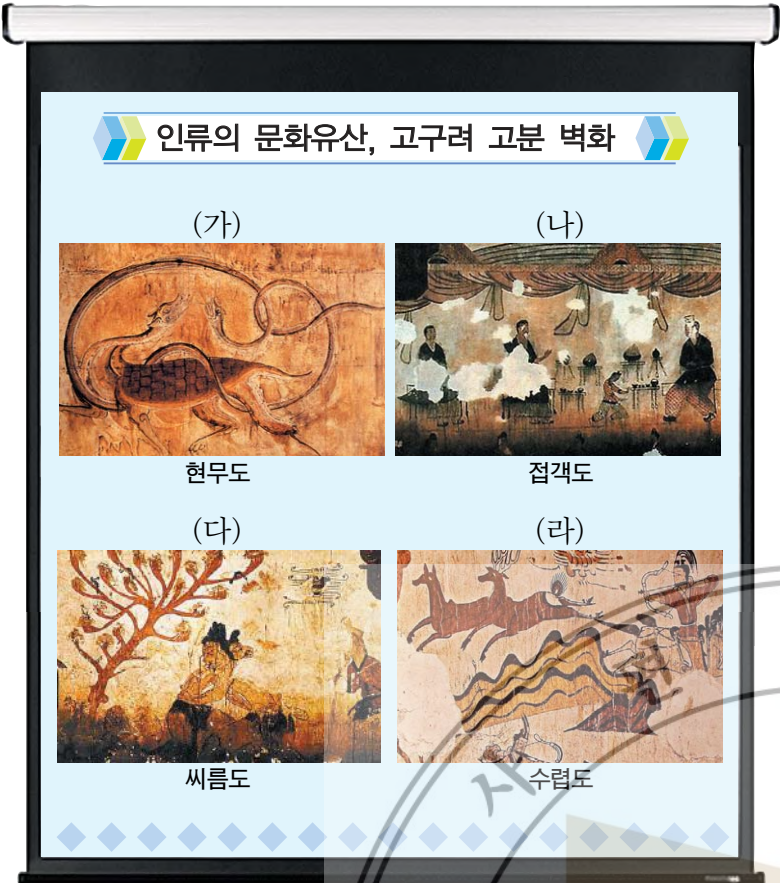
[1점]



본 고을 사해점촌은 둘레가 5,725보이다. 호수는 모두 11호이다. 사람 수는 모두 147명이다. …… 지난 3년 사이에 다른 마을에서 이사 온 사람은 모두 2명인데, …… 말은 모두 25마리이다. …… 논은 모두 102결이다. …… 뽕나무는 모두 1,004그루이다.


- ① 유학 교육 진흥
- ② 화백 회의 기능 축소
- ③ 능력에 따른 관리 선발
- ④ 조세 징수와 노동력 동원
- ⑤ 당과의 활발한 문물 교류

9. 다음 자료를 보고 학생들이 발표한 내용으로 옳지 않은 것은? [2점]



- ① 갑 : (가)는 불교 사상과 밀접한 관련이 있어요.
- ② 을 : (나)는 신분제 사회였음을 짐작하게 해 줘요.
- ③ 병 : (다)는 서역 계통으로 추측되는 인물이 보여요.
- ④ 정 : (라)는 무예를 숭상한 분위기가 반영되어 있어요.
- ⑤ 무 : (가)~(라)는 굴식 돌방무덤에 그려져 있어요.

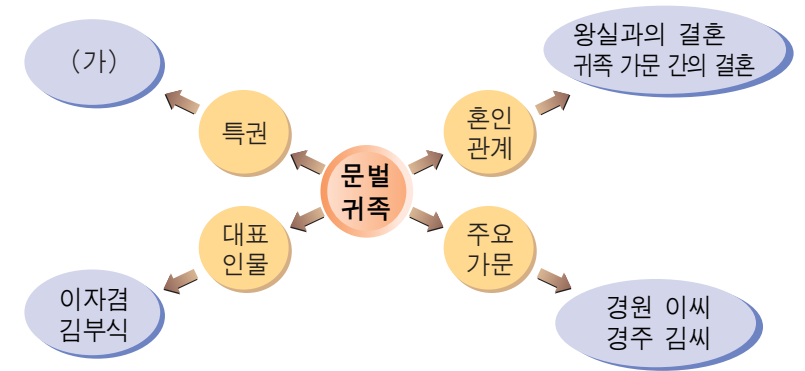
10. (가)에 대한 설명으로 옳은 것은? [2점]



..... 부여씨가 망하고 고씨가 망한 다음 김씨가 남방을 차지하였고, 대씨가 북방을 차지하여 (가) (이)라 하였으니, 이것을 남북국이라 한다. 저 대씨가 어떤 사람인가? 바로 고구려 사람이다. 그들이 차지하고 있던 땅은 어떤 땅인가? 바로 고구려 땅이다.

- ① 지방을 5경 15부 62주로 조직하였다.
- ② 도병마사에서 국방 문제를 논의하였다.
- ③ 민생 안정을 위해 진대법을 실시하였다.
- ④ 화랑도를 통해 청소년을 국가적 인재로 길렀다.
- ⑤ 정사암 회의에서 나라의 중요한 일을 결정하였다.

11. (가)에 들어갈 내용으로 옳은 것을 <보기>에서 고른 것은? [2점]



< 보 기 >

ㄱ. 공명첩

ㄴ. 공음전

ㄷ. 음서제

ㄹ. 유향소

- ① ㄱ, ㄴ

② ㄱ, ㄷ

③ ㄴ, ㄹ
- ④ ㄴ, ㄷ


⑤ ㄷ, ㄹ

12. 다음 대화가 이루어진 시기의 사회 모습으로 옳은 것은? [2점]



- ① 향약이 널리 보급되었다.
- ② 여성의 재혼이 비교적 자유로웠다.
- ③ 중인층의 신분 상승 운동이 활발하였다.
- ④ 골품제에 따른 신분 차별이 엄격하였다.
- ⑤ 아들이 없으면 양자를 들이는 것이 일반적이었다.

13. (가)~(다)를 제작한 순서대로 옳게 나열한 것은? [2점]



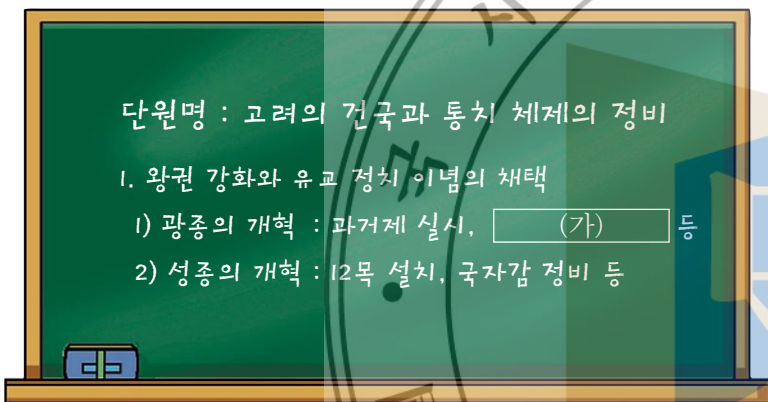
월정사 8각 9층 석탑

감은사지 3층 석탑

원각사지 10층 석탑

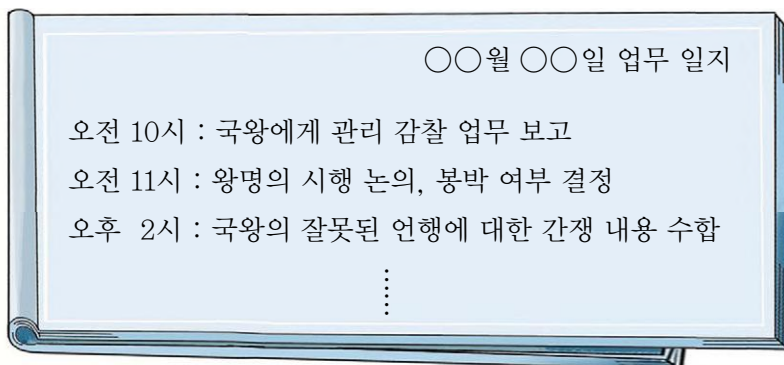
- ① (가) - (나) - (다) ② (가) - (다) - (나)
 ③ (나) - (가) - (다) ④ (나) - (다) - (가)
 ⑤ (다) - (가) - (나)

14. (가)에 들어갈 내용으로 옳은 것은? [1점]



- ① 정방 폐지 ② 2성 6부제 정비
 ③ 노비안검법 시행 ④ 사심관 제도 마련
 ⑤ 전민변정도감 설치

15. 다음은 조선 시대 어느 관청의 가상 업무 일지이다. 이 관청에 대한 설명으로 옳은 것은? [2점]



- ① 서경권을 행사하였다.
 ② 실록 편찬을 담당하였다.
 ③ 화폐와 곡식의 출납을 담당하였다.
 ④ 국방에 관한 중요 정책을 결정하였다.
 ⑤ 수도 한양의 치안과 행정을 담당하였다.

16. (가)에 대한 설명으로 옳은 것을 <보기>에서 고른 것은? [1점]



(가)

5천만 자 이상이 새겨진,
총 8만여 장에 달하는 경판

— < 보 기 > —


- ㄱ. 경주 불국사에 보관되어 있다.
 ㄴ. 의천이 교장도감에서 조판하였다.
 ㄷ. 몽골의 침략을 물리치기 위해 제작하였다.
 ㄹ. 유네스코 세계 기록 유산으로 등재되었다.

- ① ㄱ, ㄴ ② ㄱ, ㄷ ③ ㄴ, ㄷ
 ④ ㄴ, ㄹ ⑤ ㄷ, ㄹ

17. 다음 대화와 관련된 토지 제도에 대한 설명으로 옳은 것은? [2점]


올해부터는 전지와
시지가 지급된다지?

그렇다는군. 관리의 등급에 따라
차등있게 지급된다는데.



- ① 공양왕 때 처음으로 실시되었다.
 ② 경기에 한해 토지를 지급하였다.
 ③ 지급된 토지의 매매와 임대가 가능하였다.
 ④ 관직 복무의 대가로 수조권을 부여하였다.
 ⑤ 토지를 받은 관리가 죽으면 자식에게 휴양전을 지급하였다.


18. (가) 인물에 대한 설명으로 옳은 것은? [3점]



황산 대첩비는 전라도 운봉에서 (가) 이(가) 왜구를 물리친 전투를 기념하기 위해 세운 비석이다. 일제강점기에 조선 총독부가 일본에 대한 조선의 승리를 기록했다는 이유로 이 비석을 폭파하였으나, 광복 이후에 새로 건립되었다.

- ① 우왕에게 요동 정벌을 건의하였다.
- ② 위화도에서 회군하여 정권을 장악하였다.
- ③ 왜구의 근거지인 쓰시마 섬을 토벌하였다.
- ④ 교정도감에서 국가의 중요한 사무를 처리하였다.
- ⑤ 여진을 정벌하여 동북 지방에 9개의 성을 쌓았다.

19. 다음 퀴즈의 답으로 옳은 것은? [1점]



조선은 유학 교육을 장려하고 인재를 양성하기 위해 여러 교육 기관을 두었습니다. 국자감을 계승한 조선 시대의 최고 교육 기관은 무엇일까요? 정답을 문자 메시지로 보내 주세요.

- ① 태학

② 서당

③ 서원

④ 주자감

⑤ 성균관

20. 다음 두 자료의 공통점으로 적절한 것은? [3점]

• 더구나 동명왕의 일은 변화 신이한 것으로 여러 사람의 눈을 현혹한 것이 아니고 실로 나라를 창시한 신기한 사적이니, 이것을 기술하지 않으면 후인들이 장차 어떻게 볼 것인가? 그러므로 시를 지어 기록하여 우리나라가 본래 성인의 나라라는 것을 천하에 알리고자 하는 것이다.

- 이규보, 「동명왕편」 -

• 우리나라는 여러 임금들께서 서로 계승하며 인재를 길러온 지가 백년이 되었다. 그동안 나온 인물들이 정수를 모아 문장을 지어서 역동적으로 발휘한 것이 또한 옛날에 비해 손색이 없다. 이것이 우리 동방의 글이다. 송·원의 글이 아니요, 한·당의 글도 아니며, 곧 우리나라의 글이다.

- 서거정, 「동문선」 -

- ① 고려 시대에 편찬되었다.
- ② 단군 신화가 수록되어 있다.
- ③ 고구려 계승 의식이 담겨 있다.
- ④ 성리학적 대의명분을 강조하였다.
- ⑤ 민족 자주 의식이 반영되어 있다.

21. 다음 가상 공모전의 요건에 맞는 도로명으로 적절하지 않은 것은? [1점]

❖ ○○시 도로명 짓기 공모전 ❖

위대한 발명가 장영실 선생을 기리기 위해 도로명 짓기 공모전을 개최합니다. 시민 여러분의 많은 참여 바랍니다.

○ 제안 요건 : 장영실이 직접 제작하였거나 제작에 참여한 과학 기기의 명칭을 활용

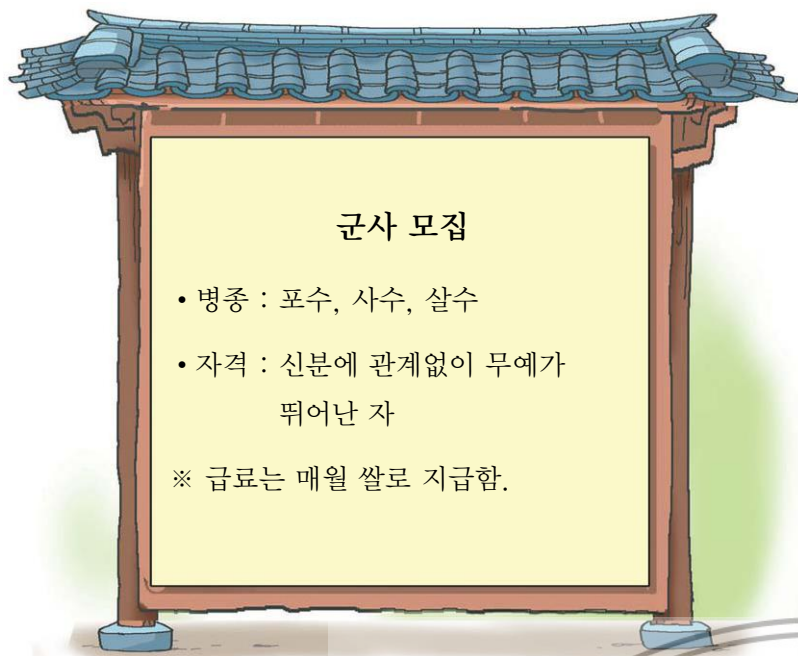
○ 기간 : 2012년 ○○월 ○○일~○○일

○ 대상 : 관심있는 시민 누구나 참여 가능

○○시 장

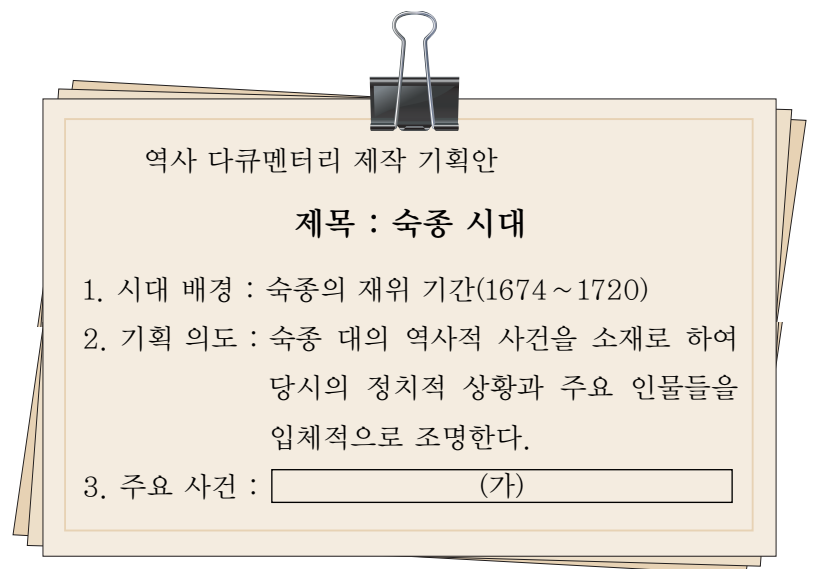
- ① 간의로
- ② 혼천의로
- ③ 자격루로
- ④ 거중기로
- ⑤ 앙부일구로

22. 다음 공고문에 해당하는 군사 조직으로 옳은 것은? [1점]



- ① 광군 ② 삼별초 ③ 속오군
④ 용호군 ⑤ 훈련도감

24. (가)에 들어갈 내용으로 적절한 것은? [2점]



- ① 초계문신제의 실시
② 국왕의 수원 화성 행차
③ 전국 각지에 척화비 건립
④ 남인들이 쫓겨난 갑술환국
⑤ 오페르트의 남연군 묘 도굴 시도

25. 다음 주제의 역할극 대사로 적절하지 않은 것은? [2점]

주제 : 조선 후기 상인의 모습

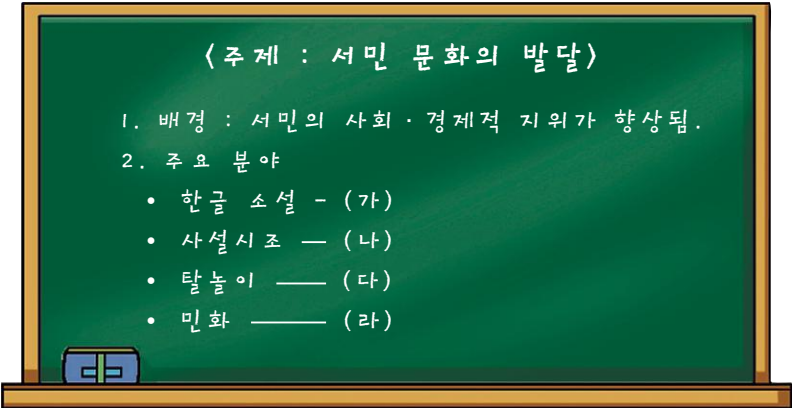
- ① 청 상인과 거래할 때는 인심이 최고야.
② 일본 상인이 온다니 미리 준비해야겠네.
③ 떠돌아 다니며 물건을 파니 힘들군. 가게를 가진 상인은 참 좋겠네.
④ 숙박업과 창고 운영을 함께 하는 것이 좋겠어.
⑤ 대동법 덕분에 돈을 많이 벌게 되었군.

23. 밑줄 그은 ㉠에 해당하는 정책으로 옳은 것은? [3점]

양역의 절반을 감하라고 명하였다. 임금이 말하기를, “사람 수대로 거두는 것은 한 집안에서 거두는 것이니 주인과 노비의 명분이 문란해지며, 토지 결수를 기준으로 거두는 것은 이미 정해진 세율이 있으니 결코 더 부과하기가 어렵다. …… 이 제는 1필을 감하는 정사로 온전히 돌아가야 할 것이니, ㉠줄어든 1필을 대신할 방안을 경들은 잘 강구하라.”

- ① 토지 1결당 결작미 2두를 부과하였다.
② 원납전을 거두고 당백전을 발행하였다.
③ 조세 기준을 가호에서 토지로 바꾸었다.
④ 함경도와 황해도 등지에 방곡령을 내렸다.
⑤ 각 지방 군현의 춘락에 사창을 설치하였다.

26. (가)~(라)에 대한 설명으로 옳은 것을 <보기>에서 고른 것은? [2점]



————— < 보 기 > —————

ㄱ. (가) - 양반전, 허생전 등이 대표적임.
ㄴ. (나) - 구체적인 이야기를 창과 사설로 엮음.
ㄷ. (다) - 양반의 위선과 사회 부조리를 풍자함.
ㄹ. (라) - 민중의 소망과 기원을 반영함.

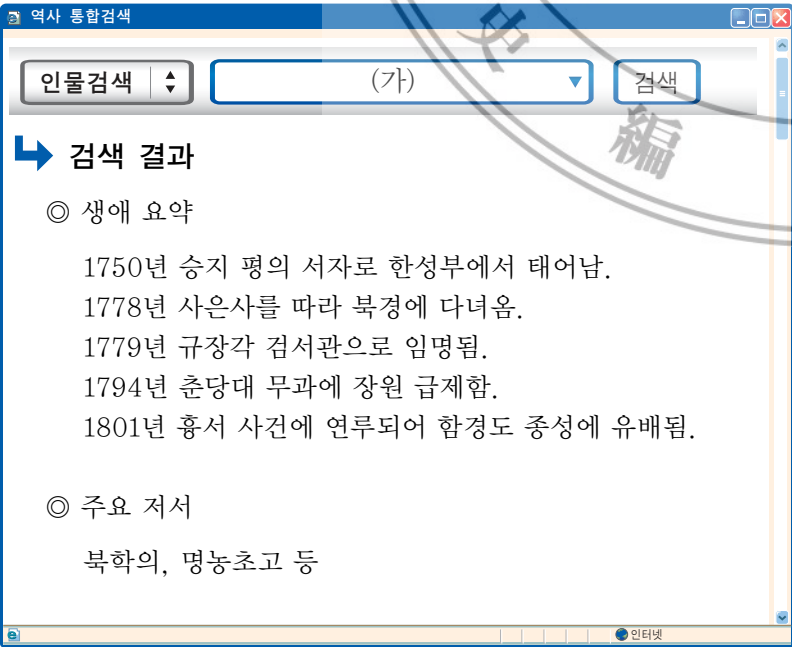
- ① ㄱ, ㄴ ② ㄱ, ㄷ ③ ㄴ, ㄷ
④ ㄴ, ㄹ ⑤ ㄷ, ㄹ

28. 다음 사건들이 일어난 공통적인 원인으로 가장 적절한 것은? [2점]

- 홍경래의 지휘 하에 농민, 중소 상인, 광산 노동자 등이 합세하여 봉기하였다. 이들은 한때 청천강 이북 지역을 거의 장악하였으나, 5개월 만에 평정되었다.
- 진주에서 유계춘을 중심으로 일어난 농민 봉기는 곧 인근 지역으로 퍼져, 삼남 지방을 중심으로 북쪽의 함흥으로부터 남쪽의 제주에 이르기까지 전국적으로 확산되었다.

- ① 왜란으로 인해 경작지가 크게 줄어들었다.
② 삼정의 문란으로 농민들의 생활이 피폐해졌다.
③ 경복궁 중건 공사에 많은 백성들이 동원되었다.
④ 호족이 지방을 직접 다스리며 세금을 거두었다.
⑤ 무신정변 이후 백성에 대한 통제력이 약화되었다.

27. (가)에 들어갈 인물에 대한 설명으로 옳은 것은? [2점]



- ① 강화 학파로서 양명학을 체계화시켰다.
② 청의 역법인 시헌력 도입을 건의하였다.
③ 토지 제도 개혁의 방안으로 여전론을 내세웠다.
④ 사람의 체질을 연구하여 사상 의학을 확립하였다.
⑤ 소비를 권장하여 생산을 늘려야 한다고 주장하였다.

29. 다음 지도에 대한 설명으로 옳은 것을 <보기>에서 고른 것은? [3점]



————— < 보 기 > —————

ㄱ. 전체 22첩의 목판본으로 되어 있다.
ㄴ. 최초로 100리 척을 사용하여 제작되었다.
ㄷ. 산맥, 하천, 도로망 등이 정밀하게 표시되어 있다.
ㄹ. 각 지방의 산천, 인물, 풍속 등이 자세히 나타나 있다.

- ① ㄱ, ㄴ ② ㄱ, ㄷ ③ ㄴ, ㄷ
④ ㄴ, ㄹ ⑤ ㄷ, ㄹ

30. (가)에 대한 설명으로 옳은 것은?

[2점]

양헌수 장군의 '병인일기' 공개



○○ 기념관은 양헌수 장군의 후손에게 기증받은 유물 102점을 일반에 공개할 예정이라고 밝혔다. 이 중 '병인일기'는 1866년 10월 12일부터 12월 2일까지 양헌수 장군이 진중에서 직접 기록한 것으로, 프랑스가 강화도를 침략한 사건인 (가)에 대해 자세히 기록하고 있다.

- ○○일보 -

- ① 청군의 개입으로 종결되었다.
- ② 통신사가 파견되는 계기가 되었다.
- ③ 광성보 전투를 중심으로 전개되었다.
- ④ 복인 세력이 몰락하는 배경이 되었다.
- ⑤ 천주교 탄압을 빌미로 하여 일어났다.

32. (가)에 들어갈 역사적 사실로 옳지 않은 것은?

[2점]



백산 봉기



우금치 전투

- ① 집강소 설치
- ② 황토현 전투
- ③ 전주 화약 체결
- ④ 일본군의 경복궁 점령
- ⑤ 청의 홍선 대원군 납치

31. 다음 그림과 관련된 사건의 영향으로 옳은 것은?

[1점]



- ① 통감부가 설치되었다.
- ② 명성 황후가 시해되었다.
- ③ 고종이 강제로 퇴위당하였다.
- ④ 한반도 중립화론이 제기되었다.
- ⑤ 조·미 수호 통상 조약이 체결되었다.

33. (가)~(라)에 대한 설명으로 옳은 것을 <보기>에서 고른 것은?

[2점]

(가)




수월관음도

(나)



몽유도원도

(다)



고사관수도

(라)




인왕제색도

< 보 기 >

- ㄱ. (가) - 담징이 호류 사에 그린 벽화라고 전해진다.
 ㄴ. (나) - 안견이 현실 세계와 이상 세계를 표현한 작품이다.
 ㄷ. (다) - 신윤복이 양반의 풍류를 묘사한 풍속화이다.
 ㄹ. (라) - 정선이 우리의 고유한 자연을 그린 진경 산수화이다.

- ① ㄱ, ㄴ
- ② ㄱ, ㄷ
- ③ ㄴ, ㄷ
- ④ ㄴ, ㄹ
- ⑤ ㄷ, ㄹ

34. 다음 자료에 해당하는 민족 운동에 대한 설명으로 옳은 것은? [2점]



- ① 순종의 인산일에 일어났다.
- ② 탑골 공원에서 시작되었다.
- ③ 단발령에 대한 반발로 일어났다.
- ④ 2·8 독립 선언의 도화선이 되었다.
- ⑤ 식민지 교육 제도의 철폐를 요구하였다.

35. 다음 내용에 해당하는 자료로 가장 적절한 것은? [2점]

공평은 사회의 근본이고 사랑은 인간의 본성이다. 고로 우리는 계급을 타파하고 모욕적인 칭호를 폐지하여 교육을 장려하고 우리도 참다운 인간으로 되고자 함이 본사(本社)의 중요한 뜻이다. 지금까지 조선의 백정은 어떠한 지위와 압박을 받아왔던가? 과거를 회상하면 종일 통곡하고도 피눈물을 금할 수 없다.

- ① 브나로드 운동 포스터
- ② 조선 박람회 포스터
- ③ 소설 상록수 표지
- ④ 형평사 대회 포스터
- ⑤ 문자 보급 운동 기사

36. 다음과 같이 정치 체제가 변화된 정부의 활동으로 옳지 않은 것은? [3점]

- 1차 개헌 (1919) 대통령 지도 체제
- 2차 개헌 (1925) 내각 책임 지도 체제
- 3차 개헌 (1927) 국무 위원 중심의 집단 지도 체제
- 4차 개헌 (1940) 주석 지도 체제
- 5차 개헌 (1944) 주석 · 부주석 지도 체제


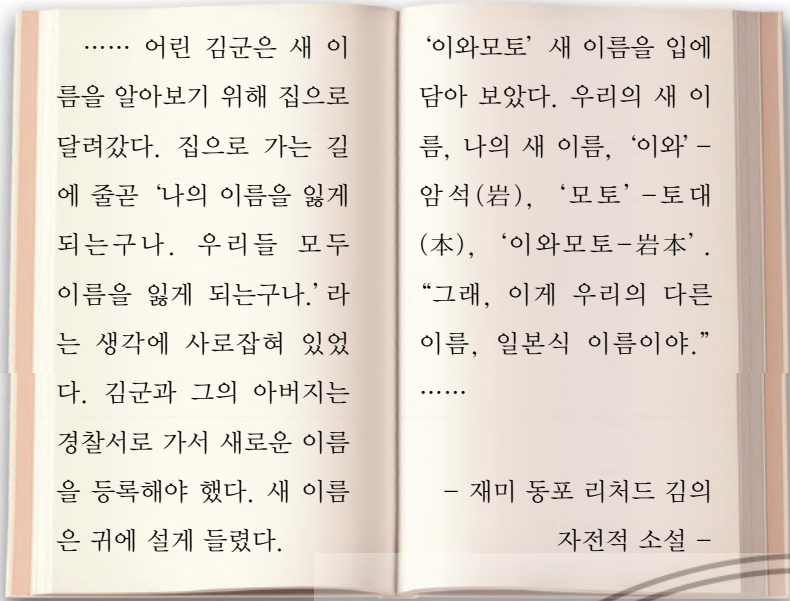
- ① 애국 공채를 발행하였다.
- ② 대한매일신보를 간행하였다.
- ③ 한 · 일 관계 사료집을 편찬하였다.
- ④ 미국에 구미 위원부를 설치하였다.
- ⑤ 비밀 행정 조직으로 연통제를 두었다.

37. 다음 설명에 해당하는 근대 건축물로 옳은 것은? [2점]

- 르네상스 양식의 석조 건물로 고종이 편전이나 침전으로 사용하였다.
- 1946년에 열린 미 · 소 공동 위원회의 회의장으로 사용되었고, 6·25 전쟁 이후 국립 중앙 박물관, 궁중 유물 전시관으로 사용되기도 하였다.

- ①
- ②
- ③
- ④
- ⑤

38. 다음 자료에 나타난 정책이 실시된 시기를 연표에서 옳게 고른 것은? [2점]



- ① (가) ② (나) ③ (다) ④ (라) ⑤ (마)

39. (가), (나) 법령에 대한 설명으로 옳지 않은 것은? [3점]

(가) 토지 소유자는 조선 총독이 정하는 기간 내에 주소, 씨명, 명칭 및 소유지의 소재, 지목, 자번호, 사표, 등급, 지적, 결수를 임시 토지 조사 국장에게 신고해야 한다.
 (나) 회사가 본령 또는 본령에 근거하여 발표된 명령, 허가의 조건에 위반하거나 또는 공공질서와 선량한 풍속에 위반하는 행위를 했을 때는 조선 총독이 사업의 정지, 금지, 지점의 폐쇄 또는 회사의 해산을 명할 수 있다.

- ① (가) - 소작농의 경작권을 인정하지 않았다.
 ② (가) - 미신고 토지는 조선 총독부의 소유가 되었다.
 ③ (나) - 동양척식주식회사가 추진하였다.
 ④ (나) - 민족 자본의 성장을 억제하고자 하였다.
 ⑤ (가), (나) - 1910년대에 실시된 경제 수탈 정책이다.

40. 다음 선언을 활동 지침으로 한 단체로 옳은 것은? [2점]

민중은 우리 혁명의大本영이다.
 폭력은 우리 혁명의 유일한 무기이다.
 우리는 민중 속으로 가서 민중과 손을 맞잡아 끊임없는 폭력(암살, 파괴, 폭동)으로써 강도 일본의 통치를 타도하고 우리 생활에 불합리한 일체의 제도를 개조하여 인류로써 인류를 압박하지 못하며, 사회로써 사회를 박탈하지 못하는 이상적 조선을 건설할지니라.

- ① 신민회 ② 의열단
 ③ 대한 광복회 ④ 한국 독립군
 ⑤ 한인 애국단

41. 다음 인물들이 함께 주도한 사건에 대한 설명으로 옳지 않은 것은? [3점]



- ① 일본군이 서울에 주둔하는 계기가 되었다.
 ② 우정충국 개국 축하연을 이용하여 일어났다.
 ③ 청의 내정 간섭이 심해지는 결과를 초래하였다.
 ④ 메이지 유신을 모델로 한 급진적인 개혁 운동이었다.
 ⑤ 중국에 대한 전통적 사대 관계를 청산하고자 하였다.

42. 밑줄 그은 '이 운동'에 해당하는 활동으로 옳은 것을 <보기>에서 고른 것은? [2점]

1905년을 전후하여 국권이 위태로운 상황 속에서 일어난 이 운동은 주로 지식인과 관료층을 중심으로 전개되었다. 이 운동을 주도한 인물들은 사회 진화론의 영향을 받아 우리나라를 둘러싼 국제 관계를 약육강식과 적자생존의 원리가 지배하는 힘의 각축장으로 인식하였다.

— < 보 기 > —
 ㄱ. 오산 학교 설립 ㄴ. 헌정 연구회 결성
 ㄷ. 서울 진공 작전 전개 ㄹ. 조선 농민 총동맹 결성

- ① ㄱ, ㄴ ② ㄱ, ㄷ ③ ㄴ, ㄷ
 ④ ㄴ, ㄹ ⑤ ㄷ, ㄹ

43. (가)에 대한 설명으로 옳은 것을 <보기>에서 고른 것은? [3점]

(가) 일지	
전투 일자	전투 지역
1920년 10월 21일	백운평, 완루구
10월 22일	천수평, 어랑촌
10월 23일	맹개골, 만기구
10월 24~25일	천보산
10월 25~26일	고동하

— < 보 기 > —

ㄱ. 대한 국민 의회가 주도하였다.
ㄴ. 다수의 대중교도들이 참여하였다.
ㄷ. 한·중 연합 작전으로 전개되었다.
ㄹ. 김좌진, 홍범도 등이 부대를 지휘하였다.

- ① ㄱ, ㄴ
- ② ㄱ, ㄷ
- ③ ㄴ, ㄷ
- ④ ㄴ, ㄹ
- ⑤ ㄷ, ㄹ

44. 다음 대화가 이루어진 시기를 연표에서 옳게 고른 것은? [2점]



1863	1876	1885	1897	1904	1910
(가)	(나)	(다)	(라)	(마)	
고종 즉위	강화도 조약	거문도 사건	대한 제국 수립	러·일 전쟁	국권 피탈

- ① (가)
- ② (나)
- ③ (다)
- ④ (라)
- ⑤ (마)

45. (가), (나)에 해당하는 민족 운동을 옳게 짝지은 것은? [2점]

(가) 지금 우리의 국채가 1,300만 원이 있으니, 이것은 우리 나라가 존재하고 망하는 것에 관계되는 일입니다. …… 2천만 인민들이 3개월 동안 흡연을 금하고, 그 대금으로 한 사람이 매달 20전씩 거둔다면 1,300만 원을 모을 수 있을 것이며 ……

(나) 우리가 우리 손에 산업의 권리 생활의 제일 조건을 장악 하지 아니하면 우리는 도저히 우리의 생명·인격·사회의 발전을 기대하지 못할 것이다. …… 조선 사람은 조선 사람이 지은 것을 사 쓰고, 조선 사람은 단결하여 그 쓰는 물건을 스스로 제작하여 공급하기를 목적하노라.

- | (가) | (나) |
|-------------|-------------|
| ① 농촌 계몽 운동 | 민족 유일당 운동 |
| ② 국채 보상 운동 | 물산 장려 운동 |
| ③ 농촌 계몽 운동 | 민립 대학 설립 운동 |
| ④ 민족 유일당 운동 | 물산 장려 운동 |
| ⑤ 국채 보상 운동 | 민립 대학 설립 운동 |

46. 다음 법률에 의해 설치된 기구에 대한 설명으로 옳은 것은? [1점]

제1조 일본 정부와 통모하여 한일 합병에 적극 협력한 자, 한국의 주권을 침해하는 조약 또는 문서에 조인한 자와 모의한 자는 사형 또는 무기 징역에 처하고, 그 재산과 유산의 전부 혹은 2분의 1 이상을 몰수한다.

…

제3조 일본 치하 독립운동자나 그 가족을 악의로 살상·박해한 자 또는 이를 지휘한 자는 사형·무기 또는 5년 이상의 징역에 처하고 그 재산의 전부 혹은 일부를 몰수한다.

- ① 남북 협상을 제안하였다.
- ② 좌·우 합작 운동을 전개하였다.
- ③ 반민족 행위자의 처벌을 목표로 하였다.
- ④ 여운형, 안재홍 등의 주도로 운영되었다.
- ⑤ 모스크바 3국 외상 회의의 결과 조직되었다.

47. 다음 시기의 경제 상황으로 옳은 것은? [2점]

1962년 제1차 경제 개발 5개년 계획 추진(~ 1966년)
 제2차 화폐 개혁 실시
 1967년 제2차 경제 개발 5개년 계획 추진(~ 1971년)
 1970년 경부 고속 국도 개통

- ① 농지 개혁법이 제정 · 실시되었다.
- ② 경공업 중심의 경제 정책이 추진되었다.
- ③ 국제 통화 기금의 관리 체제에서 벗어났다.
- ④ 농축산물 시장 개방 반대 운동이 전개되었다.
- ⑤ 1인당 국내 총생산 2만 달러를 달성하였다.

48. (가)~(마) 시기에 해당하는 사진으로 옳지 않은 것은? [2점]

사진으로 보는 현대사

(가) 1960년대

전국 텔레비전 방송 시작

(나) 1970년대

장발 단속

(다) 1980년대

고속 철도 개통

(라) 1990년대

금 모으기 운동

(마) 2000년대

한·일 월드컵 축구 대회 응원

- ① (가) ② (나) ③ (다) ④ (라) ⑤ (마)

49. (가)~(라)에 대한 설명으로 옳지 않은 것은? [3점]

(가)

6·3 시위

(나)

4·19 혁명

(다)

5·18 민주화 운동

(라)

6월 민주 항쟁

- ① (가)는 굴욕적인 한·일 회담을 반대하였다.
- ② (나)는 3·15 부정 선거가 발단이 되었다.
- ③ (다)는 신군부에 저항하여 광주에서 일어났다.
- ④ (라)는 대통령 중임 제한 철폐를 반대하였다.
- ⑤ (나) - (가) - (다) - (라)의 순서로 일어났다.

50. 다음 설명에 해당하는 인물로 옳은 것은? [2점]

- 일제의 역사 왜곡에 맞서 민족주의 사학을 발전시켰다.
- 민족 정신을 ‘혼’으로 파악하여 ‘혼’이 담겨 있는 역사의 중요성을 강조하였다.
- 저서로는 한국통사(韓國痛史), 한국독립운동지혈사(韓國獨立運動之血史) 등이 있다.

①

문일평

②

박은식

③

백남운

④

신채호

⑤

정인보

12 / 12