



2011년도

제 11회 한국사능력검정시험 문제지


국사편찬위원회

성명

수험 번호

- 자신이 선택한 등급의 문제지인지 확인하시오.
- 문제지에 성명과 수험 번호를 정확히 써넣으시오.
- 답안지에 성명과 수험 번호를 써넣고, 또 수험 번호와 답을 정확히 표시하시오.
- 시험 시간은 80분입니다.

1. 그림은 어느 시대의 생활 모습을 나타낸 것이다. (가)에 들어갈 말로 적절한 것을 <보기>에서 고른 것은? [2점]



< 보 기 >

- ㄱ. 고인돌을 만들다가 다친 돌쇠에게 문병이나 가야겠다.
- ㄴ. 청동으로 무기를 만들어야 하는데, 원료를 어디서 구하지.
- ㄷ. 내일은 가락바퀴로 실을 뽑는 방법을 배우러 가야겠다.
- ㄹ. 조와 피를 심었는데, 조상님께 농사가 잘 되기를 빌어야지.

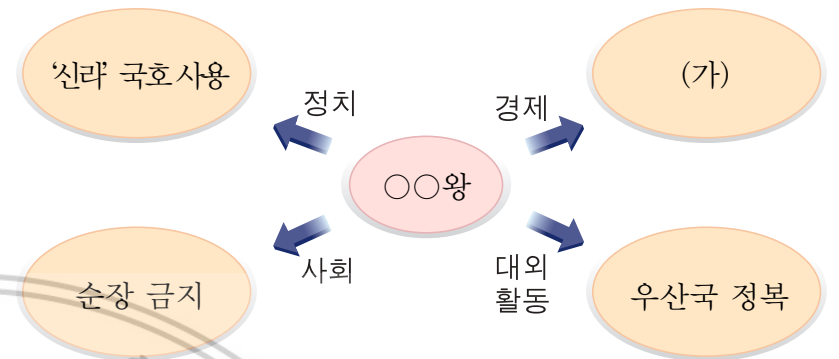
- ① ㄱ, ㄴ ② ㄱ, ㄷ ③ ㄴ, ㄷ
- ④ ㄴ, ㄹ ⑤ ㄷ, ㄹ

2. 밑줄 그은 '왕'에 대한 설명으로 옳은 것은? [3점]

- 왕의 이름은 '무예'로 고왕 대조영의 아들이다. 인간이라는 연호를 쓰고 영토를 개척하였다. -「발해고」-
- 왕이 이르기를, "흑수가 당과 더불어 앞뒤로 우리(발해)를 치려는 것이다."하고 흑수를 치게 하였다. -「신당서」-

- ① 나라 이름을 '진'이라 하고 왕위에 올랐다.
- ② 수도를 중경 현덕부에서 상경 용천부로 옮겼다.
- ③ 장문후로 하여금 산둥 지방을 공격하게 하였다.
- ④ 5경 15부 62주로 지방 행정 제도를 정비하였다.
- ⑤ 신라와 상설 교통로를 개설하여 대립을 해소하려 하였다.

3. 어느 왕에 대한 마인드맵이다. (가)에 들어갈 내용으로 적절한 것을 <보기>에서 고른 것은? [2점]




< 보 기 >

- ㄱ. 우경 실시 ㄴ. 관료전 지급
- ㄷ. 동시전 설치 ㄹ. 청해진 설치

- ① ㄱ, ㄴ ② ㄱ, ㄷ ③ ㄴ, ㄷ
- ④ ㄴ, ㄹ ⑤ ㄷ, ㄹ

4. 다음은 어느 지역 축제의 캐릭터이다. 이 지역에서 관람할 수 있는 문화재로 가장 적절한 것은? [2점]



- 명칭 : 동이와 금이
- 제작 배경
 - 캐릭터는 금동 대향로 형상인 '동이'와 금제 관식 형상인 '금이'로 명명함.
 - '금색'을 대표 색상으로 하여 품격과 고귀함 등을 복합적으로 표현함.

동이
금이

- ①  돌사지상
- ②  정림사지 5층 석탑
- ③  갑옷과 투구
- ④  장군총
- ⑤  천마도

5. 다음은 가상의 인터뷰이다. 밑줄 그은 제도를 건의한 목적으로 옳은 것을 <보기>에서 고른 것은? [3점]

기자 : 시골에서 농사를 짓고 있는 분을 나라의 재상으로 삼으셨으니 아주 파격적인 인사였네요. 고구려 재상으로 부임하시면서 여러가지 개혁을 하셨는데, 그중에서 가장 기억에 남는 제도에 대해 말씀해 주시겠습니까?

재상 : 대왕께서 굶주림에 시달리는 백성들을 보고, 이들을 도와줄 방법을 찾으라고 명하셨습니다. 그래서 나라에서 백성들에게 식량 사정이 어려운 봄에 곡식을 빌려 주고 가을에 추수를 하여 갚는 제도를 마련하자고 건의하여, 이에 시행하게 되었습니다.

— < 보 기 > —

- ㄱ. 유교 정치 이념을 보급하기 위하여
 ㄴ. 백성이 노비가 되는 것을 막기 위하여
 ㄷ. 귀족 세력이 커지는 것을 막기 위하여
 ㄹ. 지배층의 정치·경제적 특권을 유지하기 위하여

- ① ㄱ, ㄴ ② ㄱ, ㄷ ③ ㄴ, ㄷ
 ④ ㄴ, ㄹ ⑤ ㄷ, ㄹ

6. 그림에 나타난 혼인 풍습이 있었던 나라의 사회 모습으로 옳은 것은? [1점]



- ① 천군이 다스리는 소도가 있었다.
 ② 10월에 동맹이라는 제천 행사를 거행하였다.
 ③ 마가, 우가, 저가, 구가 등이 사출도를 다스렸다.
 ④ 가족 공동 무덤인 큰 목곽에 뼈를 추려 안치하였다.
 ⑤ 다른 부족의 영역을 침범하면 소, 말 등으로 변상하였다.

7. 다음 시기의 신라 사회 모습에 대한 설명으로 옳은 것만을 <보기>에서 모두 고른 것은? [2점]

혜공왕(15) - 선덕왕(5) - 원성왕(13) 진성여왕(10) -
 효공왕(15) - 신덕왕(5) - 경명왕(7) - 경애왕(3) - 경순왕(8)
 ()안의 숫자는 재위 기간

— < 보 기 > —

- ㄱ. 지방에 대한 중앙 정부의 통제력이 약화되었다.
 ㄴ. 국왕은 6두품과 결탁하여 전제 왕권을 강화하였다.
 ㄷ. 진골 귀족들은 사병을 거느리고 권력 다툼을 벌였다.
 ㄹ. 지방에서는 호족이라 불리는 새로운 세력이 성장하였다.

- ① ㄱ, ㄴ ② ㄱ, ㄷ ③ ㄴ, ㄷ
 ④ ㄱ, ㄷ, ㄹ ⑤ ㄴ, ㄷ, ㄹ

8. 자료의 (가)에 해당하는 문화재로 옳은 것은? [2점]

교사 : 지금 여러분이 보고 있는 것은 「양직공도」에 실린 백제 사신의 모습입니다.

학생 : 「양직공도」가 무엇입니까?

교사 : 양나라에 파견된 32개국의 외국인 사절을 그림으로 그리고 설명을 덧붙인 것입니다. 이를 통해 우리는 당시 백제가 남조의 양나라와 교류하였음을 알 수 있습니다. 이 밖에도 백제가 양나라와 교류하였다는 것을 나타내는 유적·유물로는 [가]이(가) 있습니다.




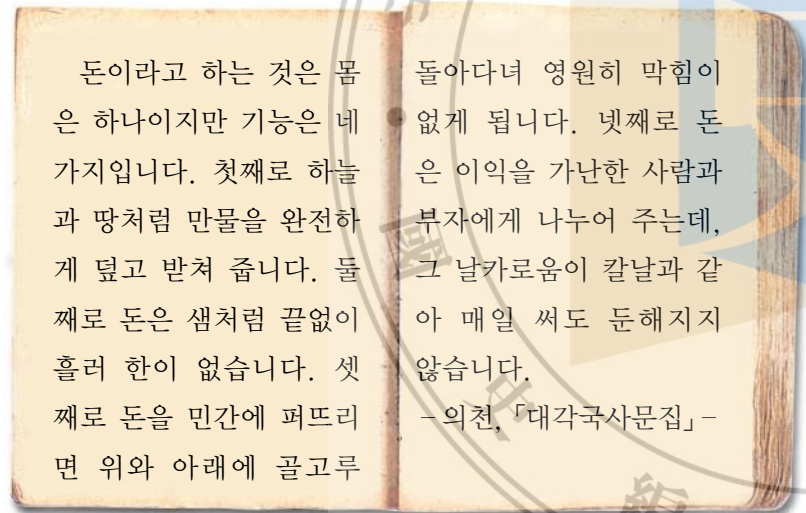
- ① 칠지도 ② 금동 미륵보살 반가사유상
 ③ 무령왕릉 ④ 호우명 그릇
 ⑤ 황금 보검

9. 다음 드라마에 등장할 수 있는 장면으로 적절하지 않은 것은?
[2점]



- ① 요서 지방에서 활동하는 백제인
- ② 신라와 결혼 동맹을 기뻐하는 신하
- ③ 아들의 태자 책봉을 공표하는 국왕
- ④ 「서기」라는 역사책을 편찬하는 고홍
- ⑤ 고국원왕의 전사 소식을 전하는 장군

10. 다음 건의를 받아들인 국왕이 주조한 화폐를 <보기>에서 고른 것은?
[1점]



- ① 가, 나, 다 ② 가, 라, 마 ③ 나, 다, 라
- ④ 나, 라, 마 ⑤ 다, 라, 마

11. ㉠, ㉡에 들어갈 고려의 통치 기구를 바르게 나열한 것은?
[2점]

- (㉠)에서 아뢰기를, “안변 도호부의 경내에서는 상음현이 국경 지대의 요충이오니 성과 보루를 쌓아서 외적을 방비하기를 청합니다.” 하니 좃았다.
 - (㉡)에서 아뢰기를, “간신 이자의 등이 사사로이 수만 석의 미곡을 축적하였습니다. 이는 모두 백성을 착취하여 모은 것이니 관에서 몰수하기를 청합니다.” 하니 그 말을 따랐다.
- 「고려사절요」—

- | ㉠ | ㉡ |
|--------|------|
| ① 삼사 | 어사대 |
| ② 삼사 | 중추원 |
| ③ 삼사 | 식목도감 |
| ④ 도병마사 | 식목도감 |
| ⑤ 도병마사 | 어사대 |

12. (가)에 들어갈 내용으로 적절한 것을 <보기>에서 고른 것은?
[3점]

- ㉠ ㉡ ㉢ ㉣ ㉤ ㉥ ㉦ ㉧ ㉨ ㉩ ㉪ ㉫ ㉬ ㉭ ㉮ ㉯ ㊀ ㊁ ㊂ ㊃ ㊄ ㊅ ㊆ ㊇ ㊈ ㊉ ㊊ ㊋ ㊌ ㊍ ㊎ ㊏ ㊐ ㊑ ㊒ ㊓ ㊔ ㊕ ㊖ ㊗ ㊘ ㊙ ㊚ ㊛ ㊜ ㊝ ㊞ ㊟ ㊠ ㊡ ㊢ ㊣ ㊤ ㊦ ㊧ ㊨ ㊩ ㊪ ㊫ ㊬ ㊭ ㊮ ㊯ ㊰ ㊱ ㊲ ㊳ ㊴ ㊵ ㊶ ㊷ ㊸ ㊹ ㊺ ㊻ ㊼ ㊽ ㊾ ㊿
- 주제 설정 : 고려의 신분 제도
 - 가설 설정 : 통일 신라와 비교하여 신분 변동이 있었을 것이다.
 - 자료 수집 : (가)
 - 자료 분석 : 고려 사회는 신분이 세습되었지만, 신분 변동이 가능한 경우도 있었다.
 - 검증 및 일반화 : 고려 사회는 통일 신라에 비해 개방적이었다.

- < 보 기 >—
- 가. 외거 노비가 재산을 모아 지위를 높인 경우
 - 나. 공명첩을 통해 품계를 받아 신분이 상승한 경우
 - 다. 군인이 전쟁에서 공을 세워 무반으로 출세한 경우
 - 르. 공노비 해방을 통해 양인으로 신분이 상승한 경우

- ① 가, 나 ② 가, 다 ③ 나, 다
- ④ 나, 르 ⑤ 다, 르

13. 다음 자료의 (가)에 들어갈 제목으로 가장 적절한 것은?
[1점]

역사 신문
△△△△년 △△월 △△일

(가)

이것은 문벌 귀족 사회 내부의 분열과 지역 세력 간의 대립, 풍수지리설이 결부된 자주적 전통 사상과 사대적 유교 정치 사상의 충돌, 고구려 계승 이념에 대한 이견과 갈등 등이 얹혀 일어난 것으로, 귀족 사회 내부의 모순을 드러낸 것이다.

- ① 묘청, 서경에서 반란을 일으키다
② 김사미와 효심의 봉기, 경상도를 휩쓸다
③ 무신 정변, 문벌 귀족 사회를 무너뜨리다
④ 이자겸, 왕실 외척이 되어 권력을 독점하다
⑤ 망이·망소이의 봉기, 중부 지역을 장악하다

14. 다음은 인터넷 검색 결과이다. (가)에 해당하는 정치 기구에 대한 설명으로 옳지 않은 것은?
[2점]

역사 지식 | (가) | 검색

요약 : 조선 시대 군국 기무를 관장한 문무 합의 기구로서 전·현직 정승을 비롯한 고위 관료들이 참여함.

본문 : 외적의 침입이 많았으나 즉각 대처하지 못한 일이 많았기 때문에 의정부, 병조, 변방 경험 관료 등을 지변사재상이라 하여 국방 대책을 마련하게 하였다. 이후 전·현직 정승, 판서, 군영 대장, 강화 유수 등이 참여하는 기구로 확대되어 국정 전반을 논의하게 되었다.

- ① 16세기 초 중종 때 3포 왜란을 계기로 설치되었다.
② 임진왜란 이후 그 기능이 약화되면서 국정 장악력이 떨어졌다.
③ 처음에는 여진족과 왜구의 침입을 대비하기 위해 임시로 설치되었다.
④ 세도 정치 기간에는 왕실 외척이 이 기구를 통해 권력을 행사하였다.
⑤ 흥선 대원군은 이 기구를 해체하고 의정부와 삼군부의 기능을 부활시켰다.

15. 다음 공모 내용에 해당하는 소재로 가장 적합한 것은? [2점]

공 모

- 주 제 : ○○ 지역을 상징할 수 있는 역사 캐릭터
- 시 대 : 고려
- 소 재 : 현존하는 활판 인쇄물
- 마감일 : 2011년 5월 14일
- 접수처 : ○○ 시청 민원실

- ① 「속장경」 ② 「초조대장경」
③ 「직지심체요절」 ④ 「상정고금예문」
⑤ 「무구정광대다라니경」

16. 연표의 (가)~(마) 시기에 있었던 사실로 옳지 않은 것은?
[3점]

918	1019	1170	1232	1270	1392
	(가)	(나)	(다)	(라)	(마)
고려 건국	귀주 대첩	무신 정변	강화 천도	개경 환도	고려 멸망

- ① (가) - 상감 청자 유행
② (나) - 「삼국사기」 편찬
③ (다) - 수선사 결사 운동 전개
④ (라) - 팔만대장경 조판
⑤ (마) - 「삼국유사」 편찬

17. 다음과 관련 있는 국왕이 실시한 정책으로 옳은 것은? [2점]

포고문

요사이 기강이 크게 무너져 종실·학교·창고·사찰·녹전·군수의 토지와 나라 사람들이 대대로 가져온 전민을 부유하고 세력 있는 집들이 거의 모두 독점하여 농장을 만들었다. 이로 인해 백성들은 병들게 되었고 나라는 궁핍하게 되었다. 이제 전민변정도감을 두어 이를 정비하고, 서울은 15일, 지방은 40일을 기한하여 잘못을 알고 고치는 자는 죄를 묻지 않을 것이다.

- ① 정방 설치 ② 과전법 실시
③ 교정도감 설치 ④ 노비안검법 실시
⑤ 쌍성총관부 수복

18. 다음 자료와 관련된 그림으로 옳은 것은? [3점]

정유년 20일 밤에 바야흐로 자리에 누우니, 정신이 아른하여 잠이 깊이 들어 꿈도 꾸게 되었다. 그래서 박팽년과 더불어 산 아래에 당도하니 층층의 뗏부리가 우뚝 솟아나고 깊은 골짜기가 그윽한 채 아름다우며, 복숭아 나무 수십 그루가 있고, 오솔길이 숲 밖에 다다르자 여러 갈래로 갈라졌고, 나와 박팽년은 서성대며 어디로 갈 바를 몰랐다. …… 그리하여 안견에게 명하여 내 꿈을 그림으로 그리게 하였다.



고사관수도



세한도



금강전도



인왕제색도



몽유도원도

19. 다음과 같이 수취 제도를 변경한 원인으로 가장 적절한 것은? [2점]

집집마다 부과하여 토산물을 징수하던 공물 납부 방식에서 토지 결수에 따라 쌀, 삼베나 무명, 동전으로 납부하게 하는 방식으로 바뀌었다.

- ① 방납의 폐단이 심각하였다.
- ② 군역의 부담이 가중되었다.
- ③ 토지 대장에서 누락된 땅이 많았다.
- ④ 풍흉에 따라 거두는 세금이 차이가 났다.
- ⑤ 수조권을 가진 관료가 과도하게 수취하였다.

20. 다음과 관련된 조선 시대 향촌 조직에 대한 설명으로 옳은 것은? [2점]

초상이 나면 동네 사람들 각자가 쌀 1되씩 낸다. 혹시 빈궁하여 이를 내지 못하면 노동으로 대신한다. 장례 때에는 집집마다 장정 1명씩 내어 일을 돕고, 양반 사족으로서 장정을 보내지 않는 사람은 쌀 1되씩을 낸다. 가난하여 혼기를 놓친 처녀가 있으면 관청에 보고하여 지원을 받도록 주선하는 한편, 향약민 중에서도 형편에 알맞게 부조를 한다. 병환으로 농사를 폐기한 사람이 있으면 마을에서 각각 지원하여 경작을 도와준다.

- ① 지방민의 진료 및 약재를 담당하였다.
- ② 선현에 대한 제사와 후진 교육을 담당하였다.
- ③ 공동 노동을 위한 농민들의 작업 공동체 역할을 하였다.
- ④ 서로 이웃하고 있는 다섯 집을 하나의 통으로 묶고 관리하였다.
- ⑤ 전통적인 공동 조직에 유교 윤리를 결합시켜 향촌 사회의 질서를 유지하였다.

21. 17세기 무렵 (가)~(라) 신분에 대한 설명으로 옳지 않은 것은? [3점]

(가) 우리가 문무 고위 관직을 독점하고 있지.

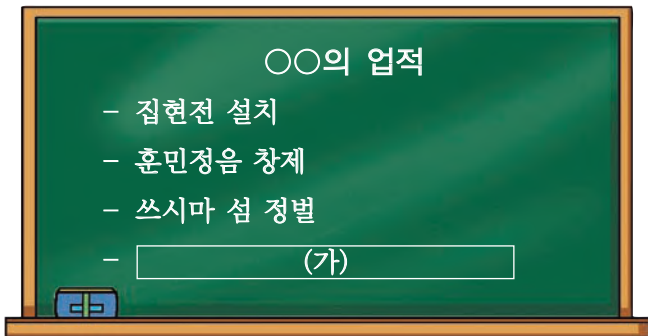
(나) 사신을 수행하여 통역을 담당해야 하니 준비할 것이 많겠군.

(다) 후! 조세와 공납에 부역까지 …… 등골이 휘는구나!

(라) 내 자식도 나처럼 평생 신공을 바치고 살아야 하다니 …….

- ① (가)는 경제적으로 지주층이며 현직 또는 예비 관료로 활동하였다.
- ② (나)는 중간 계층으로 전문 기술이나 행정 실무를 담당하였다.
- ③ (다)는 인구 중 다수를 차지하였으며 생산 활동에 종사하였다.
- ④ (라)는 고려 시대 백정이라고 불린 신분에 해당된다.
- ⑤ (가)~(라)의 신분은 엄격히 구분되었으나 신분 이동이 가능하였다.

22. 다음 (가)에 들어갈 내용으로 가장 적절한 것은? [1점]



- ① 사병 혁파 ② 호패법 실시
③ 홍문관 설치 ④ 「농사직설」 편찬
⑤ 「경국대전」 편찬

23. 다음 편지를 통해 당시 관리 선발 제도에 대해 추론한 것으로 옳지 않은 것은? [3점]

보고 싶은 둘째 아들에게
어렸을 때부터 공부하기 싫어하던니 4년 전 무과에 응시하겠다고 했을 때는 하늘이 무너지는 줄 알았다. 하지만 작년에 소과에 합격하여 성균관에 들어간 후부터 학업에 정진하고 있다는 소식을 네 형이 알려주었을 때 이제야 철이 든 것 같아 대견했었다.

너도 네 형처럼 대과에 합격하여 문관이 되려는 큰 포부를 가져야 한다. 과거에 합격하지 않고 관리가 되면 아무리 할아버지가 정승·판서라 하더라도 나라에서나 세상 사람들이 제대로 대접을 해 주더냐? 그러니, 더욱 열심히 학업에 정진하여라.

더운 날 건강 조심하고 잘 지내라.

○○에서 아버가

- ① 무과보다는 문과 합격자를 우대하였다.
② 소과 합격생은 성균관에 들어갈 수 있었다.
③ 대과에 합격해야 고위 관리가 될 가능성이 높았다.
④ 과거를 보지 않고도 관리가 될 수 있는 제도가 있었다.
⑤ 음서 출신자와 과거 합격자에 대한 차별이 거의 없었다.

24. (가), (나)의 사건에 대한 설명으로 옳지 않은 것은? [2점]

(가) 평서대원수는 급히 격문을 띄우노니 관서의 부로(父老)와 자제와 공·사 천민들은 모두 이 격문을 들으라. …… 조정에서는 관서를 버림이 분토(糞土)와 다름없다. 심지어 권세 있는 집의 노비들도 서토의 사람을 보면 반드시 ‘평안도 놈’이라고 말한다. 어찌 억울하고 원통하지 않은 자 있겠는가.

(나) 임술년 2월, 진주민 수만 명이 머리에 흰 수건을 두르고 손에는 몽둥이를 들고 무리를 지어 진주 읍내에 모여 …… 백성들의 재물을 횡령한 조목, 아전들이 세금을 포탈하고 강제로 징수한 일들을 면전에서 여러 번 문책하는데, 그 능멸하고 핍박함이 조금도 거리낌이 없었다.


- ① (가)는 서북 지방에 대한 차별이 원인이 되었다.
② (가)는 영세 농민, 광산 노동자 등이 합세하였다.
③ (나)는 삼정의 문란이 원인이 되었다.
④ (나)는 동학 사상의 영향을 받아 일어났다.
⑤ (가), (나)는 모두 세도 정치기에 일어났다.

25. 다음 그림이 그려진 시기의 경제 상황에 대한 설명으로 옳지 않은 것은? [2점]



- ① 전국적으로 개설된 장시가 지방민의 교역 장소 역할을 하였다.
② 정부는 필요한 물품을 공급받기 위해 한양에 시전을 처음 설치하였다.
③ 경영 전문가인 덕대가 물주에게 자본을 조달받아 광산을 경영하였다.
④ 국경 지대를 중심으로 공무역인 개시와 사무역인 후시가 이루어졌다.
⑤ 지주나 대상인들이 화폐를 고리대나 재산 축적에 이용하기도 하였다.

26. 다음 교서를 발표한 국왕의 정책으로 옳은 것을 <보기>에서 고른 것은? [2점]



봉당의 폐해가 요즈음보다 심각한 적이 없었다. 처음에는 예절 문제로 분쟁이 일어나더니, 이제는 한쪽이 다른 쪽을 역적으로 몰아붙이고 있다. 이제 유배된 사람들의 잘잘못을 다시 살피도록 하고, 관리의 임용을 담당하는 관리는 탕평의 정신을 잘 받들어 직무를 수행하도록 하라.

성균관 앞에 세운 탕평비

- < 보 기 > —
- | | |
|-----------|-------------|
| ㄱ. 장용영 설치 | ㄴ. 규장각 육성 |
| ㄷ. 균역법 실시 | ㄹ. 「속대전」 편찬 |


- | | | |
|--------|--------|--------|
| ① ㄱ, ㄴ | ② ㄱ, ㄷ | ③ ㄴ, ㄷ |
| ④ ㄴ, ㄹ | ⑤ ㄷ, ㄹ | |

27. 밑줄 그은 ㉠, ㉡의 연결이 바르게 짝지어진 것은? [2점]

○○ 신문

2011년 4월 15일

145년 만의 ‘조건부’ 귀향



특수 트럭의 뒷문이 열리자 은은한 나무향이 감돌았다. 안에는 조선 왕실의 보물들을 실은 나무 상자 5개가 있었다. 발판을 내리고 직원들이 유압 밀대로 조심조심 상자를 올려 바닥에 내렸다. 지켜보던 이들의 박수가 터졌다. “드디어 제자리에 왔네요!”

㉠ 이 사건 이후 145년 만에 프랑스로부터 귀향한 ㉡ 의 문화재는 2011년 4월 14일 인천 공항에 도착해 무진동차에 실려 서울 용산 국립 중앙 박물관 뒤편 수장고로 들어갔다.

- | | |
|--------|----------|
| ㉠ | ㉡ |
| ① 병인양요 | 외규장각 도서 |
| ② 신미양요 | 외규장각 도서 |
| ③ 병인양요 | 「승정원 일기」 |
| ④ 신미양요 | 「조선왕조실록」 |
| ⑤ 병인양요 | 「조선왕조실록」 |

28. (가) 조약이 조선의 경제 상황에 끼친 영향으로 옳은 것은? [2점]

○○ 신문

△△△년 △△월 △△일

특집 (가) 을(를) 분석한다

조선은 (가) 을(를) 체결함으로써, 청에게 치외법권은 말할 것도 없고, 최초로 한성과 양화진에서 점포를 개설할 수 있는 권리와 여행권을 소지한 경우 개항장 밖에서도 통상할 수 있는 권리 및 조선 연안에서 자유롭게 무역할 수 있는 권리를 넘겨주었다.

- ① 청과 일본의 상권 경쟁이 치열해졌다.
- ② 개항장에서 일본 화폐가 사용되었다.
- ③ 최초로 무관세 협정을 체결하게 되었다.
- ④ 일본 제일은행권이 본위 화폐가 되었다.
- ⑤ 화폐 가치의 하락으로 물가가 폭등하였다.

29. 그림의 남학생 주장을 뒷받침할 수 있는 근거로 적절한 것을 <보기>에서 고른 것은? [2점]

갑오개혁은 일본의 간섭에 의해 추진된 점이나, 민중의 지지를 받지 못했던 점으로 보아 커다란 한계를 가지고 있어.

아니야. 갑오개혁은 봉건적 질서를 타파하고, 여러 계층의 요구를 반영한 긍정적인 의미를 갖는 개혁이었어.

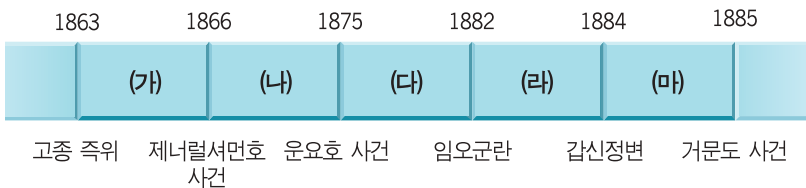


- < 보 기 > —
- | |
|------------------------------------|
| ㄱ. 원수부를 설치하고 황제 호위 군대를 증강하였다. |
| ㄴ. 연좌제와 고문 등의 봉건적인 악습을 폐지하였다. |
| ㄷ. 과거제를 폐지하고 새로운 관리 임용 제도를 마련하였다. |
| ㄹ. 근대적 토지 소유권을 마련하기 위하여 지계를 발급하였다. |

- | | | |
|--------|--------|--------|
| ① ㄱ, ㄴ | ② ㄱ, ㄷ | ③ ㄴ, ㄷ |
| ④ ㄴ, ㄹ | ⑤ ㄷ, ㄹ | |

30. 다음 대화가 가능하였던 시기를 연표에서 고른 것은? [1점]

갑 : 세상에! 일본인들의 요구로 항구를 개방했다고 하네.
을 : 게다가 일본 사람이 조선에서 죄를 지어도 우리 관원이 아닌 일본 영사가 재판하도록 한다는 구먼. 말세야 말세.
갑 : 참 내! 이러다간 우리 조선 팔도가 일본인들로 가득 차겠구만. 허허!
을 : 그렇게 말이야! 이러다가 다른 나라와도 이러한 통상 조약을 체결할 것 같아 걱정이구먼 …….

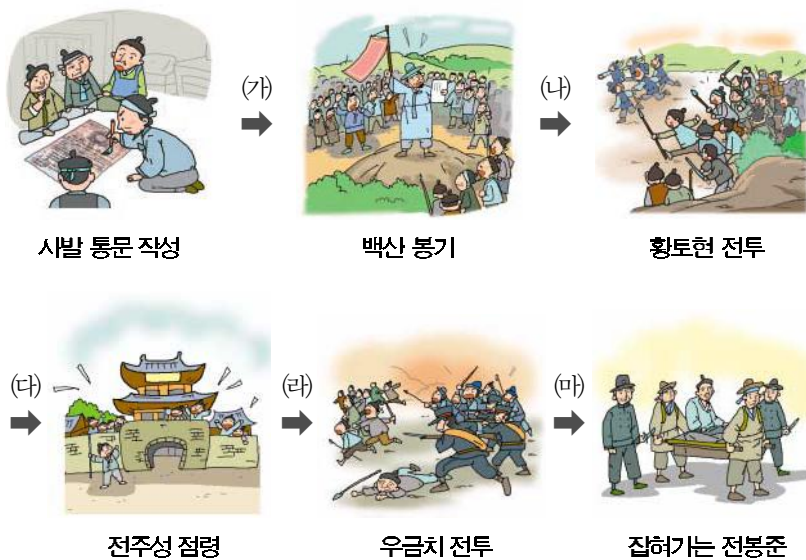


- ① (가) ② (나) ③ (다) ④ (라) ⑤ (마)

31. 다음은 동학 농민 운동의 한 장면이다. (가)~(마) 중에서 이 장면이 들어갈 위치로 적절한 것은? [2점]

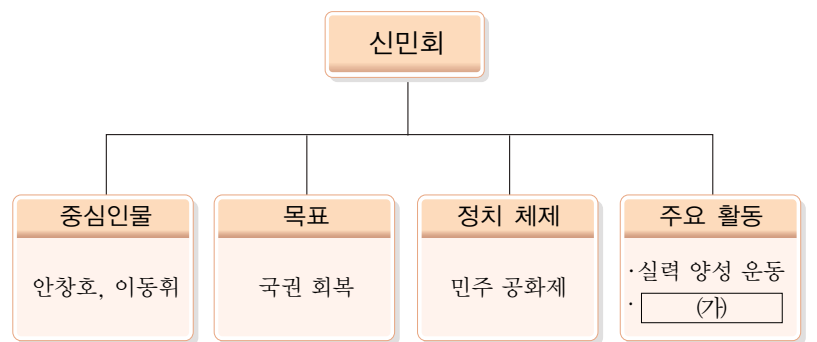


집강소에서 재판하는 장면



- ① (가) ② (나) ③ (다) ④ (라) ⑤ (마)

32. (가)에 들어갈 내용으로 가장 적절한 것은? [1점]



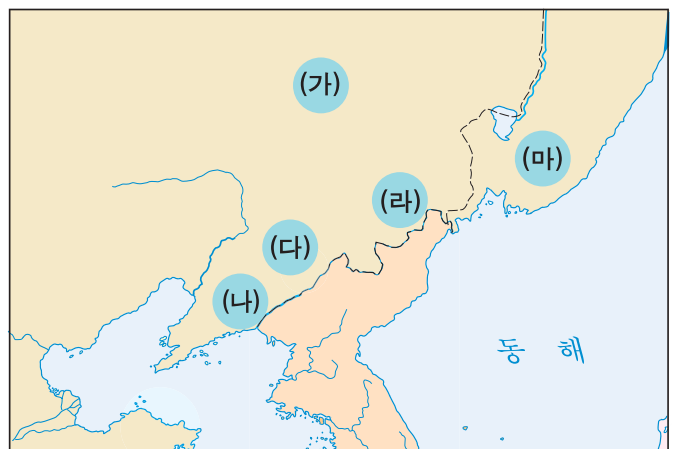
- ① 3부 통합 운동
② 임시 정부 수립
③ 5적 암살단 조직
④ 독립군 기지 건설
⑤ 파리 강화 회의 대표 파견

33. 밑줄 그은 ㉠에 해당하는 지역을 지도에서 찾은 것은? [2점]



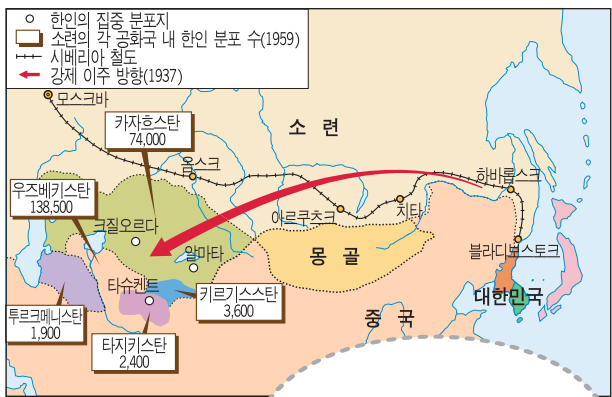
〈답사 보고서〉

- 주제 : 해외 항일 독립운동 유적지를 찾아서
- 기간 : 2011년 5월 1일 ~ 5월 10일
- 지역 : ㉠
- 지역 개관
 - 박경리의 소설 「토지」의 무대가 되었던 곳 중의 하나
 - 이주민의 생활을 그린 안수길 소설의 무대
- 보고서 내용 : 헤이룽 강, 용두레 우물(용정)을 지나니 대성 중학교가 나온다. 이 학교는 많은 애국지사와 독립운동가를 배출했으며, ‘서시’를 지었던 운동주 시인이 다녔던 곳이다. ……



- ① (가) ② (나) ③ (다) ④ (라) ⑤ (마)

34. 그림의 (가)에 들어갈 내용으로 가장 적절한 것은? [2점]



한인들이 (가)에 의해 중앙아시아로 강제 이주된 상황을 보여주는 지도입니다.

- ① 자유시 참변
- ② 스탈린의 정책
- ③ 조·러 통상 조약
- ④ 포츠머스 강화 조약
- ⑤ 모스크바 3국 외상 회의 결정

36. (가), (나) 민족 운동의 공통점을 <보기>에서 고른 것은? [3점]

(가) 조선 민중아!
우리의 철천지 원수는 자본·제국주의 일본이다.
이천만 동포야! 죽음을 각오하고 싸우자!
만세 만세 조선 독립 만세!

(나) 학생·대중이여 쫓기하라!
검거된 학생은 우리 손으로 탈환하자.
사회 과학 연구의 자유를 획득하자.
식민지적 노예 교육 제도를 철폐하라!

— < 보 기 > —

ㄱ. 국내 및 해외까지 확대되었다.
ㄴ. 국왕의 죽음을 계기로 일어났다.
ㄷ. 학생들이 중심이 되어 전개되었다.
ㄹ. 일제의 민족 차별 교육에 항거하였다.

- ① ㄱ, ㄴ
- ② ㄱ, ㄷ
- ③ ㄴ, ㄹ
- ④ ㄴ, ㄹ
- ⑤ ㄷ, ㄹ

35. 다음 모습이 나타난 시기를 (가)~(마) 중에서 고른 것은? [1점]



신사 참배



금속 공출

(가)	(나)	(다)	(라)	(마)
조선 총독부 설치	토지 조사 사업 실시	산미 증식 계획 실시	만주 사변 발발	중·일 전쟁 발발

- ① (가)
- ② (나)
- ③ (다)
- ④ (라)
- ⑤ (마)


37. 다음을 행동 지침으로 삼았던 단체에 대한 설명으로 옳지 않은 것은? [2점]

민중은 우리 혁명의 대본영이다. 폭력은 우리 혁명의 유일한 대무기이다. 우리는 민중 속에 가서 민중과 제휴하여 끊임없이 폭력·암살·파괴·폭동으로 강도 국가 일본의 통치를 타도하고 우리 생활에 불합리한 일제 제도를 개조하여 인류가 인류를 압박하고 사회가 사회를 수탈하지 않는 이상적인 나라를 건설할 것이다!

— 신채호, 조선 혁명 선언 —

- ① 무정부주의적 경향이 강하였다.
- ② 김원봉, 윤세주 등이 조직하였다.
- ③ 1919년 만주 길림에서 결성되었다.
- ④ 이봉창, 윤봉길 등이 대표적인 활동가였다.
- ⑤ 일제 식민 통치 기관을 공격 대상으로 삼았다.

38. 다음 그림과 관련된 헌법 개정안의 내용으로 옳은 것은? [2점]



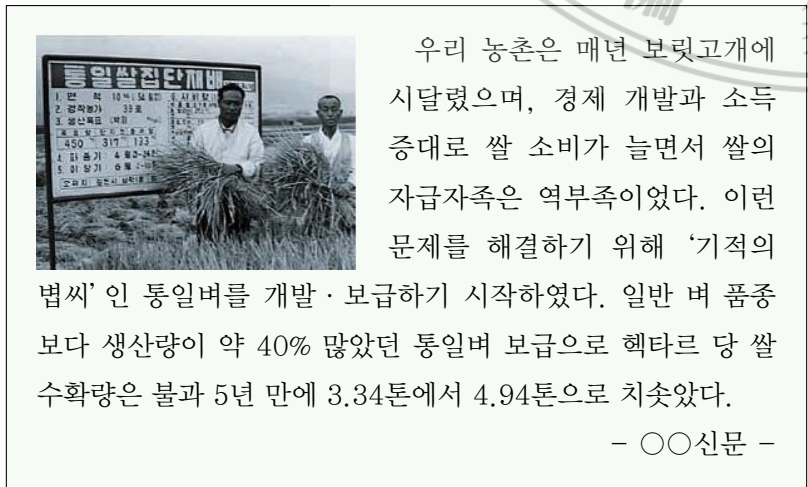
- ① 양원제 의회와 의원 내각제
- ② 대통령 직선제에 의한 5년 단임제
- ③ 대통령 선거인단에 의한 7년 단임제
- ④ 통일 주체 국민 회의에서 대통령 선출
- ⑤ 초대 대통령에 한하여 중임 제한 규정 폐지

40. (가)~(라)는 현대사와 관련된 신문 기사이다. 이를 시기 순으로 나열한 것은? [2점]



- ① (가) - (나) - (다) - (라)
- ② (가) - (나) - (라) - (다)
- ③ (가) - (다) - (나) - (라)
- ④ (나) - (다) - (가) - (라)
- ⑤ (나) - (다) - (라) - (가)

39. 다음 기사를 통해 알 수 있는 시기의 경제 모습으로 가장 적절한 것은? [2점]



- ① 경제 개발 5개년 계획을 처음으로 수립하였다.
- ② 신한 공사가 귀속 농지를 농민에게 불하하였다.
- ③ 원조 경제를 바탕으로 삼백 산업이 발달하였다.
- ④ 우루과이 라운드 체결로 쌀 시장이 개방되었다.
- ⑤ 농촌 소득 증대를 위해 새마을 운동이 추진되었다.

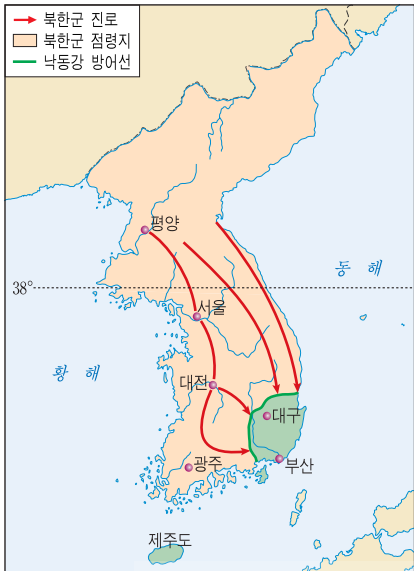
41. 다음 제도를 처음 실시한 정부의 정책으로 옳은 것을 <보기>에서 고른 것은? [2점]



- ㄱ. 남북 정상 회담 개최 ㄴ. 남북한 유엔 동시 가입
ㄷ. 공직자 재산 등록제 실시 ㄹ. 전면적인 지방 자치제 실시

- ① ㄱ, ㄴ ② ㄱ, ㄷ ③ ㄴ, ㄷ
- ④ ㄴ, ㄹ ⑤ ㄷ, ㄹ

42. 지도와 같은 상황에서 이를 타개하기 위해 국군과 유엔군이 전개한 작전으로 옳은 것은? [1점]



- ① 인천 상륙 작전
- ② 평양 탈환 작전
- ③ 38선 진공 작전
- ④ 춘계 대공세 작전
- ⑤ 백마고지 탈환 작전

43. (가)~(라) 문화재에 대한 설명으로 옳지 않은 것은? [2점]



미륵사지석탑



쌍봉사철감선사 승탑



월정사8각9층석탑



범주사팔상전

- ① (가) - 목탑 양식을 가지고 있는 석탑이다.
- ② (나) - 원의 영향을 받아 세워진 석탑이다.
- ③ (다) - 선종의 성행과 관련 있는 승탑이다.
- ④ (라) - 우리나라에 남아 있는 유일한 목조 5층탑이다.
- ⑤ (가) - (다) - (나) - (라) 순으로 만들어졌다.

44. (가)에 해당하는 민족과 관련된 사실로 옳은 것은? [2점]

윤관이 왕에게 아뢰기를, “제가 보기에 [(가)]의 세력이 완강하여 무슨 변을 일으킬지 예측하기 어려우니 마땅히 병졸과 군관을 휴식시켜 후일에 대비해야 합니다. 또한 제가 전일에 패한 원인은 [(가)]은(는) 말을 탔고, 우리는 보행으로 전투한 까닭에 대적할 수가 없었던 것입니다.” 이때부터 비로소 별무반을 만들기로 결정하였다.

- 「고려사」 -

- ① 강감찬이 귀주에서 크게 물리쳤다.
- ② 을지문덕이 살수에서 대승을 거두었다.
- ③ 김윤후가 처인성에서 살리타를 사살하였다.
- ④ 김종서, 최윤덕 등이 4군과 6진을 설치하였다.
- ⑤ 최무선이 화포를 이용하여 진포 싸움에서 승리하였다.

45. (가)~(다) 인물과 관련된 설명으로 옳은 것은? [3점]

(가) 「대승기신론소」를 저술하고 일심 사상을 제창하였다.
(나) 화엄 사상을 정립하고 많은 제자를 양성하였다.
(다) 이론과 실천을 강조하는 교관점수를 제창하였다.

- ① (가)는 부석사를 창건하고 관음 신앙을 이끌었다.
- ② (나)는 「왕오천축국전」이라는 기행문을 남겼다.
- ③ (다)는 송광사에 중심을 둔 수선사 결사를 제창하였다.
- ④ (가), (다)는 불교의 종파적 대립을 극복하려고 노력하였다.
- ⑤ (나), (다)의 사상은 일본의 하쿠호 문화에 영향을 주었다.

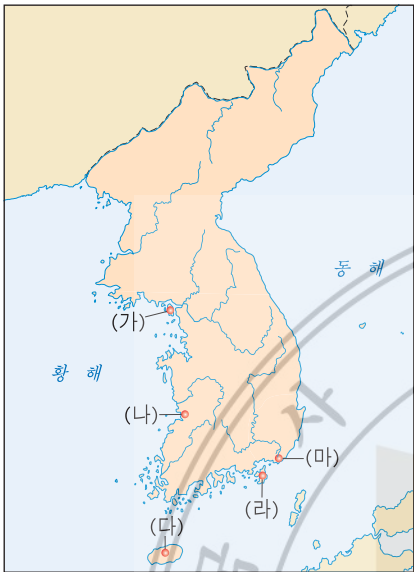
46. 다음 연표의 (가)에 들어갈 사건은? [1점]

1877. 4	일본 태정관이 울릉도와 독도는 일본과 관계없다고 함.
1904. 9	(가) 직후 일본이 군사적으로 이용하기 위해 불법적으로 망루를 설치함.
1905. 1	군사적 목적을 위해 독도를 시마네 현에 강제로 편입함.
1946. 1	연합군 최고 사령부 훈령 677호에서 울릉도, 독도가 일본 영역에서 제외된다고 규정함.

- ① 만주 사변 ② 청·일 전쟁 ③ 러·일 전쟁
- ④ 중·일 전쟁 ⑤ 태평양 전쟁

47. 밑줄 그은 ‘이곳’ 을 지도에서 찾은 것은? [1점]

- 조선 후기에 정제두를 비롯한 양명학자들이 이곳을 중심으로 학파를 형성하였다.
- 윤요호 사건 이후 이곳에서 최초의 근대적 조약이 체결되었다.
- 이곳에는 단군이 하늘에 제사를 지냈다고 전해지는 참성단이 있으며, 전국 체전 때에는 성화를 채화하는 의식이 거행된다.



- ① (가) ② (나) ③ (다) ④ (라) ⑤ (마)

48. 다음과 같은 서술 방식으로 쓰여진 역사책을 <보기>에서 고른 것은? [3점]

사마천의 「사기」에서 시작된 역사 서술 방식이다. 군주와 관련된 사실들의 기록인 본기(本紀)와 신하들의 전기인 열전(列傳), 통치 제도·관직·문물·경제·지리·자연 현상 등을 내용별로 서술한 지(志)와 연표(年表)가 더해진다.

〈 보 기 〉

- ㄱ. 「고려사」 ㄴ. 「삼국사기」
 ㄷ. 「고려사절요」 ㄹ. 「조선왕조실록」

- ① ㄱ, ㄴ ② ㄱ, ㄷ ③ ㄴ, ㄷ
 ④ ㄴ, ㄹ ⑤ ㄷ, ㄹ

49. 다음은 어느 학술 발표회 안내문이다. 발표 내용이 주제와 어울리지 않는 것은? [2점]

〈제○차 정기 학술 발표회〉

주제 : 원산·함흥 지역에 관한 역사적 고찰

1. 개회식
2. 발표 내용
 - (가) 진흥왕의 영토 확장
 - (나) 공민왕의 반원 자주 정책과 영토 회복
 - (다) 이성계 가문의 지역 기반과 조선 건국
 - (라) 을사조약에 반대한 최익현 의병 부대의 활약
 - (마) 1929년 노동자 총파업과 이후 노동 운동의 변화
3. 질의·응답
4. 폐회식

- ① (가) ② (나) ③ (다) ④ (라) ⑤ (마)

50. 지도와 같은 놀이 문화가 본격적으로 등장하게 된 배경으로 적절하지 않은 것은? [2점]



- ① 성리학이 전래되었다.
- ② 신분제가 동요되었다.
- ③ 서민 의식이 성장하였다.
- ④ 상업 경제가 발달하였다.
- ⑤ 농업 생산력이 증대되었다.