

초급

2012년도

제 16회 한국사능력검정시험 문제지

국사편찬위원회

성명

수험 번호

- 자신이 선택한 등급의 문제지인지 확인하시오.
- 문제지에 성명과 수험 번호를 정확히 써넣으시오.
- 답안지에 성명과 수험 번호를 써넣고, 또 수험 번호와 답을 정확히 표시하시오.
- 시험 시간은 60분입니다.

1. 선생님의 질문에 대한 학생의 대답으로 적절한 것은?

[2점]



- ① 사냥에 사용되었어요.
- ② 농사에 사용되었어요.
- ③ 옷감을 짜는 데 사용되었어요.
- ④ 물고기를 잡는 데 사용되었어요.

2. 다음 유물과 유적이 처음 만들어진 시대에 대한 설명으로 적절하지 않은 것은?

[3점]



- ① 나라가 세워졌다.
- ② 계급의 구분이 생겨났다.
- ③ 철로 만든 농기구를 사용하였다.
- ④ 민무늬 토기를 만들어 사용하였다.

3. 다음 자료를 읽고 학생들이 나눈 대화 내용으로 적절하지 않은 것은? [3점]

아주 오래전 하늘 나라를 다스리는 하느님(환인)에게 환웅이라는 아들이 있었다. 환웅은 '널리 인간을 이롭게 한다.'는 뜻을 품고 땅으로 내려가고 싶어 하였다. 하느님의 허락을 받은 환웅은 비, 바람, 구름을 다스리는 신하와 자신을 따르는 무리 3,000여 명을 이끌고 태백산에 내려왔다.

.....

환웅은 꿈이 변한 여인을 아내로 맞이하여 아들을 낳았는데, 이분이 단군왕검이다.
- 「삼국유사」 -

① 농경 생활을 하였어.

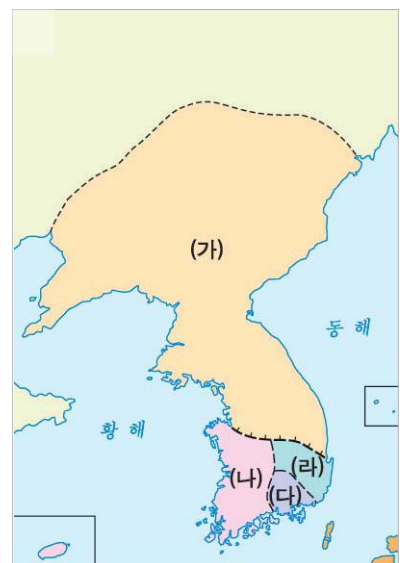
② 부족 간에 연합이 이루어졌어.

③ 제사와 정치가 분리된 사회였어.

④ 홍익인간의 이념이 나타나 있어.

4. 다음 문화유산을 남긴 국가를 지도에서 옳게 찾은 것은?

[2점]



- ① (가) ② (나) ③ (다) ④ (라)

5. 다음에서 설명하는 민속놀이로 옳은 것은?

[2점]

이달의 민속놀이

놀이 목적

정월에 일 년 농사를 계획하고, 서로 신뢰하는 마음으로 협동하면서 일을 하기 위한 놀이이다.

놀이 방법

마을 사람들이 모여 벼짚으로 줄을 만들고, 두 편으로 나누어 줄을 끌어당기는 놀이이다.



고싸움



줄다리기



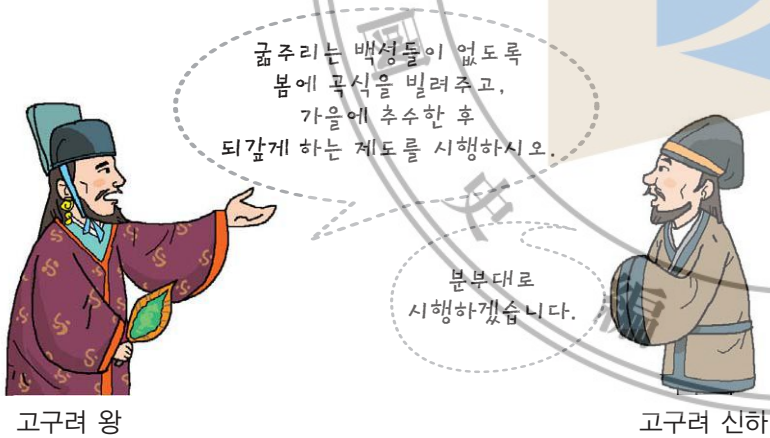
연날리기



넛다리밟기

6. 다음 대화와 관련된 제도로 옳은 것은?

[2점]



고구려 왕

고구려 신하


- ① 진대법 ② 호패법 ③ 대동법 ④ 균역법

7. 다음 설명에 해당하는 인물로 옳은 것은?

[2점]

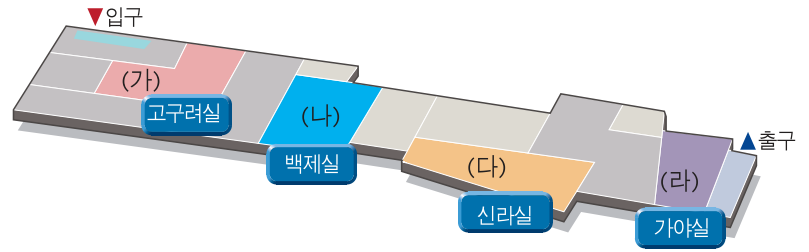
해상 무역을 주도하다!

- 당나라로 건너가 무관이 됨.
- 환도에 청해진을 설치함.
- 해적을 소탕하고 당·일본과의 무역을 주도함.



- ① 이순신 ② 정충부 ③ 강감찬 ④ 장보고

8. 다음 가상 박물관의 (가)~(라)에 전시될 유물로 적절하지 않은 것은? [3점]



① (가)

금동 연가 7년명
여래 입상

② (나)



금관총 금관

③ (다)



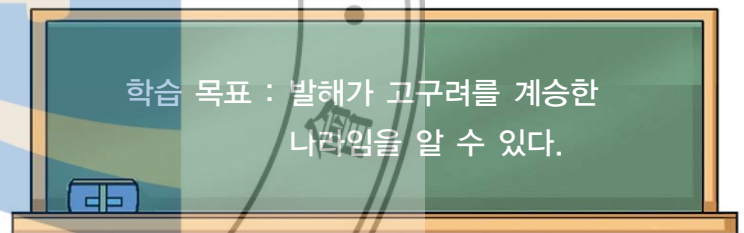
천마도

④ (라)



철제 투구와 갑옷

9. 다음과 관련된 학습 활동으로 적절하지 않은 것은? [2점]



- ① 수막새 기와 문양을 비교한다.
 ② 건국자인 대조영에 대해 조사해 본다.
 ③ 상경 궁성 터의 온돌 장치를 알아본다.
 ④ 칠지도에 새겨진 글의 내용을 살펴본다.


10. 다음의 역사적 사실이 있었던 시기를 연표에서 옳게 고른 것은? [3점]

신라는 한반도에서 당나라 군사를 몰아내기 위하여 전쟁을 벌였다. 신라는 대규모 군사를 보낸 당나라와 싸워 매소성과 기벌포에서 승리를 거두었다.

645	660	668	676	698
(가)	(나)	(다)	(라)	
안시성 싸움	백제 멸망	고구려 멸망	삼국 통일 완성	발해 건국

- ① (가) ② (나) ③ (다) ④ (라)

11. 다음 드라마의 장면으로 적절하지 않은 것은? [3점]



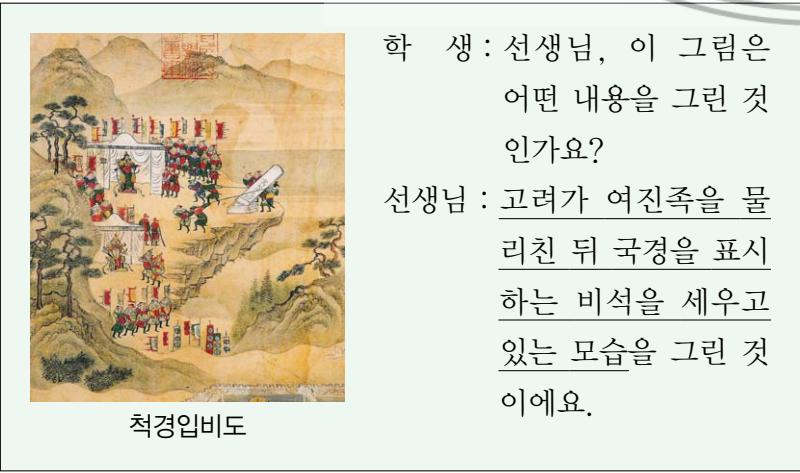
- ① 장면 1 : 즉위식을 하고 있는 왕건
- ② 장면 2 : 고창 전투에서 싸우고 있는 후백제군
- ③ 장면 3 : 나라를 넘기고 있는 신라 경순왕
- ④ 장면 4 : 강홍립에게 출정을 명령하는 광해군

12. 다음 가상 인터뷰의 (가)에 들어갈 말로 가장 적절한 것은? [2점]



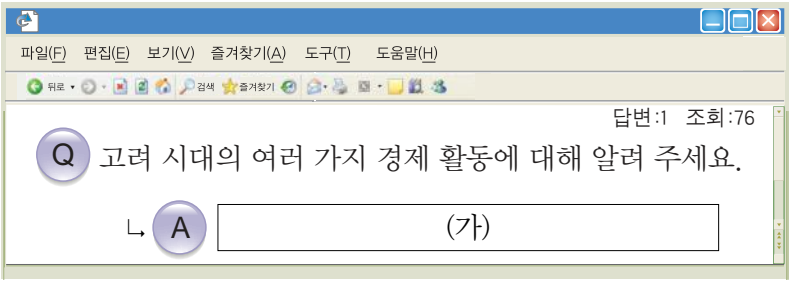
- ① 농업에 종사하고 있어요.
- ② 공음전을 받아 생활하고 있어요.
- ③ 지방 행정의 실무를 담당하고 있어요.
- ④ 특수 행정 구역에서 종이를 만들며 살고 있어요.

13. 밑줄 그은 내용과 관련된 역사적 사실로 옳은 것은? [3점]





- ① 윤관의 동북 9성 개척
- ② 을지문덕의 살수 대첩
- ③ 서희의 강동 6주 획득
- ④ 김윤후의 처인성 전투

14. (가)에 들어갈 내용으로 옳지 않은 것은? [2점]



- ① 절과 소에서 수공업품을 생산했어요.
- ② 벽란도에 아라비아 상인들이 오고 갔어요.
- ③ 당백전이라는 화폐가 만들어져 사용되었어요.
- ④ 송나라에 인삼, 종이, 나전 칠기를 수출했어요.

15. (가)에 들어갈 문화유산으로 옳은 것은? [2점]



- ① 석굴암 본존불상
- ② 논산 관촉사 석조 미륵보살 입상
- ③ 서산 용현리 마애 여래 삼존상
- ④ 금동 미륵보살 반가 사유상

16. 다음 문화유산을 시대순으로 나열할 때 (가)에 들어갈 사진으로 옳은 것은? [3점]

백제 금동 대향로

불국사 삼층 석탑

(가)

경복궁 근정전

① 수렵도

② 몽촌 토성

③ 팔만대장경판

④ 무령왕릉

17. (가) 왕의 업적으로 옳지 않은 것은? [2점]

역사 사랑방 방문을 환영합니다.

역사 인물 | 역사적 사건 | 역사 상식 | 역사 자료실

카페지기 000
회원수 3057
방문수 536
알립니다
자유게시판

(가)

1. 아버지 - 태종
2. 관련 인물 - 황희, 정인지, 장영실
3. 문화적 업적 - 칠정산 편찬, 측우기 발명, 자격루 제작

- ① 훈민정음 창제
② 경국대전 완성
③ 농사직설 보급
④ 삼강행실도 편찬

18. 다음 스무 고개의 정답에 해당하는 문화유산으로 옳은 것은? [2점]

첫째 고개 : 조선 시대의 문화유산입니다.

둘째 고개 : 유교 정신에 따라 만들어졌습니다.

셋째 고개 : 경복궁 옆에 위치하고 있습니다.

넷째 고개 : 땅의 신과 곡식 신께 제사 지내던 곳입니다.

① 참성단

② 보신각

③ 사직단

④ 흥인지문

19. (가)~(라)에 대한 설명으로 옳지 않은 것은? [3점]

조사 보고서

○○ 모듬

- 주제 : 외적과 싸운 역사의 현장
- 방법 : 백과사전 찾기, 인터넷 검색, 현장 답사
- 내용

(가) 정족산성	(나) 항파두리성
(다) 행주산성	(라) 남한산성

- ① (가) - 고려군이 거란족의 침입을 막아낸 곳이다.
② (나) - 삼별초가 몽골군에 저항한 곳이다.
③ (다) - 임진왜란 때 일본군을 물리친 곳이다.
④ (라) - 병자호란 때 청군에 맞서 싸운 곳이다.

20. 다음 자료에 대한 설명으로 옳은 것은? [3점]



성균관(조선 시대)

- ① 왕명을 전달하는 비서 기관이다.
- ② 한양에 세워진 최고의 교육 기관이다.
- ③ 나라의 살림을 주관하는 재정 기관이다.
- ④ 국정 운영을 총괄하는 최고 통치 기관이다.

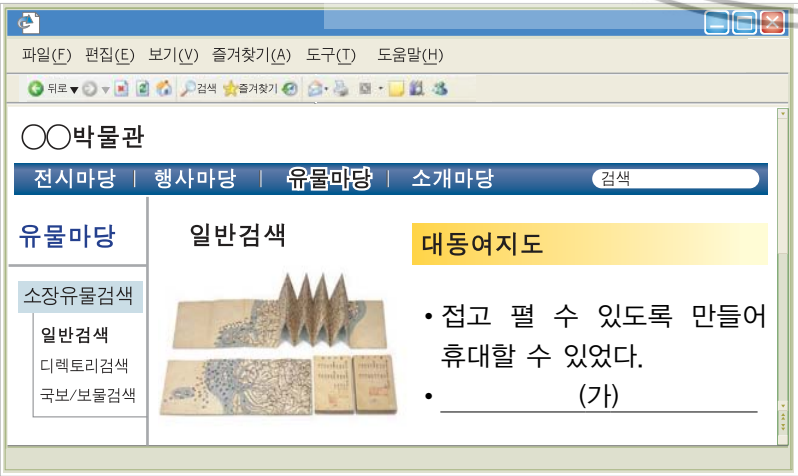
21. 다음 학생이 생각한 왕으로 옳은 것은? [2점]



- 마한을 정복하여 영토를 확장한 왕
- 왜와 활발하게 교류한 왕
- 삼국 중 가장 먼저 전성기를 이룩한 왕

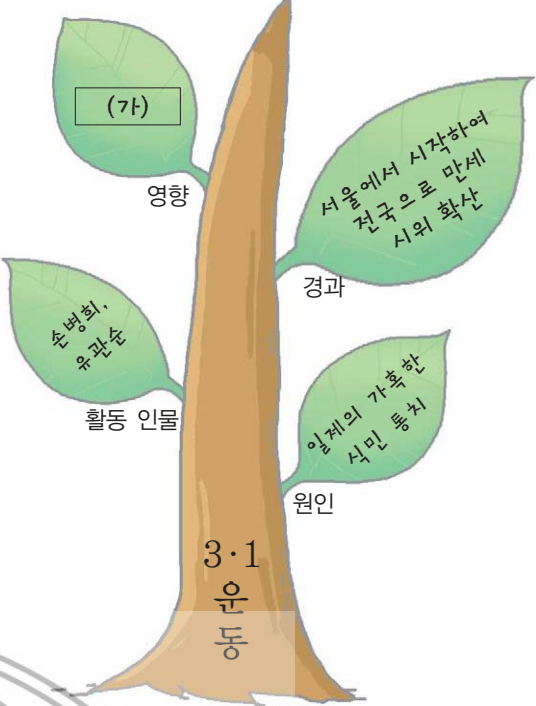
- ① 법흥왕 ② 장수왕 ③ 진흥왕 ④ 근초고왕

22. (가)에 들어갈 내용으로 옳은 것은? [2점]



- ① 조선 후기에 정약용이 만들었다.
- ② 우리나라 최초의 세계 지도이다.
- ③ 목판으로 제작하여 찍어낸 지도이다.
- ④ 고을의 유래, 특산물 등이 자세히 기록되어 있다.

23. (가)에 들어갈 내용으로 옳은 것은? [3점]



- ① 신민회 결성
- ② 독립 협회 창설
- ③ 조선 총독부 설치
- ④ 대한민국 임시 정부 수립

24. (가)에 해당하는 사진 자료로 가장 적절한 것은? [2점]


(가)

- 자연에서 쉽게 구할 수 있는 흙으로 만들었으며, 흙에는 모래 알갱이가 있어서 공기를 잘 통하게 해 줌.
- 장독대, 부엌 등 집안 곳곳에서 곡식이나 장을 저장하는 데 쓰임.

- ① 옹기
- ② 분청사기
- ③ 청화 백자
- ④ 상감 청자

25. 다음 자료에 대한 학생들의 대화 내용으로 옳은 것은?

[3점]



공명첩

① 가문 구성원의 이름과 관직을 적어 놓은 족보야.

② 땅의 소유를 증명하는 토지 문서야.

③ 성인 남자에게 발급한 신분 증명서야.

④ 국가가 돈이나 곡식을 받고 팔았던 명에 관직 임명장이야.



26. 다음 설명에 해당하는 그림으로 옳지 않은 것은? [2점]

- 조선 후기에 서민들 사이에서 유행한 그림이다.
- 그림의 소재가 다양하고, 행복하게 살고 싶은 서민들의 소망이 나타나 있다.

①



②



③



④



27. 3일째 갈 답사 장소에 대한 설명으로 옳은 것은? [3점]

답사 계획서

- 주제 : 정조의 자취를 찾아서
- 일시 : 2012년 ○○월 ○○일 ~ ○○월 ○○일
- 일정 :

1일째
수원 화성

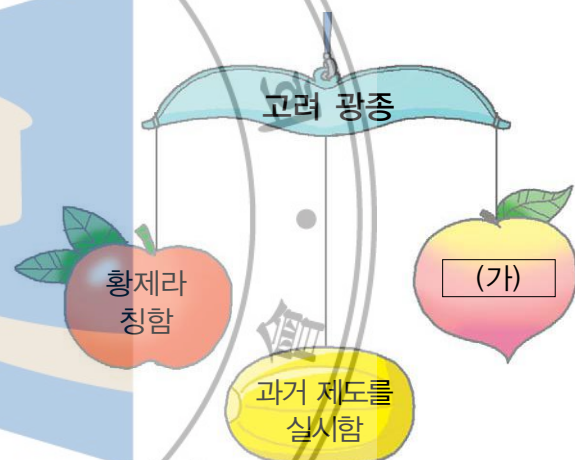
2일째
용릉, 건릉

3일째
창덕궁의 규장각

- ① 왕실의 도서관이었다.
- ② 실록을 편찬하는 기관이었다.
- ③ 죄인을 다스리는 기관이었다.
- ④ 군사 업무를 담당하는 기관이었다.

28. (가)에 들어갈 내용으로 옳은 것은?

[3점]



- ① 혼요 10조를 지움
- ② 노비안검법을 시행함
- ③ 강화도로 도읍을 옮김
- ④ 전국을 8개의 도로 나눔

29. 다음과 관련된 역사적 사건으로 옳은 것은?

[2점]

7년에 걸친 일본과의 전쟁 중 많은 사람들이 일본으로 끌려갔다. 이때 끌려간 이삼평과 심당길 등 조선의 도공들은 일본 도자기 기술 발전에 큰 공헌을 하였다.



도조 이삼평 비

- ① 임진왜란
- ② 정묘호란
- ③ 병자호란
- ④ 임오군란

30. (가)에 들어갈 사건으로 적절한 것은? [3점]

서양 오랑캐가 침범하였을 때 싸우지
않음은 곧 화해하자는 것이요, 화해를 주
장하는 것은 나라를 파는 것이다.



(가) 이후
전국 각지에 이 비석이
세워졌다는군.



- ① 갑오개혁 ② 신미양요
- ③ 을미사변 ④ 윤요호 사건

31. 밑줄 그은 ㉠에 해당하는 사실로 옳은 것은? [3점]

역사 신문

18△△년 ○○월 ○○일

고종, 자주 독립을 위해 노력하다!

고종이 황제 즉위식을
거행한 환구단

고종은 러시아 공사관에서 경운궁
(덕수궁)으로 돌아와 ㉠새로운 국
가의 모습을 갖추기 위해 노력하
였다.

- ① 경복궁을 중건하였다.
- ② 육영 공원을 설립하였다.
- ③ 신분 제도를 폐지하였다.
- ④ 국호를 대한 제국이라 하였다.

32. (가) 사건에 대한 설명으로 옳은 것은? [3점]

(가) 은(는)
이곳에서 개국 축하 잔치가
열릴 때 일어난 사건입니다.



- ① 러시아의 지원을 받아 일어났다.
- ② 구식 군인들의 불만이 발생 원인이 되었다.
- ③ 부산, 원산, 인천을 개항하는 계기가 되었다.
- ④ 김옥균 등이 주도하였으나 3일 만에 실패로 끝났다.

33. 다음에 전시될 가상 우표로 적절하지 않은 것은? [2점]

근대 문물 도입 기념우표 전시회

• 일시 : 2012년 ○○월 ○○일 ~ ○○월 ○○일

• 장소 : △△ 전시관

• 내용 : 개항 이후 도입된 근대 문물의 모습을 담은
우표를 전시하고 있습니다.

- ①

전차

②

전화

③

혼천의

④

전등

34. 다음 자료와 관련된 조약으로 옳은 것은? [3점]

일제에 저항한 민족 운동

민영환 자결

시일야방성대곡
(황성신문)

- ① 을사조약 ② 한성 조약
- ③ 강화도 조약 ④ 제물포 조약

35. 다음 설명에 해당하는 민족 운동으로 옳은 것은? [2점]

- 다양한 직업과 계층의 사람들이 참여함.
- 자기 고장의 지리를 활용하여 일본군에게 타격을 줌.
- 군대 해산 이후 해산된 군인들이 참여하여 전투력과 조직이 강화됨.

①



의병 운동

②



동학 농민 운동

③



물산 장려 운동

④



6·10 만세 운동

36. 다음 주제의 역할 놀이 대사로 적절하지 않은 것은? [3점]

주제 : 조선 후기 장시의 모습

①



올해는
고구마와 고추
농사가 풍년이라
값이 떨어졌네.

②



어제 갔던 장시보
다 이곳이 장사가
잘되네.

③



물건을 사는 데
건원중보를 이용하니
참 편리해.

④



내가 만든 농기구
를 직접 파니 이익
이 많이 남는군.

37. 밑줄 그은 '이곳' 을 지도에서 옳게 찾은 것은? [2점]



김좌진

나는 1920년에
여러 독립군 부대
와 함께 이곳에서
일본군을 크게
물리쳤습니다.



① (가)

② (나)

③ (다)

④ (라)

38. 다음 가상 인터뷰의 (가)에 들어갈 내용으로 적절한 것은? [2점]




- ① 신탁 통치 찬성을 위한 활동을 하고 있습니다.
- ② 대한민국 초대 대통령이 되어 바쁘게 지냅니다.
- ③ 5·10 총선거를 지지하는 강연을 하러 다닙니다.
- ④ 남북한 통일 정부 수립 협상을 위해 북한에 다녀왔습니다.

39. 다음 역사 다큐멘터리의 제목으로 적절한 것은? [3점]



- ① 효종, 북벌을 꿈꾸다.
- ② 왕건, 북진 정책을 추진하다.
- ③ 세종, 4군과 6진을 개척하다.
- ④ 공민왕, 빼앗긴 영토를 되찾다.

40. (가)~(다)의 민주화 운동을 일어난 순서대로 옳게 나열한 것은? [3점]



- ① (가) - (나) - (다)
- ② (가) - (다) - (나)
- ③ (나) - (다) - (가)
- ④ (다) - (가) - (나)