

초급

2011년도

제 12회 한국사능력검정시험 문제지

국사편찬위원회

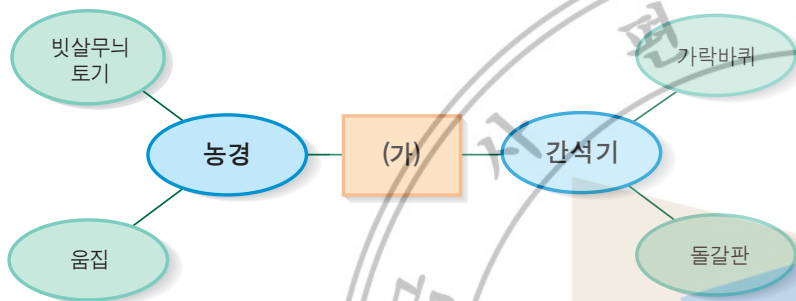
성명

수험 번호

- 자신이 선택한 등급의 문제지인지 확인하시오.
- 문제지에 성명과 수험 번호를 정확히 써넣으시오.
- 답안지에 성명과 수험 번호를 써넣고, 또 수험 번호와 답을 정확히 표시하시오.
- 시험 시간은 60분입니다.

1. 다음 마인드맵의 (가)에 들어갈 주제로 적절한 것은?

[2점]




- ① 구석기 시대
- ③ 청동기 시대

- ② 신석기 시대
- ④ 철기 시대

2. 다음 유물을 통해 알 수 있는 당시 사회상으로 옳은 것은?

[3점]



- ① 사냥에 펜석기를 사용하였다.
- ② 처음으로 토기를 사용하였다.
- ③ 돌로 만든 농기구를 사용하였다.
- ④ 지배자와 피지배자가 구분되지 않았다.

3. (가)~(다)는 삼국의 전성기 지도이다. 지도와 왕이 옳게 짝지어진 것은? [2점]

(가)



(나)



(다)



(가)

- ① 근초고왕
- ② 장수왕
- ③ 장수왕
- ④ 진흥왕

(나)

- 장수왕
- 근초고왕
- 진흥왕
- 장수왕

(다)

- 진흥왕
- 진흥왕
- 근초고왕
- 근초고왕

4. 지수는 고구려에 관한 보고서를 쓰려고 한다. 보고서에 넣을 사진으로 적절하지 않은 것은? [2점]

①



장군총

②




무용총 수렵도

③



연가 7년명 금동 여래 입상

④



첨성대

5. 다음 유적과 관련된 인물로 옳은 것은?

[3점]



①

왕족을
파견하여 지방에 대한
통제를 강화했지.



무령왕

②

영토를 확장하고
만주 대부분을
차지했지.



광개토 대왕

③

불교를
공인하고,
율령을 반포했지.



법흥왕

④

한반도에서
당나라 군대를
몰아내기 위해
전쟁을 벌였지.



문무왕

6. 다음 지도를 통해 알 수 있는 시대의 사실로 옳지 않은 것은?

[3점]



- ① 김춘추는 당으로 건너가 나·당 연합을 이끌어 냈다.
- ② 신라와 당의 교역이 활발해지면서 당에 신라방이 생겼다.
- ③ 발해는 일본과의 교역을 중시하여 여러 차례 사절을 보냈다.
- ④ 장보고는 청해진을 설치하여 서·남해의 해상권을 장악하였다.

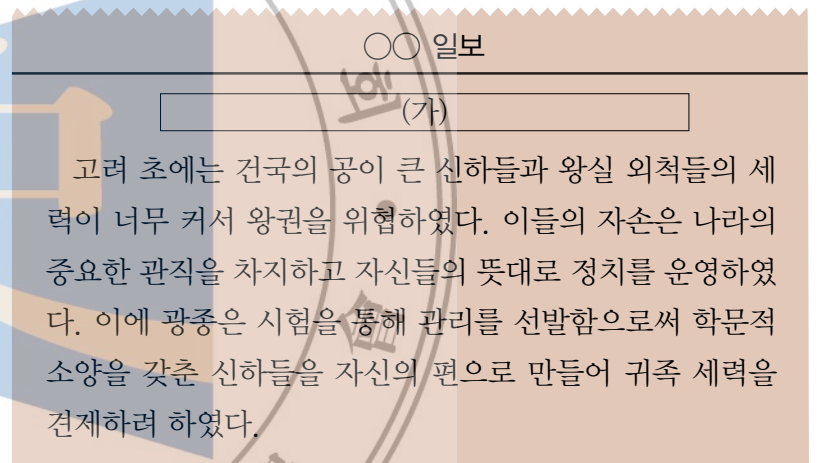
7. 다음은 유적 답사에서 찍은 사진기 화면이다. 이 유적이 있는 지역에 대한 설명으로 옳은 것은? [2점]



- ① 백제의 마지막 수도이다.
- ② 대조영이 발해를 건국한 곳이다.
- ③ 지산동 고분군이 있는 대가야의 중심지이다.
- ④ 김대성이 세운 불국사가 있는 곳으로 유명하다.

8. (가)에 들어갈 신문기사 제목으로 가장 적절한 것은?

[3점]



- ① 팔관회! 성대하게 열리다.
- ② 배경보다 실력으로! 과거제를 실시하다.
- ③ 지방 통제 강화! 12목에 지방관을 파견하다.
- ④ 노비안검법 실시! 억울한 노비의 수가 줄어든다.

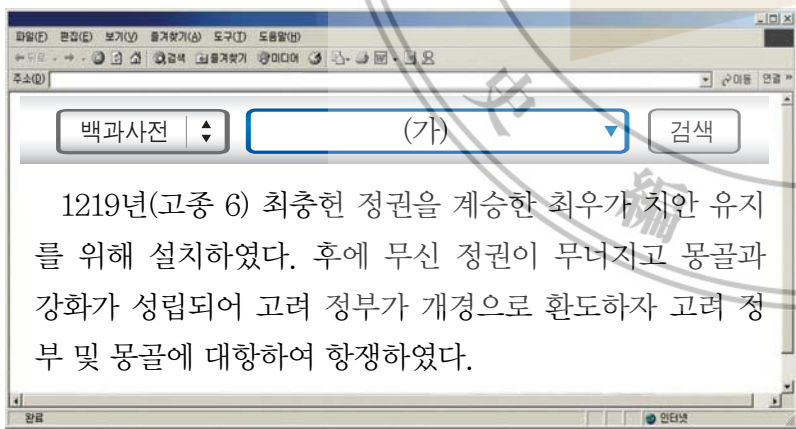
9. 고려의 경제생활에 관한 책을 만들고자 한다. 책에 들어갈 제목과 내용이 옳은 것은? [3점]

- ① 사원(절)
부처를 모시는 신성한 곳으로 종교 활동 외에 상업이나 생산 활동을 엄격히 금지하였다.
- ② 민정 문서
나라에서 세금을 거두기 위해 인구와 생산품을 조사하여 3년마다 문서로 작성하였다.
- ③ 직전법
현직 관리들에게 토지를 지급하는 제도로 그들의 경제적 기반이 되었다.
- ④ 벽란도
무역의 중심지로 송나라, 일본, 동남아시아의 상인들이 많이 오고 갔다.

10. 고려 전기 생활 모습을 나타낸 것 중 적절하지 않은 것은? [3점]



11. (가)의 검색어에 해당하는 이들의 활동과 관련하여 답사할 유적지로 옳은 것은? [3점]

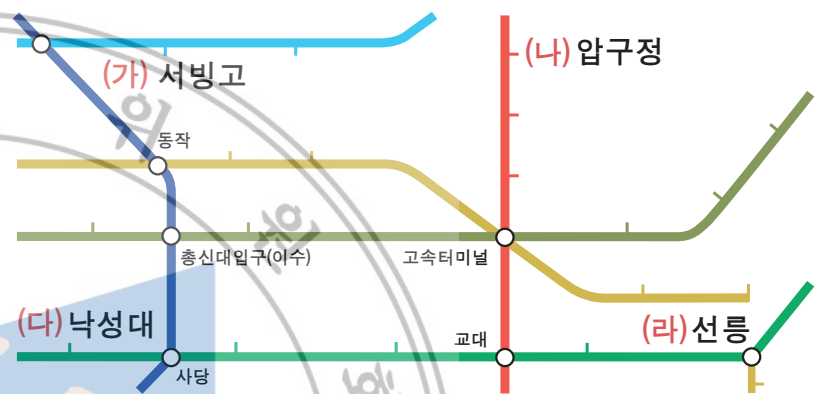


12. 다음 내용과 관련 있는 인물로 옳은 것은? [3점]

불교 경전 공부와 함께 참선을 통해 '마음이 곧 부처'임을 깨닫고 꾸준히 수행하여 깨달음을 계속 확인할 것을 강조하였다. 선종을 중심으로 교종을 통합시키기 위해 노력하였다.

- ① 의천 ② 지눌 ③ 혜초 ④ 의상

13. 다음은 서울 지하철 노선도이다. (가)~(라) 역 주변의 문화유산과 관련된 내용으로 옳은 것은? [2점]



- ① (가) - 지방에서 거둔 세곡을 보관하던 창고이다.
- ② (나) - 황희가 벼슬에서 물러나 여생을 보내던 곳이다.
- ③ (다) - 강감찬 장군이 태어난 곳이다.
- ④ (라) - 태종의 무덤이 있는 곳이다.

14. 다음 책이 만들어진 시기의 백성에게 부과된 세금과 의무에 관한 설명 중 옳지 않은 것은? [3점]



- ① 상민 남자는 성곽과 도로 공사 등에 동원되었다.
- ② 평안도에서 거둔 세금은 현지에서 국방비로 사용하였다.
- ③ 지방에서 거둔 세금은 바다를 통해 개경으로 운반하였다.
- ④ 지역의 토산물을 집집마다 나누어 내도록 하는 제도가 있었다.

15. 조선 전기 양반에 대한 설명으로 옳지 않은 것은? [3점]

- ① 유교를 숭상하여 충효를 중시하였다.
- ② 자기 땅의 농사는 노비와 소작농에게 맡겼다.
- ③ 과거를 통해 관리가 되어 나랏일에 참여하였다.
- ④ 나라의 허가를 받은 시전에서 주로 활동하였다.

16. 다음과 같은 문제점을 해결하는 방법과 관련 있는 제도로 옳은 것은? [3점]



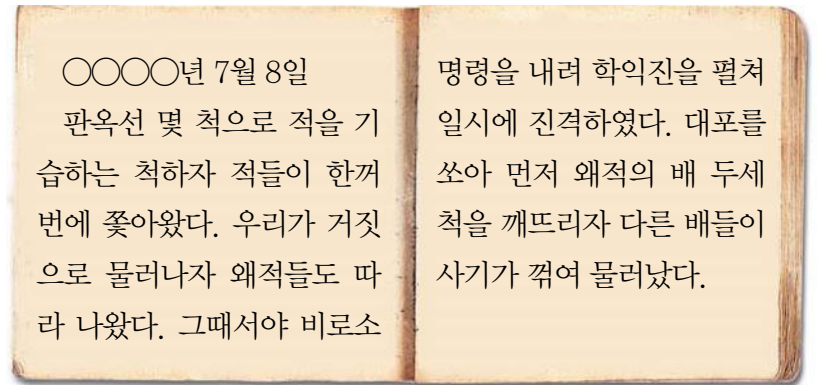
- ① 대동법
- ② 균역법
- ③ 환곡제
- ④ 영정법

17. 선생님의 설명 중 (가)에 들어갈 수 있는 것으로 옳지 않은 것은? [3점]



- ① 「택리지」
- ② 「동사강목」
- ③ 「동국여지승람」
- ④ 「훈민정음운해」


18. 다음 글이 쓰여진 시기에 활동한 인물로 옳지 않은 것은? [2점]



- ① 유성룡
- ② 곽재우
- ③ 이종무
- ④ 사명 대사


19. 밑줄 그은 '민화'에 해당하지 않는 것은? [2점]

민화는 조선 시대 서민들의 생활과 생각이 담겨 있다. 대부분이 그림 공부를 제대로 받지 못한 이름 없는 화가나 떠돌이 화가들에 의하여 그려졌다.



봉황도

화조도



묵죽도

호작도

20. 다음 건축물들이 지어진 시기에 나타난 사실이 아닌 것은? [2점]



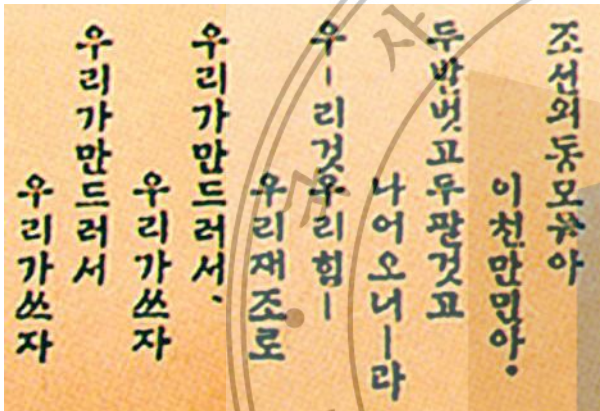
독립문



명동 성당

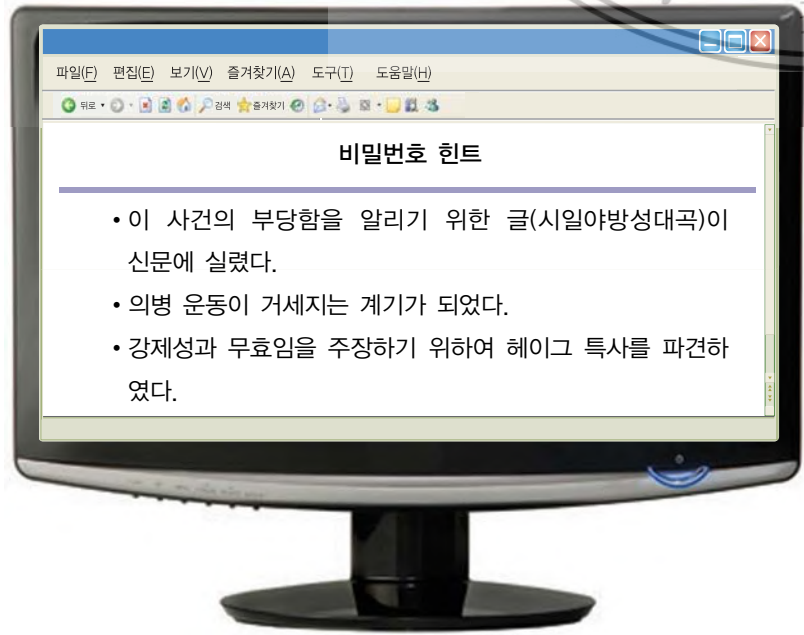
- ① 원구단을 만들었다.
- ② 궁궐에 전등이 설치되었다.
- ③ 한글로 된 근대 신문이 발간되었다.
- ④ 청나라에서 천주교가 처음 전래되었다.

21. 다음 자료와 관계 깊은 경제적 민족 운동으로 옳은 것은? [2점]



- ① 새마을 운동
- ② 물산 장려 운동
- ③ 금모으기 운동
- ④ 국채 보상 운동

22. 홈페이지 비밀번호 힌트가 다음과 같을 때 비밀번호 힌트와 관련된 사건으로 옳은 것은? [2점]



- ① 을미사변
- ② 을사조약
- ③ 갑오개혁
- ④ 강화도 조약

23. 다음 가상 광고 전단지 (가)에 들어갈 말로 옳은 것은? [2점]

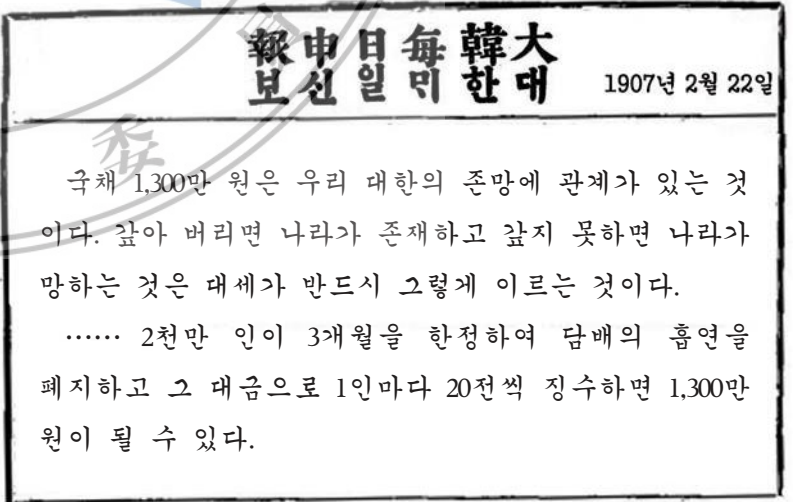
서양 문물 (가) 출시!



1896년 궁내부에 처음 도입된 (가)
1902년 3월,
서울~인천 간에 통화를 시작한 이후, 한성 전화소에서 새로운 가입자를 받고 있습니다.
가입하실 분은 서둘러 주세요.

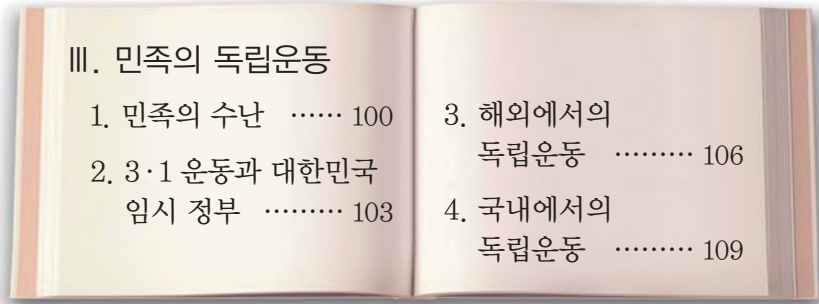
- ① 철마
- ② 묘화
- ③ 덕률풍
- ④ 쇠귀신

24. 다음 신문 기사와 관련된 민족 운동에 대한 설명으로 옳지 않은 것은? [2점]



- ① 국민 모금을 통해 나라의 빚을 갚고자 하는 운동이었다.
- ② 성금은 비녀와 반지 같은 패물을 팔고 담배를 끊어 마련하였다.
- ③ 황성신문, 제국신문 등 다양한 신문의 후원을 받아 홍보가 이루어졌다.
- ④ 평양에서 시작된 운동으로, 민족 기업 육성을 통해 경제 자립을 이루고자 하였다.

25. 다음 역사책의 106~108쪽에서 볼 수 있는 내용으로 옳은 것은? [2점]



- ① 청·일 전쟁 ② 6·25 전쟁
- ③ 동학 농민 운동 ④ 이봉창 의사 의거

26. 인터넷에 다음과 같은 질문을 했을 때 예상되는 답변으로 옳지 않은 것은? [3점]

일제의 식민지 경제 수탈 정책은 어떤 것이 있나요? 검색

- ① 방곡령 ② 회사령
- ③ 산미 증식 계획 ④ 토지 조사 사업

27. 인물 스티커를 붙이는 게임이다. 다음 스티커를 붙일 곳으로 옳은 것은? [3점]



국어 문법 주시경	조선 상고사 (가)	조선어 학회 (나)
대성 학교 (다)	원불교 (라)	서시 윤동주

- ① (가) ② (나) ③ (다) ④ (라)

28. 다음 역사 신문의 (가)에 실을 수 있는 기사로 적절한 것은? [2점]

역사 신문

특별 기획 - 1930년대 역사를 돌아보다!

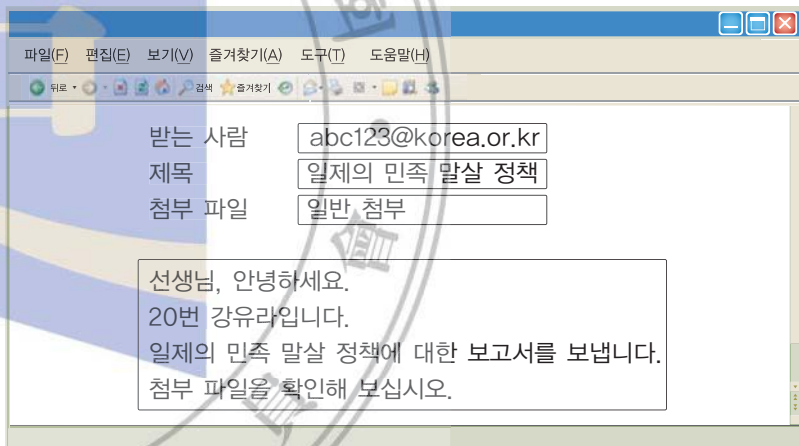
중국을 울린 항일의 불꽃, 윤봉길!

1932년 4월 29일, 중국 상하이 홍커우 공원에서 일본의 전승 기념식이 열렸다. 윤봉길은 기념식장 단상을 향해 폭탄을 던졌다. 이로 인해 일본군 장성 다수가 죽거나 크게 다쳤다. 이 의거는 우리 민족과 중국인들에게 커다란 감동을 주었다.

(가)

- ① 갑신정변 ② 3·1 운동
- ③ 청산리 대첩 ④ 브나로드 운동

29. 유라가 선생님께 이메일로 보고서를 보낼 때 첨부 파일로 옳지 않은 것은? [2점]



- ① 일: 일본식으로 바뀐 이름들
- ② 제: 제목을 입고 칼을 찬 일본인 교사들
- ③ 황: 한국 신민 서사를 암송하는 학생들
- ④ 신: 신사 참배를 강요당하는 사람들

30. 국립 중앙 박물관에서 열고 있는 다음 특별전과 관련된 역사적 사건으로 옳은 것은? [2점]



- ① 병인양요 ② 신미양요
- ③ 임오군란 ④ 운요호 사건

31. 다음 보고서 목차를 시기순으로 정할 때 두 번째 사건으로 옳은 것은? [3점]

대한민국 정부의 수립 과정

작성자 : □□□

(가) 제헌 국회의 헌법 제정


(나) 남한 단독으로 치러진 5·10 총선거

(다) 모스크바 3국 외상 회의와 반탁 운동의 전개

(라) 통일 정부 수립의 열망으로 추진된 남북 협상

- ① (가)
- ② (나)
- ③ (다)
- ④ (라)

32. 대통령 인물 카드를 제시하면 그 대통령 때 있었던 사건 카드를 제시하는 놀이이다. 다음 카드를 제시했을 때 내야 할 카드로 옳은 것은? [2점]



이 승 만

- ①

4·19 혁명
- ②

남북 적십자 회담
- ③

5·18 민주화 운동
- ④

6월 민주 항쟁

33. 다음 사건 파일을 아래 폴더에 정리할 때 파일 갯수가 가장 많은 폴더는? [3점]

한·일 월드컵 개최

남북 정상 회담

서울 올림픽 개최

호주제 폐지

지방 자치제 전면 시행

수출 100억 달러 달성

- ① 1970년대
- ② 1980년대
- ③ 1990년대
- ④ 2000년대

34. 밑줄 그은 부분에 해당하는 문화유산으로 옳은 것은? [2점]

삼국의 왕들은 왕권을 강화하고 백성들의 마음을 하나로 모으기 위해 불교를 장려하였다.
신라가 삼국을 통일한 후 원효 등의 노력으로 불교가 백성들에게까지 전파되었다. 수도인 금성(경주)에는 많은 불교 문화재가 만들어졌다. 고려 시대에는 불교가 백성들의 일상생활에 자리 잡았다.

- ①

석굴암 본존불상
- ②

정림사지 5층 석탑
- ③

수월 관음도
- ④

경천사 10층 석탑

35. 서울에 있는 문화유산을 오래된 시대순으로 답사할 때 세 번째 들러야 할 곳은? [3점]



- ① 성균관 ② 덕수궁 석조전
③ 석촌동 돌무지무덤 ④ 암사동 선사 유적지

36. 탐구 계획서를 작성할 때 탐구 활동으로 옳지 않은 것은? [3점]

• 주제 : 한국과 일본의 문물 교류
• 탐구 활동

- 칠지도에 관하여 조사해 본다. (가)
- 빈공과에 합격한 학생들을 찾아본다. (나)
- 통신사의 활동에 대하여 검색해 본다. (다)
- 「천자문」과 「논어」를 전해준 왕인의 활동을 알아본다. (라)

- ① (가) ② (나) ③ (다) ④ (라)

37. 다음 홈페이지의 (가)를 검색하여 찾을 수 있는 정보로 옳지 않은 것은? [2점]



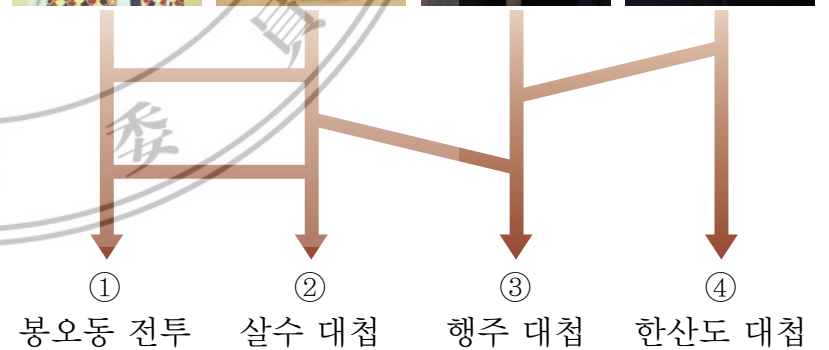
- ① 참성단 ② 광성보
③ 해인사 ④ 고려궁지

38. 연대순으로 역사 드라마를 배열할 때 (가)에 들어갈 수 있는 작품 내용을 옳게 설명한 학생은? [3점]



- ① 지수 : 후삼국을 통일한 태조 왕건을 다루는 것이 좋겠습니다.
② 유연 : 백범 김구의 독립운동에 대한 내용이 좋다고 생각합니다.
③ 현준 : 고구려를 건국한 주몽을 내용으로 하는 것이 좋겠습니다.
④ 두승 : 황산벌 전투를 지휘한 계백의 일대기를 다루는 것이 좋겠습니다.

39. 다음은 역사적 인물이 지휘했던 전투를 연결하는 사다리 게임이다. 연결이 옳지 않은 것은? [2점]



40. 간행된 시기를 기준으로 책을 분류할 때 책꽂이에 옳게 놓인 책은? [3점]



- ① (가) ② (나) ③ (다) ④ (라)