



2009년도

제 7회 한국사능력검정시험 문제지

국사편찬위원회

성명		수험 번호							
----	--	-------	--	--	--	--	--	--	--

- 자신이 선택한 등급의 문제지인지 확인하시오.
- 문제지에 성명과 수험 번호를 정확히 써넣으시오.
- 답안지에 성명과 수험 번호를 써넣고, 또 수험 번호와 답을 정확히 표시하시오.
- 시험 시간은 60분입니다.

1. 신석기 시대에 사용한 농기구로 적절하지 않은 것은?

[2점]



반달돌칼



돌도끼



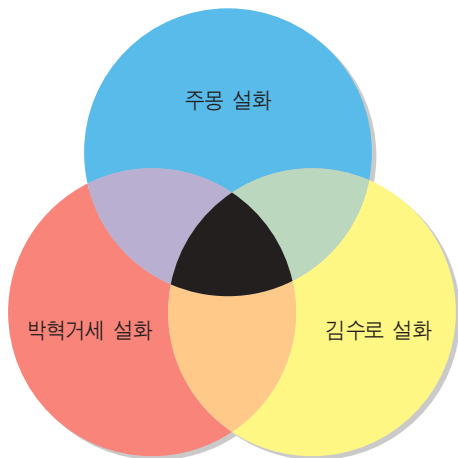
뼈괭이



돌낫

2. 다음 검정색 부분에 해당하는 설명으로 옳지 않은 것은?

[3점]



- ① 주인공들은 알에서 태어났다.
- ② 하늘을 숭배하는 내용이 들어 있다.
- ③ 주인공들은 다산을 상징하는 인물이다.
- ④ 나라를 세운 인물에 관한 이야기가 있다.

3. 동현이네 반에서는 ‘사국지 피구 게임’을 하였다. 다음에서 왕과 역사 인물의 예로 적절하지 않은 것은? [2점]



〈게임 규칙〉

1. 팀을 고구려, 백제, 신라, 가야로 나눈다.
2. 각 팀마다 자기 나라의 왕과 역사 인물을 선수로 한다.
3. 공을 던져 맞힌 사람을 자기 팀으로 데려온다.
4. 모든 사람을 데려온 팀이 승리한다.

		왕	역사 인물
①	㉠	광개토 대왕	을지문덕
②	㉡	근초고왕	계백
③	㉢	진흥왕	관창
④	㉣	김수로왕	장보고

4. 명수는 아래의 표지판 왼쪽인 팔공산 방향으로 역사 탐방을 떠났다. 탐방 장소와 관련된 설명으로 옳은 것은?

[3점]

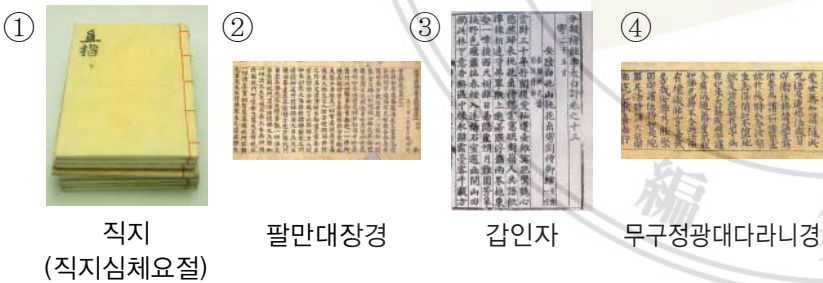


- ① 삼국 시대 각국이 서로 차지하려고 다투던 곳이다.
- ② 흥선 대원군이 서양인들의 침략을 물리쳤던 곳이다.
- ③ 왕건이 견훤에게 패하여 부하인 신승점 등이 전사한 곳이다.
- ④ 고려 시대 서희가 외교 담판으로 거란으로부터 획득한 곳이다.

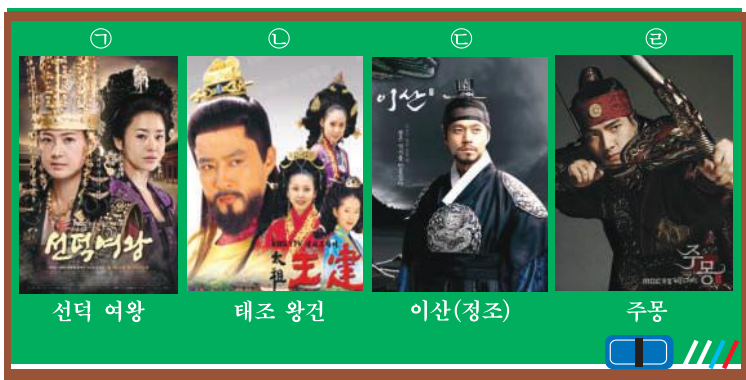
5. 승기네 가족이 가야 유적지로 방문한 장소로 옳은 것은? [3점]



6. 문영이는 사회 시간에 고려 문화에 대해 배운 것을 병풍책으로 만들었다. 병풍책 속의 내용과 관련이 깊은 유물은? [2점]



7. 영일이는 사회 시간에 우리나라 역대 왕들을 다룬 드라마의 포스터를 칠판에 붙이려고 한다. 시대 순서대로 바르게 배열한 것은? [3점]

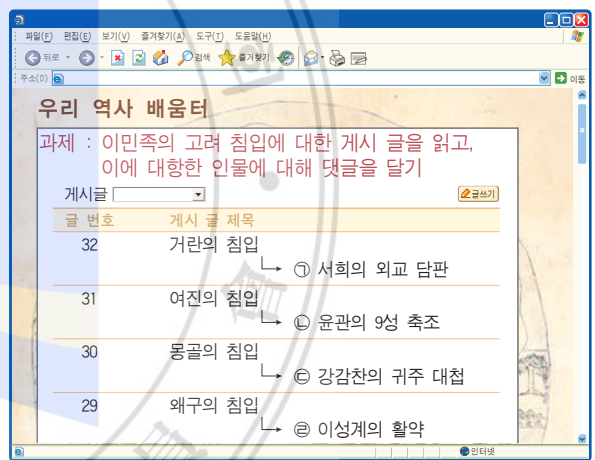


- ① ㉠ → ㉡ → ㉢ → ㉣ ② ㉡ → ㉢ → ㉣ → ㉠
③ ㉢ → ㉡ → ㉣ → ㉠ ④ ㉣ → ㉠ → ㉡ → ㉢

8. 다음에서 고려 시대의 사회 모습으로 적절하지 않은 것은? [2점]

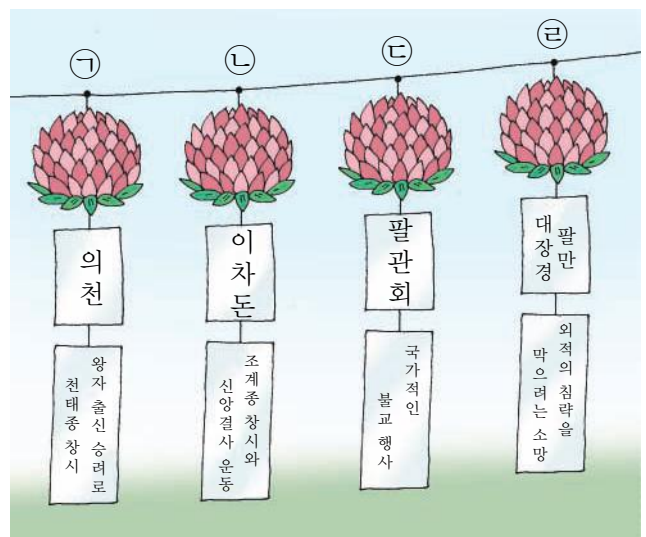


9. 지희네 반 역사 공부 게시판의 화면이다. 과제에 대한 댓글로 적절하지 않은 것은? [3점]



- ① ㉠ ② ㉡ ③ ㉢ ④ ㉣

10. 석가 탄신일을 맞아 고려의 불교문화를 연등으로 만들어 전시하였다. 다음에서 잘못 만든 것은? [1점]



- ① ㉠ ② ㉡ ③ ㉢ ④ ㉣

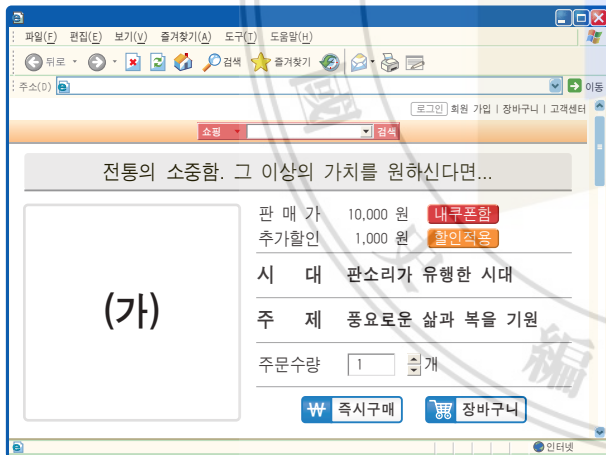
15. 다음은 역사 퍼즐 일부분이다. 퍼즐의 답 중에서 잘못된 것은? [3점]

〈가로 열쇠〉	〈세로 열쇠〉
㉠ 김정호가 과학적인 측량 방법을 통해 완성한 우리나라 지도	㉡ 「의산문답」에서 지동설을 주장한 실학자
㉢ 「목민심서」를 저술하고 실학을 집대성한 실학자. 호는 다산	㉣ 장보고가 설치한 청해진의 오늘날 지명

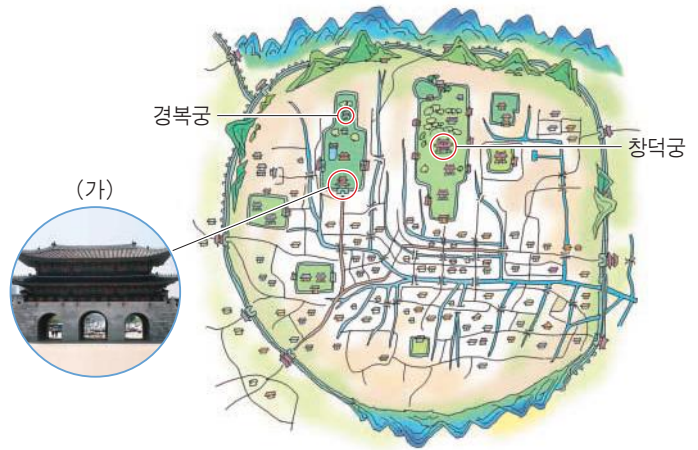


- ① ㉠ ② ㉡ ③ ㉢ ④ ㉣

16. 헤령이는 인터넷 쇼핑몰에서 소개하는 그림이 인쇄된 티셔츠를 사고자 한다. (가)에 알맞은 티셔츠는? [2점]



17. 조선의 서울인 한양의 옛 지도이다. (가)에 대한 설명으로 적절하지 않은 것은? [3점]



- ① 앞에는 해태를 세웠다.
 ② 경복궁을 드나드는 정문이다.
 ③ 앞거리는 육조 거리라 불렸다.
 ④ 한양 도성의 4대문 중 하나이다.

18. 다음 에 해당하는 문화유산은? [2점]

한국에 아홉 번째 유네스코 세계 문화유산이 탄생했다.

유네스코 세계유산위원회(WHC)는 27일(한국 시각) 스페인 세비야 컨벤션 센터에서 열린 제 33 차 회의에서 한국이 신청한 에 대한 세계 문화유산 등재를 확정하였다. 이로써 한국은 석굴암·불국사, 해인사 장경판전 등에 이어 아홉 번째 세계 문화유산을 보유한 국가가 되었다.

이(가) 세계 문화유산으로 확정될 수 있었던 이유는 유교 문화의 영향 아래 중요한 장례 전통과 풍수 사상을 간직하고, 그 건축과 경관은 동아시아 무덤 건축 발전의 중요한 단계를 보여 주며, 나아가 그곳에서 현재도 제례가 열리고 있기 때문이다.

〈○○뉴스-2009.○○.○○〉



19. 서울 궁궐 답사 때에 들은 설명이다. 해당하는 궁궐은?
[3 점]



- 임진왜란 때 선조는 의주까지 피난 갔다가 한양으로 돌아와 이곳에서 임시로 거처하였습니다.
- 명성 황후 시해 사건을 겪은 고종이 러시아 공사관으로 처소를 옮겼다가 이곳으로 돌아와 나라 이름을 ‘대한 제국’으로 고쳤습니다.
- 오늘날에는 덕수궁으로 불리고 있습니다.

- ① 경복궁 ② 경운궁 ③ 창경궁 ④ 창덕궁

20. 인물 카드 두 장을 뽑아 그 인물이 그려져 있는 화폐의 금액만큼 게임 머니를 받기로 했다. 예원이가 (가)와 (나)를 뽑았다면 받는 금액은? [2점]

(가) 조선 전기의 여류 문인이자 서화가로 시, 글씨, 그림에 모두 뛰어났으며, 사대부 부녀에게 요구되는 덕행과 재능을 겸비한 현모양처로 칭송되는 인물이다.

(나) 조선 시대 문인이자 성리학을 발전시킨 유학자로, 그의 학문과 사상에 대한 연구는 오늘날 ‘퇴계학’으로 통용될 만큼 국내외적으로 매우 활발하다.

①

②

③

④


- ① 11,000원 ② 51,000원
③ 55,000원 ④ 60,000원

21. 다음 유물들이 출토된 무덤은? [3점]



- ① 돌무지 무덤 ② 무령왕릉 ③ 천마총 ④ 공민왕릉

22. 조선 시대 미술에 대해 알아보기 위하여 박물관을 찾았다. 다음 전시실에서 해설사가 한 말의 내용으로 옳지 않은 것은? [3점]



- ① 이 그림을 그린 사람은 신윤복입니다.
② 이 그림들은 조선 후기에 그려진 것입니다.
③ 이 그림과 비슷한 시기에 민화도 유행했습니다.
④ 당시 농민들의 생활 모습을 생동감 있게 보여 줍니다.

23. 다음에서 일제 침략기에 있었던 주요 사건들과 관련 인물들을 바르게 연결한 것은? [3점]

3·1 운동	대한민국 임시 정부	물산 장려 운동	청산리 대첩	한인 애국단 활동
•	•	•	•	•
김구	유관순	김좌진	조만식	윤봉길

- ① ✕ | ✕ ② ✕ ✕ ✕
③ ✕ ✕ | ④ ✕ ✕ ✕

24. 일제의 침략 행위에 대항하여 활동한 인물들이다. 이들과 관련 있는 공통된 역사적 사건은? [3점]

민영환	장지연	헤이그 특사

- ① 갑신정변 ② 갑오개혁
③ 을미사변 ④ 을사조약

25. 다음 신문 기사와 관련 있는 역사적 사건은? [3점]

‘어재연 장수기-136년 만의 귀환’



강화도에 상륙한 미군에 대항하여 어재연 장군과 600여 병사들은 목숨을 걸고 항전했으나, 끝내 패하고 말았다. 이 전투에서 미군은 장수를 나타내는 ‘수(帥)’ 자 기를 전리품으로 가져가 해군사관 학교 박물관에 보관하고 있었다. 우리나라는 미국에 문화재 반환을 요구했으나 거부당하고, 2007년부터 10년간 장기 대여 방식으로 가져와 박물관에 전시하게 되었다.

- ○○일보 -

- ① 임진왜란
③ 병인양요

② 병자호란
④ 신미양요

26. (가)~(다)는 일제의 침략에 저항하여 일어난 의병 운동이다. 이에 대한 설명으로 옳지 않은 것은? [2점]



- ① (가)는 명성 황후 시해에 분노하여 일어났다.
 ② (나)는 을사조약에 항의하여 일어났다.
 ③ (다)는 해산된 군인들이 합류하였다.
 ④ (가), (나), (다)의 결과 국권을 회복할 수 있었다.

27. 다음 김구와 이승만의 가상 토론 내용 중에서 사실과 거리가 먼 것은? [1점]

㉠ 강대국이 우리나라를 신탁 통치 하는 것에 반대합니다.

㉡ 네, 본인도 완전한 독립을 원하기 때문에 신탁 통치에 절대 반대입니다.

㉢ 찬성합니다. 남한만의 단독 정부를 수립하여 유엔(UN)의 승인을 얻도록 합시다.

사회자

이승만 김구

㉣ 통일 정부 수립이 어렵게 되었으니 남한만이라도 총선거를 실시하여 하루 빨리 정부를 수립합니다.

① ㉠

② ㉡

③ ㉢

④ ㉣

28. 다음은 어떤 역사적 사건을 신선로 모양으로 정리한 것이다. (가)에 들어갈 사건으로 알맞은 것은? [3점]



- ① 만민 공동회
③ 애국 계몽 운동

② 동학 농민 운동
④ 국채 보상 운동

29. 다음 다른 두 역사적 사건이 공통적으로 발생한 날짜는? [3점]

<p>1926년 ○월 ○○일</p> <p>대한 제국 순종 황제의 장례일에 시민, 학생들은 3·1 운동과 같은 항일 운동을 벌여 일제의 탄압을 저항하며 독립 만세를 불렀다.</p>	<p>1987년 ○월 ○○일</p> <p>이날 이후 다양한 계층의 사람들이 전국에서 호헌 철폐, 대통령 직선제 개헌을 외치며 독재에 반대하는 민주화 투쟁을 벌였다.</p>
---	---

- ① 4월 19일 ② 5월 18일 ③ 6월 10일 ④ 8월 15일

30. 홍선 대원군의 개혁 정치를 TV 다큐멘터리로 만들려고 한다. 서민들의 지지를 받은 개혁의 장면으로 적절하지 않은 것은? [3점]

①



당파에 구분 없이 인재 등용

②



경복궁 중건

③



양반층에 세금 부과

④



서원 철폐

31. 채희는 역사적 사건의 날짜로 비밀번호를 기억해 내려고 한다. 다음의 힌트를 통해 채희가 입력할 비밀번호를 찾으려면? [3점]

✓비밀번호

★★★★

✓비밀번호 힌트

1979년 박정희 대통령이 사망한 뒤에 민주주의에 대한 국민들의 열망은 식을 줄 모르고 불타 올랐다. 민주화를 요구하는 시민과 대학생들의 시위가 전국적으로 일어났고, 이는 1980년 ○○월 ○○일에 광주에서 일어난 민주화 운동으로 이어졌다.

- ① 0315
- ② 0419
- ③ 0518
- ④ 1212

32. 제시된 자료에 나오는 ‘이 기술’ 은? [3점]



임진왜란 때 포로로 끌려가 일본 규슈에 정착한 이삼평은 ‘이 기술’을 전수하여 일본 문화 발전에 기여하였다.

- ① 탐 만드는 기술
- ② 종이 만드는 기술
- ③ 배 만드는 기술
- ④ 도자기 만드는 기술

33. 다음은 8·15 광복에서 6·25 전쟁까지의 다큐멘터리이다. (가)에 들어갈 역사적 사건은? [2 점]

8·15 광복

신탁 통치 반대 운동

5·10 총선거

(가)

6·25 전쟁

- ① 6월 민주 항쟁
- ② 5·16 군사 정변
- ③ 대한민국 정부 수립
- ④ 미·소 공동 위원회 개최

34. 인터넷에서 검색한 1980년대 자료로 적절한 것은? [2 점]

①

한·일 월드컵 거리 응원

②

서울 올림픽 마스코트 ‘호돌이’

③

새마을 운동으로 달라진 농촌 모습

④

금 모으기 운동

35. 같은 왕조의 인물을 찾는 역사 빙고 게임이다. 다음에 서 빙고가 되는 줄은? [3점]

㉠

정약용

이성계

홍선 대원군

왕건

장영실

안중근

강감찬

선덕 여왕

원효

㉡

㉢

㉣

㉤

7 / 8

36. 다음과 같은 방법으로 역사 회전판 놀이를 할 경우에 가장 높은 점수를 받은 사람은? [3점]

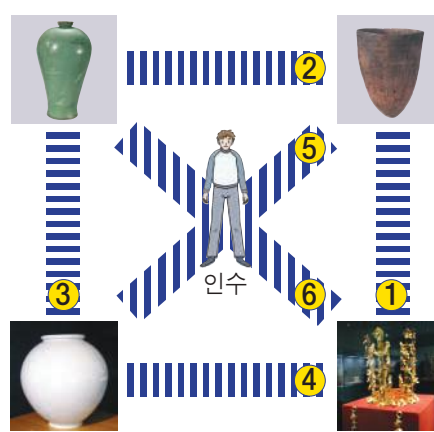


<놀이 방법>
손화살을 두 번 던져서 맞힌 유물이나 유적이 속한 시대의 점수를 합산한다.

<점수 배점표>
선사 시대 : 5점
삼국 시대 : 4점
발해 : 3점
고려 : 2점
조선 : 1점

- ① ㉠, ㉣을 맞힌 가은
- ② ㉠, ㉤을 맞힌 소윤
- ③ ㉢, ㉥을 맞힌 석준
- ④ ㉣, ㉡을 맞힌 미희

38. 인수가 다음 조건에 맞게 문화재를 관람하려고 한다. 횡단보도를 건너는 순서로 옳은 것은? [3점]




조건

- 횡단보도는 한 번에 한 개씩 건넌다.
- 유물이 제작된 시대 순서대로 관람한다.

- ① 5번 → 1번 → 6번 → 3번
- ② 6번 → 1번 → 5번 → 3번
- ③ 5번 → 2번 → 6번 → 4번
- ④ 6번 → 4번 → 5번 → 2번

39. 위인전을 시대별로 정리한 책꽂이이다. ‘홍의 장군 곽재우’를 꽂을 자리로 적절한 곳은? [3점]

㉠ ㉡ ㉢ ㉣



① ㉠

② ㉡

③ ㉢

④ ㉣

37. ‘조상들의 국제 무역’을 주제로 만든 지도이다. ㉠~㉣을 시대순으로 바르게 나열한 것은? [2점]



- ① ㉠-㉡-㉢-㉣
- ② ㉡-㉢-㉣-㉠
- ③ ㉣-㉠-㉡-㉢
- ④ ㉢-㉣-㉠-㉡

40. 다음은 시대별로 살펴본 어느 지역의 연표이다. 이와 관련이 깊은 지역은? [2점]



- ① 부여
- ② 수원
- ③ 강화도
- ④ 제주도