

1과목 : 컴퓨터 일반

1. 다음 중 인터프리터 언어에 대한 설명으로 옳지 않은 것은?

- ① 대화형 언어로서 목적 프로그램을 생성하지 않는다.
- ② 디버깅이 컴파일러 보다 쉬우나 실행 속도가 느리다.
- ③ 전체 프로그램을 한 번에 처리하여 실행한다.
- ④ BASIC, LISP, APL과 같은 언어가 있다.

2. 컴퓨터의 발전 과정을 세대별로 구분할 때 5세대 컴퓨터의 특성으로 볼 수 없는 것은?

- ① 퍼지 컴퓨터 ② 인공 지능
- ③ 패턴 인식 ④ 온라인 방식

3. 다음 중에서 주소와 관련이 없는 레지스터는 어느 것인가?

- ① 명령 레지스터(Instruction Register)
- ② 인덱스 레지스터(Index Register)
- ③ 베이스 레지스터(Base Register)
- ④ 프로그램 카운터(Program Counter)

4. CPU가 하나의 명령을 수행하는 일련의 단계를 기계 사이클이라고 한다. 이 사이클의 순서가 옳게 배열되어 있는 것은?

- ① 호출-해독-저장-실행 ② 호출-실행-해독-저장
- ③ 호출-해독-실행-저장 ④ 호출-저장-해독-실행

5. 다음 중 컴퓨터 범죄와 거리가 먼 것은?

- ① 전자문서의 불법 복사
- ② 전산망을 이용한 개인 정보 유출
- ③ 컴퓨터 시스템 해킹을 통한 중요 정보의 위조 또는 변조
- ④ 인터넷 쇼핑물 상품 가격 비교표 작성

6. 한글 Windows XP의 [디스플레이 등록 정보]에서 변경할 수 없는 것은?

- ① 바탕화면 배경 ② 화면 보호기 암호
- ③ 화면 해상도 ④ 모니터 전원 설정

7. 다음 중 Domain Name에 대한 설명으로 옳지 않은 것은?

- ① 숫자로 구성된 IP 주소를 사람들이 기억하고 이해하기 쉽도록 문자열로 만든 주소이다.
- ② 전 세계의 Domain Name의 총괄은 KRNIC에서 한다.
- ③ 인터넷의 모든 Domain은 전 세계적으로 고유하게 존재해야 한다.
- ④ 도메인 네임은 한글과 숫자를 섞어서 만들 수 있다.

8. 컴퓨터 부팅시 뱅크-뱅크뱅크(길게 한 번 짧게 세 번)하는 신호음을 낸다. 어떤 경우에 발생하는 신호음인가?

- ① 램 불량
- ② CPU 불량
- ③ 그래픽 카드 불량
- ④ 특정 주변기기의 고장이나 카드 간의 충돌

9. 한글 Windows의 시작 메뉴에 대한 설명으로 옳지 않은 것은?

- ① 한글 Windows XP에 설치된 프로그램들이 메뉴 형태로 등록되어 있다.
- ② [검색] 메뉴를 이용하여 파일이나 폴더, 네트워크에 연결

되어 있는 컴퓨터 등을 쉽게 찾을 수 있다.

- ③ [실행] 메뉴를 이용하여 프로그램명을 직접 입력하거나 '찾아보기'를 이용하여 실행할 파일을 지정함으로써 프로그램을 실행시킬 수 있다.

- ④ [시스템 등록 정보] 메뉴를 이용하여 시스템에 장착된 모든 램의 크기와 컴퓨터 이름 등을 알 수 있다.

10. 다음 중 IPv6 주소체계에 대한 설명으로 옳지 않은 것은?

- ① 총 128비트로 구성되어 있다.
- ② 각 부분은 세미콜론으로 구분한다.
- ③ 각 부분은 16진수로 표현한다.
- ④ 8개의 부분으로 구성되어 있다.

11. 다음 중 한글 Windows XP의 [제어판]-[시스템]-[고급] 탭의 [시작 및 복구]에서 [설정]을 클릭하였을 때 나오는 [시작 및 복구] 창에서 시스템 오류 시 취할 행동에 속하지 않는 것은?

- ① 자동으로 시스템 복원 시작
- ② 시스템 로그에 이벤트 기록
- ③ 관리 경고 보내기
- ④ 자동으로 다시 시작

12. 다음 중 한글 Windows XP에서 안전 모드로 시스템을 시작할 때 설정되는 모니터의 해상도로 옳은 것은?

- ① 640×480 ② 800×600
- ③ 1024×768 ④ 1280×960

13. 다음 중 텔레비전 드라마나 뉴스 등의 프로그램을 원하는 시간에 다시 볼 수 있는 서비스를 가리키는 용어로 옳은 것은?

- ① VLAN ② VOD
- ③ VDT ④ VPN

14. 다음 중 한글 Windows XP의 연결 프로그램에 대한 설명으로 옳지 않은 것은?

- ① 서로 다른 확장자를 갖는 파일은 반드시 서로 다른 연결 프로그램이 지정되어야 한다.
- ② 연결 프로그램이 지정되어 있지 않은 확장자를 갖는 파일을 열기 위해서는 [연결 프로그램] 대화상자에서 실행할 연결 프로그램을 선택하면 된다.
- ③ 동일한 확장자를 가진 다른 파일을 열 때 항상 같은 프로그램을 사용하도록 하려면 [연결 프로그램] 대화상자에서 '이 종류의 파일을 열 때 항상 선택된 프로그램을 사용' 확인란을 선택한다.
- ④ 연결 프로그램이란 탐색기나 내 컴퓨터에서 특정한 파일을 더블 클릭했을 때 실행될 프로그램을 설정하는 것이다.

15. 다음 중 데이터 종류에 따른 컴퓨터의 분류로 옳지 않은 것은?

- ① 하이브리드컴퓨터 ② 디지털컴퓨터
- ③ 슈퍼컴퓨터 ④ 아날로그컴퓨터

16. 다음 중 인터넷을 연결하기 위한 통신 서비스와 거리가 먼 것은?

- ① ISDN ② ADSL
- ③ VDSL ④ WML

17. 한글 Windows XP에서 바탕 화면에 표시된 바로 가기 아이콘에 밑줄이 생기고, 마치 하이퍼텍스트처럼 한 번 클릭해도 해당 응용 프로그램이 실행되도록 설정하려고 한다.[시작] 메뉴를 선택한 다음 수행하여야 할 작업으로 옳은 것은?

- ① [제어판]-[폴더 옵션]을 누른 다음 '일반' 탭에서 '한 번 클릭해서 열기'를 선택하면 된다.
- ② [제어판]-[인터넷 옵션] 항목을 더블 클릭한 후 '일반' 탭에서 '웹 형식'을 클릭한다.
- ③ [제어판]-[액티브 데스크톱]-[웹 페이지 형식으로 보기]를 클릭한다.
- ④ 바탕 화면에서 마우스 오른쪽 버튼을 클릭하여 [속성]을 선택한 후 [웹] 탭에서 '액티브 데스크톱을 웹 페이지 형식으로 보기'로 설정한다.

18. 다음 중 전자우편에 대한 설명으로 옳지 않은 것은?

- ① 메일 계정이 있는 사용자간 편지를 주고받을 수 있는 서비스를 말한다.
- ② 메일을 주고받을 때는 송신자와 수신자가 동시에 인터넷에 연결되어 있어야만 가능하다.
- ③ 편지를 보낼 때 사용할 컴퓨터를 SMTP 서버라고 한다.
- ④ MIME은 멀티미디어 전자우편을 주고받기 위한 인터넷 메일 규약이다.

19. 동영상 전문가 그룹으로서 비디오 또는 오디오 압축에 관한 일련의 표준을 의미하는 것은?

- ① XML ② SVG
- ③ JPEG ④ MPEG

20. 다음은 네트워크 프린터를 설정하는 방법에 대한 설명이다. 설정 순서가 바르게 나열된 것은?

가) [프린터 및 팩스]에서 프린터 추가를 클릭하여 프린터 추가 마법사를 실행한다.
 나) 프린터 찾아보기를 선택한다.
 다) 네트워크 프린터 또는 다른 컴퓨터에 연결되어 있는 프린터를 선택한다.
 라) 공유 프린터 목록에서 연결할 프린터를 선택한다.
 마) 화면에 나오는 지시에 따라 프린터의 연결을 마치면 프린터 아이콘이 프린터 및 팩스 폴더에 표시된다.

- ① 나-다-라-마-가 ② 다-나-가-라-마
- ③ 가-다-나-라-마 ④ 마-가-나-다-라

2과목 : 스프레드시트 일반

21. 다음 중 함수에 대한 설명으로 옳지 않은 것은?

- ① COUNTA - 값이 있거나 비어있지 않은 셀의 개수를 구한다.
- ② DSUM - 데이터베이스의 필드에서 찾을 조건과 일치하는 값들의 합을 구한다.
- ③ LOWER - 문자열의 대문자를 모두 소문자로 변환한다.
- ④ COUNTIF - 데이터베이스 범위 내에서 조건에 맞는 숫자 데이터만의 개수를 구한다.

22. 다음 중 [데이터]-[필터]에서 조건 설정에 관한 설명으로 옳지 않은 것은?

- ① 문자열 데이터의 경우 와일드카드 문자(*,?)를 사용하여 조건을 설정할 수 있다.
- ② 고급 필터에서 다른 필드와의 결합을 OR 조건으로 지정하려면 조건을 모두 같은 행에 입력한다.
- ③ 자동 필터는 항목이나 백분율로 지정한 범위 안에 들어가는 행을 표시할 수 있다.
- ④ 고급 필터는 다양한 조건을 사용자가 직접 설정하여 추출할 수 있다.

23. 다음 중 워크시트에서 셀 포인터의 이동 및 범위를 설정하는 방법에 대한 설명으로 옳지 않은 것은?

- ① [A1] 셀로 이동할 경우에는 [Alt]+[Home] 키를 누른다.
- ② 행이나 열 단위를 지정할 경우에는 행 번호나 열 문자를 누른다.
- ③ [Shift] 키를 누른 채로 방향키를 이동하면 연속된 범위를 설정할 수 있다.
- ④ [F5] 키를 누른 후 이동할 셀 주소를 입력하여 셀 포인터를 이동할 수 있다.

24. 다음 중 입력 자료에 셀 서식의 표시 형식이 아래와 같이 지정되었을 경우의 결과로 옳지 않은 것은?

- ① 입력자료 : 2006/5/4
표시형식 : yy.m.d
결과 : 06.5.4
- ② 입력자료 : 0.57
표시형식 : 0#.#
결과 : 0.6
- ③ 입력자료 : 우리
표시형식 : @사랑
결과 : 우리사랑
- ④ 입력자료 : 8:5
표시형식 : hh:mm:ss
결과 : 00:08:05

25. 다음 그림과 같이 [C9] 셀에 =DSUM(A1:C7,C1,A9:A10) 함수를 입력했을 때 결과로 옳은 것은?

	A	B	C
1	이름	직급	상여금
2	장기동	과장	1,200,000
3	이승연	대리	900,000
4	김영신	차장	1,300,000
5	공경호	대리	850,000
6	한나리	사원	750,000
7	이미연	과장	950,000
8			
9	상여금		
10	>=1000000		

- ① 5,950,000 ② 2,500,000
- ③ 1,000,000 ④ 3,450,000

26. 다음과 같은 함수를 실행하였을 때 출력되는 결과 값으로 옳지 않은 것은?

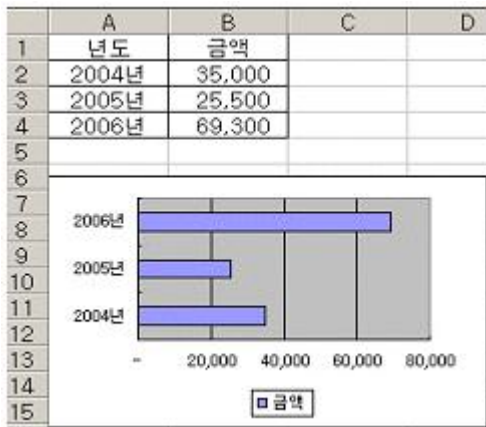
- ① =LEFT("700320-1234567",2) : 70
- ② =MID("Are You Busy?",5,3) : Bus
- ③ =INT(-5.6) : -6
- ④ =ROUND(3789459,-3) : 3789000

27. 다음은 [데이터]-[표]를 이용하여 세율 변화에 따른 매출액에 대한 세금을 계산한 결과이다. 이때 적용한 데이터 표의 내용으로 맞는 것은?

	A	B	C
1			
2	매출액	70000	
3	세율	9.5	
4			6650
5	세율 변화	7.5	5250
6		8.5	5950
7		10.5	7350
8		11.5	8050

- ① 행 입력 셀에 '\$B\$2'를 지정한다.
 ② 행 입력 셀에 '\$B\$3'을 지정한다.
 ③ 열 입력 셀에 '\$B\$2'를 지정한다.
 ④ 열 입력 셀에 '\$B\$3'을 지정한다.

28. 다음 중 아래 차트에 대한 설명으로 옳지 않은 것은?



- ① 표의 데이터를 수정하면 차트도 자동으로 수정된다.
 ② 마우스로 차트의 막대 크기를 변경하면 원본 데이터의 금액도 자동으로 변경된다.
 ③ 표의 [A5:B5] 셀에 새로운 데이터를 추가하면 차트에도 자동으로 추가된다.
 ④ 표의 [A3:B3] 셀과 [A4:B4] 셀 사이에 새로운 데이터를 삽입하면 차트에도 자동으로 삽입된다.

29. 워크시트 출력시 머리글 또는 바닥글에 페이지 번호가 포함되어 있을 경우, 시작 페이지 번호를 100으로 지정하려고 한다. 다음 중 설명이 옳은 것은?

- ① [페이지 설정]-[여백] 탭에서 [바닥글] 상자에 워크시트의 시작 페이지에 표시할 페이지 번호를 입력한다.
 ② [페이지 설정]-[페이지] 탭에서 [자동 맞춤]에서 [용지 높이]를 워크시트의 시작 페이지에 표시할 페이지 번호를 입력한다.
 ③ [페이지 설정]-[페이지] 탭에서 [시작 페이지] 상자에 워크시트의 시작 페이지에 표시할 페이지 번호를 입력한다.
 ④ [페이지 설정]-[설정] 탭에서 [시작 페이지] 상자에 자동이라고 입력한다.

30. 다음 중 워크시트에 데이터를 입력하는 방법에 대한 설명으로 옳지 않은 것은?

- ① 숫자 데이터를 문자로 입력하려면 숫자 앞에 큰 따옴표 (")기호를 붙여 입력한다.
 ② 여러 개의 셀에 동일한 데이터를 한 번에 입력하려면 범위를 설정한 후 데이터를 입력하고 [Ctrl]+[Enter] 키를 누른다.
 ③ 수식 또는 함수식을 입력할 때는 = 기호를 붙여 입력한다.

- ④ 입력 데이터가 숫자인 경우는 오른쪽, 문자는 왼쪽으로 자동 정렬된다.

31. 다음 중 부분합 기능에서 사용할 수 있는 함수 목록으로 옳지 않은 것은?

- ① 표준 편차 ② 곱
 ③ 수치 개수 ④ 순위

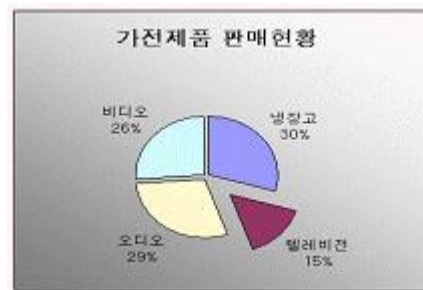
32. 다음 중 엑셀에서 작성할 수 있는 차트의 종류가 아닌 것은?

- ① 도식형 ② 도넛형
 ③ 원뿔형 ④ 방사형

33. 다음은 매크로 명령 중 반복 회수가 일정하지 않을 때 사용할 수 있는 반복 명령문으로 옳은 것은?

- ① Select ~ End Select ② Do ~ Loop
 ③ Sub ~ End Sub ④ If ~ End If

34. 다음 중 아래의 원형 차트에 설정된 서식에 포함되지 않은 것은?



- ① 데이터 레이블 ② 차트 제목
 ③ 범례 ④ 차트 영역 서식

35. 어떤 셀에 데이터 123을 입력하여, 다음과 같은 결과로 나타나려면 한다면 사용자 정의 서식을 다음 중 어느 것으로 설정해야 하는가?



- ① [DBNum1]G/표준 ② [DBNum2]G/표준
 ③ [DBNum3]G/표준 ④ [DBNum4]G/표준

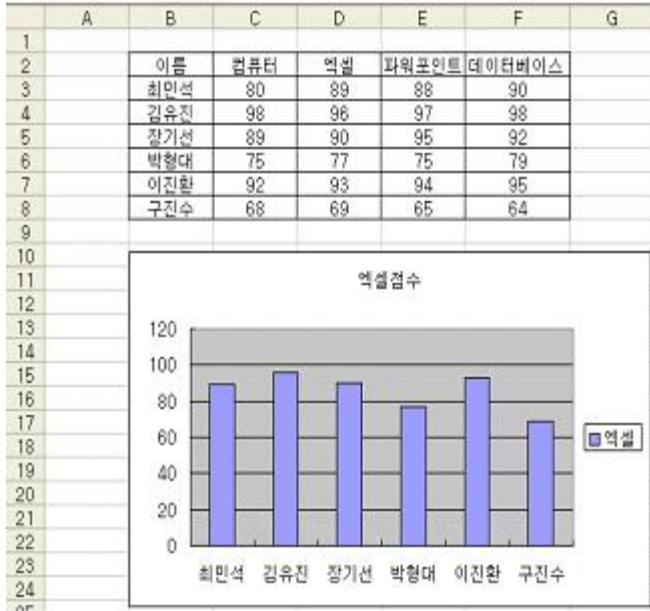
36. 다음 중 [삽입]-[이름]-[정의]에서 정의된 이름을 지정하는 규칙에 대한 설명으로 옳지 않은 것은?

- ① 첫 글자는 문자 또는 밑줄(_)이어야 한다.
 ② 중간에 공란이 포함되어서는 안 된다.
 ③ 소문자만 사용해야 한다.
 ④ 숫자만을 단독으로 사용하거나 셀 주소 형식으로는 사용할 수 없다.

37. Visual Basic 편집기에 대한 설명으로 옳지 않은 것은?

- ① 단축키 [Alt]+[F11]를 클릭하면 Visual Basic Editor가 실행된다.
 ② 작성된 매크로를 삭제할 수 없다.
 ③ 실행하고자 하는 매크로 구문 내에 커서를 위치시키고 단축키 [F5]를 클릭하면 매크로가 바로 실행된다.
 ④ 작성된 매크로를 한 단계씩 실행할 수 있다.

38. 아래와 같이 차트를 작성하기 위하여 설정해야 될 원본 데이터의 범위로 옳은 것은?



- ① B2:D8 ② C2:C8, D2:D8
 ③ B2:B8, D2:D8 ④ B2:B8, C2:C8

39. 채우기 핸들을 이용하여 '사장', '부장', '대리', '사원'을 자동으로 입력하려고 한다. 다음 중 설정 메뉴로 옳은 것은?

- ① [파일]-[등록정보]
 ② [삽입]-[이름]-[정의]
 ③ [편집]-[채우기]-[연속 데이터]
 ④ [도구]-[옵션]-[사용자 정의 목록]

40. 아래의 그림과 같이 [G]열과 [1] 행을 틀 고정 하려고 한다. 셀 포인터를 어디에 위치시킨 후 [창]-[틀 고정] 메뉴를 선택해야 하는가?

	G	H	I	J	K	L
1	총점	평소	중간	기말	결석	
2	93	20	34	19	20	
3	67	20	19	10	18	
4	73	20	27	10	16	
5	80	20	17	25	18	
6						

- ① [H2] 셀 ② [G2] 셀
 ③ [H1] 셀 ④ [G1] 셀

전자문제집 CBT PC 버전 : www.comcbt.com

전자문제집 CBT 모바일 버전 : m.comcbt.com

기출문제 및 해설집 다운로드 : www.comcbt.com/x

전자문제집 CBT란?

종이 문제집이 아닌 인터넷으로 문제를 풀고 자동으로 채점하며 모의고사, 오답 노트, 해설까지 제공하는 무료 기출문제 학습 프로그램으로 실제 시험에서 사용하는 OMR 형식의 CBT를 제공합니다.

PC 버전 및 모바일 버전 완벽 연동
 교사용/학생용 관리기능도 제공합니다.

오답 및 오답자가 수정된 최신 자료와 해설은 전자문제집 CBT에서 확인하세요.

1	2	3	4	5	6	7	8	9	10
③	④	①	③	④	②	②	③	④	②
11	12	13	14	15	16	17	18	19	20
①	①	②	①	③	④	①	②	④	③
21	22	23	24	25	26	27	28	29	30
④	②	①	④	②	②	④	③	③	①
31	32	33	34	35	36	37	38	39	40
④	①	②	③	①	③	②	③	④	①