

1과목 : 컴퓨터 일반

1. PC에서 리눅스와 Windows98을 같이 설치한 후, 처음 컴퓨터를 부팅할 때 원하는 운영체제를 선택하여 사용할 수 있다. 이와 같이하는 것을 무슨 부팅이라고 하나?  
 ① 더블 부팅                      ② 멀티 부팅  
 ③ 핫 부팅                          ④ 병렬 부팅
2. 현재 인터넷에서 사용되고 있는 IP주소 구조는 IPv4이다. 그러나 이 주소 체계는 IP 수가 부족하여 보완된 차세대 IP주소 구조인 IPv6가 사용될 예정이다. 이 차세대 IP주소 구조는 몇 비트로 구성되어 있나?  
 ① 32비트                              ② 64비트  
 ③ 128비트                            ④ 256비트
3. 다음 중 마우스 사용에 대한 설명으로 틀린 것은?  
 ① 클릭 중 마우스 왼쪽 버튼 클릭은 단축 메뉴를 불러온다.  
 ② 마우스의 동작은 클릭(Click), 더블 클릭(Double Click), 끌기(Drag), 드롭(Drop) 등이 있다.  
 ③ 더블 클릭은 마우스 왼쪽 버튼을 더블 클릭하여 해당 아이콘을 실행할 때 사용한다.  
 ④ 끌기는 해당 아이콘에 마우스를 두고 마우스 왼쪽 버튼을 누르며 이동하는 것을 말한다.
4. 특정 서비스를 제공하는 개인 소유의 통신망(network)으로, 일반적인 공중 네트워크에서는 쉽게 찾을 수 없는 정보나 서비스를 유료로 제공하는 형태의 통신망은?  
 ① ISDN                                ② LAN  
 ③ WAN                                 ④ VAN
5. 다음 글에 대한 설명으로 적합한 것은?  

전원이 계속 공급되더라도 주기적으로 재 충전되어야 기억된 내용을 유지할 수 있는 기억 소자이며, 회로가 비교적 간단하고 전력 소비가 적으며, 가격이 저렴하다. 집적도가 높기 때문에 대용량의 기억장치에 주로 사용된다.

 ① SDRAM(Static RAM)  
 ② DRAM(Dynamic RAM)  
 ③ PROM(Programmable ROM)  
 ④ EPROM(Erasable ROM)
6. 다음 중 컴퓨터의 처리 능력에 따른 분류에 속하지 않는 것은?  
 ① 마이크로 컴퓨터                ② 메인 프레임  
 ③ 범용 컴퓨터                        ④ 미니 컴퓨터
7. 다음은 제어판의 장치관리자 목록이다. LAN카드가 포함되어 있는 항목은?  
 ① 사운드, 비디오 및 게임 컨트롤러  
 ② 유니버설 직렬 버스(USB) 컨트롤러  
 ③ 포트 (COM & LPT)  
 ④ 네트워크 어댑터

8. 다음 중 보조 기억 장치에 해당하지 않는 것은?  
 ① RAM                                  ② CD-ROM  
 ③ 하드디스크                        ④ 자기 테이프
9. 다음 중 HTTP 프로토콜을 이용한 인터넷의 대표적인 서비스는?  
 ① FTP                                    ② mail  
 ③ WWW                                ④ Archie
10. 다음 중 기억 용량의 단위가 작은 것부터 큰 순서대로 표시된 것은?  
 ① PB-TB-GB-MB-KB                ② KB-MB-GB-TB-PB  
 ③ TB-MB-GB-KB-PB                ④ KB-GB-MB-TB-PB
11. 명령어로 구성되는 프로그램이 수행되기 위해서는 이 명령어들이 주기억장치 내에 존재해야한다. 이러한 방식을 무엇이라 하는가?  
 ① 컴파일러 방식                      ② 프로세서 방식  
 ③ 프로그램 내장 방식                ④ 임베디드 시스템 방식
12. 다음 중 컴퓨터 디스크의 인터페이스 방식에 해당되지 않는 것은?  
 ① IDE                                    ② EIDE  
 ③ SCSI                                  ④ AGP
13. 한글 Windows 98에서 바탕화면에 있는 아이콘들을 정렬하려고 한다. Windows 98에서 기본적으로 제공되는 정렬 방식으로 가장 거리가 먼 것은?  
 ① 이름                                    ② 내용  
 ③ 종류                                  ④ 크기
14. 다음 중 한글 Windows 98 부팅시 부팅 메뉴를 화면에 표시하고자 할 때 사용하는 키는?  
 ① [F4]                                    ② [F6]  
 ③ [F8]                                    ④ [F9]
15. 다음 그림은 내 컴퓨터의 창을 나타낸 것이다. 각 드라이브에 대한 설명으로 잘못된 것은?



- ① D 드라이브는 CD-ROM 드라이브로 네트워크 상에 공유되어 있다.
  - ② C 드라이브는 하드디스크 드라이브로 네트워크 상에 공유되어 있다.
  - ③ A 드라이브는 3.5인치 플로피 디스크 드라이브를 나타낸 것이다.
  - ④ A 드라이브는 네트워크 상에 공유되어 있지 않다.
16. 다음 글의 괄호 안에 적합한 것은?

한글 Windows 98의 (        )은 현재 사용중인 프로그램을 표시해 주거나 다른 프로그램으로 작업을 전환 시키는 목적으로 사용한다.

- ① 상태 표시줄                      ② 작업 표시줄  
③ 메뉴 표시줄                      ④ 제목 표시줄

17. 아래 그림과 같이 파일 목록을 출력하려면 보기 메뉴의 어느 항목을 선택해야 하는가?



- ① 큰 아이콘                      ② 작은 아이콘  
③ 간단히                      ④ 자세히

18. 다음 중 보안을 위한 기술을 의미하는 용어가 아닌 것은?

- ① 인증(Authentication)                      ② 암호화(Encryption)  
③ 방화벽(Firewall)                      ④ 해킹(Hacking)

19. 가정이나 회사에 설치되어 있는 전화회선을 통해 높은 주파수 대역으로 고속으로 정보를 전송하는 기술로 다운로드(download)와 업로드(upload)가 비대칭 구조를 가지며 같은 회선에 디지털 정보와 음성 정보를 동시에 보내는 서비스 기술은?

- ① ADSL                      ② ISDN  
③ MODEM                      ④ WLL

20. 다음 중 인터넷을 이용한 서비스가 아닌 것은?

- ① 윈Zip(winzip)                      ② 텔넷(telnet)  
③ WWW                      ④ FTP

## 2과목 : 스프레드시트 일반

21. 다음 중 워크시트 셀에 입력된 날짜 '2003-01-25'에서 연도만 추출하기 위한 함수는?

- ① YEAR()                      ② DATE()  
③ MONTH()                      ④ DAY()

22. 다음 중 엑셀에서 정렬에 관한 설명으로 틀린 것은?

- ① 기본적으로 행 단위로 정렬한다.  
② 데이터의 정렬 기준은 최대 3개까지 지정할 수 있다.  
③ 오름차순 정렬을 적용했을 때 영문자 'ABCD'가 한글 '가나다라' 보다 앞에 온다.  
④ 정렬 옵션은 영문자의 대소문자를 구분하여 정렬할 수

있는 기능이 있다.

23. 다음 중 데이터 입력에 관한 설명으로 틀린 것은?

- ① 셀 서식이 '일반' 상태에서 숫자를 괄호로 둘러싸면 음수로 인식한다.  
② 숫자와 문자가 혼합된 데이터가 입력되면 문자열로 입력된다.  
③ 한 셀에 두 줄 이상의 문자열을 입력할 때는 [Alt]+[Enter] 키를 누르고 입력하면 된다.  
④ 문자 데이터를 입력하면 자동으로 오른쪽으로 정렬된다.

24. 차트 도구모음 중 차트 영역 서식의 무늬, 글꼴, 속성 등을 지정하는 아이콘은?

- ①                       ②   
③                       ④ 

25. 다음 중 엑셀에서 저장 가능한 파일 형식의 확장자에 대한 설명으로 잘못된 것은?

- ① xls : 엑셀 통합 문서  
② xlk : 암호화된 통합 문서  
③ txt : 텍스트 문서  
④ htm : 웹 페이지 문서

26. 다음 중 엑셀의 페이지 설정 대화 상자에서 설정할 수 있는 작업이 아닌 것은?

- ① 용지의 크기                      ② 축소/확대 배율  
③ 글꼴의 크기 조정                      ④ 인쇄 영역 지정

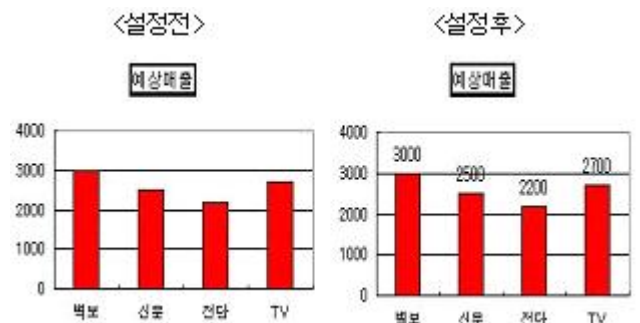
27. A1 셀의 데이터 값이 5 이상이면 우수, 5 미만이면 보통으로 나타내고자 할 때 올바른 함수식은 어느 것인가?

- ① =IF(A1<5,"우수","보통")  
② =IF(A1=>5,"우수","보통")  
③ =IF(A1>5,"우수","보통")  
④ =IF(A1>=5,"우수","보통")

28. A1 셀에 '회의비2002년지출' 이라는 문자열이 입력되어 있다. 여기에서 '2002년'이라는 문자열만을 뽑아내어 B2 셀에 담고자 한다. B2 셀에 알맞은 함수식은?

- ① =LEFT(A1,4,5)                      ② =MID(A1,4,5)  
③ =RIGHT(A1,4,5)                      ④ =ROUND(A1,4,5)

29. 다음과 같은 차트에서 데이터 계열에 데이터 값을 나타내고자 한다. 어떻게 설정해야 하는가?



- ① [차트]-[차트 옵션]-[데이터 레이블]-[이름표 표시]  
② [차트]-[차트 옵션]-[데이터 레이블]-[값 표시]

- ③ [도구]-[옵션]-[차트]

④ [도구]-[사용자 정의]-[옵션]
30. 다음 중 저장 옵션에서 암호에 대한 설명으로 옳지 않은 것은?

① 쓰기 암호는 대소문자를 구별하지 않는다.

② 암호 길이는 15자까지 사용할 수 있다.

③ 문자, 숫자, 기호 등을 사용할 수 있다.

④ 암호 입력시 열기 암호와 쓰기 암호로 구분된다.
31. 현재 작업중인 통합 문서에 3개의 워크시트(Sheet1, Sheet2, Sheet3)가 있다. 만약 시트 탭에서 Ctrl 키를 누른 채 Sheet1을 마우스 왼쪽 버튼을 눌러 Sheet3의 끝까지 끌어다 놓으면 새로 생성되는 워크시트의 이름은?

① Sheet1

② Sheet(1)

③ Sheet1(2)

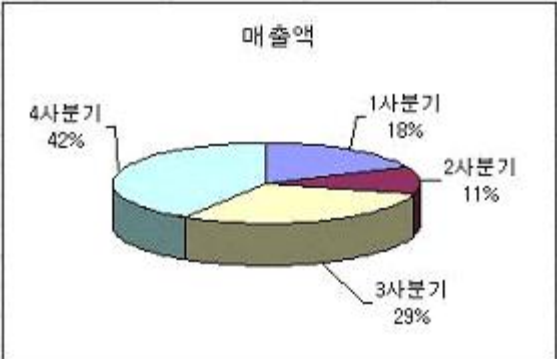
④ Sheet4
32. 다음 중 자동 서식에 관한 설명으로 잘못된 것은?

① 이 명령을 실행하면 스프레드시트에서 기본적으로 제공되는 서식을 적용한다.

② 자동서식을 지정할 수 있는 범위내의 셀 하나를 선택하고 자동 서식을 실행하면 그 셀을 둘러싼 범위가 자동으로 선택된다.

③ 옵션 기능이 있어 자동으로 적용할 서식 종류를 선택할 수 있다.

④ 시트가 보호되어 있어도 자동 서식을 지정할 수 있다.
33. 아래 차트에 대한 설명으로 잘못된 것은?



① 차트에 표시되어 있는 “매출액”은 X축 제목이다.

② 각 데이터에 대한 지시선과 백분율, 레이블이 표시되어 있다.

③ 이 원형 차트에는 범례가 표시되어 있지 않다.

④ 이 차트의 종류를 쪼개진 원형으로 변경할 수 있다.
34. 워크시트에 입력된 데이터 양이 너무 많아서 워크시트를 왼쪽이나 오른쪽, 위, 아래로 이동시킬 경우, 행이나 열 제목 표시줄도 같이 움직여 데이터를 구분하기 힘들게 된다. 이와 같은 문제를 해결할 수 있는 명령은 무엇인가?

① 창 고정

② 틀 정렬

③ 창 정렬

④ 틀 고정
35. 다음 중 설명이 잘못된 것은?

① 창 나누기는 워크시트를 여러 개의 창으로 분리하는 기능으로 최대 4개로 분할할 수 있다.

② 틀고정은 마우스로 끌어서 위치를 변경할 수 없다.

③ 창 나누기는 마우스로 끌어서 창의 위치를 변경할 수 없

- 다.

④ 메뉴 [창]-[나누기]를 선택하여 창 나누기를 한다.
36. 다음 중 함수식의 결과가 맞지 않는 것은?

① Round(12.874,2) -> 12.87

② Roundup(12.874,2) -> 12.87

③ Rounddown(12.874,2) -> 12.87

④ Int(12.874) -> 12
37. 다음 중 시트 이름 바꾸기에 대한 설명으로 옳지 않은 것은?

① 시트 이름에 공백을 포함하여 31문자까지 입력시킬 수 있다.

② 시트 이름을 더블 클릭한 후 새로운 이름을 입력한다.

③ 이름에 \*, /, ? 등의 문자를 사용할 수 있다.

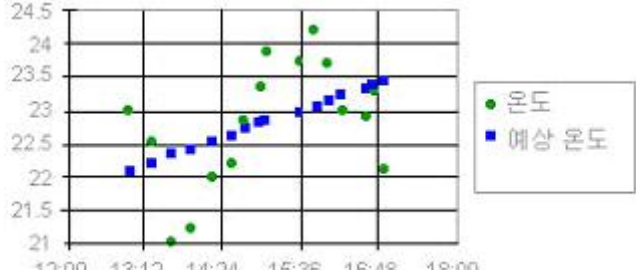
④ [서식]-[시트]-[이름 바꾸기] 메뉴를 선택한 후 새 이름을 입력한다.
38. 하나의 셀에 여러 줄의 문자를 입력하려고 할 때, 그 셀에 지정해 주어야 하는 셀 서식은 무엇인가?

① 셀 병합

② 채우기

③ 셀에 맞춤

④ 텍스트 줄 바꿈
39. 다음 차트는 어떤 종류의 차트인가?



① 분산형

② 거품형

③ 주식형

④ 방사형

40. 다음 중 행과 열을 숨기는 방법에 관한 설명으로 틀린 것은?

① 숨기고자 하는 행 번호를 선택하고 [행 높이] 대화상자에서 0을 입력한다.

② 숨기고자 하는 열 문자를 선택하고 [열 너비] 대화상자에서 -100%를 입력한다.

③ 숨기고자 하는 행 번호를 선택하고 [숨기기]를 클릭한다.

④ 연속되지 않는 행을 숨기기 위해서는 [Ctrl] 키를 조합하여 선택하고 [숨기기]를 클릭한다.

문제 해설 및 온라인 모의 테스트는 아래 사이트를 이용하세요.

해설 및 전자문제집(CBT) : [www.comcbt.com](http://www.comcbt.com)

1	2	3	4	5	6	7	8	9	10
②	③	①	④	②	③	④	①	③	②
11	12	13	14	15	16	17	18	19	20
③	④	②	③	①	②	④	④	①	①
21	22	23	24	25	26	27	28	29	30
①	③	④	①	②	③	④	②	②	①
31	32	33	34	35	36	37	38	39	40
③	④	①	④	③	②	③	④	①	②