

1과목 : 컴퓨터 일반

- 전세계의 거의 모든 표기문자를 표시하기 위하여 16비트를 사용하는 코드는?  
 ① 비씨디(BCD) 코드                      ② 아스키(ASCII) 코드  
 ③ 해밍(Hamming) 코드                  ④ 유니(Uni) 코드
- 한글 Windows의 탐색기 창에서 연속하는 범위 내의 아이콘을 [Shift] 키를 이용하여 선택하였다. 이 때 선택한 아이콘 중 일부만 해제하는 방법으로 맞는 것은?  
 ① [Alt] 키를 누른 채 선택된 아이콘을 클릭한다.  
 ② [Ctrl] 키를 누른 채 선택된 아이콘을 클릭한다.  
 ③ [Shift] 키를 두 번 연속 클릭한 후 선택된 아이콘을 클릭한다.  
 ④ 해제하고자 하는 아이콘을 마우스 오른쪽 버튼으로 클릭한다.
- 컴퓨터에 사용된 논리회로 소자의 변천 과정을 바르게 나타낸 것은?  
 ① 트랜지스터 → 진공관 → LSI → IC → VLSI  
 ② 트랜지스터 → 진공관 → IC → LSI → VLSI  
 ③ 진공관 → 트랜지스터 → LSI → IC → VLSI  
 ④ 진공관 → 트랜지스터 → IC → LSI → VLSI
- 다음 중 한글 Windows에서 파일 및 폴더를 이동시키는 방법으로 옳지 않은 것은?  
 ① 내 컴퓨터를 이용해서 파일 및 폴더 이동하기  
 ② 바로 가기 아이콘을 만들어 파일 및 폴더 이동하기  
 ③ 윈도우 탐색기를 이용해서 파일 및 폴더 이동하기  
 ④ 마우스를 이용해서 특정 파일 및 폴더 이동하기
- 월드 와이드 웹에서 사용하는 프로토콜로 하이퍼텍스트 문서를 송수신하기 위한 프로토콜은?  
 ① 플러그인(Plug-in)  
 ② CGI(Common Gateway Interface)  
 ③ HTTP(HyperText Transfer Protocol)  
 ④ FTP(File Transfer Protocol)
- 컴퓨터의 전원을 켜면 윈도우즈가 동작하기 전에 컴퓨터의 자기진단과 주변기기 등의 점검을 먼저 실시하게 된다. 이와 같은 기능을 하는 프로그램은?  
 ① KDOS                                      ② BIOS  
 ③ DOS                                        ④ WIN
- 윈도우 탐색기에서 파일의 이름, 크기, 종류, 수정한 날짜 등이 파일 영역에 표시되도록 하기 위한 보기메뉴의 선택으로 맞는 것은?  
 ① 큰 아이콘                                  ② 작은 아이콘  
 ③ 간단히                                      ④ 자세히
- 다음 중 데이터를 외부로부터 컴퓨터의 내부로 읽어 들어 주기억장치에 기억시키는 기능을 가진 입력 장치가 아닌 것은?  
 ① 키보드                                        ② 스피커  
 ③ 마우스                                        ④ 디지털 카메라
- 한글 Windows의 내 컴퓨터 창에 나타난 개체들을 모두 선택

하기 위한 방법으로 옳지 않은 것은?

- [Ctrl] 키와 [R] 키를 동시에 누른다.
  - 편집 메뉴에서 전체 선택 옵션을 이용하여 개체를 선택한다.
  - [Ctrl] 키와 [A] 키를 동시에 누른다.
  - 마우스를 끌어 내 컴퓨터 창에 나타나는 개체들을 모두 선택한다.
- 다음에 나열된 컴퓨터 중에서 휴대가 가능한 컴퓨터가 아닌 것은?  
 ① 데스크톱(DeskTop) 컴퓨터  
 ② 노트북(Notebpbk) 컴퓨터  
 ③ 랩톱(LapTop) 컴퓨터  
 ④ 팜톱(PalmTom) 컴퓨터
  - 다음 중 인터넷의 도메인(domain) 이름의 구성으로 옳지 않은 것은?  
 ① www.kccitest.or.kr                      ② www.bong.co.kr  
 ③ www.ibm.com                              ④ www.youn.co.com
  - 다음 중 삭제된 파일이 휴지통에 보관되어 있을 때 휴지통 비우기를 하는 이유는?  
 ① 임시 보관하였다가 재활용하기 위하여  
 ② 파일을 변경하기 위하여  
 ③ 저장장치에서 완전히 삭제하여 저장 공간을 확보하기 위하여  
 ④ 파일을 다른 곳으로 전송하기 위하여
  - 인터넷에 연결되어 있는 친구와 화상통신을 하며 정보를 주고받을 수 있도록 해주는 통신 서비스는?  
 ① 노트패드(Notepad)                      ② 넷미팅(Netmeeting)  
 ③ 메일링 리스트                              ④ Tracert
  - 한글 Windows에서 파일이나 폴더의 이름 바꾸기에 대한 설명으로 가장 옳지 않은 것은?  
 ① 다른 아이콘과는 달리 '휴지통'에 대해서는 일반적으로 '이름 바꾸기'를 실행할 수 없다.  
 ② Windows 탐색기에서 이름을 바꾸고자하는 폴더를 선택한 후 [파일] 메뉴에서 [이름 바꾸기]를 실행한다.  
 ③ \ : / \* ? " > < | 과 같은 문자는 영문자와 같이 사용하면 이름으로 사용할 수 있다.  
 ④ 이름을 바꾸고자 하는 폴더에서 마우스 오른쪽 버튼을 눌러 '이름 바꾸기'를 실행한다.
  - 다음에서 설명하는 용어로 가장 적절한 것은?

인터넷 웹 사이트와 인터넷 사용자 자신의 컴퓨터 사이에서 통신을 매개해 주는 정보로 인터넷 사용자가 웹 사이트 접속한 후 이 사이트내에서 어떤 정보를 읽고 어떤 정보를 남겼는지에 대한 정보가 사용자의 PC에 저장되며, 고의로 사용자의 정보를 빼낼 수 있는 통로 역할을 할 수도 있다.

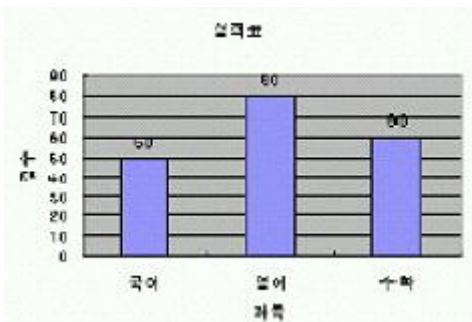
- 로밍    ② 쿠키
- 푸시    ④ 자바

- 다음 중 바탕화면의 배경으로 그림 파일을 지정하려고 한다. 가장 적합한 파일의 확장자는 무엇인가?

- ① PDF  
 ③ BMP
- ② TXT  
 ④ EXE
17. 다음 중 컴퓨터 제어장치의 구성요소가 아닌 것은?
- ① 명령계수기  
 ③ 누산기
- ② 명령해독기  
 ④ 번지해독기
18. 한글 Windows에 시작 단추가 있고 기본적으로 바탕화면의 아래쪽에 표시되는 막대로 단추를 클릭하여 사용 프로그램을 전환할 수 있는 것은?
- ① 작업 표시줄  
 ③ 제어판
- ② 프로그램 추가/삭제  
 ④ 내문서
19. 다음 중 인터넷 서비스를 제공하는 서버로서 가장 적절하지 않은 것은?
- ① 웹 서버(Web Server)  
 ③ 프린터 서버(Printer Server)  
 ④ FTP 서버(FTP Sever)
- ② 뉴스 서버(News Server)
20. 다음 기억장치 중 나머지 셋과 기능이 다른 하나는?
- ① CD-ROM  
 ③ 하드디스크
- ② DVD  
 ④ DRAM

2과목 : 스프레드시트 일반

21. 아래의 워크시트에서 평균이 60점 이상이면“합격” 그렇지 않으면 “불합격”으로 처리했다. 알맞은 수식은 무엇인가?
- ① =IF(E2>=60, "합격", "불합격")  
 ③ =IF(E2>=60, "불합격", "합격")  
 ④ =IF(F2>=60, "합격", E2<=60, "불합격")
- ② =IF(E2=>60, "합격", "불합격")
22. 다음 차트에서 설정되지 않은 옵션은 무엇인가?



- ① 데이터레이블 값 표시  
 ③ 축 제목
- ② 차트제목  
 ④ 범례
23. 다음 중 워크시트에 관한 설명으로 옳지 않은 것은?
- ① 엑셀에서 셀 주소 표기방법은 기본적으로 A1방식을 채택하고 있으나, [서식]-[셀] 메뉴에서 R1C1방식으로 변경할 수 있다.  
 ③ 시트 탭의 이름은 기본적으로 Sheet1, Sheet2, Sheet3 등으로 부여되지만 사용자가 임의로 변경할 수 있다.  
 ④ 통합문서에서 제공되는 워크시트의 수는 [도구]→[옵션]
- ② 하나의 워크시트는 A~IV까지의 256개의 열과 1~65,536까지 65,536개의 행으로 이루어져 있다.

메뉴의 일반 탭에서 최대255개까지 변경할 수 있다.

24. 다음 중 [인쇄 미리 보기] 메뉴를 선택한 상태에서 조정할 수 없는 작업은?
- ① 머리글/바닥글 영역 조정  
 ③ 행 크기  
 ④ 왼쪽/오른쪽 여백 조정
- ② 확대/축소 보기
25. 연속된 4개의 워크시트를 동시에 추가하는 방법으로 가장 적합한 것은?
- ① [Shift] 키를 누른 채로 열려 있는 통합 문서에 추가할 4개만큼 기존 워크시트 탭을 선택하고, 삽입 명령을 클릭한다.  
 ③ [Ctrl] + [Tab] 키를 누른 채로 열려 있는 통합 문서에 추가할4개만큼 기존 워크시트 탭을 선택하고, 삽입 명령을 클릭한다.  
 ④ [Alt] 키를 누른 채로 열려 있는 통합 문서에 추가할 4개만큼 기존 워크시트 탭을 선택하고, 삽입 명령을 클릭한다.
- ② [Tab] 키를 누른 채로 열려 있는 통합 문서에 추가할 4개만큼 기존 워크시트 탭을 선택하고 삽입 명령을 클릭한다.
26. 다음 중 숫자 데이터의 입력 형태에 관한 설명으로 틀린 것은?
- ① 숫자를 괄호에 둘러싸면(예:(3)) 음수로 인식한다.  
 ③ 분수는 날짜 서식과 구분하기 위해 혼합형(예: 0 1/2)으로 입력한다.  
 ④ 숫자에 2,324와 같이 콤마를 입력하면 문자형 데이터가 된다.
- ② 숫자 앞에-기호를 입력하면 음수로 인식한다.
27. 아래의 시트에서 [D4] 셀에 단가(W)와 수량을 곱하여 총액(W)을 구하고, [E4] 셀에 총액()을 [E2] 셀의 기준환율로 나누어 총액(\$)을 구하는 수식을 입력한 후, 채우기 핸들을 이용하여 [D5:E8] 영역의 값을 계산하려 한다. 이때 [D4] 셀과 [E4] 셀에 들어갈 수식으로 맞는 것은?

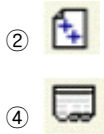
	A	B	C	D	E
1	매출표				
2					\$1,200
3	품목	단가(W)	수량	총액(W)	총액(\$)
4	A 상품	₩150,000	30	₩4,500,000	\$3,750
5	B 상품	₩120,000	50	₩6,000,000	\$5,000
6	C 상품	₩550,000	100	₩55,000,000	\$45,833
7	D 상품	₩750,000	45	₩33,750,000	\$28,125
8	E 상품	₩800,000	50	₩45,000,000	\$37,500

- ① =B4\*C4, =\$D\$4/E2  
 ③ =B\$4\*C\$4, =D4/\$E\$2
- ② =B4\*C4, =D\$4/\$E\$2  
 ④ =B4\*C4, =D4/\$E\$2
28. 다음은 어떤 종류의 차트를 설명한 것인가?

▶ 원형 차트가 하나의 계열을 가지는데 비해 이 차트는 다중 계열을 가질 수 있다.  
 ▶ 각 조각마다 별도의 색상을 설정할 수 있다.  
 ▶ 데이터 계열 서식에서 계열 순서를 변경할 수 있다.

- ① 쪼개진 원형 차트  
 ③ 도넛형 차트
- ② 원형 대 원형 차트  
 ④ 영역형 차트

29. 다음은 [페이지 설정]에서 바닥글이나 머리글에 인쇄하고자 할 때 사용하는 버튼들이다. 인쇄하고자 하는 전체 페이지 수를 표시하고자 할 때 사용하는 도구 아이콘은?



30. 자동서식에 대한 설명으로 옳지 않은 것은?

- ① 표 모양의 셀 범위에 빠르게 적용할 수 있도록 미리 만들어 둔 서식이다.
- ② 사용자가 새로운 자동서식을 추가 등록하거나 기존의 서식을 삭제할 수 있다.
- ③ 자동 서식을 적용하면 표시 형식, 글꼴, 맞춤, 테두리 등의 서식이 한 번에 변경된다.
- ④ [자동서식] 대화상자의 [옵션] 단추를 클릭하고 적용하지 않을 서식의 체크를 해제하면 해당 서식은 적용되지 않는다.

31. 차트마법사에 대한 설명으로 옳지 않은 것은?

- ① 차트마법사는 3단계에서 데이터레이블의 색을 설정한다.
- ② 차트마법사는 1단계에서 차트종류를 설정한다.
- ③ 차트마법사의 2단계에서 데이터의 범위, 계열위치를 설정한다.
- ④ 차트마법사의 4단계에서 차트를 삽입할 위치를 설정한다.

32. 다음 함수 'ROUNDUP(12.0812,2)'의 실행결과로 옳은 것은?

- ① 12.08                      ② 12.09  
③ 12.10                      ④ 12.00

33. 다음 차트도구의 각각의 명칭이 잘못된 것은?



- ① 차트 종류                      ② 범례  
③ 데이터 테이블                ④ 행

34. ○, ☆, ※, △ 등과 같은 특수 문자를 입력하고자 한다. 다음 설명 중 옳은 것은?

- ① [삽입]-[셀]을 사용하여 입력한다.
- ② [F7] 키를 누른 후 특수문자를 선택한다.
- ③ 한글 자음을 입력한 후 [한자]키를 눌러서 입력한다.
- ④ 한글 자음을 입력한 후 [F9] 키를 눌러서 입력한다.


35. 다음 중 엑셀에서 제공되는 함수에 대한 설명으로 옳지 않은 것은?

- ① MIN : 가장 작은 문자데이터를 구한다.
- ② ABS : 절대값을 구한다.
- ③ COUNT : 숫자가 들어 있는 셀의 개수를 구한다.
- ④ TODAY : 시스템의 오늘 날짜를 입력해 준다.


36. 다음 중 도구 아이콘에 대한 기능 설명으로 옳지 않은 것

011?



- ①  : 선택한 영역들의 셀들을 병합하고 가로 가운데 맞춤으로 정렬한다.



- ②  : 수치 영역을 범위로 설정하여 합계를 쉽게 계산할 수 있다.



- ③  : 셀 내용을 가로의 가운데 맞춤으로 정렬한다.



- ④  : 데이터를 가나다순으로 정렬한다.

37. 셀에 문자를 입력하다가, 셀의 범위를 벗어나는 경우에 같은 셀에서 강제로 줄 바꿈을 하려고 한다. 이때 사용하는 키는?

- ① [Tab] + [Enter]      ② [Ctrl] + [Enter]  
③ [Shift] + [Enter]    ④ [Alt] + [Enter]

38. 데이터관리 기능 중 필터 기능에 대한 설명으로 옳지 않은 것은?

- ① 필터 기능은 많은 양의 자료에서 설정된 조건에 맞는 자료만을 추출하여 나타내기 위한 기능이다.
- ② 필터 기능은 조건을 기술하는 방법에 따라 자동필터와 고급필터로 구분할 수 있다.
- ③ 필터를 사용하면 사용자에게 필요한 데이터만을 보이고, 나머지 데이터는 삭제된다.
- ④ 필터링된 레코드들은 목록에서처럼 편집될 수도 있고, 차트로 만들어질 수도 있다.

39. 다음 중 워크시트의 이름으로 알맞은 것은?

- ① Work-1                      ② Book?
- ③ Book\*2                      ④ Book/1

40. 다음 중 셀에 입력된 메모 표시에 대한 방법으로 옳지 않은 것은?

- ① 개별적으로 숨겨진 메모를 모두 다시 표시하려면 [보기] 메뉴에서 [메모]를 클릭한다.
- ② 메모가 입력된 셀의 [셀 서식]에서 '기타'를 선택한다.
- ③ 메모가 입력된 셀에서 오른쪽 마우스를 눌러 단축 메뉴에서 '메모 표시'를 선택한다.
- ④ 메모와 표식을 모두 나타내려면 [도구]-[옵션]을 선택하여 [화면 표시] 탭에서 '메모와 표식'을 클릭한다.

문제 해설 및 온라인 모의 테스트는 아래 사이트를 이용하세요.

해설 및 전자문제집(CBT) : [www.comcbt.com](http://www.comcbt.com)

1	2	3	4	5	6	7	8	9	10
④	②	④	②	③	②	④	②	①	①
11	12	13	14	15	16	17	18	19	20
④	③	②	③	②	③	③	①	③	④
21	22	23	24	25	26	27	28	29	30
①	④	①	③	①	④	④	③	②	②
31	32	33	34	35	36	37	38	39	40
①	②	①	③	①	④	④	③	①	②