

## 1과목 : 임의구분

- 배수 거리가 짧은 아파트 등에 별도의 통기관이 필요없이 배수를 회전시켜 공기 코어를 형성시켜서 배수와 통기를 실시하며 신장 통기관이 필요한 배수 통기방식으로 디플렉터와 브레이크실이 있는 배수 통기방식은?
  - 소벤트 방식(Sovent System)
  - 섹스티아 방식(Sextia System)
  - 구보타 방식(Kubota System)
  - 코지마 방식(Kogima System)
- 간접 가열식 중앙 급탕법에 대한 설명 중 잘못된 것은?
  - 가열용 코일이 필요하다.
  - 고압 보일러가 필요하다.
  - 대규모 급탕 설비에 적당하다.
  - 저탕조 내부에 스케일이 잘 생기지 않는다.
- 표준 대기압에서 일반적인 원심펌프의 실용적인 흡입양정으로 가장 적합한 것은?
  - 7 m
  - 10 m
  - 11 m
  - 15 m
- 급수펌프 시공시 25mm 흡입관을 설치하려 한다. 흡입구는 흡수면에서 다음 중 몇 mm 이상 물 속에 넣어 공기흡입을 방지해야 하는가?
  - 5
  - 15
  - 25
  - 50
- 드렌처 헤드의 설치시 방호할 면의 길이에 대한 외벽용 간격의 수직거리로 다음 중 가장 적합한 것은?
  - 15 m
  - 10 m
  - 7 m
  - 4 m 이하
- 저압 증기 난방에서 환수관이 고장난 경우 보일러의 물이 유출되는 것을 방지하기 위한 배관 연결법인 것은?
  - 리프트 피팅 연결법
  - 하드포드 연결법
  - 역환수식 배관법
  - 직접 리턴 방식
- 온수 난방의 장점 설명 중 잘못된 것은?
  - 유량을 제어하여 방열량을 조절할 수 있다.
  - 온수 보일러는 증기 보일러보다 취급이 용이하다.
  - 증기 트랩을 사용하지 않아서 고장이 적다.
  - 예열 시간이 짧아서 단시간에 사용하기 편리하다.
- 안전상 유류배관 설비의 기밀시험을 할 때 사용해서는 안되는 가스는?
  - 질소
  - 산소
  - 탄산가스
  - 암모니아
- 자동화 시스템에서 제어 테이터의 처리하는 요소로, 제어정보를 분석 처리하여 필요한 제어 명령을 내려주는 장치인 자동화의 5 대 요소 중 하나인 것은?
  - 센서(sensor)
  - 네트워크(network)
  - 프로세서(processor)
  - 소프트 웨어(software)
- 설비자동화 유압시스템 결함 중 압력이 저하하는 원인이 아닌 것은?
  - ① 펌프의 흡입이 불량하다.
  - ② 구동동력이 부족하다.
  - ③ 내부, 외부 누설이 증가하다.
  - ④ 탱크 내의 유면이 너무 높다.

- 옥상 탱크식 급수법의 양수관이 25A일때 옥상탱크의 오버플로관(over flow pipe)의 구경으로 가장 적당한 것은?
  - 25A
  - 50A
  - 75A
  - 100A
- 다음 중 통기관을 설치하는 가장 중요한 이유인 것은?
  - 실내의 환기를 위하여
  - 배수량의 조절을 위하여
  - 유독가스를 제거하기 위하여
  - 트랩 내 봉수를 보호하기 위하여
- 가스배관시 하천, 수로를 횡단하는 매설배관의 경우 독성가스 누출의 방지를 위해 이중관으로 시공해야할 가스 만으로 짝지은 것이 아닌 것은?
  - 암모니아, 염소
  - 포스겐, 산화에틸렌
  - 질소, 수소
  - 시안화수소, 황화수소
- 열 팽창에 의한 배관의 이동을 구속 또는 제한하는 역할을 하는 리스트레인트의 종류 중 배관의 일정방향의 이동과 회전만 구속하는 것으로 신축 이음쇠와 대압에 의해서 발생하는 축방향의 힘을 받는 곳에 사용하는 것은?
  - 스토퍼
  - 앵커
  - 스커트
  - 러그
- 기계의 진동 및 수격작용 등에 의한 진동을 완화시키기 위하여 다음 중 가장 적합한 것은?
  - 브레이스(Brace)
  - 앵커(Anchor)
  - 써포트(Support)
  - 콘스탄트 행거(constant Hanger)
- 전개시에 저항이 거의 없고, 고압에 견디는 구조이므로 간선관로(幹線管路)의 차단용으로 유체의 흐름을 단속하는 대표적인 밸브로서 가장 많이 사용하는 것은?
  - 다이어프램 밸브(diaphragm valve)
  - 글로브 밸브(globe valve)
  - 슬루스 밸브(sluiice valve)
  - 플랩 밸브(flap valve)
- 탄력있는 두루마리 형태의 매트(mat)로 만든 제품도 있으며 보온 단열 효과도 우수하며, 복원력이 뛰어나 운반 및 보관이 용이하게 포장되어 있어 건물의 보온 단열재와 산업용 흡음재로도 사용이 가능한 보온재는?
  - 규산칼슘
  - 폴리우레탄 폼
  - 그라스 울
  - 탄산 마그네슘
- 동관 이음쇠의 한쪽은 안쪽으로 동관을 삽입접합되고, 다른 쪽은 암나사를 내어 강관에는 숫나사를 내어 나사이음하게 되는 경우에 필요한 동합금 이음쇠는?
  - C × F 아답터
  - Ftg × F 아답터
  - C × M 아답터
  - Ftg × M 아답터

19. 인장강도  $50 \text{ kgf/mm}^2$ 이고, 사용압력이  $60 \text{ kgf/cm}^2$ 이라면 스케줄번호로 가장 적합한 것은? (단, 허용응력은 인장강도에 대하여 안전율이 5 이다)

- ① 30                      ② 40  
③ 60                      ④ 80

20. 동관의 두께별 분류 중 두께가 가장 두꺼운 것은?

- ① P형                      ② L형  
③ M형                      ④ K형

### 2과목 : 임의구분

21. 낮은 곳에 있는 응축수를 높은 곳에 올리거나 환수관에 응축수를 저장하는 일이 없이 중력으로 저압 보일러에 환수할 때 리턴 트랩으로 사용하는 것은?

- ① 버킷형 트랩(bucket type trap)  
② 부자형 트랩(float type trap)  
③ 리프트 트랩(lift type trap)  
④ 임펄스형 트랩(impulse type trap)

22. 프리스트레스(pre-stress) 콘크리트관의 특징 설명으로 가장 적합한 것은?

- ① 강선을 인장해서 붙인 뒤 원주방향으로 압축응력을 부여한 관이다.  
② 강재형틀에 원심력을 주어 콘크리트를 투입하여 콘크리트를 균일하게 다져준 관이다.  
③ 철근을 보강한 콘크리트관으로 진동기나 다짐기계를 사용한다.  
④ 석면과 시멘트를 1:5~1:6 비율로 배합하여 만든 관이다.

23. 다음 중 경질 염화비닐관이 강관보다 우수한 점은?

- ① 열팽창율이 적다.  
② 충격강도가 크다.  
③ 관내 마찰손실이 적다.  
④ 저온 및 고온에서의 강도가 크다.

24. 배관을 유입구를 포함하여 네 방향으로 분기하는 부속 재료명은?

- ① 크로스                      ② 벤드  
③ 플러그                      ④ 니플

25. 연단에 아마인유를 배합하여 사용하는 페인트는?

- ① 광명단 도료                      ② 산화철 도료  
③ 알미늄 도료                      ④ 합성수지 도료

26. 다음 중 공조 설비와 관련된 습공기 이론에서 건구온도, 습구온도, 노점온도가 동일한 경우는?

- ① 절대 습도 100 %                      ② 상대 습도 100 %  
③ 절대 습도 50 %                      ④ 상대 습도 50 %

27. 비중 1.2 의 유체를  $4 \text{ m}^3/\text{min}$  유량으로 높이 12 m 까지 올리려면 펌프의 동력은 약 몇 kW 가 필요한가?

- ① 9.41                      ② 10.14  
③ 11.2                      ④ 15.01

28. 안지름 100 mm 인 관속을 매초 2.5 m 의 속도로 물이 흐르고 있을 때 단위 시간당 흐르는 물의 유량은 약 몇  $\text{m}^3/\text{hr}$  인가?

- ① 70.69                      ② 78.54  
③ 706.9                      ④ 785.4

29. 다음 중 파이프 바이스의 크기를 나타내는 것은?

- ① 최대로 물릴 수 있는 관의 지름치수  
② 조오의 폭  
③ 조오의 길이  
④ 바이스의 전장

30. 스텐레스 강관 MR 조인트에 관한 설명으로 올바른 것은?

- ① 프레스 공구가 필요하나, 관의 강도는 100% 활용할 수 있다.  
② 스패너 이외의 특수한 접속 공구가 필요하다.  
③ 청동제 이음쇠를 사용하여도 다른 강관과는 자연 전위차가 있어 부식의 문제가 있다.  
④ 청동제 이음쇠를 사용하므로 관내 수온 변화에 의한 이완이 없다.

31. 주철관의 소켓 접합시 급수관에서 안의 삽입 길이를 소켓 깊이의 얼마만큼 삽입하여야 하는가?

- ① 소켓의 1/2                      ② 소켓의 1/3  
③ 소켓의 2/3                      ④ 소켓의 3/4

32. 가스용접 시작 전에 점검해야 할 사항 중 안전 관리상 가장 중요한 사항은?

- ① 아세틸렌 가스 순도를 점검한다.  
② 안전기의 수위를 점검한다.  
③ 재료와 비교하여 토치를 점검한다.  
④ 산소 용기의 잔류 압력을 점검한다.

33. 다음 중 T자 모양으로 연결하기 위하여 직관에서 구멍을 내고 관을 분기할 때 사용하는 동관용 주공구는?

- ① 싸이징 투울(sizing tool)  
② 플레어링 툴 (flaring tool)  
③ 익스팬더(expander)  
④ 엑스트랙터(extractor)

34. 일반적으로 호칭지름 50mm 이하의 폴리에틸렌 관의 이음 방법으로 관지름이나 관 두께가 커질수록 클립의 체결력이 약하며 접합강도가 불충분한 이음인 것은?

- ① 인서트 이음                      ② 열간이음  
③ 플랜지 이음                      ④ 테이퍼 코어이음

35. 1 시간에  $100^\circ\text{C}$ 의 물  $15.65 \text{ kg}$ 을 전부 증기로 만들려면 약 몇 kcal/h 필요한가?

- ① 3320                      ② 6683  
③ 8435                      ④ 8515

36. 콘크리트관의 콤포 이음시 시멘트와 모래의 배합인 콤포의 배합비와 수분의 양으로 가장 적합한 것은?

- ① 1 : 2 이고 수분의 양은 약 17%  
② 1 : 1 이고 수분의 양은 약 17%




- ③ 1 : 2 이고 수분의 양은 약 50%  
 ④ 1 : 1 이고 수분의 양은 약 50%
37. 고무링을 압륜으로 죄어 볼트로 체결한 것으로 굽힘성이 풍부하여 다소의 굴곡에도 누수가 없고, 작업이 간편하여 수중에서도 용이하게 접합할 수 있는 주철관의 접합법인 것은?  
 ① 소켓 접합                      ② 기계적 접합  
 ③ 빅토릭 접합                  ④ 플랜지 접합
38. 도관의 접합방법에 관한 설명 중 틀린 것은?  
 ① 도관 접합에는 마(yarn)를 삽입하고 몰탈을 바르는 방법과 몰탈 만 바르는 접합법이 있다.  
 ② 접합할 때 허브(hub)쪽을 상류로 향하게 하여 관이 이동되지 않도록한다.  
 ③ 허브와 소켓을 일직선으로 맞춘 다음 수평기로 구배를 맞추고 몰탈 접합한다.  
 ④ 도관은 매설 배관이므로 접합부 윗부분에 만 몰탈을 채우면 몰탈이 턱속으로 흘러 아래까지 들어간다.
39. 용접에서 피복재의 중요한 작용이 아닌 것은?  
 ① 용착 금속을 보호한다  
 ② 아크를 안정하게 한다  
 ③ 스파터링을 적게 한다  
 ④ 용착 금속을 급냉시킨다
40. 정격 2차전류가 200A, 실제 사용전류가 150A 일 때, 정격 사용률 40%인 용접기의 실제 허용 사용률은 몇 % 인가?  
 ① 71                                  ② 65  
 ③ 58                                  ④ 54

**3과목 : 임의구분**

41. 다음 용접법 중 아크 용접으로 분류되는 것은?  
 ① TIG 용접 및 MIG 용접                  ② 엘렉트로 슬래그 용접  
 ③ 프로젝션 용접                              ④ 초음파 용접
42. 방사선 투과시험(RT)의 장점 중 틀린 것은?  
 ① 두께의 크기에 관계없이 검사할 수 있다.  
 ② 자성의 유무에 관계없이 검사할 수 있다.  
 ③ 표면상태의 양부에 관계없이 검사할 수 있다.  
 ④ 미소균열(micro crack)에 관계없이 검사할 수 있다.
43. 용접이음부에 발생하는 용접결함 중 모서리 이음, T 이음등에서 볼 수 있는 것으로 강의 내부에 모재의 표면과 평행하게 층상으로 발생되는 것은?  
 ① 크레이터 균열(Crater crack)  
 ② 라미네이션 균열(Lamination crack)  
 ③ 심과 램(Seam and lap)  
 ④ 라멜라테어 균열(Lamellar tear crack)
44. 피복 아크 용접에서 직류 정극성(DCSP)에 관한 특성으로 틀린 것은?  
 ① 모재의 용입이 깊다.  
 ② 봉의 용융이 낮다.  
 ③ 비드 폭이 넓다.

- ④ 일반적으로 중판 이상에 많이 쓰인다.

45. 기준선(그 지방 해수면)으로 부터 설치 파이프 바깥 지름의 일부분까지 높이가 3.5 m 일 때 나타내는 기호로 적합한 것은?

- ①  $GL + 3500$  TOP   
 ②  $EL + 3500$  BOP   
 ③  $GL + 3500$  BOP   
 ④  $EL + 3500$  TOP 





46. 파이프 표면에 파랑색이 칠해져 있는 경우 파이프 내의 유체는?

- ① 물    ② 증기  
 ③ 공기                                      ④ 가스

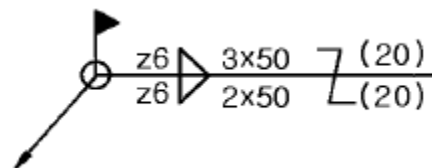
47. 라인 인덱스(line index)에서 보냉, 보온, 화상방지 등을 필요로 할 때의 사용기호 중 보냉을 표시하는 기호는?

- ① CPP                                      ② INS  
 ③ PP                                        ④ CINS

48. KS 배관 도시 기호 중 유체의 역류 방지용 체크 밸브에 대한 기호로 맞는 것은?

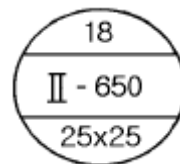
- ①                   ②   
 ③                   ④ 

49. 보기와 같은 용접 기호의 설명으로 올바른 것은?



- ① ○ : 현장 용접  
 ② z6 : 목 두께 6mm  
 ③ 2 × 50 : 루트간격과 용접부 길이  
 ④ (20) : 인접한 용접부 간의 거리(피치)

50. 보기와 같은 방열기를 나타낸 기호를 올바르게 설명한 것은?



- ① 두 기둥이며, 지름은 18mm  
 ② 두 기둥형이며 높이는 650mm  
 ③ 지름은 18mm이며 절수는 2개



전자문제집 CBT PC 버전 : [www.comcbt.com](http://www.comcbt.com)  
 전자문제집 CBT 모바일 버전 : [m.comcbt.com](http://m.comcbt.com)  
 기출문제 및 해설집 다운로드 : [www.comcbt.com/x](http://www.comcbt.com/x)

전자문제집 CBT란?

종이 문제집이 아닌 인터넷으로 문제를 풀고 자동으로 채점하며  
 모의고사, 오답 노트, 해설까지 제공하는 무료 기출문제 학습 프  
 로그램으로 실제 시험에서 사용하는 OMR 형식의 CBT를 제공합  
 니다.

PC 버전 및 모바일 버전 완벽 연동  
 교사용/학생용 관리기능도 제공합니다.

오답 및 오탈자가 수정된 최신 자료와 해설은 전자문제집 CBT  
 에서 확인하세요.

1	2	3	4	5	6	7	8	9	10
②	②	①	④	④	②	④	②	③	④
11	12	13	14	15	16	17	18	19	20
②	④	③	①	①	③	③	①	③	④
21	22	23	24	25	26	27	28	29	30
③	①	③	①	①	②	①	①	①	④
31	32	33	34	35	36	37	38	39	40
②	②	④	①	③	②	②	④	④	①
41	42	43	44	45	46	47	48	49	50
①	④	②	③	②	①	④	④	④	②
51	52	53	54	55	56	57	58	59	60
①	④	②	④	②	③	②	②	③	③