

## 1과목 : 산업안전관리론

1. 재해방지를 위한 안전관리 조직의 목적이 아닌 것은?

- ① 위험요소를 제거
- ② 기업의 손실을 근본적으로 방지
- ③ 재해방지 기술의 수준 향상
- ④ 단위당 예방비용의 절감

2. 상시 근로자 100명인 사업장에서 1년간 6건의 부상자를 내고 그 휴업일수가 총 219일이라면 강도율은?(단, 1일 8시간씩, 300일 근무함.)

- ① 0.25                      ② 0.50
- ③ 0.75                      ④ 1.25

3. 무재해운동의 기본이념의 3대 원칙에 들어가지 않는 내용은 무엇인가?

- ① 무재해 무질병의 이념
- ② 직장 소집단 자주활동의 이념
- ③ 사업체 전원이 참가하여 문제해결 행동을 실천하는 이념
- ④ 일체의 직장위험 요인을 사전에 발견하여 해결하는 이념

4. 무재해운동 이념의 3원칙 중 선취원칙을 가장 잘 설명한 것은?

- ① 작업의 잠재 위험요인을 전원이 발견하자.
- ② 무재해, 무질병의 직장을 실현하기 위하여 위험요인을 행동하기전에 발견,예방 하자.
- ③ 직장 일체의 위험잠재요인을 적극적으로 발견,무재해를 만들자.
- ④ 과거 재해가 발생하였던 것을 참고로 하여 다시는 재해가 발생하지 않도록 운동하자.

5. 안전조직 형태 중 직계(라인)형의 특징은?

- ① 독립된 안전참모조직을 보유하고 있다.
- ② 대규모의 사업장에 적합하다.
- ③ 안전지시나 명령이 신속히 수행된다.
- ④ 안전지식이나 기술축적이 용이하다.

6. 안전점검의 종류가 아닌 것은?

- ① 정기점검                      ② 순회점검
- ③ 특별점검                      ④ 수시점검

7. 3E 대책은 Harvey.J.H가 제창한 것으로 Heinrich의 사고예방 원리 5단계 중 어느 단계와 연관되는가?

- ① Analysis                      ② Organization
- ③ Adaption of Remedy                      ④ Fact Finding

8. Heinrich가 사고원인의 분류에서 부원인(Subcause)으로 분류한 것은?

- ① guard의 미비                      ② 위험한 배열
- ③ 불안정한 공정                      ④ 이기적인 불협조

9. 재해 발생 건수등의 추이를 파악하여 목표 관리를 행하는 데 필요한 통계 분석 방법은?

- ① 퍼레이드 도                      ② 특성 요인도
- ③ 클로즈 분석도                      ④ 관리도

10. 다음 중 안전모의 성능시험 방법으로서 적당하지 않은 것은?

- ① 내관통성(耐貫通性) 시험                      ② 충격흡수성 시험
- ③ 내전압성(耐電壓性) 시험                      ④ 통기저항(通氣抵抗) 시험

11. 다음 안전조직중 스텝(staff) 형식의 장점이 아닌 것은?

- ① 안전계획입안의 전문화                      ② 안전정보수집의 신속화
- ③ 안전지시, 명령의 신속화                      ④ 경영자의 조언과 자문역할

12. 산업안전표지의 종류중 금지표지가 아닌 것은?

- ① 출입금지                      ② 사용금지
- ③ 물체이동금지                      ④ 방진마스크 착용금지

13. 안전 점검표의 판정기준 작성에 적용기준으로 가장 거리가 먼 것은?

- ① 안전관계 법령                      ② 기술 지침
- ③ 기업의 자율적 안전기준                      ④ 재해 통계 분석

14. 작업자가 무심코 걸다가 크레인의 매단짐에 정통으로 부딪쳐 사망하였다. 이 때의 기인물과 가해물, 사고 발생 형태가 올바르게 짝지워진 것은?

- ① 기인물:매단짐, 가해물:크레인, 사고발생형태:비례
- ② 기인물:크레인, 가해물:매단짐, 사고발생형태:충돌
- ③ 기인물:매단짐, 가해물:크레인, 사고발생형태:전도
- ④ 기인물:매단짐, 가해물:매단짐, 사고발생형태:낙하

15. 다음의 자체검사의 분류중 검사방법에 의한 분류에 속하지 않는 것은?

- ① 육안검사                      ② 규격검사
- ③ 기기에 의한 검사                      ④ 시험에 의한 검사

16. 작업표준을 정하는 목적으로 거리가 먼 것은?

- ① 위험요인 제거                      ② 손실요인 제거
- ③ 작업의 효율화                      ④ 위험예지 능력 활성화

17. 하인리히(H.W.Heinrich)재해사고의 5단계 계열에서는 어느 재해사고 요소에 대해서도 선행요인에 의해서 일어나고 사고의 발생은 이들요인이 겹쳐 연쇄적으로 생긴다. 이러한 5단계 계열에 속하지 않는 것은?

- ① 사고                      ② 인적결함
- ③ 교육부족                      ④ 사회환경 및 유전적 요소

18. 안전관리자의 직무에 해당하는 것은?

- ① 산업재해 발생의 원인조사 및 대책 수립
- ② 작업방법의 공학적, 위생적 개선
- ③ 작업환경의 측정 및 평가
- ④ 작업장내의 산업위생 시설의 점검 및 개선

19. 안전사고 방지 기본원리 5단계 중 제2단계인 사실의 발견 단계에서 하여야 할 일로서 적당하지 않은 것은?

- ① 현장조사                      ② 작업분석
- ③ 점검 및 검사                      ④ 사고조사

20. 안전 대책의 우선 순위를 결정할 때 고려하여야 하는 4가지의 기본 사항이 아닌 것은?

- ① 목표 달성에 대한 기여도 ② 대책의 긴급성  
③ 대책의 난이성 ④ 대책의 시행에 따르는 경비

**2과목 : 산업심리 및 교육**

21. Maslow(매슬로우)는 인간의 욕구를 5단계로 분류하였다. 그 중 안전의 욕구(safety and security needs)는 몇 단계에 해당되는가?  
① 1단계 ② 2단계  
③ 3단계 ④ 4단계
22. 카리스마적 리더의 주요한 특성으로 적합하지 않은 것은?  
① 비전제시 능력 ② 보상제공 능력  
③ 개인적 매력 ④ 수사학적 능력
23. 안전의식 고취방법으로 효과가 가장 없는 사항은?  
① 안전교육 실시 ② 안전포스터 부착  
③ 안전경진대회 개최 ④ 안전규칙에 관한 책자 배포
24. 학습목적에 포함되어야 하는 요소는 어느 것인가?  
① 학습성과 ② 학습방법  
③ 학습정도 ④ 학습자료
25. 스트레스에 영향을 미치는 직무관련 요인이 아닌 것은?  
① 역할 갈등 ② 역할 상충  
③ 역할 모호성 ④ 역할 과중
26. 조직이 지도자에게 부여한 권한이 아닌 것은?  
① 합법적 권한 ② 강압적 권한  
③ 보상적 권한 ④ 전문성의 권한
27. 1920년대 실시된 호손 연구의 결과와 가장 관련이 있는 것은?  
① 테일러리즘의 강화  
② 종업원 선발의 중요성 재고  
③ 작업장의 물리적 환경 개선  
④ 인간적 상호작용의 중요성
28. 강의법에 대한 설명으로 옳은 것은?  
① 수업의 중간이나 마지막단계  
② 학급인원수의 크기에 제약을 받음  
③ 학생들의 참여가 제약됨  
④ 학생대 교사의 비율이 높음
29. 산업훈련에서 연습의 중요성은 매우 크다. 충분히 연습해서 완전하고 올바른 행동을 학습한 후에도 일정량의 연습을 계속하면 그 행동이 거의 반사적으로 일어나게 해준다. 이를 나타내는 개념은?  
① 자동운동 효과 ② 초과학습  
③ 자발적 회복 ④ 행동 조성
30. 안전교육에 단계별 특징 가운데 기능교육의 특징과 거리가 먼 것은?  
① 교육기간이 길다.  
② 작업동작을 표준화 시킨다.

- ③ 작업능력 및 기술능력을 부여한다.  
④ 다수인원에 대한 교육이 가능하다.

31. 안전교육의 직접적 필요성에 해당되지 않는 것은?  
① 누적된 지식의 활용을 통한 사업장 안전추구  
② 생산기술 및 안전시책의 변화에 대한 보완  
③ 반복교육으로 정착화  
④ 작업 방법의 개선을 통한 생산지연 방지
32. 반응시간이 가장 짧은 감각은?  
① 청각 ② 시각  
③ 미각 ④ 통각
33. 다음 중 매슬로우의 "욕구의 위계이론"에 대한 설명은?  
① 하위단계의 욕구가 충족되어야 더 높은 단계의 욕구가 발생한다.  
② 개인의 동기는 다른 사람과의 비교를 통해 결정된다.  
③ 어렵고 구체적인 목표가 더 높은 수행을 가져온다.  
④ 인간은 먼저 자아실현의 욕구를 충족시키려고 한다.
34. 학과교육의 4단계법 중 제2단계는?  
① 제시 ② 도입  
③ 확인 ④ 적용
35. 하버드학파의 학습지도법에 속하지 않는 것은?  
① 지시한다. ② 준비시킨다.  
③ 교시한다. ④ 총괄한다.
36. 직무수행평가를 위해 개발된 척도 가운데 척도상의 점수에 그 점수를 설명하는 구체적 직무행동 내용이 제시된 평정척도는?  
① 행동기준평정척도(BARS) ② 행동관찰척도(BOS)  
③ 행동기술척도(BDS) ④ 행동내용척도(BCS)
37. 다음의 부주의 현상 중 phase I 의 의식수준에 기인한 것은?  
① 의식의 과잉 ② 의식의 단절  
③ 의식의 우회 ④ 의식수준의 저하
38. 주의에 대한 설명으로 틀린 것은?  
① 주의 집중은 리듬을 가지고 변한다.  
② 주의력을 강화하면 기능은 저하된다.  
③ 많은 것에 동시에 주의를 기울일 수 없다.  
④ 주의는 중심에서 좌우로 벗어나면 급격히 저하된다.
39. 다음 중 직무분석을 통해 얻은 정보가 일반적으로 활용되지 않는 상황은?  
① 인사선발 ② 교육  
③ 직무수행평가 ④ 팀빌딩
40. 기업경영 조건 중 우선순위가 단계적으로 배열된 것은?  
① 안전 - 품질 - 생산 ② 품질 - 안전 - 생산  
③ 생산 - 안전 - 품질 ④ 안전 - 생산 - 품질

3과목 : 인간공학 및 시스템안전공학

41. 인간-기계 시스템 설계 시 인간공학적 설계의 일반적인 원칙에 해당되지 않는 것은?
- ① 인간의 특성을 고려한다.
  - ② 작업특성에 적합하여야 한다.
  - ③ 시스템을 인간의 예상과 양립시킨다.
  - ④ 표시장치나 제어장치의 중요성, 사용빈도, 사용순서, 기능에 따라 배치하도록 한다.

42. 작업표준의 작성시 검토할 사항이 아닌 것은?

- ① 동작의 순서를 바르게 한다.
- ② 동작의 수는 될 수 있는대로 적게한다.
- ③ 작업대나 의자의 높이를 반드시 낮게한다.
- ④ 원자재 가공물등을 움직일 때에는 되도록 중력을 이용한다.

43. FMEA의 실시 순서중 1단계인 대상 시스템의 분석 내용과 관계가 없는 것은?

- ① 기본방침 결정
- ② 고장 형태의 예측과 설정
- ③ 기능 block과 신뢰성 block의 작성
- ④ 기기 시스템의 구성 및 기능의 전반적 파악

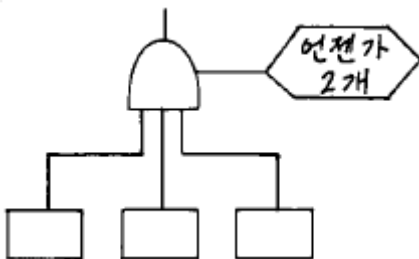
44. 시스템 안전분석에 이용되는 전형적인 정성적, 귀납적 분석 방법으로서, 서식이 간단하고 비교적 적은노력으로 특별한 훈련없이 분석이 가능하다는 장점을 가지고 있는 기법은?

- ① CA(criticality analysis)
- ② FMEA(failure modes and effects analysis)
- ③ FTA(fault tree analysis)
- ④ ETA(event tree analysis)

45. 정지조정(static reaction)에서 문제가 되는 것은?

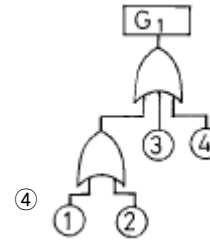
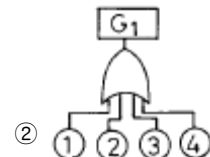
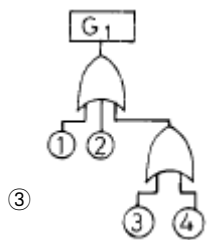
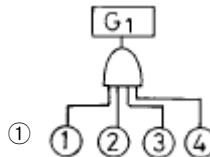
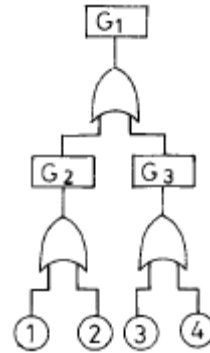
- ① 진전(tremor)
- ② 전도(overturn)
- ③ 동요(agitation)
- ④ 요동(Alame back)

46. 결함수 상의 다음 그림의 기호는?



- ① 우선적 AND게이트
- ② 조합 AND게이트
- ③ AND게이트
- ④ 배타적 AND게이트

47. 아래 그림의 결함수를 간략히 한 것은?



48. 인간의 식별기능에 영향을 주는 외적요인이 아닌 것은?

- ① 사람의 개인차
- ② 색채의 사용과 조명
- ③ 물체와 배경간의 대조도
- ④ 대소규격과 주요 세부사항에 대한 공간의 배분

49. 체계 설계에서 인간공학의 가치와 관계가 가장 먼 것은?

- ① 인력 이용율의 향상
- ② 훈련 비용의 절감
- ③ 체계제작비의 절감
- ④ 사고 및 오용으로부터의 손실 감소

50. 인간공학의 연구를 위한 수집자료 중 자극에 대한 반응시간과 같은 것은 어느 유형으로 분류되는 자료라 할 수 있는가?

- ① 생리지수
- ② 주관적 자료
- ③ 신체적 특성
- ④ 성능 자료

51. 설계단계의 위험 및 운용성 검토에서 일반적으로 위험을 억제하기 위한 직접적조치와 거리가 먼 것은?

- ① 공정의 변경(방법,원료등)
- ② 생산목표의 변경
- ③ 공정조건의 변경(압력,온도등)
- ④ 작업방법의 변경

52. 고음은 멀리 가지 못한다. 300m이상의 장거리용 신호는 몇 Hz이하의 진동수를 사용하여야 하는가?

- ① 500Hz
- ② 1000Hz
- ③ 3000Hz
- ④ 5000Hz

53. 조사연구자가 특정한 연구를 수행하기 위해서는 어떤 상황에서 실시할 것인가를 선택하여야 한다. 즉, 실험실 환경에서도 가능하고 실제 현장 연구도 가능하다. 이중 현장연구를 수행했을 경우 장점은?

- ① 비용절감                      ② 자료의 정확성  
③ 실험조건 조절 용이        ④ 현실적인 작업변수 설정가능

54. 다음 중 위험률(Risk)에 대하여 바르게 나타낸 식은?

- ① 사고의 크기 × 사고의 빈도  
② 노동손실일수 × 총 노동시간  
③ 사고의 빈도 × 총 노동시간  
④ 사고의 크기 × 재해발생건수

55. 다음과 같은 실내 표면에서 반사율이 낮아야 하는 순서는?

(① 바닥 ② 천정 ③ 가구 ④ 벽)

- ① ① - ③ - ④ - ②              ② ① - ④ - ③ - ②  
③ ④ - ① - ② - ③              ④ ④ - ② - ① - ③

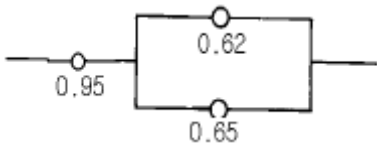
56. 운전 또는 워드작업과 같이 인체의 각 부분이 서로 조화를 이루며 움직이는 자세에서의 인체치수를 측정하는 것에 해당하는 것은?

- ① 구조적 치수                      ② 정적치수  
③ 외곽치수                      ④ 기능적 치수

57. 다음 중 FTA방법의 특징이 아닌 것은?

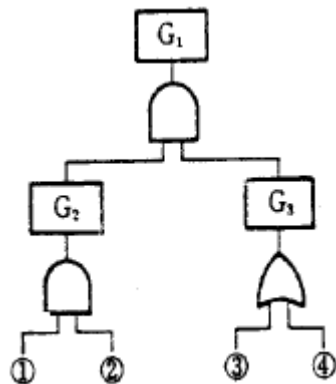
- ① Bottom up형식                      ② Top Down 형식  
③ 특정사상에 대한 해석              ④ 논리기호를 사용한 해석

58. 다음 어느 기계 시스템의 신뢰도를 구하려고 한다. 계산식 이 올바른 것은?



- ①  $0.95 \times \{1 - (1 - 0.62)(1 - 0.65)\}$   
②  $0.95 \times 0.62 \times 0.65$   
③  $\{(1 - 0.95) + (1 - 0.65) - 0.65\}$   
④  $0.95 \times \{(1 - 0.62)(1 - 0.65)\}$

59. 다음 그림과 같은 FT(Fault Tree)도가 있을때 G1의 발생 확률은 얼마인가?(단, ①의 발생확률이 0.3, ②는 0.4, ③은 0.3 ④는 0.5이다.)



- ① 0.078                      ② 0.128  
③ 0.65                      ④ 0.78

60. 인체에는 23일 내지 28일 주기의 바이올리듬이 있는 반면, 대뇌의 활동수준에도 1일 주기의 조석리듬이 존재한다. 다

음 중 조석리듬 수준이 가장 낮아 재해사고의 가능성이 가장 높은 시간대는?

- ① 오전 6시                      ② 오전 10시  
③ 오후 4시                      ④ 오후 10시

#### 4과목 : 건설시공학

61. 언더피닝 공법의 설명으로 맞는 것은?

- ① 기존 건물의 기초나 지정을 보강하는 공법이다.  
② 터파기 공법의 일종이다.  
③ 용수량이 많은 깊은 기초의 축조에 사용하는 공법이다.  
④ 일명 지하연속 공법이라고도 한다.

62. 공사현장에서 실시하는 공무적 현장관리가 아닌 것은?

- ① 자재관리                      ② 노무관리  
③ 안전관리                      ④ 일지관리

63. 앵커 보울트를 기초에 고정시킬때 나중 매입공법을 사용할 경우는?

- ① 앵커보울트의 지름이 큰 경우  
② 앵커보울트의 지름이 작은 경우  
③ 구조물의 이동조립을 가능하게 하기 위한 경우  
④ 시공의 정밀도를 높이고자 하는 경우

64. 2층 또는 3층의 조적조 건물에 있어서 최상층의 조적조 내력벽 높이는 다음중 얼마를 넘을 수 없는가?

- ① 2m                      ② 3m  
③ 4m                      ④ 5m

65. 보강철근콘크리트 블록조에 대한 설명 중 틀린 것은?

- ① 보강철근콘크리트 블록은 응력분산을 위해 막힌줄눈쌓기로 한다.  
② 블록 1일 쌓기 높이는 1.5m(블록 7켜 정도) 이내로 한다.  
③ 벽의 세로근은 원칙적으로 이음을 만들지 않는다.  
④ 가로근의 모서리는 서로 40d(d:철근지름)이상으로 정착시킨다.

66. 다음 토공사에 이용되는 각종식 중 틀린 것은?

- ① 간극비 = 간극의 용적 / 토립자의 용적  
② 함수율 = (물의 중량 / 토립자의 중량) × 100  
③ 포화도 = (물의 용적 / 간극의 용적) × 100  
④ 예민비 = 이진시료의 강도 / 자연시료의 강도

67. 철근의 이음 및 정착길이에 대한 설명으로 틀린 것은?

- ① 이음의 겹침길이는 갈고리 중심간의 거리로 한다.  
② 압축력 또는 작은 인장력을 받는 곳은 주근 지름의 25배 이상, 큰 인장력을 받는 곳은 40배 이상으로 한다.  
③ 지름이 서로 다른 주근을 잇는 경우에는 굵은 주근 지름으로 한다.  
④ 철근의 이음위치는 큰 인장력이 생기는 곳을 피한다.

68. Reamer(리머)의 사용목적을 옳게 설명한 것은?

- ① 말뚝박기에 사용한다.              ② 철굴구멍을 가져낸다.  
③ 목재에 홈을 판다.                  ④ 콘크리트에 진동을 준다.

69. 흙파기 후 되메우기를 할때 얼마씩 메우고 다져야 적당한가?  
 ① 30cm                      ② 40cm  
 ③ 50cm                      ④ 60cm
70. 철근의 정착위치에 관한 설명 중 옳지 않은 것은?  
 ① 바닥 철근은 보에만 정착해야 한다.  
 ② 지중보 철근은 기초 또는 기둥에 정착한다.  
 ③ 보의 주근은 기둥에 정착한다.  
 ④ 직교하는 단부 보의 밑에 기둥이 없을 때는 상호간에 정착한다.
71. 다음은 진공 콘크리트(Vacuum Concrete)에 대하여 기술한 것이다. 틀린 것은?  
 ① 콘크리트 타설 후 진공 압출에 의하여 물/시멘트 비가 감소한다.  
 ② 콘크리트의 초기강도가 낮아진다.  
 ③ 콘크리트의 내구성이 증대된다.  
 ④ 콘크리트의 압축강도가 증대된다.
72. 거푸집에 가해지는 콘크리트의 측압에 관한 다음의 기술 중 틀린 것은?  
 ① 콘크리트 치기 및 붓는 속도가 빠를수록 크다.  
 ② 부재의 수평단면이 클수록 크다.  
 ③ 기온이 낮을수록 크다.  
 ④ 철근량이 많을수록 크다.
73. 철골공사의 가공작업 순서를 올바르게 나열한 것은?  
 ① 원척도→ 본뜨기→ 금매김→ 절단→ 구멍뚫기→ 가조립→ 리벳치기  
 ② 원척도→ 본뜨기→ 금매김→ 구멍뚫기→ 절단→ 리벳치기→ 가조립  
 ③ 본뜨기→ 원척도→ 금매김→ 절단→ 구멍뚫기→ 리벳치기→ 가조립  
 ④ 금매김→ 원척도→ 본뜨기→ 절단→ 구멍뚫기→ 가조립→ 리벳치기
74. 피어(pier) 기초공사에 사용되지 않는 것은?  
 ① 트레미(tremie)관  
 ② 케이싱(casing)  
 ③ 디젤해머(diesel hammer)  
 ④ 벤토나이트(ventonite)액(液)
75. 콘크리트 타설시 일반적인 주의사항으로 잘못 설명된 것은?  
 ① 운반거리가 가까운 곳으로부터 타설을 시작한다.  
 ② 타설할 위치와 가까운 곳에서 낙하시킨다.  
 ③ 자유낙하 높이를 작게 한다.  
 ④ 콘크리트를 수직으로 낙하시킨다.
76. 다음 벽돌쌓기의 설명 중 옳바르지 않은 것은?  
 ① 세로규준틀은 건물의 모서리나 구석에 설치함을 원칙으로 한다.  
 ② 벽돌쌓기는 모서리, 구석 및 중간요소에 먼저 기준쌓기를 하고 나머지 부분을 쌓아 나간다.  
 ③ 가로, 세로줄눈의 너비는 10mm가 표준이며 세로줄눈에

통줄눈이 생기지 않도록 한다.

- ④ 하루의 쌓기 높이는 1.0m를 표준으로 하고 1.2m 이내로 한다
77. 웰 포인트(Well-Point)공법의 특징이 아닌 것은?  
 ① 점토지반 보다는 사질지반에 유효한 공법이다.  
 ② 지반내의 기압이 대기압 보다 높아져서 토층은 대기압에 의해 다져진다.  
 ③ 지하수위를 낮게하는 공법이다.  
 ④ 지하수위의 저하에 따라서 부력이 감소되어 지반을 다지게 된다.
78. 다음 불량용접의 원인에 대한 설명중 부적절한 것은?  
 ① 언더컷 - 운봉불량, 전류과대, 용접봉의 선택 부적합  
 ② 용입불량 - 너무 느린 속도, 전류과대, 봉경과소  
 ③ 크레이터 - 심한 전류과대와 운봉부적  
 ④ 슬래그 말림 - 운봉부적, 전류과소
79. 다음중 공사관리 계약(Construction Management Contract) 방식에 의한 계약의 장점이 아닌 것은?  
 ① 공사 시공 시 단계별 시공법을 적용할 수 있어 설계 및 시공기간을 단축시킬 수 있다.  
 ② 건설에 전문적인 지식을 가진 공사관리자가 설계과정부터 참여하여 설계도서의 현실성을 향상시킬 수 있다.  
 ③ 설계자와 시공자 사이의 마찰을 감소시킬 수 있다.  
 ④ 시공자의 의견이 설계 전과정에 걸쳐 충분히 반영될 수 있다.
80. 공사감리자 업무와 관계가 가장 적은 것은?  
 ① 공정 및 기성고 산정  
 ② 설계변경사항 검토  
 ③ 현장 작업원의 의욕 고취  
 ④ 시공계획, 공정표의 검토 승인

#### 5과목 : 건설재료학

81. 분말도가 높은 시멘트에 관한 일반적인 설명 중 틀린 것은?  
 ① 수화속도가 빠르다.    ② 초기강도가 높다.  
 ③ 컨시스턴시가 크다.    ④ 시멘트 페이스트의 점성이 높다.
82. 점토벽돌의 품질등급에서 1종의 압축강도는 얼마 이상인가? (KS규정, 1kgf/cm<sup>2</sup>는 약 9.8N/cm<sup>2</sup>)  
 ① 784N/cm<sup>2</sup>                      ② 981N/cm<sup>2</sup>  
 ③ 1569N/cm<sup>2</sup>                      ④ 2059N/cm<sup>2</sup>
83. 다음 중 아스팔트 루핑의 생산에 사용되는 아스팔트는?  
 ① 록 아스팔트                      ② 유제 아스팔트  
 ③ 컷백 아스팔트                      ④ 불론 아스팔트
84. 콘크리트 용의 잔골재와 굵은골재를 구분하는 체눈금의 크기는 어느 것을 기준으로 하는가?  
 ① 9 mm체                      ② 7 mm체  
 ③ 5 mm체                      ④ 3 mm체
85. 목재의 가공제품이 아닌 것은?

- ① 코펜하겐 리브(copenhagen rib)  
 ② 경질 섬유판(hard fiber board)  
 ③ 퍼라이트(perlite)  
 ④ 파키투 블록(parquetry block)
86. 시공된지 얼마되지 않은 콘크리트면에 도장하고자 한다. 다음 중 어느 도료를 사용하는 것이 가장 좋은가?  
 ① 유성 페인트                      ② 유성조합 페인트  
 ③ 합성수지 에멀션 페인트      ④ 클리어래커
87. 강재의 온도에 따른 기계적 성질을 나타낸 것이다. 옳지 않은 설명은?  
 ① 신율은 200~300℃ 에서 최소로 된다.  
 ② 인장강도는 500℃ 정도에서 상온 강도의 약 1/2 로 된다.  
 ③ 인장강도는 100℃ 정도에서 최대로 된다.  
 ④ 인장강도는 600℃ 정도에서 상온 강도의 약 1/3 로 된다.
88. 시멘트모르타르 바름의 바탕 등으로 사용되는 것은?  
 ① 플라이 애쉬                      ② 논슬립  
 ③ 와이어 라스                      ④ 듀벨
89. 굳지 않은 콘크리트의 성질을 표시하는 용어 중 거푸집 등의 형상에 순응하여 채우기 쉽고 분리가 일어나지 않는 성질을 말하는 것은?  
 ① 워커빌리티(workability)    ② 컨시스턴시(consistency)  
 ③ 플라스틱시티(plasticity)    ④ 피니셔빌리티(finishability)
90. 천연아스팔트가 아닌 것은?  
 ① 블론(Blown)아스팔트        ② 록크(Rock)아스팔트  
 ③ 레이크(Lake)아스팔트        ④ 아스팔타이트(Asphaltite)
91. 고로시멘트의 특징에 대한 설명 중 옳지 않은 것은?  
 ① 모르타르나 콘크리트의 거푸집을 접하지 않는 자유표면은 경화불량에서 오는 약화현상이 따르기 쉽다.  
 ② 수화열량이 적어 매스 콘크리트로 사용할 수 있다.  
 ③ 바닷물에 대한 저항이 크다.  
 ④ 재령 초기에는 강도가 크나 장기강도는 작다.
92. 다음 점토 제품 중에서 흡수율이 가장 적은 것은?  
 ① 토기                              ② 도기  
 ③ 석기                              ④ 자기
93. 신축이음(Expansion Joint)재료에 요구되는 성능 조건이 아닌 것은?  
 ① 콘크리트의 수축에 순응할 수 있는 탄성  
 ② 콘크리트의 팽창에 저항할 수 있는 압축강도  
 ③ 콘크리트에 잘 접착하는 접착성  
 ④ 콘크리트 이음사이의 충분한 수밀성
94. 각종 합성수지에 대한 설명으로 틀린 것은?  
 ① 불포화 폴리에스테르수지는 유리와의 접착성이 좋고, 유리섬유와 적층하여 사용된다.  
 ② 염화비닐수지는 열경화성 수지로 내수성이 우수하나 유기용제에 잘 녹으므로 내약품성이 낮다.

- ③ 엘리민수지는 표면경도가 크고 압축성형한 판은 내장재로 쓰인다.  
 ④ 초산비닐수지는 열가소성 수지로 접착제와 도료로 쓰인다.
95. 투명도가 높으므로 유기유리라는 명칭이 있으며, 착색이 자유롭고 내충격강도가 크고 평판, 골판 등의 각종 형태의 성형품으로 만들어 채광판, 도어판, 칸막이벽 등에 쓰이는 합성수지는?  
 ① 폴리스티렌수지                ② 에폭시수지  
 ③ 요소수지                        ④ 아크릴수지
96. 운모계 광석을 800~1,000℃정도로 가열 팽창시켜 체적이 5~6배로 된 다공질의 경석으로 각종 형상 및 공동품의 경량, 보온, 방음, 결로방지의 목적으로 시멘트와 배합하여 제조, 사용되는 석재는?  
 ① 암면(rock wool)                ② 질석(vermiculite)  
 ③ 트라버틴(travertin)          ④ 석면(asbestos)
97. 목재의 일반적인 특징과 거리가 먼 것은?  
 ① 열전도율이 적다.  
 ② 건습에 의한 변형 및 팽창 수축이 크다.  
 ③ 풍화에 의해서는 부패하지 않는다.  
 ④ 재질 및 섬유방향에 따라 강도의 차이가 있다.
98. 건축용 재료로 이용하는 석재의 특성에 대한 설명으로 옳은 것은?  
 ① 큰간사이 구조에 적합하다.  
 ② 내구적이며 압축강도가 크다.  
 ③ 가공성이 좋으며 인성이 크다.  
 ④ 취도계수가 적고 내충격성이 크다.
99. 콘크리트의 건조수축에 대한 설명으로 옳지 않은 것은?  
 ① 시멘트의 화학성분이나 분말도에 따라 건조수축량은 변화한다.  
 ② 콘크리트의 건조수축을 적게 하기 위해서 배합시 가능한 한 단위수량을 적게 한다.  
 ③ 사암이나 점판암을 골재로 이용한 콘크리트는 수축량이 크고, 석영, 석회암을 이용한 것은 적다.  
 ④ 콘크리트의 습윤양생기간은 건조수축에 크게 영향을 주며 이 기간이 길면 길수록 건조수축은 적어진다.

100. 금속재료의 특성에 대한 설명 중 틀린 것은?  
 ① 주철: 탄소량은 2.5~5%이고 주조성이 매우 양호하여 복잡한 형상도 쉽게 성형할 수 있다.  
 ② 납: 비중이 아주 크고 연질이며 전연성, 가공성이 풍부하다.  
 ③ 동: 전기전도율과 열전도율이 매우 높으며 산이나 암모니아에 침식되지 않는 재료이다.  
 ④ 알루미늄: 콘크리트에 접하거나 흙 중에 매몰된 경우에는 부식되기 쉽다.

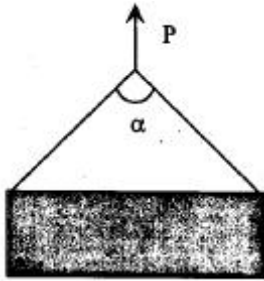
#### 6과목 : 건설안전기술

101. 가설자재의 안전율이 4 라면 400kgf의 허용하중을 받아야 할 자재의 파괴 하중은 얼마 이상이어야 하는가?  
 ① 1600kgf                              ② 1000kgf

- ③ 400kgf      ④ 100kgf

102. 차량계 건설기계의 사용에 의한 위험의 방지를 위한 사항에 대한 설명으로 옳지 않은 것은?
- ① 암석의 낙하 등에 의한 위험이 예상될 때 차량용 건설기계인 불도저, 로더, 트랙터 등에 견고한 헤드가드를 갖추어야 한다.
  - ② 차량계 건설기계로 작업시 전도 또는 전락 등에 의한 근로자의 위험을 방지하기 위한 노건의 붕괴방지, 지반침하방지 조치를 해야한다.
  - ③ 차량계 건설기계의 붐, 암 등을 올리고 그 밑에서 수리, 점검작업 등을 할 때 안전지주 또는 안전블록을 사용해야한다.
  - ④ 항타기 및 항발기 사용시 버팀대만으로 상단부분을 안정시키는 때에는 2개이상으로 하고 그 하단 부분을 고정시켜야 한다.

103. 그림과 같이 두 곳에 줄을 달아 중량물을 들 때, 매단줄의 각도( $\alpha$ )가 얼마일 때 힘 P의 크기가 최소인가?



- ①  $0^\circ$       ②  $60^\circ$   
③  $120^\circ$       ④ 각도와 상관없이 모두 같다.

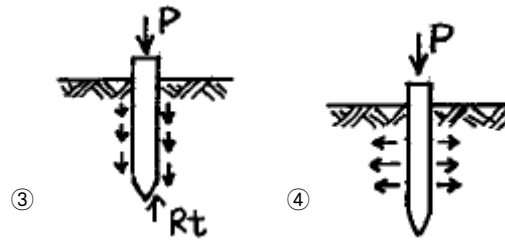
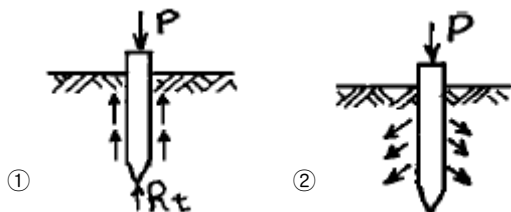
104. "산업안전기준에관한규칙"에 규정된 사항으로 철골작업을 중지하여야 할 경우에 해당되지 않는 것은?

- ① 풍속이 초당 10m 이상인 경우
- ② 지진의 진도가 0.1 이상인 경우
- ③ 강우량이 시간당 1mm 이상인 경우
- ④ 강설량이 시간당 1cm 이상인 경우

105. 지반의 굴착작업시 굴착시기와 작업순서를 정하기 위하여 조사하여야 할 사항이 아닌 것은?

- ① 형상, 지질 및 지층의 상태
- ② 흙막이보강공의 설치여부
- ③ 균열, 함수, 용수 및 동결의 유무
- ④ 지반의 지하수위 상태

106. 말뚝의 하중지지도로 옳은 것은?



107. 산업안전보건관리비(안전관리비)는 항목별 사용기준을 안전관리비 총액의 일정 비율(%)이하로 규정하고 있다. 항목과 사용기준이 옳게 짝지어지지 않은 것은?

- ① 본사 사용비 - 5% 이하
- ② 사업장의 안전진단비 등 - 30% 이하
- ③ 안전보건교육비 및 행사비 등 - 30% 이하
- ④ 안전시설비 등 - 50% 이하

108. 건설업체를 대상으로 하는 환산재해율은?

- ① (재해자수/연근로시간) × 100
- ② (환산재해자수/상시근로시간) × 100
- ③ (환산재해자수/상시근로시간) × 1000
- ④ (재해자수/연근로시간) × 1000

109. 지름이 10cm이고 높이가 20cm인 원기둥 콘크리트 공시체가 일축압축강도시험을 한 결과 30,000kgf에 파괴되었다. 이 때 콘크리트 압축강도는?

- ①  $312\text{kgf/cm}^2$       ②  $353\text{kgf/cm}^2$
- ③  $382\text{kgf/cm}^2$       ④  $412\text{kgf/cm}^2$

110. 이동식비계의 바닥면적이  $2.5\text{m}^2$  인 경우 설계에 쓰이는 적재하중은 얼마인가?

- ① 150kgf      ② 200kgf
- ③ 250kgf      ④ 300kgf

111. 콘크리트 축압 산정시 그 영향을 고려하지 않아도 되는 요소는?

- ① 타설 높이      ② 작업하중
- ③ 타설 속도      ④ 철근량

112. 구조물 해체작업시 해체계획에 포함되지 않는 것은?

- ① 사업장내 연락방법
- ② 약천후시 작업계획
- ③ 해체방법 및 해체순서 도면
- ④ 가설설비, 방호설비, 환기설비 등의 방법

113. 화물 하중을 직접 지지하는 경우 양중기의 와이어 로프(Wire rope)에 대한 최대허용하중은?

- ① 1줄걸이 허용하중 = 절단하중/2
- ② 1줄걸이 허용하중 = 절단하중/3
- ③ 1줄걸이 허용하중 = 절단하중/4
- ④ 1줄걸이 허용하중 = 절단하중/5

114. 다음중 압쇄기를 사용하여 건물해체시의 순서가 가장 바르게 된 것은?

- A 보,    B 기둥,    C 슬라브,    D 벽체

- ① A-B-C-D                      ② A-C-B-D  
③ C-A-D-B                      ④ D-C-B-A

115. 강관 틀비계를 조립할 때 유의사항이 아닌 것은?

- ① 비계기둥의 밑둥에는 밑받침철물을 사용하여야 하며 고저차가 있는 경우에도 틀비계는 항상 수평, 수직을 유지해야 한다.  
② 높이가 20m를 넘을 때나 중량물을 적재할 경우 주틀의 간격이 1.8m이하로 한다.  
③ 주틀간 교차가새를 설치하고 최상층 및 10층이내마다 수평재를 설치한다.  
④ 벽이음이나 연결재의 간격은 수직방향 6m이하, 수평 방향 8m이하로 설치한다.

116. 화물을 차량계 하역 운반기계에 적재 또는 적하시 작업지휘자를 지정하도록 규정된 사항으로 올바른 것은?

- ① 단위화물의 중량이 100kg 이상일 때  
② 단위화물의 중량이 150kg 이상일 때  
③ 단위화물의 중량이 200kg 이상일 때  
④ 단위화물의 중량이 250kg 이상일 때

117. 다음 철골공사용 기계 설명 중 적합하지 않은 것은?

- ① 타워 크레인은 고층 작업이 가능하고 360° 작업이 가능하다.  
② 크로라 크레인은 트럭크레인 보다 흔들림이 적고 하물인양시 안정성이 크다.  
③ 진폴 데릭은 간단하게 설치할수 있으며 경미한 건물의 철골 건립에 사용된다.  
④ 삼각데릭은 2본의 다리에 의해서 고정된 것으로 작업회전 반경은 약 270° 정도다.

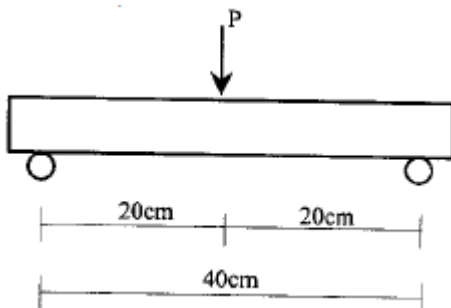
118. 레디믹스트 콘크리트의 비빔 시작부터 부어 넣기 종료까지의 외기 기온 25℃ 이상일 때 시간 한도와 1회 강도시험을 할 경우 주문강도가 옳게 찍혀진 것은?

- ① 1.5시간, 90% 이상    ② 1.5시간, 85% 이상  
③ 2시간, 80% 이상    ④ 2시간, 85% 이상

119. 기계가 위치한 지면보다 낮은 장소를 굴착하는데 적합하고 비교적 굳은 지반의 토질에서도 사용 가능한 장비는?

- ① 백호우(backhoe)            ② 파워셔블(power shovel)  
③ 드래그라인(dragline)    ④ 크레인(crane)

120. 폭이 10cm, 높이 10cm, 길이 40cm인 콘크리트 공시체를 그림과 같이 휨시험에서 1,000kgf에 파괴되었다. 이 때 콘크리트의 휨강도는?



- ① 60kgf/cm<sup>2</sup>                      ② 70kgf/cm<sup>2</sup>  
③ 80kgf/cm<sup>2</sup>                      ④ 90kgf/cm<sup>2</sup>

전자문제집 CBT PC 버전 : [www.comcbt.com](http://www.comcbt.com)

전자문제집 CBT 모바일 버전 : [m.comcbt.com](http://m.comcbt.com)

기출문제 및 해설집 다운로드 : [www.comcbt.com/xe](http://www.comcbt.com/xe)

전자문제집 CBT란?

종이 문제집이 아닌 인터넷으로 문제를 풀고 자동으로 채점하며 모의고사, 오답 노트, 해설까지 제공하는 무료 기출문제 학습 프로그램으로 실제 시험에서 사용하는 OMR 형식의 CBT를 제공합니다.

PC 버전 및 모바일 버전 완벽 연동  
교사용/학생용 관리기능도 제공합니다.

오답 및 오탈자가 수정된 최신 자료와 해설은 전자문제집 CBT에서 확인하세요.

1	2	3	4	5	6	7	8	9	10
②	③	②	②	③	②	③	④	④	④
11	12	13	14	15	16	17	18	19	20
③	④	④	②	②	④	③	①	①	④
21	22	23	24	25	26	27	28	29	30
②	②	④	③	②	④	④	③	②	④
31	32	33	34	35	36	37	38	39	40
④	①	①	①	①	①	④	②	④	①
41	42	43	44	45	46	47	48	49	50
②	③	②	②	①	②	②	①	③	④
51	52	53	54	55	56	57	58	59	60
②	②	④	①	①	④	①	①	①	①
61	62	63	64	65	66	67	68	69	70
①	④	②	③	①	④	③	②	①	①
71	72	73	74	75	76	77	78	79	80
②	④	①	③	①	④	②	②	④	③
81	82	83	84	85	86	87	88	89	90
③	④	④	③	③	③	③	③	③	①
91	92	93	94	95	96	97	98	99	100
④	④	②	②	④	②	③	②	④	③
101	102	103	104	105	106	107	108	109	110
①	④	④	②	②	①	①	②	③	③
111	112	113	114	115	116	117	118	119	120
②	②	④	③	③	①	②	②	①	①