

1과목 : 공조냉동안전관리

- 중량물을 운반하기 위하여 크레인을 사용하고자 한다. 크레인의 안전한 사용을 위해 지정거리에서 권상을 정지시키는 방호장치는?
 - 과부하 방지 장치
 - 권과 방지 장치
 - 비상 정지 장치
 - 해지 장치
- 냉동기계 설치 시 각 기기의 위치를 정하기 위한 설명으로 옳지 않은 것은?
 - 운전상 작업의 용이성을 고려할 것
 - 실내의 기계 상태를 일부분만 볼 수 있게 하고 제어가 쉽도록 할 것
 - 실내의 조명과 환기를 고려할 것
 - 현장의 상황에 맞는가를 조사할 것
- 안전화의 구비조건에 대한 설명으로 틀린 것은?
 - 정전화는 인체에 대전된 정전기를 구두바닥을 통하여 땅으로 누전시킬 수 있는 재료를 사용할 것
 - 가죽제 안전화는 가능한 한 무거울 것
 - 착용감이 좋고 작업에 편리할 것
 - 앞발가락 끝부분에 선심을 넣어 압박 및 충격에 대하여 착용자의 발가락을 보호할 수 있을 것
- 누전 및 지락의 방지대책으로 적절하지 못한 것은?
 - 절연 열화의 방지
 - 퓨즈, 누전차단기 설치
 - 과열, 습기, 부식의 방지
 - 대전체 사용
- 보일러 취급 부주의에 의한 사고 원인이 아닌 것은?
 - 이상 감수(減水)
 - 압력 초과
 - 수처리 불량
 - 용접 불량
- 연소에 관한 설명이 잘못된 것은?
 - 온도가 높을수록 연소속도가 빨라진다.
 - 입자가 작을수록 연소속도가 빨라진다.
 - 촉매가 작용하면 연소속도가 빨라진다.
 - 산화되기 어려운 물질일수록 연소속도가 빨라진다.
- 전기용접 작업의 안전사항에 해당되지 않는 것은?
 - 용접 작업 시 보호구를 착용토록 한다.
 - 홀더나 용접봉은 맨손으로 취급하지 않는다.
 - 작업 전에 소화기 및 방화사를 준비한다.
 - 용접이 끝나면 용접봉은 홀더에서 빼지 않는다.
- 안전장치에 관한 사항으로 옳지 않은 것은?
 - 해당설비에 적합한 안전장치를 사용한다.
 - 안전장치는 수시로 점검한다.
 - 안전장치는 결함이 있을 때에는 즉시 조치한 후 작업한다.
 - 안전장치는 작업형편상 부득이한 경우에는 일시적으로 제거하여도 좋다.
- 위험물 취급 및 저장 시의 안전조치 사항 중 틀린 것은?

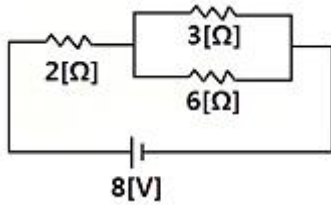
- 위험물은 작업장과 별도의 장소에 보관하여야 한다.
- 위험물을 취급하는 작업장에는 너비 0.3m 이상, 높이 2m 이상의 비상구를 설치하여야 한다.
- 작업장 내부에는 작업에 필요한 양만큼 두어야 한다.
- 위험물을 취급하는 작업장에는 출입구와 같은 방향에 있지 아니하고, 출입구로부터 3m 이상 떨어진 곳에 비상구를 설치하여야 한다.
- 산소-아세틸렌 가스용접 시 역화현상이 발생하였을 때 조치사항으로 적절하지 못한 것은?
 - 산소의 공급압력을 최대로 높인다.
 - 팁 구멍의 이물질제거 등 토치의 기능을 점검한다.
 - 팁을 물로 냉각한다.
 - 아세틸렌을 차단한다.
- 수공구 사용 시 주의사항으로 적당하지 않은 것은?
 - 작업대 위의 공구는 작업 중에도 정리한다.
 - 스패너 자루에 파이프를 끼어 사용해서는 안 된다.
 - 서피스 게이지의 바늘 끝은 위쪽으로 향하게 둔다.
 - 사용 전에 이상 유무를 반드시 점검한다.
- 사업주는 그 작업조건에 적합한 보호구를 동시에 작업하는 근로자의 수 이상으로 지급하고 이를 착용하도록 하여야 한다. 이 때 적합한 보호구 지급에 해당되지 않는 것은?
 - 보안경 : 물체가 날아 흩날릴 위험이 있는 작업
 - 보안면 : 용접 시 불꽃 또는 물체가 날아 흩날릴 위험이 있는 작업
 - 안전대 : 감전의 위험이 있는 작업
 - 방열복 : 고열에 의한 화상 등의 위험이 있는 작업
- 냉동설비의 설치공사 완료 후 시운전 또는 기밀시험을 실시할 때 사용할 수 없는 것은?
 - 헬륨
 - 산소
 - 질소
 - 탄산가스
- 다음 보기의 설명에 해당되는 것은?

- 실린더에 상이 붙는다.
 - 토출가스 온도가 낮아진다.
 - 냉동능력이 감소한다.
 - 압축기의 손상이 우려된다.

 - 액 햄머
 - 커퍼 플레이팅
 - 냉매과소 충전
 - 플래쉬 가스 발생
- 추락을 방지하기 위해 작업발판을 설치해야 하는 높이는 몇 m 이상 인가?
 - 2
 - 3
 - 4
 - 5

2과목 : 냉동기계

- 그림과 같은 회로에서 6[Ω]에 흐르는 전류[A]는 얼마인가?



- ① 1/3 [A] ② 2/3 [A]
③ 1/2 [A] ④ 3/2 [A]

17. 이상기체의 엔탈피가 변하지 않는 과정은?

- ① 가역 단열과정 ② 등온과정
③ 비가역 압축과정 ④ 교축과정

18. 다음 중 열펌프(Heat Pump)의 열원이 아닌 것은?

- ① 대기 ② 지열
③ 태양열 ④ 빙축열

19. 수동나사 절삭 방법 중 잘못 된 것은?

- ① 관을 파이프 바이스에서 약 150mm 정도 나오게 하고, 관이 찌그러지지 않게 주의하면서 단단히 물린다.
② 관 끝은 절삭날이 쉽게 들어갈 수 있도록 약간의 모따기를 한다.
③ 나사 절삭기를 관에 끼우고 래치를 조정한 다음 약 30°씩 회전시킨다.
④ 나사가 완성되면 편심 핸들을 급히 풀고 절삭기를 뺀다.

20. 원심력을 이용하여 냉매를 압축하는 형식으로 터보압축기라고 하며, 흡입하는 냉매증기의 체적은 크지만 압축압력을 크게 하기 곤란한 압축기는?

- ① 원심식 압축기 ② 스크류 압축기
③ 회전식 압축기 ④ 왕복동식 압축기

21. 액을 수액기로 유입시키는 냉매 회수장치의 구성요소가 아닌 것은?

- ① 3방 밸브 ② 고압압력 스위치
③ 체크 밸브 ④ 플로트 스위치

22. 열역학 제1법칙을 설명한 것 중 옳은 것은?

- ① 열평형에 관한 법칙이다.
② 이론적으로 유도 가능하여 엔트로피의 뜻을 잘 설명한다.
③ 이상 기체에만 적용되는 열량 법칙이다.
④ 에너지 보존의 법칙 중 열과 일의 관계를 설명한 것이다.

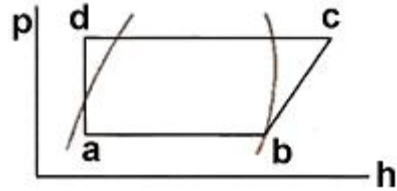
23. 프레온 냉동장치에서 필요 없는 것은?

- ① 워터 자켓 ② 드라이어
③ 액분리기 ④ 유분리기

24. 고체 냉각식 동결장치의 종류에 속하지 않는 것은?

- ① 스파이럴식 동결장치
② 배치식 콘택트 프리저 동결장치
③ 연속식 싱글 스틸 벨트 프리저 동결장치
④ 드럼 프리저 동결장치

25. 압축식 냉동장치를 운전하였더니 다음 그림과 같은 사이클이 형성되었다. 이 장치의 성적계수는 약 얼마인가? (단, 각 점의 엔탈피는 a:115, b:143, c:154kcal/kg이다.)



- ① 4.55 ② 3.55
③ 2.55 ④ 1.55

26. 다음 중 배관의 부식방지용 도료가 아닌 것은?

- ① 광명단 ② 산화철
③ 규조토 ④ 타르 및 아스팔트

27. 증기 압축식 냉동기와 흡수식 냉동기에 대한 설명 중 잘못된 것은?

- ① 증기를 값싸게 얻을 수 있는 장소에서는 흡수식이 경제적으로 유리하다.
② 냉매를 압축하기 위해 압축식에서는 기계적 에너지를 흡수식에서는 화학적 에너지를 이용한다.
③ 흡수식에 비해 압축식이 열효율이 높다.
④ 동일한 냉동능력을 갖기 위해서 흡수식은 압축식에 비해 장치가 커진다.

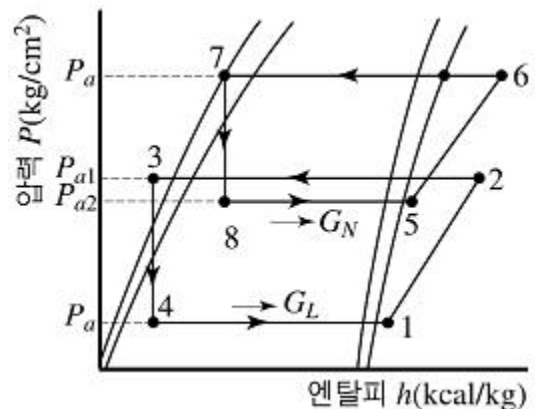
28. 다음 전기에 대한 설명 중 틀린 것은?

- ① 전기가 흐르기 어려운 정도를 컨덕턴스라 한다.
② 일정시간 동안 전기에너지가 한 일의 양을 전력량이라 한다.
③ 일정한 도체에 가한 전압을 증가시키면 전류도 커진다.
④ 기전력은 전위차를 유지시켜 전류를 흘리는 원동력이 된다.

29. 냉동장치에서 디스트리뷰터(distributor)의 역할로써 가장 적합한 것은?





- ① 냉매의 분배 ② 토출가스 과열
③ 증발온도 저하 ④ 플래시가스 발생

30. 다음 그림은 무슨 냉동사이클 이라고 하는가?



- ① 2단 압축 1단 팽창 냉동사이클
② 2단 압축 2단 팽창 냉동사이클
③ 2원 냉동사이클

- ④ 강제 순환식 2단 사이클
31. 1psi는 약 몇 gf/cm²인가?
 ① 64.5 ② 70.3
 ③ 82.5 ④ 98.1
32. 브라인에 암모니아 냉매가 누설 되었을 때, 적합한 누설 검사 방법은?
 ① 비눗물 등의 발포액을 발라 검사한다.
 ② 누설 검지기로 검사한다.
 ③ 헬라이드 토치로 검사한다.
 ④ 네슬러 시약으로 검사한다.
33. 각종 밸브의 종류와 용도와의 관계를 설명한 것이다. 잘못된 것은?
 ① 글로브밸브 : 유량 조절용
 ② 체크밸브 : 역류 방지용
 ③ 안전밸브 : 이상 압력 조정용
 ④ 콧 : 0~180° 사이의 회전으로 유로의 느린 개폐용
34. 다음 중 냉매의 성질로 옳은 것은?
 ① 암모니아는 강을 부식시키므로 구리나 아연을 사용한다.
 ② 프레온은 절연내력이 크므로 밀폐형에는 부적합하고 개방형에 사용된다.
 ③ 암모니아는 인조고무를 부식시키고 프레온은 천연고무를 부식시킨다.
 ④ 프레온은 수분과 분리가 잘되므로 드라이어를 설치할 필요는 없다.
35. 2단 압축 냉동사이클에서 저압축 증발압력이 3kgf/cm²g이고, 고압축 응축압력이 18kgf/cm²g일 때 중간압력은 약 얼마인가? (단, 대기압은 1kgf/cm²a 이다)
 ① 6.7 kgf/cm²a ② 7.8 kgf/cm²a
 ③ 8.7 kgf/cm²a ④ 9.5 kgf/cm²a
36. 브라인 동결 방지 목적으로 사용되는 기기가 아닌 것은?
 ① 서모스탯 ② 단수 릴레이
 ③ 흡입압력 조정 밸브 ④ 증발압력 조정 밸브
37. 왕복동 압축기의 기계효율(η_m)에 대한 설명으로 옳은 것은?
 (단, 지시 동력은 가스를 압축하기 위한 압축기의 실제 필요 동력이고, 축 동력은 실제 압축기를 운전하는데 필요한 동력이며, 이론적 동력은 압축기의 이론상 필요한 동력을 말한다.)
 ① 지시동력 / 축동력
 ② 이론적동력 / 지시동력
 ③ 지시동력 / 이론적동력
 ④ (축동력×지시동력) / 이론적동력
38. 자연적인 냉동방법 중 얼음을 이용하는 냉각법과 가장 관계가 많은 것은?
 ① 융해열 ② 증발열
 ③ 승화열 ④ 응고열
39. 2단 압축장치의 중간 냉각기 역할이 아닌 것은?
 ① 압축기로 흡입되는 액냉매를 방지하기 위함이다.

- ② 고압응축액을 냉각시켜 냉동능력을 증대시킨다.
 ③ 저단축 압축기 토출가스의 과열을 제거한다.
 ④ 냉매액을 냉각하여 그 중에 포함되어 있는 수분을 동결시킨다.
40. 역 카르노 사이클은 어떤 상태변화 과정으로 이루어져 있는가?
 ① 2개의 등온과정, 1개의 등압과정
 ② 2개의 등압과정, 2개의 교축작용
 ③ 2개의 단열과정, 1개의 교축과정
 ④ 2개의 단열과정, 2개의 등온과정
41. 터보 압축기의 특징으로 맞지 않는 것은?
 ① 임펠러에 의한 원심력을 이용하여 압축한다.
 ② 응축기에서 가스가 응축하지 않을 경우 이상고압이 발생된다.
 ③ 부하가 감소하면 서지를 일으킨다.
 ④ 진동이 적고, 1대라도 대용량이 가능하다.
42. 강제급유식에 기어펌프를 많이 사용하는 이유로 가장 적합한 것은?
 ① 유체의 마찰저항이 크기 때문에
 ② 저속으로도 일정한 압력을 얻을 수 있기 때문에
 ③ 구조가 복잡하기 때문에
 ④ 대형으로만 높은 압력을 얻을 수 있기 때문에
43. 압축기 및 응축기에서 심한 온도 상승을 방지하기 위한 대책이 아닌 것은?
 ① 불응축 가스를 제거한다.
 ② 규정된 냉매량 보다 적은 냉매를 충전한다.
 ③ 충분한 냉각수를 보낸다.
 ④ 냉각수 배관을 청소한다.
44. 관의 끝부분의 표시방법에서 종류별 그림기호를 나타낸 것으로 틀린 것은?
 ① 용접식 캡 : 
 ② 체크포인트 : 
 ③ 블라인더 플랜지 : 
 ④ 나사박음 캡 : 
45. 냉동장치에서 압력과 온도를 낮추고 동시에 증발기로 유입되는 냉매량을 조절해 주는 곳은?
 ① 수액기 ② 압축기
 ③ 응축기 ④ 팽창밸브

3과목 : 공기조화

46. 가습효율이 100%에 가까우며 무균이면서 응답성이 좋아 정밀한 습도제어가 가능한 가습기는?
 ① 물분무식 가습기 ② 증발팬 가습기
 ③ 증기 가습기 ④ 소형 초음파 가습기
47. 송풍기의 종류 중 전곡형과 후곡형 날개 형태가 있으며, 다익송풍기, 터보송풍기 등으로 분류되는 송풍기는?

- ① 원심 송풍기 ② 축류 송풍기
③ 사류 송풍기 ④ 관류 송풍기
48. 개별 공조방식의 특징이 아닌 것은?
① 국소적인 운전이 자유롭다.
② 중앙방식에 비해 소음과 진동이 크다.
③ 외기 냉방을 할 수 있다.
④ 취급이 간단하다.
49. 증기배관의 말단이나 방열기 환수구에 설치하여 증기관이나 방열기에서 발생한 응축수 및 공기를 배출시키는 장치는?
① 공기빼기밸브 ② 신축이음
③ 증기트랩 ④ 팽창탱크
50. 조화된 공기를 덕트에서 실내에 공급하기 위한 개구부는?
① 취출구 ② 흡입구
③ 편칭메탈 ④ 그릴
51. 공기조화기에 있어 바이패스 팩터(bypass factor)가 작아지는 경우에 해당되는 것이 아닌 것은?
① 전열면적이 클 때
② 코일의 열수가 많을 때
③ 송풍량이 클 경우
④ 핀 간격이 좁을 때
52. 온수난방 방식에서 방열량이 2500kcal/h 인 방열기에 공급되어야 할 온수량은 약 얼마인가? (단, 방열기 입구 온도는 80℃, 평균온도에 있어서 70℃, 물의 비열은 1.0kcal/kg℃, 평균온도에 있어서 물의 밀도는 977.5kg/m³ 이다.)
① 0.135 m³/h ② 0.255 m³/h
③ 0.345 m³/h ④ 0.465 m³/h
53. 셸 튜브(shell & tube)형 열교환기에 관한 설명으로 옳은 것은?
① 전열관 내 유속은 내식성이나 내마모성을 고려하여 1.8m/s 이하가 되도록 하는 것이 바람직하다.
② 동관을 전열관으로 사용할 경우 유체 온도가 200℃ 이상이 좋다.
③ 증기와 온수의 흐름은 열 교환 측면에서 병행류가 바람직하다.
④ 열 관류율은 재료와 유체의 종류에 상관없이 거의 일정하다.
54. 환기방법 중 제1종 환기법으로 맞는 것은?
① 강제급기와 강제배기 ② 강제급기와 자연배기
③ 자연급기와 강제배기 ④ 자연급기와 자연배기
55. 공기조화 방식 중에서 중앙식의 전공기 방식에 속하는 것은?
① 패키지 유닛방식 ② 복사 냉난방식
③ 팬코일 유닛방식 ④ 2중 덕트방식
56. 틸트바람에 의한 부하를 계산하는 방법에 속하지 않는 것은?
① 창 면적법 ② 크랙(crack)법
③ 환기횟수법 ④ 바닥 면적법

57. 상당증발량이 3000kg/h 이고 급수온도가 30℃, 발생증기 엔탈피가 635.2kcal/kg일 때 실제 증발량은 약 얼마인가?
① 2048kg/h ② 2200kg/h
③ 2472kg/h ④ 2672kg/h
58. 원통보일러의 장점에 속하지 않는 것은?
① 부하변동에 따른 압력변동이 적다.
② 구조가 간단하다.
③ 고장이 적으며 수명이 길다.
④ 보유수량이 적어 파열사고 발생 시 위험성이 적다.
59. 공기의 설명 중 틀린 것은?
① 공기 중의 수분이 불포화 상태에서는 건구온도가 습구온도보다 높게 나타난다.
② 공기에 가습, 강습이 없어도 온도가 변하면 상대습도는 변한다.
③ 건공기는 수분을 전혀 함유하지 않은 공기이며, 습공기란 건조공기 중에 수분을 함유한 공기이다.
④ 공기 중의 수증기 일부가 응축하여 물방울이 맺히기 시작하는 점을 비등점이라 한다.
60. 실내의 사람이 쾌적하게 생활할 수 있도록 조절해 주어야 할 사항으로 거리가 먼 것은?
① 공기의 온도 ② 공기의 습도
③ 공기의 압력 ④ 공기의 속도

전자문제집 CBT PC 버전 : www.comcbt.com
전자문제집 CBT 모바일 버전 : m.comcbt.com
기출문제 및 해설집 다운로드 : www.comcbt.com/xs

전자문제집 CBT란?
종이 문제집이 아닌 인터넷으로 문제를 풀고 자동으로 채점하며 모의고사, 오답 노트, 해설까지 제공하는 무료 기출문제 학습 프로그램으로 실제 시험에서 사용하는 OMR 형식의 CBT를 제공합니다.
PC 버전 및 모바일 버전 완벽 연동
교사용/학생용 관리기능도 제공합니다.

오답 및 오탈자가 수정된 최신 자료와 해설은 전자문제집 CBT에서 확인하세요.

1	2	3	4	5	6	7	8	9	10
②	②	②	④	④	④	④	④	②	①
11	12	13	14	15	16	17	18	19	20
③	③	②	①	①	②	④	④	④	①
21	22	23	24	25	26	27	28	29	30
②	④	①	①	③	③	②	①	①	③
31	32	33	34	35	36	37	38	39	40
②	④	④	③	③	③	①	①	④	④
41	42	43	44	45	46	47	48	49	50
②	②	②	②	④	③	①	③	③	①
51	52	53	54	55	56	57	58	59	60
③	②	①	①	④	④	④	④	④	③