

1과목 : 콘크리트공학

1. 다음의 콘크리트 워커빌리티 측정 시험방법 중 틀린 것은?

- ① 슬럼프 시험 ② 리몰딩 시험
③ 구관입 시험 ④ 블리딩 시험

2. 콘크리트 구조물의 건조수축, 온도 변화 등에 의해 발생하는 균열을 한 곳으로 집중시키기 위해 단면 결손부에 설치하는 것은?

- ① 신축이음 ② 균열유발줄눈
③ 콜드 조인트(cold joint) ④ 연직시공이음

3. 콘크리트의 크리프에 대한 설명으로 옳지 않은 것은?

- ① 온도가 높을수록 크리프는 증가한다.
② 부재치수가 작을수록 크리프는 증가한다.
③ 시멘트량이 많을수록 크리프는 감소한다.
④ 중용열 시멘트나 혼합 시멘트는 보통 시멘트보다 크리프가 크다.

4. 포장용 시멘트 콘크리트의 배합 기준중 옳지 않은 것은?

- ① 설계기준 휨강도 : 4.5MPa 이상
② 슬럼프 : 20mm 이하
③ 공기량 : 4~6%
④ 단위수량 : 150kg/m³ 이하

5. 내부 진동기를 사용하여 콘크리트를 다질 경우에 옳지 않은 것은?

- ① 내부 진동기는 하층의 콘크리트 속에 0.1m 정도 찔러 다진다.
② 연직방향으로 내부 진동기 삽입간격은 0.5m 이하로 한다.
③ 콘크리트를 횡방향으로 이동시킬 목적으로 사용해서는 안 된다.
④ 콘크리트를 타설한 직후에 거푸집 외부에 충격을 줘서는 안 된다.

6. 콘크리트 연직시공이음에 대한 설명 중 틀린 것은?

- ① 시공이음면의 거푸집을 견고하게 지지하고 이음부위는 진동기로 충분히 다진다.
② 새 콘크리트를 타설한 후에 적당한 시기에 재진동 다지기를 하는 것이 좋다.
③ 보통 콘크리트 타설 후 여름에는 10~15시간 정도에 시공이음면의 거푸집을 제거한다.
④ 구 콘크리트 시공이음면을 쇠술이나 쪼아내기를 하여 거칠게 하고 충분히 흡수시킨 후 시멘트 풀, 모르타르, 습윤 면용에폭시 수지 등을 바르고 새 콘크리트를 타설한다.

7. 섬유보강 콘크리트의 배합에 대한 설명 중 틀린 것은?

- ① 강섬유의 혼입량은 콘크리트 용적의 0.5~2% 정도이다.
② 압축강도, 인장강도, 휨강도는 섬유 혼입률에 거의 비례하여 증대하나 전단강도 및 인성은 그다지 변화하지 않는다.
③ 단위수량 증가는 섬유 혼입률 1%에 대하여 약 20kg/m³ 정도이다.
④ 강제식 믹서로 비비며 일반 콘크리트에 비해 2~4배 정도 비비기 부하가 커진다.

8. 고유동 콘크리트에서 굳지 않은 콘크리트의 유동성을 관리하는 시험으로 옳은 것은?

- ① 슬럼프 플로 시험 ② 간극 통과성 시험
③ 깔때기 유하시간 ④ 자기 충전 시험

9. 일반 콘크리트의 제조 시 굵은골재 목표 1회 계량분은 2,530kg이나 현장에서 굵은골재 저울에 의한 계량치는 2,500kg이다. 계량오차와 허용치 만족 여부에 대해 옳은 것은?

- ① 계량오차 : -1%, 허용치 만족 여부 : 합격
② 계량오차 : -2%, 허용치 만족 여부 : 합격
③ 계량오차 : -1%, 허용치 만족 여부 : 불합격
④ 계량오차 : -2%, 허용치 만족 여부 : 불합격

10. 고강도 콘크리트의 타설에 대한 내용 중 ()에 적합한 것은?

기둥 부재에 쳐 넣은 콘크리트 강도와 슬래브나 보에 쳐 넣은 콘크리트 강도의 차가 ()배 이상일 경우에는 기둥에 사용한 콘크리트가 수평부재의 접합면에서 0.6m정도 충분히 수평재 쪽으로 안전한 내민 길이를 확보한다.

- ① 0.6 ② 1.0
③ 1.4 ④ 1.6

11. 콘크리트의 품질관리 중 받아들이기 품질검사에 대한 설명으로 틀린 것은?

- ① 콘크리트의 받아들이기 품질관리는 콘크리트를 타설하기 전에 실시한다.
② 강도 검사는 콘크리트의 배합검사를 실시하는 것을 표준으로 한다.
③ 내구성 검사는 공기량, 염소이온량을 측정하는 것으로 한다.
④ 워커빌리티 검사는 잔골재율의 설정치를 만족하는지의 여부를 확인하고 재료분리 저항성을 실험에 의하여 확인한다.

12. 콘크리트의 압축강도 시험용 공시체 제작 방법 중 옳지 않은 것은?

- ① 몰드를 떼어내는 시기는 콘크리트 채우기가 끝나고 16시간 이상 3일 이내로 한다.
② 공시체는 지름의 2배 높이를 가진 원기둥으로 한다.
③ 공시체의 지름은 굵은골재 최대치수의 3배 이상, 150mm 이상으로 한다.
④ 콘크리트를 몰드에 채울 때 2층 이상의 거의 같은 층으로 나눠서 채운다.

13. 150×150×530mm의 공시체가 3등분 중앙부에서 파괴되고 재하하중이 45kN일 때 휨강도는?(단, 지간은 450mm이다.)

- ① 4.2MPa ② 4.8MPa
③ 5.3MPa ④ 6.0MPa

14. 콘크리트 압축강도의 표준편차를 알지 못할경우로 콘크리트의 설계기준 압축강도가 30MPa일 때 배합강도는?

- ① 37MPa ② 38.5MPa
③ 40MPa ④ 42MPa

15. 한중 콘크리트에서 비빔을 때 콘크리트 온도가 30℃, 비빈 후부터 타설이 끝났을 때까지의 시간이 90분, 타설 시 주위의 온도가 4℃일 경우에 콘크리트의 온도는?

- ① 18℃ ② 24.2℃
③ 20.5℃ ④ 23℃

16. 콘크리트의 배합강도 결정 시 압축강도 시험 횟수에 따른 표준편차가 필요한데 이때 시험횟수와 보정계수로 옳지 않은 것은?

- ① 15회 : 1.16 ② 20회 : 1.07
③ 25회 : 1.03 ④ 30회 : 1.0

17. 거푸집의 높이가 높아 슈트, 펌프 배관, 버킷, 호퍼 등으로 콘크리트를 타설 시 배출구와 타설면까지의 높이는 몇 m 이하로 하는가?

- ① 1m ② 1.5m
③ 2.0m ④ 2.5m

18. 콘크리트 비파괴 시험방법으로 콘크리트 내부의 공동이나 균열 및 강도 추정 등에 이용되는 것은?

- ① 초음파법 ② 인발법
③ 전기방식법 ④ 반발경도법

19. 다음의 경량골재 콘크리트에 대한 설명 중 틀린 것은?

- ① 보통골재 콘크리트보다 슬럼프가 작아지는 경향이 있다.
② 배합 시 경량골재는 젖은 상태로 사용한다.
③ 경량골재 콘크리트의 선팽창률은 보통 콘크리트의 60~70% 정도이다.
④ 보통 골재 콘크리트의 경우보다 공기량을 1% 정도 작게 한다.

20. 다음 조건과 같은 콘크리트 시방배합일 때 공기량은 얼마인가?

- 단위수량 180kg/m³
- 단위시멘트량 : 360kg/m³
- 잔골재량 750kg/m³
- 굵은골재량 987kg/m³
- 시멘트비중 3.15
- 잔골재 밀도 262g/cm³
- 굵은골재밀도 2,64g/cm³

- ① 4.0% ② 4.2%
③ 4.4% ④ 4.6%

2과목 : 건설시공 및 관리

21. 저소음, 저진동으로 시가지 공사에 적합한 구조물 기초공법으로 굴착 구멍의 붕괴를 막기 위해 벤토나이트 용액을 이용하여 벽체를 연속적으로 시공하는 공법은?

- ① JSP 공법 ② Slurry Wall 공법
③ Open cut 공법 ④ SGR 공법

22. Network 공정표에서 주공정선에 대한 설명 중 틀린 것은?

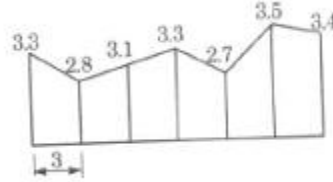
- ① 공정 단축은 주공정선에서 한다.

② 주공정선상에서 총 여유시간(TF)은 0이다.

③ 주공정선은 반드시 1개가 존재하게 된다.

④ 주공정선은 작업경로 중에서 가장 긴 경로이다.

23. 다음 그림과 같은 측량성과의 횡단면적을 심프슨(Simpson) 제 2법칙에 의해 구한 값은? (단, 단위는 m이다.)



- ① 35.8m² ② 45.8m²
③ 55.8m² ④ 65.8m²

24. 10m³덤프 트럭으로 1,200m³의 운반토량을 토사장에 운반할 때 1일 소요 대수는? (단, 트럭의 운반속도 15km/hr, 상하차시간 8분, 1일 작업시간 8시간, 토사장까지의 거리 3km)

- ① 8대 ② 9대
③ 10대 ④ 11대

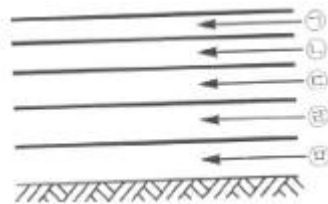
25. 암거의 매설깊이가 1.8m이고 암거 상부 지하수면 최저 위치와의 거리 30cm, 지하수면의 경사 6°인 암거가 지하수면의 깊이를 1m로 할 때 암거 간 매설 간격은?

- ① 4.7m ② 9.5m
③ 8.7m ④ 10.7m

26. 공사일수를 3점 견적법에 의해 산정할 때 적절한 공사 일수는?(단 낙관일수 5일, 정상 일수 7일, 비관일수 9일)

- ① 5일 ② 6일
③ 7일 ④ 8일

27. 다음의 아스팔트 포장 단면도를 보고 옳게 표현된 것은? (순서대로 ㉠,㉡,㉢,㉣,㉤)



- ① 표층, 기층, 중간층, 차단층, 보조기층
② 표층, 중간층, 기층, 보조기층, 차단층
③ 표층, 차단층, 중간층, 기층, 보조기층
④ 표층, 차단층, 기층, 보조기층, 차단층

28. 터널의 계측관리 중 일상계측 항목에 속하지 않는 것은?

- ① 천단침하 측정 ② 갱내 관촬조사
③ 지중변위 측정 ④ 내공변위 측정

29. 아스팔트 포장면이 거북등 모양의 균열이 발생하는 원인으로 가장 타당한 것은?

- ① 노반 지지력이 부족한 경우
② 포장 시 전압이 부족한 경우
③ 아스팔트 혼합물을 지나치게 가열한 경우
④ 골재와 아스팔트의 결합력이 부족한 경우

30. 교량의 가설 위치 선정으로 옳지 않은 것은?

- ① 교각의 축방향이 유수의 방향과 직각이 되는 곳
- ② 하천의 굴곡부는 가능한 피할 것
- ③ 하천과 양안의 지질이 양호한 곳
- ④ 하천과 유수가 안정된 곳

31. 아스팔트 포장의 끝손질 마무리 다짐에 적합한 장비는?

- ① 머캐덤 롤러
- ② 타이어 롤러
- ③ 탠덤 롤러
- ④ 탬핑 롤러

32. 사질토 지반의 지하수위를 저하시키기 위한 공법으로 집수관 및 양수관, 연결관 등의 설치가 필요한 것은?

- ① 웰 포인트 공법
- ② 페이퍼 드레인 공법
- ③ 샌드 드레인 공법
- ④ 약액 주입공법

33. 암석 발파에 대한 설명 중 틀린 것은?

- ① 시험발파로 발파계수(C)를 알 수 있다.
- ② 누두지수(n)가 1보다 크면 약장약이다.
- ③ 누두지수 $n=R/W$ 이다.
- ④ 누수지수(n)가 1이면 표준장약이다.

34. 교량의 가설공법 중 비계를 사용하는 공법이 아닌 것은?

- ① 새들 공법
- ② 벤트식 공법
- ③ 이렉션 트러스 공법
- ④ 캔틸레버식 공법

35. 공기 케이슨 공법에 대한 설명으로 옳지 않은 것은?

- ① 장애물 제거가 용이하고 인접지반의 침하 우려가 없다.
- ② 토층의 토질을 확인할 수 있으며 정확한 측정이 가능하다.
- ③ 일반적으로 굴착깊이는 35~40m로 제한된다.
- ④ 소규모 공사나 심도가 얇은 시공에서 경제적이다.

36. 보강토 옹벽에 관한 설명 중 틀린 것은?

- ① 흙과 인장력이 큰 보강재를 부설하여 마찰력에 의해 토압을 지지한다.
- ② 특수한 시공장비가 필요하지 않아 시공이 용이하고 공기 단축을 할 수 있다.
- ③ 기초 지반이 견고하지 않은 곳은 적용이 곤란하다.
- ④ 높은 옹벽의 축조가 가능하다.

37. 히빙(heaving)의 방지 대책으로 옳지 않은 것은?

- ① 굴착 시 부분굴착보다 전면굴착을 한다.
- ② 굴착 저면의 지반을 개량한다.
- ③ 흙막이 근입깊이를 깊게 한다.
- ④ 지하수의 배수 처리를 한다.

38. 52,500m³의 성토를 하는데 유용토로 느슨한 토량이 35,000m³가 있다. 이때 부족한 토량은 본바닥 토량으로 얼마인가?(단, $L=1.2$, $C=0.9$)

- ① 25,321m³
- ② 27,530m³
- ③ 29,166m³
- ④ 30,050m³

39. 여수로의 종류 중 댐 정상부를 월류시킬 수 없을 때 댐의 한쪽 또는 양쪽에 설치하며 월류부는 난류를 막기 위해 군

은 암반상에 일직선으로 설치하는 것은?

- ① 그롤리홀 여수로
- ② 슈트식 여수로
- ③ 사이펀 여수로
- ④ 축수로 여수로

40. 다음의 조건에서 본바닥 토량으로 환산한 1시간당 불도저의 토공 작업량은?

- 1회 굴착 압토량 : 느슨한 상태로 2.9m³
- 평균 압토거리 : 50m
- 전진속도 : 50m/min
- 후진속도 : 60m/min
- 기어 변속시간 : 0.25min
- 작업효율 : 0.7
- 토량 변화율(L) : 1.2

- ① 30m³/hr
- ② 40m³/hr
- ③ 49m³/hr
- ④ 45m³/hr

3과목 : 건설재료 및 시험

41. 수화열에 의한 균열의 문제가 없는 경우로 한중 콘크리트에 적합한 시멘트는?

- ① 조강 포틀랜드 시멘트
- ② 보통 포틀랜드 시멘트
- ③ 중용열 포틀랜드 시멘트
- ④ 실리카 시멘트

42. 화성암에 속하지 않는 석재는?

- ① 현무암
- ② 안산암
- ③ 섬록암
- ④ 편마암

43. 다음 표는 혼화재의 종류별 특성을 표시한 값이다. 적합한 혼화재의 명칭은? (순서대로 A, B, C)

혼화재	비중	미산화규소 (%)	비표면적 (m ² /kg)
A	2.85	34.1	505
B	2.10	53.8	387
C	2.30	92.5	18,850

- ① 실리카 폼, 고로슬래그, 플라이애시
- ② 고로슬래그, 플라이애시, 실리카 폼
- ③ 실리카 폼, 플라이애시, 고로슬래그
- ④ 고로슬래그, 실리카 폼, 플라이애시

44. 콘크리트에 사용되는 골재의 알칼리 골재 반응에 관한 설명으로 옳지 않은 것은?

- ① 시멘트 중 Na₂O량 및 K₂O량의 함유량과 반응성 골재에 따라 팽창성 균열이 달라 진다.
- ② 알칼리 골재 반응을 억제하기 위해 알칼리량을 0.8%이하로 한다.
- ③ 알칼리 골재 반응을 일으키기 쉬운 골재는 오팔, 트리디마이트, 크리스토팔라이트 등을 포함한 골재이다.
- ④ 알칼리 골재를 억제하기 위해 플라이애시 시멘트나 고로슬래그 시멘트를 사용한다.

45. 시멘트에 대한 설명으로 옳지 않은 것은?

- ① 분말도가 크면 수화열이 빨리 진행되어 초기강도가 크

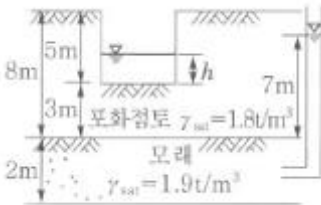
- 다.
- ② 시멘트의 강도는 시멘트 풀의 강도로 나타낸다.
- ③ 풍화된 시멘트는 비중이 감소되고 강열감량이 증가된다.
- ④ 시멘트의 팽창 정도를 알기 위해 시멘트의 안정성 시험을 한다.
46. A골재의 조립률 6.2, B골재의 조립률 7.5인 두 종류의 골재 중량비율을 7:3으로 혼합할 때 조립률은?
- ① 6.24 ② 6.59
- ③ 6.85 ④ 7.11
47. 아스팔트 혼합물의 특성에 대한 설명 중 틀린 것은?
- ① 아스팔트 침입도가 클수록 안정도가 감소한다.
- ② 골재의 최대 입경이 작을수록 안정도가 증가한다.
- ③ 공극률이 작은 골재일수록 안정도가 증가한다.
- ④ 채움재량이 적을수록 안정도가 감소한다.
48. 콘크리트에 사용되는 골재의 품질시험에 관한 설명 중 틀린 것은?
- ① 잔골재의 조립률은 2.3~3.1이 적당하다.
- ② 콘크리트용 굵은골재의 내구성을 판단하기 위해 황산나트륨에 의한 안정성 시험을 한다.
- ③ 조립률에 의한 골재의 입도를 알 수 있다.
- ④ 유기 불순물 시험의 결과 시험용액의 색도가 표준색 용액보다 연하면 콘크리트 용으로 사용할 수 없다.
49. 역청 혼합물의 배합설계에 대한 설명 중 틀린 것은?
- ① 흐름값은 최대 외력을 다져진 혼합물에 가했을 때 소성변형의 값이다.
- ② 마찰 안정도는 소성변형에 대한 저항값이다.
- ③ 최대이론밀도는 다져진 혼합물의 공극을 제외한 밀도이다.
- ④ 포화도는 다져진 혼합물의 골재 공극 중 역청재가 차지하는 질량 비율(%)로 나타낸다.
50. 고무화 아스팔트가 스트레이트 아스팔트와 비교했을 때 장점으로 틀린 것은?
- ① 응집성이 크다. ② 내후성이 크다.
- ③ 감온성이 크다. ④ 부착력이 크다.
51. 비결정질의 유리질 재료로 잠재수경성을 가지고 있으며 유리화율이 높을수록 잠재수경성 반응이 커지는 혼화재료는?
- ① 플라이애시 ② 팽창재
- ③ 실리카 폼 ④ 고로 슬래그 미분말
52. 길이가 50cm, 지름이 6cm인 강봉을 축방향으로 인장시켰을 때 길이가 8mm늘고 지름이 2mm 줄었다. 이 강봉의 푸아송의 비는?
- ① 0.48 ② 0.96
- ③ 1.04 ④ 2.08
53. 꼴을 이용하여 각목을 얇게 절단한 것으로 아름다운 결을 장식용으로 이용하기 좋은 합판은?
- ① 슬라이스 베니어 ② 로터리 베니어
- ③ 집성목판 ④ 소드 베니어
54. 석재에 대한 설명 중 틀린 것은?

- ① 석재는 구조용으로 사용할 경우 주로 인장력을 받는 부분에 사용된다.
- ② 석재는 취급에 불편하지 않게 1m³정도의 크기로 사용하는 것이 좋다.
- ③ 암석의 압축강도가 50MPa이상인 경우에는 경석이라 한다.
- ④ 퇴적암이나 변성암에나타나는 평행의 절리를 층리라 한다.
55. 골재의 실적을 시험 결과 표준밀도 2,650kg/L, 단위용적질량 1,550kg/L, 흡수율 1.6%이다. 이 골재의 공극률은?
- ① 40.6% ② 41.6%
- ③ 58.5% ④ 59.4%
56. 구리, 크롬, 니켈 등의 합금원소를 소량 함유한 강재로 일반강과 비교할 때 4~8배 이상의 내식성을 가지며 자연발생적인 색상의 미려함도 큰 장점인 강재는?
- ① 무도장 내후성강 ② 내충상 박리강
- ③ TMCP강 ④ 일반 구조용 압연 강재
57. 콘크리트용 혼화재료 중 응결지연제에 대한 설명으로 틀린 것은?
- ① 시멘트의 응결, 경화를 길게 한다.
- ② 서중 콘크리트에 이용된다.
- ③ 조기강도를 증대시켜 주는 효과가 있다.
- ④ 연속 타설 시 작업이음 발생을 방지한다.
58. 폭약에 대한 설명으로 틀린 것은?
- ① 다이너마이트보다 칼릿은 발화점이 높다.
- ② 다이너마이트의 주성분은 니트로글리세린이다.
- ③ ANFO폭약은 폭발가스량이 적고 폭발온도는 비교적 높다.
- ④ 니트로글리세린은 글리세린에 질산과 황산을 혼합하여 반응시켜 만든다.
59. 폴리머를 판상으로 압축시키며 격자 모양의 그리드 형태로 구멍을 내 일축 또는 이축으로 연신하여 제조하므로 분자배열이 잘 조정되어 높은 강도를 내어 보강 및 분리 기능의 용도로 사용되는 토목섬유는?
- ① 직포형 지오텍스타일
- ② 부직포형 지오텍스타일
- ③ 지오펜브레인
- ④ 지오그리드
60. 시멘트의 관리에 대한 설명으로 옳지 않은 것은?
- ① 포대 시멘트는 13포 이상 쌓아 저장해서는 안된다.
- ② 보통 60℃이하 온도의 시멘트를 사용하면 콘크리트 품질에 영향이 없다.
- ③ 시멘트는 방습적인 구조에서 저장한다.
- ④ 저장 중에 약간이라도 굳은 시멘트는 사용해서는 안 된다.
- 4과목 : 토질 및 기초
61. 포화된 점토시료에 대해 비압밀 비배수 삼축압축시험을 실시하여 얻어진 비배수 전단강도는 180kg/cm²이었고 이 시험에서 가한 구속응력은 240kg/cm²이었다. 만약 동일한 점

토시료에 대해 또 한 번의 비압밀 비배수 삼축압축시험을 실시할 경우 전단 파괴 시에 예상되는 축차응력의 크기는? (단, 이번 시험에서 가해질 구속응력의 크기는 400kg/cm^2)

- ① 90kg/cm^2 ② 180kg/cm^2
 ③ 360kg/cm^2 ④ 540kg/cm^2

62. 다음 그림과 같이 피압수압을 받고 있는 2m 두께의 모래층이 있다. 그 위의 포화된 점토층을 5m 깊이로 굴착하는 경우 분사현상이 발생하지 않기 위한 수심(h)는 최소 얼마를 초과하도록 하여야 하는가?

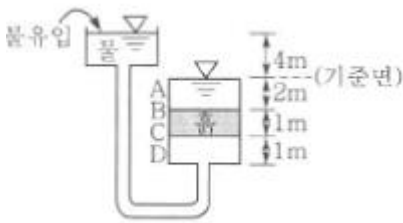


- ① 1.3m ② 1.6m
 ③ 1.9m ④ 2.4m

63. 표준관입시험(S.P.T)결과 N치가 30였고, 그 때 채취한 교란 시료로 입도시험을 한 결과 입자가 동글고, 입도분포가 불량할 때 Dunham공식에 의해서 구한 내부 마찰각은?

- ① 33.97° ② 37.3°
 ③ 42.3° ④ 48.3°

64. 다음 그림에서 C점의 압력수두 및 전수두 값은 얼마인가?



- ① 압력수두 3m, 전수두 2m
 ② 압력수두 7m, 전수두 0m
 ③ 압력수두 3m, 전수두 3m
 ④ 압력수두 7m, 전수두 4m

65. 다져진 흙의 역학적 특성에 대한 설명으로 틀린 것은?

- ① 다짐에 의하여 간극이 작아지고 부착력이 커져서 역학적 강도 및 지지력은 증대하고 압축성, 흡수성 및 투수성은 감소한다.
 ② 점토를 최적함수비보다 약간 건조측의 함수비로 다지면 면모구조를 가지게 된다.
 ③ 점토를 최적함수비보다 약간 습윤측에서 다지면 투수계수가 감소하게 된다.
 ④ 면모구조를 파괴시키지 못할 정도의 작은 압력으로 점토 시료를 압밀할 경우 건조측 다짐을 한 시료가 습윤측 다짐을 한 시료보다 압축성이 크게 된다.

66. Terzaghi의 극한지지력 공식에 대한 설명으로 틀린 것은?

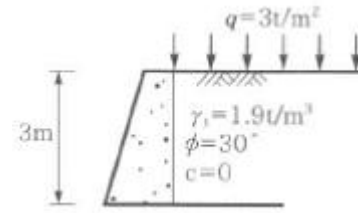
- ① 기초의 형상에 따라 형상계수를 고려하고 있다.
 ② 지지력계수 N_c , N_q , N_γ 는 내부마찰각에 의해 결정된다.
 ③ 점성토에서의 극한지지력은 기초의 근입깊이가 깊어지면 증가된다.

- ④ 극한지지력은 기초의 폭에 관계없이 기초하부의 흙에 의해 결정된다.

67. 토질실험 결과 내부마찰각(ϕ)= 30° , 점착력 $c=0.5\text{kg/cm}^2$, 간극수압이 8kg/cm^2 이고 파괴면에 작용하는 수직응력이 30kg/cm^2 일 때 이 흙의 전단응력은?

- ① 12.7kg/cm^2 ② 13.2kg/cm^2
 ③ 15.8kg/cm^2 ④ 19.5kg/cm^2

68. 그림과 같이 옹벽 배면의 지표면에 등분포하중이 작용할 때, 옹벽에 작용하는 전체 주동토압의 합력(P_a)와 옹벽 저면으로부터 합력의 작용점까지의 높이(h)는?



- ① $P_a=2.85\text{t/m}$, $h=1.26\text{m}$ ② $P_a=2.85\text{t/m}$, $h=1.38\text{m}$
 ③ $P_a=5.85\text{t/m}$, $h=1.26\text{m}$ ④ $P_a=5.85\text{t/m}$, $h=1.38\text{m}$

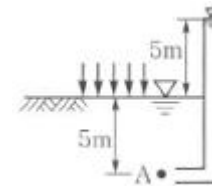
69. 어떤 흙 1,200g(함수비 20%)과 흙 2,600g(함수비 30%)을 섞으면 그 흙의 함수비는 약 얼마인가?

- ① 21.1% ② 25.0%
 ③ 26.7% ④ 29.5%

70. 동결된 지반이 해빙기에 융해되면서 얼음 렌즈가 녹은 물이 빨리 배수되지 않으면 흙의 함수비는 원래보다 훨씬 큰 값이 되어 지반의 강도가 감소하게 되는데 이러한 현상을 무엇이라 하는가?

- ① 동상현상 ② 연화현상
 ③ 분사현상 ④ 모세관현상

71. 그림과 같은 지반에 재하순간 수주(水柱)가 지표면으로부터 5m이었다. 20% 압밀이 일어난 후 지표면으로부터 수주의 높이는?



- ① 1m ② 2m
 ③ 3m ④ 4m

72. 사면안정계산에 있어서 Fellenius법과 간편 Bishop법의 비교 설명 중 틀린 것은?

- ① Fellenius법은 간편 Bishop법보다 계산은 복잡하지만 계산결과는 더 안전측이다.
 ② 간편 Bishop법은 절편의 양쪽에 작용하는 연직 방향의 합력은 0(zero)이라고 가정한다.
 ③ Fellenius법은 절편의 양쪽에 작용하는 합력은 0(zero)이라고 가정한다.
 ④ 간편 Bishop법은 안전율을 시행착오법으로 구한다.

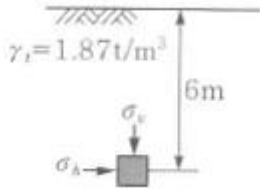
73. 폭 10cm, 두께 3mm인 Paper drain설계 시 Sand drain의 직경과 동등한 값(등치환산원의 지름)으로 볼 수 있는 것은?

- ① 2.5cm ② 5.0cm
③ 7.5cm ④ 10.0cm

74. 다음의 연약지반개량공법에서 일시적인 개량공법은?

- ① well point 공법 ② 치환공법
③ paper drain 공법 ④ sand compaction pile 공법

75. 다음 그림에서 지표면에서 깊이 6m에서의 연직응력(σ_v)과 수평응력(σ_h)의 크기를 구하면?(단, 토압계수는 0.6이다.)



- ① $\sigma_v=12.34t/m^2$, $\sigma_h=7.4t/m^2$
② $\sigma_v=8.73t/m^2$, $\sigma_h=5.24t/m^2$
③ $\sigma_v=11.22t/m^2$, $\sigma_h=6.73t/m^2$
④ $\sigma_v=9.52t/m^2$, $\sigma_h=5.71t/m^2$

76. 100% 포화된 흐트러지지 않은 시료의 부피가 $25cm^3$ 이고 무게는 40g이었다. 이 시료를 건조로에서 건조시킨 후의 무게가 24g일 때 간극비는 얼마인가?

- ① 1.36 ② 1.80
③ 1.62 ④ 1.70

77. 말뚝이 20개인 군항기초에 있어서 효율이 0.75이고 단항으로 계산된 말뚝 한 개의 허용 지지력이 15ton일 때 군항의 허용지지력은 얼마인가?

- ① 112.5ton ② 225ton
③ 300ton ④ 400ton

78. 평판재하실험 결과로부터 지반의 허용지지력 값은 어떻게 결정하는가?

- ① 항복강도의 1/2, 극한강도의 1/3 중 작은 값
② 항복강도의 1/2, 극한강도의 1/3 중 큰 값
③ 항복강도의 1/3, 극한강도의 1/2 중 작은 값
④ 항복강도의 1/3, 극한강도의 1/2중 큰 값

79. 흙속에서의 물의 흐름에 대한 설명으로 틀린 것은?

- ① 흙의 간극은 서로 연결되어 있어 간극을 통해 물이 흐를 수 있다.
② 특히 사질토의 경우에는 실험실에서 현장 흙의 상태를 재현하기 곤란하기 때문에 현장에서 투수시험을 실시하여 투수계수를 결정하는 것이 좋다.
③ 점토가 이산구조로 퇴적되었다면 면모구조인 경우보다 더 큰 투수계수를 갖는 것이 보통이다.
④ 흙이 포화되지 않았다면 포화된 경우보다 투수계수는 낮게 측정된다.

80. 토질조사에 대한 설명 중 옳지 않은 것은?

- ① 사운딩(Sounding)이란 지중에 저항체를 삽입하여 토층의 성상을 파악하는 현장 시험이다.
② 불교란시료를 얻기 위해서 Foil Sampler, Thin wall tube sampler등이 사용된다.
③ 표준관입시험은 로드(Rod)의 길이가 길어질수록 N치가

작게 나온다.

- ④ 베인 시험은 정적인 사운딩이다.

전자문제집 CBT PC 버전 : www.comcbt.com

전자문제집 CBT 모바일 버전 : m.comcbt.com

기출문제 및 해설집 다운로드 : www.comcbt.com/x

전자문제집 CBT란?

종이 문제집이 아닌 인터넷으로 문제를 풀고 자동으로 채점하며 모의고사, 오답 노트, 해설까지 제공하는 무료 기출문제 학습 프로그램으로 실제 시험에서 사용하는 OMR 형식의 CBT를 제공합니다.

PC 버전 및 모바일 버전 완벽 연동
교사용/학생용 관리기능도 제공합니다.

오답 및 오탈자가 수정된 최신 자료와 해설은 전자문제집 CBT에서 확인하세요.

1	2	3	4	5	6	7	8	9	10
④	②	③	②	④	③	②	①	②	③
11	12	13	14	15	16	17	18	19	20
④	③	④	②	②	②	②	①	④	④
21	22	23	24	25	26	27	28	29	30
②	③	③	①	②	③	②	③	①	①
31	32	33	34	35	36	37	38	39	40
③	①	②	④	④	③	①	③	④	③
41	42	43	44	45	46	47	48	49	50
①	④	②	②	②	②	②	④	④	③
51	52	53	54	55	56	57	58	59	60
④	④	①	①	①	①	③	③	④	②
61	62	63	64	65	66	67	68	69	70
③	②	①	④	④	④	②	③	③	②
71	72	73	74	75	76	77	78	79	80
④	①	②	①	③	②	②	①	③	③