

1과목 : 콘크리트공학

1. 다음 중 경화콘크리트의 강도 추정을 위한 비파괴 시험법이 아닌 것은?

- ① 반발경도법 ② 초음파속도법
③ 조합법 ④ 비중계법

2. 콘크리트의 다짐방법으로 내부진동기를 사용한 경우와 비교할 때 원심력 다짐의 특징이 아닌 것은?

- ① 물-시멘트비를 줄일 수 있다.
② 강도가 감소하는 경향이 있다.
③ 재료분리가 일어나기 쉽다.
④ 원통형이 제품을 생산하기 쉽다.

3. 해양 콘크리트 구조물이 해양 환경에 의한 철근 부식에 영향을 가장 많이 받는 위치는?

- ① 해중 ② 해상대기중
③ 물보라 지역 ④ 구조물의 내부

4. 콘크리트의 워커빌리티(workability)를 측정하기 위한 시험 방법 중 콘크리트에 일정한 에너지를 가하는 밀도의 변화를 수치적으로 나타내는 시험법은?

- ① 흐름 시험(flow test)
② 슬럼프 시험(slump test)
③ 리몰딩 시험(remolding test)
④ 다짐 계수 시험(compacting factor test)

5. 팽창콘크리트의 팽창률에 대한 설명으로 틀린 것은?

- ① 콘크리트의 팽창률은 일반적으로 재령 28일에 대한 시험치를 기준으로 한다.
② 수축보상용 콘크리트의 팽창률은 $(150 \sim 250) \times 10^{-6}$ 을 표준으로 한다.
③ 화학적 프리스트레스용 콘크리트의 팽창률은 $(200 \sim 700) \times 10^{-6}$ 을 표준으로 한다.
④ 공장제품에 사용되는 화학적 프리스트레스용 콘크리트의 팽창률은 $(200 \sim 1000) \times 10^{-6}$ 을 표준으로 한다.

6. 굵은 골재 최대 치수는 질량비로서 전체 골재질량의 몇 % 이상을 통과시키는 체의 최소 호칭치수를 의미하는가?

- ① 80% ② 85%
③ 90% ④ 95%

7. 단면적이 600cm^2 인 프리스트레스 콘크리트에서 콘크리트 도심에 PS강선을 배치하고 초기프리스트레스 $P_i = 340000\text{ N}$ 을 가할 때 콘크리트의 탄성변형에 의한 프리스트레스의 감소량은 얼마인가? (단, 탄성계수비 $n = 6$ 이다.)

- ① 34 MPa ② 38 MPa
③ 42 MPa ④ 46 MPa

8. 매스 콘크리트의 균열을 방지하기 위한 대책으로 잘못된 것은?

- ① 수화열이 적은 시멘트를 사용한다.
② 단위 시멘트량을 적게 한다.
③ 슬럼프를 크게 한다.
④ 프리쿨링을 실시한다.

9. 레디믹스트 콘크리트에서 보통콘크리트 공기량의 허용 오차

는?

- ① $\pm 1\%$ ② $\pm 1.5\%$
③ $\pm 2\%$ ④ $\pm 2.5\%$

10. 유동화 콘크리트의 슬럼프 증가량은 몇 mm 이하를 원칙으로 하는가?

- ① 50 mm ② 80 mm
③ 100 mm ④ 120 mm

11. 소규모 공사에서 배합강도, $f_{cr}=24\text{MPa}$ 을 얻기 위해서

$f_{28} = -21.0 + 21.5 \frac{C}{W}$ 식을 사용한다면 시멘트-물 비는?

- ① 1.94 ② 2.00
③ 2.09 ④ 2.15

12. 결합재로 시멘트와 시멘트 혼화용 폴리머(또는 폴리머 혼화제)를 사용한 콘크리트는?

- ① 폴리머 시멘트 콘크리트 ② 폴리머 함침 콘크리트
③ 폴리머 콘크리트 ④ 레진 콘크리트

13. 다음은 고강도 콘크리트에 대한 설명이다. 옳지 않은 것은?

- ① 고강도 콘크리트는 공기연행 콘크리트로 하는 것을 원칙으로 한다.
② 고강도 콘크리트에 사용하는 골재의 품질기준에 의하면, 잔골재의 염화물 이온량은 0.02% 이하이다.
③ 고강도 콘크리트의 설계기준압축강도는 일반적으로 40MPa 이상으로 하며, 고강도 경량골재 콘크리트는 27MPa 이상으로 한다.
④ 고강도 콘크리트에 사용하는 골재의 품질기준에 의하면, 잔골재의 흡수율은 3% 이하, 굵은 골재의 흡수율은 2% 이하이다.

14. 콘크리트의 양생에 대한 설명 중 틀린 것은?

- ① 수밀성 콘크리트의 습윤 양생 기간은 일반 경우보다 길게 한다.
② 양생은 장기 강도에 영향을 끼치므로 28일 이후의 양생에 특히 주의한다.
③ 콘크리트를 타설한 후 급격히 온도가 상승할 경우 콘크리트가 건조하지 않도록 주의한다.
④ 콘크리트를 타설한 후 경화를 시작하기까지 직사광선을 피한다.

15. 시험배상표상 단위잔골재량은 643 kg/m^3 이며, 단위 굵은 골재량은 1212 kg/m^3 이다. 현장배합을 위한 단위 잔골재량은 얼마인가? (단, 현장 골재의 체분석 결과 잔골재 중 5mm체에 남는 것이 5%, 굵은 골재 중 5mm체를 통과하는 것이 10% 이다.)

- ① 538 kg/m^3 ② 588 kg/m^3
③ 613 kg/m^3 ④ 637 kg/m^3

16. 양단이 정착된 프리텐션 부재의 한 단에서의 활동량이 2mm로 양단 활동량이 4mm일 때 강재의 길이가 10m라면 이 때의 프리스트레스 감소량으로 맞는 것은? (단, 긴장재의 탄성계수(E_p)= $2.0 \times 10^5\text{MPa}$)

- ① 80 MPa ② 100 MPa
③ 120 MPa ④ 140 MPa

32. 다음과 같은 점토 지반에서 연속 기초의 극한 지지력을 Terzaghi 방법으로 구하면 얼마인가? (단, 흙의 점착력 1.5 t/m^2 , 기초의 깊이 1m , 흙의 단위중량 1.6 t/m^3 , 지지력 계수 $N_c = 5.3$, $N_q = 1.0$)

- ① 7.05 t/m² ② 8.78 t/m²
 ㉓ 9.55 t/m² ④ 12.98 t/m²

33. 성토재료로서 사질토와 점성토의 특징에 대한 설명 중 옳지 않은 것은?

- ① 사질토는 횡방향 압력이 크고 점성토는 작다.
 ② 사질토는 다짐과 배수가 양호하다.
 ③ 점성토는 전단강도가 작고 압축성과 소성이 크다.
 ④ 사질토는 동결 피해가 작고 점성토는 동결 피해가 크다.

34. 옹벽에 작용하는 토압을 산정하기 위해 Rankine의 토압론을 적용하고자 한다. Rankine 토압계산 시 이용되는 기본 가정이 아닌 것은?

- ① 토압을 지표에 평행하게 작용한다.
 ② 흙은 매우 균질한 재료이다.
 ③ 흙은 비압축성 재료이다.
 ④ 지표면은 유한한 평면으로 존재한다.

35. 말뚝 기초공사에는 많은 말뚝을 박아야 하는데 일반적인 원칙은?

- ① 외측에서 먼저 박는다.
 ② 중앙부에서 먼저 박는다.
 ③ 중앙부에서 좀 떨어진 부분부터 먼저 박는다.
 ④ +자형으로 먼저 박는다.

36. 각종 준설선에 관한 설명 중 옳지 않은 것은?

- ① 그래브준설선은 버킷으로 해저의 토사를 굴삭하여 적재하고 운반하는 준설선을 말한다.
 ② 디퍼준설선은 파쇄된 암석이나 발파된 암석의 준설에는 부적당하다.
 ③ 펌프준설선은 사질해저의 대량준설과 매립을 동시에 시행할 수 있다.
 ④ 쇄암선은 해저의 암반을 파쇄하는 데 사용한다.

37. 도로공사에서 성토해야 할 토량이 36000m³ 인데 흐트러진 토량이 30000m³가 있다. 이때 L = 1.25, C = 0.9라면 자연상태 토량의 부족토량은?

- ① 8000 m³ ② 12000 m³
 ㉓ 16000 m³ ④ 20000 m³

38. 불투수층에서 최소 침강 지하수면까지의 거리를 1m, 암거의 간격 10m, 투수계수 $k=1 \times 10^{-5}$ cm/s라 할 때 이 암거의 단위 길이당 배수량을 Donnan식에 의하여 구하면 얼마인가?

- ① 2×10^{-2} cm³/cm/s ② 2×10^{-4} cm³/cm/s
 ③ 4×10^{-2} cm³/cm/s ④ 4×10^{-4} cm³/cm/s

39. 단독 말뚝의 지지력과 비교하여 무리 말뚝 한 개의 지지력에 관한 설명으로 옳은 것은? (단, 마찰말뚝이라 한다.)

- ① 두 말뚝의 지지력이 똑같다.
 ② 무리 말뚝의 지지력이 크다.
 ㉓ 무리 말뚝의 지지력이 작다.
 ④ 무리 말뚝의 크기에 따라 다르다.

40. 본바닥의 토량 500m³을 6일 동안에 걸쳐 성토장까지 운반하고자 한다. 이 때 필요한 덤프트럭을 몇 대인가? (단, 토량 변화율 L=120, 1대 1일당의 운반횟수는 5회, 덤프트럭의 적재용량은 5m³으로 한다.)

- ① 1대 ② 4대
 ③ 6대 ④ 8대

3과목 : 건설재료 및 시험

41. 고무혼입 아스팔트(rubberized asphalt)를 스트레이트 아스팔트와 비교할 때 특징으로 옳지 않은 것은?

- ① 응집성 및 부착성이 크다. ② 내노화성이 크다.
 ③ 마찰계수가 크다. ㉓ 감온성이 크다.

42. 용어의 설명으로 틀린 것은?

- ① 인장력에 재료가 길게 늘어나는 성질을 연성이라 한다.
 ② 외력에 의한 변형이 크게 일어나는 재료를 강성이 큰 재료라고 한다.
 ③ 작은 변형에도 쉽게 파괴되는 성질을 취성이라 한다.
 ④ 재료를 두들길 때 옆게 퍼지는 성질을 전성이라 한다.

43. 목재에 대한 설명으로 틀린 것은?

- ① 목재의 벌목에 적당한 시기는 가을에서 겨울에 걸친 기간이다.
 ② 목재의 건조방법 중 끓임법은 자연건조법의 일종이다.
 ③ 목재의 방부처리법은 표면처리법과 방부제 주입법으로 크게 나눌 수 있다.
 ④ 목재의 비중은 보통 기건비중을 말하며 이때의 함수율은 15% 전후이다.

44. 콘크리트용 굵은 골재의 내구성을 판단하기 위해서 황산나트륨에 의한 안정성 시험을 할 경우 조작을 5번 반복했을 때 굵은 골재의 손실질량은 얼마 이하를 표준으로 하는가?

- ① 5% ② 8%
 ③ 10% ㉓ 12%

45. 잔골재의 밀도 및 흡수율 시험(KS F 2504)에 대한 설명으로 틀린 것은?

- ① 일반적으로 플라스크는 검정된 것으로써 100mL로 하는 경우가 많다.
 ② 절대 건조 상태의 체적에 대한 절대 건조 상태의 질량을 진밀도라고 한다.
 ③ 밀도는 2회 시험의 평균값으로 결정하는데 이때 시험값은 평균과의 차이가 0.01g/cm³ 이하여야 한다.
 ④ 흡수율은 2회 시험의 평균값으로 결정하는데 이때 시험값은 평균과의 차이가 0.05% 이하여야 한다.

46. 시멘트 조성 광물에서 수축률이 가장 큰 것은?

- ① C₃S ② C₃A
 ③ C₄AF ④ C₂S

47. 아스팔트의 특성에 대한 설명 중 틀린 것은?

- ① 점성과 감온성이 있다.
 ② 불투수성이어서 방수재료로도 사용된다.
 ③ 점착성이 크고 부착성이 좋기 때문에 결합재료, 점착재료로 사용한다.
 ㉓ 아스팔트는 증발감량이 작다.

48. 포틀랜드시멘트 주성분의 함유 비율에 대한 시멘트의 특성을 설명한 것으로 옳은 것은?

- ① 수경률(H.M)이 크면 초기 강도가 크고 수화열이 큰 시멘트가 생긴다.
- ② 규산율(S.M)이 크면 C_3A 가 많이 생성되어 초기 강도가 크다.
- ③ 철률(I.M)이 크면 초기 강도는 작고 수화열이 작아지며 화학 저항성이 높은 시멘트가 된다.
- ④ 일반적으로 중용열 포틀랜드 시멘트가 조강 포틀랜드 시멘트보다 수경률(H.M)이 크다.
49. 고로슬래그 미분말을 사용한 콘크리트에 대한 설명으로 잘못된 것은?
- ① 수밀성이 향상된다.
- ② 염화물이온 침투 억제에 의한 철근 부식억제에 효과가 있다.
- ③ 수화발열 속도가 빨라 조기강도가 향상된다.
- ④ 블리딩이 작고 유동성이 향상된다.
50. 석재의 내구성에 관한 설명으로 옳지 않은 것은?
- ① 알루미늄 화합물, 규산, 규산염류는 풍화가 잘 되지 않는 조암광물이다.
- ② 동일한 석재라도 풍토, 기후, 노출 상태에 따라 풍화 속도가 다르다.
- ③ 흡수율이 작은 석재일수록 동해를 받기 쉽고 내구성이 약하다.
- ④ 조암광물의 풍화 정도에 따라 내구성이 달라진다.
51. 다음 중 토목공사 발파에 사용되는 것으로 폭발력이 가장 약한 것은?
- ① 흑색화약
- ② T.N.T
- ③ 다이너마이트(dynamite)
- ④ 칼릿(carlit)
52. 광물질 혼화재 중의 실리카가 시멘트 수화 생성물인 수산화칼륨과 반응하여 장기 강도 증진 효과를 발휘하는 현상을 무엇이라 하는가?
- ① 포졸란 반응(pozzolan reaction)
- ② 수화 반응(hydration reaction)
- ③ 볼 베어링(ball bearing) 작용
- ④ 충전(filler) 효과
53. 잔골재의 조립률 2.3, 굵은 골재의 조립률 7.0을 사용하여 잔골재와 굵은 골재를 1 : 1.5 의 비율로 혼합하면 이때 혼합된 골재의 조립률은?
- ① 4.92
- ② 5.12
- ③ 5.32
- ④ 5.52
54. 컷백 아스팔트(Cutback asphalt) 중 건조가 가장 빠른 것은?
- ① MC
- ② SC
- ③ LC
- ④ RC
55. 시멘트의 저장 방법으로 옳지 않은 것은?
- ① 방습 구조로 된 사일로(silo) 또는 창고에 품종별로 구분하여 저장한다.
- ② 3개월 이상 장기간 저장한 시멘트는 사용하기 전에 시험을 실시한다.
- ③ 포대시멘트는 지상 100mm 이상 되는 마루에 쌓아 저장한다.

④ 저장 중에 약간이라도 굳은 시멘트는 공사에 사용해서는 안 된다.

56. 길이가 15cm인 어떤 금속을 17cm로 인장시켰을 때 폭이 6cm에서 5.8cm가 되었다. 이 금속의 푸아송 비는?

- ① 0.15 ② 0.20
③ 0.25 ④ 0.30

57. 어떤 모래를 체가름 시험한 결과가 아래의 표와 같을 때 조립률은?

체	10 mm	5 mm	2.5 mm	1.2 mm	0.6 mm	0.3 mm	0.15 mm	패
체의 잔류율 (%)	0	2	8	20	26	23	16	5

- ☐ ① 2.56 ☐ ② 2.68
☒ ③ 2.72 ☐ ④ 3.72

58. 콘크리트용 혼화재료에 관한 설명 중 틀린 것은?

- ① 플라이애시를 사용한 콘크리트의 경우 목표 공기량을 얻기 위해서는 플라이애시를 사용하지 않은 콘크리트에 비해 AE제의 사용량이 증가된다.
- ② 고로슬래그 미분말은 비결정질의 유리질 재료를 잠재수경성을 가지고 있으며, 유리화율이 높을수록 잠재수경성 반응은 커진다.
- ③ 실리카푸름은 평균입경이 $0.1\mu\text{m}$ 크기의 초미립자로 이루어진 비결정질 재료로 포졸란 반응을 한다.
- ④ 팽창재를 사용한 콘크리트 팽창률 및 압축강도는 팽창재 혼입량이 증가되면 될수록 증가한다.

59. 토목섬유(geotextiles)의 특징에 대한 설명으로 틀린 것은?

- ① 인장강도가 크다.
- ② 탄성계수가 작다.
- ③ 차수성, 분리성, 배수성이 크다.
- ④ 수축을 방지한다.

60. 암석의 구조에 대한 설명 중 옳은 것은?

- ① 암석의 가공이나 채석에 이용되는 것으로 갈라지기 쉬운 면을 석리라 한다.
- ② 퇴적암이나 변성암의 일부에서 생기는 평행상의 절리를 벽개라 한다.
- ③ 암석 특유의 천연적으로 갈라진 금을 절리라 한다.
- ④ 암석을 구성하고 있는 조암광물의 집합상태에 따라 생기는 누모암을 층리라 한다.

4과목 : 토질 및 기초

61. Rod에 붙인 어떤 저항체를 지중에 넣어 관입, 인발 및 회전
에 의해 흙의 전단강도를 측정하는 원위치 시험은?

- ① 보링(boring) ❷ 사운딩(sounding)
③ 시료채취(sampling) ④ 비파괴 시험(NDT)

62. 사면의 안정에 관한 다음 설명 중 옳지 않은 것은?

- ① 임계 활동면이라 안전율이 가장 크게 나타나는 활동면을

말한다.

- ② 안전율이 최소로 되는 활동면을 이루는 원을 임계원이라 한다.
- ③ 활동면에 발생하는 전단응력이 흙의 전단강도를 초과할 경우 활동이 일어난다.
- ④ 활동면은 일반적으로 원형활동면으로 가정한다.

63. 모래의 밀도에 따라 일어나는 전단특성에 대한 다음 설명 중 옳지 않은 것은?

- ① 다시 성형한 시료의 강도는 작아지지만 조밀한 모래에서는 시간이 경과됨에 따라 강도가 회복 된다.
- ② 내부마찰각(ϕ)은 조밀한 모래일수록 크다.
- ③ 직접 전단시험에 있어서 전단응력과 수평변위 곡선은 조밀한 모래에서는 peak가 생긴다.
- ④ 조밀한 모래에서는 전단변형이 계속 진행되면 부피가 팽창한다.

64. 모래지반에 30cm×30cm의 재하판으로 재하실험을 한 결과 10t/m²의 극한 지지력을 얻었다. 4m×4m의 기초를 설치할 때 기대되는 극한지지력은?

- ① 10 t/m² ② 100 t/m²
- ③ 133 t/m² ④ 154 t/m²

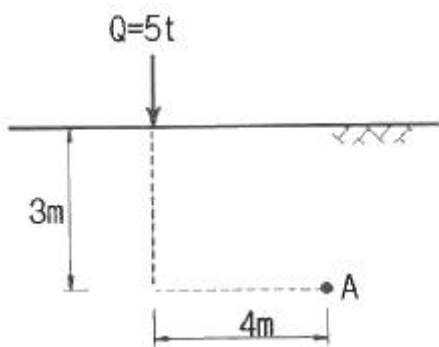
65. 단동식 증기 해머로 말뚝을 박았다. 해머의 무게 2.5t, 낙하고 3m, 타격 당 말뚝의 평균 관입량 1cm, 안전율 6 일 때 Engineering-News 공식으로 허용지지력을 구하면?

- ① 250 t ② 200 t
- ③ 100 t ④ 50 t

66. 흙의 다짐 효과에 대한 설명 중 틀린 것은?

- ① 흙의 단위중량 증가 ② 투수계수 감소
- ③ 전단강도 저하 ④ 지반의 지지력 증가

67. 아래 그림과 같이 지표면에 집중하중이 작용할 때 A점에서 발생하는 연직응력의 증가량은?

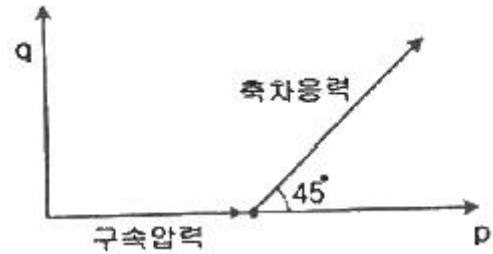


- ① 20.6 kg/m² ② 24.4 kg/m²
- ③ 27.2 kg/m² ④ 30.3 kg/m²

68. 다음 중 점성토 지반의 개량공법으로 거리가 먼 것은?

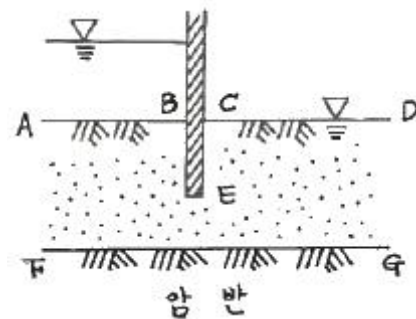
- ① paper drain 공법
- ② vibro-flotation 공법
- ③ chemico pile 공법
- ④ sand compaction pile 공법

69. 다음은 전단시험을 한 응력경로이다. 어느 경우인가?



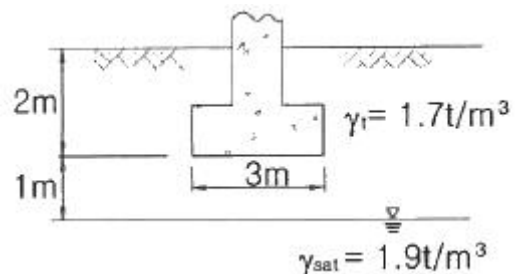
- ① 초기단계의 최대주응력과 최소주응력이 같은 상태에서 시행한 삼축압축시험의 전응력 경로이다.
- ② 초기단계의 최대주응력과 최소주응력이 같은 상태에서 시행한 일축압축시험의 전응력 경로이다.
- ③ 초기단계의 최대주응력과 최소주응력이 같은 상태에서 $K_0=0.5$ 인 조건에서 시행한 삼축압축시험의 전응력 경로이다.
- ④ 초기단계의 최대주응력과 최소주응력이 같은 상태에서 $K_0=0.7$ 인 조건에서 시행한 일축압축시험의 전응력 경로이다.

70. 다음과 같이 널말뚝을 박은 지반의 유선망을 작도하는데 있어서 경계조건에 대한 설명으로 틀린 것은?



- ① \overline{AB} 는 등수두선이다.
- ② \overline{CD} 는 등수두선이다.
- ③ \overline{FG} 는 유선이다.
- ④ \overline{BEC} 는 등수두선이다.

71. 아래 그림과 같은 3m×3m 크기의 정사각형 기초의 극한지지력을 Terzaghi 공식으로 구하면? (단, 내부마찰각(ϕ)은 20°, 점착력(c)은 5t/m², 지지력계수 $N_c=18$, $N_q=5$, $N_\gamma=7.5$ 이다.)



- ① 135.71 t/m² ② 149.52 t/m²
- ③ 157.26 t/m² ④ 174.38 t/m²

72. 흙 입자의 비중은 2.56, 함수비는 35%, 습윤단위중량은 1.75g/cm³ 일 때 간극률은 약 얼마인가?

- ① 32% ② 37%

③ 43%

④ 49%

73. 토압에 대한 다음 설명 중 옳은 것은?

- ① 일반적으로 정지토압 계수는 주동토압 계수보다 작다.
- ② Rankine 이론에 의한 주동토압의 크기는 Coulomb 이론에 의한 값보다 작다.
- ③ 옹벽, 흙막이벽체, 널말뚝 중 토압분포가 삼각형 분포에 가장 가까운 것은 옹벽이다.
- ④ 극한 주동상태는 수동상태보다 훨씬 더 큰 변위에서 발생한다.

74. 어떤 종류의 흙에 대해 직접전단(일면전단) 시험을 한 결과 아래 표와 같은 결과를 얻었다. 이 값으로부터 점착력(c)을 구하면? (단, 시료의 단면적은 10cm^2 이다.)

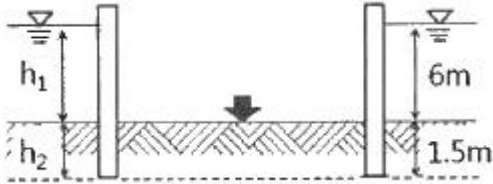
수직하중(kg)	10.0	20.0	30.0
전단력(kg)	24.785	25.570	26.355

- ① 3.0 kg/cm^2
- ② 2.7 kg/cm^2
- ③ 2.4 kg/cm^2
- ④ 1.9 kg/cm^2

75. 예빈비가 큰 점토란 어느 것인가?

- ① 입자의 모양이 날카로운 점토
- ② 입자가 가늘고 긴 형태의 점토
- ③ 다시 반죽했을 때 강도가 감소하는 점토
- ④ 다시 반죽했을 때 강도가 증가하는 점토

76. 그림과 같이 모래층에 널말뚝을 설치하여 물막이공 내의 물을 배수하였을 때, 분사현상이 일어나지 않게 하려면 얼마의 압력(↓)을 가하여야 하는가? (단, 모래의 비중은 2.65, 간극비는 0.65, 안전율은 3)



- ① 6.5 t/m^2
- ② 16.5 t/m^2
- ③ 23 t/m^2
- ④ 33 t/m^2

77. 표준압밀시험을 하였더니 하중 강도가 2.4kg/cm^2 에서 3.6kg/cm^2 로 증가할 때 간극비는 1.8에서 1.2로 감소하였다. 이 흙의 최종침하량은 약 얼마인가? (단, 압밀층의 두께는 20m 이다.)

- ① 428.64 m
- ② 214.29 m
- ③ 642.86 m
- ④ 285.71 m

78. 토립자가 둥글고 입도분포가 나쁜 모래 지반에서 표준관입 시험을 한 결과 N치는 10이었다. 이 모래의 내부 마찰각을 Dunham의 공식으로 구하면?

- ① 21°
- ② 26°
- ③ 31°
- ④ 36°

79. 말뚝의 부마찰력에 대한 설명 중 틀린 것은?

- ① 부마찰력이 작용하면 지지력이 감소한다.
- ② 연약지반에 말뚝을 박은 후 그 위에 성토를 한 경우 일어나기 쉽다.

③ 부마찰력은 말뚝 주변 침하량이 말뚝의 침하량보다 클 때 아래로 끌어내리는 마찰력을 말한다.

④ 연약한 점토에 있어서는 상대변위의 속도가 느릴수록 부마찰력은 크다.

80. 유선망의 특징을 설명한 것으로 옳지 않은 것은?

- ① 각 유로의 침투유량은 같다.
- ② 유선과 등수두선은 서로 직교한다.
- ③ 유선망으로 이루어지는 사각형은 이론상 정사각형이다.
- ④ 침투속도 및 동수경사는 유선망의 폭에 비례한다.

전자문제집 CBT PC 버전 : www.comcbt.com

전자문제집 CBT 모바일 버전 : m.comcbt.com

기출문제 및 해설집 다운로드 : www.comcbt.com/xe

전자문제집 CBT란?

종이 문제집이 아닌 인터넷으로 문제를 풀고 자동으로 채점하며 모의고사, 오답 노트, 해설까지 제공하는 무료 기출문제 학습 프로그램으로 실제 시험에서 사용하는 OMR 형식의 CBT를 제공합니다.

PC 버전 및 모바일 버전 완벽 연동
교사용/학생용 관리기능도 제공합니다.

오답 및 오탈자가 수정된 최신 자료와 해설은 전자문제집 CBT에서 확인하세요.

1	2	3	4	5	6	7	8	9	10
④	②	③	④	①	③	①	③	②	③
11	12	13	14	15	16	17	18	19	20
③	①	①	②	①	①	④	②	④	④
21	22	23	24	25	26	27	28	29	30
②	①	③	①	④	①	④	④	③	②
31	32	33	34	35	36	37	38	39	40
④	③	①	④	②	②	③	④	③	②
41	42	43	44	45	46	47	48	49	50
④	②	②	④	①	②	④	①	③	③
51	52	53	54	55	56	57	58	59	60
①	①	②	④	③	③	③	④	②	③
61	62	63	64	65	66	67	68	69	70
②	①	①	③	③	③	①	②	①	④
71	72	73	74	75	76	77	78	79	80
②	④	③	③	③	②	①	②	④	④