

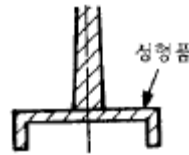
1과목 : 임의구분

- 드로잉 가공된 통모양의 측벽을 얇게 가공하는 방법으로 밑바닥의 두께와 벽의 두께가 다른 용기를 얻을 수 있는 가공은 어느 것인가?
 ① 아이어닝 가공 ② 역드로잉 가공
 ③ 재드로잉 가공 ④ 드로잉 가공
- 다이속에 놓여진 금속재에 펀치로 강한 압력을 가하여 다이의 개구부로 부터 펀치의 진행 방향으로 재료를 유출시켜 제품을 만드는 가공은?
 ① 충격 압출가공 ② 후방 압출가공
 ③ 전방 압출가공 ④ 업세팅 가공
- 드로잉 가공된 용기의 바닥 부분 파단 대책으로 맞지 않는 것은?
 ① 펀치와 다이의 모서리 반지름을 크게 한다
 ② 블랭크 홀더의 압력을 조정하여 적당히 한다
 ③ 블랭크 치수를 적당하게 하고 클리어런스를 작게한다
 ④ 드로잉비를 적당히 하고 가공속도를 늦추며 적당한 윤활유를 선택한다
- 두께가 2mm인 제품을 가공하기 위한 전단력이 4,000kgf이라면 스트립을 밀어내는 힘은 얼마인가? (단, $k_s = 10\%$ 로 한다)
 ① 800kgf ② 240kgf
 ③ 400kgf ④ 4000kgf
- 프레스 기계의 규격을 나타내는 요소가 아닌 것은?
 ① 하중능력 ② 토크능력
 ③ 펀치높이 ④ 램조절량
- 다음 중 열간가공의 장점이 아닌 것은?
 ① 결정입자의 미세화
 ② 방향성 있는 주조 조직의 제거
 ③ 합금원소의 확산으로 인한 재료의 불균일화
 ④ 연신율, 단면수축률, 충격치등 기계적 성질의 개선
- 굽힘가공 에서 스프링 백이란?
 ① 스프링의 피치를 나타낸다.
 ② 스프링에서 장력의 세기를 나타내는 척도이다.
 ③ 판재를 구부렸을 때 구부린 모양이 활 모양으로 되는 현상이다.
 ④ 판재를 구부릴 때 하중을 제거하면 탄성에 의하여 약간 처음의 상태로 돌아가는 것이다.
- 프레스 작업시 주의할 사항 중 틀린 것은?
 ① 작업시작 후에 안전장치를 풀어 작업한다.
 ② 공구 다이를 조정할 때는 너트를 꼭 조일 것
 ③ 운전 중 어떤 경우에도 공구날 밑에 손을 넣지 말 것
 ④ 작업을 하기 전에는 반드시 공회전을 시켜 절단기의 상태를 점검할 것
- 판이나 원통용기의 끝 부분에 원꼴 단면의 테두리를 만드는 가공법은?
 ① 컬링 ② 버링

③ 비딩

④ 드로잉

- 프레스 가공 중에서 전단가공에 속하지 않는 것은?
 ① 노칭가공 ② 트리밍가공
 ③ 업세팅가공 ④ 블랭킹가공
- 다음 수지 중 열가소성 수지는 어느 것인가?
 ① 페놀수지 ② ABS수지
 ③ 멜라민수지 ④ 실리콘 수지
- 성형품의 표면에 나타나는 오목한 부분을 말하며 성형품의 불량중에서도 가장 많이 발생한다. 원인으로서는 수지 자체의 수축력에 의한 것과 금형의 열전도 불량 등에서 기인하는 경우가 있다. 이런 상태를 무엇이라고 부르는가?
 ① 크레이징(Crazing)
 ② 실버 스트리이크(Silver Streak)
 ③ 플로우 마아크(Flow Mark)
 ④ 싱크 마아크(Sink Mark)
- 다음 그림과 같은 게이트의 특징으로 틀린 것은?



- ① 후가공이 필요없다. ② 게이트부 수축이 예상 된다.
 ③ 압력손실이 적다. ④ 성형성이 좋다.
- 방전가공을 위한 위치결정 방법중 적용되지 않는 것은?
 ① 무게중심 기준방식 ② 공작물중심 기준방식
 ③ 구멍기준 방식 ④ 단면기준 방식
- 상온에서의 금형 치수가 300 mm, 성형 수축률이 20/1000 일 때 상온에서의 성형품의 치수는?
 ① 290 mm ② 294 mm
 ③ 298 mm ④ 306 mm
- 사출금형 검사 중 정적인 상태에서 각부의 조립 및 정밀도를 규정에 따라 검사하는 것은?
 ① 조립 검사 ② 운전 검사
 ③ 정밀도 검사 ④ 구조 치수 검사
- 다음 중 호퍼에 대한 설명으로 맞는 것은?
 ① 사출에 필요한 재료를 계량한다.
 ② 스크류에 접촉하여 수지를 금형으로 보낸다.
 ③ 수지를 저장하고 실린더에 공급한다.
 ④ 스크류 및 플랜저를 전진시킨다.
- 사출금형에서 2매구성 금형의 장점에 속하지 않는것은?
 ① 구조가 간단하고 조작이 쉽다.
 ② 금형 값이 비교적 싸다.
 ③ 성형사이클이 길어진다.
 ④ 고장이 적고 내구성이 우수하다.
- 이젝터 핀을 잘못 사용했을 때 일어나는 현상이 아닌것은?

- ① 백화 현상 ② 크랙 현상
 ㉓ 싱크마크 현상 ④ 크레이징 현상

20. 사출금형의 구조에 있어서 가동형과 고정형의 형 맞춤시에 위치를 결정하는 부품은?

- ① 리턴 핀(return pin)
 ② 로케이트 링(locate ring)
 ㉓ 가이드 핀 과 가이드 부시(guide pin & guide bush)
 ④ 서포트 플레이트(support plate)

2과목 : 임의구분

21. 탭의 드릴 구멍을 d, 나사의 호칭지름을 D, 피치를 P라고 할 때 다음 중 d를 근사치로 구하는 공식은?

- ① $d = D - 2P$ ② $d = D - 3P$
 ③ $d = 2D - P$ ㉑ $d = D - P$

22. 금형용 형재를 선택할 때 고려하여야 할 사항이 아닌 것은?

- ① 고가의 재료 ② 요구되는 정도
 ③ 피가공재의 가공 난이도 ④ 가공해야 할 부품수

23. 연삭 작업에서 드레싱이란?

- ① 연삭기의 전동마력수를 시험하는 것이다.
 ㉒ 스톨 표면을 수정하여 새로운 입자가 나타나도록 하는 것이다.
 ③ 스톨의 결합도를 높이는 작업이다.
 ④ 스톨의 경도를 시험하는 작업이다.

24. 프레스 금형 제작 에서 평판의 재료에 이음새가 없는 중공 용기를 주름이나 균열이생기지 않으면서 다이 안으로 소재를 유입시켜 성형가공 하는 작업은?

- ① 드로잉(drawing)가공 ② 리스트 라이킹(restriking)가공
 ③ 비딩(beading)가공 ④ 엠보싱(embossing)가공

25. 강을 담금질할 때 내부와 외부의 담금질 효과가 다르게 나타나는 현상은?

- ① 노치효과 ② 담금질효과
 ㉓ 질량효과 ④ 체적효과

26. 표준화된 부품 요소들을 사용하여 필요로 하는 형태의 고정구로 조립하여 쓸수 있도록 되어 있는 고정구는?

- ① 모듈러 고정구 ② 용접 고정구
 ③ 조립용 고정구 ④ 열처리 고정구

27. CNC 선반에서 G04는 지정된 시간동안 이송을 잠시 멈추는 기능이다. 흠 가공 중 2초 동안 이송을 중지하는 명령으로 틀린 것은?

- ① G04 X2.; ② G04 U2.;
 ③ G04 P2000; ㉑ G04 P2.;

28. 다음 금형 제작시의 작업복장의 안전사항 중 틀린 것은?

- ① 실내에서는 고무신, 슬리퍼를 신는다.
 ② 작업복은 항상 청결하게 하여야 한다.
 ③ 기계 작업시에는 장갑을 착용하지 않는다.
 ④ 규정된 복장과 안전모 등을 반드시 착용한다.

29. $\phi 30+0.02$ 의 아래 허용치수 차는?

- ① 0.02 ② 0.01
 ㉓ -0.02 ④ -0.01

30. 다음 중 버핑(buffing)의 3요소가 아닌 것은?

- ① 연삭 입자 ② 유지
 ㉓ 전해액 ④ 직물

31. 초음파 가공에 대한 설명으로 옳은 것은?

- ① 유리, 수정, 다이아몬드를 가공할 수 있다.
 ② 가공 변형이 남는다.
 ③ 열 영향을 받는다.
 ④ 공구가 회전하면서 가공한다.

32. 다음 중 안전사고의 발생을 예방하기 위한 방법으로 옳지 않은 것은?

- ① 작업자 편의를 위해 안전장비 미착용
 ② 안전 점검 및 관리
 ③ 작업자의 안전교육
 ④ 안전수칙 준수

33. 버니어캘리퍼스에서 어미자의 1눈금이 1mm이고, 아들자는 19mm를 20등분한 것이다. 읽을 수 있는 최소 치수는 얼마인가?

- ① 0.02mm ② 0.03mm
 ③ 0.04mm ㉑ 0.05mm

34. 금형가공에 있어서 손다듬질을 할 경우 바이스는 일감을 고정하는 장비이다. 이 바이스의 크기를 바르게 나타낸것은?

- ① 바이스의 높이 ② 바이스의 무게
 ③ 가로× 세로× 높이 ㉑ 바이스 조오의 폭

35. 드릴 지그 부시의 종류가 아닌 것은?

- ① 이동 부시 ② 고정 부시
 ③ 특수 부시 ④ 라이너 부시

36. 변압기용 박판에 사용하는 강은?

- ① Cr 강 ② 망간 강
 ③ 니켈(Ni)강 ㉑ 규소(Si)강

37. 주철의 표면을 급냉시켜 시멘타이트 조직으로 만들고 내 마멸성과 압축강도를 증가시켜 기차의 바퀴, 압연기의 롤러 등에 사용하는 주철은?

- ① 가단주철 ㉒ 철드주철
 ③ 구상흑연주철 ④ 미하나이트주철

38. 지름 4cm의 연강봉에 5톤의 인장력이 걸려 있을때 재료에 생기는 응력은 얼마인가?

- ① 410 kgf/cm² ② 498 kgf/cm²
 ③ 300 kgf/cm² ㉑ 398 kgf/cm²

39. 모듈 M = 5, 잇수가 각각 30개, 50개의 한쌍의 스퍼어기어가 있다. 중심거리는 얼마인가?

- ① 150mm ㉒ 200mm
 ③ 250mm ④ 300mm

40. 기어의 크기를 나타내는 모듈 m , 피치원의 지름을 D , 잇수를 Z , 원주 피치를 P 라고 할때 관계식이 틀린 것은?

① $P = \frac{\pi D}{Z}$ ② $P = \pi m$
 ③ $m = \frac{D}{Z}$ ④ $m = \frac{Z}{\pi D}$

3과목 : 임의구분

41. 파이프와 같이 두께가 얇은 곳의 결합에 이용되며, 누수를 방지하고 기밀 유지하는데 사용되는 나사는?

- ① 미터나사 ② 휘트워드나사
 ③ 유니파이나사 ④ 관용나사

42. 탄소강의 기계적 성질로 맞지 않는 사항은?

- ① 표준상태에서 탄소가 많을 수록 경도가 증가한다.
 ② 인장강도는 과공석강에서 최대가 된다.
 ③ 탄소량이 많을 수록 냉간가공이 어렵다.
 ④ 탄소강은 200~300℃에서 청열메짐이 일어난다.

43. 열경화성 수지 중 에서 경질성이 있고 베클라이트(bakelite)라고 불리는 수지는?

- ① 요소 수지 ② 페놀 수지
 ③ 멜라민 수지 ④ 에폭시 수지

44. 마찰차 중에서 무단변속으로 사용할 수 없는 마찰차는?

- ① 원판 마찰차 ② 홈 마찰차
 ③ 구면 마찰차 ④ 원추 마찰차

45. 강도와 기밀을 필요로 하는 리벳 이음으로 보일러, 고압 탱크 등에 사용하는 리벳은?

- ① 강도용 리벳 ② 저압용 리벳
 ③ 보일러용 리벳 ④ 구조용 리벳

46. 경금속과 중금속의 구분되는 비중 값은?

- ① 1.5 ② 2.5
 ③ 3.5 ④ 4.5

47. 고온에서 재료에 일정하중이 가해질 때 시간의 경과에 따라 변형률이 증가되는 현상은?

- ① 크리프 (creep) ② 마모 (wear)
 ③ 응력 (stress) ④ 탄성 (elasticity)

48. 황동에 Pb 1.5~3.7%를 첨가하여 절삭성을 좋게한 합금을 무엇이라 하는가?

- ① 쾌삭 황동 ② 강력 황동
 ③ 문쯔메탈 ④ 톱백

49. 두 축이 만나지도 평행하지도 않을 경우에 사용하는 기어가 아닌 것은?

- ① 웜 기어 ② 베벨 기어
 ③ 하이포이드 기어 ④ 나사 기어

50. 스프링에 하중이 작용하지 않고 있을 때의 스프링 높이를 무엇이라 하는가?

- ① 유효높이 ② 최대높이
 ③ 무부하높이 ④ 자유높이

51. 불규칙한 파형의 가는 실선 또는 지그재그 선을 사용하는 것은?

- ① 파단선 ② 치수보조선
 ③ 치수선 ④ 지시선

52. 바퀴의 양, 리브 등을 단면할 때에 가장 적합한 것은?

- ① 부분 단면도 ② 한쪽(반) 단면도
 ③ 회전 단면도 ④ 계단 단면도

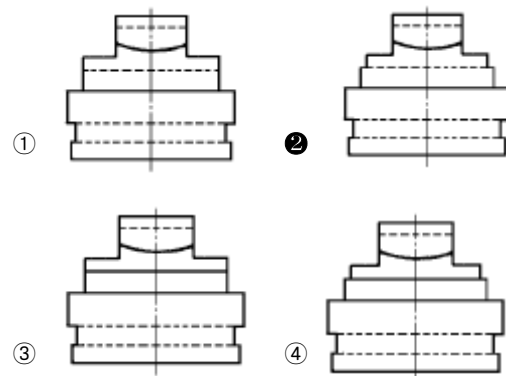
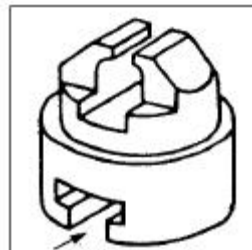
53. 기어의 투상도 해독에 관한 설명으로 옳바른 것은?

- ① 이골원은 가는 실선으로 표시되어 있다.
 ② 피치원은 가는 2점 쇄선으로 되어 있다.
 ③ 이골원(이뿌리원)은 가는 1점 쇄선으로 되어 있다.
 ④ 잇줄방향은 보통 3개의 가는실선으로 표시되어 있다.

54. 40mm x 50mm 크기의 직사각형 단면을 척도 1/2 로 제도하면 도면상에 그려진 면적은 몇 mm² 인가?

- ① 500 ② 1000
 ③ 2000 ④ 8000

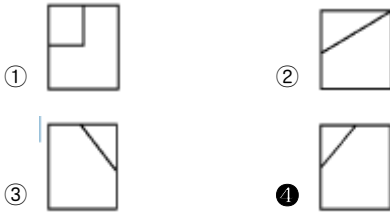
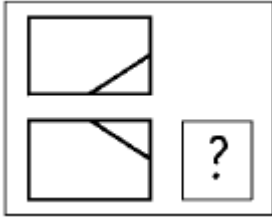
55. 보기 입체도의 화살표 방향이 정면이고 좌우 대칭일 때 우측면도로 가장 적합한 것은?



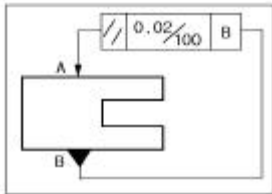
56. 경사키를 사용하는 보스의 키 홈의 깊이를 표시하는 방법은?

- ① 키 홈의 깊은쪽에서 표시
 ② 키 홈의 낮은쪽에서 표시
 ③ 키 홈의 중간부분에 표시
 ④ 깊은쪽과 낮은쪽 양쪽에 표시

57. 3각법으로 투상한 정면도와 평면도가 보기와 같이 도시되어 있을 때 우측면도의 투상으로 가장 적합한 것은?

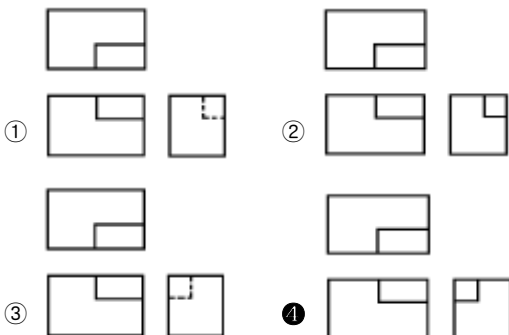
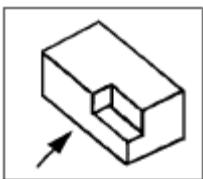


58. 보기 투상도에서 표시된 의 기호 해석으로 가장 적합한 것은?



- ① 기준면 B의 길이는 100mm, A면은 이것과 평행도가 0.02 mm이다.
- ② A면은 기준면 B와 평행하되 구분구간 100mm 당 평행도는 0.02mm이다.
- ③ B 면은 기준면과 A와 평행하되 100 mm 당 평행도는 0.02mm이다.
- ④ 길이 100mm인 기준면 A와 B면의 평행도는 0.02mm이다.

59. 보기와 같은 입체를 제 3각법으로 나타낼 때 가장 적합한 투상도는? (단, 화살표 방향을 정면으로 한다.)



60. 도면의 같은 장소에 다음과 같은 종류의 선이 겹칠 때 선의 표시되는 우선 순위가 가장 먼저인 것은?

- ① 숨은선 ② 절단선
③ 중심선 ④ 치수 보조선

전자문제집 CBT PC 버전 : www.comcbt.com
전자문제집 CBT 모바일 버전 : m.comcbt.com
기출문제 및 해설집 다운로드 : www.comcbt.com/xs

전자문제집 CBT란?

종이 문제집이 아닌 인터넷으로 문제를 풀고 자동으로 채점하며 모의고사, 오답 노트, 해설까지 제공하는 무료 기출문제 학습 프로그램으로 실제 시험에서 사용하는 OMR 형식의 CBT를 제공합니다.

PC 버전 및 모바일 버전 완벽 연동
교사용/학생용 관리기능도 제공합니다.

오답 및 오탈자가 수정된 최신 자료와 해설은 전자문제집 CBT에서 확인하세요.

1	2	3	4	5	6	7	8	9	10
①	③	③	③	③	③	④	①	①	③
11	12	13	14	15	16	17	18	19	20
②	④	①	①	②	③	③	③	③	③
21	22	23	24	25	26	27	28	29	30
④	①	②	①	③	①	④	①	③	③
31	32	33	34	35	36	37	38	39	40
①	①	④	④	①	④	②	④	②	④
41	42	43	44	45	46	47	48	49	50
④	②	②	②	③	④	①	①	②	④
51	52	53	54	55	56	57	58	59	60
①	③	④	①	②	①	④	②	④	①