

1과목 : 임의구분

- 프레스의 종류 중 기계식 프레스에 해당하지 않는 것은?
① 크랭크 프레스 ② 너클 프레스
③ 공압 프레스 ④ 마찰 프레스
- 금형의 설치에서 금형의 점검 사항이 아닌 것은?
① 녹아웃 장치의 고정 상태
② 안내판과 부시의 조립 상태
③ 자동 스톱핀의 작동 상태
④ 램과 슬라이드의 간격(틈) 상태
- 드로잉 가공 그룹에 속하지 않는 것은?
① 아이어닝 가공 ② 재 드로잉 가공
③ 역 드로잉 가공 ④ 사이징 가공
- 굽힘 가공의 분류가 아닌 것은?
① 헤 딩(heading) ② 성 형(forming)
③ 버 링(burring) ④ 컬 링(curling)
- 다음 보기를 보고 프레스 기계에 금형을 설치하는 순서가 맞는 것을 고르시오?

① 금형과 프레스의 비상유무 점검
 ② 상형금형 설치
 ③ 하형 금형 설치
 ④ 작동시험

 ① ①-③-②-④ ② ①-②-③-④
 ③ ③-②-①-④ ④ ②-③-④-①
- 두께가 4mm, 폭이 100mm 인 강판을 전단 하고자 할 때 하중은 몇 kgf인가? (단, 강판의 전단응력은 30kgf/mm²이다.)
① 0.075 ② 400
③ 3000 ④ 12000
- 전단금형을 설계할 때 제품에 대해 검토할 사항이 아닌것은?
① 재질 ② 판두께
③ 윤활방식 ④ 제품형상의 복잡성
- 다음 중 프레스 가공의 특징이라고 할 수 없는 것은?
① 가공속도가 느리고 능률이 높다.
② 제품의 강도가 높고 경량이다.
③ 재료의 이용률이 좋다.
④ 제품의 정도가 높고 품질이 균일하다.
- 금형의 안내장치에 속하지 않는 것은?
① 안내판 ② 가이드 부시
③ 사이드 커터 ④ 가이드 포스트
- 사출금형에서 성형품을 금형 밖으로 빼내는 역할을 하는 부품은?
① 스프루 로크 핀 ② 이젝터 핀
③ 가이드 핀 ④ 스톱 핀

- 사출 성형품에 절단 자국을 적게 남기기 위한 게이트의 종류는?
① 사이드 게이트 ② 서브머린 게이트
③ 태브 게이트 ④ 필름 게이트
- 사출 성형품의 휨 또는 뒤틀림의 불량原因的 개선 대책으로 옳지 않은 것은?
① 냉각이 균일하게 되도록 한다.
② 수지온도를 높게 하여 유동성을 좋게 한다.
③ 빼기구배를 크게 한다.
④ 냉각되기전에 빨리 취출한다.
- 성형수축률을 옳게 나타낸 것은?(단, A:상온에서 금형치수, B:상온에서 성형품치수)
① 성형수축률 = $(A+B) \div A \times 100$
② 성형수축률 = $(A-B) \div A \times 100$
③ 성형수축률 = $(A-B) \div B \times 100$
④ 성형수축률 = $(A+B) \div B \times 100$
- 성형기의 노즐과 금형의 스프루 부시의 위치결정 역할을 하는 것은?
① 인서트 플레이트 ② 로케이트 링
③ 가이드 핀, 부시 ④ 타이바
- 금형 탈착시 무거운 금형은 무엇을 사용하여야 하는가?
① 호이스트(hoist) ② 여러 사람의 인력
③ 금형을 부품을 분해하여 설치 ④ 금형을 분해하여 이탈
- 사출금형에서 일반적인 빼내기 구배는?
① 1° ~ 2° ② 2° ~ 3°
③ 3° ~ 4° ④ 4° ~ 5°
- 금형 내에 알루미늄, 아연, 마그네슘, 구리 합금 등의 용탕을 고속 고압으로 주입하여 비교적 얇고 복잡한 형상의 제품을 만드는 주조법은?
① 단조 ② 주조
③ 다이캐스팅 ④ 분말 야금
- 플라스틱 재료의 일반적인 특성으로 잘못 설명된 것은?
① 제품 가공이 쉽다. ② 가볍고 튼튼하다.
③ 전기나 열을 전하기 어렵다. ④ 높은 열에 강하다.
- 사출 금형에서 상, 하형의 엇갈림을 방지하기 위해 쓰이는 것은?
① 편치 ② 가이드 핀 과 가이드 핀 부시
③ 리턴핀 ④ 볼트 너트 조임
- 사출금형에서 성형품을 이젝팅할 때 이젝터 플레이트가 움직일 수 있는 공간을 만들어 주는 부품은?
① 슬라이드 블록 ② 코어 플레이트
③ 서포트 블록 ④ 스페이스 블록

2과목 : 임의구분

- 다음 치공구 사용에 대한 설명 중 틀린 것은?

- ① 제품의 정밀도가 향상된다.
 ② 불량률이 적어 원가가 절감된다.
 ③ 다량 생산이 가능하고 호환성이 있다.
 ④ 정밀도는 향상되나 숙련작업이 필요하다.
22. 다음 중 사인바에 의한 각도 측정시 사용되지 않는 것은?
 ① 블록 게이지(Block gauge)
 ② 앵글 플레이트(Angle plate)
 ③ 하이트 게이지(Height gauge)
 ④ 다이얼 게이지(Dial gauge)
23. 다음 리머 작업의 가공 여유 중 가장 알맞는 것은?(단, 리머 직경은 10 mm이다.)
 ① 0.2~0.3mm ② 1.0~1.5mm
 ③ 1.5~2.0mm ④ 0.01~0.03mm
24. 금형제작 작업중 작업복장으로 틀린 것은?
 ① 규정된 복장을 착용한다.
 ② 작업복은 편하고 청결하여야 한다.
 ③ 안전화를 착용 한다.
 ④ 침에 다치지 않도록 장갑을 착용한다.
25. 목재, 피혁, 직물 등 탄성이 있는 재료로 된 바퀴표면에 연삭 입자를 부착시켜 공작물을 연마하는 작업은?
 ① 버핑(buffing) ② 폴리싱(polishing)
 ③ 호빙(hobbing) ④ 샌더(sander)
26. 측정실의 향온, 향습 시설이 필요한 이유로 가장 옳은 것은?
 ① 측정자의 건강을 위하여
 ② 오차를 줄이기 위하여
 ③ 환경을 깨끗이 하기 위하여
 ④ 오염 물질 발생을 방지하기 위하여
27. 범용 공작기계와 비교해서 NC 공작기계를 사용함에 가장 좋은 생산 방식은?
 ① 소품종 다량생산 ② 다품종 소량생산
 ③ 단종 다량생산 ④ 단종 소량생산
28. 방전 가공의 전극 재료로 부적당한 것은?
 ① 구리 ② 스테인리스
 ③ 은-텅스텐 ④ 구리-텅스텐
29. 다음 금속 중에서 용융점이 가장 높은 금속은 어느 것인가?
 ① 구리 ② 스테인레스
 ③ 철 ④ 텅스텐
30. 금형제작에 있어서 래핑(lapping)가공은 정밀한 부분에 많이 사용되고 있는 가공법이다. 래핑의 장점을 설명한 것 중 틀린 것은?
 ① 대량생산에 적합하다.
 ② 가공면의 내마모성이 향상된다.
 ③ 작업방법이 비교적 간단하다.
 ④ 숙련이 필요없는 작업이다.
31. 다음 중 금형에 의해서 생산된 제품이 아닌 것은?
 ① 자동차의 트렁크 ② 라디오 케이스
 ③ 유리병 ④ 나무의자
32. 금형제작에 쓰이는 선반은 주로 내.외경 절삭 작업에 많이 이용된다고 할 수 있다. 다음 중 선반에서 할 수 없는 작업은?
 ① 총형절삭 작업 ② 나사내기 작업
 ③ 테이퍼절삭 작업 ④ 더브테일 절삭 작업
33. 여러개의 구멍을 가진 구멍뚫기형, 순차이송형, 가이드핀형 등 구멍의 피치를 높은 정밀도로 가공하는 공작기계는?
 ① 밀링머신 ② 지그보링머신
 ③ 콘터머신 ④ NC 밀링
34. 지름이 40 mm인 연강봉을 선반에서 절삭할 때 주축에 회전수를 100 rpm이라 하면 절삭 속도는?
 ① 12.57 m/min ② 14.57 m/min
 ③ 10.57 m/min ④ 16.57 m/min
35. NC 프로그램에 나타내는 어드레스(address)의 의미가 잘못된 것은?
 ① F : 이송 기구 ② T : 보조 기능
 ③ N : 전개 번호 ④ P : 프로그램 번호 지정
36. 흑심가단 주철은 백주철을 탈산제와 함께 풀림상자에 넣고 제1단에서는 유리시멘타이트를 흑연화시키고, 제2단에서는 펄라이트(Pearlite)중의 시멘타이트(Cementite)를 흑연화시키는 풀림처리를 하는데, 제2단계 풀림할 때의 온도로서 가장 적합한 것은 약 몇 °C 인가?
 ① 850~950 ② 680~720
 ③ 550~450 ④ 420~315
37. 비커즈 경도계(Vicker's hardness tester)에 관한 다음 사항 중 잘못된 것은?
 ① 시험하중을 변화시켜도 경도 측정치에는 변화가 없다
 ② 시편의 두께와 관계없이 박판에까지 적용할 수 있다.
 ③ 사용하는 피라미드 정각은 136°이며, 사용 하중은 200kgf 정도이다.
 ④ 침탄층, 질화층, 탈탄층의 경도시험에 적당하다.
38. 다음 금속 중 항공기 계통에 가장 많이 사용하는 금속은 어느 것인가?
 ① 고속도강 ② 두랄루민
 ③ 스테인레스강 ④ 인청동
39. 다음 중 경금속이라 볼 수 없는 것은?
 ① 알루미늄 ② 마그네슘
 ③ 베릴륨 ④ 주석
40. 다음 중 나사의 종류에 대한 용도로 잘못 연결된 것은?
 ① 둥근나사 - 전구 ② 사각나사 - 체결용
 ③ 삼각나사 - 일반체결용 ④ 사다리꼴나사 - 운동전달용

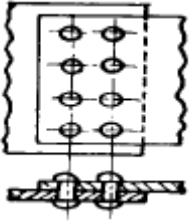
41. 주로 비틀림 작용을 받으며, 모양이나 치수가 정밀하고 변형량이 작은 짧은 회전축이며, 공작기계의 주축에 사용되는 축은?

- ① 전동축 ② 플렉시블축
③ 스피들축 ④ 크랭크축

42. 바깥지름 126, 잇수 40인 스퍼기어의 모듈은 얼마인가?

- ① 6 ② 3.15
③ 2.5 ④ 3

43. 다음 그림과 같은 리벳이음의 명칭은?



- ① 1줄 겹치기 리벳이음(평행형)
② 1줄 겹치기 리벳이음(지그재그형)
③ 2줄 겹치기 리벳이음(평행형)
④ 2줄 겹치기 리벳이음(지그재그형)

44. 플라스틱 재료의 공통된 성질로서 옳지 못한 것은?

- ① 가볍고 강하다. ② 내수성 및 내약품성이 있다.
③ 표면경도가 강하다. ④ 열에 약하다.

45. 표준고속도강의 조성으로 맞는것은?

- ① 18%W, 4%Cr, 1%V ② 18%W, 14%Cr, 1%V
③ 18%Cr, 4%W, 1%V ④ 18%V, 4%W, 1%Cr

46. 축의 원주에 많은 키를 깎은 것으로 큰 토크를 전달시킬 수 있고, 내구력이 크며, 보스와의 중심축을 정확하게 맞출 수 있는 키는?

- ① 세레이션 ② 반달 키
③ 접선 키 ④ 스플라인 키

47. 구름 베어링 기본 구성 요소 중 회전체 사이에 적절한 간격을 유지해 주는 구성 요소를 무엇이라 하는가?

- ① 리테이너 ② 내륜
③ 외륜 ④ 회전체

48. 금속의 종류에 따라 재결정 온도는 다르다. 다음 금속의 재결정 온도 중 틀린 것은?

- ① Fe : 750 ~ 850℃ ② Cu : 200 ~ 300℃
③ Al : 150 ~ 240℃ ④ Ni : 530 ~ 660℃

49. 하중에 의하여 물체 내부에 발생하는 저항력을 무엇이라 하는가?

- ① 반력 ② 응력
③ 변형률 ④ 동하중

50. 압축코일 스프링에서 스프링의 직경 D, 소선의 직경 d, 스프링의 유효권수 n, 스프링 상수를 k라 할 때 스프링의 유효길이(l)는?

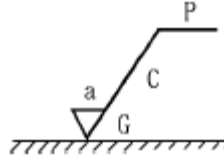
① $l = \pi Dn$

② $l = \pi dnk$

③ $l = \frac{\pi Dn}{d}$

④ $l = \pi Dnk$

51. 다음 그림에서 G의 기호는 무엇을 표시하는가?

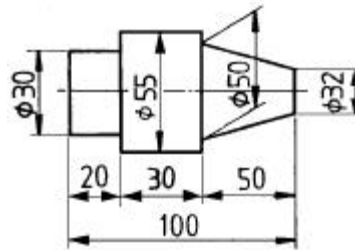


- ① 가공 방법의 약호 ② 가공 기계의 약호
③ 파상도 약호 ④ 가공 모양의 기호

52. 스퍼 기어제도에서 정면도의 이끝선과 측면도의 이끝원은 무슨 선인가?

- ① 굵은 실선 ② 파선
③ 일점 쇄선 ④ 이점 쇄선

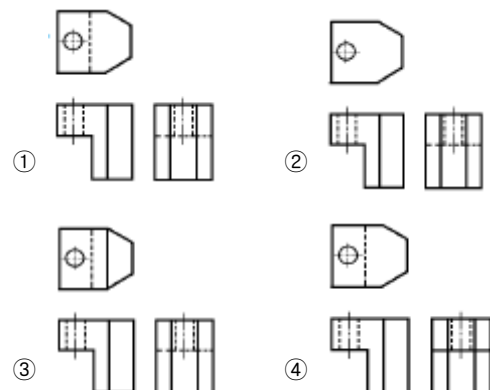
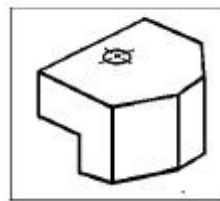
53. 그림과 같이 테이퍼의 각도가 큰 공작물을 선반복식공구대를 회전시켜 가공하려면 공작물을 몇도 회전시켜 가공해야 하는가?



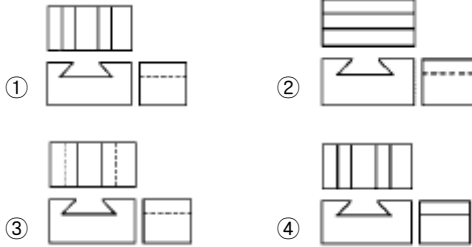
- ① $\tan^{-1}0.09$ ② $\tan^{-1}0.18$
③ $\tan^{-1}2.1$ ④ $\tan^{-1}0.36$

54. 보기의 입체도를 3각법으로 가장 적합하게 투상한 것은?

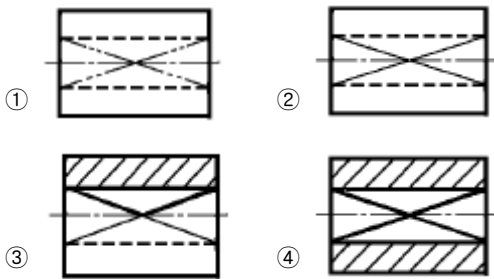
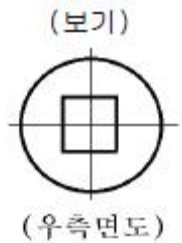
(보기)



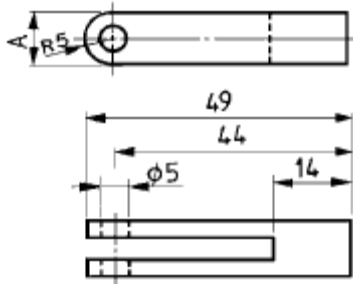
55. 보기 입체도를 제3각법으로 올바르게 투상한 투상도는?



56. 보기 도면은 원통에서 사각 홈이 관통한 형상의 우측면도이다. 다음 중 정면 투상도로 가장 적합한 것은?

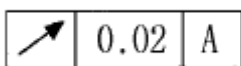


57. 다음 그림에서 A 부의 치수는 얼마인가?



- ① 5 ② 10
③ 15 ④ 14

58. 보기와 같은 기하공차 기호에서 기호의 의미로 가장 적합한 것은?

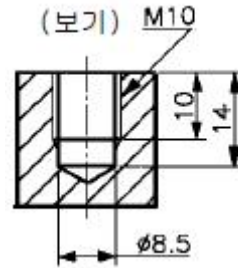


- ① 원주 흔들림 공차 ② 진원도 공차
③ 온 흔들림 공차 ④ 경사도 공차

59. 일반구조용 압연 강재 재료 기호 SS 330에서 330 이 나타내는 의미는?

- ① 재료의 최대 인장강도 330 kgf/mm²
② 재료의 최저 인장강도 330 N/mm²
③ 재료의 최저 인장강도 330 kgf/cm²
④ 재료의 최대 인장강도 330 N/cm²

60. 보기와 같은 암나사 관련부분의 도시 기호의 설명으로 틀린 것은?



- ① 드릴의 지름은 8.5mm
② 암나사의 안지름은 10mm
③ 드릴 구멍의 깊이는 14mm
④ 유효 나사부의 길이는 10mm

전자문제집 CBT PC 버전 : www.comcbt.com

전자문제집 CBT 모바일 버전 : m.comcbt.com

기출문제 및 해설집 다운로드 : www.comcbt.com/xe

전자문제집 CBT란?

종이 문제집이 아닌 인터넷으로 문제를 풀고 자동으로 채점하며 모의고사, 오답 노트, 해설까지 제공하는 무료 기출문제 학습 프로그램으로 실제 시험에서 사용하는 OMR 형식의 CBT를 제공합니다.

PC 버전 및 모바일 버전 완벽 연동
교사용/학생용 관리기능도 제공합니다.

오답 및 오탈자가 수정된 최신 자료와 해설은 전자문제집 CBT에서 확인하세요.

1	2	3	4	5	6	7	8	9	10
③	④	④	①	①	④	③	①	③	②
11	12	13	14	15	16	17	18	19	20
②	④	②	②	①	①	③	④	②	④
21	22	23	24	25	26	27	28	29	30
④	③	①	④	②	②	②	②	④	④
31	32	33	34	35	36	37	38	39	40
④	④	②	①	②	②	③	②	④	②
41	42	43	44	45	46	47	48	49	50
③	④	③	③	①	④	①	①	②	①
51	52	53	54	55	56	57	58	59	60
④	①	②	①	③	②	②	①	②	①