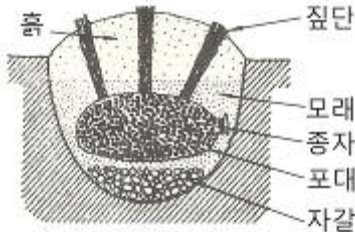


1과목 : 조림 및 육림기술

1. 토양입자의 표면에 얇은 막으로 부착된 물리적 결합형 태를 가진 토양 수분은?

- ① 흡착수 ② 모관수
③ 중력수 ④ 결합수

2. 다음 그림은 종자 저장 방법이다. 무슨 저장 방법인가?



- ① 실온저장법 ② 밀봉저장법
③ 보호저장법 ④ 노천매장법

3. 택벌림의 전 구역을 몇 개의 벌채 열구로 구분하고, 한 구역을 벌채한 다음 순차적으로 다음 구역을 벌채하고 다시 첫 번째 구역으로 되돌아서 같은 택벌을 계속한다. 이때 제자리에 다시 돌아오게 되는 기간을 무엇이라 하는가?

- ① 윤벌기 ② 회귀년
③ 간벌기간 ④ 벌채시기

4. 나무의 무기양분 흡수가 주로 이루어지는 부분은?

- ① 부름켜 ② 뿌리
③ 잎 ④ 줄기

5. 임목종자의 품질검사 항목에 해당되지 않는 것은?

- ① 종자의 건조법 ② 1L의 종자 중량
③ 발아율 ④ 종자 1000립의 중량

6. 일반적으로 밀착기 작업에 적당한 계절은?

- ① 봄 ② 여름
③ 가을 ④ 겨울

7. 다음 중 무배유 종자는?

- ① 밤나무 ② 물푸레나무
③ 소나무 ④ 이팝나무

8. 산림토양의 생산력을 유지하기 위한 방법이 아닌 것은?

- ① 자연의 힘에 의해 스스로 생산력이 유지되도록 해준다.
② 대면적 개벌을 통하여 피해를 최소화 한다.
③ 산림작업으로 발생하는 잎 등의 산물은 작업지에 남겨둔다.
④ 산불을 예방한다.

9. 산벌작업 시 임목의 종자를 공급하여 치수의 발생을 도모하기 위한 벌채는?

- ① 예비벌 ② 하종벌
③ 후벌 ④ 종벌

10. 밀착기(下刈)의 가장 중요한 목적은?

- ① 조림목에 안정된 환경을 만들어 주기 위함

- ② 겨울철에 동해를 방지하기 위함
③ 음수 수종의 생장을 도모하기 위함
④ 수목의 나이테 나비를 조절하기 위함

11. 다음 중 모수작업의 모수 설명이 틀린 것은?

- ① 바람의 저항이 강할 것
② 결실연령에 도달할 것
③ 유전적 형질이 좋은 나무일 것
④ 음수 수종일 것

12. 묘포 적지에 대한 설명으로 틀린 것은?

- ① 토심이 깊고 부식질 함량이 많으면 좋다.
② 토양의 산도는 침엽수종은 pH5.0~6.5가 적당하다.
③ 포지는 약간의 경사가 있으므로 관, 배수에 유리하다.
④ 포지의 북서향에 방풍림이 있으면 좋지 않다.

13. 다음 중 파종 후의 작업 관리 중 삼나무 묘목의 뿌리 굵기 작업 시기로 가장 적합한 것은?

- ① 3월 중순 ② 5월 중순
③ 7월 중순 ④ 9월 중순

14. 다음 중 종자의 보습저장이 요구되는 수종은?

- ① 소나무 ② 낙엽송
③ 가래나무 ④ 삼나무

15. 인공갱신에 대한 천연갱신의 장점이 아닌 것은?

- ① 자연환경의 보존 및 생태계 유지측면에서 유리하다.
② 성숙한 나무로부터 종자가 저절로 떨어져서 숲이 조성된다.
③ 생산되는 목재가 균일하며 작업이 단순하다.
④ 보안림, 국립공원 또는 풍치를 위한 숲은 주로 천연 갱신에 의한다.

16. 임지에 서 있는 성숙한 나무로부터 종자가 떨어져 어린나무를 발생시키는 갱신방법은?

- ① 천연하중갱신 ② 인공조림
③ 맹아갱신 ④ 파종조림

17. 파종상에서 그대로 2년을 지낸 실생묘목의 연령표시법으로 옳은 것은?

- ① 1 - 1 묘 ② 2 - 0 묘
③ 0 - 2 묘 ④ 2 - 1 - 1 묘

18. 건조하고 척박한 곳에서도 잘 자랄 수 있는 수종은?

- ① 삼나무 ② 느티나무
③ 오리나무 ④ 밤나무

19. 조림 수종의 선택 요건에 대한 설명으로 틀린 것은?

- ① 가지가 가늘고 길며 줄기가 곧을 것
② 위해(危害)에 대하여 저항력이 강할 것
③ 산물의 이용 가치는 낮으나 수요량이 많을 것
④ 성장 속도가 빠르고 재적 성장량이 높을 것

20. 발아율 90%, 고사율 20%, 순량율 80% 일 때 종자의 효율은?

- ① 14. 4% ② 16%
③ 44% ④ 72%

21. 점파(점뿌림)가 적합한 수종은?

- ① 리기다소나무, 소나무 ② 가문비나무, 주목
③ 낙엽송, 측백나무 ④ 호두나무, 밤나무

22. 다음 중 파종 후 묘포지 관리 사항이 아닌 것은?

- ① 채토 ② 해가림
③ 제초작업 ④ 관수

23. 치수 무육(어린나무 가꾸기) 작업의 목적으로 가장 적합한 것은?

- ① 목재를 생산하여 수익을 얻기 위함이다.
② 숲을 보기 좋게 하기 위함이다.
③ 산불 피해를 줄이기 위함이다.
④ 불량목을 제거하여 치수의 생육 공간을 충분히 제공하기 위함이다.

24. 수목의 작업종 중에서 어미나무 작업에 의해 갱신되는 임분은 어떤 형태인가?

- ① 복층림 ② 천연림
③ 동령림 ④ 혼효림

25. 현재의 숲을 일시에 다른 수종으로 변경하고자 할 때, 가장 좋은 방법은?

- ① 개별작업 ② 모수작업
③ 택벌작업 ④ 산벌작업

2과목 : 산림보호

26. 다음 중 곰팡이에 의하여 발생하는 병은?

- ① 오동나무빛자루병 ② 벚나무빛자루병
③ 대추나무빛자루병 ④ 붉나무빛자루병

27. 솔나방은 어떤 형태로 월동하는가?

- ① 1령충 ② 3령충
③ 5령충 ④ 8령충

28. 산불이 발생하는 조건의 설명으로 틀린 것은?

- ① 침엽수는 활엽수보다 산불이 일어나기 쉽다.
② 양수는 음수에 비해 산불이 일어나기 쉽다.
③ 나이가 많은 큰나무가 될 수록 산불이 일어나기 쉽다.
④ 단순림과 동령림이 혼효림 또는 이령림 보다 산불이 일어나기 쉽다.

29. 다음 병해 중 생리적인 병해인 것은?

- ① 대나무 개화병 ② 낙엽송 가지끝마름병
③ 소나무 잎떨림병 ④ 소나무 뿌리썩음병

30. 항생물질 살균제가 아닌 것은?

- ① 석회유황합제 ② 스트렙토마이신
③ 옥시테트라싸이클린 ④ 폴리옥신비

31. 피해를 받은 소나무 잎은 7월 상순경부터 생장이 정지 되어

길이와 정상적인 길이의 1/2가량이 되고 이와 같은 잎은 겨울동안에 말라 죽게 된다. 어떤 병해충의 피해인 가?

- ① 솔나방 피해 ② 솔잎혹파리 피해
③ 소나무좀의 피해 ④ 소나무 잎떨림병(葉振病)의 피해

32. 포플러잎녹병을 방제하는 방법 중 옳지 않은 것은?

- ① 저항성 클론(clone)을 심는다.
② 보르도액을 포자 비산시기에 살포한다.
③ 병든 잎이 달렸던 가지를 잘라준다.
④ 중간기주류와 멀리 떨어진 곳에 식재한다.

33. 활엽수의 잎을 가해하는 흰불나방에 대한 설명으로 틀린 것은?

- ① 보통 1년에 2회 발생한다.
② 잎 뒤에 600~700개의 알을 낳는다.
③ 알에서 갓 1령기 애벌레부터 분산하여 잎을 먹는다.
④ 용화 장소는 수피, 지피물 밑 등이며, 번데기로 월동 한다.

34. 수목의 병을 사전에 예방하기 위하여 실행하는 방법 중 틀린 것은?

- ① 돌려짓기(윤작)을 한다.
② 묘목의 검사를 철저히 한다.
③ 작업기구의 소독을 철저히 한다.
④ 가능한 같은 장소에 이어짓기(연작)를 한다.

35. 제초제의 작용기작이 아닌 것은?

- ① 광합성 저해 ② 식물호르몬 작용 교란
③ 세포분열 저해 ④ 에너지생성 촉진

36. 밤 열매에 피해를 주며 1년에 2회 발생하고 성충 최성기에 침투성 살충제로 방제하면 효과가 큰 해충은?

- ① 복숭아명나방 ② 밤나무순혹벌
③ 밤애기잎말이나방 ④ 밤바구미

37. 대기오염에 내성이 강한 수종끼리 묶어져 있는 것은?

- ① 해송, 개나리 ② 향나무, 은행나무
③ 소나무, 녹나무 ④ 붉가시나무, 층층나무

38. 다음 산림화재 중에서 가장 흔히 일어나는 산불은?

- ① 지중화 ② 지표화
③ 수관화 ④ 수간화

39. 솔잎혹파리의 피해를 가장 심하게 받는 수종은?

- ① 소나무 ② 분비나무
③ 잣나무 ④ 리기다소나무

40. 수목의 그을음병(sooty mold)에 대한 설명으로 옳은 것은?

- ① 수목의 잎 또는 가지에 형성된 검은 색을 띠는 것은 무성하게 자란 세균이다.
② 병원균은 진딧물과 같은 곤충의 분비물에서 양분을 섭취 한다.
③ 이 병에 감염된 수목은 수목의 수세가 악화되면서 급격히 말라 죽는다.
④ 병원균은 기공으로 침입하며 침입균사는 원형질막을 파

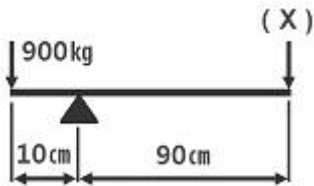
괴시킨다.

3과목 : 임업기계일반

41. 체인톱과 예불기의 연료 혼합비로 가장 적합한 것은?

- ① 휘발유 : 오일 = 15 : 1
- ② 휘발유 : 오일 = 25 : 1
- ③ 휘발유 : 오일 = 45 : 1
- ④ 휘발유 : 오일 = 65 : 1

42. 900Kg의 목재가 있어 그림과 같은 지렛대를 이용하여 이를 들어 올리려고 한다. 그림의 (x)에서 최소 몇 Kg 이상의 힘으로 눌러주면 목재를 들어 올릴 수 있는가?



- ① 900Kg
- ② 90Kg
- ③ 1000Kg
- ④ 100Kg

43. 다음 중 원목집재용 장비가 아닌 것은?

- ① 펠러번처
- ② 포워더
- ③ 소형집재용차
- ④ 집재용 트랙터

44. 산림작업 시 안전사고 예방수칙 중 틀린 것은?

- ① 긴장하지 말고 부드럽게 작업에 임할 것
- ② 몸 전체를 고르게 움직이며 작업할 것
- ③ 작업복은 작업종과 일기에 따라 착용할 것
- ④ 안전사고 예방을 위하여 가능한 혼자 작업할 것

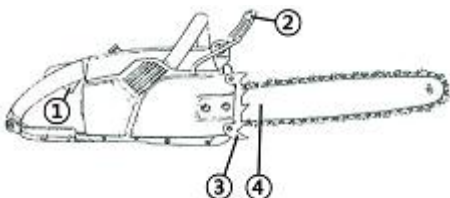
45. 체인톱의 안전 사용에 대한 기술로 적당치 않은 것은?

- ① 안전작업에 필요한 각종 장비를 반드시 착용한다.
- ② 절단작업 시는 충분히 스로틀레버를 잡아 가속한 후 사용한다.
- ③ 안내판 코는 찢러 베기 등 작업에 사용하여도 위험하지 않다.
- ④ 기계 작업 전이나 작업 중 음주는 시각, 감각, 판단상의 장애를 일으킨다.

46. 소경재 벌목을 위해 비스듬히 절단할 때는 수구를 만들지 않는 경우 벌목 방향으로 몇 도 정도 경사를 두어 바로 벌채 하는가?

- ① 20°
- ② 30°
- ③ 40°
- ④ 50°

47. 다음 그림은 체인톱의 각 부분의 구조이다. 번호에 해당하는 설명이 올바른 것은?



- ① ① : 엑슬레버 차단기이다.

② ② : 체인톱을 조종하는 앞손잡이이다.

③ ③ : 나무를 절삭하며, 보통 안전용 체인덮개로 보호한다.

④ ④ : 벌목 및 절단작업 시 목재에 찢려 작업을 쉽게 한다.

48. 4행정 내연기관에 있어 크랭크축이 몇 회 회전시마다 1회의 폭발 행정이 일어나는가?

- ① 1회
- ② 2회
- ③ 3회
- ④ 4회

49. 체인톱 체인의 일시 보관 시 어떻게 하면 체인 수명을 연장하고 파손을 예방할 수 있는가?

- ① 가솔린통에 넣어 둔다.
- ② 석유통에 넣어둔다.
- ③ 오일(윤활유)통에 넣어둔다.
- ④ 구리스통에 넣어둔다.

50. 체인톱에 보통 휘발유가 아닌 불법제조 휘발유 사용 시 예상되는 문제점은?

- ① 기화기막 또는 연료호스가 녹고 연료통 내막을 부식시킨다.
- ② 연료통 내막이 강화된다.
- ③ 연료호스가 경화되어 수명이 길어진다.
- ④ 오일막이 생긴다.

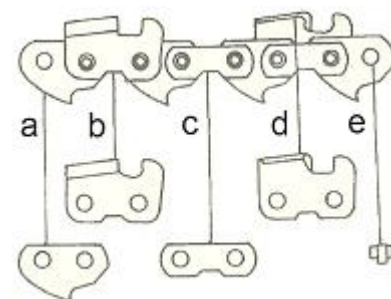
51. 2행정 기관에만 있는 것은?

- ① 배기공
- ② 흡기공
- ③ 소기공
- ④ 대기공

52. 이리톱니 정비 시 각도가 올바른 것은?

- ① 톱니꼭지각 : 56°~60°
- ② 톱니등각 : 56°~60°
- ③ 톱니가슴각(침엽수) : 70°
- ④ 톱니가슴각(활엽수) : 60°

53. 안내판 홈이 달아져서 홈의 간격이 체인 연결쇠(그림의 a)의 두께보다 클 경우에 체인톱 작동 시 압력을 가하면 어떻게 되는가?



- ① 체인이 가동되지 않고 정지한다.
- ② 절삭률이 높아져 기계 효율이 높아진다.
- ③ 절삭 방향이 삐뚤어 나갈 위험이 높다.
- ④ 연료 소모량이 낮아진다.

54. 다음 장비 중 가지치기 작업에 직접적으로 사용 하지 않는 장비는?

- ① 사다리
- ② 높은 가지치기 낫톱

③ 뉴만식 가지절단기

④ 윤척

55. 다음 중 벌목작업 시 고려할 사항이 아닌 것은?

- ① 벌목방향을 정확히 하여야 한다.
- ② 안전사고를 예방하기 위한 준칙을 철저히 지켜야 한다.
- ③ 잔존목의 이용재적이 많이 나오도록 한다.
- ④ 주변 임목의 피해를 가능한 감소시켜야 한다.

56. 안전장비의 주요 기능에 대한 설명으로 적절하지 않은 것은?

- ① 안전헬멧 - 떨어지는 나뭇가지나 돌 등으로부터 보호
- ② 귀마개 - 난청을 예방하는 귀 보호
- ③ 얼굴보호망 - 자외선 등으로부터 피부 보호
- ④ 안전복 - 추위나 더위, 오염이나 각종 상해로부터 신체 보호

57. 집재작업의 초크설치작업 시 주의사항 중 틀린 것은?

- ① 초크설치작업 시 작업자의 위치는 작업줄의 내각에 있어야 한다.
- ② 초크고리 등 장비의 이상유무는 항상 점검하고 결함이 없는 것을 사용해야 한다.
- ③ 무리한 축방집재나 견인작업은 가능한 피한다.
- ④ 초크작업원은 로딩블록을 원목이 있는 지점까지 유도 하여 정지시킨 상태에서 초크설치를 한다.

58. 체인톱 체인의 깊이 제한부 역할이 아닌 것은?

- ① 절삭된 톱밥을 밀어낸다.
- ② 절삭깊이를 조절한다.
- ③ 절삭 폭을 조절한다.
- ④ 절삭 각도를 조절한다.

59. 체인톱에 사용하는 오일의 점액도를 표시한 것 중 겨울용 (-25℃)으로 가장 적당한 것은?

- ① SAE 20 ② SAE 30
- ③ SAE 50 ④ SAE 20W

60. 점화 방식에 따라 분류된 기관이 아닌 것은?

- ① 외연기관 ② 전기 점화 기관
- ③ 압축 착화 기관 ④ 소구 기관

전자문제집 CBT PC 버전 : www.comcbt.com

전자문제집 CBT 모바일 버전 : m.comcbt.com

기출문제 및 해설집 다운로드 : www.comcbt.com/x

전자문제집 CBT란?

종이 문제집이 아닌 인터넷으로 문제를 풀고 자동으로 채점하며 모의고사, 오답 노트, 해설까지 제공하는 무료 기출문제 학습 프로그램으로 실제 시험에서 사용하는 OMR 형식의 CBT를 제공합니다.

PC 버전 및 모바일 버전 완벽 연동
교사용/학생용 관리기능도 제공합니다.

오답 및 오탈자가 수정된 최신 자료와 해설은 전자문제집 CBT에서 확인하세요.

1	2	3	4	5	6	7	8	9	10
①	④	②	②	①	②	①	②	②	①
11	12	13	14	15	16	17	18	19	20
④	④	④	③	③	①	②	③	③	④
21	22	23	24	25	26	27	28	29	30
④	①	④	③	①	②	③	③	①	①
31	32	33	34	35	36	37	38	39	40
②	③	③	④	④	①	②	②	①	②
41	42	43	44	45	46	47	48	49	50
②	④	①	④	③	①	④	②	③	①
51	52	53	54	55	56	57	58	59	60
③	①	③	④	③	③	①	③	④	①